

214

ਸੈਕੰਡਰੀ ਕੋਰਸ

ਅਰਥਸ਼ਾਸਤਰ

ਪੁਸਤਕ-1-2

ਨੈਸ਼ਨਲ ਇੰਸਟੀਚਿਊਟ ਆਫ ਓਪਨ ਸਕੂਲਿੰਗ

ਸੈਕੰਡਰੀ ਕੋਰਸ

214

ਅਰਥਸ਼ਾਸਤਰ

ਪੁਸਤਕ-1

ਪਾਠਕ੍ਰਮ ਕੋਆਰਡੀਨੇਟਰ

ਡਾ. ਮਨੀਸ਼ ਚੌਘ



ਨੈਸ਼ਨਲ ਇੰਸਟੀਚਿਊਟ ਆਫ ਓਪਨ ਸਕੂਲਿੰਗ

(ਮਨੁੱਖੀ ਸਰੋਤ ਵਿਕਾਸ ਮੰਤਰਾਲਾ, ਭਾਰਤ ਸਰਕਾਰ ਦੀ ਇੱਕ ਖੁਦਮੁਖਤਿਆਰ ਸੰਸਥਾ)

ਏ-24/25, ਵਿਦਿਅਕ ਜ਼ੋਨ, ਸੈਕਟਰ-62, ਨੇਇਡਾ-201309 (ਯੂ.ਪੀ.)

Website: www.nios.ac.in.

Toll Free No. 18001809393

ਮੁੜ ਪ੍ਰਕਾਸ਼ਨ: ਜਨਵਰੀ 2018

ਸਕੱਤਰ ਨੈਸ਼ਨਲ ਇੰਸਟੀਚਿਊਟ ਆਫ ਓਪਨ ਸਕੂਲਿੰਗ ਏ-24-25, ਵਿਦਿਅਕ ਜ਼ੋਨ, ਸੈਕਟਰ-62 ਨੇਇਡਾ-201309 (ਵੱਲੋਂ) ਪ੍ਰਕਾਸ਼ਿਤ ਅਤੇ ਮੈਨੂੰ ਇੰਡੀਅਨ ਪ੍ਰਿੰਟਿੰਗ ਵਰਕਸ ਈ- 4, ਰਾਣੀ ਝਾਂਸੀ ਰੋਡ, ਨਵੀਂ ਦਿੱਲੀ-110005, ਵੱਲੋਂ ਛਾਪਿਆ ਗਿਆ

ਨੈਸ਼ਨਲ ਇੰਸਟੀਚਿਊਟ ਆਫ ਓਪਨ ਸਕੂਲਿੰਗ

ISBN 978-93-85808-23-4 (Book 1-2)

ਨੈਸ਼ਨਲ ਇੰਸਟੀਚਿਊਟ ਆਫ ਓਪਨ ਸਕੂਲਿੰਗ

ਸਲਾਹਕਾਰ ਕਮੇਟੀ

ਡਾ. ਐੱਸ. ਐੱਸ. ਜੈਨਾ

ਚੇਅਰਮੈਨ

ਨੈਸ਼ਨਲ ਇੰਸਟੀਚਿਊਟ ਆਫ ਓਪਨ ਸਕੂਲਿੰਗ, ਨੇਇਡਾ

ਡਾ. ਕੁਲਦੀਪ ਅਗਰਵਾਲ

ਡਾਇਰੈਕਟਰ (ਅਕਾਦਮਿਕ)

ਨੈਸ਼ਨਲ ਇੰਸਟੀਚਿਊਟ ਆਫ ਓਪਨ ਸਕੂਲਿੰਗ,
ਨੇਇਡਾ

ਪਾਠਕ੍ਰਮ ਕਮੇਟੀ

ਚੇਅਰਮੈਨ

ਡਾ. ਮੰਜੂ ਅਗਰਵਾਲ

ਐਸੋਸੀਏਟ ਪ੍ਰੋਫੈਸਰ ਸੀ.ਆਈ.ਈ.

ਦਿੱਲੀ ਯੂਨੀਵਰਸਿਟੀ, ਦਿੱਲੀ

ਸ੍ਰੀ ਜੇ. ਖੁੰਤਿਆ

ਡਾ. ਮਨੀਸ਼ ਚੁੱਖ

ਸ਼੍ਰੀਮਤੀ ਰਿਤੁ ਗੁਪਤਾ

ਐਸੋਸੀਏਟ ਪ੍ਰੋਫੈਸਰ
(ਅਰਥਸ਼ਾਸਤਰ) ਸਕੂਲ
ਆਫ ਓਪਨ ਲਰਨਿੰਗ,
ਦਿੱਲੀ ਯੂਨੀਵਰਸਿਟੀ,
ਦਿੱਲੀ

ਅਕਾਦਮਿਕ ਅਧਿਕਾਰੀ (ਅਰਥਸ਼ਾਸਤਰ)
ਨੈਸ਼ਨਲ ਇੰਸਟੀਚਿਊਟ ਆਫ ਓਪਨ
ਸਕੂਲਿੰਗ, ਨੋਇਡਾ

ਪ੍ਰਿੰਸੀਪਲ
ਸਨੇਹ ਇੰਟਰਨੈਸ਼ਨਲ
ਸਕੂਲ
ਪ੍ਰੀਤ ਵਿਹਾਰ, ਦਿੱਲੀ

ਡਾ. ਪਦਮਾ ਸੁਰੇਸ਼

ਪ੍ਰੋ. ਐੱਨ. ਐੱਸ. ਰਾਓ

ਰੁ. ਸਪਨਾ ਚੁੱਖ

ਸ਼੍ਰੀ ਏ. ਐੱਸ. ਗਰਗ

ਐਸੋਸੀਏਟ ਪ੍ਰੋਫੈਸਰ
(ਅਰਥਸ਼ਾਸਤਰ)

ਐੱਮ.ਐੱਲ. ਐੱਸ. ਯੂ.
(ਸੇਵਾਮੁਕਤ), ਉਦੇਪੁਰ,
ਰਾਜਸਥਾਨ

ਪੀ.ਜੀ.ਟੀ.
(ਅਰਥਸ਼ਾਸਤਰ)

ਵਾਈਸ ਪ੍ਰਿੰਸੀਪਲ
(ਸੇਵਾਮੁਕਤ)

ਸ਼੍ਰੀ ਵੈਂਕਟੇਸ਼ਵਰ ਕਾਲਜ
ਦਿੱਲੀ ਯੂਨੀਵਰਸਿਟੀ,
ਦਿੱਲੀ

ਐੱਸ.ਵੀ. ਪਬਲਿਕ
ਸਕੂਲ
ਜੈਪੁਰ (ਰਾਜਸਥਾਨ)

ਆਰ.ਪੀ.ਵੀ.ਵੀ. ਗਾਂਧੀ
ਨਗਰ
ਦਿੱਲੀ

ਸ਼੍ਰੀ ਐੱਚ. ਕੇ. ਗੁਪਤਾ
(ਸੇਵਾਮੁਕਤ) ਪੀ. ਜੀ.
ਟੀ. (ਅਰਥਸ਼ਾਸਤਰ)

ਡਾ. ਨੀਰਜਾ ਰਸ਼ਿਮ
ਐਸੋਸੀਏਟ ਪ੍ਰੋਫੈਸਰ
(ਅਰਥਸ਼ਾਸਤਰ ਵਿਭਾਗ)

ਡਾ. ਮੰਜੂ ਅਗਰਵਾਲ
ਐਸੋਸੀਏਟ ਪ੍ਰੋਫੈਸਰ
ਸੀ.ਆਈ.ਈ.

ਬੀ. ਆਰ. ਸਰਕਾਰੀ
ਸਰਵੇਦਿਆ ਬਾਲ
ਵਿਦਿਆਲਿਆ

ਐੱਨ.ਸੀ.ਈ. ਆਰ.ਟੀ. ਦਿੱਲੀ

ਦਿੱਲੀ ਯੂਨੀਵਰਸਿਟੀ,
ਦਿੱਲੀ

ਸ਼ਾਹਦਰਾ, ਦਿੱਲੀ

ਅਨੁਵਾਦਕ

ਸ੍ਰੀ ਐੱਚ. ਕੇ. ਗੁਪਤਾ

ਪੀ.ਜੀ.ਟੀ. (ਸੇਵਾਮੁਕਤ)

ਬੀ. ਆਰ. ਸਰਕਾਰੀ

ਸਰਵੇਦਿਆ ਬਾਲ

ਵਿਦਿਆਲਿਆ

ਸ਼ਾਹਦਰਾ, ਦਿੱਲੀ

ਸੰਪਾਦਕ

ਸ੍ਰੀ ਏ. ਐੱਸ. ਗਰਗ

ਵਾਈਸ ਪ੍ਰਿੰਸੀਪਲ
(ਸੇਵਾਮੁਕਤ)

ਆਰ.ਪੀ. ਵੀ.ਵੀ. ਗਾਂਧੀ
ਨਗਰ

ਦਿੱਲੀ

ਰੇਖਾ ਚਿੱਤਰਕਾਰ

ਸ੍ਰੀ ਮਹੇਸ਼ ਸ਼ਰਮਾ

ਰੇਖਾ ਚਿੱਤਰਕਾਰ

ਨੈਸ਼ਨਲ ਇੰਸਟੀਚਿਊਟ ਆਫ ਓਪਨ ਸਕੂਲਿੰਗ, ਨੇਇਡਾ

ਸ੍ਰੀ ਏ. ਐੱਸ. ਗਰਗ

ਵਾਈਸ ਪ੍ਰਿੰਸੀਪਲ (ਸੇਵਾਮੁਕਤ)

ਆਰ.ਪੀ. ਵੀ.ਵੀ. ਗਾਂਧੀ ਨਗਰ

ਦਿੱਲੀ

ਸ੍ਰੀ ਐੱਚ. ਕੇ. ਗੁਪਤਾ

ਪੀ.ਜੀ.ਟੀ. (ਸੇਵਾਮੁਕਤ)

ਬੀ. ਆਰ. ਸਰਕਾਰੀ

ਸਰਵੇਦਿਆ ਬਾਲ

ਵਿਦਿਆਲਿਆ

ਸ਼ਾਹਦਰਾ, ਦਿੱਲੀ

ਡਾ. ਮਨੀਸ਼ ਚੁੱਘ

ਅਕਾਦਮਿਕ ਅਧਿਕਾਰੀ (ਅਰਥਸ਼ਾਸਤਰ)

ਨੈਸ਼ਨਲ ਇੰਸਟੀਚਿਊਟ ਆਫ ਓਪਨ ਸਕੂਲਿੰਗ,
ਨੇਇਡਾ

ਚੇਅਰਮੈਨ ਵੱਲੋਂ

ਪਿਆਰੇ ਸਿੱਖਿਆਰਥੀਓ

ਕਿਉਂਕਿ ਸਮਾਜ ਦੀਆਂ ਲੋੜਾਂ ਆਮ ਤੌਰ 'ਤੇ ਅਤੇ ਖਾਸ ਤੌਰ 'ਤੇ ਕੁਝ ਵਰਗਾਂ ਦੀਆਂ ਲੋੜਾਂ ਸਮੇਂ ਦੇ ਨਾਲ ਬਦਲਦੀਆਂ ਹਨ, ਇਸ ਲਈ ਉਨ੍ਹਾਂ ਦੀਆਂ ਜ਼ਰੂਰਤਾਂ ਨੂੰ ਪੂਰਾ ਕਰਨ ਲਈ ਲੋੜੀਂਦੇ ਢੰਗਾਂ ਅਤੇ ਤਕਨੀਕਾਂ ਨੂੰ ਉਸ ਅਨੁਸਾਰ ਸੋਧਣਾ ਪੈਂਦਾ ਹੈ। ਸਿੱਖਿਆ ਤਬਦੀਲੀ ਦਾ ਸਾਧਨ ਹੈ। ਸਹੀ ਸਮੇਂ 'ਤੇ ਸਹੀ ਕਿਸਮ ਦੀ ਸਿੱਖਿਆ ਸਮਾਜ ਦੇ ਨਜ਼ਰੀਏ 'ਤੇ ਦ੍ਰਿੜ੍ਹ ਵਿਸ਼ਵਾਸ, ਨਵੀਆਂ ਚੁਣੌਤੀਆਂ ਦਾ ਸਾਹਮਣਾ ਕਰਨ ਲਈ ਰਵੱਈਏ 'ਚ ਬਦਲਾਅ ਅਤੇ ਔਖੀਆਂ ਸਥਿਤੀਆਂ ਦਾ ਸਾਹਮਣਾ ਕਰਨ ਦੀ ਹਿੰਮਤ ਪੈਦਾ ਕਰ ਸਕਦੀ ਹੈ। ਇਹ ਨਿਯਮਤ ਸਮਾਜਿਕ ਪਾਠਕ੍ਰਮ ਨੂੰ ਨਵਿਆਉਣ ਦੁਆਰਾ ਪ੍ਰਭਾਵਸ਼ਾਲੀ ਢੰਗ ਨਾਲ ਪ੍ਰਾਪਤ ਕੀਤਾ ਜਾ ਸਕਦਾ ਹੈ। ਇੱਕ ਸਥਿਰ ਪਾਠਕ੍ਰਮ ਦਾ ਕੋਈ ਉਦੇਸ਼ ਨਹੀਂ ਹੁੰਦਾ ਕਿਉਂਕਿ ਇਹ ਵਿਅਕਤੀਆਂ ਅਤੇ ਸਮਾਜ ਦੀਆਂ ਮੌਜੂਦਾ ਲੋੜਾਂ ਅਤੇ ਇੱਛਾਵਾਂ ਨੂੰ ਪੂਰਾ ਨਹੀਂ ਕਰਦਾ।

ਇਸ ਮੰਤਵ ਲਈ ਦੇਸ਼ ਭਰ ਦੇ ਸਿੱਖਿਆ ਸ਼ਾਸਤਰੀ ਨਿਯਮਿਤ ਸਮੇਂ ਦੇ ਅੰਤਰਾਲ 'ਤੇ ਲੋੜ ਅਨੁਸਾਰ ਵਿਸ਼ੇ ਵਿੱਚ ਲੋੜੀਂਦੀਆਂ ਤਬਦੀਲੀਆਂ ਕਰਨ ਲਈ ਸਲਾਹ-ਮਸ਼ਵਰੇ ਲਈ ਸੰਪਰਕ ਕਰਦੇ ਹਨ। ਅਜਿਹੀਆਂ ਚਰਚਾਵਾਂ ਦਾ ਨਤੀਜਾ ਰਾਸ਼ਟਰੀ ਪਾਠਕ੍ਰਮ ਫਰੇਮਵਰਕ (NCF 2005) ਵਿੱਚ ਹੋਇਆ ਜੋ ਸਿੱਖਿਆ ਦੇ ਵੱਖ-ਵੱਖ ਪੱਧਰਾਂ, ਭਾਵੇਂ ਪ੍ਰਾਇਮਰੀ, ਐਲੀਮੈਂਟਰੀ, ਸੈਕੰਡਰੀ ਜਾਂ ਉੱਚ ਸੈਕੰਡਰੀ ਪੱਧਰਾਂ 'ਤੇ ਲੋੜੀਂਦੀ ਸਿੱਖਿਆ ਦੀਆਂ ਕਿਸਮਾਂ ਦਾ ਵਿਸਥਾਰ ਵਿੱਚ ਵਰਣਨ ਕਰਦਾ ਹੈ।

ਇਸ ਢਾਂਚੇ ਅਤੇ ਹੋਰ ਰਾਸ਼ਟਰੀ ਅਤੇ ਸਮਾਜਿਕ ਵਿਸ਼ਿਆਂ ਨੂੰ ਧਿਆਨ ਵਿੱਚ ਰੱਖਦੇ ਹੋਏ, ਅਸੀਂ ਹਾਲ ਹੀ ਵਿੱਚ ਸੈਕੰਡਰੀ ਪੱਧਰ ਦੇ ਸਾਰੇ ਵਿਸ਼ਿਆਂ ਦੇ ਸਿਲੇਬਸ ਨੂੰ ਸੋਧਿਆ ਹੈ ਅਤੇ ਉਹਨਾਂ ਨੂੰ ਪ੍ਰਚੱਲਿਤ ਅਤੇ ਲੋੜ ਆਧਾਰਿਤ ਬਣਾਇਆ ਹੈ। ਪਾਠਕ੍ਰਮ ਸਮੱਗਰੀ ਦੀ ਸਿਰਜਣਾ, ਜੋ ਕਿ ਇੱਕ ਓਪਨ ਅਤੇ ਡਿਸਟੈਂਸ ਐਜੂਕੇਸ਼ਨ ਵਿਧੀ ਦੁਆਰਾ ਪ੍ਰਦਾਨ ਕੀਤੀ ਜਾਂਦੀ ਹੈ, ਓਪਨ ਸਕੂਲਿੰਗ ਦੀਆਂ ਸਾਰੀਆਂ ਰਾਸ਼ਟਰੀ ਸੰਸਥਾਵਾਂ ਦੇ ਪ੍ਰੋਗਰਾਮ ਦਾ ਇੱਕ ਅਨਿੱਖੜਵਾਂ ਅਤੇ ਜ਼ਰੂਰੀ ਹਿੱਸਾ ਹੈ। ਇਸ ਲਈ ਅਸੀਂ ਗਿਆਨ ਦੀ ਸਮੱਗਰੀ ਨੂੰ ਉਪਭੋਗਤਾ ਦੇ ਅਨੁਕੂਲ, ਦਿਲਚਸਪ ਅਤੇ ਤੁਹਾਡੇ ਲਈ ਆਕਰਸ਼ਕ ਬਣਾਉਣ ਲਈ ਵਿਸ਼ੇਸ਼ ਧਿਆਨ ਰੱਖਿਆ ਹੈ।

ਮੈਂ ਇਸ ਵਿਸ਼ੇ ਦੀ ਸਮੱਗਰੀ ਨੂੰ ਦਿਲਚਸਪ ਬਣਾਉਣ ਵਿੱਚ ਸ਼ਾਮਲ ਸਾਰੇ ਉੱਘੇ ਵਿਅਕਤੀਆਂ ਦਾ ਧੰਨਵਾਦ ਕਰਨਾ ਚਾਹੁੰਦਾ ਹਾਂ ਅਤੇ ਤੁਹਾਡੀ ਲੋੜ ਅਨੁਸਾਰ, ਮੈਂ ਉਮੀਦ ਕਰਦਾ ਹਾਂ ਕਿ ਤੁਹਾਨੂੰ ਇਹ ਦਿਲਚਸਪ ਲੱਗੇਗਾ ਅਤੇ ਤੁਸੀਂ ਇਸ ਨੂੰ ਗ੍ਰਹਿਣ ਕਰਨ ਦੇ ਯੋਗ ਹੋਵੋਗੇ।

ਨੈਸ਼ਨਲ ਇੰਸਟੀਚਿਊਟ ਆਫ ਓਪਨ ਸਕੂਲਿੰਗ ਦੀ ਤਰਫ਼ੋਂ, ਮੈਂ ਤੁਹਾਡੇ ਸਾਰਿਆਂ ਦੇ ਉੱਜਵਲ ਅਤੇ ਸਫਲ ਭਵਿੱਖ ਦੀ ਕਾਮਨਾ ਕਰਦਾ ਹਾਂ।

(ਡਾ. ਐੱਸ. ਐੱਸ. ਜੇਨਾ)

ਪ੍ਰਧਾਨ

ਨੈਸ਼ਨਲ ਇੰਸਟੀਚਿਊਟ ਆਫ ਓਪਨ ਸਕੂਲਿੰਗ

ਨਿਰਦੇਸ਼ਕ ਵੱਲੋਂ

ਪਿਆਰੇ ਸਿੱਖਿਆਰਥੀਓ,

ਨੈਸ਼ਨਲ ਇੰਸਟੀਚਿਊਟ ਆਫ ਓਪਨ ਸਕੂਲਿੰਗ ਦਾ ਅਕਾਦਮਿਕ ਵਿਭਾਗ ਅਕਸਰ ਤੁਹਾਡੀਆਂ ਲੋੜਾਂ ਅਤੇ ਇੱਛਾਵਾਂ ਦੇ ਅਨੁਸਾਰ ਜਦੋਂ ਅਸੀਂ ਸੈਕੰਡਰੀ ਪੱਧਰ 'ਤੇ ਸਾਰੇ ਵਿਸ਼ਿਆਂ ਦੇ ਸਿਲੇਬਸ ਨੂੰ ਸੋਧਦੇ ਹਾਂ ਤਾਂ ਨਵੇਂ ਪ੍ਰੋਗਰਾਮ ਲਿਆਉਣ ਦੀ ਕੋਸ਼ਿਸ਼ ਕਰਦੇ ਹਾਂ। ਇੱਕ ਅਜਿਹਾ ਪਾਠਕ੍ਰਮ ਤਿਆਰ ਕਰਨ ਲਈ ਜੋ ਦੇਸ਼ ਦੇ ਦੂਜੇ ਬੋਰਡਾਂ ਦੇ ਬਰਾਬਰ ਹੋਵੇ, ਅਸੀਂ ਕੇਂਦਰੀ ਸੈਕੰਡਰੀ ਸਿੱਖਿਆ ਬੋਰਡ ਅਤੇ ਕਈ ਰਾਜ ਸੈਕੰਡਰੀ ਸਿੱਖਿਆ ਬੋਰਡਾਂ ਦੇ ਵੱਖ-ਵੱਖ ਵਿਸ਼ਿਆਂ ਦੇ ਸਿਲੇਬਸ 'ਤੇ ਵਿਚਾਰ ਕੀਤਾ ਹੈ। ਨੈਸ਼ਨਲ ਕਾਉਂਸਿਲ ਆਫ ਐਜੂਕੇਸ਼ਨਲ ਰਿਸਰਚ ਐਂਡ ਟਰੇਨਿੰਗ ਦੁਆਰਾ ਵਿਕਸਤ ਕੀਤਾ ਗਿਆ ਰਾਸ਼ਟਰੀ ਪਾਠਕ੍ਰਮ ਫਰੇਮਵਰਕ ਆਧਾਰ ਬਿੰਦੂ ਰੱਖਿਆ ਗਿਆ। ਵਿਸਤ੍ਰਿਤ ਤੁਲਨਾਤਮਕ ਅਧਿਐਨ ਕਰਨ ਤੋਂ ਬਾਅਦ, ਅਸੀਂ ਇੱਕ ਪਾਠਕ੍ਰਮ ਤਿਆਰ ਕੀਤਾ ਜੋ ਕਾਰਜਸ਼ੀਲ, ਜੀਵਨ ਦੀਆਂ ਸਥਿਤੀਆਂ ਨਾਲ ਸਬੰਧਤ ਅਤੇ ਸਰਲ ਸੀ। ਦੇਸ਼ ਦੇ ਪ੍ਰਮੁੱਖ ਸਿੱਖਿਆ ਸ਼ਾਸਤਰੀਆਂ ਦੀ ਸ਼ਮੂਲੀਅਤ ਵਿੱਚ ਅਸੀਂ ਉਨ੍ਹਾਂ ਦੀ ਅਗਵਾਈ ਹੇਠ ਨਾਲ ਪਾਠਕ੍ਰਮ ਨੂੰ ਸੋਧਣ ਦੇ ਯੋਗ ਹੋਏ ਹਾਂ।

ਇਸਦੇ ਨਾਲ ਹੀ, ਅਸੀਂ ਪਾਠ ਸਮੱਗਰੀ 'ਤੇ ਧਿਆਨ ਕੇਂਦਰਿਤ ਕੀਤਾ। ਅਸੀਂ ਪੁਰਾਣੀ ਅਤੇ ਅਪ੍ਰਚੱਲਿਤ ਸੂਚਨਾ ਨੂੰ ਹਟਾ ਦਿੱਤਾ ਹੈ ਅਤੇ ਨਵੀਂ ਅਤੇ ਸਬੰਧਿਤ ਸਮੱਗਰੀ ਨੂੰ ਸ਼ਾਮਲ ਕਰਕੇ ਇਸਨੂੰ ਤੁਹਾਡੇ ਲਈ ਆਕਰਸ਼ਕ ਬਣਾਉਣ ਦੀ ਕੋਸ਼ਿਸ਼ ਕੀਤੀ ਹੈ।

ਮੈਨੂੰ ਉਮੀਦ ਹੈ ਕਿ ਤੁਹਾਡੇ ਕੋਲ ਹੁਣ ਜੋ ਨਵੀਂ ਕੋਰਸ ਸਮੱਗਰੀ ਹੈ, ਉਹ ਤੁਹਾਡੇ ਲਈ ਦਿਲਚਸਪ ਅਤੇ ਖੋਜ ਭਰਪੂਰ ਹੋਵੇਗੀ, ਸੁਧਾਰ ਲਈ ਸੁਝਾਵਾਂ ਦਾ ਸੁਆਗਤ ਹੈ।

ਮੈਂ ਤੁਹਾਡੇ ਸਾਰਿਆਂ ਦੇ ਖੁਸ਼ਹਾਲ ਅਤੇ ਸਫਲ ਭਵਿੱਖ ਦੀ ਕਾਮਨਾ ਕਰਦਾ ਹਾਂ।

(ਡਾ. ਕੁਲਦੀਪ ਅਗਰਵਾਲ)

ਡਾਇਰੈਕਟਰ (ਸਿੱਖਿਆ)

ਨੈਸ਼ਨਲ ਇੰਸਟੀਚਿਊਟ ਆਫ ਓਪਨ ਸਕੂਲਿੰਗ

ਤੁਹਾਡੇ ਨਾਲ ਦੇ ਸ਼ਬਦ

ਪਿਆਰੇ ਸਿਖਿਆਰਥੀਓ,

ਅਰਥ ਸ਼ਾਸਤਰ ਦੇ ਸੇਧੇ ਹੋਏ ਸਿਲੇਬਸ ਵਿੱਚ ਤੁਹਾਡਾ ਸੁਆਗਤ ਹੈ। ਸਿੱਖਿਆ ਦੀ ਰਸਮੀ ਵਿਧੀ ਦੇ ਉਲਟ ਜਿੱਥੇ ਅਰਥ ਸ਼ਾਸਤਰ ਦਾ ਵਿਸ਼ਾ ਸਮਾਜਿਕ ਵਿਗਿਆਨ ਦੀ ਕਿਤਾਬ ਵਿੱਚ ਰੱਖਿਆ ਗਿਆ ਹੈ। ਨੈਸ਼ਨਲ ਇੰਸਟੀਚਿਊਟ ਆਫ ਓਪਨ ਸਕੂਲਿੰਗ (ਐਨਆਈਓਐਸ), ਮੌਜੂਦਾ ਸਮੱਸਿਆਵਾਂ ਅਤੇ ਚੁਣੌਤੀਆਂ ਜਿਨ੍ਹਾਂ ਦਾ ਅੱਜ ਸਾਹਮਣਾ ਸਾਡੀ ਅਰਥਵਿਵਸਥਾ ਕਰ ਰਹੀ ਹੈ ਅਤੇ ਇਸ ਤੋਂ ਬਾਹਰ ਨਿਕਲਣ ਦਾ ਯਤਨ ਕਰ ਰਹੀ ਹੈ, ਇਸ ਦੇ ਨਾਲ ਤੁਹਾਨੂੰ ਅਰਥਸ਼ਾਸਤਰ ਦਾ ਇੱਕ ਸੁਤੰਤਰ ਵਿਸ਼ੇ ਦੇ ਰੂਪ ਵਿੱਚ ਅਧਿਐਨ ਕਰਨ ਦਾ ਮੌਕਾ ਦਿੰਦਾ ਹੈ।

ਸਿਲੇਬਸ ਵਿੱਚ ਦੋ ਪੁਸਤਕਾਂ ਹਨ, ਜਿਨ੍ਹਾਂ ਵਿੱਚੋਂ ਇਹ ਪਹਿਲੀ ਪੁਸਤਕ ਹੈ। ਸਾਰਾ ਸਿਲੇਬਸ ਅੱਠ ਮੌਡਿਊਲਾਂ ਵਿੱਚ ਵੰਡਿਆ ਗਿਆ ਹੈ। ਪੁਸਤਕ-1 ਵਿੱਚ ਮੌਡਿਊਲ 1 ਤੋਂ IV ਤੱਕ ਸ਼ਾਮਲ ਹਨ, ਇਸ ਵਿੱਚ ਪਹਿਲੇ ਤੇਰ੍ਹਾਂ ਪਾਠ ਹਨ। ਲਗਭਗ ਸਾਰੇ ਮੌਡਿਊਲ ਅਤੇ ਪਾਠ ਤੁਹਾਡੇ ਆਰਥਿਕ ਜੀਵਨ ਅਤੇ ਦੇਸ਼ ਦੀ ਆਰਥਿਕ ਸਥਿਤੀ ਨਾਲ ਸਬੰਧਤ ਹਨ। ਉਦਾਹਰਨ ਲਈ, ਪਹਿਲੇ ਮੌਡਿਊਲ ਦੀ ਕੋਰਸ ਸਮੱਗਰੀ ਅਤੇ ਦੂਜੇ ਮੌਡਿਊਲ ਦੇ ਕੁਝ ਹਿੱਸੇ ਲੋੜਾਂ ਨਾਲ ਸਬੰਧਤ ਹਨ। ਸਾਡੇ ਸਾਰਿਆਂ ਦੀਆਂ ਜ਼ਰੂਰਤਾਂ ਹਨ, ਪਰ ਅਰਥ ਸ਼ਾਸਤਰ ਵਿੱਚ, ਜ਼ਰੂਰਤ ਦਾ ਅਸਲ ਅਰਥ ਕੀ ਹੈ ਅਤੇ ਇਹ ਇੱਛਾਵਾਂ ਤੋਂ ਕਿਵੇਂ ਵੱਖਰੀ ਹੈ। ਇਹਨਾਂ ਦੀਆਂ ਵਿਸ਼ੇਸ਼ਤਾਵਾਂ ਕੀ ਹਨ ਆਦਿ ਨੂੰ ਇਸ ਮੌਡਿਊਲ ਵਿੱਚ ਸਪੱਸ਼ਟ ਰੂਪ ਵਿੱਚ ਪੇਸ਼ ਕੀਤਾ ਗਿਆ ਹੈ। ਅਗਲੇ ਮੌਡਿਊਲ ਵਿੱਚ ਅਰਥ ਸ਼ਾਸਤਰ ਦੇ ਹੋਰ ਪਹਿਲੂਆਂ ਨੂੰ ਕ੍ਰਮਵਾਰ ਪੇਸ਼ ਕੀਤਾ ਹੈ। ਤੀਜੇ ਅਤੇ ਚੌਥੇ ਮੌਡਿਊਲ ਵਿੱਚ, ਅਸੀਂ ਉਤਪਾਦਨ, ਲਾਗਤ, ਆਮਦਨ ਅਤੇ ਵਸਤਾਂ ਅਤੇ ਸੇਵਾਵਾਂ ਦੀ ਵੰਡ ਦੇ ਸੰਕਲਪਾਂ ਨੂੰ ਪੇਸ਼ ਕੀਤਾ ਹੈ।

ਦੇਸ਼ ਦੇ ਕੁੱਲ ਘਰੇਲੂ ਉਤਪਾਦ (ਜੀ.ਡੀ.ਪੀ.) ਦੀ ਗਣਨਾ ਕਰਨ ਲਈ ਵਸਤਾਂ ਅਤੇ ਸੇਵਾਵਾਂ ਆਰਥਿਕਤਾ ਦੇ ਬਹੁਤ ਮਹੱਤਵਪੂਰਨ ਪਹਿਲੂ ਹਨ। ਇਸ ਸੰਕਲਪ ਨੂੰ ਵਿਸਥਾਰ ਵਿੱਚ ਸਮਝਾਉਣ ਲਈ, ਅਸੀਂ ਚੌਥੇ ਮੌਡਿਊਲ ਵਿੱਚ ਮੰਗ ਅਤੇ ਸਪਲਾਈ ਦੀ ਚਰਚਾ ਕੀਤੀ ਹੈ। ਪੁਸਤਕ-1 ਦੇ ਵੱਖ-ਵੱਖ ਹਿੱਸਿਆਂ ਦਾ ਅਧਿਐਨ ਕਰਨ ਨਾਲ ਤੁਹਾਨੂੰ ਪੁਸਤਕ-2 ਵਿੱਚ ਦਿੱਤੇ ਗਏ ਵੱਖ-ਵੱਖ ਪਾਠਾਂ ਨੂੰ ਸਮਝਣ ਵਿੱਚ ਮਦਦ ਮਿਲੇਗੀ।

ਮੌਡਿਊਲ ਨੂੰ ਅਰਥ ਸ਼ਾਸਤਰ ਦੇ ਖੇਤਰ ਵਿੱਚ ਨਿਪੁੰਨ ਵਿਅਕਤੀਆਂ ਦੁਆਰਾ ਲਿਖਿਆ ਗਿਆ ਹੈ। ਨੈਸ਼ਨਲ ਇੰਸਟੀਚਿਊਟ ਆਫ ਓਪਨ ਸਕੂਲਿੰਗ ਦੇ ਸਿਖਿਆਰਥੀਆਂ ਲਈ ਵਿਸ਼ਾ ਸਮੱਗਰੀ ਨੂੰ ਸੁਚੱਜੇ ਢੰਗ ਨਾਲ ਪੇਸ਼ ਕਰਨ ਲਈ ਅਸੀਂ ਉਨ੍ਹਾਂ ਦੇ ਧੰਨਵਾਦੀ ਹਾਂ। ਅਸੀਂ ਉਮੀਦ ਕਰਦੇ ਹਾਂ ਕਿ ਅਰਥ ਸ਼ਾਸਤਰ ਦੀ ਮੌਜੂਦਾ ਅਧਿਐਨ ਸਮੱਗਰੀ ਤੁਹਾਨੂੰ ਅਰਥ ਸ਼ਾਸਤਰ ਦੀ ਵਿਸ਼ਾ ਸਮੱਗਰੀ ਵਿੱਚ ਪੂਰਾ ਗਿਆਨ ਪ੍ਰਦਾਨ ਕਰੇਗੀ। ਨਤੀਜੇ ਵਜੋਂ, ਤੁਹਾਡੇ ਅੰਦਰ ਭਵਿੱਖ ਵਿੱਚ ਵਿਸ਼ੇ ਬਾਰੇ ਵੱਧ ਤੋਂ ਵੱਧ ਜਾਣਕਾਰੀ ਪ੍ਰਾਪਤ ਕਰਨ ਲਈ ਉਤਸੁਕਤਾ ਪੈਦਾ ਹੋਵੇਗੀ।

ਮੈਂ ਤੁਹਾਨੂੰ ਤੁਹਾਡੇ ਭਵਿੱਖ ਦੇ ਯਤਨਾਂ ਵਿੱਚ ਸਫਲਤਾ ਦੀ ਕਾਮਨਾ ਕਰਦਾ ਹਾਂ।

(ਡਾ. ਮਨੀਸ਼ ਚੌਘਾ)

ਸਿੱਖਿਆ ਅਧਿਕਾਰੀ (ਅਰਥਸ਼ਾਸਤਰ)

ਕੋਰਸ ਟੀਮ, ਨੈਸ਼ਨਲ ਇੰਸਟੀਚਿਊਟ ਆਫ ਓਪਨ ਸਕੂਲਿੰਗ

ਅਧਿਐਨ ਸਮੱਗਰੀ ਦੀ ਵਰਤੋਂ ਕਿਵੇਂ ਕਰੀਏ

ਸੁਭਕਾਮਨਾਵਾਂ। ਤੁਸੀਂ ਇੱਕ ਸਵੈ-ਸਿੱਖਿਅਕ ਬਣਨ ਦੀ ਚੁਣੌਤੀ ਨੂੰ ਸਵੀਕਾਰ ਕੀਤਾ ਹੈ। ਨੈਸ਼ਨਲ ਇੰਸਟੀਚਿਊਟ ਆਫ ਓਪਨ ਸਕੂਲਿੰਗ ਹਰ ਪੜਾਅ 'ਤੇ ਤੁਹਾਡੇ ਨਾਲ ਹੈ ਅਤੇ ਤੁਹਾਨੂੰ ਧਿਆਨ ਵਿੱਚ ਰੱਖਦੇ ਹੋਏ ਮਾਹਿਰਾਂ ਦੀ ਇੱਕ ਟੀਮ ਦੁਆਰਾ ਅਰਥਵਿਵਸਥਾ ਦੀ ਸਮੱਗਰੀ ਤਿਆਰ ਕੀਤੀ ਗਈ ਹੈ। ਸੁਤੰਤਰ ਗਿਆਨ ਦਾ ਸਮਰਥਨ ਕਰਨ ਵਾਲੇ ਮਾਡਲ ਦੀ ਪਾਲਣਾ ਕੀਤੀ ਗਈ ਹੈ। ਜੇਕਰ ਤੁਸੀਂ ਦਿੱਤੀਆਂ ਹਿਦਾਇਤਾਂ ਦੀ ਪਾਲਣਾ ਕਰਦੇ ਹੋ ਤਾਂ ਤੁਸੀਂ ਇਸ ਸਮੱਗਰੀ ਦਾ ਵੱਧ ਤੋਂ ਵੱਧ ਲਾਭ ਲੈ ਸਕਦੇ ਹੋ। ਸਮੱਗਰੀ ਵਿੱਚ ਵਰਤੀਆਂ ਗਈਆਂ ਢੁਕਵੀਆਂ ਤਸਵੀਰਾਂ ਤੁਹਾਡੀ ਅਗਵਾਈ ਕਰਨਗੀਆਂ।

ਸਿਰਲੇਖ: ਇਹ ਵਿਸ਼ਾ ਸਮੱਗਰੀ ਲਈ ਸਪੱਸ਼ਟ ਸੰਕੇਤ ਪ੍ਰਦਾਨ ਕਰੇਗਾ। ਇਹ ਜ਼ਰੂਰ ਪੜ੍ਹੋ।

ਭੂਮਿਕਾ: ਇਹ ਤੁਹਾਨੂੰ ਪਾਠ ਤੋਂ ਜਾਣੂ ਕਰਵਾਏਗੀ ਅਤੇ ਇਸਨੂੰ ਪਿਛਲੇ ਪਾਠ ਨਾਲ ਵੀ ਜੋੜੇਗੀ।

ਉਦੇਸ਼: ਇਹ ਗਿਆਨ ਪ੍ਰਾਪਤ ਕਰਨ ਦੇ ਨਤੀਜਿਆਂ ਦੇ ਕਥਨ ਹੁੰਦੇ ਹਨ ਜੋ ਪਾਠ ਨੂੰ ਪੜ੍ਹਨ ਤੋਂ ਬਾਅਦ ਤੁਹਾਡੇ ਕੋਲ ਹੋਣ ਦੀ ਉਮੀਦ ਕੀਤੀ ਜਾਂਦੀ ਹੈ। ਤੁਹਾਡੇ ਤੋਂ ਉਹਨਾਂ ਨੂੰ ਪ੍ਰਾਪਤ ਕਰਨ ਦੀ ਉਮੀਦ ਕੀਤੀ ਜਾਂਦੀ ਹੈ। ਉਹਨਾਂ ਨੂੰ ਪੜ੍ਹਨਾ ਯਕੀਨੀ ਬਣਾਓ ਅਤੇ ਜਾਂਚ ਕਰੋ ਕਿ ਕੀ ਤੁਸੀਂ ਉਹਨਾਂ ਨੂੰ ਪ੍ਰਾਪਤ ਕੀਤਾ ਹੈ।

ਵਿਸ਼ਾ ਸਮੱਗਰੀ: ਸਮੁੱਚੀ ਵਿਸ਼ਾ ਸਮੱਗਰੀ ਨੂੰ ਹਿੱਸਿਆਂ ਵਿੱਚ ਵੰਡਿਆ ਗਿਆ ਹੈ। ਇੱਕ ਭਾਗ ਸਾਨੂੰ ਇੱਕ ਵਿਸ਼ੇ ਤੋਂ ਦੂਜੇ ਵਿਸ਼ੇ ਵਿੱਚ ਲੈ ਜਾਂਦੇ ਹਨ। ਬੇਲਡ, ਟੇਢੀ ਜਾਂ ਡੱਬੀ ਵਾਲੀ ਰੀਡਿੰਗ ਸਮੱਗਰੀ ਮਹੱਤਵਪੂਰਨ ਹੈ ਅਤੇ ਇਸ ਦਾ ਧਿਆਨ ਰੱਖਿਆ ਜਾਣਾ ਚਾਹੀਦਾ ਹੈ।

ਟਿੱਪਣੀ: ਹਰ ਪੰਨੇ 'ਤੇ ਤੁਹਾਡੇ ਲਈ ਮਹੱਤਵਪੂਰਨ ਨੁਕਤੇ ਜਾਂ ਟਿੱਪਣੀਆਂ ਕਰਨ ਲਈ ਹਾਸ਼ੀਏ ਵਿੱਚ ਇੱਕ ਖਾਲੀ ਥਾਂ ਹੈ।

ਪਾਠਕ੍ਰਮ ਪ੍ਰਸ਼ਨ: ਹਰੇਕ ਭਾਗ ਦੇ ਬਾਅਦ ਸਵੈ-ਟੈਸਟਿੰਗ ਉਦੇਸ਼ ਕਿਸਮ ਦੇ ਪ੍ਰਸ਼ਨਾਂ ਦੇ ਜਵਾਬ ਦਿੱਤੇ ਜਾਣੇ ਹਨ। ਇਹ ਪਾਠ ਦੇ ਅੰਤ ਵਿੱਚ ਦਿੱਤੇ ਗਏ ਹਨ। ਇਹ ਤੁਹਾਡੀ ਤਰੱਕੀ ਦੀ ਜਾਂਚ ਕਰਨ ਵਿੱਚ ਤੁਹਾਡੀ ਮਦਦ ਕਰਨਗੇ। ਉਨ੍ਹਾਂ ਨੂੰ ਹੱਲ ਕਰਨਾ ਚਾਹੀਦਾ ਹੈ। ਸਫਲਤਾਪੂਰਵਕ ਸੰਪੂਰਨਤਾ ਤੁਹਾਨੂੰ ਇਹ ਫੈਸਲਾ ਕਰਨ ਵਿੱਚ ਮਦਦ ਕਰੇਗੀ ਕਿ ਤੁਸੀਂ ਅੱਗੇ ਵਧਣਾ ਹੈ ਜਾਂ ਨਹੀਂ ਜਾਂ ਪਿੱਛੇ ਜਾਣਾ ਹੈ ਅਤੇ ਦੁਬਾਰਾ ਪੜ੍ਹਨਾ ਹੈ।

ਤੁਸੀਂ ਕੀ ਸਿੱਖਿਆ: ਇਹ ਪਾਠ ਦੇ ਮੁੱਖ ਨੁਕਤਿਆਂ ਦਾ ਸਾਰ ਹੈ। ਇਹ ਤੁਹਾਨੂੰ ਦੁਹਰਾਉਣ ਅਤੇ ਯਾਦ ਕਰਨ ਵਿੱਚ ਮਦਦ ਕਰੇਗਾ। ਇਸ ਵਿੱਚ ਤੁਹਾਡੇ ਆਪਣੇ ਪੁਆਇੰਟ ਜੋੜਨ ਲਈ ਵੀ ਤੁਹਾਡਾ ਸੁਆਗਤ ਹੈ।

ਪਾਠ ਦੇ ਅੰਤ ਦੇ ਪ੍ਰਸ਼ਨ: ਇਹ ਲੰਬੇ ਅਤੇ ਛੋਟੇ ਸਵਾਲ ਹਨ ਜੋ ਪੂਰੇ ਪਾਠ ਨੂੰ ਸਪੱਸ਼ਟ ਰੂਪ ਵਿੱਚ ਸਮਝਣ ਲਈ ਅਭਿਆਸ ਕਰਨ ਦਾ ਮੌਕਾ ਪ੍ਰਦਾਨ ਕਰਦੇ ਹਨ।

ਪਾਠਕ੍ਰਮ ਪ੍ਰਸ਼ਨਾਂ ਦੇ ਉੱਤਰ: ਇਹ ਤੁਹਾਨੂੰ ਇਹ ਜਾਣਨ ਵਿੱਚ ਮਦਦ ਕਰਨਗੇ ਕਿ ਤੁਸੀਂ ਕਿੰਨੇ ਪਾਠਕ੍ਰਮ ਪ੍ਰਸ਼ਨਾਂ ਦੇ ਸਹੀ ਜਵਾਬ ਦਿੱਤੇ ਹਨ।

ਅੱਜ ਹੀ ਕਰੋ: ਸੰਕਲਪ ਦੀ ਬਿਹਤਰ ਸਮਝ ਲਈ ਕੁਝ ਗਤੀਵਿਧੀਆਂ ਦਾ ਸੁਝਾਅ ਵੀ ਦਿੱਤਾ ਗਿਆ ਹੈ।

ਵਿਸ਼ਾ ਸਮੱਗਰੀ ਦੀ ਸੰਖੇਪ ਝਲਕ

1

ਮੌਡਿਊਲ 1: ਅਰਥਸ਼ਾਸਤਰ ਨੂੰ ਸਮਝਣਾ

1 ਅਰਥਸ਼ਾਸਤਰ ਕੀ ਹੈ

2 ਮਨੁੱਖੀ ਜ਼ਰੂਰਤਾਂ

3 ਵਸਤਾਂ ਅਤੇ ਸੇਵਾਵਾਂ

ਮੌਡਿਊਲ 2 : ਅਰਥਵਿਵਸਥਾ ਦੇ ਵਿਸ਼ੇ ਵਿੱਚ

4 ਅਰਥਵਿਵਸਥਾ – ਅਰਥ ਅਤੇ ਕਿਸਮਾਂ

5 ਅਰਥਵਿਵਸਥਾ ਦੀਆਂ ਕੇਂਦਰੀ ਸਮੱਸਿਆਵਾਂ

6. ਮੁੱਢਲੀਆਂ ਆਰਥਿਕ ਗਤੀਵਿਧੀਆਂ

ਮੌਡਿਊਲ 3: ਵਸਤਾਂ ਅਤੇ ਸੇਵਾਵਾਂ ਦਾ ਉਤਪਾਦਨ ਕਰਨਾ

7. ਉਤਪਾਦਨ

8. ਲਾਗਤ ਅਤੇ ਆਮਦਨ

ਮੌਡਿਊਲ 4: ਵਸਤਾਂ ਅਤੇ ਸੇਵਾਵਾਂ ਦੀ ਵੰਡ

9. ਮੰਗ

10. ਸਪਲਾਈ

11. ਕੀਮਤ ਅਤੇ ਮਾਤਰਾ ਦਾ ਨਿਰਧਾਰਨ

12. ਬਾਜ਼ਾਰ

13. ਕੀਮਤ ਅਤੇ ਮਾਤਰਾ ਦੇ ਨਿਰਧਾਰਨ ਵਿੱਚ ਸਰਕਾਰ ਦੀ ਭੂਮਿਕਾ

ਪ੍ਰਤੀਪ੍ਰਸ਼ਟੀ ਫਾਰਮ

2

ਮੌਡਿਊਲ 5: ਮੁਦਰਾ, ਬੈਂਕਿੰਗ ਅਤੇ ਬੀਮਾ

14. ਪੈਸਾ ਅਤੇ ਉਸ ਦੀ ਭੂਮਿਕਾ

15. ਬੈਂਕਿੰਗ ਅਤੇ ਕਰੈਡਿਟ

16. ਬੱਚਤ ਅਤੇ ਬੀਮਾ

ਮੌਡਿਊਲ: 6 ਅਰਥਵਿਵਸਥਾ ਵਿੱਚ ਅੰਕੜਿਆਂ ਦੀ ਪੇਸ਼ਕਾਰੀ ਅਤੇ ਵਿਸ਼ਲੇਸ਼ਣ

17. ਅੰਕੜਿਆਂ ਦਾ ਸੰਗ੍ਰਹਿ ਅਤੇ ਪੇਸ਼ਕਾਰੀ

18. ਅੰਕੜਿਆਂ ਦਾ ਵਿਸ਼ਲੇਸ਼ਣ

ਮੋਡਿਊਲ: 7 ਭਾਰਤੀ ਅਰਥਵਿਵਸਥਾ

19. ਭਾਰਤੀ ਅਰਥਵਿਵਸਥਾ- ਸੰਖੇਪ ਜਾਣਕਾਰੀ

20. ਭਾਰਤੀ ਅਰਥਵਿਵਸਥਾ ਦੇ ਖੇਤਰੀ ਪਹਿਲੂ

21. ਭਾਰਤੀ ਅਰਥਵਿਵਸਥਾ ਦੇ ਸਾਹਮਣੇ ਚੁਣੌਤੀਆਂ

22. ਭਾਰਤੀ ਅਰਥਵਿਵਸਥਾ-ਵਿਸ਼ਵ ਦੇ ਸੰਦਰਭ ਵਿੱਚ

ਮੋਡਿਊਲ: 8 ਸਮਕਾਲੀ ਆਰਥਿਕ ਸਮੱਸਿਆਵਾਂ

23. ਵਾਤਾਵਰਨ ਅਤੇ ਟਿਕਾਊ ਵਿਕਾਸ

24. ਖਪਤਕਾਰ ਜਾਗਰੂਕਤਾ

- ਪ੍ਰਸ਼ਨ ਪੱਤਰ ਦੀ ਰਚਨਾ
- ਬਲੂ ਪ੍ਰਿੰਟ
- ਨਮੂਨਾ ਪ੍ਰਸ਼ਨ ਪੱਤਰ
- ਅੰਕ ਯੋਜਨਾ
- ਪਾਠਕ੍ਰਮ
- ਪ੍ਰਤੀਪ੍ਰਸ਼ਟੀ ਫਾਰਮ

ਵਿਸ਼ਾ ਸੂਚੀ

	ਮੌਡਿਊਲ: 1 ਅਰਥਸ਼ਾਸਤਰ ਨੂੰ ਸਮਝਣਾ	ਪੇਜ ਨੰਬਰ
1	ਅਰਥਸ਼ਾਸਤਰ ਕੀ ਹੈ	1-10
2	ਮਨੁੱਖੀ ਜ਼ਰੂਰਤਾਂ	11-21
2	ਵਸਤਾਂ ਅਤੇ ਸੇਵਾਵਾਂ	22-32
	ਮੌਡਿਊਲ: 2 ਅਰਥਵਿਵਸਥਾ ਦੇ ਵਿਸ਼ੇ ਬਾਰੇ	
4	ਅਰਥਵਿਵਸਥਾ : ਅਰਥ ਅਤੇ ਕਿਸਮਾਂ	33-50
5	ਅਰਥਵਿਵਸਥਾ ਦੀਆਂ ਕੇਂਦਰੀ ਸਮੱਸਿਆਵਾਂ	51-61
6	ਮੁੱਢਲੀਆਂ ਆਰਥਿਕ ਗਤੀਵਿਧੀਆਂ	62-72
	ਮੌਡਿਊਲ: 3 ਵਸਤਾਂ ਅਤੇ ਸੇਵਾਵਾਂ ਦਾ ਉਤਪਾਦਨ ਕਰਨਾ	
7	ਉਤਪਾਦਨ	73-96
8	ਲਾਗਤ ਅਤੇ ਆਮਦਨ	97-110
	ਮੌਡਿਊਲ: 4 ਵਸਤੂਆਂ ਅਤੇ ਸੇਵਾਵਾਂ ਦੀ ਵੰਡ	
9	ਮੰਗ	111-128
10	ਸਪਲਾਈ	129-146
11	ਕੀਮਤ ਅਤੇ ਮਾਤਰਾ ਦਾ ਨਿਰਧਾਰਨ	147-158
12	ਬਾਜ਼ਾਰ	159-168
13	ਕੀਮਤ ਅਤੇ ਮਾਤਰਾ ਦੇ ਨਿਰਧਾਰਨ ਵਿੱਚ ਸਰਕਾਰ ਦੀ ਭੂਮਿਕਾ	169-180

1

ਅਰਥਸ਼ਾਸਤਰ ਕੀ ਹੈ

ਅਸੀਮਤ ਮਾਤਰਾ ਵਿੱਚ ਉਤਪਾਦਨ ਨਹੀਂ ਕਰ ਸਕਦੇ। ਇਨ੍ਹਾਂ ਵਸਤਾਂ ਦਾ ਉਤਪਾਦਨ ਕਰਨ ਲਈ ਸਰੋਤਾਂ ਨੂੰ ਵੰਡਣਾ ਪੈਂਦਾ ਹੈ। ਮੰਨ ਲਓ, ਇਨ੍ਹਾਂ ਵਿੱਚੋਂ ਕਿਸੇ ਇੱਕ ਵਸਤੂ ਜਿਵੇਂ ਕਣਕ ਦੀ ਮੰਗ ਵਿੱਚ ਵਾਧਾ ਹੋ ਜਾਂਦਾ ਹੈ, ਇਸ ਲਈ ਇਸ ਨੂੰ ਜ਼ਿਆਦਾ ਮਾਤਰਾ ਵਿੱਚ ਉਤਪਾਦਨ ਕਰਨਾ ਪੈਂਦਾ ਹੈ ਜਿਸ ਲਈ ਸਾਨੂੰ ਜ਼ਿਆਦਾ ਸਰੋਤਾਂ ਦੀ ਜ਼ਰੂਰਤ ਪੈਂਦੀ ਹੈ। ਪਰ ਦਿੱਤਾ ਹੋਇਆ ਹੈ ਕਿ ਸਰੋਤ ਸੀਮਤ ਹਨ, ਅਸੀਂ ਜ਼ਿਆਦਾ ਕਣਕ ਦਾ ਉਤਪਾਦਨ ਸਿਰਫ਼ ਕੱਪੜੇ ਦੇ ਉਤਪਾਦਨ ਵਿੱਚੋਂ ਕੁਝ ਸਰੋਤਾਂ ਨੂੰ ਕੱਢ ਕੇ ਅਤੇ ਇਨ੍ਹਾਂ ਨੂੰ ਕਣਕ ਦੇ ਉਤਪਾਦਨ ਵਿੱਚ ਲਾ ਕੇ ਹੀ ਕਰ ਸਕਦੇ ਹਾਂ। ਨਤੀਜੇ ਵਜੋਂ, ਕੱਪੜੇ ਦਾ ਉਤਪਾਦਨ ਘੱਟ ਹੋ ਜਾਵੇਗਾ ਅਤੇ ਕਣਕ ਦੇ ਉਤਪਾਦਨ ਵਿੱਚ ਵਾਧਾ ਹੋ ਜਾਵੇਗਾ। ਇਸ ਉਦਾਹਰਨ ਨਾਲ ਸਾਡੇ ਕੋਲ ਦੇ ਵਿਕਲਪ ਹਨ:

ਉਦੇਸ਼:

ਇਸ ਪਾਠ ਨੂੰ ਪੜ੍ਹਨ ਦੇ ਬਾਅਦ ਤੁਸੀਂ ਸਮਰੱਥ ਹੋਵੋਗੇ :

- ਅਰਥਸ਼ਾਸਤਰ ਦੇ ਅਰਥ ਨੂੰ ਜਾਣਨ;
- ਅਰਥਸ਼ਾਸਤਰ ਦੀਆਂ ਮਹੱਤਵਪੂਰਨ ਸ਼ਾਖਾਵਾਂ ਦੀ ਵਿਆਖਿਆ ਕਰਨ;
- ਵਾਸਤਵਿਕ ਅਤੇ ਆਦਰਸ਼ ਅਰਥਸ਼ਾਸਤਰ ਵਿੱਚ ਅੰਤਰ ਕਰਨ;

1.1 ਅਰਥਸ਼ਾਸਤਰ ਦਾ ਅਰਥ

ਅਰਥਸ਼ਾਸਤਰ ਇੱਕ ਅਤਿਅੰਤ ਵਿਸ਼ਾਲ ਵਿਸ਼ਾ ਹੈ। ਇਸ ਲਈ ਅਰਥਸ਼ਾਸਤਰ ਦੀ ਕੋਈ ਨਿਸ਼ਚਤ ਪਰਿਭਾਸ਼ਾ ਜਾਂ ਅਰਥ ਦੇਣਾ ਆਸਾਨ ਨਹੀਂ ਹੈ ਕਿਉਂਕਿ ਇਸ ਦੀ ਸੀਮਾ ਅਤੇ ਖੇਤਰ ਜੇ ਇਸ ਵਿੱਚ ਸ਼ਾਮਲ ਹਨ, ਅਤਿਅੰਤ ਵਿਸ਼ਾਲ ਹੈ। ਜਿਸ ਸਮੇਂ ਤੋਂ ਇਹ ਸਮਾਜਿਕ ਵਿਗਿਆਨ ਦੇ ਅਧਿਐਨ ਦੀ ਇੱਕ ਅਹਿਮ ਸ਼ਾਖਾ ਦੇ ਰੂਪ ਵਿੱਚ ਉੱਭਰ ਕੇ ਆਇਆ ਹੈ, ਵਿਭਿੰਨ ਵਿਦਵਾਨਾਂ ਅਤੇ ਲੇਖਕਾਂ ਨੇ ਇਸ ਦਾ ਅਰਥ ਅਤੇ ਉਦੇਸ਼ ਦੱਸਣ ਦੀ ਕੋਸ਼ਿਸ਼ ਕੀਤੀ ਹੈ। ਇਹ ਧਿਆਨ ਦੇਣਾ ਚਾਹੀਦਾ ਹੈ ਕਿ ਸਮਾਂ ਅਤੇ ਸੱਭਿਅਤਾ ਦੇ ਵਿਕਾਸ ਨਾਲ ਅਰਥਸ਼ਾਸਤਰ ਦੀ ਪਰਿਭਾਸ਼ਾ ਵਿੱਚ

ਮੈਂਡਿਊਲ: 1

ਅਰਥਸ਼ਾਸਤਰ ਨੂੰ ਸਮਝਣਾ



ਨੋਟ



ਨੋਟ

ਰੁਪਾਂਤਰਣ ਅਤੇ ਪਰਿਵਰਤਨ ਹੋਏ ਹਨ। ਆਉ, ਅਸੀਂ ਅਰਥਸ਼ਾਸਤਰ ਦੇ ਅਰਥ ਨਾਲ ਸਬੰਧਿਤ ਨਿਮਨ ਪ੍ਰਮੁੱਖ ਵਿਚਾਰਾਂ 'ਤੇ ਆਪਣਾ ਧਿਆਨ ਕੇਂਦਰਿਤ ਕਰੀਏ:

- (1) ਅਠਾਰਵੀਂ ਸਦੀ ਦੇ ਅੰਤ ਅਤੇ ਉੱਨੀਵੀਂ ਸਦੀ ਦੀ ਸ਼ੁਰੂਆਤ ਵਿੱਚ ਅਨੇਕ ਵਿਦਵਾਨਾਂ ਅਤੇ ਲੇਖਕਾਂ ਦਾ ਮਤ ਸੀ ਕਿ ਅਰਥਸ਼ਾਸਤਰ ਧਨ ਦਾ ਵਿਗਿਆਨ ਹੈ। ਇਨ੍ਹਾਂ ਵਿਦਵਾਨਾਂ ਨੂੰ ਕਲਾਸਿਕੀ ਅਰਥਸ਼ਾਸਤਰੀ ਕਹਿੰਦੇ ਹਨ। ਉਨ੍ਹਾਂ ਦੀ ਦ੍ਰਿਸ਼ਟੀ ਵਿੱਚ ਅਰਥਸ਼ਾਸਤਰ ਧਨ ਨਾਲ ਸਬੰਧਿਤ ਘਟਨਾਵਾਂ/ਪਦਾਰਥਾਂ ਦਾ ਅਧਿਐਨ ਕਰਦਾ ਹੈ ਜਿਸ ਵਿੱਚ ਧਨ ਦੀ ਪ੍ਰਕਿਰਤੀ ਅਤੇ ਉਦੇਸ਼, ਵਿਅਕਤੀਆਂ ਅਤੇ ਦੇਸ਼ਾਂ ਆਦਿ ਵੱਲੋਂ ਧਨ ਦੀ ਸਿਰਜਣਾ ਕਰਨਾ ਆਦਿ ਨੂੰ ਸ਼ਾਮਲ ਕੀਤਾ ਜਾਂਦਾ ਹੈ।
- (2) ਧਨ ਦੀ ਪਰਿਭਾਸ਼ਾ ਵਿੱਚ ਸਮੱਸਿਆ ਸੀ ਕਿ ਇਹ ਉਨ੍ਹਾਂ ਲੋਕਾਂ ਬਾਰੇ ਗੱਲ ਨਹੀਂ ਕਰਦੀ ਸੀ ਜਿਨ੍ਹਾਂ ਕੋਲ ਧਨ ਨਹੀਂ ਹੁੰਦਾ। ਧਨ ਹੋਣਾ ਅਤੇ ਧਨ ਨਹੀਂ ਹੋਣਾ ਨੇ ਸਮਾਜ ਨੂੰ ਧਨੀ ਅਤੇ ਨਿਰਧਨ ਜਾਂ ਗਰੀਬ ਵਿੱਚ ਵੰਡ ਦਿੱਤਾ। ਉੱਨੀਵੀਂ ਸਦੀ ਦੀ ਸ਼ੁਰੂਆਤ ਵਿੱਚ ਅਨੇਕ ਵਿਗਿਆਨਾਂ ਨੇ ਸੋਚਿਆ ਕਿ ਅਰਥਸ਼ਾਸਤਰ ਨੂੰ 'ਸਮਾਜ ਦੇ ਕਲਿਆਣ' ਦੇ ਵਿਸ਼ੇ 'ਤੇ ਗੱਲ ਕਰਨੀ ਚਾਹੀਦੀ ਹੈ ਨਾ ਕਿ ਕੇਵਲ ਧਨ ਦੇ ਬਾਰੇ ਵਿੱਚ। ਉਸ ਅਨੁਸਾਰ ਅਰਥਸ਼ਾਸਤਰ ਨੂੰ ਕਲਿਆਣ ਦੇ ਵਿਗਿਆਨ ਦੇ ਰੂਪ ਵਿੱਚ ਦੇਖਿਆ ਗਿਆ। ਕਲਿਆਣ ਪ੍ਰਕਿਰਤੀ ਵਿੱਚ ਪਰਿਣਾਮਾਤਮਕ ਅਤੇ ਗੁਣਾਤਮਕ ਦੋਵੇਂ ਹੁੰਦਾ ਹੈ। ਵਸਤਾਂ ਅਤੇ ਸੇਵਾਵਾਂ ਦਾ ਉਪਭੋਗ, ਪ੍ਰਤੀ ਵਿਅਕਤੀ ਆਮਦਨ ਵਿੱਚ ਵਾਧਾ ਆਦਿ ਕਲਿਆਣ ਦੇ ਪਰਿਣਾਤਮਕ ਪਹਿਲੂ ਹਨ। ਸ਼ਾਂਤੀ ਨਾਲ ਰਹਿਣਾ, ਛੁੱਟੀ ਦਾ ਆਨੰਦ ਲੈਣਾ, ਗਿਆਨ ਹਾਸਲ ਕਰਨਾ ਆਦਿ ਕਲਿਆਣ ਦੇ ਗੁਣਾਤਮਕ ਪਹਿਲੂ ਹਨ। ਕਲਿਆਣ ਦੇ ਵਿਗਿਆਨ ਦੇ ਰੂਪ ਵਿੱਚ ਅਰਥਸ਼ਾਸਤਰ ਦਾ ਸਬੰਧ ਕੇਵਲ ਪਰਿਣਾਮਾਤਮਕ ਕਲਿਆਣ ਤੋਂ ਹੀ ਮੰਨਿਆ ਗਿਆ ਕਿਉਂਕਿ ਉਸ ਨੂੰ ਮੁਦਰਾ ਵਿੱਚ ਮਾਪਿਆ ਜਾ ਸਕਦਾ ਹੈ।
- (3) ਅਰਥਸ਼ਾਸਤਰ ਦੀ ਕਲਿਆਣ ਦੀ ਪਰਿਭਾਸ਼ਾ ਨੇ ਕਲਿਆਣ ਦੇ ਕੇਵਲ ਭੌਤਿਕ ਪਹਿਲੂਆਂ ਦੀ ਹੀ ਵਿਆਖਿਆ ਕੀਤੀ। ਪਰ ਲੋਕਾਂ ਨੂੰ ਭੌਤਿਕ ਵਸਤਾਂ ਅਤੇ ਅਭੌਤਿਕ ਸੇਵਾਵਾਂ ਦੋਹਾਂ ਦੀ ਜ਼ਰੂਰਤ ਹੁੰਦੀ ਹੈ ਕਿਉਂਕਿ ਹਰੇਕ ਵਿਅਕਤੀ ਜਾਂ ਸਮਾਜ ਕੋਲ ਉਪਲੱਬਧ ਸਰੋਤ ਘੱਟ ਹੁੰਦੇ ਹਨ, ਲੋਕ ਆਪਣੇ ਟੀਚਿਆਂ ਨੂੰ ਇਨ੍ਹਾਂ ਸਰੋਤਾਂ ਦੇ ਵਿਕਲਪਿਕ ਪ੍ਰਯੋਗ ਤੋਂ ਪ੍ਰਾਪਤ ਕਰਨ ਦਾ ਯਤਨ ਕਰਦੇ ਹਨ ਜੋ ਉਹ ਉਪਰੋਕਤ ਚੋਣ ਰਾਹੀਂ ਕਰਦੇ ਹਨ। ਇਸ ਲਈ ਅਰਥਸ਼ਾਸਤਰ ਨੂੰ ਸੀਮਤ ਅਤੇ ਚੋਣ ਦਾ ਵਿਗਿਆਨ ਕਿਹਾ ਗਿਆ। ਸੀਮਤ ਅਤੇ ਚੋਣ ਦੇ ਵਿਗਿਆਨ ਦੇ ਰੂਪ ਵਿੱਚ ਮਨੁੱਖੀ ਵਿਵਹਾਰ ਦੇ

ਉਦੇਸ਼ਾਂ ਅਤੇ ਉਨ੍ਹਾਂ ਸੀਮਤ ਸਾਧਨਾਂ ਦੇ ਸਬੰਧਾਂ ਦਾ ਅਧਿਐਨ ਕਰਦਾ ਹੈ ਜਿਨ੍ਹਾਂ ਦਾ ਵਿਕਲਪਿਕ ਪ੍ਰਯੋਗ ਕੀਤਾ ਜਾ ਸਕਦਾ ਹੈ।

ਇੱਥੇ 'ਉਦੇਸ਼ਾਂ' ਤੋਂ ਮਤਲਬ 'ਜ਼ਰੂਰਤਾਂ' ਅਤੇ 'ਸੀਮਤ ਸਰੋਤਾਂ' ਤੋਂ ਮਤਲਬ 'ਦੁਰਲੱਭ ਸਰੋਤਾਂ' ਤੋਂ ਹੈ। ਘਾਟ ਦੀ ਪਰਿਭਾਸ਼ਾ ਅਨੁਸਾਰ ਸੀਮਤ ਸਰੋਤਾਂ ਦੇ ਵਿਕਲਪਿਕ ਪ੍ਰਯੋਗ ਹੋ ਸਕਦੇ ਹਨ। ਕੱਪੜਾ ਅਤੇ ਕਣਕ- ਦੇ ਵਸਤਾਂ ਦੀ ਉਦਾਹਰਨ ਲਓ। ਸੀਮਤ ਸਰੋਤਾਂ ਤੋਂ ਅਸੀਂ ਕੱਪੜੇ ਅਤੇ ਕਣਕ ਦੀ ਅਸੀਮਤ ਮਾਤਰਾ ਵਿੱਚ ਉਤਪਾਦਨ ਨਹੀਂ ਕਰ ਸਕਦੇ। ਇਨ੍ਹਾਂ ਵਸਤਾਂ ਦਾ ਉਤਪਾਦਨ ਕਰਨ ਲਈ ਸਰੋਤਾਂ ਨੂੰ ਵੰਡਣਾ ਪੈਂਦਾ ਹੈ। ਮੰਨ ਲਓ, ਇਨ੍ਹਾਂ ਵਿੱਚੋਂ ਕਿਸੇ ਇੱਕ ਵਸਤੂ ਜਿਵੇਂ ਕਣਕ ਦੀ ਮੰਗ ਵਿੱਚ ਵਾਧਾ ਹੋ ਜਾਂਦਾ ਹੈ, ਇਸ ਲਈ ਇਸ ਨੂੰ ਜ਼ਿਆਦਾ ਮਾਤਰਾ ਵਿੱਚ ਉਤਪਾਦਨ ਕਰਨਾ ਪੈਂਦਾ ਹੈ ਜਿਸ ਲਈ ਸਾਨੂੰ ਜ਼ਿਆਦਾ ਸਰੋਤਾਂ ਦੀ ਜ਼ਰੂਰਤ ਪੈਂਦੀ ਹੈ। ਪਰ ਦਿੱਤਾ ਹੋਇਆ ਹੈ ਕਿ ਸਰੋਤ ਸੀਮਤ ਹਨ, ਅਸੀਂ ਜ਼ਿਆਦਾ ਕਣਕ ਦਾ ਉਤਪਾਦਨ ਸਿਰਫ਼ ਕੱਪੜੇ ਦੇ ਉਤਪਾਦਨ ਵਿੱਚੋਂ ਕੁਝ ਸਰੋਤਾਂ ਨੂੰ ਕੱਢ ਕੇ ਅਤੇ ਇਨ੍ਹਾਂ ਨੂੰ ਕਣਕ ਦੇ ਉਤਪਾਦਨ ਵਿੱਚ ਲਾ ਕੇ ਹੀ ਕਰ ਸਕਦੇ ਹਾਂ। ਨਤੀਜੇ ਵਜੋਂ, ਕੱਪੜੇ ਦਾ ਉਤਪਾਦਨ ਘੱਟ ਹੋ ਜਾਵੇਗਾ ਅਤੇ ਕਣਕ ਦੇ ਉਤਪਾਦਨ ਵਿੱਚ ਵਾਧਾ ਹੋ ਜਾਵੇਗਾ। ਇਸ ਉਦਾਹਰਨ ਨਾਲ ਸਾਡੇ ਕੋਲ ਦੋ ਵਿਕਲਪ ਹਨ:

- (1) ਕੱਪੜਾ ਅਤੇ ਕਣਕ ਦਾ ਉਸੀ ਮਾਤਰਾ ਵਿੱਚ ਉਤਪਾਦਨ ਕਰਦੇ ਰਹੋ।
- (2) ਕਣਕ ਦੀ ਮੰਗ ਵਿੱਚ ਵਾਧਾ ਹੋਣ ਕਾਰਨ ਉਸ ਦਾ ਜ਼ਿਆਦਾ ਉਤਪਾਦਨ ਕਰੋ, ਇਸ ਕਾਰਨ ਕੱਪੜੇ ਦੀ ਕੁਝ ਮਾਤਰਾ ਘੱਟ ਕਰ ਦਿਓ।

ਕਿਉਂਕਿ ਅਰਥਵਿਵਸਥਾ ਨੂੰ ਜ਼ਿਆਦਾ ਕਣਕ ਦੀ ਜ਼ਰੂਰਤ ਹੈ, ਅਰਥਸ਼ਾਸਤਰ ਦਾ ਅਧਿਐਨ ਸਾਨੂੰ ਦੱਸਦਾ ਹੈ ਕਿ ਸੀਮਤ ਸਰੋਤਾਂ ਨਾਲ ਇਸ ਸਮੱਸਿਆ ਦਾ ਸਮਾਧਾਨ ਕਿਵੇਂ ਕੀਤਾ ਜਾ ਸਕਦਾ ਹੈ।

- (3) ਵੀਹਵੀਂ ਸਦੀ ਵਿੱਚ ਪੂਰੀ ਅਰਥਵਿਵਸਥਾ ਦਾ ਵਾਧਾ ਅਤੇ ਵਿਕਾਸ ਪ੍ਰਾਪਤ ਕਰਨ ਦੇ ਉਦੇਸ਼ ਨੇ ਗਤੀ ਫੜੀ। ਆਰਥਿਕ ਵਾਧੇ ਅਤੇ ਵਿਕਾਸ ਵਿੱਚ ਸਰਕਾਰ ਦੀ ਭੂਮਿਕਾ ਅਤਿਅੰਤ ਮਹੱਤਵਪੂਰਨ ਹੋ ਗਈ। ਇਸ ਲਈ ਅਰਥਸ਼ਾਸਤਰ ਹੁਣ ਕੇਵਲ ਵਿਅਕਤੀਗਤ ਫੈਸਲੇ ਲੈਣ ਅਤੇ ਸਰੋਤਾਂ ਦੇ ਪ੍ਰਯੋਗ ਤੱਕ ਹੀ ਸੀਮਤ ਨਹੀਂ ਰਹਿ ਗਿਆ। ਸਮੇਂ ਨਾਲ ਵਸਤਾਂ ਦੇ ਉਤਪਾਦਨ ਅਤੇ ਉਪਭੋਗ ਨੂੰ ਸ਼ਾਮਲ ਕਰਕੇ ਇਸ ਖੇਤਰ ਵਿੱਚ ਵਿਸਥਾਰ ਕੀਤਾ ਗਿਆ ਤਾਂ ਕਿ ਅਰਥਵਿਵਸਥਾ ਵਿੱਚ ਵਾਧਾ ਅਤੇ ਵਿਕਾਸ ਹੋ ਸਕੇ।

ਮੈਂਡਿਊਲ: 1

ਅਰਥਸ਼ਾਸਤਰ ਨੂੰ ਸਮਝਣਾ



ਨੋਟ



ਨੋਟ

ਇਸ ਲਈ ਅਰਥਸ਼ਾਸਤਰ ਨੂੰ ਵਾਧੇ ਅਤੇ ਵਿਕਾਸ ਦਾ ਵਿਗਿਆਨ ਕਿਹਾ ਗਿਆ ਹੈ। ਅਸਲ ਵਿੱਚ ਇਹ ਸੱਚ ਹੈ ਕਿ ਅੱਜਕੱਲ੍ਹ ਲੋਕ ਵਿਅਕਤੀਆਂ ਅਤੇ ਪੂਰੇ ਦੇਸ਼ ਦੇ ਕਲਿਆਣ ਬਾਰੇ ਗੱਲ ਕਰਦੇ ਹਨ। ਇਹ ਸਮਝਿਆ ਜਾਂਦਾ ਹੈ ਕਿ ਕਿਸੇ ਵਿਅਕਤੀ ਨੂੰ ਆਪਣੀਆਂ ਜ਼ਰੂਰਤਾਂ ਦੀ ਪੂਰਤੀ ਕਰਨ ਦੇ ਯੋਗ ਬਣਾਉਣ ਲਈ ਇਹ ਲਾਜ਼ਮੀ ਹੈ ਕਿ ਪੂਰੀ ਅਰਥਵਿਵਸਥਾ ਵਿੱਚ ਵਾਧਾ ਹੋਣਾ ਚਾਹੀਦਾ ਹੈ ਅਤੇ ਵਾਧੇ ਦੇ ਲਾਭਾਂ ਨੂੰ ਵਿਅਕਤੀਗਤ ਨਾਗਰਿਕਾਂ ਵਿੱਚ ਵੰਡਣ ਲਈ ਢੁੱਕਵੇਂ ਸਾਧਨ ਹੋਣੇ ਚਾਹੀਦੇ ਹਨ। ਇਸ ਲਈ ਸਰੋਤਾਂ ਦੇ ਪ੍ਰਯੋਗ ਅਤੇ ਵਸਤਾਂ ਅਤੇ ਸੇਵਾਵਾਂ ਦੇ ਉਤਪਾਦਨ ਅਤੇ ਵੰਡ ਦੇ ਸਬੰਧ ਵਿੱਚ ਅਰਥਵਿਵਸਥਾ ਨੂੰ ਲਾਗੂ ਕਰਨਾ ਮਹੱਤਵਪੂਰਨ ਹੈ। ਅਰਥਵਿਵਸਥਾ ਨੂੰ ਆਪਣੇ ਸਰੋਤਾਂ ਦੀਆਂ ਵਿਭਿੰਨ ਵਿਕਲਪਿਕ ਗਤੀਵਿਧੀਆਂ ਵਿੱਚ ਵੰਡਣ, ਕੁਸ਼ਲ ਪ੍ਰਯੋਗ ਯਕੀਨੀ ਕਰਨਾ ਚਾਹੀਦਾ ਹੈ ਅਤੇ ਅਰਥਵਿਵਸਥਾ ਦੇ ਭਵਿੱਖੀ ਵਿਕਾਸ ਲਈ ਇਸ ਵਿੱਚ ਵਾਧਾ ਕਿਸ ਤਰ੍ਹਾਂ ਹੋਵੇਗਾ, ਇਸ ਦੇ ਤਰੀਕੇ ਲੱਭਣੇ ਚਾਹੀਦੇ ਹਨ। ਇਸ ਆਧਾਰ 'ਤੇ ਵਿਸ਼ਵ ਦੀਆਂ ਅਨੇਕ ਵਿਵਸਥਾਵਾਂ ਨੂੰ ਲਾਗੂ ਕਰਨਾ ਚੰਗਾ ਰਿਹਾ ਹੈ। ਉਦਾਹਰਨ ਲਈ ਸੰਯੁਕਤ ਰਾਜ (ਯੂਐੱਸਏ), ਯੂਰਪੀ ਦੇਸ਼, ਜਾਪਾਨ ਆਦਿ ਨੂੰ ਵਿਕਸਤ ਅਰਥਵਿਵਸਥਾਵਾਂ ਕਿਹਾ ਜਾਂਦਾ ਹੈ ਕਿਉਂਕਿ ਇਨ੍ਹਾਂ ਨੇ ਆਪਣੇ ਨਾਗਰਿਕਾਂ ਲਈ ਆਮਦਨ ਦੇ ਉੱਚ ਪੱਧਰ ਨੂੰ ਪ੍ਰਾਪਤ ਕੀਤਾ ਹੈ। ਸਾਡੀ ਭਾਰਤੀ ਅਰਥਵਿਵਸਥਾ ਵਿਕਾਸਸ਼ੀਲ ਅਰਥਵਿਵਸਥਾ ਹੈ ਕਿਉਂਕਿ ਇਸ ਦੇ ਅਨੇਕ ਨਾਗਰਿਕ ਅਜੇ ਵੀ ਗਰੀਬ ਹਨ। ਅਰਥਸ਼ਾਸਤਰ ਦਾ ਅਧਿਐਨ ਸਾਨੂੰ ਆਪਣੀ ਅਰਥਵਿਵਸਥਾ ਦੀ ਸਥਿਤੀ ਬਾਰੇ ਗਿਆਨ ਕਰਾਉਂਦਾ ਹੈ ਅਤੇ ਵਾਧੇ ਅਤੇ ਵਿਕਾਸ ਦੇ ਉੱਚੇ ਪੱਧਰ ਨੂੰ ਪ੍ਰਾਪਤ ਕਰਨ ਵਿੱਚ ਮਾਰਗਦਰਸ਼ਨ ਕਰਦਾ ਹੈ।

- (4) ਵੀਹਵੀਂ ਸਦੀ ਦੇ ਅੰਤ ਦੇ ਅਰਥਸ਼ਾਸਤਰੀਆਂ ਨੇ ਭਵਿੱਖੀ ਪੀੜ੍ਹੀਆਂ ਦੇ ਕਲਿਆਣ ਅਤੇ ਵਾਤਾਵਰਣ ਦੀ ਸੁਰੱਖਿਆ ਦੇ ਵਿਸ਼ੇ ਵਿੱਚ ਵੀ ਗੱਲ ਕਰਨੀ ਸ਼ੁਰੂ ਕਰ ਦਿੱਤੀ ਹੈ। ਇਸ ਲਈ ਅਰਥਸ਼ਾਸਤਰ ਨੂੰ ਟਿਕਾਊ ਵਿਕਾਸ ਦਾ ਵਿਗਿਆਨ ਵੀ ਕਿਹਾ ਜਾਂਦਾ ਹੈ। ਵਾਧੇ ਅਤੇ ਵਿਕਾਸ ਦਾ ਉੱਚ ਪੱਧਰ ਪ੍ਰਾਪਤ ਕਰਨ ਲਈ ਸਾਰੇ ਵਿਸ਼ਵ ਦੀਆਂ ਅਰਥਵਿਵਸਥਾਵਾਂ ਕੁਦਰਤੀ ਸਰੋਤਾਂ ਦਾ ਸ਼ੋਸ਼ਣ ਕਰਕੇ ਵਾਤਾਵਰਣ ਨੂੰ ਪ੍ਰਦੂਸ਼ਿਤ ਕਰ ਰਹੀਆਂ ਹਨ। ਵਸਤਾਂ ਅਤੇ ਸੇਵਾਵਾਂ ਦੇ ਉਪਭੋਗ ਦੇ ਨਤੀਜੇ ਵਜੋਂ ਅਨੇਕ ਵਿਅਰਥ ਪਦਾਰਥ ਵੀ ਉਤਪੰਨ ਹੋਏ ਹਨ। ਧਿਆਨ ਦਿਓ ਕਿ ਕੁਝ ਸਰੋਤਾਂ ਜਿਵੇਂ ਖਣਿਜ, ਖਣਿਜ ਤੇਲ, ਵਣ, ਵਰਤਮਾਨ ਪੀੜ੍ਹੀਆਂ ਵੱਲੋਂ ਉਨ੍ਹਾਂ ਦੇ ਵਧਦੇ ਹੋਏ ਉਪਯੋਗ ਕਾਰਨ ਉਨ੍ਹਾਂ ਦਾ ਤੀਬਰ ਗਤੀ ਨਾਲ ਨੁਕਸਾਨ ਹੋ ਰਿਹਾ ਹੈ। ਇਸ ਲਈ ਭਵਿੱਖੀ ਪੀੜ੍ਹੀਆਂ ਲਈ ਸਰੋਤ ਘਟ ਰਹਿ ਜਾਣਗੇ ਜਾਂ ਬਚਣਗੇ ਹੀ ਨਹੀਂ। ਉਪਲੱਬਧ ਘਾਟ ਸਰੋਤਾਂ ਦਾ ਤਰਕਸੰਗਤ,

ਅਰਥਸ਼ਾਸਤਰ ਕੀ ਹੈ

ਕੁਸ਼ਲਤਾਪੂਰਬਕ ਪ੍ਰਯੋਗ ਕਰਨਾ ਅਤੇ ਭਵਿੱਖੀ ਪੀੜ੍ਹੀਆਂ ਦਾ ਕਲਿਆਣ ਯਕੀਨੀ ਕਰਨਾ ਸਾਡਾ ਨੈਤਿਕ ਕਰੱਤਵ ਹੈ।

ਪਾਠ ਅਧੀਨ ਪ੍ਰਸ਼ਨ 1.1

‘ਅਰਥਸ਼ਾਸਤਰ ਧਨ ਦਾ ਵਿਗਿਆਨ ਹੈ?’ ਇਸ ਦਾ ਕੀ ਭਾਵ ਹੈ?

1. ਅਰਥਸ਼ਾਸਤਰ ਕਲਿਆਣ ਦੇ ਵਿਗਿਆਨ ਦੇ ਰੂਪ ਵਿੱਚ ਕਲਿਆਣ ਦੇ ਕਿਸ ਪਹਿਲੂ ਦੀ ਗੱਲ ਕਰਦਾ ਹੈ?

1.1 ਅਰਥਸ਼ਾਸਤਰ ਦੀਆਂ ਸ਼ਾਖਾਵਾਂ

ਅਰਥਸ਼ਾਸਤਰ ਦੇ ਅਧਿਐਨ ਨੂੰ ਦੋ ਵਿਭਿੰਨ ਸ਼ਾਖਾਵਾਂ ਵਿੱਚ ਵੰਡਿਆ ਜਾਂਦਾ ਹੈ। ਉਹ ਹਨ:

- (1) ਸੂਖਮ ਅਰਥਸ਼ਾਸਤਰ
- (2) ਮੈਕਰੋ ਅਰਥਸ਼ਾਸਤਰ

1.1.1 ਸੂਖਮ ਅਰਥਸ਼ਾਸਤਰ (Micro Economics)

‘Micro’ ਸ਼ਬਦ ਦਾ ਅਰਥ ਬੇਹੱਦ ਸੂਖਮ ਹੁੰਦਾ ਹੈ। ਇਸ ਲਈ ਸੂਖਮ ਅਰਥਸ਼ਾਸਤਰ ਬੇਹੱਦ ਸੂਖਮ ਪੱਧਰ ’ਤੇ ਅਰਥਸ਼ਾਸਤਰ ਦੇ ਅਧਿਐਨ ਦਾ ਅਰਥ ਪ੍ਰਗਟ ਕਰਦਾ ਹੈ। ਇਸ ਦਾ ਵਾਸਤਵਿਕ ਅਰਥ ਕੀ ਹੈ? ਇੱਕ ਸਮਾਜ ਜਿਸ ਵਿੱਚ ਸਮੂਹਿਕ ਰੂਪ ਨਾਲ ਅਨੇਕ ਵਿਅਕਤੀ ਸ਼ਾਮਲ ਹਨ, ਹਰੇਕ ਇਕੱਲਾ ਵਿਅਕਤੀ ਉਸ ਦਾ ਇੱਕ ਸੂਖਮ ਭਾਗ ਹੈ। ਇਸ ਲਈ ਇੱਕ ਵਿਅਕਤੀ ਵੱਲੋਂ ਲਏ ਗਏ ਆਰਥਿਕ ਫੈਸਲੇ ਸੂਖਮ ਅਰਥਸ਼ਾਸਤਰ ਦਾ ਵਿਸ਼ਾ ਵਸਤੂ ਹੋ ਜਾਂਦੇ ਹਨ। ਇੱਕ ਵਿਅਕਤੀ ਵੱਲੋਂ ਲਏ ਜਾਣ ਵਾਲੇ ਫੈਸਲੇ ਕੀ ਹਨ? ਅਸੀਂ ਇਸ ਸਬੰਧ ਵਿੱਚ ਕੁਝ ਉਦਾਹਰਨਾਂ ਦਾ ਜ਼ਿਕਰ ਕਰ ਸਕਦੇ ਹਾਂ।

(ਉ) ਵਿਭਿੰਨ ਜ਼ਰੂਰਤਾਂ ਦੀ ਪੂਰਤੀ ਲਈ ਵਿਅਕਤੀ ਵਸਤਾਂ ਅਤੇ ਸੇਵਾਵਾਂ ਖਰੀਦਦਾ ਹੈ। ਵਸਤਾਂ ਅਤੇ ਸੇਵਾਵਾਂ ਖਰੀਦਣ ਲਈ ਵਿਅਕਤੀ ਨੂੰ ਆਪਣੀ ਆਮਦਨ ਦੀ ਸੀਮਤ ਰਾਸ਼ੀ ਵਿੱਚੋਂ ਕੁਝ ਕੀਮਤ ਦਾ ਭੁਗਤਾਨ ਕਰਨਾ ਪੈਂਦਾ ਹੈ। ਇਸ ਲਈ ਵਿਅਕਤੀ ਨੂੰ ਦਿੱਤੀ ਗਈ ਕੀਮਤ ’ਤੇ ਵਸਤੂ ਦੀ ਖਰੀਦੀ ਜਾਣ ਵਾਲੀ ਮਾਤਰਾ ਬਾਰੇ ਫੈਸਲਾ ਲੈਣਾ ਪੈਂਦਾ ਹੈ। ਉਸ ਨੂੰ ਦਿੱਤੀ ਗਈ ਆਮਦਨ ਵਿੱਚ ਖਰੀਦੀਆਂ ਜਾਣ ਵਾਲੀਆਂ ਵਿਭਿੰਨ ਵਸਤਾਂ ਦੇ ਸੰਜੋਗ ਦਾ ਵੀ ਫੈਸਲਾ ਲੈਣਾ ਪੈਂਦਾ ਹੈ ਤਾਂ ਕਿ ਖਰੀਦਦਾਰ ਦੇ ਰੂਪ ਵਿੱਚ ਉਸ ਨੂੰ ਵੱਧ ਤੋਂ ਵੱਧ ਸੰਤੁਸ਼ਟੀ ਪ੍ਰਾਪਤ ਹੋ ਸਕੇ।

ਮੈਂਡਿਊਲ: 1

ਅਰਥਸ਼ਾਸਤਰ ਨੂੰ ਸਮਝਣਾ



ਨੋਟ



ਨੋਟ

- (ਅ) ਇੱਕ ਵਿਅਕਤੀ ਵਿਕਰੇਤਾ ਦੇ ਰੂਪ ਵਿੱਚ ਵਸਤਾਂ ਅਤੇ ਸੇਵਾਵਾਂ ਦਾ ਵਿਕਰੀ ਵੀ ਕਰਦਾ ਹੈ। ਇੱਥੇ ਉਸ ਨੂੰ ਦਿੱਤੀ ਗਈ ਕੀਮਤ 'ਤੇ ਵਸਤੂ ਦੀ ਸਪਲਾਈ ਦੀ ਮਾਤਰਾ ਬਾਰੇ ਫੈਸਲਾ ਲੈਣਾ ਪੈਂਦਾ ਹੈ ਤਾਂ ਕਿ ਉਹ ਕੁਝ ਲਾਭ ਕਮਾ ਸਕੇ।
- (ਬ) ਅਸੀਂ ਸਾਰੇ ਕਿਸੇ ਵਸਤੂ ਨੂੰ ਖਰੀਦਣ ਲਈ ਕੀਮਤ ਦਾ ਭੁਗਤਾਨ ਕਰਦੇ ਹਾਂ। ਬਾਜ਼ਾਰ ਵਿੱਚ ਇਸ ਕੀਮਤ ਦਾ ਨਿਰਧਾਰਨ ਕਿਵੇਂ ਹੁੰਦਾ ਹੈ? ਸੂਖਮ ਅਰਥਸ਼ਾਸਤਰ ਇਸ ਪ੍ਰਸ਼ਨ ਦਾ ਉਤਰ ਦਿੰਦਾ ਹੈ।
- (ਸ) ਕਿਸੇ ਵਸਤੂ ਦਾ ਉਤਪਾਦਨ ਕਰਨ ਲਈ ਵਿਅਕਤੀਗਤ ਉਤਪਾਦਕ ਨੂੰ ਫੈਸਲਾ ਲੈਣਾ ਪੈਂਦਾ ਹੈ ਕਿ ਉਹ ਉਤਪਾਦਨ ਦੇ ਵਿਭਿੰਨ ਸਾਧਨਾਂ ਨੂੰ ਕਿਸ ਤਰ੍ਹਾਂ ਸੰਯੋਜਿਤ ਕਰੇ ਜਿਸ ਨਾਲ ਕਿ ਘੱਟ ਤੋਂ ਘੱਟ ਲਾਗਤ 'ਤੇ ਵੱਧ ਤੋਂ ਵੱਧ ਉਤਪਾਦਨ ਕਰ ਸਕੇ।

ਇਹ ਸਾਰੇ ਸੂਖਮ ਅਰਥਸ਼ਾਸਤਰ ਤਹਿਤ ਅਧਿਐਨ ਦੇ ਕੁਝ ਮੁੱਖ ਖੇਤਰ ਹਨ।

1.1.2 ਮੈਕਰੋ ਅਰਥਸ਼ਾਸਤਰ (Macro Economics)

'Macro' ਸ਼ਬਦ ਦਾ ਅਰਥ ਹੈ- ਬਹੁਤ ਵੱਡਾ। ਇੱਕ ਵਿਅਕਤੀ ਦੀ ਤੁਲਨਾ ਵਿੱਚ ਸਮਾਜ ਜਾਂ ਦੇਸ਼ ਜਾਂ ਸੰਪੂਰਨ ਅਰਥਵਿਵਸਥਾ ਬਹੁਤ ਵੱਡੀ ਹੈ। ਇਸ ਲਈ ਸੰਪੂਰਨ ਅਰਥਵਿਵਸਥਾ ਦੇ ਪੱਧਰ 'ਤੇ ਲਏ ਗਏ ਫੈਸਲੇ ਮੈਕਰੋ ਅਰਥਵਿਵਸਥਾ ਦਾ ਵਿਸ਼ਾ ਵਸਤੂ ਹਨ। ਸਰਕਾਰ ਵੱਲੋਂ ਲਏ ਗਏ ਆਰਥਿਕ ਫੈਸਲਿਆਂ ਦਾ ਉਦਾਹਰਨ ਲਓ। ਅਸੀਂ ਸਾਰੇ ਜਾਣਦੇ ਹਾਂ ਕਿ ਸਰਕਾਰ ਪੂਰੇ ਦੇਸ਼ ਦੀ ਪ੍ਰਤੀਨਿਧਤਾ ਕਰਦੀ ਹੈ, ਸਿਰਫ਼ ਇੱਕ ਵਿਅਕਤੀ ਦੀ ਨਹੀਂ। ਇਸ ਲਈ ਸਰਕਾਰ ਵੱਲੋਂ ਲਏ ਗਏ ਫੈਸਲੇ ਸੰਪੂਰਨ ਸਮਾਜ ਦੀਆਂ ਸਮੱਸਿਆਵਾਂ ਨੂੰ ਹੱਲ ਕਰਨ ਲਈ ਹੁੰਦੇ ਹਨ। ਉਦਾਹਰਨ ਲਈ ਸਰਕਾਰ ਕਰਾਂ ਨੂੰ ਇਕੱਤਰ ਕਰਨ, ਜਨਤਕ ਵਸਤਾਂ 'ਤੇ ਖਰਚ ਕਰਨ ਅਤੇ ਕਲਿਆਣ ਨਾਲ ਸਬੰਧਿਤ ਗਤੀਵਿਧੀਆਂ ਆਦਿ ਬਾਰੇ ਨੀਤੀਆਂ ਬਣਾਉਂਦੀ ਹੈ ਜੋ ਪੂਰੀ ਅਰਥਵਿਵਸਥਾ ਨੂੰ ਪ੍ਰਭਾਵਿਤ ਕਰਦੀ ਹੈ। 'ਇਹ ਨੀਤੀਆਂ ਕਿਸ ਤਰ੍ਹਾਂ ਕਾਰਜ ਕਰਦੀਆਂ ਹਨ' ਮੈਕਰੋ ਅਰਥਸ਼ਾਸਤਰ ਦਾ ਵਿਸ਼ਾ ਵਸਤੂ ਹਨ।

ਮੈਕਰੋ ਅਰਥਸ਼ਾਸਤਰ ਵਿੱਚ ਅਸੀਂ ਇੱਕ ਵਿਅਕਤੀ ਦੇ ਵਿਵਹਾਰ ਦਾ ਖਰੀਦਦਾਰ ਅਤੇ ਵਿਕਰੇਤਾ ਦੇ ਰੂਪ ਵਿੱਚ ਅਧਿਐਨ ਕਰਦੇ ਹਾਂ। ਇੱਕ ਖਰੀਦਦਾਰ ਦੇ ਰੂਪ ਵਿੱਚ ਵਿਅਕਤੀ ਵਸਤੂ ਅਤੇ ਸੇਵਾਵਾਂ 'ਤੇ ਧਨ/ਮੁਦਰਾ ਖਰਚ ਕਰਦਾ ਹੈ ਜੋ ਉਸ ਦਾ ਉਪਭੋਗ ਖਰਚ ਕਰਾਉਂਦਾ ਹੈ। ਜੇਕਰ ਅਸੀਂ ਸਾਰੇ ਵਿਅਕਤੀਆਂ ਦੇ ਉਪਭੋਗ ਖਰਚ ਨੂੰ ਜੋੜ ਦਈਏ ਤਾਂ ਸਾਨੂੰ ਸੰਪੂਰਨ ਸਮਾਜ ਦੇ ਸਮੁੱਚੇ ਉਪਭੋਗ ਖਰਚ ਦਾ ਗਿਆਨ ਪ੍ਰਾਪਤ ਹੁੰਦਾ ਹੈ। ਇਸੀ ਤਰ੍ਹਾਂ ਵਿਅਕਤੀਆਂ ਦੀ ਆਮਦਨ ਨੂੰ ਜੋੜ ਕੇ ਸੰਪੂਰਨ ਦੇਸ਼ ਦੀ ਆਮਦਨ ਜਾਂ ਰਾਸ਼ਟਰੀ ਆਮਦਨ ਪ੍ਰਾਪਤ ਹੋ ਜਾਂਦੀ ਹੈ। ਇਸ ਲਈ ਇਨ੍ਹਾਂ

ਅਰਥਸ਼ਾਸਤਰ ਕੀ ਹੈ

ਹਿੱਸਿਆਂ ਜਿਵੇਂ ਰਾਸ਼ਟਰੀ ਆਮਦਨ, ਦੇਸ਼ ਦਾ ਕੁੱਲ ਉਪਭੋਗ ਖਰਚ ਆਦਿ ਦਾ ਅਧਿਐਨ ਮੈਕਰੋ ਅਰਥਸ਼ਾਸਤਰ ਤਹਿਤ ਆਉਂਦਾ ਹੈ।

ਮੈਕਰੋ ਅਰਥਸ਼ਾਸਤਰ ਦਾ ਉਦਾਹਰਨ ਮਹਿੰਗਾਈ ਜਾਂ ਕੀਮਤ ਵਾਧਾ ਹੈ।

ਮਹਿੰਗਾਈ ਜਾਂ ਕੀਮਤਾਂ ਵਿੱਚ ਵਾਧਾ ਕੇਵਲ ਇੱਕ ਵਿਅਕਤੀ ਨੂੰ ਪ੍ਰਭਾਵਿਤ ਨਹੀਂ ਕਰਦਾ, ਬਲਕਿ ਇਹ ਸੰਪੂਰਨ ਅਰਥਵਿਵਸਥਾ ਨੂੰ ਪ੍ਰਭਾਵਿਤ ਕਰਦਾ ਹੈ। ਇਸ ਲਈ ਇਸ ਦੇ ਕਾਰਨਾਂ, ਪ੍ਰਭਾਵਾਂ ਨੂੰ ਜਾਣਨਾ ਅਤੇ ਇਸ ਨੂੰ ਕੰਟਰੋਲ ਕਰਨਾ ਵੀ ਮੈਕਰੋ ਅਰਥਸ਼ਾਸਤਰ ਦੇ ਅਧਿਐਨ ਤਹਿਤ ਆਉਂਦਾ ਹੈ।

ਇਸੀ ਤਰ੍ਹਾਂ ਬੇਰੁਜ਼ਗਾਰੀ ਦੀ ਸਮੱਸਿਆ, ਆਰਥਿਕ ਵਾਧਾ ਅਤੇ ਵਿਕਾਸ ਆਦਿ ਦੇਸ਼ ਦੀ ਸੰਪੂਰਨ ਜਨਸੰਖਿਆ ਨਾਲ ਸਬੰਧਿਤ ਹੁੰਦੇ ਹਨ, ਇਸ ਲਈ ਮੈਕਰੋ ਅਰਥਸ਼ਾਸਤਰ ਦੇ ਅਧਿਐਨ ਤਹਿਤ ਆਉਂਦੇ ਹਨ।

ਪਾਠ ਅਧੀਨ ਪ੍ਰਸ਼ਨ 1.2

ਦੱਸੋ ਕਿ ਨਿਮਨਲਿਖਤ ਕਥਨ ਸਹੀ ਹਨ ਜਾਂ ਗਲਤ :

- (1) ਮਹਿੰਗਾਈ ਦਾ ਅਧਿਐਨ ਸੂਖਮ ਅਰਥਸ਼ਾਸਤਰ ਤਹਿਤ ਕੀਤਾ ਜਾਂਦਾ ਹੈ।
- (2) ਕਿਸੇ ਵਸਤੂ ਦੀ ਕੀਮਤ ਦਾ ਨਿਰਧਾਰਨ ਮੈਕਰੋ ਅਰਥਸ਼ਾਸਤਰ ਦੀ ਸਮੱਸਿਆ ਹੈ।
- (3) ਮੈਕਰੋ ਅਰਥਸ਼ਾਸਤਰ ਰੁਜ਼ਗਾਰ ਅਤੇ ਬੇਰੁਜ਼ਗਾਰੀ ਮੁੱਦਿਆਂ ਦਾ ਅਧਿਐਨ ਕਰਦਾ ਹੈ।
- (4) ਸੂਖਮ ਅਰਥਸ਼ਾਸਤਰ ਕਿਸੇ ਵਸਤੂ ਦੇ ਖਰੀਦਣ ਬਾਰੇ ਵਿਅਕਤੀਗਤ ਫੈਸਲੇ ਲੈਣ ਦਾ ਅਧਿਐਨ ਕਰਦਾ ਹੈ।

1.2 ਵਾਸਤਵਿਕ ਬਨਾਮ ਆਦਰਸ਼ ਅਰਥਸ਼ਾਸਤਰ

ਅਰਥਸ਼ਾਸਤਰ ਦੇ ਅਧਿਐਨ ਵਿੱਚ ਸਾਡੇ ਚਰਚਿਆਂ ਪਾਸੇ ਹੋਣ ਵਾਲੀਆਂ ਘਟਨਾਵਾਂ, ਫੈਸਲੇ ਲੈਣ, ਨਿਯਮ ਅਤੇ ਵਿਵਸਥਾ ਬਣਾਉਣ ਅਤੇ ਆਰਥਿਕ ਸਮੱਸਿਆਵਾਂ ਨੂੰ ਹਲ ਕਰਨ ਲਈ ਨੀਤੀਆਂ ਲਾਗੂ ਕਰਨ ਦੇ ਸਬੰਧ ਵਿੱਚ ਵਾਸਤਵਿਕ ਅਤੇ ਆਦਰਸ਼ ਦੋਵੇਂ ਪਹਿਲੂ ਸ਼ਾਮਲ ਹੁੰਦੇ ਹਨ। ਵਾਸਤਵਿਕ ਅਰਥਸ਼ਾਸਤਰ 'ਕੀ ਹੈ' ਦੇ ਵਿਸ਼ੇ ਵਿੱਚ ਗੱਲ ਕਰਦਾ ਹੈ ਕਿ ਜਦੋਂਕਿ ਆਦਰਸ਼ ਅਰਥਸ਼ਾਸਤਰ 'ਕੀ ਹੋਣਾ ਚਾਹੀਦਾ ਹੈ' ਦੇ ਵਿਸ਼ੇ ਵਿੱਚ ਗੱਲ ਕਰਦਾ ਹੈ। ਵਾਸਤਵਿਕ ਅਰਥਸ਼ਾਸਤਰ ਆਰਥਿਕ ਵਿਸ਼ੇ ਵਿੱਚ ਜੋ ਰੁਝਾ ਹੋ ਰਿਹਾ ਹੈ ਜਾਂ ਹੋ ਸਕਦਾ ਹੈ, ਦੇ ਵਿਸ਼ੇ ਵਿੱਚ

ਮੈਂਡਿਊਲ: 1

ਅਰਥਸ਼ਾਸਤਰ ਨੂੰ ਸਮਝਣਾ



ਨੋਟ



ਨੋਟ

ਗੱਲ ਕਰਦਾ ਹੈ। ਆਦਰਸ਼ ਅਰਥਸ਼ਾਸਤਰ ਚੀਜ਼ਾਂ ਬਾਰੇ ਨੈਤਿਕ ਮੁੱਲਾਂਕਣ ਉਪਲੱਬਧ ਕਰਾਉਂਦਾ ਹੈ ਅਤੇ ਸਾਨੂੰ ਦੱਸਦਾ ਹੈ ਕਿ 'ਕੀ ਹੋਣਾ ਚਾਹੀਦਾ ਸੀ।' ਨਿਮਨਲਿਖਤ ਕਥਨਾਂ 'ਤੇ ਵਿਚਾਰ ਕਰੋ ;

- (1) ਭਾਰਤ ਦੀ ਜਨਸੰਖਿਆ 100 ਕਰੋੜ ਦੀ ਸੀਮਾ ਨੂੰ ਪਾਰ ਕਰ ਚੁੱਕੀ ਹੈ। ਭਾਰਤ ਵਿਸ਼ਵ ਵਿੱਚ ਦੂਜਾ ਸਭ ਤੋਂ ਵੱਡੀ ਜਨਸੰਖਿਆ ਵਾਲਾ ਦੇਸ਼ ਹੈ।
- (2) ਭਾਰਤ ਨੂੰ ਜਨਸੰਖਿਆ ਵਿੱਚ ਇੰਨੀ ਤੀਬਰ ਗਤੀ ਨਾਲ ਵਧਣ ਦੀ ਆਗਿਆ ਨਹੀਂ ਦੇਣੀ ਚਾਹੀਦੀ। ਉਸ ਨੂੰ ਆਪਣੀ ਜਨਸੰਖਿਆ 'ਤੇ ਕੰਟਰੋਲ ਰੱਖਣਾ ਚਾਹੀਦਾ ਹੈ।

ਕਥਨ (1) ਇੱਕ ਘਟਨਾ ਦਾ ਵਰਣਨ ਕਰਦਾ ਹੈ ਜੋ ਹੋ ਰਹੀ ਹੈ। ਇਹ ਇੱਕ ਵਾਸਤਵਿਕ ਕਥਨ ਹੈ।

ਕਥਨ (2) ਭਾਰਤ ਦੀ ਜਨਸੰਖਿਆ ਦਾ ਨੈਤਿਕ ਮੁਲਾਂਕਣ ਪ੍ਰਦਾਨ ਕਰਦਾ ਹੈ। ਇਹ ਇੱਕ ਆਦਰਸ਼ ਕਥਨ ਹੈ।

ਹੁਣ ਹੇਠ ਦਿੱਤੇ ਗਏ ਕਥਨਾਂ ਦੇ ਇੱਕ ਹੋਰ ਸਮੂਹ 'ਤੇ ਵਿਚਾਰ ਕਰੋ:

- (3) ਮਜ਼ਦੂਰ ਸਖ਼ਤ ਮਿਹਨਤ ਕਰਨਗੇ, ਜੇਕਰ ਉਨ੍ਹਾਂ ਨੂੰ ਜ਼ਿਆਦਾ ਮਜ਼ਦੂਰੀ ਦਿੱਤੀ ਜਾਵੇ।
- (4) ਸਖ਼ਤ ਮਿਹਨਤ ਲਈ ਨਿਆਂ ਪ੍ਰਦਾਨ ਕਰਨ ਲਈ ਫੈਕਟਰੀਆਂ ਨੂੰ ਮਜ਼ਦੂਰਾਂ ਦੀ ਮਜ਼ਦੂਰੀ ਦੀ ਦਰ ਵਿੱਚ ਵਾਧਾ ਕਰਨਾ ਚਾਹੀਦਾ ਹੈ।

ਕਥਨ (3) ਇੱਕ ਵਾਸਤਵਿਕ ਕਥਨ ਹੈ। ਇਹ ਇੱਕ ਨਿਸ਼ਚਤ ਤੱਥ ਬਾਰੇ ਦੱਸਦਾ ਹੈ।

ਕਥਨ (4) ਆਦਰਸ਼ ਪ੍ਰਕਿਰਤੀ ਦਾ ਹੈ ਕਿਉਂਕਿ ਇਹ ਸਹੀ ਚੀਜ਼ ਬਾਰੇ ਦੱਸਦਾ ਹੈ ਜੋ ਜੇਕਰ ਹੁੰਦੀ ਹੈ ਤਾਂ ਸਮਾਜ ਲਈ ਚੰਗਾ ਹੋਵੇਗਾ।

ਵਿਅਕਤੀਆਂ ਜਾਂ ਸਰਕਾਰ ਜਾਂ ਕਾਰੋਬਾਰੀ ਫਰਮਾਂ ਵੱਲੋਂ ਆਰਥਿਕ ਫੈਸਲੇ ਲੈਣ ਵਿੱਚ ਚੀਜ਼ਾਂ ਦੇ ਵਾਸਤਵਿਕ ਅਤੇ ਆਦਰਸ਼ ਦੋਵੇਂ ਪਹਿਲੂ ਸ਼ਾਮਲ ਰਹਿੰਦੇ ਹਨ।

ਉਦਾਹਰਨ ਲਈ ਕਥਨ (1) ਅਤੇ (2) ਵਿੱਚ ਦਿੱਤੇ ਗਏ ਅਨੁਸਾਰ ਕਿਉਂਕਿ ਭਾਰਤ ਦੀ ਜਨਸੰਖਿਆ ਵਿੱਚ ਤੀਬਰ ਗਤੀ ਨਾਲ ਵਾਧਾ ਹੋ ਰਿਹਾ ਹੈ ਅਤੇ ਸਮੱਸਿਆਵਾਂ ਖੜ੍ਹੀਆਂ ਹੋ ਰਹੀਆਂ ਹਨ, ਸਰਕਾਰ ਪਰਿਵਾਰ ਨਿਯੰਤਰਨ ਅਤੇ ਹੋਰ ਪ੍ਰਭਾਵਸ਼ਾਲੀ ਉਪਾਵਾਂ ਰਾਹੀਂ ਜਨਸੰਖਿਆ ਵਾਧੇ ਦੇ ਕੰਟਰੋਲ ਲਈ ਬਹੁਤ ਯਤਨ ਕਰ ਰਹੀ ਹੈ। ਇਸੀ ਤਰ੍ਹਾਂ ਕਥਨ (3) ਅਤੇ (4) ਦੇ ਆਧਾਰ 'ਤੇ ਸਰਕਾਰ ਨੇ ਘੱਟ ਤੋਂ ਘੱਟ ਮਜ਼ਦੂਰੀ ਕਾਨੂੰਨਾਂ ਨੂੰ ਲਾਗੂ ਕੀਤਾ ਹੈ ਤਾਂ ਕਿ ਮਜ਼ਦੂਰਾਂ ਨੂੰ ਨਿਆਂ ਮਿਲ ਸਕੇ।

ਪਾਠ ਅਧੀਨ ਪ੍ਰਸ਼ਨ 1.3

1. ਨਿਮਨਲਿਖਤ ਕਥਨਾਂ ਵਿੱਚ ਵਾਸਤਵਿਕ ਅਤੇ ਆਦਰਸ਼ ਕਥਨ ਦੀ ਪਛਾਣ ਕਰੋ:
 - (1) ਭਾਰਤ ਵਿੱਚ ਵੱਡੀ ਗਿਣਤੀ ਵਿੱਚ ਗਰੀਬ ਲੋਕ ਹਨ।
 - (2) ਸਰਕਾਰ ਨੂੰ ਸਿੱਖਿਆ 'ਤੇ ਜ਼ਿਆਦਾ ਖਰਚ ਕਰਨਾ ਚਾਹੀਦਾ ਹੈ।
 - (3) ਗਰੀਬ ਲੋਕ ਲਾਜ਼ਮੀ ਵਸਤਾਂ ਦੀਆਂ ਕੀਮਤਾਂ ਵਿੱਚ ਵਾਧੇ ਕਾਰਨ ਕਸ਼ਟ ਉਠਾ ਰਹੇ ਹਨ।
 - (4) ਬੈਂਕ ਨੇ ਆਪਣੀ ਵਿਆਜ ਦੀ ਦਰ ਨੂੰ ਵਧਾ ਦਿੱਤਾ ਹੈ।
 - (5) ਲੋਕਾਂ ਨੂੰ ਡਾਕਖਾਨੇ ਅਤੇ ਵਪਾਰਕ ਬੈਂਕਾਂ ਵਿੱਚ ਬੱਚਤ ਕਰਨ ਲਈ ਉਤਸ਼ਾਹਿਤ ਕਰਨਾ ਚਾਹੀਦਾ ਹੈ।

ਤੁਸੀਂ ਕੀ ਸਿੱਖਿਆ

- ਅਰਥਸ਼ਾਸਤਰ ਨੂੰ ਸਮਾਜਿਕ ਵਿਗਿਆਨ ਦੇ ਵਿਸ਼ੇ ਵਸਤੂ ਦੇ ਰੂਪ ਵਿੱਚ ਇਨ੍ਹਾਂ ਦਾ ਵਿਗਿਆਨ ਕਿਹਾ ਗਿਆ ਹੈ- (ੳ) ਧਨ (ਅ) ਕਲਿਆਣ (ੲ) ਸੀਮਤ ਅਤੇ ਚੋਣ (ਸ) ਵਾਧਾ ਅਤੇ ਵਿਕਾਸ ਅਤੇ (ਹ) ਸਥਿਰ ਵਿਕਾਸ
- ਸੂਖਮ ਅਰਥਸ਼ਾਸਤਰ ਅਤੇ ਮੈਕਰੋ ਅਰਥਸ਼ਾਸਤਰ, ਅਰਥਸ਼ਾਸਤਰ ਦੀਆਂ ਦੋ ਮਹੱਤਵਪੂਰਨ ਸ਼ਾਖਾਵਾਂ ਹਨ।
- ਸੂਖਮ ਅਰਥਸ਼ਾਸਤਰ ਵਿਅਕਤੀਆਂ ਅਤੇ ਸੰਸਥਾਵਾਂ ਵੱਲੋਂ ਫੈਸਲੇ ਲੈਣ ਬਾਰੇ ਅਧਿਐਨ ਕਰਦਾ ਹੈ।
- ਮੈਕਰੋ ਅਰਥਸ਼ਾਸਤਰ ਸੰਪੂਰਨ ਅਰਥਵਿਵਸਥਾ ਦੇ ਪੱਧਰ 'ਤੇ ਆਰਥਿਕ ਸਮੁੱਚਤਾ ਦਾ ਅਧਿਐਨ ਕਰਦਾ ਹੈ।
- ਆਰਥਿਕ ਤੱਥ ਅਤੇ ਅੰਕਾਂ ਨੂੰ ਵਾਸਤਵਿਕ ਅਰਥਸ਼ਾਸਤਰ ਕਹਿੰਦੇ ਹਨ।
- ਆਦਰਸ਼ ਅਰਥਸ਼ਾਸਤਰ 'ਕੀ ਹੋਣਾ ਚਾਹੀਦਾ ਹੈ' ਦਾ ਅਧਿਐਨ ਕਰਦਾ ਹੈ।

ਪਾਠ ਦੇ ਅੰਤ ਦੇ ਪ੍ਰਸ਼ਨ

1. ਅਰਥਸ਼ਾਸਤਰ ਸੀਮਤ ਅਤੇ ਚੋਣ ਦਾ ਵਿਗਿਆਨ ਹੈ। ਵਿਆਖਿਆ ਕਰੋ।

ਮੈਂਡਿਊਲ: 1

ਅਰਥਸ਼ਾਸਤਰ ਨੂੰ ਸਮਝਣਾ



ਨੋਟ

ਮੌਡਿਊਲ: 1

ਅਰਥਸ਼ਾਸਤਰ ਨੂੰ ਸਮਝਣਾ



ਨੋਟ

ਅਰਥਸ਼ਾਸਤਰ ਕੀ ਹੈ

2. ਅਰਥਸ਼ਾਸਤਰ ਦੀ ਧਨ ਸਬੰਧੀ ਪਰਿਭਾਸ਼ਾ ਕਲਿਆਣ ਸਬੰਧੀ ਪਰਿਭਾਸ਼ਾ ਤੋਂ ਕਿਸ ਤਰ੍ਹਾਂ ਭਿੰਨ ਹੈ?
3. ਸੂਖਮ ਅਰਥਸ਼ਾਸਤਰ ਅਤੇ ਮੈਕਰੋ ਅਰਥਸ਼ਾਸਤਰ ਵਿੱਚ ਅੰਤਰ ਦਰਸਾਓ।
4. ਵਾਸਤਵਿਕ ਅਰਥਸ਼ਾਸਤਰ ਅਤੇ ਆਦਰਸ਼ ਅਰਥਸ਼ਾਸਤਰ ਵਿੱਚ ਉਦਾਹਰਨ ਦੇ ਕੇ ਅੰਤਰ ਸਪੱਸ਼ਟ ਕਰੋ।

ਪ੍ਰਸ਼ਨਾਂ ਦੇ ਉੱਤਰ

ਪਾਠ ਅਧੀਨ ਪ੍ਰਸ਼ਨ 1.1 ਦੇ ਉੱਤਰ

1. ਧਨ ਦੇ ਵਿਗਿਆਨ ਦੇ ਰੂਪ ਵਿੱਚ ਅਰਥਸ਼ਾਸਤਰ ਧਨ ਦੀ ਪ੍ਰਕਿਰਤੀ ਅਤੇ ਧਨ ਦੇ ਉਦੇਸ਼, ਵਿਅਕਤੀਆਂ ਅਤੇ ਦੇਸ਼ ਵੱਲੋਂ ਧਨ ਦੀ ਸਿਰਜਣਾ ਦੀ ਵਿਆਖਿਆ ਕਰਦਾ ਹੈ।
2. ਕਲਿਆਣ ਦਾ ਪਰਿਮਾਣਤਮਕ ਪਹਿਲੂ

ਪਾਠ ਅਧੀਨ ਪ੍ਰਸ਼ਨ 1.2 ਦੇ ਉੱਤਰ

- (1) ਗਲਤ
- (2) ਗਲਤ
- (3) ਸਹੀ
- (4) ਸਹੀ

ਪਾਠ ਅਧੀਨ ਪ੍ਰਸ਼ਨ 1.3 ਦੇ ਉੱਤਰ

- (1) ਵਾਸਤਵਿਕ
- (2) ਆਦਰਸ਼
- (3) ਵਾਸਤਵਿਕ
- (4) ਵਾਸਤਵਿਕ
- (5) ਆਦਰਸ਼

2

ਮਨੁੱਖੀ ਜ਼ਰੂਰਤਾਂ

ਅਸੀਂ ਆਪਣੇ ਰੋਜ਼ਾਨਾ ਜੀਵਨ ਵਿੱਚ ਦੇਖਦੇ ਹਾਂ ਕਿ ਲੋਕ ਵੱਖ-ਵੱਖ ਕਿਸਮ ਦੀਆਂ ਗਤੀਵਿਧੀਆਂ ਵਿੱਚ ਸ਼ਾਮਲ ਹੁੰਦੇ ਹਨ। ਉਦਾਹਰਨ ਲਈ ਕੁਝ ਲੋਕ ਖੇਤੀ ਵਿੱਚ ਸ਼ਾਮਲ ਹਨ, ਕੁਝ ਦਫ਼ਤਰਾਂ ਵਿੱਚ ਕੰਮ ਕਰਦੇ ਹਨ, ਕੁਝ ਸਬਜ਼ੀਆਂ ਵੇਚਦੇ ਹਨ, ਕੁਝ ਕੋਲ ਵਿਭਿੰਨ ਕਿਸਮ ਦੀਆਂ ਦੁਕਾਨਾਂ ਹਨ, ਕੁਝ ਫੈਕਟਰੀਆਂ ਚਲਾ ਰਹੇ ਹਨ ਆਦਿ। ਇਹ ਲੋਕ ਆਮਦਨ ਹਾਸਲ ਕਰਨ ਲਈ ਵਿਭਿੰਨ ਪ੍ਰਕਾਰ ਦੀਆਂ ਗਤੀਵਿਧੀਆਂ ਵਿੱਚ ਸ਼ਾਮਲ ਹਨ। ਉਨ੍ਹਾਂ ਨੂੰ ਆਮਦਨ ਹਾਸਲ ਕਰਨੀ ਪੈਂਦੀ ਹੈ ਕਿਉਂਕਿ ਉਨ੍ਹਾਂ ਨੂੰ ਅਨੇਕ ਜ਼ਰੂਰਤਾਂ ਦੀ ਪੂਰਤੀ ਕਰਨੀ ਪੈਂਦੀ ਹੈ।

ਆਮਦਨ ਹਾਸਲ ਕਰਨ ਲਈ ਲੋਕ ਮਨੁੱਖ ਨਿਰਮਤ ਜਾਂ ਕੁਦਰਤੀ ਸਰੋਤਾਂ ਦਾ ਪ੍ਰਯੋਗ ਕਰਦੇ ਹਨ। ਜ਼ਰੂਰਤਾਂ ਅਸੀਮਤ ਹਨ, ਪਰ ਸਰੋਤ ਸੀਮਤ ਹਨ।

ਉਦੇਸ਼

ਇਸ ਪਾਠ ਨੂੰ ਪੜ੍ਹਨ ਦੇ ਬਾਅਦ ਤੁਸੀਂ:

- ਜ਼ਰੂਰਤਾਂ ਦੇ ਅਰਥ ਦੀ ਵਿਆਖਿਆ ਕਰਨ;
- ਜ਼ਰੂਰਤਾਂ ਦਾ ਉਦੈ ਅਤੇ ਉਨ੍ਹਾਂ ਵਿੱਚ ਪ੍ਰਸਾਰ ਕਿਵੇਂ ਹੁੰਦਾ ਹੈ , ਦੀ ਵਿਆਖਿਆ ਕਰ ਸਕੋਗੇ;
- ਸਾਰੀਆਂ ਜ਼ਰੂਰਤਾਂ ਦੀ ਪੂਰਤੀ ਨਹੀਂ ਕੀਤੀ ਜਾ ਸਕਦੀ, ਇਹ ਸਮਝ ਸਕੋਗੇ;
- ਜ਼ਰੂਰਤਾਂ ਦੀਆਂ ਵਿਸ਼ੇਸ਼ਤਾਵਾਂ ਦੱਸ ਸਕੋਗੇ;
- ਸਰੋਤ ਕਿਵੇਂ ਜ਼ਰੂਰਤਾਂ ਦੀ ਪੂਰਤੀ ਕਰਦੇ ਹਨ, ਜਾਣ ਸਕੋਗੇ;
- ਆਰਥਿਕ ਅਤੇ ਗੈਰ ਆਰਥਿਕ ਜ਼ਰੂਰਤਾਂ ਵਿੱਚ ਅੰਤਰ ਕਰ ਸਕੋਗੇ; ਵਿਕਾਸ ਦੇ ਨਾਲ ਨਾਲ ਜ਼ਰੂਰਤਾਂ ਵਿੱਚ ਪਰਿਵਰਤਨ ਅਤੇ ਵਿਸਥਾਰ ਦੀ ਵਿਆਖਿਆ ਕਰ ਸਕੋਗੇ;
- ਜ਼ਰੂਰਤਾਂ ਨੂੰ ਸੀਮਤ ਕਰਨ ਦੇ ਭਾਰਤੀ ਦਰਸ਼ਨ ਨੂੰ ਸਮਝ ਸਕੋਗੇ।

2.1 ਜ਼ਰੂਰਤਾਂ ਦਾ ਅਰਥ

ਅਨੇਕ ਵਸਤਾਂ ਦੀ ਅਭਿਲਾਸ਼ਾ ਕਰਨਾ ਮਨੁੱਖ ਦਾ ਸੁਭਾਅ ਹੈ। ਅਜਿਹੀਆਂ ਅਭਿਲਾਸ਼ਾਵਾਂ ਦੀ ਇੱਕ ਅੰਤਰੀਣ ਸੂਚੀ ਹੋਵੇਗੀ। ਇਨ੍ਹਾਂ ਅਭਿਲਾਸ਼ਾਵਾਂ ਨੂੰ ਅਸੀਂ 'ਜ਼ਰੂਰਤਾਂ' ਕਹਿ ਸਕਦੇ ਹਾਂ। ਕੋਈ

ਮੈਂਡਿਊਲ: 1

ਅਰਥਸ਼ਾਸਤਰ ਨੂੰ ਸਮਝਣਾ

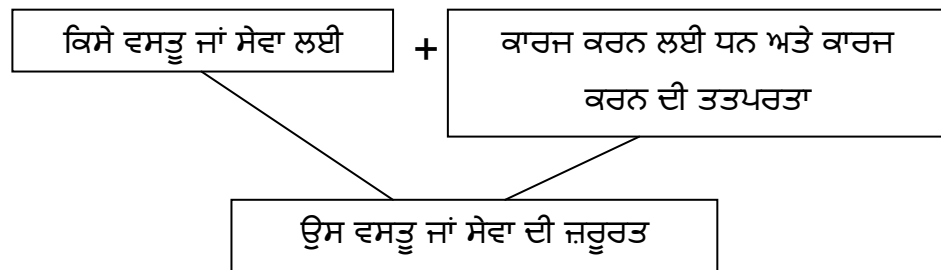


ਨੋਟ



ਨੋਟ

ਵੀ ਚੰਗੇ ਮਕਾਨ, ਕਾਰ, ਕੰਪਿਊਟਰ, ਵਧੀਆ ਭੋਜਨ, ਸ਼ਾਨਦਾਰ ਵਸਤੂ ਅਤੇ ਹੋਰ ਬਹੁਤ ਸਾਰੀਆਂ ਵਸਤਾਂ ਦੀ ਇੱਛਾ ਕਰ ਸਕਦਾ ਹੈ। ਕੋਈ ਇਨ੍ਹਾਂ ਸਭ ਵਸਤਾਂ ਨੂੰ ਕਿਵੇਂ ਪ੍ਰਾਪਤ ਕਰ ਸਕਦਾ ਹੈ? ਕੋਈ ਇਨ੍ਹਾਂ ਸਾਰੀਆਂ ਵਸਤਾਂ ਨੂੰ ਪ੍ਰਾਪਤ ਕਰ ਸਕਦਾ ਹੈ, ਜੇਕਰ ਉਸ ਕੋਲ ਉੱਚਿਤ ਪੈਸਾ ਹੋਵੇ। ਜੇਕਰ ਕਿਸੇ ਕੋਲ ਉਚਿੱਤ ਧਨ ਨਹੀਂ ਹੈ ਤਾਂ ਇਨ੍ਹਾਂ ਵਿੱਚੋਂ ਕੋਵਲ ਇੱਕ ਜਾਂ ਦੋ ਵਸਤਾਂ ਜਾਂ ਇਨ੍ਹਾਂ ਵਿੱਚੋਂ ਕੁਝ ਵੀ ਨਹੀਂ ਖਰੀਦ ਸਕੇਗਾ। ਸਾਡੀਆਂ ਕਿਹੜੀਆਂ ਜ਼ਰੂਰਤਾਂ ਪੂਰੀਆਂ ਹੋਣਗੀਆਂ। ਇਹ ਸਾਡੀ ਭੁਗਤਾਨ ਕਰਨ ਦੀ ਸਮਰੱਥਾ ਜਾਂ ਕਾਰਜ ਸ਼ਕਤੀ 'ਤੇ ਨਿਰਭਰ ਕਰਦਾ ਹੈ। ਇਹੀ ਕਾਰਨ ਹੈ ਕਿ ਸਾਡੀਆਂ ਸਾਰੀਆਂ ਜ਼ਰੂਰਤਾਂ ਪੂਰੀਆਂ ਨਹੀਂ ਹੋ ਸਕਦੀਆਂ ਕਿਉਂਕਿ ਉਨ੍ਹਾਂ ਦੀ ਪੂਰਤੀ ਲਈ ਸਾਨੂੰ ਧਨ ਦੀ ਜ਼ਰੂਰਤ ਹੁੰਦੀ ਹੈ। ਕੇਵਲ ਉਹੀ ਜ਼ਰੂਰਤਾਂ ਜਿਨ੍ਹਾਂ ਦੀ ਪੂਰਤੀ ਲਈ ਸਾਡੇ ਕੋਲ ਉਚਿੱਤ ਧਨ ਹੋਵੇ ਅਤੇ ਜਿਨ੍ਹਾਂ 'ਤੇ ਅਸੀਂ ਖਰਚ ਕਰਨ ਲਈ ਤਤਪਰ ਹੋਏ , ਸਾਡੀਆਂ ਜ਼ਰੂਰਤਾਂ ਕਹਾਉਂਦੀਆਂ ਹਨ। ਇੱਕ ਭਿਖਾਰੀ ਦੇ ਮਨ ਵਿੱਚ ਵੀ ਕਾਰ ਦੀ ਇੱਛਾ ਹੋ ਸਕਦੀ ਹੈ, ਪਰ ਉਸ ਦੀ ਇਸ ਇੱਛਾ ਨੂੰ ਅਸੀਂ ਜ਼ਰੂਰਤ ਨਹੀਂ ਕਹਿ ਸਕਦੇ , ਕਿਉਂਕਿ ਉਸ ਕੋਲ ਕਾਰ ਖਰੀਦਣ ਲਈ ਉਚਿੱਤ ਧਨ ਨਹੀਂ ਹੁੰਦਾ ਹੈ। ਪਰ ਜੇਕਰ ਇੱਕ ਅਮੀਰ ਆਦਮੀ ਕਾਰ ਦੀ ਇੱਛਾ ਕਰੇ ਅਤੇ ਉਸ 'ਤੇ ਧਨ ਖਰਚ ਕਰਨ ਨੂੰ ਤਿਆਰ ਹੋਵੇ ਤਾਂ ਉਸ ਦੀ ਇਹੀ ਇੱਛਾ ਇੱਕ ਜ਼ਰੂਰਤ ਦਾ ਰੂਪ ਧਾਰਨ ਕਰ ਲੈਂਦੀ ਹੈ।



2.2 ਜ਼ਰੂਰਤਾਂ ਦਾ ਉਦੇ ਅਤੇ ਪ੍ਰਸਾਰ ਕਿਵੇਂ ਹੁੰਦਾ ਹੈ?

ਜ਼ਰੂਰਤਾਂ ਸਾਡੇ ਜੀਵਨ ਦਾ ਅੰਗ ਹਨ। ਸਾਡੇ ਜੀਵਨ ਦੇ ਨਾਲ ਹੀ ਉਹ ਵੀ ਉਤਪੰਨ ਹੋ ਜਾਂਦੀਆਂ ਹਨ। ਜੇਕਰ ਮਨੁੱਖ ਜੰਗਲ ਵਿੱਚ ਰਹਿਣ ਵਿੱਚ ਹੀ ਸੰਤੁਸ਼ਟ ਸੀ, ਉਹ ਨਦੀਆਂ ਦਾ ਜਲ ਪੀਂਦਾ ਸੀ ਅਤੇ ਭੁੱਖ ਲੱਗਣ 'ਤੇ ਦਰੱਖਤਾਂ ਦੇ ਫਲ ਜਾਂ ਪਸ਼ੂਆਂ ਦਾ ਮਾਸ ਖਾ ਲੈਂਦਾ ਸੀ। ਉਸ ਦੀਆਂ ਜ਼ਰੂਰਤਾਂ, ਕੇਵਲ ਭੋਜਨ, ਆਵਾਸ ਅਤੇ ਕੱਪੜਿਆਂ ਦੀਆਂ ਜ਼ਰੂਰਤਾਂ ਤੱਕ ਹੀ ਸੀਮਤ ਸਨ। ਹਾਂ , ਸਮੇਂ ਦੇ ਨਾਲ-ਨਾਲ ਇਨ੍ਹਾਂ ਜ਼ਰੂਰਤਾਂ ਵਿੱਚ ਬੇਹੱਦ ਵਾਧਾ ਹੋ ਗਿਆ ਹੈ। ਇਹ ਕਿਵੇਂ ਹੋਇਆ?

ਮਨੁੱਖੀ ਜ਼ਰੂਰਤਾਂ

ਅੱਗ ਦੀ ਖੋਜ ਦੇ ਬਾਅਦ ਮਨੁੱਖ ਨੇ ਭੋਜਨ ਪਕਾਉਣਾ ਸ਼ੁਰੂ ਕਰ ਦਿੱਤਾ। ਫਿਰ ਤਾਂ ਨਵੀਆਂ ਨਵੀਆਂ ਖੁਰਾਕ ਸਮੱਗਰੀਆਂ ਇਕੱਠੀਆਂ ਕੀਤੀਆਂ ਜਾਣ ਲੱਗੀਆਂ। ਇਸ ਤਰ੍ਹਾਂ ਮਨੁੱਖ ਦੇ ਸੁਆਦ ਦਾ ਪਸਾਰ ਸ਼ੁਰੂ ਹੋ ਗਿਆ। ਹੁਣ ਤਾਂ ਤੁਹਾਨੂੰ ਅਨੇਕ ਕਿਸਮ ਦੇ ਰੰਗ , ਗੰਧ, ਆਕਾਰ ਦੇ ਖਾਦ ਪਦਾਰਥ ਸਹਿਜੇ ਹੀ ਮਿਲ ਜਾਂਦੇ ਹਨ।

ਕੱਪੜਿਆਂ ਦੇ ਮਾਮਲੇ ਵਿੱਚ ਵੀ ਪਸ਼ੂਆਂ ਦੀ ਖਾਲ ਲਪੇਟਣ ਜਾਂ ਵੱਡੇ ਪੱਤਿਆਂ ਤੋਂ ਤਨ ਢਕਣ ਦੇ ਯਤਨ ਤੋਂ ਅਸੀਂ ਬਹੁਤ ਅੱਗੇ ਨਿਕਲ ਕੇ ਵਿਭੰਨ ਕਿਸਮ ਦੇ ਕੱਪੜਿਆਂ ਵੱਲ ਆ ਗਏ ਹਾਂ। ਆਪਣੇ ਜੀਵਨ ਨੂੰ ਹੋਰ ਬਿਹਤਰ ਬਣਾਉਣ ਦੇ ਯਤਨ ਵਿੱਚ ਮਨੁੱਖ ਨੇ ਨਵੇਂ-ਨਵੇਂ ਕੱਪੜਿਆਂ ਦੀ ਖੋਜ ਕੀਤੀ ਹੈ। ਜਿਵੇਂ ਜਿਵੇਂ ਸਾਡਾ ਗਿਆਨ , ਇੱਛਾਵਾਂ ਅਤੇ ਸੁੰਦਰਤਾ ਬੋਧ ਵਿਕਸਤ ਹੁੰਦਾ ਹੈ , ਅਸੀਂ ਨਵੀਆਂ-ਨਵੀਆਂ ਸਮੱਗਰੀਆਂ ਦਾ ਪ੍ਰਯੋਗ ਕਰ ਕੇ ਨਿੱਤ ਨਵੇਂ ਨਵੇਂ ਕੱਪੜਿਆਂ ਦੀ ਰਚਨਾ ਕਰ ਰਹੇ ਹਾਂ।

ਇਸੇ ਢੰਗ ਨਾਲ ਆਵਾਸ ਦੀ ਜ਼ਰੂਰਤ ਵਿੱਚ ਵੀ ਹੈਰਾਨੀਜਨਕ ਵਾਧਾ ਹੋਇਆ ਹੈ। ਗੁਫਾਵਾਂ ਤੋਂ ਚੱਲ ਕੇ ਮਨੁੱਖ ਝੌਂਪੜੀਆਂ ਦੇ

ਰਸਤੇ ਚੱਲ ਕੇ ਪੱਕੀਆਂ ਇੱਟਾਂ ਦੇ ਬਣੇ ਘਰਾਂ ਤੱਕ ਪਹੁੰਚਿਆ ਹੈ। ਅੱਜਕੱਲ੍ਹ ਲੱਕੜੀ ਨਾਲ ਬਣੇ ਹੋਏ ਮਕਾਨ , ਪੱਕੇ ਮਕਾਨ , ਬੰਗਲੇ ਅਤੇ ਮਹਿਲਾਂ ਦਾ ਪ੍ਰਯੋਗ ਹੋ ਰਿਹਾ ਹੈ ਜਿਨ੍ਹਾਂ ਵਿੱਚ ਸੁੰਦਰ ਦਰਵਾਜ਼ੇ-ਖਿੜਕੀਆਂ ਅਤੇ ਅਨੇਕ ਕਿਸਮ ਦਾ ਸਜਾਵਟੀ ਸਾਮਾਨ ਹੁੰਦਾ ਹੈ।

ਪਰ ਕੁਝ ਜ਼ਰੂਰਤਾਂ ਜੀਵਨ ਦੀ ਹੋਂਦ ਲਈ ਜ਼ਰੂਰੀ ਹੁੰਦੀਆਂ ਹਨ। ਉਦਾਹਰਨ ਲਈ ਰੋਟੀ , ਕੱਪੜਾ , ਮਕਾਨ। ਇਨ੍ਹਾਂ ਨੂੰ ਬੁਨਿਆਦੀ ਜ਼ਰੂਰਤਾਂ ਜਾਂ ਲਾਜ਼ਮੀ ਜ਼ਰੂਰਤਾਂ ਕਹਿੰਦੇ ਹਨ। ਕੁਝ ਹੋਰ ਜ਼ਰੂਰਤਾਂ ਹਨ ਜੋ ਸਾਡੇ ਜੀਵਨ ਨੂੰ ਸਰਲ ਅਤੇ ਸੁੱਖਮਈ

ਬਣਾਉਂਦੀਆਂ ਹਨ। ਇਨ੍ਹਾਂ ਨੂੰ ਸੁਵਿਧਾਵਾਂ ਕਹਿੰਦੇ ਹਨ। ਸੁਵਿਧਾਵਾਂ ਦੇ ਉਦਾਹਰਨ ਹਨ ਰੂਲਰ , ਸਕੂਟਰ ਆਦਿ। ਕੁਝ ਵਸਤਾਂ ਸਾਨੂੰ ਆਨੰਦ ਦਾ ਅਹਿਸਾਸ ਕਰਾਉਂਦੀਆਂ ਹਨ। ਪਰ ਇਹ ਬੇਹੱਦ ਕੀਮਤੀ ਹੁੰਦੀਆਂ ਹਨ। ਉਦਾਹਰਨ ਲਈ ਵਿਲਾਸੀ ਕਾਰ , ਹੀਰੋ ਦੇ ਗਹਿਣੇ ਆਦਿ। ਇਨ੍ਹਾਂ ਵਸਤਾਂ ਨੂੰ ਅਸੀਂ ਵਿਲਾਸਤਾਵਾਂ ਕਹਿੰਦੇ ਹਾਂ।

2.3 ਜ਼ਰੂਰਤਾਂ ਦੀ ਪੂਰਤੀ

ਕੀ ਸਾਡੀਆਂ ਸਾਰੀਆਂ ਜ਼ਰੂਰਤਾਂ ਦੀ ਪੂਰਤੀ ਹੋ ਜਾਂਦੀ ਹੈ , ਨਹੀਂ, ਜਿਵੇਂ ਹੀ ਇੱਕ ਜ਼ਰੂਰਤ ਦੀ ਪੂਰਤੀ ਹੁੰਦੀ ਹੈ ਤਾਂ ਦੂਜੀ ਜ਼ਰੂਰਤ ਉਤਪੰਨ ਹੋ ਜਾਂਦੀ ਹੈ। ਸਾਡੀਆਂ ਜ਼ਰੂਰਤਾਂ ਵਿੱਚ ਵਾਧਾ ਹੁੰਦਾ ਹੈ ਕਿਉਂਕਿ ਅਸੀਂ ਬਿਹਤਰ ਅਤੇ ਸੁੱਖਮਈ ਜੀਵਨ ਬਤੀਤ ਕਰਨ ਦੀ ਇੱਛਾ ਰੱਖਦੇ ਹਾਂ। ਜਿਵੇਂ ਹੀ

ਮੈਂਡਿਊਲ: 1

ਅਰਥਸ਼ਾਸਤਰ ਨੂੰ ਸਮਝਣਾ



ਨੋਟ



ਨੋਟ

ਨਵੀਆਂ ਵਸਤਾਂ ਅਤੇ ਸੇਵਾਵਾਂ ਦਾ ਵਿਕਾਸ ਹੁੰਦਾ ਹੈ , ਸਾਨੂੰ ਉਨ੍ਹਾਂ ਦੀ ਜ਼ਰੂਰਤ ਮਹਿਸੂਸ ਹੋਣ ਲੱਗਦੀ ਹੈ। ਜ਼ਰੂਰਤਾਂ ਦੀ ਪੂਰਤੀ ਵਸਤਾਂ ਅਤੇ ਸੇਵਾਵਾਂ ਰਾਹੀਂ ਹੁੰਦੀ ਹੈ। ਵਸਤਾਂ ਅਤੇ ਸੇਵਾਵਾਂ ਦਾ ਉਤਪਾਦਨ ਸਰੋਤਾਂ ਦੀ ਸਹਾਇਤਾ ਨਾਲ ਕੀਤਾ ਜਾ ਸਕਦਾ ਹੈ। ਜ਼ਮੀਨ , ਕਿਰਤ, ਪੂੰਜੀ ਅਤੇ ਉੱਦਮ ਨੂੰ ਸਰੋਤ ਕਹਿੰਦੇ ਹਨ ਜੋ ਵਸਤਾਂ ਅਤੇ ਸੇਵਾਵਾਂ ਦੇ ਉਤਪਾਦਨ ਵਿੱਚ ਸਹਾਇਤਾ ਕਰਦੇ ਹਨ। ਜ਼ਰੂਰਤਾਂ ਅਨੰਤ ਹਨ , ਪਰ ਉਨ੍ਹਾਂ ਦੀ ਪੂਰਤੀ ਕਰਨ ਵਾਲੇ ਸਰੋਤ ਘੱਟ ਹਨ। ਜਿਵੇਂ ਹੀ ਕਿਸੇ ਇੱਕ ਜ਼ਰੂਰਤ ਦੀ ਪੂਰਤੀ ਹੁੰਦੀ ਹੈ , ਦੂਜੀ ਉਤਪੰਨ ਹੋ ਜਾਂਦੀ ਹੈ। ਇਨ੍ਹਾਂ ਜ਼ਰੂਰਤਾਂ ਵਿੱਚੋਂ ਕੁਝ ਦੀ ਪੂਰਤੀ ਮਨੁੱਖ ਆਪਣੀ ਸੀਮਤ ਆਮਦਨ ਨਾਲ ਕਰ ਸਕਦਾ ਹੈ , ਜਦੋਂਕਿ ਹੋਰ ਦੀ ਪੂਰਤੀ ਕਰਨ ਵਿੱਚ ਉਹ ਸਮਰੱਥ ਨਹੀਂ ਹੋ ਸਕਦਾ। ਇਸ ਲਈ ਸਾਡੀਆਂ ਸਾਰੀਆਂ ਜ਼ਰੂਰਤਾਂ ਦੀ ਪੂਰਤੀ ਕਰਨਾ ਸੰਭਵ ਨਹੀਂ ਹੈ, ਹਾਂ ਇੱਕ ਜ਼ਰੂਰਤ ਦੀ ਪੂਰਤੀ ਸੰਭਵ ਹੈ।

2.4 ਜ਼ਰੂਰਤਾਂ ਦੀਆਂ ਵਿਸ਼ੇਸ਼ਤਾਵਾਂ

ਜ਼ਰੂਰਤਾਂ ਦੀਆਂ ਪ੍ਰਮੁੱਖ ਵਿਸ਼ੇਸ਼ਤਾਵਾਂ ਨਿਮਨਲਿਖਤ ਹਨ :

1. ਜ਼ਰੂਰਤਾਂ ਅਸੀਮਤ ਹਨ

ਪ੍ਰਸਿੱਧ ਅਰਥਸ਼ਾਸਤਰੀ ਮਾਰਸ਼ਲ ਨੇ ਸੱਚ ਹੀ ਕਿਹਾ ਹੈ ਕਿ ਮਨੁੱਖੀ ਜ਼ਰੂਰਤਾਂ ਗਿਣਤੀ ਵਿੱਚ ਅਨੰਤ ਹਨ ਅਤੇ ਉਨ੍ਹਾਂ ਦੇ ਅਨੇਕ ਰੂਪ ਹਨ। ਇੱਕ ਜ਼ਰੂਰਤ ਪੂਰੀ ਹੁੰਦੇ ਹੀ ਕੋਈ ਹੋਰ ਜ਼ਰੂਰਤ ਜਨਮ ਲੈ ਲੈਂਦੀ ਹੈ। ਜ਼ਰੂਰਤਾਂ ਦਾ ਇਹ ਅਨੰਤ ਚੱਕਰ ਜੀਵਨ ਭਰ ਚੱਲਦਾ ਰਹਿੰਦਾ ਹੈ। ਉਦਾਹਰਨ ਲਈ ਜਿਸ ਵਿਅਕਤੀ ਨੇ ਕਦੇ ਪੱਖੇ

ਦੀ ਵਰਤੋਂ ਨਹੀਂ ਕੀਤੀ ਹੈ , ਉਹ ਪੱਖਾ ਹਾਸਲ ਕਰਨ ਲਈ ਤਤਪਰ ਰਹਿੰਦਾ ਹੈ। ਪੱਖਾ ਮਿਲਦੇ ਹੀ ਉਸ ਦੇ ਮਨ ਵਿੱਚ ਏਅਰ ਕੂਲਰ, ਸਕੂਟਰ ਆਦਿ ਦੀ ਕਾਮਨਾ ਪੈਦਾ ਹੋ ਜਾਂਦੀ ਹੈ। ਜਦੋਂ ਇਨ੍ਹਾਂ ਜ਼ਰੂਰਤਾਂ ਦੀ ਪੂਰਤੀ ਹੋ ਜਾਂਦੀ ਹੈ ਤਾਂ ਉਹ ਏਅਰ ਕੰਡੀਸ਼ਨਰ , ਕਾਰ ਆਦਿ ਅਨੇਕ ਵਸਤਾਂ ਦੀ ਕਾਮਨਾ ਕਰਨ ਲੱਗਦਾ ਹੈ। ਇਸ ਤਰ੍ਹਾਂ ਸਾਡੀਆਂ ਜ਼ਰੂਰਤਾਂ ਕਦੇ ਖਤਮ ਨਹੀਂ ਹੁੰਦੀਆਂ।

2. ਕਿਸੇ ਇੱਕ ਜ਼ਰੂਰਤ ਦੀ ਪੂਰਤੀ ਸੰਭਵ ਹੈ

ਜੇਕਰ ਕਿਸੇ ਇੱਕ ਜ਼ਰੂਰਤ 'ਤੇ ਵਿਚਾਰ ਕਰੀਏ ਤਾਂ ਉਸ ਦੀ ਪੂਰਤੀ ਸੰਭਵ ਹੁੰਦੀ ਹੈ। ਇਹ ਠੀਕ ਹੀ ਕਿਹਾ ਗਿਆ ਹੈ ਕਿ ਇੱਕ ਵਿਸ਼ੇਸ਼ ਜ਼ਰੂਰਤ ਦੀ ਇੱਕ ਸੀਮਾ ਹੁੰਦੀ ਹੈ। ਉਦਾਹਰਨ ਲਈ ਜੇਕਰ ਕਿਸੇ ਵਿਅਕਤੀ ਨੂੰ ਪਿਆਸ ਲੱਗੀ ਹੈ ਤਾਂ ਉਸ ਨੂੰ ਇੱਕ ਜਾਂ ਦੋ ਜਾਂ ਤਿੰਨ ਗਿਲਾਸ ਪਾਣੀ ਪੀ ਕੇ ਬੁਝਾ ਜਾ ਸਕਦਾ ਹੈ ਅਤੇ ਉਸ ਦੇ ਬਾਅਦ ਉਸ ਸਮੇਂ ਉਸ ਦਾ ਪਾਣੀ ਪੀਣ ਨੂੰ ਮਨ ਨਹੀਂ ਕਰੇਗਾ।

3. ਕੁਝ ਜ਼ਰੂਰਤਾਂ ਬਾਰ-ਬਾਰ ਮਹਿਸੂਸ ਹੁੰਦੀਆਂ ਹਨ

ਸਾਡੀਆਂ ਜ਼ਿਆਦਾਤਰ ਜ਼ਰੂਰਤਾਂ ਸਾਨੂੰ ਬਾਰ-ਬਾਰ ਮਹਿਸੂਸ ਹੁੰਦੀਆਂ ਰਹਿੰਦੀਆਂ ਹਨ। ਜੇਕਰ ਉਨ੍ਹਾਂ ਦੀ ਇੱਕ ਬਾਰ ਪੂਰਤੀ ਹੋ ਜਾਂਦੀ ਹੈ ਤਾਂ ਉਹ ਇੱਕ ਨਿਸ਼ਚਤ ਸਮੇਂ ਦੇ ਬਾਅਦ ਫਿਰ ਉਤਪੰਨ ਹੋ ਜਾਂਦੀ ਹੈ। ਅਸੀਂ ਖਾਣਾ ਖਾ ਕੇ ਭੁੱਖ ਦੀ ਪੂਰਤੀ ਕਰ ਲੈਂਦੇ ਹਾਂ, ਪਰ ਕੁਝ ਘੰਟੇ ਹੀ ਬਾਅਦ ਸਾਨੂੰ ਫਿਰ ਭੁੱਖ ਸਤਾਉਣ ਲੱਗਦੀ ਹੈ ਅਤੇ ਸਾਨੂੰ ਆਪਣੀ ਭੁੱਖ ਦੀ ਪੂਰਤੀ ਫਿਰ ਤੋਂ ਖਾਣਾ ਖਾ ਕੇ ਕਰਨੀ ਪੈਂਦੀ ਹੈ। ਇਸ ਤਰ੍ਹਾਂ ਭੁੱਖ, ਪਿਆਸ ਆਦਿ ਅਜਿਹੀਆਂ ਜ਼ਰੂਰਤਾਂ ਹਨ ਜੋ ਬਾਰ-ਬਾਰ ਮਹਿਸੂਸ ਹੁੰਦੀਆਂ ਹਨ।

4. ਜ਼ਰੂਰਤਾਂ ਦੀ ਵਿਭਿੰਨ ਪ੍ਰਕਿਰਤੀ

ਜ਼ਰੂਰਤਾਂ ਵਿੱਚ ਸਮਾਂ, ਸਥਾਨ ਅਤੇ ਵਿਅਕਤੀ ਅਨੁਸਾਰ ਪਰਿਵਰਤਨ ਹੁੰਦੇ ਰਹਿੰਦੇ ਹਨ। ਉਹ ਅਨੇਕ ਕਾਰਕਾਂ ਜਿਵੇਂ ਆਮਦਨ, ਰਿਵਾਜ, ਫੈਸ਼ਨ ਅਤੇ ਇਸ਼ਤਿਹਾਰ ਆਦਿ ਰਾਹੀਂ ਵੀ ਪ੍ਰਭਾਵਿਤ ਹੁੰਦੇ ਹਨ। ਉਦਾਹਰਨ ਲਈ ਸਾਨੂੰ ਦਵਾਈਆਂ ਦੀ

ਜ਼ਰੂਰਤ ਕੇਵਲ ਉਦੋਂ ਹੁੰਦੀ ਹੈ ਜਦੋਂ ਅਸੀਂ ਬਿਮਾਰ ਹੁੰਦੇ ਹਾਂ। ਬਰਫ਼ ਦੀ ਜ਼ਰੂਰਤ ਸਿਰਫ਼ ਗਰਮੀਆਂ ਵਿੱਚ ਹੀ ਪੈਂਦੀ ਹੈ। ਸ਼੍ਰੀਨਗਰ ਵਰਗੇ ਸਥਾਨਾਂ 'ਤੇ ਤਾਂ ਗਰਮੀ ਦੇ

ਮਹੀਨਿਆਂ ਵਿੱਚ ਵੀ ਉਨੀ ਕੱਪੜਿਆਂ ਦੀ ਜ਼ਰੂਰਤ ਪੈਂਦੀ ਹੈ। ਇਸੀ ਤਰ੍ਹਾਂ ਲੋਕਾਂ ਦੀ ਆਮਦਨ ਵਿੱਚ ਵਾਧਾ ਅਤੇ ਫੈਸ਼ਨ ਵਿੱਚ ਤਬਦੀਲੀ ਕਾਰਨ ਟੀ.ਵੀ., ਮੋਬਾਇਲ ਫੋਨ, ਕਾਰਾਂ ਆਦਿ ਅਨੇਕ ਵਿਲਾਸਮਈ ਵਸਤਾਂ ਦਾ ਉਪਯੋਗ ਲਗਾਤਾਰ ਵਧਦਾ ਜਾ ਰਿਹਾ ਹੈ। ਇਸ ਲਈ ਦੇਸ਼ ਦੇ ਆਰਥਿਕ ਵਿਕਾਸ ਦੇ ਨਾਲ-ਨਾਲ ਜ਼ਰੂਰਤਾਂ ਵਿੱਚ ਤਬਦੀਲੀ ਅਤੇ ਵਾਧਾ ਹੁੰਦਾ ਰਹਿੰਦਾ ਹੈ।

5. ਵਰਤਮਾਨ ਜ਼ਰੂਰਤਾਂ ਭਵਿੱਖੀ ਜ਼ਰੂਰਤਾਂ ਤੋਂ ਜ਼ਿਆਦਾ ਮਹੱਤਵਪੂਰਨ ਹੁੰਦੀਆਂ ਹਨ

ਅਸੀਂ ਆਪਣੀਆਂ ਵਰਤਮਾਨ ਜ਼ਰੂਰਤਾਂ ਨੂੰ ਹੀ ਜ਼ਿਆਦਾ ਮਹੱਤਵ ਦਿੰਦੇ ਹਾਂ। ਵਿਅਕਤੀ ਆਪਣੇ ਜ਼ਿਆਦਾਤਰ ਸੀਮਤ ਸਾਧਨਾਂ ਨੂੰ ਵਰਤਮਾਨ ਜ਼ਰੂਰਤਾਂ ਦੀ ਪੂਰਤੀ ਕਰਨ ਵਿੱਚ ਹੀ ਪ੍ਰਯੋਗ ਕਰਦਾ ਹੈ। ਉਹ ਆਪਣੀਆਂ ਭਵਿੱਖ ਦੀਆਂ ਜ਼ਰੂਰਤਾਂ ਦੀ ਇੰਨੀ ਚਿੰਤਾ ਨਹੀਂ ਕਰਦਾ ਕਿਉਂਕਿ ਭਵਿੱਖ ਅਨਿਸ਼ਚਤ ਹੁੰਦਾ ਹੈ ਅਤੇ ਭਵਿੱਖ ਦੀਆਂ ਜ਼ਰੂਰਤਾਂ ਇੰਨੀਆਂ ਲਾਜ਼ਮੀ ਨਹੀਂ ਹੁੰਦੀਆਂ। ਉਦਾਹਰਨ ਲਈ ਵਰਤਮਾਨ ਵਿੱਚ ਬੱਚਿਆਂ ਦੀ ਚੰਗੀ ਸਿੱਖਿਆ ਦੀ ਵਿਵਸਥਾ ਕਰਨਾ, ਭਵਿੱਖ ਵਿੱਚ ਬੁਢਾਪੇ ਦਾ ਨਿਰਵਾਹ ਕਰਨ ਲਈ ਧਨ ਦੀ ਬੱਚਤ ਕਰਨ ਤੋਂ ਜ਼ਿਆਦਾ ਮਹੱਤਵਪੂਰਨ ਹੁੰਦਾ ਹੈ।

ਮੈਂਡਿਊਲ: 1

ਅਰਥਸ਼ਾਸਤਰ ਨੂੰ ਸਮਝਣਾ



ਨੋਟ



ਨੋਟ

6. ਜ਼ਰੂਰਤਾਂ ਵਿੱਚ ਵਿਕਾਸ ਨਾਲ ਪਰਿਵਰਤਨ ਅਤੇ ਵਿਸਥਾਰ ਹੁੰਦਾ ਹੈ

ਜ਼ਰੂਰਤਾਂ ਵਿੱਚ ਪਰਿਵਰਤਨ ਕਿਸ ਤਰ੍ਹਾਂ ਹੋ ਰਹੇ ਹਨ, ਇਸ ਨੂੰ ਪ੍ਰਦਰਸ਼ਿਤ ਕਰਨ ਲਈ ਸਭ ਤੋਂ ਚੰਗਾ ਉਦਾਹਰਨ ਟੈਲੀਫੋਨ ਹੈ। ਪਹਿਲਾਂ ਪੇਂਡੂ ਖੇਤਰਾਂ ਵਿੱਚ ਜ਼ਿਆਦਾ ਟੈਲੀਫੋਨ ਨਹੀਂ ਹੁੰਦੇ ਸਨ, ਪਰ ਅੱਜ ਇਹ ਆਪਣੇ ਰਿਸ਼ਤੇਦਾਰਾਂ ਨਾਲ ਸੰਪਰਕ ਬਣਾ ਕੇ ਰੱਖਣ ਦਾ ਸਭ ਲਈ ਲਾਜ਼ਮੀ ਸਾਧਨ ਬਣ ਗਿਆ ਹੈ। ਜੇ ਲੋਕ ਪਹਿਲਾਂ ਟੈਲੀਫੋਨ ਦਾ ਪ੍ਰਯੋਗ ਕਰਦੇ ਸਨ, ਹੁਣ ਉਹ ਮੋਬਾਈਲ ਫੋਨ ਦਾ ਪ੍ਰਯੋਗ ਕਰਨ ਲੱਗੇ ਹਨ। ਹੁਣ ਉਨ੍ਹਾਂ ਨੂੰ ਮੋਬਾਈਲ ਫੋਨ ਵਿੱਚ ਵੀ ਜ਼ਿਆਦਾ ਸੁਵਿਧਾਵਾਂ ਜਿਵੇਂ ਕਿ ਕੈਮਰਾ, ਇੰਟਰਨੈੱਟ ਆਦਿ ਦੀ ਜ਼ਰੂਰਤ ਹੋ ਰਹੀ ਹੈ।

ਪਾਠਕ੍ਰਮ ਪ੍ਰਸ਼ਨ 2.1

1. ਇੱਛਾ ਜ਼ਰੂਰਤ ਤੋਂ ਕਿਵੇਂ ਵੱਖ ਹੁੰਦੀ ਹੈ?
2. ਜ਼ਰੂਰਤਾਂ ਵਿੱਚ ਉਦੈ ਅਤੇ ਪ੍ਰਸਾਰ ਹੁੰਦਾ ਹੈ, ਇਸ ਨੂੰ ਪ੍ਰਦਰਸ਼ਿਤ ਕਰਨ ਲਈ ਇੱਕ ਉਦਾਹਰਨ ਦਿਓ।
3. ਸਾਰੀਆਂ ਜ਼ਰੂਰਤਾਂ ਦੀ ਪੂਰਤੀ ਕਿਉਂ ਸੰਭਵ ਨਹੀਂ ਹੁੰਦੀ?
4. ਜ਼ਰੂਰਤਾਂ ਦੀਆਂ ਕੋਈ ਦੋ ਵਿਸ਼ੇਸ਼ਤਾਵਾਂ ਦਾ ਜ਼ਿਕਰ ਕਰੋ।
5. ਕੋਈ ਇੱਛਾ ਜ਼ਰੂਰਤ ਕਦੋਂ ਬਣ ਜਾਂਦੀ ਹੈ?

2.5 ਸਰੋਤ ਜ਼ਰੂਰਤਾਂ ਦੀ ਪੂਰਤੀ ਕਿਵੇਂ ਕਰਦੇ ਹਨ

ਜਿਵੇਂ ਕਿ ਅਸੀਂ ਪਹਿਲਾਂ ਹੀ ਕਹਿ ਚੁੱਕੇ ਹਾਂ ਕਿ ਜ਼ਰੂਰਤਾਂ ਦੀ ਪੂਰਤੀ ਵਸਤੂ ਅਤੇ ਸੇਵਾਵਾਂ ਰਾਹੀਂ ਹੁੰਦੀ ਹੈ। ਇਨ੍ਹਾਂ ਵਸਤੂਆਂ ਅਤੇ ਸੇਵਾਵਾਂ ਦਾ ਉਤਪਾਦਨ ਕਰਨ ਲਈ ਸਰੋਤਾਂ ਦਾ ਪ੍ਰਯੋਗ ਕੀਤਾ ਜਾਂਦਾ ਹੈ। ਵਧਦੀਆਂ ਹੋਈਆਂ ਜ਼ਰੂਰਤਾਂ ਦੇ ਨਾਲ ਨਾਲ ਅਸੀਂ ਸਰੋਤਾਂ ਦਾ ਵੀ ਜ਼ਿਆਦਾ ਪ੍ਰਯੋਗ ਕਰ ਰਹੇ ਹਾਂ। ਸਰੋਤ ਕੁਦਰਤੀ ਅਤੇ ਮਨੁੱਖ ਨਿਰਮਤ ਦੋਵੇਂ ਹੋ ਸਕਦੇ ਹਨ। ਸਾਰੇ ਸਰੋਤਾਂ ਨੂੰ ਭੂਮੀ, ਮਜ਼ਦੂਰੀ, ਪੂੰਜੀ ਅਤੇ ਉੱਦਮ ਵਿੱਚ ਵਰਗੀਕ੍ਰਿਤ ਕੀਤਾ ਜਾ ਸਕਦਾ ਹੈ। ਉਦਾਹਰਨ ਲਈ ਕਣਕ ਦੇ ਉਤਪਾਦਨ ਵਿੱਚ ਅਸੀਂ ਭੂਮੀ, ਮਜ਼ਦੂਰੀ, ਟਰੈਕਟਰ, ਪੰਪਸੈੱਟ (ਪੂੰਜੀ) ਦਾ ਪ੍ਰਯੋਗ ਕਰਦੇ ਹਾਂ। ਕਿਸਾਨ (ਉੱਦਮੀ) ਕਣਕ ਦਾ ਉਤਪਾਦਨ ਕਰਨ ਲਈ ਇਨ੍ਹਾਂ ਸਾਰੇ ਸਾਧਨਾਂ ਨੂੰ ਸੰਗਠਿਤ ਕਰਦਾ ਹੈ। ਇਸ ਪ੍ਰਕਿਰਿਆ ਵਿੱਚ ਉਹ ਬੀਜ, ਖਾਦ ਅਤੇ ਕੀਟਨਾਸ਼ਕਾਂ ਆਦਿ ਦਾ ਵੀ ਪ੍ਰਯੋਗ ਕਰਦਾ ਹੈ। ਇਸ ਤਰ੍ਹਾਂ ਕਣਕ ਦੇ ਉਤਪਾਦਨ ਵਿੱਚ ਸਰੋਤਾਂ ਦਾ ਪ੍ਰਯੋਗ ਕੀਤਾ ਜਾਂਦਾ ਹੈ। ਇਸ ਤਰ੍ਹਾਂ ਹੋਰ ਸਾਰੀਆਂ ਵਸਤੂਆਂ ਅਤੇ ਸੇਵਾਵਾਂ ਦੇ ਉਤਪਾਦਨ ਵਿੱਚ ਸਰੋਤਾਂ ਦਾ ਪ੍ਰਯੋਗ ਹੁੰਦਾ ਹੈ। ਕੀ ਜ਼ਰੂਰਤਾਂ ਦੀ ਤਰ੍ਹਾਂ ਸਾਡੇ ਸਰੋਤ ਵੀ ਅਸੀਮਤ ਹਨ? ਇਸ ਦਾ ਉੱਤਰ ਹੈ – ਨਹੀਂ। ਆਪਣੀਆਂ ਜ਼ਰੂਰਤਾਂ ਦੀ ਪੂਰਤੀ ਕਰਨ ਲਈ ਅਸੀਂ ਜਿਨ੍ਹਾਂ ਸਰੋਤਾਂ ਦਾ ਪ੍ਰਯੋਗ ਕਰਦੇ ਹਾਂ, ਉਹ

ਮਨੁੱਖੀ ਜ਼ਰੂਰਤਾਂ

ਸੀਮਤ ਹਨ। ਵਿਕਾਸ ਦੇ ਨਾਲ ਨਾਲ ਨਵੀਆਂ ਨਵੀਆਂ ਵਸਤਾਂ ਦੀ ਖੋਜ ਹੁੰਦੀ ਹੈ ਜਿਸ ਨਾਲ ਸਾਡੀਆਂ ਜ਼ਰੂਰਤਾਂ ਵਿਚ ਵਾਧਾ ਹੁੰਦਾ ਹੈ , ਪਰ ਸਾਡੇ ਸਰੋਤ ਉਸ ਅਨੁਪਾਤ ਵਿੱਚ ਨਹੀਂ ਵਧਦੇ। ਇਸ ਨਾਲ ਸਾਡੇ ਸਰੋਤ ਖਤਮ ਹੋ ਸਕਦੇ ਹਨ।

2.6 ਆਰਥਿਕ ਅਤੇ ਗੈਰ ਆਰਥਿਕ ਜ਼ਰੂਰਤਾਂ

ਹੁਣ ਤੱਕ ਅਸੀਂ ਇਹ ਪੜ੍ਹ ਚੁੱਕੇ ਹਾਂ ਕਿ ਜ਼ਰੂਰਤਾਂ ਅਸੀਮਤ ਹੁੰਦੀਆਂ ਹਨ। ਉਨ੍ਹਾਂ ਦਾ ਸਵਰੂਪ ਹਰੇਕ ਵਿਅਕਤੀ ਲਈ ਵੱਖਰਾ ਹੋ ਸਕਦਾ ਹੈ। ਜਿਵੇਂ ਕਿ ਤੁਸੀਂ ਜਾਣਦੇ ਹੋ ਕਿ ਸਾਡੀਆਂ ਜ਼ਿਆਦਾਤਰ ਜ਼ਰੂਰਤਾਂ ਦੀ

ਪੂਰਤੀ ਲਈ ਅਨੇਕ ਵਸਤਾਂ ਅਤੇ ਸੇਵਾਵਾਂ ਪ੍ਰਯੋਗ ਹੁੰਦੀਆਂ ਹਨ। ਉਨ੍ਹਾਂ ਵਸਤਾਂ ਅਤੇ ਸੇਵਾਵਾਂ ਨੂੰ ਅਸੀਂ ਬਾਜ਼ਾਰ ਤੋਂ ਉਨ੍ਹਾਂ ਦੀ ਕੀਮਤ ਅਦਾ ਕਰਕੇ ਖਰੀਦ ਲੈਂਦੇ ਹਾਂ। ਜਿਨ੍ਹਾਂ ਜ਼ਰੂਰਤਾਂ ਦੀ ਪੂਰਤੀ ਇਸ ਤਰ੍ਹਾਂ ਦੀਆਂ ਵਸਤਾਂ ਅਤੇ ਸੇਵਾਵਾਂ ਰਾਹੀਂ ਕੀਤੀ ਜਾਂਦੀ ਹੈ, ਉਨ੍ਹਾਂ ਨੂੰ ਆਰਥਿਕ ਜ਼ਰੂਰਤਾਂ ਕਹਿੰਦੇ ਹਨ।

ਅਸੀਂ ਆਪਣੀਆਂ ਕੁਝ ਜ਼ਰੂਰੀ ਵਸਤਾਂ ਬਿਨਾਂ ਬਾਜ਼ਾਰ ਤੋਂ ਖਰੀਦੇ ਹੀ ਪ੍ਰਾਪਤ ਕਰ ਲੈਂਦੇ ਹਾਂ। ਅਜਿਹੀਆਂ ਜ਼ਰੂਰਤਾਂ ਗੈਰ ਆਰਥਿਕ ਜ਼ਰੂਰਤਾਂ ਕਹਾਉਂਦੀਆਂ ਹਨ। ਉਦਾਹਰਨ ਵਜੋਂ ਸਾਨੂੰ ਸਾਹ ਲੈਣ ਲਈ ਹਵਾ, ਖੇਤਾਂ ਦੀ ਸਿੰਚਾਈ ਕਰਨ ਲਈ ਮੀਂਹ ਦੇ ਪਾਣੀ ਦੀ ਜ਼ਰੂਰਤ ਹੁੰਦੀ ਹੈ। ਜਦੋਂ ਸਾਨੂੰ ਖਾਣਾ ਬਣਾਉਣ ਲਈ ਨੈਕਰਾਈ ਚਾਹੀਦੀ ਹੈ ਤਾਂ ਇਹ ਸਾਡੀ ਆਰਥਿਕ ਜ਼ਰੂਰਤ ਹੈ। ਪਰ ਜੇਕਰ ਖਾਣਾ ਮਾਂ ਬਣਾਉਂਦੀ ਹੈ ਤਾਂ ਇਹ ਸਾਡੀ ਗੈਰ ਆਰਥਿਕ ਜ਼ਰੂਰਤ ਬਣ ਜਾਂਦੀ ਹੈ।

ਪਾਠਕ੍ਰਮ ਪ੍ਰਸ਼ਨ 2.2

1. ਕਣਕ ਦੇ ਉਤਪਾਦਨ ਵਿੱਚ ਪ੍ਰਯੋਗ ਕੀਤੇ ਜਾਣ ਵਾਲੇ ਸਰੋਤਾਂ ਦੇ ਨਾਂ ਲਿਖੋ।
2. ਨਿਮਨਲਿਖਤ ਵਿੱਚੋਂ ਕਿਸ ਦੀ ਸਪਲਾਈ ਘੱਟ ਹੈ?
(ੳ) ਸਰੋਤ (ਅ) ਜ਼ਰੂਰਤਾਂ
3. ਆਰਥਿਕ ਜ਼ਰੂਰਤਾਂ ਦੇ ਦੋ ਉਦਾਹਰਨ ਲਿਖੋ।
4. ਗੈਰ ਆਰਥਿਕ ਜ਼ਰੂਰਤਾਂ ਦੇ ਦੋ ਉਦਾਹਰਨ ਲਿਖੋ।

ਮੈਂਡਿਊਲ: 1

ਅਰਥਸ਼ਾਸਤਰ ਨੂੰ ਸਮਝਣਾ



ਨੋਟ



ਨੋਟ

2.7 ਜ਼ਰੂਰਤਾਂ ਵਿੱਚ ਵਿਕਾਸ ਨਾਲ ਤਬਦੀਲੀ ਅਤੇ ਵਿਸਥਾਰ ਹੁੰਦਾ ਹੈ

ਪ੍ਰਾਚੀਨ ਕਾਲ ਵਿੱਚ ਮਨੁੱਖ ਭੋਜਨ, ਕੱਪੜੇ ਅਤੇ ਮਕਾਨ ਆਦਿ ਦੀਆਂ ਸਾਧਾਰਨ ਵਸਤਾਂ ਤੋਂ ਸੰਤੁਸ਼ਟ ਸੀ। ਪਰ ਵਿਕਾਸ ਦੇ ਨਾਲ ਨਾਲ ਇਨ੍ਹਾਂ ਜ਼ਰੂਰਤ ਦੀ ਪ੍ਰਕਿਰਤੀ ਅਤੇ ਇਨ੍ਹਾਂ ਦੀ ਗਿਣਤੀ ਵਿੱਚ ਵਾਧਾ ਹੋਇਆ ਹੈ। ਸਾਡੇ ਭੋਜਨ ਲਈ ਸਾਡੀ ਇੱਛਾ ਬਦਲ ਗਈ ਹੈ। ਅਸੀਂ ਸਿਰਫ਼ ਬਿਹਤਰ ਅਤੇ ਪੋਸ਼ਟਿਕ ਭੋਜਨ ਹੀ ਨਹੀਂ ਸਗੋਂ ਵੱਖ-ਵੱਖ ਕਿਸਮਾਂ ਦੇ

ਭੋਜਨ ਖਾਣਾ ਚਾਹੁੰਦੇ ਹਾਂ। ਇਸੇ ਤਰ੍ਹਾਂ ਅਸੀਂ ਸਿਰਫ਼ ਇੱਕ ਜੋੜਾ ਕੱਪੜਾ ਨਹੀਂ ਪਹਿਨਣਾ ਚਾਹੁੰਦੇ ਹਾਂ, ਪਰ ਅਸੀਂ ਫੈਸ਼ਨ ਦੇ ਅਨੁਸਾਰ ਵਿਭਿੰਨਤਾ ਦੇ ਨਾਲ-ਨਾਲ ਨਵੀਨਤਮ ਡਿਜ਼ਾਈਨ ਵੀ ਚਾਹੁੰਦੇ ਹਾਂ। ਅਸੀਂ ਆਧੁਨਿਕ ਸੁਵਿਧਾਵਾਂ ਜਿਵੇਂ ਕਿ ਏਅਰ ਕੰਡੀਸ਼ਨਰ, ਗੀਜ਼ਰ ਆਦਿ ਨਾਲ ਇੱਕ ਵਧੀਆ ਘਰ ਚਾਹੁੰਦੇ ਹਾਂ। ਤੁਸੀਂ ਸਾਰੇ ਜਾਣਦੇ ਹੋ ਕਿ ਸੰਚਾਰ ਲਈ ਸਾਨੂੰ ਨਾ ਸਿਰਫ਼ ਇੱਕ ਸਾਧਾਰਨ ਟੈਲੀਫੋਨ ਚਾਹੀਦਾ ਹੈ, ਸਗੋਂ ਇੱਕ ਮੋਬਾਈਲ ਫੋਨ ਵੀ ਚਾਹੀਦਾ ਹੈ ਜਿਸ ਵਿੱਚ ਕੈਮਰਾ, ਇੰਟਰਨੈੱਟ, ਵੀਡੀਓ ਰਿਕਾਰਡਿੰਗ ਆਦਿ ਵਰਗੀਆਂ ਬਹੁਤ ਸਾਰੀਆਂ ਸਹੂਲਤਾਂ ਹੋਣ। ਇਸ ਤਰ੍ਹਾਂ, ਮਨੁੱਖ ਦੀਆਂ ਸਦਾ ਵਧਦੀਆਂ ਅਤੇ ਬਦਲਦੀਆਂ ਇੱਛਾਵਾਂ ਬਹੁਤ ਸਾਰੀਆਂ ਕਾਢਾਂ ਅਤੇ ਖੋਜਾਂ ਵੱਲ ਲੈ ਜਾਂਦੀਆਂ ਹਨ ਜਿਸ ਦੇ ਨਤੀਜੇ ਵਜੋਂ ਵਸਤਾਂ ਅਤੇ ਸੇਵਾਵਾਂ ਦੀ ਨਵੀਂ ਅਤੇ ਬਿਹਤਰ ਗੁਣਵੱਤਾ ਹੁੰਦੀ ਹੈ।

2.8 ਇੱਛਾਵਾਂ ਨੂੰ ਸੀਮਤ ਕਰਨ ਦਾ ਭਾਰਤੀ ਦਰਸ਼ਨ

ਜਿਵੇਂ ਕਿ ਅਸੀਂ ਸਾਰੇ ਜਾਣਦੇ ਹਾਂ ਕਿ ਸਾਡੀਆਂ ਇੱਛਾਵਾਂ ਅਸੀਮਤ ਹਨ ਪਰ ਇਹਨਾਂ ਇੱਛਾਵਾਂ ਨੂੰ ਪੂਰਾ ਕਰਨ ਲਈ ਸਾਡੇ ਸਰੋਤ ਸੀਮਤ ਹਨ। ਇਸ ਲਈ ਜੇਕਰ ਅਸੀਂ ਆਪਣੀਆਂ ਇੱਛਾਵਾਂ ਨੂੰ ਅਸੀਮਤ ਅਤੇ ਵਧਦੇ ਰਹਿੰਦੇ ਹਾਂ, ਤਾਂ ਅਸੀਂ ਆਪਣੇ ਸੀਮਤ ਸਾਧਨਾਂ ਨਾਲ ਉਨ੍ਹਾਂ ਸਾਰੀਆਂ ਨੂੰ ਪੂਰਾ ਨਹੀਂ ਕਰ ਸਕਾਂਗੇ। ਇਹ ਬਹੁਤ ਜ਼ਿਆਦਾ ਅਸੰਤੁਸ਼ਟੀ ਨੂੰ ਜਨਮ ਦੇਵੇਗਾ, ਪਰ ਦੂਜੇ ਪਾਸੇ, ਜੇਕਰ ਅਸੀਂ ਆਪਣੀਆਂ ਇੱਛਾਵਾਂ ਨੂੰ ਸੀਮਤ ਕਰਦੇ ਹਾਂ ਤਾਂ ਅਸੀਂ ਆਪਣੇ ਸੀਮਤ ਸਾਧਨਾਂ ਨਾਲ ਉਨ੍ਹਾਂ ਵਿੱਚੋਂ ਜ਼ਿਆਦਾਤਰ ਨੂੰ ਸੰਤੁਸ਼ਟ ਕਰ ਸਕਾਂਗੇ ਅਤੇ ਇਸ ਨਾਲ ਸਾਨੂੰ ਹੋਰ ਅਤੇ ਵਧੇਰੇ ਸੰਤੁਸ਼ਟੀ ਮਿਲੇਗੀ। ਭਾਰਤੀ ਦਰਸ਼ਨ ਹਮੇਸ਼ਾ ਸਾਡੀਆਂ ਇੱਛਾਵਾਂ ਨੂੰ ਸੀਮਤ ਕਰਨ 'ਤੇ ਚਿੰਤਾ ਹੈ ਤਾਂ ਜੋ ਅਸੀਂ ਜੀਵਨ ਵਿੱਚ ਸੰਤੁਸ਼ਟ ਮਹਿਸੂਸ ਕਰ ਸਕੀਏ। ਇਹ ਸਾਨੂੰ ਇੱਕ ਖੁਸ਼ਹਾਲ ਜੀਵਨ ਜਿਊਣ ਵਿੱਚ ਮਦਦ ਕਰਦਾ ਹੈ ਕਿਉਂਕਿ ਸਾਨੂੰ ਅਧੂਰੀਆਂ ਇੱਛਾਵਾਂ ਕਾਰਨ ਕੋਈ ਦੁੱਖ ਨਹੀਂ ਝੱਲਣਾ ਪੈਂਦਾ।

ਮਨੁੱਖੀ ਜ਼ਰੂਰਤਾਂ

ਇੱਥੋਂ ਤੱਕ ਕਿ ਸਾਡੇ ਰਾਸ਼ਟਰ ਪਿਤਾ, ਗਾਂਧੀ ਜੀ ਨੇ ਵੀ ਹਮੇਸ਼ਾ ਆਪਣੀਆਂ ਇੱਛਾਵਾਂ ਨੂੰ ਨਿਯੰਤਰਿਤ ਕਰਨ ਦੀ ਵਕਾਲਤ ਕੀਤੀ ਤਾਂ ਜੋ ਅਸੀਂ ਇੱਕ ਸੰਤੁਸ਼ਟ

ਜੀਵਨ ਪ੍ਰਾਪਤ ਕਰ ਸਕੀਏ ਅਤੇ ਸਾਨੂੰ ਆਪਣੇ ਸੀਮਤ ਸਾਧਨਾਂ ਵਿੱਚੋਂ ਅਸੀਮਤ ਇੱਛਾਵਾਂ ਨੂੰ ਪੂਰਾ ਕਰਨ ਲਈ ਗਲਤ ਕੰਮਾਂ

ਜਾਂ ਅਭਿਆਸਾਂ ਵਿੱਚ ਸ਼ਾਮਲ ਨਾ ਹੋਣਾ ਪਵੇ। ਬਹੁਤ ਸਾਰੇ ਮਹਾਨ ਚਿੰਤਕ ਹੋਏ ਹਨ ਜਿਨ੍ਹਾਂ ਨੇ ਇਸ ਦੀ ਵਕਾਲਤ ਕੀਤੀ ਹੈ।

ਪਾਠਕ੍ਰਮ ਪ੍ਰਸ਼ਨ 2.3

1. ਸੀਮਤ ਸਾਧਨਾਂ ਰਾਹੀਂ ਜ਼ਰੂਰਤਾਂ ਦੀ ਪੂਰਤੀ ਦੇ ਸਬੰਧ ਵਿੱਚ ਭਾਰਤੀ ਦਰਸ਼ਨ ਕੀ ਹੈ?
2. ਜ਼ਰੂਰਤਾਂ ਵਿੱਚ ਵਿਕਾਸ ਦੇ ਨਾਲ ਬਦਲਾਅ ਅਤੇ ਵਿਸਥਾਰ ਹੁੰਦਾ ਹੈ , ਇਹ ਸਾਬਤ ਕਰਨ ਲਈ ਸੰਚਾਰ ਪ੍ਰਣਾਲੀ ਦੀ ਇੱਕ ਉਦਾਹਰਣ ਦਿਓ।

ਤੁਸੀਂ ਕੀ ਸਿੱਖਿਆ

-ਉਹ ਇੱਛਾਵਾਂ ਜਿਨ੍ਹਾਂ ਲਈ ਸਾਡੇ ਕੋਲ ਉਚਿੱਤ ਪੈਸਾ ਹੋਵੇ ਅਤੇ ਜਿਨ੍ਹਾਂ 'ਤੇ ਅਸੀਂ ਖਰਚ ਕਰਨ ਨੂੰ ਤਤਪਰ ਹੋਈਏ, ਜ਼ਰੂਰਤਾਂ ਕਹਾਉਂਦੀਆਂ ਹਨ।

-ਜ਼ਰੂਰਤਾਂ ਦੀ ਪੂਰਤੀ ਵਸਤੂ ਅਤੇ ਸੇਵਾਵਾਂ ਰਾਹੀਂ ਹੁੰਦੀ ਹੈ।

-ਆਰਥਿਕ ਜ਼ਰੂਰਤਾਂ ਦੀ ਪੂਰਤੀ ਉਨ੍ਹਾਂ ਵਸਤੂਆਂ ਅਤੇ ਸੇਵਾਵਾਂ ਨਾਲ ਹੁੰਦੀ ਹੈ ਜੋ ਬਾਜ਼ਾਰ ਤੋਂ ਕੀਮਤ ਅਦਾ ਕਰਕੇ ਖਰੀਦੀ ਜਾਂਦੀ ਹੈ।

-ਗੈਰ ਆਰਥਿਕ ਜ਼ਰੂਰਤਾਂ ਦੀ ਪੂਰਤੀ ਉਨ੍ਹਾਂ ਵਸਤੂਆਂ ਅਤੇ ਸੇਵਾਵਾਂ ਤੋਂ ਹੁੰਦੀ ਹੈ ਜੋ ਕੀਮਤ ਅਦਾ ਕਰਕੇ ਬਾਜ਼ਾਰ ਤੋਂ ਨਹੀਂ ਖਰੀਦੀਆਂ ਜਾਂਦੀਆਂ।

-ਨਵੀਆਂ ਨਵੀਆਂ ਖੋਜਾਂ ਦੇ ਨਾਲ ਨਾਲ ਨਵੀਆਂ ਨਵੀਆਂ ਜ਼ਰੂਰਤਾਂ ਦਾ ਜਨਮ ਹੁੰਦਾ ਹੈ ਅਤੇ ਉਨ੍ਹਾਂ ਵਿੱਚ ਵਾਧਾ ਹੁੰਦਾ ਹੈ।

-ਕੁਝ ਜ਼ਰੂਰਤਾਂ ਜੀਵਨ ਦੀ ਹੋਂਦ ਲਈ ਲਾਜ਼ਮੀ ਹੁੰਦੀਆਂ ਹਨ। ਇਨ੍ਹਾਂ ਨੂੰ ਜ਼ਰੂਰਤਾਵਾਂ ਕਹਿੰਦੇ ਹਨ।

ਮੈਂਡਿਊਲ: 1

ਅਰਥਸ਼ਾਸਤਰ ਨੂੰ ਸਮਝਣਾ



ਨੋਟ



ਨੋਟ

-ਅਜਿਹੀਆਂ ਜ਼ਰੂਰਤਾਂ ਜੋ ਸਾਡੇ ਜੀਵਨ ਨੂੰ ਸਰਲ ਅਤੇ ਸੁਖੀ ਬਣਾਉਂਦੀਆਂ ਹਨ , ਸੁਵਿਧਾਵਾਂ ਕਹਾਉਂਦੀਆਂ ਹਨ।

-ਕੁਝ ਜ਼ਰੂਰਤਾਂ ਸਾਨੂੰ ਆਨੰਦ ਦਾ ਅਹਿਸਾਸ ਕਰਾਉਂਦੀਆਂ ਹਨ , ਪਰ ਉਨ੍ਹਾਂ ਦੀ ਪੂਰਤੀ ਕੀਮਤੀ ਵਸਤਾਂ ਰਾਹੀਂ ਹੁੰਦੀ ਹੈ, ਉਹ ਵਿਲਾਸਤਾਵਾਂ ਕਹਾਉਂਦੀਆਂ ਹਨ।

-ਜੇਕਰ ਇੱਕ ਜ਼ਰੂਰਤ ਦੀ ਪੂਰਤੀ ਸੰਭਵ ਹੈ, ਸਰੋਤਾਂ ਦੀ ਘਾਟ ਦੇ ਕਾਰਨ ਸਾਰੀਆਂ ਜ਼ਰੂਰਤਾਂ ਦੀ ਪੂਰਤੀ ਸੰਭਵ ਨਹੀਂ ਹੈ।

-ਜ਼ਰੂਰਤਾਂ ਦੀਆਂ ਕੁਝ ਮਹੱਤਵਪੂਰਨ ਵਿਸ਼ੇਸ਼ਤਾਵਾਂ ਹਨ:

ਜ਼ਰੂਰਤਾਂ ਅਸੀਮਤ ਹਨ, ਕਿਸੇ ਇੱਕ ਜ਼ਰੂਰਤ ਦੀ ਪੂਰਤੀ ਸੰਭਵ ਹੈ , ਕੁਝ ਜ਼ਰੂਰਤਾਂ ਬਾਰ ਬਾਰ ਮਹਿਸੂਸ ਹੁੰਦੀਆਂ ਹਨ, ਜ਼ਰੂਰਤਾਂ ਵਿੱਚ ਸਮਾਂ, ਸਥਾਨ ਅਤੇ ਵਿਅਕਤੀ ਦੇ ਅਨੁਸਾਰ ਤਬਦੀਲੀ ਹੁੰਦੀ ਹੈ, ਵਰਤਮਾਨ ਜ਼ਰੂਰਤਾਂ ਭਵਿੱਖੀ ਜ਼ਰੂਰਤਾਂ ਤੋਂ ਜ਼ਿਆਦਾ ਮਹੱਤਵਪੂਰਨ ਹੁੰਦੀਆਂ ਹਨ। ਜ਼ਰੂਰਤਾਂ ਵਿੱਚ ਵਿਕਾਸ ਦੇ ਨਾਲ ਤਬਦੀਲੀ ਅਤੇ ਵਿਸਥਾਰ ਹੁੰਦਾ ਹੈ।

-ਜ਼ਰੂਰਤਾਂ ਵਿੱਚ ਵਿਕਾਸ ਨਾਲ ਤਬਦੀਲੀ ਅਤੇ ਵਿਸਥਾਰ ਹੁੰਦਾ ਹੈ।

-ਭਾਰਤੀ ਵਿਚਾਰਕਾਂ ਦੀ ਹਮੇਸ਼ਾਂ ਤਾਕੀਦ ਰਹੀ ਹੈ ਕਿ ਜ਼ਿਆਦਾ ਤੋਂ ਜ਼ਿਆਦਾ ਸੰਤੁਸ਼ਟੀ ਪ੍ਰਾਪਤ ਕਰਨ ਲਈ ਅਸੀਂ ਆਪਣੀਆਂ ਜ਼ਰੂਰਤਾਂ ਨੂੰ ਸੀਮਤ ਕਰੀਏ।

ਪਾਠ ਦੇ ਅੰਤ ਦੇ ਪ੍ਰਸ਼ਨ

1. ਇੱਛਾਵਾਂ ਨੂੰ ਜ਼ਰੂਰਤਾਂ ਵਿੱਚ ਬਦਲਣ ਲਈ ਦੇ ਉਦਾਹਰਨਾਂ ਦਿਓ।
2. ਜ਼ਰੂਰਤਾਂ ਦਾ ਉਦੈ ਅਤੇ ਪਸਾਰ ਕਿਵੇਂ ਹੁੰਦਾ ਹੈ ? ਇੱਕ ਉਦਾਹਰਨ ਦੀ ਸਹਾਇਤਾ ਨਾਲ ਸਮਝਾਓ।
3. ਸਾਰੀਆਂ ਜ਼ਰੂਰਤਾਂ ਦੀ ਪੂਰਤੀ ਸੰਭਵ ਨਹੀਂ ਹੈ। ਸਮਝਾਓ ਕਿਉਂ?
4. ਜ਼ਰੂਰਤਾਂ ਦੀਆਂ ਚਾਰ ਮੁੱਖ ਵਿਸ਼ੇਸ਼ਤਾਵਾਂ ਦਾ ਜ਼ਿਕਰ ਕਰੋ।
5. ਵਰਤਮਾਨ ਜ਼ਰੂਰਤਾਂ ਭਵਿੱਖੀ ਜ਼ਰੂਰਤਾਂ ਤੋਂ ਜ਼ਿਆਦਾ ਮਹੱਤਵਪੂਰਨ ਹੁੰਦੀਆਂ ਹਨ, ਇੱਕ ਉਦਾਹਰਨ ਰਾਹੀਂ ਸਿੱਧ ਕਰੋ।
6. ਸਰੋਤ ਜ਼ਰੂਰਤਾਂ ਦੀ ਪੂਰਤੀ ਕਿਵੇਂ ਕਰਦੇ ਹਨ?
7. ਆਰਥਿਕ ਅਤੇ ਗੈਰ ਆਰਥਿਕ ਜ਼ਰੂਰਤਾਂ ਵਿੱਚ ਅੰਤਰ ਕਰੋ।
8. ‘ਜ਼ਰੂਰਤਾਂ ਵਿੱਚ ਵਿਕਾਸ ਨਾਲ ਤਬਦੀਲੀ ਅਤੇ ਵਿਸਥਾਰ ਹੁੰਦਾ ਹੈ’ ਸਮਝਾਓ।

ਮਨੁੱਖੀ ਜ਼ਰੂਰਤਾਂ

9. ਸਾਨੂੰ ਆਪਣੀਆਂ ਜ਼ਰੂਰਤਾਂ ਨੂੰ ਸੀਮਤ ਕਿਉਂ ਕਰਨਾ ਚਾਹੀਦਾ ਹੈ?

ਪਾਠ ਅਧੀਨ ਪ੍ਰਸ਼ਨਾਂ ਦੇ ਉੱਤਰ

ਪਾਠ ਅਧੀਨ ਪ੍ਰਸ਼ਨ 2.1 ਦੇ

1. ਉਹ ਇੱਛਾਵਾਂ ਜਿਨ੍ਹਾਂ ਦੀ ਪੂਰਤੀ ਕਰਨ ਲਈ ਸਾਡੇ ਕੋਲ ਉਚਿੱਤ ਮੁਦਰਾ ਹੋਵੇ ਅਤੇ ਅਸੀਂ ਜਿਨ੍ਹਾਂ 'ਤੇ ਖਰਚ ਕਰਨ ਨੂੰ ਤਤਪਰ ਹੋਏ, ਜ਼ਰੂਰਤਾਂ ਕਹਾਉਂਦੀਆਂ ਹਨ।
2. ਅੱਗ ਦੀ ਖੋਜ ਦੇ ਬਾਅਦ ਮਨੁੱਖ ਨੇ ਭੋਜਨ ਪਕਾਉਣਾ ਸ਼ੁਰੂ ਕਰ ਦਿੱਤਾ ਜਿਸ ਨਾਲ ਨਵੀਆਂ ਨਵੀਆਂ ਸਮੱਗਰੀਆਂ ਵਿੱਚ ਵਾਧਾ ਹੋਇਆ।
3. ਸਰੋਤਾਂ ਦੀ ਘਾਟ ਦੇ ਕਾਰਨ ਸਾਰੀਆਂ ਜ਼ਰੂਰਤਾਂ ਦੀ ਪੂਰਤੀ ਸੰਭਵ ਨਹੀਂ ਹੈ।
4. (1) ਜ਼ਰੂਰਤਾਂ ਅਸੀਮਤ ਹਨ।
(2) ਕੁਝ ਜ਼ਰੂਰਤਾਂ ਬਾਰ ਬਾਰ ਮਹਿਸੂਸ ਹੁੰਦੀਆਂ ਹਨ।
5. ਇੱਕ ਇੱਛਾ ਜ਼ਰੂਰਤ ਬਣ ਜਾਂਦੀ ਹੈ ਜਦੋਂ ਉਸ ਦੀ ਪੂਰਤੀ ਲਈ ਉਚਿੱਤ ਪੈਸਾ ਹੋਵੇ ਅਤੇ ਜਿਸ 'ਤੇ ਅਸੀਂ ਖਰਚ ਕਰਨ ਨੂੰ ਤਤਪਰ ਹੋਈਏ।

ਪਾਠ ਅਧੀਨ ਪ੍ਰਸ਼ਨ 2.2 ਦੇ ਉੱਤਰ

1. ਜ਼ਮੀਨ, ਮਜ਼ਦੂਰੀ, ਪੂੰਜੀ (ਮਸ਼ੀਨ), ਬੀਜ, ਖਾਦ, ਕੀਟਨਾਸ਼ਕ ਆਦਿ।
2. (ੳ)
3. (1) ਪੈਂਨ (2) ਪੁਸਤਕ
4. (1) ਸਾਹ ਲੈਣ ਲਈ ਹਵਾ (2) ਖੇਤੀ ਲਈ ਮੀਂਹ ਦਾ ਪਾਣੀ

ਮੈਂਡਿਊਲ: 1

ਅਰਥਸ਼ਾਸਤਰ ਨੂੰ ਸਮਝਣਾ



ਨੋਟ



ਨੋਟ

3

ਵਸਤਾਂ ਅਤੇ ਸੇਵਾਵਾਂ

ਤੁਸੀਂ ਸਿੱਖਿਆ ਹੈ ਕਿ ਮਨੁੱਖੀ ਜ਼ਰੂਰਤਾਂ ਅਸੀਮਤ ਅਤੇ ਅਸੰਤੁਸ਼ਟ ਹਨ। ਹੁਣ ਸਵਾਲ ਇਹ ਹੈ ਕਿ ਸਾਡੀਆਂ ਕਿੰਨੀਆਂ ਜ਼ਰੂਰਤਾਂ ਪੂਰੀਆਂ ਹੋ ਸਕਦੀਆਂ ਹਨ ਅਤੇ ਉਨ੍ਹਾਂ ਨੂੰ ਕਿਵੇਂ ਪੂਰਾ ਕੀਤਾ ਜਾ ਸਕਦਾ ਹੈ।

ਮਨੁੱਖੀ ਜ਼ਰੂਰਤਾਂ ਚੀਜ਼ਾਂ ਅਤੇ ਸੇਵਾਵਾਂ ਦੁਆਰਾ ਸੰਤੁਸ਼ਟ ਹੁੰਦੀਆਂ ਹਨ, ਜੋ ਕਿ ਵੱਖ-ਵੱਖ ਆਰਥਿਕ ਗਤੀਵਿਧੀਆਂ ਦੁਆਰਾ ਕੀਤੀਆਂ ਜਾਂਦੀਆਂ ਹਨ। ਇਸ ਪਾਠ ਵਿੱਚ ਤੁਸੀਂ ਵਸਤਾਂ ਅਤੇ ਸੇਵਾਵਾਂ, ਵਸਤਾਂ ਅਤੇ ਸੇਵਾਵਾਂ ਦੀਆਂ ਕਿਸਮਾਂ ਅਤੇ ਉਤਪਾਦਨ, ਖਪਤ, ਨਿਵੇਸ਼ ਅਤੇ ਮਨੁੱਖੀ ਜ਼ਰੂਰਤਾਂ ਦੇ ਸਬੰਧ ਵਿੱਚ ਵਸਤਾਂ ਅਤੇ ਸੇਵਾਵਾਂ ਦੀ ਮਹੱਤਤਾ ਬਾਰੇ ਸਿੱਖੋਗੇ।

ਉਦੇਸ਼

ਇਸ ਪਾਠ ਨੂੰ ਪੜ੍ਹਨ ਦੇ ਬਾਅਦ ਤੁਸੀਂ ਕਰ ਸਕੋਗੇ :

- ਵਸਤੂ ਅਤੇ ਸੇਵਾ ਸ਼ਬਦਾਂ ਦੀ ਵਿਆਖਿਆ;
- ਵਿਭਿੰਨ ਤਰ੍ਹਾਂ ਦੀਆਂ ਵਸਤਾਂ ਅਤੇ ਸੇਵਾਵਾਂ ਦੀ ਪਛਾਣ;
- ਵਸਤਾਂ ਅਤੇ ਸੇਵਾਵਾਂ ਵਿੱਚ ਅੰਤਰ;
- ਵਿਭਿੰਨ ਤਰ੍ਹਾਂ ਦੀਆਂ ਵਸਤਾਂ ਅਤੇ ਸੇਵਾਵਾਂ ਦੇ ਵਰਗੀਕਰਨ ਦਾ ਆਧਾਰ;
- ਮੁਫਤ ਅਤੇ ਆਰਥਿਕ ਵਸਤਾਂ ਅਤੇ ਸੇਵਾਵਾਂ ਦੀ ਜਾਣਕਾਰੀ;
- ਉਪਭੋਗਤਾ ਵਸਤਾਂ ਅਤੇ ਉਤਪਾਦਕ ਵਸਤਾਂ ਅਤੇ ਸੇਵਾਵਾਂ ਵਿੱਚ ਅੰਤਰ;
- ਵਸਤਾਂ ਇਕਹਰੀਆਂ ਉਪਯੋਗੀ ਅਤੇ ਦੀਰਘਕਾਲੀ ਕਿਵੇਂ ਹੋ ਸਕਦੀਆਂ ਹਨ;
- ਜਨਤਕ ਵਸਤਾਂ ਅਤੇ ਨਿੱਜੀ ਵਸਤਾਂ ਵਿੱਚ ਅੰਤਰ।

3.1 ਵਸਤਾਂ ਅਤੇ ਸੇਵਾਵਾਂ

ਸਾਡੇ ਰੋਜ਼ਾਨਾ ਜੀਵਨ ਵਿੱਚ, ਅਸੀਂ ਕਈ ਤਰ੍ਹਾਂ ਦੀਆਂ ਵਸਤਾਂ ਅਤੇ ਸੇਵਾਵਾਂ ਨੂੰ ਦੇਖਦੇ ਹਾਂ। ਜਦੋਂ ਅਸੀਂ ਭੁੱਖੇ ਹੁੰਦੇ ਹਾਂ, ਅਸੀਂ ਭੋਜਨ ਲੈਂਦੇ ਹਾਂ। ਜਦੋਂ ਅਸੀਂ ਪਿਆਸੇ ਹੁੰਦੇ ਹਾਂ, ਅਸੀਂ ਪਾਣੀ ਲੈਂਦੇ ਹਾਂ। ਇਸੇ ਤਰ੍ਹਾਂ ਸਾਨੂੰ ਲਿਖਣ ਲਈ ਕਲਮ ਅਤੇ ਕਾਗਜ਼, ਰਹਿਣ ਲਈ ਘਰ, ਬੈਠਣ ਲਈ ਕੁਰਸੀਆਂ,

ਵਸਤਾਂ ਅਤੇ ਸੇਵਾਵਾਂ

ਕੱਪੜੇ ਧੋਣ ਲਈ ਵਾਸ਼ਿੰਗ ਮਸ਼ੀਨ, ਪ੍ਰੋਗਰਾਮ ਦੇਖਣ ਲਈ ਟੈਲੀਵਿਜ਼ਨ ਆਦਿ ਬਹੁਤ ਸਾਰੇ ਸਾਮਾਨ ਦੀ ਲੋੜ ਹੁੰਦੀ ਹੈ। ਇਹ ਸਾਰੀਆਂ ਚੀਜ਼ਾਂ ਦੀਆਂ ਉਦਾਹਰਣਾਂ ਹਨ ਜੋ ਸਾਡੀਆਂ ਜ਼ਰੂਰਤਾਂ ਨੂੰ ਪੂਰਾ ਕਰਦੀਆਂ ਹਨ।

ਪਰ ਸਾਡੀਆਂ ਜ਼ਰੂਰਤਾਂ ਪੂਰੀਆਂ ਕਰਨ ਲਈ ਸਿਰਫ ਵਸਤਾਂ ਹੀ ਕਾਫ਼ੀ ਨਹੀਂ ਹਨ। ਸਾਨੂੰ ਵੱਖ-ਵੱਖ ਨੈਕਰੀਆਂ ਲਈ ਵੱਖ-ਵੱਖ ਲੋਕਾਂ ਦੀਆਂ ਸੇਵਾਵਾਂ ਦੀ ਲੋੜ ਹੁੰਦੀ ਹੈ। ਉਦਾਹਰਨ ਲਈ ਸਾਨੂੰ ਆਪਣੇ ਵਾਲ ਕੱਟਣ ਲਈ ਇੱਕ ਹੇਅਰ ਡ੍ਰੈਸਰ, ਸਾਡਾ ਇਲਾਜ ਕਰਨ ਲਈ ਇੱਕ ਡਾਕਟਰ, ਸਾਡੇ ਕੱਪੜੇ ਸਿਲਾਈ ਕਰਨ ਲਈ ਇੱਕ ਦਰਜੀ, ਸਾਡੀਆਂ ਜੁੱਤੀਆਂ ਨੂੰ ਠੀਕ ਕਰਨ ਲਈ ਇੱਕ ਮੇਚੀ ਆਦਿ ਦੀ ਲੋੜ ਹੁੰਦੀ ਹੈ। ਇਹ ਸੇਵਾਵਾਂ ਦੀਆਂ ਕੁਝ ਉਦਾਹਰਣਾਂ ਹਨ ਜੋ ਸਾਡੀਆਂ ਜ਼ਰੂਰਤਾਂ ਨੂੰ ਪੂਰਾ ਕਰਦੀਆਂ ਹਨ। ਵਸਤਾਂ ਅਤੇ ਸੇਵਾਵਾਂ ਦੋਵੇਂ ਹੀ ਮਨੁੱਖੀ ਜ਼ਰੂਰਤਾਂ ਨੂੰ ਪੂਰਾ ਕਰਦੀਆਂ ਹਨ। ਇਹ ਚੀਜ਼ਾਂ ਅਤੇ ਸੇਵਾਵਾਂ ਸਾਡੀਆਂ ਜ਼ਰੂਰਤਾਂ ਅਨੁਸਾਰ ਵਿਭਿੰਨ ਹਨ।

3.2 ਵਸਤਾਂ ਅਤੇ ਸੇਵਾਵਾਂ ਵਿਚਕਾਰ ਅੰਤਰ

ਹੁਣ ਜਦੋਂ ਅਸੀਂ ਜਾਣਦੇ ਹਾਂ ਕਿ ਚੀਜ਼ਾਂ ਅਤੇ ਸੇਵਾਵਾਂ ਦੋਵੇਂ ਮਨੁੱਖੀ ਜ਼ਰੂਰਤਾਂ ਨੂੰ ਪੂਰਾ ਕਰਨ ਲਈ ਮਹੱਤਵਪੂਰਨ ਹਨ, ਆਉ ਸਮਝੀਏ ਕਿ ਦੋਵੇਂ ਇੱਕ ਦੂਜੇ ਤੋਂ ਕਿਵੇਂ ਵੱਖਰੇ ਹਨ। ਅੰਤਰ ਦੇ ਮੁੱਖ ਨੁਕਤੇ ਹਨ:

ਵਸਤਾਂ

1. ਵਸਤਾਂ ਦ੍ਰਿਸ਼ਮਾਨ ਹੁੰਦੀਆਂ ਹਨ ਭਾਵ ਉਹਨਾਂ ਨੂੰ ਦੇਖਿਆ ਅਤੇ ਛੂਹਿਆ ਜਾ ਸਕਦਾ ਹੈ।
2. ਵਸਤਾਂ ਦੇ ਉਤਪਾਦਨ ਅਤੇ ਖਪਤ ਵਿੱਚ ਇੱਕ ਸਮੇਂ ਦਾ ਅੰਤਰ ਹੁੰਦਾ ਹੈ ਕਿਉਂਕਿ ਉਹ ਪਹਿਲਾਂ ਪੈਦਾ ਹੁੰਦੇ ਹਨ ਅਤੇ ਬਾਅਦ ਵਿੱਚ ਖਪਤ ਹੁੰਦੇ ਹਨ।
3. ਲੋੜ ਪੈਣ 'ਤੇ ਉਹਨਾਂ ਨੂੰ ਸਟੋਰ ਕੀਤਾ ਅਤੇ ਵਰਤਿਆ ਜਾ ਸਕਦਾ ਹੈ।
4. ਉਹਨਾਂ ਨੂੰ ਇੱਕ ਥਾਂ ਤੋਂ ਦੂਜੀ ਥਾਂ 'ਤੇ ਤਬਦੀਲ ਕੀਤਾ ਜਾ ਸਕਦਾ ਹੈ।

ਆਉ ਆਪਾਂ ਕਿਸੇ ਇੱਕ ਚੰਗੀ ਵਸਤੂ ਦੀ ਉਦਾਹਰਣ ਲਈਏ, ਜਿਵੇਂ ਕੁਰਸੀ। ਤੁਸੀਂ ਕੁਰਸੀ ਦੇਖ ਸਕਦੇ ਹੋ ਅਤੇ ਉਸ ਨੂੰ ਛੂਹ ਵੀ ਸਕਦੇ ਹੋ। ਤਰਖਾਣ ਪਹਿਲਾਂ ਇਸ ਨੂੰ ਆਪਣੀ ਵਰਕਸ਼ਾਪ ਵਿੱਚ

ਮੈਂਡਿਊਲ: 1

ਅਰਥਸ਼ਾਸਤਰ ਨੂੰ ਸਮਝਣਾ



ਨੋਟ



ਨੋਟ

ਬਣਾਉਂਦਾ ਹੈ। ਤੁਸੀਂ ਇਸ ਨੂੰ ਬਾਜ਼ਾਰ ਤੋਂ ਖਰੀਦਣ ਤੋਂ ਬਾਅਦ ਵਰਤਦੇ ਹੋ। ਇਸ ਲਈ ਕੁਰਸੀ ਦੇ ਉਤਪਾਦਨ ਅਤੇ ਇਸਦੀ ਖਪਤ ਵਿਚਕਾਰ ਸਮੇਂ ਦਾ ਅੰਤਰ ਹੈ। ਜੇਕਰ ਮੰਨ ਲਓ ਕਿ ਤੁਹਾਨੂੰ ਉਸ ਕੁਰਸੀ ਦੀ ਤੁਰੰਤ ਲੋੜ ਨਹੀਂ ਹੈ ਤਾਂ ਤੁਸੀਂ ਇਸਨੂੰ ਆਪਣੇ ਸਟੋਰ ਵਿੱਚ ਰੱਖ ਸਕਦੇ ਹੋ ਅਤੇ ਲੋੜ ਪੈਣ 'ਤੇ ਇਸਨੂੰ ਵਰਤ ਸਕਦੇ ਹੋ। ਤੁਸੀਂ ਇਸਨੂੰ ਕਿਸੇ ਹੋਰ ਵਿਅਕਤੀ ਨੂੰ ਦੇ ਸਕਦੇ ਹੋ ਜਾਂ ਵੇਚ ਸਕਦੇ ਹੋ।

ਸੇਵਾਵਾਂ

1. ਸੇਵਾਵਾਂ ਅਦਿਸ਼ ਹੁੰਦੀਆਂ ਹਨ, ਜਿਵੇਂ ਕਿ ਉਹਨਾਂ ਨੂੰ ਨਾ ਦੇਖਿਆ ਜਾ ਸਕਦਾ ਹੈ ਅਤੇ ਨਾ ਹੀ ਛੂਹਿਆ ਜਾ ਸਕਦਾ ਹੈ।
2. ਸੇਵਾਵਾਂ ਦੇ ਉਤਪਾਦਨ ਅਤੇ ਖਪਤ ਵਿਚਕਾਰ ਕੋਈ ਸਮੇਂ ਦਾ ਅੰਤਰ ਨਹੀਂ ਹੈ। ਇਸੇ ਲਈ ਇਨ੍ਹਾਂ ਦਾ ਉਤਪਾਦਨ ਅਤੇ ਖਪਤ ਇੱਕੋ ਸਮੇਂ ਕੀਤਾ ਜਾਂਦਾ ਹੈ।
3. ਸੇਵਾਵਾਂ ਨੂੰ ਸਟੋਰ ਨਹੀਂ ਕੀਤਾ ਜਾ ਸਕਦਾ ਹੈ।
4. ਸੇਵਾਵਾਂ ਦਾ ਤਬਾਦਲਾ ਸੰਭਵ ਨਹੀਂ ਹੈ।

ਆਉ ਅਸੀਂ ਇੱਕ ਡਾਕਟਰ ਦੀਆਂ ਸੇਵਾਵਾਂ ਦੀ ਉਦਾਹਰਣ 'ਤੇ ਵਿਚਾਰ ਕਰੀਏ। ਡਾਕਟਰ ਮਰੀਜ਼ ਦੀ ਜਾਂਚ ਕਰਦਾ ਹੈ ਅਤੇ ਦਵਾਈਆਂ ਲਿਖਦਾ ਹੈ। ਹੁਣ ਉਸਨੇ ਇੱਕ ਸੇਵਾ ਪ੍ਰਦਾਨ ਕੀਤੀ ਹੈ (ਮਰੀਜ਼ ਦੇ ਇਲਾਜ ਲਈ), ਜਿਸ ਨੂੰ ਅਸੀਂ ਦੇਖ ਜਾਂ ਛੂਹ ਨਹੀਂ ਸਕਦੇ। ਜਿਸ ਪਲ ਉਹ ਮਰੀਜ਼ ਦੀ ਜਾਂਚ ਕਰਦਾ ਹੈ, ਉਸਨੇ ਆਪਣੀਆਂ ਸੇਵਾਵਾਂ ਪ੍ਰਦਾਨ ਕੀਤੀਆਂ ਹਨ ਜੋ ਮਰੀਜ਼ ਦੁਆਰਾ ਖਪਤ ਵੀ ਕੀਤੀਆਂ ਜਾਂਦੀਆਂ ਹਨ। ਇਸ ਲਈ ਸੇਵਾਵਾਂ ਦੇ ਉਤਪਾਦਨ ਅਤੇ ਖਪਤ ਵਿੱਚ ਕੋਈ ਸਮੇਂ ਦਾ ਅੰਤਰ ਨਹੀਂ ਹੈ। ਹੁਣ ਇਸ ਸੇਵਾ ਨੂੰ ਸਟੋਰ ਜਾਂ ਤਬਦੀਲ ਨਹੀਂ ਕੀਤਾ ਜਾ ਸਕਦਾ ਹੈ।

ਪਾਠ ਅਧੀਨ ਪ੍ਰਸ਼ਨ 3.1

1. ਇਨ੍ਹਾਂ ਵਿੱਚੋਂ ਕਿਸ-ਕਿਸ ਨੂੰ ਵਸਤੂ ਕਿਹਾ ਜਾਂਦਾ ਹੈ?
 - (ੳ) ਕਾਰ
 - (ਅ) ਮੋਬਾਇਲ ਫੋਨ
 - (ੲ) ਯਾਤਰੀਆਂ ਦੀ ਆਵਾਜਾਈ
 - (ਸ) ਜੁੱਤੀਆਂ ਠੀਕ ਕਰਨਾ
2. ਇਨ੍ਹਾਂ ਵਿੱਚੋਂ ਕਿਹੜੀਆਂ ਵਸਤਾਂ ਦੀਆਂ ਵਿਸ਼ੇਸ਼ਤਾਵਾਂ ਹਨ?
 - (ੳ) ਵਸਤਾਂ ਨੂੰ ਦੇਖਿਆ ਤੇ ਛੂਹਿਆ ਜਾ ਸਕਦਾ ਹੈ।

ਵਸਤਾਂ ਅਤੇ ਸੇਵਾਵਾਂ

- (ਅ) ਵਸਤਾਂ ਨੂੰ ਤਬਦੀਲ ਨਹੀਂ ਕੀਤਾ ਜਾ ਸਕਦਾ।
- (ਬ) ਵਸਤਾਂ ਦੇ ਉਤਪਾਦਨ ਅਤੇ ਉਪਭੋਗ ਵਿੱਚ ਸਮਾਂ ਅੰਤਰਾਲ ਨਹੀਂ ਹੁੰਦਾ।
3. ਇਨ੍ਹਾਂ ਵਿੱਚੋਂ ਕਿਹੜੀਆਂ ਸੇਵਾਵਾਂ ਦੀਆਂ ਵਿਸ਼ੇਸ਼ਤਾਵਾਂ ਹਨ?
- (ੳ) ਸੇਵਾਵਾਂ ਨੂੰ ਦੇਖਿਆ ਤੇ ਛੂਹਿਆ ਜਾ ਸਕਦਾ ਹੈ।
- (ਅ) ਸੇਵਾਵਾਂ ਦੇ ਉਤਪਾਦਨ ਅਤੇ ਉਪਭੋਗ ਵਿੱਚ ਸਮਾਂ ਅੰਤਰਾਲ ਨਹੀਂ ਹੁੰਦਾ।
- (ਬ) ਸੇਵਾਵਾਂ ਨੂੰ ਸਟੋਰ ਕੀਤਾ ਜਾ ਸਕਦਾ ਹੈ।
4. ਮਨੁੱਖੀ ਜ਼ਰੂਰਤਾਂ ਇਨ੍ਹਾਂ ਦੇ ਉਪਯੋਗ ਤੋਂ ਸੰਤੁਸ਼ਟ ਹੁੰਦੀਆਂ ਹਨ:
- (ੳ) ਵਸਤਾਂ (ਅ) ਸੇਵਾਵਾਂ
- (ਬ) ਵਸਤਾਂ ਅਤੇ ਸੇਵਾਵਾਂ (ਸ) ਇਨ੍ਹਾਂ ਵਿੱਚੋਂ ਕੋਈ ਨਹੀਂ

3.3 ਵਸਤਾਂ ਅਤੇ ਸੇਵਾਵਾਂ ਦਾ ਵਰਗੀਕਰਨ

ਅਸੀਂ ਜਾਣਦੇ ਹਾਂ ਕਿ ਵੱਖ-ਵੱਖ ਕਿਸਮਾਂ ਦੇ ਉੱਦਮ ਵੱਖ-ਵੱਖ ਕਿਸਮਾਂ ਦੀਆਂ ਚੀਜ਼ਾਂ ਅਤੇ ਸੇਵਾਵਾਂ ਪੈਦਾ ਕਰਦੇ ਹਨ। ਉਹਨਾਂ ਦਾ ਵਿਅਕਤੀਗਤ ਤੌਰ 'ਤੇ

ਅਧਿਐਨ ਕਰਨਾ ਸੰਭਵ ਨਹੀਂ ਹੈ; ਇਸ ਲਈ ਉਹਨਾਂ ਨੂੰ ਸਹੀ ਢੰਗ ਨਾਲ ਸਮਝਣ ਲਈ ਸਾਨੂੰ ਉਹਨਾਂ ਨੂੰ ਕਈ ਵਿਆਪਕ ਸਮੂਹਾਂ ਵਿੱਚ

ਸ਼੍ਰੇਣੀਬੱਧ ਕਰਨਾ ਪਵੇਗਾ। ਇਹ ਵਰਗੀਕਰਨ ਕਈ ਤਰੀਕਿਆਂ ਨਾਲ ਕੀਤਾ ਜਾ ਸਕਦਾ ਹੈ। ਇਹ ਵਰਗੀਕਰਨ ਸਾਨੂੰ ਵੱਖ-ਵੱਖ ਵਸਤਾਂ ਦੇ ਸਾਪੇਖਿਕ ਆਰਥਿਕ ਮਹੱਤਵ ਨੂੰ ਸਮਝਣ ਵਿੱਚ ਮਦਦ ਕਰਦਾ ਹੈ। ਅਸੀਂ ਹੇਠਾਂ ਦਿੱਤੇ ਵਰਗੀਕਰਨਾਂ ਦਾ ਅਧਿਐਨ ਕਰਾਂਗੇ:

1. ਮੁਫਤ ਵਸਤਾਂ ਅਤੇ ਆਰਥਿਕ ਵਸਤਾਂ।
2. ਮੁਫਤ ਸੇਵਾਵਾਂ ਅਤੇ ਆਰਥਿਕ ਸੇਵਾਵਾਂ।
3. ਖਪਤਕਾਰ ਵਸਤਾਂ ਅਤੇ ਉਤਪਾਦਕ ਵਸਤਾਂ।
4. ਖਪਤਕਾਰ ਸੇਵਾਵਾਂ ਅਤੇ ਉਤਪਾਦਕ ਸੇਵਾਵਾਂ।
5. ਸਿੰਗਲ ਵਰਤੋਂ ਵਾਲੀਆਂ ਚੀਜ਼ਾਂ ਅਤੇ ਟਿਕਾਊ ਵਰਤੋਂ ਵਾਲੀਆਂ ਚੀਜ਼ਾਂ।
6. ਨਿੱਜੀ ਵਸਤਾਂ ਅਤੇ ਜਨਤਕ ਵਸਤਾਂ।

ਮੈਂਡਿਊਲ: 1

ਅਰਥਸ਼ਾਸਤਰ ਨੂੰ ਸਮਝਣਾ



ਨੋਟ



ਨੋਟ

1. ਮੁਫਤ ਵਸਤਾਂ ਅਤੇ ਆਰਥਿਕ ਵਸਤਾਂ

ਅਸੀਂ ਮੰਨ ਲਈਏ ਕਿ ਤੁਸੀਂ ਮਾਰੂਥਲ ਵਿੱਚ ਹੋ। ਜੇਕਰ ਤੁਸੀਂ ਇੱਕ ਬੈਗ ਰੇਤ ਨਾਲ ਭਰਦੇ ਹੋ, ਤਾਂ ਤੁਹਾਨੂੰ ਕੋਈ ਕੀਮਤ ਅਦਾ ਕਰਨ ਦੀ ਲੋੜ ਨਹੀਂ ਹੈ। ਪਰ ਇੱਕ ਸ਼ਹਿਰ ਵਿੱਚ, ਤੁਹਾਨੂੰ ਇਸਦੇ ਲਈ ਭੁਗਤਾਨ ਕਰਨਾ ਪਵੇਗਾ। ਇਹ ਉਦਾਹਰਣ ਇੱਕ ਮੁਫਤ ਵਸਤੂ ਨੂੰ ਆਰਥਿਕ ਵਸਤੂ ਤੋਂ ਵੱਖ ਕਰਨ ਵਿੱਚ ਸਾਡੀ ਮਦਦ ਕਰਦੀ ਹੈ। ਮੁਫਤ ਵਸਤਾਂ ਕੁਦਰਤ ਦੀ ਮੁਫਤ ਦਾਤ ਹਨ। ਉਹ ਭਰਪੂਰ ਮਾਤਰਾ ਵਿੱਚ ਉਪਲੱਬਧ ਹਨ ਭਾਵ ਅਸੀਮਤ ਮਾਤਰਾ ਵਿੱਚ ਅਤੇ ਸਪਲਾਈ ਮੰਗ ਨਾਲੋਂ ਕਿਤੇ ਵੱਧ ਹੈ। ਉਹਨਾਂ ਨੂੰ ਪ੍ਰਾਪਤ ਕਰਨ ਲਈ ਤੁਹਾਨੂੰ ਕੁਝ ਵੀ ਅਦਾ ਕਰਨ ਦੀ ਲੋੜ ਨਹੀਂ ਹੈ। ਇਸੇ ਲਈ ਇਨ੍ਹਾਂ ਨੂੰ ਮੁਫਤ ਦਾ ਵਸਤੂ ਕਿਹਾ ਜਾਂਦਾ ਹੈ। ਸੰਖੇਪ ਵਿੱਚ ਅਸੀਂ ਮੁਫਤ ਵਸਤਾਂ ਨੂੰ ਉਹਨਾਂ ਵਸਤਾਂ ਵਜੋਂ ਪਰਿਭਾਸ਼ਤ ਕਰ ਸਕਦੇ ਹਾਂ ਜਿਸ ਵਿੱਚ ਉਪਯੋਗਤਾ ਹੁੰਦੀ ਹੈ ਪਰ ਜਿਨ੍ਹਾਂ ਦੀ ਘਾਟ ਨਹੀਂ ਹੁੰਦੀ ਹੈ।

ਆਪਣੇ ਰੋਜ਼ਾਨਾ ਜੀਵਨ ਵਿੱਚ ਅਸੀਂ ਟੂਥਪੇਸਟ, ਸਾਬਣ, ਸੇਵਿੰਗ ਕਰੀਮ, ਜੁੱਤੀਆਂ, ਬਰੈਂਡ ਆਦਿ ਦੀ ਵਰਤੋਂ ਕਰਦੇ ਹਾਂ, ਇਹ ਚੀਜ਼ਾਂ ਮਨੁੱਖ ਦੁਆਰਾ ਬਣਾਈਆਂ ਗਈਆਂ ਹਨ ਅਤੇ ਇਹਨਾਂ ਦੀ ਸਪਲਾਈ ਅਸੀਮਤ ਨਹੀਂ ਹੈ। ਇਸੇ ਤਰ੍ਹਾਂ ਅਸੀਂ ਮਸ਼ੀਨਾਂ, ਬੱਸਾਂ, ਮੇਜ਼, ਕੁਰਸੀ, ਕਿਤਾਬਾਂ, ਪੱਖੇ, ਟੈਲੀਵਿਜ਼ਨ ਆਦਿ ਦੀ ਵਰਤੋਂ ਕਰਦੇ ਹਾਂ, ਉਹ ਵੀ ਮਨੁੱਖ ਦੁਆਰਾ ਬਣਾਏ ਗਏ ਹਨ ਅਤੇ ਇਨ੍ਹਾਂ ਦੀ ਸਪਲਾਈ ਅਸੀਮਤ ਨਹੀਂ ਹੈ। ਅਸੀਂ ਘਰ ਵਿੱਚ ਵੱਖ-ਵੱਖ ਉਦੇਸ਼ਾਂ ਲਈ ਪਾਣੀ, ਉਸਾਰੀ ਲਈ ਰੇਤ ਅਤੇ ਵੱਖ-ਵੱਖ ਖਣਿਜਾਂ ਨੂੰ ਵੱਖ-ਵੱਖ ਰੂਪਾਂ ਵਿੱਚ ਵਰਤਦੇ ਹਾਂ। ਇਹ ਮਨੁੱਖ ਦੁਆਰਾ ਬਣਾਏ ਨਹੀਂ ਸਗੋਂ ਕੁਦਰਤ ਦੇ ਮੁਫਤ ਤੋਹਫ਼ੇ ਹਨ। ਪਰ ਕਿਉਂਕਿ ਉਹ ਦੁਰਲੱਭ ਹਨ, ਉਨ੍ਹਾਂ ਦੀ ਘਾਟ ਹੁੰਦੀ ਹੈ ਭਾਵ ਉਹਨਾਂ ਦੀ ਮੰਗ ਉਹਨਾਂ ਦੀ ਸਪਲਾਈ ਨਾਲੋਂ ਵੱਧ ਹੈ, ਉਹ ਇੱਕ ਕੀਮਤ ਨਿਰਧਾਰਤ ਕਰਦੇ ਹਨ ਅਤੇ ਮੁਫਤ ਵਿੱਚ ਉਪਲੱਬਧ ਨਹੀਂ ਹਨ। ਉਹ ਆਰਥਿਕ ਵਸਤਾਂ ਹਨ।

ਆਰਥਿਕ ਵਸਤਾਂ ਉਹ ਵਸਤਾਂ ਹਨ (ਮਨੁੱਖੀ ਜਾਂ ਕੁਦਰਤ ਦੇ ਮੁਫਤ ਤੋਹਫ਼ੇ) ਜਿਨ੍ਹਾਂ ਦੀ ਮੰਗ ਸਪਲਾਈ ਨਾਲੋਂ ਵੱਧ ਹੈ। ਉਹਨਾਂ ਲਈ ਕੀਮਤ ਅਦਾ ਕਰਦੇ ਹਾਂ ਅਤੇ ਉਹਨਾਂ ਨੂੰ ਬਾਜ਼ਾਰ ਵਿੱਚੋਂ ਖਰੀਦਿਆ ਜਾ ਸਕਦਾ ਹੈ।

2. ਮੁਫਤ ਸੇਵਾਵਾਂ ਅਤੇ ਆਰਥਿਕ ਸੇਵਾਵਾਂ

ਸੇਵਾਵਾਂ ਦੇ ਮਾਮਲੇ ਵਿੱਚ ਵੀ, ਮੁਫਤ ਸੇਵਾਵਾਂ ਅਤੇ ਆਰਥਿਕ ਸੇਵਾਵਾਂ ਹਨ। ਮੁਫਤ ਸੇਵਾਵਾਂ ਉਹ ਹਨ, ਜੋ ਬਾਜ਼ਾਰ ਵਿੱਚ ਨਹੀਂ ਖਰੀਦੀਆਂ ਜਾ ਸਕਦੀਆਂ ਹਨ ਅਤੇ ਜੋ ਪਿਆਰ, ਸਨੇਹ ਆਦਿ ਦੇ ਨਾਲ ਪ੍ਰਦਾਨ ਕੀਤੀਆਂ ਜਾਂਦੀਆਂ ਹਨ। ਉਦਾਹਰਨ ਲਈ ਮਾਪਿਆਂ ਦੀਆਂ ਆਪਣੇ ਬੱਚਿਆਂ ਲਈ

ਵਸਤਾਂ ਅਤੇ ਸੇਵਾਵਾਂ

ਸੇਵਾਵਾਂ। ਉਹ ਸਾਰੀਆਂ ਸੇਵਾਵਾਂ, ਜੋ ਬਾਜ਼ਾਰ ਵਿੱਚ ਖਰੀਦੀਆਂ ਜਾ ਸਕਦੀਆਂ ਹਨ, ਆਰਥਿਕ ਸੇਵਾਵਾਂ ਹਨ ਜਿਵੇਂ ਕਿ ਡਾਕਟਰਾਂ, ਇੰਜੀਨੀਅਰਾਂ ਆਦਿ ਦੀਆਂ ਸੇਵਾਵਾਂ। ਵਸਤਾਂ ਅਤੇ ਸੇਵਾਵਾਂ ਦਾ ਬਾਕੀ ਵਰਗੀਕਰਨ ਸਿਰਫ਼ ਆਰਥਿਕ ਵਸਤਾਂ ਅਤੇ ਸੇਵਾਵਾਂ ਨਾਲ ਹੀ ਹੁੰਦਾ ਹੈ।

3. ਖਪਤਕਾਰ ਵਸਤਾਂ ਅਤੇ ਉਤਪਾਦਕ ਵਸਤਾਂ

ਇਹ ਵਰਗੀਕਰਨ ਉਸ ਉਦੇਸ਼ 'ਤੇ ਆਧਾਰਿਤ ਹੈ ਜਿਸ ਲਈ ਕਿਸੇ ਖਾਸ ਚੀਜ਼ ਦੀ ਵਰਤੋਂ ਕੀਤੀ ਜਾਂਦੀ ਹੈ। ਖਪਤਕਾਰ ਵਸਤਾਂ ਉਹ ਵਸਤਾਂ ਹਨ, ਜੋ ਸਿੱਧੇ ਤੌਰ 'ਤੇ ਖਪਤਕਾਰਾਂ ਦੀ ਲੋੜ ਨੂੰ ਪੂਰਾ ਕਰਦੀਆਂ ਹਨ। ਉਹ ਵਸਤਾਂ ਹਨ, ਜੋ ਖਪਤ ਲਈ ਵਰਤੀਆਂ ਜਾਂਦੀਆਂ ਹਨ। ਉਦਾਹਰਣ ਵਜੋਂ ਰੋਟੀ, ਫਲ, ਦੁੱਧ, ਕੱਪੜੇ ਆਦਿ।

ਉਤਪਾਦਕ ਵਸਤਾਂ ਉਹ ਵਸਤਾਂ ਹੁੰਦੀਆਂ ਹਨ, ਜੋ ਅਸਿੱਧੇ ਤੌਰ 'ਤੇ ਖਪਤਕਾਰਾਂ ਦੀਆਂ ਲੋੜਾਂ ਨੂੰ ਪੂਰਾ ਕਰਦੀਆਂ ਹਨ। ਕਿਉਂਕਿ ਉਹ ਹੋਰ ਵਸਤਾਂ ਦੇ ਉਤਪਾਦਨ ਵਿੱਚ ਮਦਦ ਕਰਦੀਆਂ ਹਨ, ਉਨ੍ਹਾਂ ਨੂੰ ਉਤਪਾਦਕ ਵਸਤਾਂ ਵਜੋਂ ਜਾਣਿਆ ਜਾਂਦਾ ਹੈ। ਉਦਾਹਰਨ ਲਈ ਮਸ਼ੀਨਰੀ, ਸੰਦ, ਕੱਚਾ ਮਾਲ, ਬੀਜ, ਖਾਦ ਅਤੇ ਟਰੈਕਟਰ ਆਦਿ ਸਭ ਉਤਪਾਦਕ ਵਸਤਾਂ ਦੀਆਂ ਉਦਾਹਰਣਾਂ ਹਨ।

3 ਏ. ਵਿਚਕਾਰਲੀ ਵਸਤੂ

ਅੰਤਮ ਵਸਤੂਆਂ ਅਤੇ ਸੇਵਾਵਾਂ ਦੇ ਹੋਰ ਉਤਪਾਦਨ ਲਈ ਉਤਪਾਦਕਾਂ ਦੁਆਰਾ ਵਰਤੇ ਜਾਂਦੇ ਕੱਚੇ ਮਾਲ, ਬਿਜਲੀ, ਈਧਨ ਆਦਿ ਨੂੰ ਵਿਚਕਾਰਲੀ ਵਸਤੂ ਵੀ ਕਿਹਾ ਜਾਂਦਾ ਹੈ। ਉਦਾਹਰਨ: ਕਣਕ ਦਾ ਆਟਾ ਬੈਕਰੀ ਵਿੱਚ ਰੋਟੀ ਦੇ ਉਤਪਾਦਨ ਵਿੱਚ ਇੱਕ ਵਿਚਕਾਰਲੀ ਵਸਤੂ ਹੈ।

4. ਖਪਤਕਾਰ ਸੇਵਾਵਾਂ ਅਤੇ ਉਤਪਾਦਕ ਸੇਵਾਵਾਂ

ਇੱਥੇ ਵੀ ਵਰਗੀਕਰਨ ਦਾ ਆਧਾਰ ਵਸਤਾਂ ਵਰਗਾ ਹੀ ਹੈ। ਜਦੋਂ ਖਪਤਕਾਰ ਜਾਂ ਪਰਿਵਾਰ ਸਿੱਧੇ ਤੌਰ 'ਤੇ ਸੇਵਾਵਾਂ ਦੀ ਵਰਤੋਂ ਕਰਦੇ ਹਨ, ਤਾਂ ਉਨ੍ਹਾਂ ਨੂੰ ਖਪਤਕਾਰ ਸੇਵਾਵਾਂ ਵਜੋਂ ਜਾਣਿਆ ਜਾਂਦਾ ਹੈ। ਉਦਾਹਰਨ ਲਈ, ਤੁਹਾਡੀ ਕਮੀਜ਼ ਨੂੰ ਸਿਲਾਈ ਕਰਨ ਵਾਲੇ ਕਿਸੇ ਦਰਜੀ ਦੀਆਂ ਸੇਵਾਵਾਂ ਜਾਂ ਤੁਹਾਡਾ ਇਲਾਜ ਕਰਨ ਵਾਲੇ ਡਾਕਟਰ ਦੀਆਂ ਸੇਵਾਵਾਂ ਜਾਂ ਤੁਹਾਡੀ ਲੀਕ ਹੋਈ ਟੂਟੀ ਦੀ ਮੁਰੰਮਤ ਕਰਨ ਵਾਲੇ ਪਲੰਬਰ ਦੀਆਂ ਸੇਵਾਵਾਂ, ਆਦਿ।

ਦੂਜੇ ਪਾਸੇ ਉਤਪਾਦਕ ਸੇਵਾਵਾਂ ਦੀ ਵਰਤੋਂ ਹੋਰ ਚੀਜ਼ਾਂ ਅਤੇ ਸੇਵਾਵਾਂ ਦੇ ਉਤਪਾਦਨ ਲਈ ਕੀਤੀ

ਮੈਂਡਿਊਲ: 1

ਅਰਥਸ਼ਾਸਤਰ ਨੂੰ ਸਮਝਣਾ



ਨੋਟ



ਨੋਟ

ਜਾਂਦੀ ਹੈ, ਜੋ ਬਦਲੇ ਵਿੱਚ ਖਪਤਕਾਰਾਂ ਦੁਆਰਾ ਮੰਗੀ ਜਾਂਦੀ ਹੈ। ਦੂਜੇ ਸ਼ਬਦਾਂ ਵਿੱਚ ਉਤਪਾਦਕ ਸੇਵਾਵਾਂ ਅਸਿੱਧੇ ਤੌਰ 'ਤੇ ਮਨੁੱਖ ਦੀਆਂ ਜ਼ਰੂਰਤਾਂ ਨੂੰ ਸੰਤੁਸ਼ਟ ਕਰਦੀਆਂ ਹਨ। ਉਦਾਹਰਨ ਲਈ, ਇੱਕ ਦਰਜੀ ਇੱਕ ਰੈਡੀਮੇਡ ਕੱਪੜੇ ਦੀ ਦੁਕਾਨ ਲਈ ਇੱਕ ਕਮੀਜ਼ ਦੀ ਸਿਲਾਈ ਕਰਦਾ ਹੈ, ਇੱਕ ਇਲੈਕਟ੍ਰੀਸ਼ੀਅਨ ਇੱਕ ਉਤਪਾਦਨ ਯੂਨਿਟ ਵਿੱਚ ਬਿਜਲੀ ਦੀ ਸਪਲਾਈ ਵਿੱਚ ਨੁਕਸ ਦੀ ਮੁਰੰਮਤ ਕਰਦਾ ਹੈ ਜਾਂ ਇੱਥੋਂ ਤੱਕ ਕਿ ਇੱਕ ਟਰੱਕ-ਕੱਚੇ ਮਾਲ ਨੂੰ ਫੈਕਟਰੀ ਤੱਕ ਪਹੁੰਚਾਉਂਦਾ ਹੈ।

5. ਇਕਹਿਰੀ ਵਰਤੋਂ ਅਤੇ ਟਿਕਾਊ ਵਰਤੋਂ ਵਾਲੀਆਂ ਚੀਜ਼ਾਂ

ਸਾਰੀਆਂ ਕਿਸਮਾਂ ਦੀਆਂ ਵਸਤਾਂ ਭਾਵੇਂ ਖਪਤਕਾਰ ਵਸਤਾਂ ਜਾਂ ਉਤਪਾਦਕ ਵਸਤਾਂ ਨੂੰ ਇਕਹਿਰੀ ਵਰਤੋਂ ਅਤੇ ਟਿਕਾਊ ਵਰਤੋਂ ਵਾਲੀਆਂ ਵਸਤਾਂ ਵਿੱਚ ਸ਼੍ਰੇਣੀਬੱਧ ਕੀਤਾ ਗਿਆ ਹੈ। ਇਕਹਿਰੀ ਵਰਤੋਂ ਵਾਲੀਆਂ ਵਸਤਾਂ ਉਹ ਵਸਤਾਂ ਹਨ, ਜਿਨ੍ਹਾਂ ਦੀ ਵਰਤੋਂ ਸਿਰਫ਼ ਇੱਕ ਵਾਰ ਕੀਤੀ ਜਾ ਸਕਦੀ ਹੈ। ਉਹ ਸਿਰਫ਼ ਇੱਕ ਵਰਤੋਂ ਵਿੱਚ ਹੀ ਖਤਮ ਹੋ ਜਾਂਦੀਆਂ ਹਨ। ਉਦਾਹਰਨ ਲਈ ਬਰੈੱਡ, ਮੱਖਣ, ਆਂਡਾ, ਦੁੱਧ ਆਦਿ ਇੱਕ ਵਾਰ ਵਰਤੋਂ ਦੀਆਂ ਖਪਤਕਾਰ ਵਸਤਾਂ ਹਨ ਕਿਉਂਕਿ ਇਹ ਤੁਰੰਤ ਅਤੇ ਇੱਕ ਵਾਰ ਖਾਧੀਆਂ ਜਾਂਦੀਆਂ ਹਨ। ਇਸੇ ਤਰ੍ਹਾਂ ਇਕੱਲੇ ਵਰਤੋਂ ਵਾਲੇ ਉਤਪਾਦਕ ਵਸਤਾਂ ਇੱਕ ਉਤਪਾਦਨ ਪ੍ਰਕਿਰਿਆ ਵਿੱਚ ਖਤਮ ਹੋ ਜਾਂਦੀਆਂ ਹਨ। ਉਦਾਹਰਨ ਲਈ ਕੋਲਾ, ਕੱਚਾ ਮਾਲ, ਬੀਜ, ਖਾਦ ਆਦਿ ਇਸ ਨੂੰ ਹੋਰ ਵਿਸਤਾਰ ਦੇਣ ਲਈ ਆਓ ਅਸੀਂ ਖੰਡ ਦੇ ਉਤਪਾਦਨ ਦੀ ਉਦਾਹਰਣ ਲਈਏ। ਇੱਥੇ ਕੱਚਾ ਮਾਲ ਗੰਨਾ ਹੈ, ਜਿਸ ਦੀ ਵਰਤੋਂ ਸਿਰਫ਼ ਇੱਕ ਵਾਰ ਕੀਤੀ ਜਾਂਦੀ ਹੈ।

ਟਿਕਾਊ ਵਰਤੋਂ ਵਾਲੀਆਂ ਵਸਤਾਂ ਉਹ ਵਸਤਾਂ ਹੁੰਦੀਆਂ ਹਨ, ਜਿਨ੍ਹਾਂ ਨੂੰ ਵਾਰ-ਵਾਰ ਲੰਬੇ ਸਮੇਂ ਤੱਕ ਵਰਤਿਆ ਜਾ ਸਕਦਾ ਹੈ। ਟਿਕਾਊ ਵਰਤੋਂ ਵਾਲੀਆਂ ਖਪਤਕਾਰ ਵਸਤਾਂ ਦੇ ਨਾਲ-ਨਾਲ ਟਿਕਾਊ ਵਰਤੋਂ ਉਤਪਾਦਕ ਵਸਤਾਂ ਵੀ ਹਨ। ਟਿਕਾਊ ਵਰਤੋਂ ਵਾਲੀਆਂ ਖਪਤਕਾਰ ਵਸਤਾਂ ਕੱਪੜਾ, ਫਰਨੀਚਰ, ਟੈਲੀਵਿਜ਼ਨ, ਸਕੂਟਰ ਆਦਿ ਹਨ ਜਿਨ੍ਹਾਂ ਦੀ ਵਰਤੋਂ ਉਪਭੋਗਤਾ ਵਾਰ-ਵਾਰ ਕਰ ਸਕਦਾ ਹੈ। ਟਿਕਾਊ ਵਰਤੋਂ ਵਾਲੇ ਉਤਪਾਦਕ ਵਸਤਾਂ ਦੀ ਵਰਤੋਂ ਉਤਪਾਦਨ ਵਿੱਚ ਵਾਰ-ਵਾਰ ਕੀਤੀ ਜਾਂਦੀ ਹੈ, ਉਦਾਹਰਣ ਵਜੋਂ, ਮਸ਼ੀਨਾਂ, ਐਂਜ਼ਾਰ, ਟਰੈਕਟਰ ਆਦਿ। ਇਸ ਦਾ ਇਹ ਮਤਲਬ ਨਹੀਂ ਹੈ ਕਿ ਇਨ੍ਹਾਂ ਵਸਤਾਂ ਦੀ ਵਾਰ-ਵਾਰ ਵਰਤੋਂ ਕਰਨ ਨਾਲ ਇਨ੍ਹਾਂ ਨੂੰ ਕੋਈ ਫਰਕ ਨਹੀਂ ਪੈਂਦਾ। ਅਸਲ ਵਿੱਚ ਇਨ੍ਹਾਂ ਵਸਤਾਂ ਦੀ ਕੀਮਤ ਲਗਾਤਾਰ ਵਰਤੋਂ ਤੋਂ ਬਾਅਦ ਘਟ ਜਾਂਦੀ ਹੈ।

6. ਨਿੱਜੀ ਵਸਤਾਂ ਅਤੇ ਜਨਤਕ ਵਸਤਾਂ

ਵਸਤਾਂ ਨੂੰ ਉਹਨਾਂ ਦੀ ਮਾਲਕੀ ਦੇ ਆਧਾਰ 'ਤੇ ਵਰਗੀਕ੍ਰਿਤ ਕੀਤਾ ਜਾ ਸਕਦਾ ਹੈ। ਉਹ ਸਾਰੀਆਂ ਵਸਤਾਂ ਜੋ ਨਿੱਜੀ ਤੌਰ 'ਤੇ ਮਲਕੀਅਤ ਵਾਲੀਆਂ ਹਨ ਅਤੇ ਵਿਅਕਤੀਗਤ ਤੌਰ 'ਤੇ

ਵਸਤਾਂ ਅਤੇ ਸੇਵਾਵਾਂ

ਆਨੰਦ ਮਾਣਿਆ ਜਾਂਦਾ ਹੈ, ਨੂੰ ਨਿੱਜੀ ਵਸਤਾਂ ਕਿਹਾ ਜਾਂਦਾ ਹੈ। ਉਦਾਹਰਨ ਲਈ ਤੁਹਾਡੀ ਮਲਕੀਅਤ ਵਾਲੀਆਂ ਸਾਰੀਆਂ ਵਸਤਾਂ ਨਿੱਜੀ ਵਸਤਾਂ ਹਨ। ਇਸ ਵਿੱਚ ਤੁਹਾਡੀ ਘੜੀ, ਪੈੱਨ, ਸਕੂਟਰ, ਕਿਤਾਬਾਂ, ਮੇਜ਼,

ਕੁਰਸੀ, ਬਿਸਤਰਾ, ਕੱਪੜੇ ਆਦਿ ਸ਼ਾਮਲ ਹਨ। ਜੇਕਰ ਤੁਸੀਂ ਇੱਕ ਫੈਕਟਰੀ ਦੇ ਮਾਲਕ ਹੋ ਤਾਂ ਉਸ ਦੀ ਇਮਾਰਤ, ਮਸ਼ੀਨਰੀ; ਔਜ਼ਾਰ ਆਦਿ ਤੁਹਾਡੀਆਂ ਨਿੱਜੀ ਵਸਤਾਂ ਹਨ।

ਜਨਤਕ ਵਸਤਾਂ ਉਹ ਵਸਤਾਂ ਹੁੰਦੀਆਂ ਹਨ, ਜਿਨ੍ਹਾਂ ਦੀ ਜਨਤਕ ਮਲਕੀਅਤ ਹੁੰਦੀ ਹੈ ਅਤੇ ਸਮੁੱਚੇ ਤੌਰ 'ਤੇ ਸਮਾਜ ਦੁਆਰਾ ਮਾਣਿਆ ਜਾਂਦਾ ਹੈ। ਉਦਾਹਰਣ ਵਜੋਂ ਸੜਕਾਂ, ਪੁਲ, ਪਾਰਕ, ਟਾਊਨ ਹਾਲ ਆਦਿ ਸਭ ਸਮੂਹਿਕ ਤੌਰ 'ਤੇ ਜਨਤਕ ਮਲਕੀਅਤ ਹਨ। ਉਹ ਬਿਨਾਂ ਕਿਸੇ ਭੇਦਭਾਵ ਦੇ ਸਮਾਜ ਦੇ ਸਾਰੇ ਲੋਕਾਂ ਲਈ ਉਪਲੱਬਧ ਹਨ, ਭਾਵ ਕਿਸੇ ਨੂੰ ਵੀ ਜਨਤਕ ਵਸਤਾਂ ਦੀ ਖਪਤ ਤੋਂ ਇਨਕਾਰ ਨਹੀਂ ਕੀਤਾ ਜਾਂਦਾ ਹੈ। ਸਰਕਾਰੀ ਅਤੇ ਨਿੱਜੀ ਉੱਦਮੀ ਦੋਵੇਂ ਜਨਤਕ ਵਸਤਾਂ ਦਾ ਉਤਪਾਦਨ ਕਰ ਸਕਦੇ ਹਨ।

ਪਾਠ ਅਧੀਨ ਪ੍ਰਸ਼ਨ 3.2

ਨਿਮਨਲਿਖਤ ਵਿੱਚੋਂ ਕਿਹੜਾ ਸਹੀ ਹੈ?

- ਆਰਥਿਕ ਵਸਤਾਂ ਉਹ ਵਸਤਾਂ ਹਨ :
 - ਜੇ ਸੀਮਤ ਹੋਣ
 - ਜਿਨ੍ਹਾਂ ਦੀ ਕੀਮਤ ਹੋਵੇ
 - ਜੇ ਸੀਮਤ ਹੋਣ ਅਤੇ ਜਿਨ੍ਹਾਂ ਦੀ ਕੀਮਤ ਹੋਵੇ।
- ਉਪਭੋਗਤਾ ਵਸਤਾਂ ਉਹ ਵਸਤਾਂ ਹਨ ;
 - ਜੇ ਅੱਗੇ ਉਤਪਾਦਨ ਵਿੱਚ ਸਹਾਇਤਾ ਕਰਦੀਆਂ ਹਨ।
 - ਜੇ ਪ੍ਰਤੱਖ ਰੂਪ ਨਾਲ ਮਨੁੱਖੀ ਜ਼ਰੂਰਤਾਂ ਦੀ ਪੂਰਤੀ ਕਰਨ।
 - ਇਨ੍ਹਾਂ ਵਿੱਚੋਂ ਕੋਈ ਨਹੀਂ।
- ਉਤਪਾਦਕ ਵਸਤਾਂ ਦੀ ਉਦਾਹਰਨ ਹੈ:
 - ਮਸ਼ੀਨਾਂ
 - ਟਰੈਕਟਰ
 - ਡਬਲਰੇਟੀ
 - ਕੱਚਾ ਮਾਲ

ਮੈਂਡਿਊਲ: 1

ਅਰਥਸ਼ਾਸਤਰ ਨੂੰ ਸਮਝਣਾ



ਨੋਟ



ਨੋਟ

4. ਇਨ੍ਹਾਂ ਵਿੱਚੋਂ ਕਿਹੜੇ ਕਥਨ ਸਹੀ ਹਨ?
- (ੳ) ਮੁਫਤ ਵਸਤਾਂ ਉਹ ਹਨ ਜਿਨ੍ਹਾਂ ਦੀ ਸਪਲਾਈ ਮੰਗ ਤੋਂ ਜ਼ਿਆਦਾ ਹੁੰਦੀ ਹੈ।
 - (ਅ) ਇਕਹਿਰੀ ਵਰਤੋਂ ਵਾਲੀਆਂ ਵਸਤਾਂ ਉਹ ਹਨ ਜਿਨ੍ਹਾਂ ਦਾ ਕੇਵਲ ਇੱਕ ਵਾਰ ਪ੍ਰਯੋਗ ਹੁੰਦਾ ਹੈ।
 - (ੲ) ਚੀਰਘ ਉਪਯੋਗੀ ਵਸਤਾਂ ਦਾ ਬਾਰ-ਬਾਰ ਪ੍ਰਯੋਗ ਹੋ ਸਕਦਾ ਹੈ।
 - (ਸ) ਜਨਤਕ ਵਸਤਾਂ ਉਹ ਵਸਤਾਂ ਹਨ ਜਿਨ੍ਹਾਂ ਦਾ ਮਾਲਕ ਸਾਰਾ ਸਮਾਜ ਹੁੰਦਾ ਹੈ।

3.4 ਆਰਥਿਕਤਾ ਵਿੱਚ ਵਸਤਾਂ ਅਤੇ ਸੇਵਾਵਾਂ ਦੀ ਭੂਮਿਕਾ ਅਤੇ ਮਹੱਤਵ

ਵਸਤਾਂ ਅਤੇ ਸੇਵਾਵਾਂ ਦੀ ਆਰਥਿਕਤਾ ਵਿੱਚ ਬਹੁਮੁਖੀ ਭੂਮਿਕਾ ਹੁੰਦੀ ਹੈ। ਉਨ੍ਹਾਂ ਦੀ ਭੂਮਿਕਾ ਨੂੰ ਇਸ ਸਬੰਧ ਵਿੱਚ ਕਿਹਾ ਜਾ ਸਕਦਾ ਹੈ-

1. ਮਨੁੱਖੀ ਜ਼ਰੂਰਤਾਂ

ਤੁਸੀਂ ਅਧਿਐਨ ਕੀਤਾ ਹੈ ਕਿ ਮਨੁੱਖ ਦੀਆਂ ਜ਼ਰੂਰਤਾਂ ਅਸੀਮਤ ਹਨ ਅਤੇ ਉਹ ਲਗਾਤਾਰ ਵਧ ਰਹੀਆਂ ਹਨ। ਭਾਵ ਜੇਕਰ ਕੱਪੜੇ, ਜੁੱਤੀਆਂ, ਫਰਨੀਚਰ, ਭਾਂਡੇ, ਟੈਲੀਵਿਜ਼ਨ, ਸਕੂਟਰ, ਫਲ, ਸਬਜ਼ੀਆਂ, ਅਨਾਜ ਅਤੇ ਡਾਕਟਰ, ਪਲੰਬਰ, ਇਲੈਕਟ੍ਰੀਸ਼ੀਅਨ ਆਦਿ ਦੀਆਂ ਸੇਵਾਵਾਂ ਜਿਵੇਂ ਕਿ ਵੱਖ-ਵੱਖ ਵਸਤਾਂ ਅਤੇ ਸੇਵਾਵਾਂ ਦੀ ਉਪਲਬੱਧਤਾ ਵਧਦੀ ਹੈ, ਤਾਂ ਇਹ ਮਨੁੱਖ ਦੀਆਂ ਹੋਰ ਲੋੜਾਂ ਨੂੰ ਪੂਰਾ ਕਰੇਗੀ।

2. ਉਤਪਾਦਨ

ਵਧਦੀਆਂ ਮਨੁੱਖੀ ਲੋੜਾਂ ਨੂੰ ਪੂਰਾ ਕਰਨ ਲਈ ਸਾਨੂੰ ਖਪਤਕਾਰ ਵਸਤਾਂ ਅਤੇ ਸੇਵਾਵਾਂ ਦੀ ਲੋੜ ਹੁੰਦੀ ਹੈ। ਪਰ ਉਪਭੋਗਤਾ ਵਸਤਾਂ ਅਤੇ ਸੇਵਾਵਾਂ ਦੀ ਉਪਲੱਬਧਤਾ ਵਿੱਚ ਇਹ ਵਾਧਾ ਉਤਪਾਦਕ ਵਸਤਾਂ ਅਤੇ ਸੇਵਾਵਾਂ ਦੀ ਵਧੀ ਹੋਈ ਉਪਲੱਬਧਤਾ 'ਤੇ ਨਿਰਭਰ ਕਰਦਾ ਹੈ। ਜੇਕਰ ਸਾਡੇ ਕੋਲ ਵੱਧ ਤੋਂ ਵੱਧ ਮਸ਼ੀਨਰੀ, ਕੱਚਾ ਮਾਲ, ਟਰੈਕਟਰ, ਬੀਜ, ਖਾਦ ਆਦਿ ਹੋਵੇ ਤਾਂ ਅਸੀਂ ਹੋਰ ਉਤਪਾਦਨ ਕਰ

ਸਕਦੇ ਹਾਂ, ਇਸੇ ਤਰ੍ਹਾਂ ਸਾਨੂੰ ਆਵਾਜਾਈ ਸੇਵਾਵਾਂ, ਬੈਂਕਿੰਗ ਅਤੇ ਬੀਮਾ ਸੇਵਾਵਾਂ ਦੀ ਲੋੜ ਹੈ। ਇਸ ਤਰ੍ਹਾਂ ਇਹ ਉਤਪਾਦਕ ਦੀਆਂ ਵਸਤਾਂ ਅਤੇ ਸੇਵਾਵਾਂ ਦੀ ਮਾਤਰਾ ਅਤੇ ਗੁਣਵੱਤਾ ਹੈ ਜੋ ਬਾਜ਼ਾਰ ਵਿੱਚ ਖਪਤਕਾਰ ਵਸਤਾਂ ਅਤੇ ਸੇਵਾਵਾਂ ਦੀ ਉਪਲੱਬਧਤਾ ਨੂੰ ਨਿਰਧਾਰਤ ਕਰੇਗੀ।

3. ਨਿਵੇਸ਼

ਵਸਤਾਂ ਅਤੇ ਸੇਵਾਵਾਂ ਦੇ ਉਤਪਾਦਨ ਵਿੱਚ ਵਾਧਾ ਨਿਵੇਸ਼ ਦਾ ਪੱਧਰ ਵੀ ਨਿਰਧਾਰਤ ਕਰੇਗਾ। ਵਸਤਾਂ ਅਤੇ ਸੇਵਾਵਾਂ ਦੀ ਮਾਤਰਾ ਦੇ ਮੱਦੇਨਜ਼ਰ, ਇਸ ਦਾ ਇੱਕ ਹਿੱਸਾ ਖਪਤ ਕੀਤਾ ਜਾਂਦਾ ਹੈ, ਜੋ ਮਨੁੱਖ ਦੀਆਂ ਇੱਛਾਵਾਂ ਨੂੰ ਪੂਰਾ ਕਰਦਾ ਹੈ। ਜੇ ਵੀ ਖਪਤ ਨਹੀਂ ਕੀਤੀ ਜਾਂਦੀ ਉਹ ਅੱਗੇ ਉਤਪਾਦਨ ਲਈ ਵਰਤੀ ਜਾਂਦੀ ਹੈ ਅਤੇ ਇਸ ਦੇ ਨਤੀਜੇ ਵਜੋਂ ਆਰਥਿਕਤਾ ਵਿੱਚ ਪੂੰਜੀ ਨਿਰਮਾਣ ਹੁੰਦਾ ਹੈ। ਜੇਕਰ ਵਸਤਾਂ ਅਤੇ ਸੇਵਾਵਾਂ ਦਾ ਉਤਪਾਦਨ ਜ਼ਿਆਦਾ ਹੋਵੇਗਾ ਤਾਂ ਸੰਭਾਵਨਾ ਹੈ ਕਿ ਖਪਤ ਵੀ ਜ਼ਿਆਦਾ ਹੋਵੇਗੀ ਅਤੇ ਨਿਵੇਸ਼ ਵੀ ਜ਼ਿਆਦਾ ਹੋਵੇਗਾ। ਜਿੰਨਾ ਵੱਡਾ ਸਰਪਲੱਸ ਹੈ, ਆਰਥਿਕਤਾ ਦੀ ਉਤਪਾਦਕ ਸਮਰੱਥਾ ਓਨੀ ਹੀ ਵੱਡੀ ਹੈ।

ਪਾਠ ਅਧੀਨ ਪ੍ਰਸ਼ਨ 3.3

ਹਰੇਕ ਕਥਨ ਦੇ ਸਾਹਮਣੇ ਸਹੀ/ਗਲਤ ਲਿਖੋ :

1. ਵਸਤੂ ਅਤੇ ਸੇਵਾਵਾਂ ਦਾ ਉਪਭੋਗ ਮਨੁੱਖੀ ਜ਼ਰੂਰਤਾਂ ਦੀ ਪੂਰਤੀ ਵਿੱਚ ਸਹਾਇਕ ਹੈ। ()
2. ਵਸਤੂ ਅਤੇ ਸੇਵਾਵਾਂ ਦੀ ਉਪਲੱਬਧਤਾ ਉਤਪਾਦਕ ਵਸਤਾਂ ਦੀ ਉਪਲੱਬਧਤਾ 'ਤੇ ਨਿਰਭਰ ਹੈ। ()
3. ਜ਼ਿਆਦਾ ਉਤਪਾਦਨ ਤੋਂ ਮਤਲਬ ਹੈ – ਜ਼ਿਆਦਾ ਉਪਭੋਗ ਅਤੇ ਜ਼ਿਆਦਾ ਨਿਵੇਸ਼ ()

ਤੁਸੀਂ ਕੀ ਸਿੱਖਿਆ

- ਮਨੁੱਖੀ ਜ਼ਰੂਰਤਾਂ ਅਨੰਤ ਹਨ। ਵਸਤਾਂ ਅਤੇ ਸੇਵਾਵਾਂ ਉਨ੍ਹਾਂ ਨੂੰ ਸੰਤੁਸ਼ਟ ਕਰ ਸਕਦੀਆਂ ਹਨ।
- ਮੁਫਤ ਵਸਤਾਂ ਉਹ ਵਸਤਾਂ ਹਨ ਜੋ ਬਹੁਲਤਾ ਵਿੱਚ ਉਪਲੱਬਧ ਹਨ ਅਤੇ ਜਿਨ੍ਹਾਂ ਲਈ ਬਾਜ਼ਾਰ ਵਿੱਚ ਕੋਈ ਕੀਮਤ ਅਦਾ ਨਹੀਂ ਕਰਨੀ ਪੈਂਦੀ।
- ਆਰਥਿਕ ਵਸਤਾਂ ਦੀ ਸਪਲਾਈ ਮੰਗ ਦੀ ਬਜਾਏ ਸੀਮਤ ਹੁੰਦੀ ਹੈ। ਬਾਜ਼ਾਰ ਵਿੱਚ ਉਨ੍ਹਾਂ ਦੀ ਕੀਮਤ ਵੀ ਹੁੰਦੀ ਹੈ।
- ਮੁਫਤ ਸੇਵਾਵਾਂ ਸਨੇਹ ਅਤੇ ਪਿਆਰ 'ਤੇ ਆਧਾਰਿਤ ਹੁੰਦੀਆਂ ਹਨ। ਇਨ੍ਹਾਂ ਨੂੰ ਬਾਜ਼ਾਰ ਵਿੱਚ ਖਰੀਦਿਆ ਨਹੀਂ ਜਾ ਸਕਦਾ।
- ਆਰਥਿਕ ਸੇਵਾਵਾਂ ਉਹ ਹਨ ਜਿਨ੍ਹਾਂ ਨੂੰ ਬਾਜ਼ਾਰ ਵਿੱਚ ਖਰੀਦਿਆ ਜਾ ਸਕਦਾ ਹੈ।

ਮੈਂਡਿਊਲ: 1

ਅਰਥਸ਼ਾਸਤਰ ਨੂੰ ਸਮਝਣਾ



ਨੋਟ



ਨੋਟ

- ਉਪਭੋਗਤਾ ਵਸਤਾਂ ਉਹ ਹੁੰਦੀਆਂ ਹਨ ਜੋ ਪ੍ਰਤੱਖ ਰੂਪ ਨਾਲ ਉਪਭੋਗਤਾਵਾਂ ਦੀਆਂ ਜ਼ਰੂਰਤਾਂ ਦੀ ਪੂਰਤੀ ਕਰਦੀਆਂ ਹਨ।
- ਅਪ੍ਰਤੱਖ ਰੂਪ ਨਾਲ ਉਪਭੋਗਤਾ ਦੀਆਂ ਜ਼ਰੂਰਤਾਂ ਪੂਰੀ ਕਰਨ ਵਾਲੀਆਂ ਵਸਤਾਂ ਉਤਪਾਦਕ ਵਸਤਾਂ ਹਨ।
- ਉਪਭੋਗਤਾ ਅਤੇ ਉਤਪਾਦਕ ਵਸਤਾਂ ਨੂੰ ਸਿੰਗਲ ਅਤੇ ਦੀਰਘਕਾਲੀ ਵਸਤਾਂ ਵਿੱਚ ਵੰਡਿਆ ਜਾ ਸਕਦਾ ਹੈ। ਇਨ੍ਹਾਂ ਦੀ ਵੰਡ ਦਾ ਆਧਾਰ ਹੁੰਦਾ ਹੈ- ਸਿਰਫ਼ ਇੱਕ ਵਾਰ ਕੰਮ ਕਰਨ ਵਾਲੀ ਵਸਤੂ ਸਿੰਗਲ ਵਰਤੋਂ ਅਤੇ ਬਾਰ ਬਾਰ ਪ੍ਰਯੋਗ ਆਉਣ ਵਾਲੀਆਂ ਵਸਤਾਂ ਦੀਰਘ ਉਪਯੋਗੀ ਵਸਤਾਂ ਕਹਾਉਂਦੀਆਂ ਹਨ।
- ਉਪਭੋਗਤਾ ਸੇਵਾਵਾਂ ਪ੍ਰਤੱਖ ਰੂਪ ਨਾਲ ਉਪਭੋਗਤਾਵਾਂ ਦੀਆਂ ਜ਼ਰੂਰਤਾਂ ਦੀ ਪੂਰਤੀ ਕਰਦੀਆਂ ਹਨ ਜਦੋਂਕਿ ਉਤਪਾਦਕ ਸੇਵਾਵਾਂ ਵਸਤਾਂ ਅਤੇ ਸੇਵਾਵਾਂ ਦੇ ਅੱਗੇ ਉਤਪਾਦਨ ਕਰਨ ਵਿੱਚ ਸਹਾਇਤਾ ਕਰਦੀਆਂ ਹਨ।
- ਵਸਤਾਂ ਅਤੇ ਸੇਵਾਵਾਂ ਦੀ ਗੁਣਵੱਤਾ ਅਤੇ ਨਤੀਜੇ ਉਤਪਾਦਨ, ਨਿਵੇਸ਼, ਉਪਭੋਗ ਅਤੇ ਮਨੁੱਖੀ ਜ਼ਰੂਰਤਾਂ ਦੀ ਸੰਤੁਸ਼ਟੀ ਦਾ ਪੱਧਰ ਨਿਰਧਾਰਤ ਕਰਦੀ ਹੈ।

ਪਾਠ ਦੇ ਅੰਤ ਦੇ ਪ੍ਰਸ਼ਨ

1. ਵਸਤਾਂ ਅਤੇ ਸੇਵਾਵਾਂ ਵਿੱਚ ਫਰਕ ਦੱਸੋ।
2. ਆਰਥਿਕ ਅਤੇ ਮੁਫ਼ਤ ਵਸਤਾਂ ਵਿੱਚ ਅੰਤਰ ਦੱਸੋ।
3. ਉਪਭੋਗਤਾ ਵਸਤਾਂ ਅਤੇ ਉਤਪਾਦਕ ਵਸਤਾਂ ਵਿੱਚ ਅੰਤਰ ਸਪੱਸ਼ਟ ਕਰੋ।
4. ਸਿੰਗਲ ਵਰਤੋਂ ਅਤੇ ਦੀਰਘ ਉਪਯੋਗੀ ਵਸਤਾਂ ਵਿੱਚ ਅੰਤਰ ਦੱਸੋ।
5. ਅਰਥਵਿਵਸਥਾ ਵਿੱਚ ਵਸਤਾਂ ਅਤੇ ਸੇਵਾਵਾਂ ਦਾ ਮਹੱਤਵ ਅਤੇ ਭੂਮਿਕਾ ਦੱਸੋ।

ਪਾਠ ਅਧੀਨ ਪ੍ਰਸ਼ਨਾਂ ਦੇ ਉੱਤਰ

ਪਾਠ ਅਧੀਨ ਪ੍ਰਸ਼ਨ 3.1 ਦੇ ਉੱਤਰ

1. ਓ, ਅ
2. ਓ
3. ਅ
4. ਏ

ਪਾਠ ਅਧੀਨ ਪ੍ਰਸ਼ਨ 3.2 ਦੇ ਉੱਤਰ

1. ਏ
2. ਅ
3. ਓ, ਅ, ਸ
4. ਓ, ਅ, ਏ, ਸ

ਪਾਠ ਅਧੀਨ ਪ੍ਰਸ਼ਨ 3.3 ਦੇ ਉੱਤਰ

1. ਸਹੀ
2. ਸਹੀ
3. ਸਹੀ

ਮੌਡਿਊਲ-2

ਅਰਥਵਿਵਸਥਾ ਦੇ ਵਿਸ਼ੇ ਬਾਰੇ

4. ਅਰਥਵਿਵਸਥਾ - ਅਰਥ ਅਤੇ ਕਿਸਮਾਂ
5. ਅਰਥਵਿਵਸਥਾ ਦੀਆਂ ਕੇਂਦਰੀ ਸਮੱਸਿਆਵਾਂ
6. ਮੁੱਢਲੀਆਂ ਆਰਥਿਕ ਗਤੀਵਿਧੀਆਂ

4

ਅਰਥਵਿਵਸਥਾ - ਅਰਥ ਅਤੇ ਕਿਸਮਾਂ

ਹਰੇਕ ਅਰਥਵਿਵਸਥਾ ਦਾ ਉਦੇਸ਼ ਸੀਮਤ ਜਾਂ ਦੁਰਲੱਭ ਸਰੋਤਾਂ ਦੀ ਵਰਤੋਂ ਕਰਕੇ ਅਤੇ ਸਮਾਜ ਲਈ ਜਾਣੀਆਂ-ਪਛਾਣੀਆਂ ਮਨੁੱਖੀ ਜ਼ਰੂਰਤਾਂ ਨੂੰ ਪੂਰਾ ਕਰਨਾ ਹੁੰਦਾ ਹੈ। ਇਹ ਜ਼ਰੂਰਤਾਂ ਵਸਤਾਂ ਅਤੇ ਸੇਵਾਵਾਂ ਦੇ ਉਤਪਾਦਨ ਅਤੇ ਖਪਤ ਦੁਆਰਾ ਪੂਰੀਆਂ ਕੀਤੀਆਂ ਜਾ ਸਕਦੀਆਂ ਹਨ। ਉਤਪਾਦਨ ਲਈ, ਉਤਪਾਦਨ ਦੇ ਸਰੋਤ ਕੁਝ ਆਰਥਿਕ ਗਤੀਵਿਧੀਆਂ ਵਿੱਚ ਸ਼ਾਮਲ ਹੁੰਦੇ ਹਨ। ਇਹ ਆਰਥਿਕ ਗਤੀਵਿਧੀਆਂ ਨਾਲ ਆਰਥਿਕ ਇਕਾਈਆਂ ਨੂੰ ਆਮਦਨ ਪ੍ਰਾਪਤ ਹੁੰਦੀ ਹੈ। ਇਸ ਦਾ ਜਾਂ ਤਾਂ ਉਪਭੋਗ ਕਰ ਲਿਆ ਜਾਂਦਾ ਹੈ ਜਾਂ ਬੱਚਤ ਕਰ ਲਈ ਜਾਂਦੀ ਹੈ ਅਤੇ ਜਾਂ ਨਿਵੇਸ਼ ਕੀਤਾ ਜਾ ਸਕਦਾ ਹੈ। ਇਹਨਾਂ ਲਾਭਕਾਰੀ ਆਰਥਿਕ ਗਤੀਵਿਧੀਆਂ ਅਤੇ ਇਕੱਠੀਆਂ ਕਮਾਈਆਂ ਦੇ ਕਾਰਨ, ਕੁਝ ਦੇਸ਼ ਤੇਜ਼ੀ ਨਾਲ ਵਿਕਾਸ ਕਰਦੇ ਹਨ ਜਦੋਂ ਕਿ ਦੂਸਰੇ ਇੰਨੀ ਉੱਚ ਵਿਕਾਸ ਦਰ ਪ੍ਰਾਪਤ ਨਹੀਂ ਕਰ ਸਕਦੇ ਹਨ। ਨਤੀਜੇ ਵਜੋਂ ਕੁਝ ਅਰਥਵਿਵਸਥਾਵਾਂ ਵਿਕਸਤ ਅਰਥਵਿਵਸਥਾਵਾਂ ਦਾ ਦਰਜਾ ਪ੍ਰਾਪਤ ਕਰ ਲੈਂਦੀਆਂ ਹਨ ਜਦੋਂ ਕਿ ਕੁਝ ਵਿਕਾਸਸ਼ੀਲ ਜਾਂ ਵਿਕਾਸਸ਼ੀਲ ਅਰਥਵਿਵਸਥਾਵਾਂ ਰਹਿੰਦੀਆਂ ਹਨ। ਉਨ੍ਹਾਂ ਨੂੰ ਅਮੀਰ ਅਤੇ ਗਰੀਬ ਅਰਥਚਾਰੇ ਵਜੋਂ ਵੀ ਜਾਣਿਆ ਜਾਂਦਾ ਹੈ। ਅਸੀਂ ਅਰਥਵਿਵਸਥਾ ਨੂੰ ਸਾਧਨਾਂ ਦੀ ਮਾਲਕੀ ਦੇ ਆਧਾਰ 'ਤੇ ਵੀ ਦੇਖ ਸਕਦੇ ਹਾਂ। ਉਪਲੱਬਧ ਸਰੋਤ ਨਿੱਜੀ ਮਾਲਕੀ ਜਾਂ ਸਮੂਹਿਕ ਮਲਕੀਅਤ ਵਿੱਚ ਹੋ ਸਕਦੇ ਹਨ। ਇਸ ਤਰ੍ਹਾਂ ਅਰਥਵਿਵਸਥਾ ਅਤੇ ਇਸ ਦੇ ਵਿਕਾਸ ਦੇ ਪੱਧਰ ਨੂੰ ਦੇਖਣ ਦੇ ਵੱਖੇ ਵੱਖਰੇ ਤਰੀਕੇ ਹਨ। ਇਸ ਪਾਠ ਵਿੱਚ ਅਸੀਂ ਇਹਨਾਂ ਸਾਰੀਆਂ ਸ਼ਰਤਾਂ ਨੂੰ ਸਰਲ ਤਰੀਕੇ ਨਾਲ ਸਮਝਾਵਾਂਗੇ ਤਾਂ ਜੋ ਤੁਸੀਂ ਕਿਸੇ ਅਰਥਵਿਵਸਥਾ ਦਾ ਅਰਥ ਅਤੇ ਪ੍ਰਕਿਰਤੀ ਨੂੰ ਸਮਝ ਸਕੋ ਅਤੇ ਇਸ ਦੀਆਂ ਵੱਖ-ਵੱਖ ਕਿਸਮਾਂ ਨੂੰ ਸਮਝ ਸਕੋ।

ਉਦੇਸ਼

ਇਸ ਪਾਠ ਨੂੰ ਪੜ੍ਹਨ ਦੇ ਬਾਅਦ ਤੁਸੀਂ ਇਸ ਯੋਗ ਹੋਵੋਗੇ ਕਿ :

- ਅਰਥਵਿਵਸਥਾ ਦੇ ਅਰਥ ਦੀ ਵਿਆਖਿਆ ਕਰ ਸਕੋਗੇ;
- ਵਿਭਿੰਨ ਕਿਸਮਾਂ ਦੇ ਆਰਥਿਕ ਸੰਗਠਨਾਂ ਵਿੱਚ ਮਾਲਕੀ ਅਤੇ ਸਰੋਤਾਂ ਦੇ ਕੰਟਰੋਲ ਦੇ ਆਧਾਰ 'ਤੇ ਅਤੇ ਵਿਕਾਸ ਦੇ ਪੱਧਰ ਦੇ ਆਧਾਰ 'ਤੇ ਅੰਤਰ ਕਰ ਸਕੋਗੇ;

ਮੈਂਡਿਊਲ: 2

ਅਰਥਵਿਵਸਥਾ ਦੇ ਵਿਸ਼ੇ
ਬਾਰੇ



ਨੋਟ



- ਆਰਥਿਕ ਵਿਕਾਸ ਅਤੇ ਆਰਥਿਕ ਵਾਧੇ ਦਾ ਅਰਥ ਸਮਝ ਸਕੋਗੇ;
- ਆਰਥਿਕ ਵਿਕਾਸ ਅਤੇ ਆਰਥਿਕ ਵਾਧੇ ਵਿੱਚ ਅੰਤਰ ਕਰ ਸਕੋਗੇ;
- ਆਰਥਿਕ ਵਿਕਾਸ ਦੇ ਮਹੱਤਵਪੂਰਨ ਨਿਰਧਾਰਕਾਂ ਨੂੰ ਸਮਝਣ ਸਕੋਗੇ।

4.1 ਅਰਥਵਿਵਸਥਾ ਦਾ ਅਰਥ

ਅਰਥਵਿਵਸਥਾ ਮਨੁੱਖੀ ਜ਼ਰੂਰਤਾਂ ਦੀ ਸੰਤੁਸ਼ਟੀ ਲਈ ਮਨੁੱਖ ਦੁਆਰਾ ਬਣਾਈ ਗਈ ਸੰਸਥਾ ਹੈ। ਏ.ਜੇ. ਬ੍ਰਾਊਨ ਅਨੁਸਾਰ "ਅਰਥਵਿਵਸਥਾ ਇੱਕ ਪ੍ਰਣਾਲੀ ਹੈ ਜਿਸ ਦੁਆਰਾ ਲੋਕ ਜੀਵਕਾ ਪ੍ਰਾਪਤ ਕਰਦੇ ਹਨ"। ਜੀਵਕਾ ਪ੍ਰਾਪਤ ਕਰਨ ਲਈ ਮਨੁੱਖ ਦੀ ਕੋਸ਼ਿਸ਼ ਕਰਨ ਦਾ ਤਰੀਕਾ ਸਮੇਂ-ਸਮੇਂ ਅਤੇ ਥਾਂ-ਥਾਂ ਵੱਖੋ-ਵੱਖਰੇ ਤੌਰ 'ਤੇ ਵੱਖਰਾ ਹੁੰਦਾ ਹੈ। ਆਦਿ ਕਾਲ ਵਿੱਚ 'ਜੀਵਕਾ ਪ੍ਰਾਪਤ ਕਰਨਾ' ਸਾਧਾਰਨ ਸੀ ਪਰ ਸਭਿਅਤਾ ਦੇ ਵਿਕਾਸ ਨਾਲ ਇਹ ਹੋਰ ਵੀ ਗੁੰਝਲਦਾਰ ਹੋ ਗਿਆ ਹੈ। ਇੱਥੇ ਇਹ ਧਿਆਨ ਦੇਣਾ ਮਹੱਤਵਪੂਰਨ ਹੈ ਕਿ ਵਿਅਕਤੀ ਦਾ ਜੀਵਕਾ ਕਮਾਉਣ ਦਾ ਤਰੀਕਾ ਕਾਨੂੰਨੀ ਅਤੇ ਨਿਰਪੱਖ ਹੋਣਾ ਚਾਹੀਦਾ ਹੈ। ਅਣਉਚਿੱਤ ਅਤੇ ਗੈਰ-ਕਾਨੂੰਨੀ ਸਾਧਨ ਜਿਵੇਂ ਕਿ ਲੁੱਟ, ਤਸਕਰੀ ਕਰਕੇ ਆਪਣੇ ਲਈ ਆਮਦਨ ਕਮਾਈ ਜਾ ਸਕਦੀ ਹੈ, ਪਰ ਇਸ ਨੂੰ ਲਾਭਕਾਰੀ ਆਰਥਿਕ ਗਤੀਵਿਧੀ ਜਾਂ 'ਰੋਜ਼ੀ-ਰੋਟੀ' ਦੀ ਪ੍ਰਣਾਲੀ ਵਜੋਂ ਨਹੀਂ ਵਿਚਾਰਿਆ ਜਾਣਾ ਚਾਹੀਦਾ। ਇਸ ਲਈ ਇਹ ਕਹਿਣਾ ਉਚਿੱਤ ਹੋਵੇਗਾ ਕਿ ਅਰਥਵਿਵਸਥਾ ਇੱਕ ਢਾਂਚਾ ਹੈ ਜਿੱਥੇ ਸਾਰੀਆਂ ਆਰਥਿਕ ਗਤੀਵਿਧੀਆਂ ਕੀਤੀਆਂ ਜਾਂਦੀਆਂ ਹਨ।

ਅਰਥਵਿਵਸਥਾ ਦੀਆਂ ਕੁਝ ਪ੍ਰਮੁੱਖ ਵਿਸ਼ੇਸ਼ਤਾਵਾਂ ਇਸ ਤਰ੍ਹਾਂ ਹਨ:

1. ਆਰਥਿਕ ਸੰਸਥਾਵਾਂ ਮਨੁੱਖ ਦੁਆਰਾ ਬਣਾਈਆਂ ਗਈਆਂ ਹਨ। ਇਸ ਤਰ੍ਹਾਂ ਇੱਕ ਅਰਥਵਿਵਸਥਾ ਉਹ ਹੈ ਜੋ ਅਸੀਂ ਇਸ ਨੂੰ ਬਣਾਉਂਦੇ ਹਾਂ।
2. ਆਰਥਿਕ ਸੰਸਥਾਵਾਂ ਬਣਾਈਆਂ, ਨਸ਼ਟ ਕੀਤੀਆਂ, ਬਦਲੀਆਂ ਜਾਂ ਤਬਦੀਲ ਕੀਤੀਆਂ ਜਾ ਸਕਦੀਆਂ ਹਨ। ਉਦਾਹਰਨ ਲਈ, ਯੂਐੱਸਐੱਸਆਰ ਵਿੱਚ 1917 ਵਿੱਚ ਪੂੰਜੀਵਾਦ ਦੀ ਥਾਂ ਕਮਿਊਨਿਜ਼ਮ ਨੇ ਲੈ ਲਈ ਸੀ ਅਤੇ ਸਾਬਕਾ ਯੂਐੱਸਐੱਸਆਰ ਦੁਆਰਾ ਆਰਥਿਕ ਸੁਧਾਰਾਂ ਦੀ ਇੱਕ ਲੜੀ ਰਾਹੀਂ 1989 ਵਿੱਚ ਕਮਿਊਨਿਜ਼ਮ ਨੂੰ ਖਤਮ ਕਰ ਦਿੱਤਾ ਗਿਆ ਸੀ। ਭਾਰਤ ਵਿੱਚ 1947 ਵਿੱਚ ਆਜ਼ਾਦੀ ਤੋਂ ਬਾਅਦ ਆਰਥਿਕ ਅਤੇ ਸਮਾਜਿਕ ਸੁਧਾਰਾਂ ਰਾਹੀਂ ਅਸੀਂ ਜ਼ਮੀਨਦਾਰੀ ਪ੍ਰਣਾਲੀ ਨੂੰ ਖਤਮ ਕਰ ਦਿੱਤਾ ਅਤੇ ਬਹੁਤ ਸਾਰੇ ਜ਼ਮੀਨੀ ਸੁਧਾਰ ਕੀਤੇ।
3. ਆਰਥਿਕ ਗਤੀਵਿਧੀਆਂ ਦੇ ਪੱਧਰ ਬਦਲਦੇ ਰਹਿੰਦੇ ਹਨ।
4. ਉਤਪਾਦਕ ਅਤੇ ਖਪਤਕਾਰ ਇੱਕੋ ਵਿਅਕਤੀ ਹਨ। ਇਸ ਤਰ੍ਹਾਂ ਉਨ੍ਹਾਂ ਦੀ ਦੇਹਰੀ ਭੂਮਿਕਾ

- ਹੈ। ਉਤਪਾਦਕ ਵਜੋਂ ਉਹ ਕੰਮ ਕਰਦੇ ਹਨ ਅਤੇ ਕੁਝ ਵਸਤਾਂ ਅਤੇ ਸੇਵਾਵਾਂ ਦਾ ਉਤਪਾਦਨ ਕਰਦੇ ਹਨ ਅਤੇ ਖਪਤਕਾਰਾਂ ਵਾਂਗ ਹੀ ਖਪਤ ਕਰਦੇ ਹਨ।
- ਉਤਪਾਦਨ, ਖਪਤ ਅਤੇ ਨਿਵੇਸ਼ ਅਰਥਵਿਵਸਥਾ ਦੀਆਂ ਮਹੱਤਵਪੂਰਨ ਪ੍ਰਕਿਰਿਆਵਾਂ ਹਨ।
 - ਆਧੁਨਿਕ ਗੁੰਝਲਦਾਰ ਅਰਥਵਿਵਸਥਾਵਾਂ ਵਿੱਚ ਅਸੀਂ ਪੈਸੇ ਨੂੰ ਵਟਾਂਦਰੇ ਦੇ ਮਾਧਿਅਮ ਵਜੋਂ ਵਰਤਦੇ ਹਾਂ।
 - ਅੱਜ-ਕੱਲ੍ਹ ਅਰਥਵਿਵਸਥਾ ਵਿੱਚ ਸਰਕਾਰੀ ਦਖਲਅੰਦਾਜ਼ੀ ਨੂੰ ਅਣਚਾਹਿਆ ਸਮਝਿਆ ਜਾਂਦਾ ਹੈ ਅਤੇ ਹਰ ਤਰ੍ਹਾਂ ਦੀ ਆਰਥਿਕ ਪ੍ਰਣਾਲੀ ਵਿੱਚ ਕੀਮਤਾਂ ਅਤੇ ਮੰਡੀ ਦੀਆਂ ਤਾਕਤਾਂ ਦੇ ਸੁਤੰਤਰ ਕੰਮ ਨੂੰ ਤਰਜੀਹ ਦਿੱਤੀ ਜਾਂਦੀ ਹੈ।

4.2 ਅਰਥਵਿਵਸਥਾ ਦੀਆਂ

ਜਿਵੇਂ ਕਿ ਤੁਸੀਂ ਜਾਣਦੇ ਹੋ ਕਿ ਅਰਥਵਿਵਸਥਾ ਮਨੁੱਖ ਦੁਆਰਾ ਬਣਾਈ ਗਈ ਸੰਸਥਾ ਹੈ, ਜੋ ਸਮਾਜ ਦੀ ਲੋੜ ਅਨੁਸਾਰ ਬਣਾਈ, ਖਤਮ ਕੀਤੀ ਜਾਂ ਬਦਲੀ ਜਾਂਦੀ ਹੈ। ਅਸੀਂ ਨਿਮਨਲਿਖਤ ਮਾਪਦੰਡਾਂ ਦੇ ਆਧਾਰ 'ਤੇ ਵੱਖ-ਵੱਖ ਕਿਸਮਾਂ ਦੀਆਂ ਆਰਥਿਕ ਪ੍ਰਣਾਲੀਆਂ ਵਿੱਚ ਅੰਤਰ ਕਰ ਸਕਦੇ ਹਾਂ।

4.2.1 ਉਤਪਾਦਨ ਦੇ ਸਾਧਨਾਂ ਜਾਂ ਸਰੋਤਾਂ 'ਤੇ ਮਾਲਕੀ ਅਤੇ ਨਿਯੰਤਰਣ ਦੇ ਆਧਾਰ 'ਤੇ

ਸਰੋਤ ਜਾਂ ਉਤਪਾਦਨ ਦੇ ਸਾਧਨ ਸੰਪੂਰਨ ਤੌਰ 'ਤੇ ਨਿੱਜੀ ਮਾਲਕੀ ਅਧੀਨ ਹੋ ਸਕਦੇ ਹਨ। ਉਹਨਾਂ ਨੂੰ ਮੁਨਾਫੇ ਦੇ ਉਦੇਸ਼ ਲਈ ਵਰਤਣ ਦੀ ਪੂਰੀ ਵਿਅਕਤੀਗਤ ਆਜ਼ਾਦੀ ਹੋ ਸਕਦੀ ਹੈ। ਉਹ ਸਮੂਹਿਕ ਮਾਲਕੀ (ਸਰਕਾਰੀ ਨਿਯੰਤਰਣ) ਵਿੱਚ ਵੀ ਹੋ ਸਕਦੇ ਹਨ। ਇਹ ਸਮੁੱਚੇ ਤੌਰ 'ਤੇ ਸਮਾਜ ਦੀ ਸਮੂਹਿਕ ਭਲਾਈ ਲਈ ਵਰਤੇ ਜਾ ਸਕਦੇ ਹਨ। ਵਿਅਕਤੀਗਤ ਆਜ਼ਾਦੀ ਅਤੇ ਮੁਨਾਫੇ ਦੇ ਉਦੇਸ਼ ਦੇ ਪੱਧਰ ਦੇ ਮਾਪਦੰਡ ਦੇ ਆਧਾਰ 'ਤੇ ਅਰਥਵਿਵਸਥਾਵਾਂ ਦਾ ਨਾਮਕਰਨ ਇਸ ਤਰ੍ਹਾਂ ਹੋ ਸਕਦਾ ਹੈ:

- (ੳ) ਪੂੰਜੀਵਾਦੀ ਜਾਂ ਸੁਤੰਤਰ ਉੱਦਮ ਅਰਥਵਿਵਸਥਾ
- (ਅ) ਸਮਾਜਵਾਦੀ ਜਾਂ ਕੇਂਦਰੀ ਯੋਜਨਾਬੱਧ ਅਰਥਵਿਵਸਥਾ
- (ੲ) ਮਿਸ਼ਰਤ ਅਰਥਵਿਵਸਥਾ

ਮੈਂਡਿਊਲ: 2

ਅਰਥਵਿਵਸਥਾ ਦੇ ਵਿਸ਼ੇ ਬਾਰੇ



ਨੋਟ

ਅਰਥਵਿਵਸਥਾ ਦੇ ਵਿਸ਼ੇ
ਬਾਰੇ



ਨੋਟ

ਹੁਣ ਅਸੀਂ ਇਹਨਾਂ ਦੀਆਂ ਮੁੱਖ ਵਿਸ਼ੇਸ਼ਤਾਵਾਂ ਬਾਰੇ ਸੰਖੇਪ ਵਿੱਚ ਚਰਚਾ ਕਰਾਂਗੇ।

(ੳ) ਪੂੰਜੀਵਾਦੀ ਅਰਥਵਿਵਸਥਾ

ਪੂੰਜੀਵਾਦੀ ਜਾਂ ਸੁਤੰਤਰ ਉੱਦਮ ਅਰਥਵਿਵਸਥਾ, ਅਰਥਵਿਵਸਥਾ ਦਾ ਸਭ ਤੋਂ ਪੁਰਾਣਾ ਰੂਪ ਹੈ। ਇਸ ਤੋਂ ਪਹਿਲਾਂ ਦੇ ਅਰਥ ਸ਼ਾਸਤਰੀਆਂ ਨੇ 'ਸੰਪੂਰਨ ਆਜ਼ਾਦੀ' ਦੀ ਨੀਤੀ ਦਾ ਸਮਰਥਨ ਕੀਤਾ ਸੀ। ਉਹਨਾਂ ਨੇ ਆਰਥਿਕ ਗਤੀਵਿਧੀਆਂ ਵਿੱਚ ਘੱਟੋ-ਘੱਟ ਸਰਕਾਰੀ ਦਖਲਅੰਦਾਜ਼ੀ ਦੀ ਵਕਾਲਤ ਕੀਤੀ। ਇੱਕ ਪੂੰਜੀਵਾਦੀ ਅਰਥਵਿਵਸਥਾ ਦੀਆਂ ਮੁੱਖ ਵਿਸ਼ੇਸ਼ਤਾਵਾਂ ਹਨ;

(i) ਨਿੱਜੀ ਸੰਪਤੀ

ਪੂੰਜੀਵਾਦ ਪ੍ਰਣਾਲੀ ਵਿੱਚ ਸਾਰੇ ਵਿਅਕਤੀਆਂ ਨੂੰ ਸੰਪਤੀ ਦੇ ਮਾਲਕ ਹੋਣ ਦਾ ਅਧਿਕਾਰ ਹੁੰਦਾ ਹੈ। ਇੱਕ ਵਿਅਕਤੀ ਸੰਪਤੀ ਹਾਸਲ ਕਰ ਸਕਦਾ ਹੈ ਅਤੇ ਇਸਦੀ ਵਰਤੋਂ ਆਪਣੇ ਪਰਿਵਾਰ ਦੇ ਫਾਇਦੇ ਲਈ ਕਰ ਸਕਦਾ ਹੈ। ਜ਼ਮੀਨ, ਮਸ਼ੀਨਾਂ, ਖਾਣਾਂ, ਕਾਰਖਾਨਿਆਂ ਦੀ ਮਾਲਕੀ ਅਤੇ ਲਾਭ ਕਮਾਉਣ ਅਤੇ ਦੌਲਤ ਇਕੱਠੀ ਕਰਨ 'ਤੇ ਕੋਈ ਪਾਬੰਦੀ ਨਹੀਂ ਹੈ। ਕਿਸੇ ਵਿਅਕਤੀ ਦੀ ਮੌਤ ਤੋਂ ਬਾਅਦ ਸੰਪਤੀ ਜਾਂ ਦੌਲਤ ਕਾਨੂੰਨੀ ਵਾਰਸਾਂ ਨੂੰ ਤਬਦੀਲ ਕਰ ਦਿੱਤੀ ਜਾਂਦੀ ਹੈ। ਇਸ ਤਰ੍ਹਾਂ ਨਿੱਜੀ ਸੰਪਤੀ ਦੀ ਸੰਸਥਾ ਵਿਰਾਸਤ ਦੇ ਅਧਿਕਾਰ ਦੁਆਰਾ ਸਮੇਂ ਦੇ ਨਾਲ ਕਾਇਮ ਰਹਿੰਦੀ ਹੈ।

(ii) ਉੱਦਮ ਦੀ ਆਜ਼ਾਦੀ

ਪੂੰਜੀਵਾਦੀ ਅਰਥਵਿਵਸਥਾ ਵਿੱਚ ਸਰਕਾਰ ਨਾਗਰਿਕਾਂ ਦੇ ਉਤਪਾਦਨ ਦੇ ਫੈਸਲਿਆਂ ਵਿਚਕਾਰ ਤਾਲਮੇਲ ਕਰਨ ਦਾ ਯਤਨ ਨਹੀਂ ਕਰਦੀ। ਵਿਅਕਤੀ ਕੋਈ ਵੀ ਕਿੱਤਾ ਚੁਣਨ ਲਈ ਸੁਤੰਤਰ ਹਨ। ਉੱਦਮ ਦੀ ਆਜ਼ਾਦੀ ਦਾ ਮਤਲਬ ਹੈ ਕਿ ਵਪਾਰਕ ਫਰਮਾਂ ਸਰੋਤਾਂ ਨੂੰ ਪ੍ਰਾਪਤ ਕਰਨ ਅਤੇ ਕਿਸੇ ਵੀ ਵਸਤੂ ਜਾਂ ਸੇਵਾ ਦੇ ਉਤਪਾਦਨ ਵਿੱਚ ਉਹਨਾਂ ਦੀ ਵਰਤੋਂ ਕਰਨ ਲਈ ਸੁਤੰਤਰ ਹਨ। ਫਰਮਾਂ ਆਪਣੇ ਉਤਪਾਦ ਨੂੰ ਆਪਣੀ ਪਸੰਦ ਦੇ ਬਾਜ਼ਾਰਾਂ ਵਿੱਚ ਵੇਚਣ ਲਈ ਵੀ ਸੁਤੰਤਰ ਹਨ। ਮਜ਼ਦੂਰ ਆਪਣੇ ਮਾਲਕ ਦੀ ਚੋਣ ਕਰਨ ਲਈ ਸੁਤੰਤਰ ਹੈ। ਛੋਟੀਆਂ ਕਾਰੋਬਾਰੀ ਇਕਾਈਆਂ ਵਿੱਚ ਮਾਲਕ ਖੁਦ ਉਤਪਾਦਨ ਦਾ ਜੋਖਮ ਉਠਾਉਂਦਾ ਹੈ ਅਤੇ ਆਪਣੇ ਲਾਭ ਜਾਂ ਨੁਕਸਾਨ ਕਮਾਉਂਦਾ ਹੈ। ਪਰ ਆਧੁਨਿਕ ਕਾਰਪੋਰੇਸ਼ਨਾਂ ਵਿੱਚ ਸ਼ੇਅਰਧਾਰਕ ਜੋਖਮ ਲੈਂਦੇ ਹਨ ਜਦੋਂ ਕਿ ਵੇਤਨਭੋਗੀ 'ਨਿਰਦੇਸ਼ਕ' ਕਾਰੋਬਾਰ ਦਾ ਪ੍ਰਬੰਧਨ ਕਰਦੇ ਹਨ। ਇਸ ਤਰ੍ਹਾਂ ਹੁਣ ਮੁਨਾਫਾ ਕਮਾਉਣ ਲਈ ਆਪਣੀ ਖੁਦ ਦੀ ਪੂੰਜੀ ਦੀ ਵਿਅਕਤੀਗਤ ਨਿਗਰਾਨੀ ਦੀ ਲੋੜ ਨਹੀਂ ਹੈ। ਸਰਕਾਰ ਜਾਂ ਕੋਈ ਹੋਰ ਏਜੰਸੀ ਮਜ਼ਦੂਰਾਂ ਦੇ ਕਿਸੇ ਖਾਸ ਉਦਯੋਗ ਵਿੱਚ ਦਾਖਲ ਹੋਣ ਜਾਂ ਛੱਡਣ ਦੇ ਰਾਹ ਵਿੱਚ ਪਾਬੰਦੀਆਂ/ਰੁਕਾਵਟਾਂ ਨਹੀਂ ਲਾਉਂਦੀ। ਵਰਕਰ ਉਹ ਕਿੱਤਾ ਚੁਣਦਾ

ਹੈ ਜਿੱਥੇ ਉਸਦੀ ਆਮਦਨ ਵੱਧ ਤੋਂ ਵੱਧ ਹੋਵੇ।

(iii) ਖਪਤਕਾਰ ਦੀ ਪ੍ਰਭੂਸੱਤਾ

ਪੂੰਜੀਵਾਦੀ ਆਰਥਿਕਤਾ ਵਿੱਚ ਖਪਤਕਾਰ ਇੱਕ ਰਾਜੇ ਵਾਂਗ ਹੁੰਦੇ ਹਨ। ਉਹਨਾਂ ਨੂੰ ਉਹਨਾਂ ਵਸਤਾਂ ਅਤੇ ਸੇਵਾਵਾਂ 'ਤੇ ਆਪਣੀ ਆਮਦਨ ਖਰਚਣ ਦੀ ਪੂਰੀ ਆਜ਼ਾਦੀ ਹੈ ਜੋ ਉਹਨਾਂ ਨੂੰ ਵੱਧ ਤੋਂ ਵੱਧ ਸੰਤੁਸ਼ਟੀ ਦਿੰਦੀਆਂ ਹਨ। ਪੂੰਜੀਵਾਦੀ ਪ੍ਰਣਾਲੀ ਵਿੱਚ ਉਤਪਾਦਨ ਖਪਤਕਾਰਾਂ ਦੀਆਂ ਚੋਣਾਂ ਦੁਆਰਾ ਸੇਧਿਤ ਹੁੰਦਾ ਹੈ। ਖਪਤਕਾਰਾਂ ਦੀ ਇਸ ਆਜ਼ਾਦੀ ਨੂੰ ਖਪਤਕਾਰਾਂ ਦੀ ਪ੍ਰਭੂਸੱਤਾ ਕਿਹਾ ਜਾਂਦਾ ਹੈ।

(iv) ਮੁਨਾਫੇ ਦਾ ਮਨੋਰਥ

ਪੂੰਜੀਵਾਦ ਵਿੱਚ ਸਵੈ-ਹਿੱਤ ਮਾਰਗਦਰਸ਼ਕ ਸਿਧਾਂਤ ਹੈ। ਉੱਦਮੀ ਜਾਣਦੇ ਹਨ ਕਿ ਉਹ ਉਤਪਾਦਨ ਦੇ ਹੋਰ ਸਾਰੇ ਕਾਰਕਾਂ ਨੂੰ ਭੁਗਤਾਨ ਕਰਨ ਤੋਂ ਬਾਅਦ ਲਾਭ ਜਾਂ

ਨੁਕਸਾਨ ਦੇ ਮਾਲਕ ਹੋਣਗੇ। ਇਸ ਲਈ ਉਹ ਹਮੇਸ਼ਾ ਲਾਗਤ ਨੂੰ ਘਟਾ ਕੇ ਅਤੇ ਵੱਧ ਤੋਂ ਵੱਧ ਮਾਲੀਆ ਪ੍ਰਾਪਤ ਕਰਕੇ ਆਪਣੇ ਲਾਭ ਨੂੰ ਵੱਧ ਤੋਂ ਵੱਧ ਕਰਨ ਲਈ ਪ੍ਰੇਰਿਤ ਹੁੰਦੇ ਹਨ। ਇਹ ਪੂੰਜੀਵਾਦੀ ਆਰਥਿਕਤਾ ਨੂੰ ਇੱਕ ਕੁਸਲ ਅਤੇ ਸਵੈ-ਨਿਯੰਤ੍ਰਿਤ ਅਰਥਵਿਵਸਥਾ ਬਣਾਉਂਦਾ ਹੈ।

(v) ਮੁਕਾਬਲਾ

ਪੂੰਜੀਵਾਦ ਪ੍ਰਣਾਲੀ ਵਿੱਚ ਫਰਮਾਂ ਦੇ ਦਾਖਲੇ ਅਤੇ ਬਾਹਰ ਜਾਣ 'ਤੇ ਕੋਈ ਪਾਬੰਦੀਆਂ ਨਹੀਂ ਹਨ। ਵੱਡੀ ਗਿਣਤੀ ਵਿੱਚ ਉਤਪਾਦਕ ਕਿਸੇ ਖਾਸ ਵਸਤੂ ਜਾਂ ਸੇਵਾ ਦੀ ਸਪਲਾਈ ਕਰਨ ਲਈ ਉਪਲੱਬਧ ਹਨ ਅਤੇ ਇਸ ਲਈ ਕੋਈ ਵੀ ਫਰਮ ਆਮ ਲਾਭ ਤੋਂ ਵੱਧ ਨਹੀਂ ਕਮਾ ਸਕਦੀ। ਮੁਕਾਬਲੇਬਾਜ਼ੀ ਪੂੰਜੀਵਾਦੀ ਅਰਥਵਿਵਸਥਾ ਦੀ ਬੁਨਿਆਦੀ ਵਿਸ਼ੇਸ਼ਤਾ ਹੈ ਅਤੇ ਖਪਤਕਾਰਾਂ ਦੇ ਸ਼ੋਸ਼ਣ ਤੋਂ ਬਚਾਉਣ ਲਈ ਜ਼ਰੂਰੀ ਹੈ। ਹਾਲਾਂਕਿ ਵੱਡੇ-ਆਕਾਰ ਅਤੇ ਉਤਪਾਦ ਦੀ ਭਿੰਨਤਾ ਕਾਰਨ ਅਜਾਰੇਦਾਰੀ ਪ੍ਰਵਿਰਤੀਆਂ ਅੱਜਕੱਲ੍ਹ ਵਧ ਰਹੀਆਂ ਹਨ, ਫਿਰ ਵੀ ਵੱਡੀ ਗਿਣਤੀ ਫਰਮਾਂ ਵਿਚਕਾਰ ਮੁਕਾਬਲਾ ਦੇਖਿਆ ਜਾ ਸਕਦਾ ਹੈ।

(vi) ਬਾਜ਼ਾਰਾਂ ਅਤੇ ਕੀਮਤਾਂ ਦੀ ਮਹੱਤਤਾ

ਪੂੰਜੀਵਾਦ ਦੀ ਨਿੱਜੀ ਸੰਪਤੀ, ਚੋਣ ਦੀ ਆਜ਼ਾਦੀ, ਮੁਨਾਫੇ ਦੇ ਉਦੇਸ਼ ਅਤੇ ਮੁਕਾਬਲੇਬਾਜ਼ੀ ਦੀਆਂ ਵਿਸ਼ੇਸ਼ਤਾਵਾਂ ਹੀ ਬਾਜ਼ਾਰ ਦੀ ਕੀਮਤ ਵਿਧੀ ਦੇ ਸੁਚਾਰੂ ਰੂਪ ਨਾਲ ਕੰਮਕਾਜ ਲਈ ਢੁਕਵੀਆਂ ਪਰਿਸਥਿਤੀਆਂ ਦਾ ਨਿਰਮਾਣ ਕਰਦੀ ਹੈ। ਪੂੰਜੀਵਾਦ ਮੂਲ ਰੂਪ ਵਿੱਚ ਬਾਜ਼ਾਰ ਆਧਾਰਿਤ ਅਰਥਵਿਵਸਥਾ ਹੈ ਜਿੱਥੇ ਹਰ ਵਸਤੂ ਦੀ ਇੱਕ ਕੀਮਤ ਹੁੰਦੀ ਹੈ। ਕਿਸੇ ਉਦਯੋਗ ਵਿੱਚ ਮੰਗ ਅਤੇ

ਮੈਂਡਿਊਲ: 2

ਅਰਥਵਿਵਸਥਾ ਦੇ ਵਿਸ਼ੇ
ਬਾਰੇ



ਨੋਟ

ਅਰਥਵਿਵਸਥਾ ਦੇ ਵਿਸ਼ੇ
ਬਾਰੇ



ਨੋਟ

ਸਪਲਾਈ ਦੀਆਂ ਤਾਕਤਾਂ ਹੀ ਕੀਮਤ ਨੂੰ ਨਿਰਧਾਰਤ ਕਰਦੀਆਂ ਹਨ। ਜਿਹੜੀਆਂ ਫਰਮਾਂ ਉਸ ਨਿਰਧਾਰਤ ਕੀਮਤ 'ਤੇ ਅਨੁਕੂਲ ਹੋਣ ਲਈ ਖੁਦ ਨੂੰ ਢਾਲ ਲੈਂਦੀਆਂ ਹਨ, ਉਹ ਹੀ ਆਮ ਲਾਭ ਕਮਾਉਣ ਵਿੱਚ ਸਫਲਤ ਹੁੰਦੀਆਂ ਹਨ। ਬਾਕੀਆਂ ਨੂੰ ਅਕਸਰ ਉਦਯੋਗ ਛੱਡਣਾ ਪੈਂਦਾ ਹੈ। ਹਰੇਕ ਉਤਪਾਦਕ ਉਹੀ ਵਸਤਾਂ ਪੈਦਾ ਕਰੇਗਾ, ਜੇ ਉਸ ਨੂੰ ਵਧੇਰੇ ਮੁਨਾਫਾ ਦੇ ਸਕਣ।

(vii) ਸਰਕਾਰੀ ਦਖਲ ਦੀ ਅਣਹੋਂਦ

ਸੁਤੰਤਰ ਬਾਜ਼ਾਰ ਜਾਂ ਪੂੰਜੀਵਾਦੀ ਅਰਥਵਿਵਸਥਾ ਵਿੱਚ ਕੀਮਤ ਪ੍ਰਣਾਲੀ ਤਾਲਮੇਲ ਸੰਸਥਾ ਦੀ ਮਹੱਤਵਪੂਰਨ ਭੂਮਿਕਾ ਨਿਭਾਉਂਦੀ ਹੈ। ਇਸ ਲਈ ਸਰਕਾਰੀ ਦਖਲ ਅਤੇ ਸਹਾਇਤਾ ਦੀ ਲੋੜ ਨਹੀਂ ਹੈ। ਸਰਕਾਰ ਦੀ ਭੂਮਿਕਾ ਬਾਜ਼ਾਰਾਂ ਦੇ ਸੁਤੰਤਰ ਅਤੇ ਕੁਸ਼ਲ ਕੰਮਕਾਜ ਵਿੱਚ ਮਦਦ ਕਰਨਾ ਹੈ।

ਅੱਜ ਦੇ ਸੰਸਾਰ ਵਿੱਚ ਪੂੰਜੀਵਾਦ

ਅੱਜ-ਕੱਲ੍ਹ ਦੁਨੀਆਂ ਵਿੱਚ ਸ਼ੁੱਧ ਪੂੰਜੀਵਾਦ ਨਜ਼ਰ ਨਹੀਂ ਆਉਂਦਾ। ਅਮਰੀਕਾ, ਯੂਕੇ, ਫਰਾਂਸ, ਨੀਦਰਲੈਂਡਜ਼, ਸਪੇਨ, ਪੁਰਤਗਾਲ, ਆਸਟਰੇਲੀਆ ਆਦਿ ਦੀਆਂ ਅਰਥਵਿਵਸਥਾਵਾਂ ਆਰਥਿਕ ਵਿਕਾਸ ਵਿੱਚ ਉਹਨਾਂ ਦੀਆਂ ਸਰਕਾਰਾਂ ਦੀ ਸਰਗਰਮ ਭੂਮਿਕਾ ਵਾਲੇ ਪੂੰਜੀਵਾਦੀ ਦੇਸ਼ਾਂ ਵਜੋਂ ਜਾਣਿਆ ਜਾਂਦਾ ਹੈ।

(ਅ) ਸਮਾਜਵਾਦੀ ਅਰਥਵਿਵਸਥਾ

ਸਮਾਜਵਾਦੀ ਜਾਂ ਕੇਂਦਰੀ ਯੋਜਨਾਬੱਧ ਅਰਥਵਿਵਸਥਾ ਵਿੱਚ ਸਮਾਜ ਦੇ ਸਮੁੱਚੇ ਹਿੱਤ ਵਿੱਚ ਸਾਰੇ ਉਤਪਾਦਕ ਸਰੋਤਾਂ ਦੀ ਮਲਕੀਅਤ ਅਤੇ ਨਿਯੰਤਰਣ ਸਰਕਾਰ ਦੁਆਰਾ ਕੀਤਾ ਜਾਂਦਾ ਹੈ। ਕੇਂਦਰੀ ਯੋਜਨਾ ਅਥਾਰਟੀ ਫੈਸਲੇ ਲੈਂਦੀ ਹੈ। ਸਮਾਜਵਾਦੀ ਅਰਥਵਿਵਸਥਾ ਦੀਆਂ ਹੇਠ ਲਿਖੀਆਂ ਮੁੱਖ ਵਿਸ਼ੇਸ਼ਤਾਵਾਂ ਹਨ।

(i) ਉਤਪਾਦਨ ਦੇ ਸਾਧਨਾਂ ਦੀ ਸਮੂਹਿਕ ਮਾਲਕੀ

ਸਮਾਜਵਾਦੀ ਅਰਥਵਿਵਸਥਾ ਵਿੱਚ ਪੈਦਾਵਾਰ ਦੇ ਸਾਧਨ ਲੋਕਾਂ ਦੀ ਤਰਫ਼ੋਂ ਸਰਕਾਰ ਦੀ ਮਲਕੀਅਤ ਹੁੰਦੇ ਹਨ। ਨਿੱਜੀ ਜਾਇਦਾਦ ਦੀ ਸੰਸਥਾ ਨੂੰ ਖਤਮ ਕਰ ਦਿੱਤਾ ਜਾਂਦਾ ਹੈ ਅਤੇ ਕਿਸੇ ਵੀ ਵਿਅਕਤੀ ਨੂੰ ਕਿਸੇ ਉਤਪਾਦਨ ਯੂਨਿਟ ਦੀ ਮਾਲਕੀ ਅਤੇ ਦੌਲਤ ਇਕੱਠੀ ਕਰਨ ਅਤੇ ਉਸਦੇ ਵਾਰਸਾਂ ਨੂੰ ਤਬਦੀਲ ਕਰਨ ਦੀ ਆਗਿਆ ਨਹੀਂ ਹੈ। ਹਾਲਾਂਕਿ, ਲੋਕ ਆਪਣੀ ਨਿੱਜੀ ਵਰਤੋਂ ਲਈ ਕੁਝ ਟਿਕਾਊ ਖਪਤਕਾਰ ਵਸਤਾਂ ਦੇ ਮਾਲਕ ਹੋ ਸਕਦੇ ਹਨ।

(ii) ਸਮਾਜ ਕਲਿਆਣ ਦਾ ਉਦੇਸ਼

ਸਰਕਾਰ ਦੁਆਰਾ ਵਿਅਕਤੀਗਤ ਮੁਨਾਫੇ ਨੂੰ ਵੱਧ ਤੋਂ ਵੱਧ ਕਰਨ ਦੀ ਬਜਾਏ ਸਮਾਜਿਕ ਕਲਿਆਣ ਨੂੰ ਵੱਧ ਤੋਂ ਵੱਧ ਕਰਨ ਦੇ ਉਦੇਸ਼ ਨਾਲ ਮੈਕਰੋ ਪੱਧਰ 'ਤੇ ਫੈਸਲੇ ਲਏ ਜਾਂਦੇ ਹਨ। ਮੰਗ ਅਤੇ ਸਪਲਾਈ ਦੀਆਂ ਤਾਕਤਾਂ ਕੋਈ ਮਹੱਤਵਪੂਰਨ ਭੂਮਿਕਾ ਨਹੀਂ ਨਿਭਾਉਂਦੀਆਂ। ਕਲਿਆਣ ਦੇ ਉਦੇਸ਼ਾਂ ਨੂੰ ਧਿਆਨ ਵਿੱਚ ਰੱਖ ਕੇ ਸਾਵਧਾਨੀ ਨਾਲ ਫੈਸਲੇ ਲਏ ਜਾਂਦੇ ਹਨ।

(iii) ਕੇਂਦਰੀ ਯੋਜਨਾਬੰਦੀ

ਆਰਥਿਕ ਯੋਜਨਾਬੰਦੀ ਸਮਾਜਵਾਦੀ ਅਰਥਵਿਵਸਥਾ ਦੀ ਇੱਕ ਜ਼ਰੂਰੀ ਵਿਸ਼ੇਸ਼ਤਾ ਹੈ। ਕੇਂਦਰੀ ਯੋਜਨਾ ਅਥਾਰਟੀ ਰਾਸ਼ਟਰੀ ਤਰਜੀਹਾਂ ਅਤੇ ਸਰੋਤਾਂ ਦੀ ਉਪਲੱਬਧਤਾ ਨੂੰ ਧਿਆਨ ਵਿੱਚ ਰੱਖਦੇ ਹੋਏ ਸਰੋਤਾਂ ਦੀ ਵੰਡ ਕਰਦੀ ਹੈ। ਸਰਕਾਰ ਉਤਪਾਦਨ, ਖਪਤ ਅਤੇ ਨਿਵੇਸ਼ ਸਬੰਧੀ ਸਾਰੇ ਆਰਥਿਕ ਫੈਸਲੇ ਵਰਤਮਾਨ ਅਤੇ ਭਵਿੱਖ ਦੀਆਂ ਲੋੜਾਂ ਨੂੰ ਧਿਆਨ ਵਿੱਚ ਰੱਖ ਕੇ ਲੈਂਦੀ ਹੈ। ਯੋਜਨਾ ਅਧਿਕਾਰੀ ਵੱਖ-ਵੱਖ ਸੈਕਟਰਾਂ ਲਈ ਟੀਚੇ ਤੈਅ ਕਰਦੇ ਹਨ ਅਤੇ ਸਰੋਤਾਂ ਦੀ ਕੁਸ਼ਲ ਵਰਤੋਂ ਨੂੰ ਯਕੀਨੀ ਬਣਾਉਂਦੇ ਹਨ।

(iv) ਅਸਮਾਨਤਾਵਾਂ ਵਿੱਚ ਕਮੀ

ਨਿੱਜੀ ਸੰਪਤੀ ਅਤੇ ਵਿਰਾਸਤ ਦੀਆਂ ਸੰਸਥਾਵਾਂ ਸਰਮਾਏਦਾਰਾਂ ਅਰਥਚਾਰੇ ਵਿੱਚ ਆਮਦਨ ਅਤੇ ਦੌਲਤ ਦੀਆਂ ਅਸਮਾਨਤਾਵਾਂ ਦੀ ਜੜ੍ਹ ਹਨ। ਇਹਨਾਂ ਜੜ੍ਹਾਂ ਸੰਸਥਾਵਾਂ ਨੂੰ ਖਤਮ ਕਰਕੇ ਸਮਾਜਵਾਦੀ ਆਰਥਿਕ ਪ੍ਰਣਾਲੀ ਆਮਦਨ ਦੀ ਅਸਮਾਨਤਾ ਨੂੰ ਘਟਾਉਣ ਦੇ ਸਮਰੱਥ ਹੁੰਦੀ ਹੈ। ਇਹ ਧਿਆਨ ਦੇਣਾ ਮਹੱਤਵਪੂਰਨ ਹੈ ਕਿ ਆਮਦਨ ਅਤੇ ਦੌਲਤ ਵਿੱਚ ਸੰਪੂਰਨ ਸਮਾਨਤਾ ਨਾ ਤਾਂ ਫਾਇਦੇਮੰਦ ਹੈ ਅਤੇ ਨਾ ਹੀ ਵਿਹਾਰਕ ਹੈ।

(v) ਵਰਗ ਸੰਘਰਸ਼ ਦੀ ਸਮਾਪਤੀ

ਪੂੰਜੀਵਾਦੀ ਆਰਥਿਕਤਾ ਵਿੱਚ ਮਜ਼ਦੂਰਾਂ ਅਤੇ ਪ੍ਰਬੰਧਨ ਦੇ ਹਿੱਤ ਵੱਖੋ-ਵੱਖਰੇ ਹੁੰਦੇ ਹਨ। ਉਹ ਦੋਵੇਂ ਆਪਣੇ ਵਿਅਕਤੀਗਤ ਲਾਭ ਜਾਂ ਕਮਾਈ ਨੂੰ ਵੱਧ ਤੋਂ ਵੱਧ ਕਰਨਾ ਚਾਹੁੰਦੇ ਹਨ। ਇਸ ਦੇ ਨਤੀਜੇ ਵਜੋਂ ਪੂੰਜੀਵਾਦੀ ਅਰਥਵਿਵਸਥਾ ਵਿੱਚ ਵਰਗ ਸੰਘਰਸ਼ ਹੁੰਦਾ ਹੈ। ਸਮਾਜਵਾਦ ਵਿੱਚ ਵਰਗਾਂ ਵਿੱਚ ਕੋਈ ਮੁਕਾਬਲਾ ਨਹੀਂ ਹੁੰਦਾ। ਹਰ ਵਿਅਕਤੀ ਮਜ਼ਦੂਰ ਹੈ, ਇਸ ਲਈ ਕੋਈ ਵਰਗ ਸੰਘਰਸ਼ ਨਹੀਂ ਹੈ। ਸਾਰੇ ਸਹਿ-ਕਰਮਚਾਰੀ ਹਨ।

ਅੱਜ ਦੇ ਸੰਸਾਰ ਵਿੱਚ ਸਮਾਜਵਾਦ

ਮੈਂਡਿਊਲ: 2

**ਅਰਥਵਿਵਸਥਾ ਦੇ ਵਿਸ਼ੇ
ਬਾਰੇ**



ਨੋਟ

ਅਰਥਵਿਵਸਥਾ ਦੇ ਵਿਸ਼ੇ
ਬਾਰੇ



ਨੋਟ

ਰੂਸ, ਚੀਨ ਅਤੇ ਕਈ ਪੂਰਬੀ ਯੂਰਪੀ ਦੇਸ਼ਾਂ ਵਰਗੇ ਦੇਸ਼ਾਂ ਨੂੰ ਸਮਾਜਵਾਦੀ ਦੇਸ਼ ਕਿਹਾ ਜਾਂਦਾ ਹੈ। ਪਰ ਉਹ ਹੁਣ ਬਦਲ ਰਹੇ ਹਨ ਅਤੇ ਆਪਣੇ ਆਰਥਿਕ ਵਿਕਾਸ ਲਈ ਆਪਣੇ ਦੇਸ਼ਾਂ ਵਿੱਚ ਉਦਾਰੀਕਰਨ ਨੂੰ ਉਤਸ਼ਾਹਿਤ ਕਰ ਰਹੇ ਹਨ।

(ਬ) ਮਿਸ਼ਰਤ ਅਰਥਵਿਵਸਥਾ

ਇੱਕ ਮਿਸ਼ਰਤ ਅਰਥਵਿਵਸਥਾ ਪੂੰਜੀਵਾਦ ਅਤੇ ਸਮਾਜਵਾਦ ਦੀਆਂ ਸਭ ਤੋਂ ਵਧੀਆ ਵਿਸ਼ੇਸ਼ਤਾਵਾਂ ਨੂੰ ਸ਼ਾਮਲ ਕਰ ਲੈਂਦੀ ਹੈ। ਇਸ ਤਰ੍ਹਾਂ ਮਿਸ਼ਰਤ ਅਰਥਵਿਵਸਥਾ ਵਿੱਚ ਮੁਕਤ ਉੱਦਮ ਜਾਂ ਪੂੰਜੀਵਾਦੀ ਅਰਥਵਿਵਸਥਾ ਦੇ ਨਾਲ-ਨਾਲ ਸਰਕਾਰ ਦੁਆਰਾ ਨਿਯੰਤਰਿਤ ਸਮਾਜਵਾਦੀ ਅਰਥਵਿਵਸਥਾ ਦੇ ਕੁਝ ਤੱਤ ਹੁੰਦੇ ਹਨ। ਮਿਸ਼ਰਤ ਅਰਥਵਿਵਸਥਾਵਾਂ ਵਿੱਚ ਜਨਤਕ ਅਤੇ ਨਿੱਜੀ ਖੇਤਰ ਦੀ ਸਹਿ-ਹੋਂਦ ਹੁੰਦੀ ਹਨ। ਮਿਸ਼ਰਤ ਅਰਥਵਿਵਸਥਾ ਦੀਆਂ ਮੁੱਖ ਵਿਸ਼ੇਸ਼ਤਾਵਾਂ ਇਸ ਤਰ੍ਹਾਂ ਹਨ:

(i) ਜਨਤਕ ਅਤੇ ਨਿੱਜੀ ਖੇਤਰਾਂ ਦੀ ਸਹਿ-ਹੋਂਦ

ਨਿੱਜੀ ਖੇਤਰ ਵਿੱਚ ਉਤਪਾਦਨ ਇਕਾਈਆਂ ਸ਼ਾਮਲ ਹੁੰਦੀਆਂ ਹਨ ਜੋ ਨਿੱਜੀ ਤੌਰ 'ਤੇ ਮਾਲਕੀ ਵਾਲੀਆਂ ਹੁੰਦੀਆਂ ਹਨ ਅਤੇ ਮੁਨਾਫੇ ਦੇ ਉਦੇਸ਼ ਦੇ ਆਧਾਰ 'ਤੇ ਕੰਮ ਕਰਦੀਆਂ ਹਨ। ਜਨਤਕ ਖੇਤਰ ਵਿੱਚ ਸਰਕਾਰ ਦੀ ਮਲਕੀਅਤ ਵਾਲੀਆਂ ਉਤਪਾਦਨ ਇਕਾਈਆਂ ਸ਼ਾਮਲ ਹੁੰਦੀਆਂ ਹਨ ਅਤੇ ਸਮਾਜ ਭਲਾਈ ਦੇ ਆਧਾਰ 'ਤੇ ਕੰਮ ਕਰਦੀਆਂ ਹਨ। ਹਰੇਕ ਸੈਕਟਰ ਦੀਆਂ ਆਰਥਿਕ ਗਤੀਵਿਧੀਆਂ ਦੇ ਖੇਤਰਾਂ ਨੂੰ ਆਮ ਤੌਰ 'ਤੇ ਸੀਮਾਬੱਧ ਕੀਤਾ ਜਾਂਦਾ ਹੈ। ਸਰਕਾਰ ਆਪਣੀਆਂ ਵੱਖ-ਵੱਖ ਨੀਤੀਆਂ ਦੀ ਵਰਤੋਂ ਕਰਦੀ ਹੈ ਜਿਵੇਂ ਕਿ ਪ੍ਰਾਈਵੇਟ ਸੈਕਟਰ ਨੂੰ ਨਿਯੰਤਰਿਤ ਕਰਨ ਲਈ ਲਾਇਸੈਂਸ ਨੀਤੀ, ਟੈਕਸ ਨੀਤੀ, ਕੀਮਤ ਨੀਤੀ, ਮੁਦਰਾ ਨੀਤੀ ਅਤੇ ਵਿੱਤੀ ਨੀਤੀ।

(ii) ਵਿਅਕਤੀਗਤ ਆਜ਼ਾਦੀ

ਵਿਅਕਤੀ ਆਪਣੀ ਨਿੱਜੀ ਆਮਦਨ ਨੂੰ ਵੱਧ ਤੋਂ ਵੱਧ ਕਰਨ ਲਈ ਆਰਥਿਕ ਗਤੀਵਿਧੀਆਂ ਨੂੰ ਅਪਣਾਉਂਦੇ ਹਨ। ਉਹ ਕੋਈ ਵੀ ਕਿੱਤਾ ਚੁਣਨ ਅਤੇ ਆਪਣੀ ਮਰਜ਼ੀ ਅਨੁਸਾਰ ਖਪਤ ਕਰਨ ਲਈ ਸੁਤੰਤਰ ਹਨ। ਪਰ ਉਤਪਾਦਕਾਂ ਨੂੰ ਖਪਤਕਾਰਾਂ ਅਤੇ ਮਜ਼ਦੂਰਾਂ ਦਾ ਸ਼ੋਸ਼ਣ ਕਰਨ ਦੀ ਆਜ਼ਾਦੀ ਨਹੀਂ ਦਿੱਤੀ ਜਾਂਦੀ। ਸਰਕਾਰ ਲੋਕਾਂ ਦੀ ਭਲਾਈ ਨੂੰ ਧਿਆਨ ਵਿੱਚ ਰੱਖ ਕੇ ਕੁਝ ਪਾਬੰਦੀਆਂ ਲਾਉਂਦੀ ਹੈ। ਉਦਾਹਰਨ ਲਈ, ਸਰਕਾਰ ਹਾਨੀਕਾਰਕ ਵਸਤਾਂ ਦੇ ਉਤਪਾਦਨ ਅਤੇ ਖਪਤ 'ਤੇ ਪਾਬੰਦੀਆਂ ਲਗਾ ਸਕਦੀ ਹੈ। ਪਰ ਸਮਾਜ ਦੀ ਭਲਾਈ ਲਈ ਸਰਕਾਰ ਦੁਆਰਾ ਲਗਾਏ ਗਏ ਨਿਯਮਾਂ, ਕਾਨੂੰਨਾਂ ਅਤੇ ਪਾਬੰਦੀਆਂ ਦੇ ਅੰਦਰ ਨਿੱਜੀ ਖੇਤਰ ਨੂੰ ਪੂਰੀ ਆਜ਼ਾਦੀ ਹੈ।

(iii) ਆਰਥਿਕ ਯੋਜਨਾਬੰਦੀ

ਸਰਕਾਰ ਲੰਬੀ ਮਿਆਦ ਦੀਆਂ ਯੋਜਨਾਵਾਂ ਤਿਆਰ ਕਰਦੀ ਹੈ ਅਤੇ ਆਰਥਿਕ ਵਿਕਾਸ ਵਿੱਚ ਨਿੱਜੀ ਅਤੇ ਜਨਤਕ ਖੇਤਰਾਂ ਦੁਆਰਾ ਨਿਭਾਈਆਂ ਜਾਣ ਵਾਲੀਆਂ ਭੂਮਿਕਾਵਾਂ ਦਾ ਫੈਸਲਾ ਕਰਦੀ ਹੈ। ਜਨਤਕ ਖੇਤਰ ਸਰਕਾਰ ਦੇ ਸਿੱਧੇ ਨਿਯੰਤਰਣ ਅਧੀਨ ਹੁੰਦਾ ਹੈ ਕਿਉਂਕਿ ਅਜਿਹੇ ਉਤਪਾਦਨ ਦੇ ਟੀਚੇ ਅਤੇ ਯੋਜਨਾਵਾਂ ਸਿੱਧੇ ਤੌਰ 'ਤੇ ਉਨ੍ਹਾਂ ਵੱਲੋਂ ਤਿਆਰ ਕੀਤੀਆਂ ਜਾਂਦੀਆਂ ਹਨ। ਨਿੱਜੀ ਖੇਤਰ ਨੂੰ ਰਾਸ਼ਟਰੀ ਤਰਜੀਹਾਂ ਅਨੁਸਾਰ ਕੰਮ ਕਰਨ ਲਈ ਉਤਸ਼ਾਹ, ਸਹਾਇਤਾ ਅਤੇ ਸਬਸਿਡੀਆਂ ਪ੍ਰਦਾਨ ਕੀਤੀਆਂ ਜਾਂਦੀਆਂ ਹਨ।

(iv) ਕੀਮਤ ਵਿਧੀ

ਕੀਮਤਾਂ ਸਰੋਤਾਂ ਦੀ ਵੰਡ ਵਿੱਚ ਮਹੱਤਵਪੂਰਨ ਭੂਮਿਕਾ ਨਿਭਾਉਂਦੀਆਂ ਹਨ। ਕੁਝ ਸੈਕਟਰਾਂ ਲਈ ਸੰਚਾਲਿਤ ਕੀਮਤਾਂ ਦੀ ਨੀਤੀ ਅਪਣਾਈ ਜਾਂਦੀ ਹੈ। ਸਰਕਾਰ ਟੀਚੇ ਵਾਲੇ ਸਮੂਹ ਦੀ ਮਦਦ ਕਰਨ ਲਈ ਕੀਮਤ ਸਬਸਿਡੀਆਂ ਵੀ ਪ੍ਰਦਾਨ ਕਰਦੀ ਹੈ। ਸਰਕਾਰ ਦਾ ਉਦੇਸ਼ ਜਨਤਾ ਦੀ ਵੱਧ ਤੋਂ ਵੱਧ ਭਲਾਈ ਕਰਨਾ ਹੈ। ਜਿਹੜੇ ਲੋਕ ਬਾਜ਼ਾਰ ਦੀਆਂ ਕੀਮਤਾਂ 'ਤੇ ਸਾਮਾਨ ਖਰੀਦਣ ਦੀ ਸਮਰੱਥਾ ਨਹੀਂ ਰੱਖਦੇ, ਉਨ੍ਹਾਂ ਲਈ ਸਰਕਾਰ ਵਸਤਾਂ ਨੂੰ ਜਾਂ ਤਾਂ ਮੁਫਤ ਜਾਂ ਘੱਟ ਮਾਰਕੀਟ (ਸਬਸਿਡੀ ਵਾਲੀਆਂ) ਕੀਮਤਾਂ 'ਤੇ ਉਪਲੱਬਧ ਕਰਵਾਉਂਦੀ ਹੈ।

ਇਸ ਤਰ੍ਹਾਂ ਇੱਕ ਮਿਸ਼ਰਤ ਅਰਥਵਿਵਸਥਾ ਵਿੱਚ ਲੋਕ ਸਮਾਜ ਦੇ ਕਮਜ਼ੋਰ ਵਰਗਾਂ ਦੇ ਹਿੱਤਾਂ ਦੀ ਰੱਖਿਆ ਲਈ ਵਿਅਕਤੀਗਤ ਆਜ਼ਾਦੀ ਅਤੇ ਸਰਕਾਰੀ ਸਹਾਇਤਾ ਦਾ ਆਨੰਦ ਮਾਣਦੇ ਹਨ।

ਭਾਰਤੀ ਅਰਥਵਿਵਸਥਾ ਨੂੰ ਇੱਕ ਮਿਸ਼ਰਤ ਅਰਥਵਿਵਸਥਾ ਮੰਨਿਆ ਜਾਂਦਾ ਹੈ ਕਿਉਂਕਿ ਇਸ ਵਿੱਚ ਜਨਤਕ ਅਤੇ ਨਿੱਜੀ ਖੇਤਰਾਂ ਦੇ ਕੰਮਕਾਜ ਅਤੇ ਆਰਥਿਕ ਯੋਜਨਾਬੰਦੀ ਲਈ ਚੰਗੀ ਤਰ੍ਹਾਂ ਪਰਿਭਾਸ਼ਿਤ ਖੇਤਰ ਹਨ। ਇੱਥੋਂ ਤੱਕ ਕਿ ਅਮਰੀਕਾ, ਬ੍ਰਿਟੇਨ ਆਦਿ ਦੇਸ਼ ਜੋ ਪੂੰਜੀਵਾਦੀ ਦੇਸ਼ ਵਜੋਂ ਜਾਣੇ ਜਾਂਦੇ ਸਨ, ਨੂੰ ਵੀ ਆਰਥਿਕ ਵਿਕਾਸ ਵਿੱਚ ਉਨ੍ਹਾਂ ਦੀ ਸਰਕਾਰ ਦੀ ਸਰਗਰਮ ਭੂਮਿਕਾ ਕਾਰਨ ਹੁਣ ਮਿਸ਼ਰਤ ਅਰਥਚਾਰੇ ਕਿਹਾ ਜਾਂਦਾ ਹੈ।

ਪਾਠ ਅਧੀਨ ਪ੍ਰਸ਼ਨ 4.1

1. ਹੇਠਾਂ ਦਿੱਤੇ ਕਥਨਾਂ ਵਿੱਚੋਂ ਕਿਹੜਾ ਸੱਚ ਜਾਂ ਗਲਤ ਹੈ?

- (i) ਸਰੋਤਾਂ ਦੀ ਮਲਕੀਅਤ ਦੇ ਆਧਾਰ 'ਤੇ ਅਸੀਂ ਕਿਸੇ ਅਰਥਵਿਵਸਥਾ ਨੂੰ ਅਮੀਰ ਅਰਥਵਿਵਸਥਾ ਅਤੇ ਗਰੀਬ ਅਰਥਵਿਵਸਥਾ ਦੇ ਰੂਪ ਵਿੱਚ ਸ਼੍ਰੇਣੀਬੱਧ ਕਰ ਸਕਦੇ ਹਾਂ।

ਮੈਂਡਿਊਲ: 2

ਅਰਥਵਿਵਸਥਾ ਦੇ ਵਿਸ਼ੇ ਬਾਰੇ



ਨੋਟ



- (ii) ਸਮਾਜਵਾਦੀ ਅਰਥਵਿਵਸਥਾ ਦਾ ਉਦੇਸ਼ ਵੱਧ ਤੋਂ ਵੱਧ ਸਮਾਜ ਭਲਾਈ ਕਰਨਾ ਹੈ।
 - (iii) ਚੋਣ ਦੀ ਆਜ਼ਾਦੀ, ਵੱਧ ਤੋਂ ਵੱਧ ਲਾਭ ਅਤੇ ਨਿੱਜੀ ਜਾਇਦਾਦ ਸਮਾਜਵਾਦੀ ਅਰਥਵਿਵਸਥਾ ਦੀਆਂ ਵਿਸ਼ੇਸ਼ਤਾਵਾਂ ਹਨ।
 - (iv) ਮਿਸ਼ਰਤ ਅਰਥਵਿਵਸਥਾ ਵਿੱਚ ਜਨਤਕ ਅਤੇ ਨਿੱਜੀ ਖੇਤਰਾਂ ਦੀ ਸਹਿ-ਹੋਂਦ ਹੁੰਦੀ ਹੈ।
2. ਬਰੈਕਟਾਂ ਵਿੱਚ ਦਿੱਤੇ ਗਏ ਸ਼ਬਦਾਂ ਵਿੱਚੋਂ ਢੁਕਵੇਂ ਸ਼ਬਦ ਚੁਣ ਕੇ ਖਾਲੀ ਸਥਾਨ ਭਰੋ।
- (1) ਪੂੰਜੀਵਾਦੀ/ਸੁਤੰਤਰ ਬਾਜ਼ਾਰ ਅਰਥਵਿਵਸਥਾ ਵਿੱਚ ਕੀਮਤ ਪ੍ਰਣਾਲੀ-----
ਭੂਮਿਕਾ ਨਿਭਾਉਂਦੀ ਹੈ। (ਬਹੁਤ ਮਹੱਤਵਪੂਰਨ/ਬਹੁਤ ਸੀਮਤ)
 - (2) ਪੂੰਜੀਵਾਦੀ ਅਰਥਵਿਵਸਥਾ ਵਿੱਚ ਚੋਣ ਦੀ ਆਜ਼ਾਦੀ ਨੂੰ-----ਕਹਿੰਦੇ ਹਨ।
(ਖਪਤਕਾਰ ਦੀ ਪ੍ਰਭੂਸੱਤਾ/ਖਪਤਕਾਰ ਸਰਪਲੱਸ)
 - (3) ਸਮਾਜਵਾਦੀ ਅਰਥਵਿਵਸਥਾਵਾਂ-----ਅਰਥਵਿਵਸਥਾਵਾਂ ਹਨ। (ਕੇਂਦਰੀ
ਕੰਟਰੋਲ/ਵਿਕੇਂਦਰੀਕ੍ਰਿਤ)
 - (4) -----ਅਰਥਵਿਵਸਥਾ ਵਿੱਚ ਜਨਤਾ ਧਨ ਇਕੱਠਾ ਕਰਕੇ ਉਸ ਨੂੰ
ਆਪਣੇ ਕਾਨੂੰਨੀ ਵਾਰਿਸ ਨੂੰ ਦੇ ਸਕਦੀ ਹੈ। (ਸਮਾਜਵਾਦੀ/ਪੂੰਜੀਵਾਦੀ)
 - (5) ਇੱਕ ਮਿਸ਼ਰਤ ਅਰਥਵਿਵਸਥਾ ਵਿੱਚ ਜਨਤਕ ਅਤੇ ਨਿੱਜੀ ਖੇਤਰਾਂ ਦੀ-----
-ਹੁੰਦੀ ਹੈ। (ਸਹਿ-ਹੋਂਦ/ ਹੋਂਦ ਨਹੀਂ ਹੁੰਦੀ)
3. ਵੱਖ-ਵੱਖ ਕਿਸਮਾਂ ਦੀਆਂ ਅਰਥਵਿਵਸਥਾਵਾਂ ਦੀਆਂ ਹੇਠ ਲਿਖੀਆਂ ਵਿਸ਼ੇਸ਼ਤਾਵਾਂ ਦਾ ਵਰਗੀਕਰਨ ਕਰੋ ਅਤੇ ਉਹਨਾਂ ਨੂੰ ਢੁਕਵੇਂ ਬਕਸਿਆਂ ਵਿੱਚ ਰੱਖੋ।

ਮੁਨਾਫੇ ਦਾ ਮਨੋਰਥ, ਕੇਂਦਰੀ ਯੋਜਨਾਬੰਦੀ, ਖਪਤਕਾਰ ਪ੍ਰਭੂਸੱਤਾ, ਜਨਤਕ ਅਤੇ ਨਿੱਜੀ ਖੇਤਰ, ਵਿਰਾਸਤ ਦੇ ਕਾਨੂੰਨ, ਸਮਾਜ ਭਲਾਈ, ਸਰਕਾਰੀ ਨਿਯਮ, ਸਬਸਿਡੀ, ਮੁਕਾਬਲਾ, ਕੀਮਤ ਵਿਧੀ, ਅਸਮਾਨਤਾਵਾਂ, ਵਰਗ ਸੰਘਰਸ਼ ਨਹੀਂ, ਆਰਥਿਕ ਯੋਜਨਾਬੰਦੀ ਅਤੇ ਚੋਣ ਦੀ ਸੀਮਤ ਆਜ਼ਾਦੀ।

ਪੂੰਜੀਵਾਦੀ
ਅਰਥਵਿਵਸਥਾ

ਸਮਾਜਵਾਦੀ
ਅਰਥਵਿਵਸਥਾ

ਮਿਸ਼ਰਤ
ਅਰਥਵਿਵਸਥਾ

4.2.2 ਵਿਕਾਸ ਦੇ ਪੱਧਰ ਦੇ ਆਧਾਰ 'ਤੇ ਅਰਥਵਿਵਸਥਾਵਾਂ ਦੀਆਂ ਕਿਸਮਾਂ

ਵਿਕਾਸ ਦੇ ਪੱਧਰ ਦੇ ਆਧਾਰ 'ਤੇ ਅਰਥਵਿਵਸਥਾਵਾਂ ਨੂੰ ਦੋ ਸ਼੍ਰੇਣੀਆਂ ਵਿੱਚ ਵੰਡਿਆ ਜਾ ਸਕਦਾ ਹੈ:

- (i) ਵਿਕਸਤ ਅਰਥਵਿਵਸਥਾ
- (ii) ਵਿਕਾਸਸ਼ੀਲ ਅਰਥਵਿਵਸਥਾ

ਕਿਸੇ ਅਰਥਵਿਵਸਥਾ ਨੂੰ ਉਸ ਦੀ ਵਾਸਤਵਿਕ ਰਾਸ਼ਟਰੀ ਅਤੇ ਪ੍ਰਤੀ ਵਿਅਕਤੀ ਆਮਦਨ ਅਤੇ ਆਬਾਦੀ ਦੇ ਜੀਵਨ ਪੱਧਰ ਦੇ ਆਧਾਰ 'ਤੇ ਦੋਸ਼ਾਂ ਨੂੰ ਵਿਕਸਤ ਜਾਂ ਅਮੀਰ ਅਤੇ ਵਿਕਾਸਸ਼ੀਲ ਜਾਂ ਗਰੀਬ ਵਜੋਂ ਦਰਸਾਇਆ ਜਾਂਦਾ ਹੈ। ਵਿਕਸਤ ਦੇਸ਼ਾਂ ਵਿੱਚ ਉੱਚ ਰਾਸ਼ਟਰੀ ਅਤੇ ਪ੍ਰਤੀ ਵਿਅਕਤੀ ਆਮਦਨ, ਪੂੰਜੀ ਨਿਰਮਾਣ ਦੀ ਉੱਚ ਦਰ ਭਾਵ ਉੱਚ ਬੱਚਤ ਅਤੇ ਨਿਵੇਸ਼ ਹੁੰਦਾ ਹੈ। ਉਨ੍ਹਾਂ ਕੋਲ ਉੱਚ ਸਿੱਖਿਆ ਪ੍ਰਾਪਤ ਮਨੁੱਖੀ ਵਸੀਲੇ, ਬਿਹਤਰ ਨਾਗਰਿਕ ਸਹੂਲਤਾਂ, ਸਿਹਤ ਅਤੇ ਸੈਨੀਟੇਸ਼ਨ ਸਹੂਲਤਾਂ, ਘੱਟ ਜਨਮ ਦਰ, ਘੱਟ ਮੌਤ ਦਰ, ਘੱਟ ਬਾਲ ਮੌਤ ਦਰ, ਵਿਕਸਤ ਉਦਯੋਗਿਕ ਅਤੇ ਸਮਾਜਿਕ ਬੁਨਿਆਦੀ ਢਾਂਚਾ ਅਤੇ ਮਜ਼ਬੂਤ ਵਿੱਤੀ ਅਤੇ ਪੂੰਜੀ ਬਾਜ਼ਾਰ ਉਪਲੱਬਧ ਹੁੰਦਾ ਹੈ। ਸੰਖੇਪ ਵਿੱਚ, ਵਿਕਸਤ ਦੇਸ਼ਾਂ ਵਿੱਚ ਜੀਵਨ ਪੱਧਰ ਉੱਚਾ ਹੁੰਦਾ ਹੈ।

ਵਿਕਾਸਸ਼ੀਲ ਦੇਸ਼ ਵਿਕਾਸ ਦੀ ਪੇੜੀ 'ਤੇ ਕਾਫ਼ੀ ਹੇਠ ਹੁੰਦੇ ਹਨ। ਇਹਨਾਂ ਨੂੰ ਕਈ ਵਾਰ ਪੱਛੜੇ ਜਾਂ ਗਰੀਬ ਦੇਸ਼ ਵੀ ਕਿਹਾ ਜਾਂਦਾ ਹੈ। ਪਰ ਅਰਥ ਸ਼ਾਸਤਰੀ ਉਨ੍ਹਾਂ ਨੂੰ ਵਿਕਾਸਸ਼ੀਲ ਦੇਸ਼ ਕਹਿਣਾ ਪਸੰਦ ਕਰਦੇ ਹਨ ਕਿਉਂਕਿ ਇਹ ਗਤੀਸ਼ੀਲਤਾ ਦੀ

ਭਾਵਨਾ ਪ੍ਰਦਾਨ ਕਰਦਾ ਹੈ। ਇਨ੍ਹਾਂ ਦੇਸ਼ਾਂ ਵਿੱਚ ਰਾਸ਼ਟਰੀ ਅਤੇ ਪ੍ਰਤੀ ਵਿਅਕਤੀ ਆਮਦਨ ਘੱਟ ਹੁੰਦੀ ਹੈ। ਉਨ੍ਹਾਂ ਕੋਲ ਘੱਟ ਬੱਚਤ, ਨਿਵੇਸ਼ ਅਤੇ ਪੂੰਜੀ ਨਿਰਮਾਣ ਦੇ ਨਾਲ ਪੱਛੜੇ ਹੋਏ ਖੇਤੀਬਾੜੀ ਅਤੇ ਉਦਯੋਗਿਕ ਖੇਤਰ ਹੁੰਦੇ ਹਨ। ਹਾਲਾਂਕਿ ਇਨ੍ਹਾਂ ਦੇਸ਼ਾਂ ਦੀ ਨਿਰਯਾਤ ਕਮਾਈ ਹੁੰਦੀ ਹੈ, ਪਰ ਆਮ ਤੌਰ 'ਤੇ ਉਹ ਮੁੱਢਲੇ ਖੇਤੀਬਾੜੀ ਉਤਪਾਦਾਂ ਦਾ ਨਿਰਯਾਤ ਕਰਦੇ ਹਨ। ਸੰਖੇਪ ਰੂਪ ਵਿੱਚ, ਉਹਨਾਂ ਦਾ ਜੀਵਨ ਪੱਧਰ ਨੀਵਾਂ ਹੁੰਦਾ ਹੈ ਅਤੇ ਸਿਹਤ ਅਤੇ ਸਫ਼ਾਈ, ਉੱਚ ਬਾਲ ਮੌਤ ਦਰ, ਉੱਚ ਜਨਮ ਅਤੇ ਮੌਤ ਦਰ ਅਤੇ ਮਾੜਾ ਬੁਨਿਆਦੀ ਢਾਂਚਾ ਹੁੰਦਾ ਹੈ। ਇਸ ਤਰ੍ਹਾਂ ਆਰਥਿਕ ਵਿਕਾਸ ਕਈ ਕਾਰਕਾਂ 'ਤੇ ਨਿਰਭਰ ਕਰਦਾ ਹੈ ਅਤੇ ਇਸਦੇ ਵੱਖ-ਵੱਖ ਅਰਥ ਹੁੰਦੇ ਹਨ। ਹਾਲਾਂਕਿ ਤੁਸੀਂ ਪਹਿਲਾਂ ਹੀ ਪੜ੍ਹ ਚੁੱਕੇ ਹੋ, ਮੌਜੂਦਾ ਪਾਠ ਦੇ ਸੰਦਰਭ ਵਿੱਚ ਆਰਥਿਕ ਵਿਕਾਸ ਅਤੇ ਇਸਦੇ

ਮੈਂਡਿਊਲ: 2

ਅਰਥਵਿਵਸਥਾ ਦੇ ਵਿਸ਼ੇ
ਬਾਰੇ



ਨੋਟ

ਅਰਥਵਿਵਸਥਾ ਦੇ ਵਿਸ਼ੇ
ਬਾਰੇ



ਨੋਟ

ਨਿਰਧਾਰਕਾਂ 'ਤੇ ਚਰਚਾ ਕਰਨਾ ਲਾਭਦਾਇਕ ਹੋਵੇਗਾ। ਇਸ ਦੇ ਨਾਲ ਹੀ ਅਸੀਂ ਆਰਥਿਕ ਵਿਕਾਸ ਅਤੇ ਆਰਥਿਕ ਵਾਧੇ ਦਾ ਅੰਤਰ ਵੀ ਸਪੱਸ਼ਟ ਕਰਾਂਗੇ।

4.3 ਆਰਥਿਕ ਵਿਕਾਸ ਦਾ ਅਰਥ

ਆਰਥਿਕ ਵਿਕਾਸ ਆਰਥਿਕ ਵਾਧੇ ਤੋਂ ਵੱਖਰਾ ਹੈ, ਆਰਥਿਕ ਵਿਕਾਸ ਰਾਸ਼ਟਰੀ ਆਮਦਨ ਵਿੱਚ ਨਿਰੰਤਰ ਵਾਧਾ ਹੁੰਦਾ ਹੈ। ਆਬਾਦੀ ਵਿੱਚ ਅੰਤਰ ਨੂੰ ਧਿਆਨ ਵਿੱਚ ਰੱਖਦੇ ਹੋਏ, ਇਹ ਪ੍ਰਤੀ ਵਿਅਕਤੀ ਆਮਦਨ (ਜਿਵੇਂ ਕਿ ਪ੍ਰਤੀ ਵਿਅਕਤੀ ਆਮਦਨ=ਰਾਸ਼ਟਰੀ ਆਮਦਨ + ਕੁੱਲ ਆਬਾਦੀ) ਦੇ ਵਾਧੇ ਵਿੱਚ ਦਿਖਾਈ ਦਿੰਦਾ ਹੈ।

ਭਾਵੇਂ ਰਾਸ਼ਟਰੀ ਆਮਦਨ ਦੇ ਵਾਧੇ ਵਿੱਚ ਸਾਲ-ਦਰ-ਸਾਲ ਉਤਰਾਅ-ਚੜ੍ਹਾਅ ਜਾਂ ਥੋੜ੍ਹੇ ਸਮੇਂ ਲਈ ਭਿੰਨਤਾਵਾਂ ਹੋ ਸਕਦੀਆਂ ਹਨ, ਪਰ ਰਾਸ਼ਟਰੀ ਆਮਦਨ ਵਿੱਚ ਲੰਬੇ ਸਮੇਂ ਦਾ ਵਾਧਾ ਹੀ ਆਰਥਿਕ ਵਿਕਾਸ ਕਹਾਉਂਦਾ ਹੈ।

ਦੂਜੇ ਪਾਸੇ, ਆਰਥਿਕ ਵਾਧੇ ਵਿੱਚ ਨਾ ਸਿਰਫ਼ ਆਰਥਿਕ ਵਿਕਾਸ ਹੁੰਦਾ ਹੈ, ਸਗੋਂ ਕਈ ਹੋਰ ਆਰਥਿਕ ਤਬਦੀਲੀਆਂ ਵੀ ਸ਼ਾਮਲ ਹੁੰਦੀਆਂ ਹਨ ਜੋ ਕਿਸੇ ਦੇਸ਼ ਵਿੱਚ ਲੋਕਾਂ ਦੇ ਜੀਵਨ ਪੱਧਰ ਜਾਂ ਜੀਵਨ ਪੱਧਰ ਵਿੱਚ ਸੁਧਾਰ ਕਰਦੀਆਂ ਹਨ। ਜੇਕਰ

ਆਰਥਿਕ ਵਾਧੇ ਦੇ ਨਾਲ ਦੇਸ਼ ਵੱਖ-ਵੱਖ ਆਰਥਿਕ ਤਬਦੀਲੀਆਂ ਦਾ ਅਨੁਭਵ ਕਰਦਾ ਹੈ ਜਿਵੇਂ ਕਿ ਗਰੀਬੀ ਅਤੇ ਬੇਰੁਜ਼ਗਾਰੀ ਵਿੱਚ ਕਮੀ, ਆਮਦਨ ਅਤੇ ਦੌਲਤ ਦੀ ਅਸਮਾਨਤਾ ਵਿੱਚ ਕਮੀ, ਸਾਖਰਤਾ ਦਰ ਵਿੱਚ ਵਾਧਾ, ਸਿਹਤ ਅਤੇ ਸਫ਼ਾਈ ਵਿੱਚ ਸੁਧਾਰ, ਆਬਾਦੀ ਦੇ ਵਾਧੇ ਵਿੱਚ ਕਮੀ, ਵਾਤਾਵਰਣ ਦੇ ਮਿਆਰ ਵਿੱਚ ਸੁਧਾਰ ਆਦਿ, ਜਿਨ੍ਹਾਂ ਨਾਲ ਜੀਵਨ ਦੀ ਗੁਣਵੱਤਾ ਵਿੱਚ ਸੁਧਾਰ ਹੁੰਦਾ ਹੈ ਤਾਂ ਇਸ ਵਾਧੇ ਨੂੰ ਅਸੀਂ ਆਰਥਿਕ ਵਿਕਾਸ ਕਹਿੰਦੇ ਹਾਂ। ਆਰਥਿਕ ਵਿਕਾਸ ਲਈ ਅਜਿਹੀਆਂ ਆਰਥਿਕ ਤਬਦੀਲੀਆਂ ਜੋ ਲੋਕਾਂ ਦੇ ਜੀਵਨ ਪੱਧਰ ਵਿੱਚ ਸੁਧਾਰ ਲਈ ਸਹਾਇਕ ਹੁੰਦੀਆਂ ਹਨ, ਉਹ ਆਰਥਿਕ ਵਿਕਾਸ ਲਈ ਜ਼ਰੂਰੀ ਹਨ। ਨਹੀਂ ਤਾਂ, ਆਰਥਿਕ ਵਾਧੇ ਦੇ ਬਾਵਜੂਦ ਲੋਕਾਂ ਦਾ ਜੀਵਨ ਪੱਧਰ ਨਹੀਂ ਸੁਧਰ ਸਕਦਾ ਹੈ। ਅਜਿਹਾ ਹੋ ਸਕਦਾ ਹੈ ਕਿ ਆਰਥਿਕ ਵਾਧੇ ਦੇ ਨਾਲ, ਅਮੀਰ ਹੋਰ ਅਮੀਰ ਹੋ ਜਾਂਦਾ ਹੈ ਜਦੋਂ ਕਿ ਗਰੀਬ ਹੋਰ ਗਰੀਬ ਹੁੰਦਾ ਜਾਂਦਾ ਹੈ ਜੇਕਰ ਵਿਕਾਸ ਦਾ ਫਲ ਸਮਾਜ ਦੇ ਅਮੀਰ ਵਰਗਾਂ ਦੁਆਰਾ ਖੋਹ ਲਿਆ ਜਾਂਦਾ ਹੈ। ਸਪੱਸ਼ਟ ਤੌਰ 'ਤੇ ਆਰਥਿਕ ਵਿਕਾਸ ਆਰਥਿਕ ਵਾਧੇ ਨਾਲੋਂ ਬਹੁਤ ਵਿਆਪਕ ਸੰਕਲਪ ਹੈ। ਇਸ ਵਿੱਚ ਨਾ

ਸਿਰਫ਼ ਆਰਥਿਕ ਵਾਧਾ ਹੁੰਦਾ ਹੈ, ਸਗੋਂ ਕਈ ਹੋਰ ਆਰਥਿਕ ਬਦਲਾਅ ਵੀ ਸ਼ਾਮਲ ਹੁੰਦੇ ਹਨ ਜੋ ਲੋਕਾਂ ਦੇ ਜੀਵਨ ਪੱਧਰ ਜਾਂ ਜੀਵਨ ਦੀ ਗੁਣਵੱਤਾ ਵਿੱਚ ਸੁਧਾਰ ਲਿਆਉਂਦੇ ਹਨ।

4.4 ਆਰਥਿਕ ਵਿਕਾਸ ਦੇ ਨਿਰਧਾਰਕ

ਆਰਥਿਕ ਵਿਕਾਸ ਦੀ ਪ੍ਰਕਿਰਿਆ ਕਈ ਆਰਥਿਕ ਅਤੇ ਗੈਰ-ਆਰਥਿਕ ਕਾਰਕਾਂ ਦੁਆਰਾ ਪ੍ਰਭਾਵਿਤ ਹੁੰਦੀ ਹੈ।

ਮਹੱਤਵਪੂਰਨ ਆਰਥਿਕ ਕਾਰਕ ਹੇਠ ਲਿਖੇ ਅਨੁਸਾਰ ਹਨ:

- (i) **ਕੁਦਰਤੀ ਸਰੋਤ:** ਕੁਦਰਤੀ ਸਰੋਤਾਂ ਦੀ ਉਪਲੱਬਧਤਾ ਆਰਥਿਕ ਵਾਧੇ ਅਤੇ ਆਰਥਿਕ ਵਿਕਾਸ ਨੂੰ ਆਸਾਨ ਅਤੇ ਤੇਜ਼ ਕਰਦੀ ਹੈ। ਇਹ ਮੰਨਿਆ ਜਾਂਦਾ ਹੈ ਕਿ ਕੁਦਰਤੀ ਸਰੋਤਾਂ ਦੀ ਗੁਣਵੱਤਾ ਅਤੇ ਮਾਤਰਾ ਵਿਕਾਸ ਦਰ ਨੂੰ ਪ੍ਰਭਾਵਿਤ ਕਰਦੀ ਹੈ।
- (ii) **ਮਨੁੱਖੀ ਵਸੀਲੇ:** ਆਰਥਿਕ ਵਿਕਾਸ ਦਾ ਇੱਕ ਹੋਰ ਮਹੱਤਵਪੂਰਨ ਨਿਰਧਾਰਕ ਮਨੁੱਖੀ ਵਸੀਲਿਆਂ ਜਾਂ ਆਬਾਦੀ ਦੀ ਮਾਤਰਾ ਅਤੇ ਗੁਣਵੱਤਾ ਹੈ। ਹੋਰ ਚੀਜ਼ਾਂ ਬਰਾਬਰ, ਪੜ੍ਹੇ-ਲਿਖੇ ਅਤੇ ਤਕਨੀਕੀ ਤੌਰ 'ਤੇ ਯੋਗਤਾ ਪ੍ਰਾਪਤ ਮਨੁੱਖੀ ਸ਼ਕਤੀ ਉੱਚ ਵਿਕਾਸ ਦਰ ਨੂੰ ਪ੍ਰਾਪਤ ਕਰਨ ਵਿੱਚ ਮਦਦ ਕਰਦੀ ਹੈ। ਦੂਜੇ ਪਾਸੇ ਅਨਪੜ੍ਹ ਅਤੇ ਅਕੁਸ਼ਲ ਆਬਾਦੀ ਆਰਥਿਕ ਵਿਕਾਸ ਨੂੰ ਰੋਕਦੀ ਹੈ।
- (iii) **ਪੂੰਜੀ ਨਿਰਮਾਣ:** ਤੇਜ਼ ਆਰਥਿਕ ਵਿਕਾਸ ਲਈ ਪੂੰਜੀਗਤ ਵਸਤਾਂ ਦਾ ਸਟਾਕ ਮਹੱਤਵਪੂਰਨ ਹੈ। ਪੂੰਜੀ ਦੇ ਭੰਡਾਰ ਨੂੰ ਵਧਾਉਣ ਲਈ, ਬੱਚਤ ਦੀ ਦਰ ਉੱਚੀ ਹੋਣੀ ਚਾਹੀਦੀ ਹੈ। ਬੱਚਤ ਦਾ ਨਿਵੇਸ਼ ਕੀਤਾ ਜਾਣਾ ਚਾਹੀਦਾ ਹੈ। ਬੱਚਤ ਅਤੇ ਨਿਵੇਸ਼ ਦੀ ਦਰ ਦੇ ਮੱਦੇਨਜ਼ਰ ਵਿਕਾਸ ਦਰ ਪੂੰਜੀ ਉਤਪਾਦਨ ਅਨੁਪਾਤ 'ਤੇ ਨਿਰਭਰ ਕਰੇਗੀ। ਜੇਕਰ ਘਰੇਲੂ ਬੱਚਤਾਂ ਕਾਫ਼ੀ ਨਹੀਂ ਹਨ ਤਾਂ ਸਰਕਾਰ ਵਿਕਾਸਸ਼ੀਲ ਦੇਸ਼ਾਂ ਵਿੱਚ ਪੂੰਜੀ ਨਿਰਮਾਣ ਅਤੇ ਵਿਕਾਸ ਦਰ ਨੂੰ ਵਧਾਉਣ ਲਈ ਬਾਹਰੀ ਸਹਾਇਤਾ ਦੀ ਮੰਗ ਕਰ ਸਕਦੀ ਹੈ।
- (iv) **ਤਕਨਾਲੋਜੀ:** ਤਕਨਾਲੋਜੀ ਆਰਥਿਕ ਵਿਕਾਸ ਵਿੱਚ ਮਹੱਤਵਪੂਰਨ ਭੂਮਿਕਾ ਨਿਭਾ ਸਕਦੀ ਹੈ। ਤਕਨੀਕੀ ਤਰੱਕੀ ਨਿਰੰਤਰ ਖੋਜ ਅਤੇ ਵਿਕਾਸ 'ਤੇ ਨਿਰਭਰ ਕਰਦੀ ਹੈ। ਤਕਨੀਕੀ ਤਰੱਕੀ ਦੁਆਰਾ ਇੱਕ ਰਾਸ਼ਟਰ ਕੁਦਰਤੀ ਸਰੋਤਾਂ ਦੀ ਘਾਟ ਅਤੇ ਘੱਟ





ਉਤਪਾਦਕਤਾ ਵਰਗੀਆਂ ਹੋਰ ਰੁਕਾਵਟਾਂ ਨੂੰ ਪਾਰ ਕਰ ਸਕਦਾ ਹੈ। ਵਿਕਸਤ ਅਰਥਵਿਵਸਥਾਵਾਂ ਇਸਦਾ ਮਨੁੱਖੀ ਪੂੰਜੀ ਵਿੱਚ ਨਿਵੇਸ਼ ਕਰਦੀਆਂ ਹਨ।

ਇਹਨਾਂ ਆਰਥਿਕ ਕਾਰਕਾਂ ਤੋਂ ਇਲਾਵਾ ਕਈ ਹੋਰ ਗੈਰ-ਆਰਥਿਕ ਕਾਰਕ ਜਿਵੇਂ ਕਿ (i) ਜਾਤ ਪ੍ਰਣਾਲੀ, (ii) ਪਰਿਵਾਰਕ ਕਿਸਮ, (iii) ਨਸਲੀ ਕਾਰਕ, ਅਤੇ (iv) ਸਰਕਾਰੀ ਨੀਤੀਆਂ ਵੀ ਵਿਕਾਸ ਦਰ ਅਤੇ ਆਰਥਿਕ ਵਿਕਾਸ ਨੂੰ ਪ੍ਰਭਾਵਿਤ ਕਰਦੀਆਂ ਹਨ। ਆਰਥਿਕ ਵਿਕਾਸ ਨੂੰ ਮਾਪਣਾ ਅਤੇ ਆਰਥਿਕ ਵਿਕਾਸ ਦਾ ਇੱਕ ਸੂਚਕ ਦੇਣਾ ਬਹੁਤ ਮੁਸ਼ਕਲ ਹੈ। ਆਰਥਿਕ ਵਿਕਾਸ ਦਾ ਸਭ ਤੋਂ ਵੱਧ ਵਰਤਿਆ ਜਾਣ ਵਾਲਾ ਸੂਚਕਾਂਕ ਅਰਥਾਤ ਪ੍ਰਤੀ ਵਿਅਕਤੀ ਆਮਦਨ ਵਿੱਚ ਵਾਧਾ ਗੰਭੀਰ ਤਰੁਟੀਆਂ ਦਾ ਸ਼ਿਕਾਰ ਹੈ। ਇਹ ਸੂਚਕਾਂਕ ਕੁਦਰਤੀ ਸਰੋਤਾਂ ਦੀ ਖਪਤ ਅਤੇ ਵਾਤਾਵਰਣ ਦੇ ਵਿਗਾੜ ਜਿਵੇਂ ਕਿ ਉਦਯੋਗਾਂ ਤੋਂ ਧੂੰਏਂ ਜਾਂ ਹਵਾ ਅਤੇ ਪਾਣੀ ਦੇ ਸਰੋਤਾਂ ਵਿੱਚ ਵੱਖ-ਵੱਖ ਉਦਯੋਗਿਕ ਰਹਿੰਦ-ਖੂੰਹਦ ਅਤੇ ਉਪ-ਉਤਪਾਦਾਂ ਕਾਰਨ ਹੋਣ ਵਾਲੇ ਪ੍ਰਦੂਸ਼ਣ ਨੂੰ ਧਿਆਨ ਵਿੱਚ ਨਹੀਂ ਰੱਖਦਾ। ਜੰਗਲਾਂ ਦੀ ਕਟਾਈ ਅਤੇ ਲੱਕੜ ਦੀ ਵਿਕਰੀ ਤੋਂ ਆਮਦਨ ਹੋਵੇਗੀ ਅਤੇ ਇਸ ਨੂੰ ਆਰਥਿਕ ਗਤੀਵਿਧੀ ਮੰਨਿਆ ਜਾਵੇਗਾ ਅਤੇ ਰਾਸ਼ਟਰੀ ਆਮਦਨ ਦੇ ਅੰਕੜਿਆਂ ਵਿੱਚ ਆਮਦਨ ਜੋੜੀ ਜਾਵੇਗੀ ਪਰ ਜੰਗਲਾਂ ਦੀ ਕਟਾਈ ਕਾਰਨ ਹੋਣ ਵਾਲੇ ਨੁਕਸਾਨ ਨੂੰ ਰਾਸ਼ਟਰੀ

ਖਾਤਿਆਂ ਦੇ ਅੰਕੜਿਆਂ ਵਿੱਚ ਨਕਾਰਾਤਮਕ ਐਂਟਰੀ ਵਜੋਂ ਨਹੀਂ ਦਿਖਾਇਆ ਜਾਵੇਗਾ। ਇਸ ਲਈ ਅਰਥ ਸ਼ਾਸਤਰੀ ਗੰਭੀਰਤਾ ਨਾਲ ਕੁਝ ਨਵੇਂ ਸੂਚਕਾਂਕ ਦੀ ਤਿਆਰੀ 'ਤੇ ਕੰਮ ਕਰ ਰਹੇ ਹਨ ਜੋ ਸਮਾਜ ਲਈ ਇਹਨਾਂ ਵਾਤਾਵਰਨ ਲਾਗਤਾਂ ਲਈ ਲੇਖਾ ਜੋਖਾ ਕਰ ਸਕਦੇ ਹਨ ਅਤੇ ਸਮਾਜ ਦੇ ਕਲਿਆਣ ਸੂਚਕਾਂਕ ਵਜੋਂ ਵਰਤਿਆ ਜਾ ਸਕਦਾ ਹੈ।

4.5 ਆਰਥਿਕ ਵਿਕਾਸ ਅਤੇ ਆਰਥਿਕ ਵਾਧੇ ਵਿਚਕਾਰ ਅੰਤਰ

ਆਰਥਿਕ ਵਾਧਾ ਇੱਕ ਛੋਟੀ ਮਿਆਦ ਦਾ ਮਾਪ ਹੈ ਅਤੇ ਆਮ ਤੌਰ 'ਤੇ ਅਸਲ ਰੂਪ ਵਿੱਚ ਰਾਸ਼ਟਰੀ ਅਤੇ ਪ੍ਰਤੀ ਵਿਅਕਤੀ ਆਮਦਨ ਵਿੱਚ ਸਾਲ-ਦਰ-ਸਾਲ ਵਾਧੇ ਨੂੰ ਦਰਸਾਉਂਦਾ ਹੈ। ਪਰ ਆਮਦਨ ਸੂਚਕਾਂਕ ਰਾਸ਼ਟਰੀ ਆਮਦਨ ਦੇ ਵੰਡ ਪਹਿਲੂਆਂ ਨੂੰ ਧਿਆਨ ਵਿੱਚ ਨਹੀਂ ਰੱਖਦਾ। ਇੱਕ ਹੋਰ ਮਹੱਤਵਪੂਰਨ ਗੱਲ ਇਹ ਹੈ ਕਿ ਆਮਦਨੀ ਦੀ ਪਹੁੰਚ ਗੈਰ-ਉਤਪਾਦਕ ਅਤੇ ਨਿਰਾਰਥਕ ਵਾਧਾ ਅਤੇ ਉਤਪਾਦਕ ਅਤੇ ਸਮਾਜਿਕ ਤੌਰ 'ਤੇ ਲਾਭਦਾਇਕ ਵਿਕਾਸ ਨੂੰ ਧਿਆਨ ਵਿੱਚ ਨਹੀਂ ਰੱਖਦੀ ਹੈ। ਦੂਜੇ ਪਾਸੇ ਆਰਥਿਕ ਵਿਕਾਸ ਲੰਬੇ ਸਮੇਂ ਲਈ ਇੱਕ ਲੰਮੀ ਮਿਆਦ ਦਾ ਮਾਪ ਹੈ। ਆਰਥਿਕ ਵਿਕਾਸ ਦਾ ਅਰਥ ਜੀਵਨ ਪੱਧਰ ਵਿੱਚ ਸਮੁੱਚਾ ਵਾਧਾ ਅਤੇ ਜੀਵਨ ਦੀ

ਬਿਹਤਰ ਗੁਣਵੱਤਾ ਹੈ। ਆਮਦਨ ਸੂਚਕਾਂਕ ਤੋਂ ਇਲਾਵਾ ਕੁਝ ਗੈਰ-ਆਮਦਨ ਸੂਚਕਾਂਕ ਨੂੰ ਵੀ ਧਿਆਨ ਵਿੱਚ ਰੱਖਿਆ ਜਾਂਦਾ ਹੈ। ਇਹ ਜਨਮ ਦੇ ਸਮੇਂ ਉੱਚ ਜੀਵਨ ਸੰਭਾਵਨਾ, ਘੱਟ ਬਾਲ ਮੌਤ ਦਰ ਅਤੇ ਸਾਖਰਤਾ ਦੀ ਉੱਚੀ ਦਰ ਹਨ। ਇਹਨਾਂ ਗੈਰ-ਆਮਦਨ ਸੂਚਕਾਂ ਵਿੱਚ ਸੁਧਾਰ ਦਾ ਮਤਲਬ ਹੈ ਕਿ ਜੀਵਨ ਦੀ ਗੁਣਵੱਤਾ ਵਿੱਚ ਵੀ ਸੁਧਾਰ ਹੋਇਆ ਹੈ। ਯੂਨੈਸਕੋ ਅਤੇ ਆਈਐੱਲਓ ਵਰਗੀਆਂ ਕੁਝ ਮਹੱਤਵਪੂਰਨ ਸੰਸਥਾਵਾਂ ਵਿੱਚ ਆਰਥਿਕ ਵਿਕਾਸ ਦੇ ਸੂਚਕਾਂਕ ਦੇ ਰੂਪ ਵਿੱਚ ਬੁਨਿਆਦੀ ਲੋੜਾਂ ਜਿਵੇਂ ਕਿ ਭੋਜਨ, ਕੱਪੜੇ ਅਤੇ ਛੱਤ ਦੀ ਉਪਲੱਬਧਤਾ, ਪੀਣ ਵਾਲੇ ਪਾਣੀ ਦੀ ਉਪਲੱਬਧਤਾ, ਸੈਨੀਟੇਸ਼ਨ ਅਤੇ ਜਨਤਕ ਆਵਾਜਾਈ ਦੀਆਂ ਸਹੂਲਤਾਂ ਚੰਗੀ ਸਿਹਤ ਅਤੇ ਸਿੱਖਿਆ ਸ਼ਾਮਲ ਹਨ। ਇਸ ਲਈ ਵਿਕਾਸ ਦਾ ਉਦੇਸ਼ ਆਬਾਦੀ ਦੇ ਵਿਸ਼ਾਲ ਸਮੂਹ ਦੀਆਂ ਲੋੜਾਂ ਨੂੰ ਪੂਰਾ ਕਰਨਾ ਹੈ। ਸੰਯੁਕਤ ਰਾਸ਼ਟਰ ਵਿਕਾਸ ਪ੍ਰੋਗਰਾਮ ਮਨੁੱਖੀ ਵਿਕਾਸ ਸੂਚਕਾਂਕ (ਐੱਚ.ਡੀ.ਆਈ.) 'ਤੇ ਜ਼ੋਰ ਦਿੰਦਾ ਹੈ ਜੋ ਪ੍ਰਤੀ ਵਿਅਕਤੀ ਆਮਦਨ, ਵਿਦਿਅਕ ਪ੍ਰਾਪਤੀ ਅਤੇ ਜੀਵਨ ਸੰਭਾਵਨਾ 'ਤੇ ਆਧਾਰਿਤ ਹੈ। ਇਸ ਤਰ੍ਹਾਂ ਇਹ ਆਰਥਿਕ ਅਤੇ ਸਮਾਜਿਕ ਸੂਚਕਾਂ ਦਾ ਸੰਯੁਕਤ ਸੂਚਕਾਂਕ ਹੈ। ਆਰਥਿਕ ਵਿਕਾਸ, ਇਸ ਲਈ, ਲੋਕਾਂ ਦੇ ਜੀਵਨ ਦੀ ਗੁਣਵੱਤਾ ਵਿੱਚ ਸਾਰੇ ਸੁਧਾਰਾਂ ਨੂੰ ਹਾਸਲ ਕਰਨ ਲਈ ਇੱਕ ਬਹੁਤ ਵਿਆਪਕ ਸ਼ਬਦ ਹੈ।

ਪਾਠ ਅਧੀਨ ਪ੍ਰਸ਼ਨ 4.2

ਹੇਠ ਲਿਖੇ ਸੁਆਲਾਂ ਦੇ ਜੁਆਬ ਦਿਓ:

1. ਵਿਕਾਸ ਦੇ ਪੱਧਰ ਦੇ ਆਧਾਰ 'ਤੇ ਆਰਥਿਕਤਾ ਦੀਆਂ ਦੋ ਸ਼੍ਰੇਣੀਆਂ ਕੀ ਹਨ?
2. ਆਰਥਿਕ ਵਿਕਾਸ ਦਾ ਸਰਲ ਅਰਥ ਦੱਸੋ।
3. ਵਿਕਾਸ ਦੇ ਨਿਰਧਾਰਕਾਂ ਦੇ ਆਰਥਿਕ ਕਾਰਕ ਦਿਓ।
4. ਵਿਕਾਸ ਨੂੰ ਪ੍ਰਭਾਵਿਤ ਕਰਨ ਵਾਲੇ ਗੈਰ-ਆਰਥਿਕ ਕਾਰਕ ਕੀ ਹਨ?
5. ਵਿਕਾਸ ਲਈ ਆਮਦਨੀ ਪਹੁੰਚ ਵਿੱਚ ਗੰਭੀਰ ਕਮੀ ਕੀ ਹੈ?
6. ਆਰਥਿਕ ਵਿਕਾਸ ਅਤੇ ਆਰਥਿਕ ਵਾਧੇ ਵਿਚਕਾਰ ਫਰਕ ਕਰੋ।
7. ਆਰਥਿਕ ਵਾਧੇ ਲਈ ਪੂੰਜੀ ਨਿਰਮਾਣ ਕਿਵੇਂ ਮਹੱਤਵਪੂਰਨ ਹੈ?

ਤੁਸੀਂ ਕੀ ਸਿੱਖਿਆ ਹੈ

- ਇਸ ਪਾਠ ਵਿੱਚ ਅਸੀਂ ਅਰਥਵਿਵਸਥਾ ਦਾ ਅਰਥ ਸਿੱਖਿਆ ਹੈ। ਇਹ ਸਮਾਜਿਕ ਅਤੇ ਕਾਨੂੰਨੀ ਤੌਰ 'ਤੇ ਸਵੀਕਾਰਯੋਗ ਤਰੀਕਿਆਂ ਦੀ ਇੱਕ ਪ੍ਰਣਾਲੀ ਹੈ ਜਿਸ ਦੁਆਰਾ ਲੋਕ

ਮੈਂਡਿਊਲ: 2

ਅਰਥਵਿਵਸਥਾ ਦੇ ਵਿਸ਼ੇ ਬਾਰੇ



ਨੋਟ



ਰੋਜ਼ੀ ਰੋਟੀ ਪ੍ਰਾਪਤ ਕਰਦੇ ਹਨ। ਅਰਥਵਿਵਸਥਾ ਨੂੰ ਮਨੁੱਖੀ ਜ਼ਰੂਰਤਾਂ ਦੀ ਸੰਤੁਸ਼ਟੀ ਲਈ ਸਹਿਯੋਗ ਦੀ ਇੱਕ ਪ੍ਰਣਾਲੀ ਵਜੋਂ ਵੀ ਦੇਖਿਆ ਜਾਂਦਾ ਹੈ।

- ਆਧੁਨਿਕ ਗੁੰਝਲਦਾਰ ਅਰਥਵਿਵਸਥਾ ਵਿੱਚ, ਸਹਿਯੋਗ ਇਸ ਰੂਪ ਵਿੱਚ ਮੌਜੂਦ ਹੈ ਕਿ 'ਤੁਸੀਂ ਮੇਰੇ ਲਈ ਇਹ ਕਰੋ ਅਤੇ ਮੈਂ ਤੁਹਾਡੇ ਲਈ ਇਹ ਕਰਾਂਗਾ।' ਦਾ ਸਹਿਯੋਗ ਪ੍ਰਾਪਤ ਨਹੀਂ ਰਹਿੰਦਾ। ਸਹਿਯੋਗ ਨੂੰ ਰਾਸ਼ਟਰੀ ਸੀਮਾਵਾਂ ਤੋਂ ਪਾਰ ਦੇਖਿਆ ਜਾ ਸਕਦਾ ਹੈ। ਇਸ ਤਰ੍ਹਾਂ ਅਰਥਵਿਵਸਥਾ ਨੂੰ ਆਪਸੀ ਸਹਿਯੋਗ ਅਤੇ ਵਟਾਂਦਰੇ ਦੀ ਪ੍ਰਣਾਲੀ ਵਜੋਂ ਦੇਖਿਆ ਜਾ ਸਕਦਾ ਹੈ।
- ਉਤਪਾਦਨ ਦੇ ਸਾਧਨਾਂ 'ਤੇ ਮਾਲਕੀ ਅਤੇ ਨਿਯੰਤਰਣ ਦੇ ਆਧਾਰ 'ਤੇ ਅਰਥਵਿਵਸਥਾਵਾਂ ਨੂੰ ਹੇਠ ਲਿਖੀਆਂ ਤਿੰਨ ਸ਼੍ਰੇਣੀਆਂ ਵਿੱਚ ਸ਼੍ਰੇਣੀਬੱਧ ਕੀਤਾ ਜਾ ਸਕਦਾ ਹੈ।

(i) ਪੂੰਜੀਵਾਦੀ ਅਰਥਵਿਵਸਥਾ

(ii) ਸਮਾਜਵਾਦੀ ਅਰਥਵਿਵਸਥਾ

(iii) ਮਿਸ਼ਰਤ ਅਰਥਵਿਵਸਥਾ

- ਵਿਕਾਸ ਦੇ ਪੱਧਰ ਦੇ ਆਧਾਰ 'ਤੇ ਅਰਥਵਿਵਸਥਾਵਾਂ ਨੂੰ ਹੇਠ ਲਿਖੀਆਂ ਦੋ ਸ਼੍ਰੇਣੀਆਂ ਵਿੱਚ ਵੰਡਿਆ ਜਾ ਸਕਦਾ ਹੈ:

(i) ਵਿਕਸਤ ਅਰਥਵਿਵਸਥਾ

(ii) ਵਿਕਾਸਸ਼ੀਲ ਅਰਥਵਿਵਸਥਾ

- ਪੂੰਜੀਵਾਦੀ ਅਰਥਵਿਵਸਥਾ ਵਿਅਕਤੀਗਤ ਸੁਤੰਤਰਤਾ ਅਤੇ ਸਪੰਨਤਾ ਨੂੰ ਬਹੁਤ ਮਹੱਤਵ ਦਿੰਦੀ ਹੈ। ਖਪਤਕਾਰ ਇੱਕ ਰਾਜੇ ਵਾਂਗ ਵਿਵਹਾਰ ਕਰਦੇ ਹਨ ਅਤੇ ਕੀਮਤ ਪ੍ਰਣਾਲੀ, ਮੁਨਾਫ਼ੇ ਦੇ ਉਦੇਸ਼ ਅਤੇ ਬਾਜ਼ਾਰਾਂ ਰਾਹੀਂ ਸਰੋਤਾਂ ਦੀ ਵੰਡ ਵਿੱਚ ਮਹੱਤਵਪੂਰਨ ਭੂਮਿਕਾ ਨਿਭਾਉਂਦੇ ਹਨ।
- ਸਮਾਜਵਾਦੀ ਅਰਥਵਿਵਸਥਾ ਸਮੂਹਿਕ ਮਾਲਕੀ, ਸਮਾਜ ਦੀ ਭਲਾਈ ਅਤੇ ਆਰਥਿਕ ਯੋਜਨਾਬੰਦੀ ਨੂੰ ਬਹੁਤ ਜ਼ਿਆਦਾ ਮਹੱਤਵ ਦਿੰਦੀ ਹੈ। ਅਸਮਾਨਤਾਵਾਂ ਘਟੀਆਂ ਹਨ ਅਤੇ ਜਮਾਤੀ ਟਕਰਾਅ ਤੋਂ ਬਚਿਆ ਗਿਆ ਹੈ।
- ਮਿਸ਼ਰਤ ਅਰਥਵਿਵਸਥਾ ਦੋਵਾਂ ਪ੍ਰਣਾਲੀਆਂ ਦੇ ਗੁਣਾਂ ਨੂੰ ਮਹੱਤਵ ਦਿੰਦੀ ਹੈ। ਇੱਥੇ ਜਨਤਕ ਅਤੇ ਨਿੱਜੀ ਖੇਤਰ ਇਕੱਠੇ ਰਹਿੰਦੇ ਹਨ। ਜਨਤਕ ਖੇਤਰ ਸਮਾਜਵਾਦੀ

ਅਰਥਵਿਵਸਥਾ - ਅਰਥ ਅਤੇ ਕਿਸਮਾਂ

ਅਰਥਵਿਵਸਥਾ ਦੇ ਆਧਾਰ 'ਤੇ ਕੰਮ ਕਰਦਾ ਹੈ ਜਦੋਂ ਕਿ ਨਿੱਜੀ ਖੇਤਰ ਪੂੰਜੀਵਾਦੀ ਅਰਥਵਿਵਸਥਾ ਦੇ ਆਧਾਰ 'ਤੇ ਕੰਮ ਕਰਦਾ ਹੈ।

- ਵਿਕਸਤ ਅਮੀਰ ਦੇਸ਼ਾਂ ਦੀ ਪ੍ਰਤੀ ਵਿਅਕਤੀ ਆਮਦਨ ਵੱਧ ਹੈ ਅਤੇ ਜੀਵਨ ਪੱਧਰ ਅਤੇ ਜੀਵਨ ਦੀ ਗੁਣਵੱਤਾ ਬਿਹਤਰ ਹੈ।
- ਦੂਜੇ ਪਾਸੇ ਅਵਿਕਸਤ ਜਾਂ ਗਰੀਬ ਦੇਸ਼ਾਂ ਦੀ ਆਮਦਨ, ਬੱਚਤ ਅਤੇ ਨਿਵੇਸ਼ ਘੱਟ ਹੈ ਅਤੇ ਇਸ ਲਈ ਉਹਨਾਂ ਦਾ ਜੀਵਨ ਪੱਧਰ ਮਾੜਾ ਹੈ।
- ਆਰਥਿਕ ਵਿਕਾਸ ਦੀ ਪ੍ਰਕਿਰਿਆ ਆਰਥਿਕ ਅਤੇ ਗੈਰ-ਆਰਥਿਕ ਕਾਰਕਾਂ ਦੀ ਗਿਣਤੀ ਦੁਆਰਾ ਨਿਰਧਾਰਤ ਕੀਤੀ ਜਾਂਦੀ ਹੈ।
- ਆਰਥਿਕ ਵਾਧੇ ਅਤੇ ਆਰਥਿਕ ਵਿਕਾਸ ਵਿੱਚ ਅੰਤਰ ਹੈ। ਆਮ ਤੌਰ 'ਤੇ ਆਰਥਿਕ ਵਾਧਾ ਕੁਝ ਚੁਣੇ ਹੋਏ ਖੇਤਰਾਂ ਅਤੇ ਵੇਰੀਏਬਲਾਂ ਵਿੱਚ ਥੋੜ੍ਹੇ ਸਮੇਂ ਦੇ ਸੁਧਾਰਾਂ ਨੂੰ ਦਰਸਾਉਂਦਾ ਹੈ। ਦੂਜੇ ਪਾਸੇ ਆਰਥਿਕ ਵਿਕਾਸ ਦਾ ਮਤਲਬ ਹੈ ਰਾਸ਼ਟਰੀ ਅਤੇ ਪ੍ਰਤੀ ਵਿਅਕਤੀ ਆਮਦਨ ਵਿੱਚ ਲੰਬੇ ਸਮੇਂ ਦੇ ਵਾਧੇ ਦੇ ਨਾਲ-ਨਾਲ ਹੋਰ ਬਹੁਤ ਸਾਰੇ ਗੈਰ-ਆਰਥਿਕ ਕਾਰਕ ਜੋ ਜੀਵਨ ਦੀ ਸਮੁੱਚੀ ਗੁਣਵੱਤਾ ਵਿੱਚ ਸੁਧਾਰ ਕਰਦੇ ਹਨ।

ਪਾਠ ਦੇ ਅੰਤ ਦੇ ਪ੍ਰਸ਼ਨ

1. ਅਰਥਵਿਵਸਥਾ ਤੋਂ ਕੀ ਭਾਵ ਹੈ? ਪੂੰਜੀਵਾਦੀ ਅਰਥਵਿਵਸਥਾ ਦੀਆਂ ਮੁੱਖ ਵਿਸ਼ੇਸ਼ਤਾਵਾਂ ਦੱਸੋ।
2. “ਅਰਥਵਿਵਸਥਾ ਆਪਸੀ ਸਹਿਯੋਗ ਅਤੇ ਵਟਾਂਦਰੇ ਦੀ ਇੱਕ ਪ੍ਰਣਾਲੀ ਹੈ।” ਵਿਚਾਰ ਕਰੋ।
3. ਉਤਪਾਦਨ ਦੇ ਸਾਧਨਾਂ 'ਤੇ ਮਾਲਕੀ ਅਤੇ ਨਿਯੰਤਰਣ ਦੇ ਆਧਾਰ 'ਤੇ ਅਰਥਵਿਵਸਥਾ ਦੀਆਂ ਕਿਸਮਾਂ ਦੀ ਵਿਆਖਿਆ ਕਰੋ।
4. ਆਰਥਿਕ ਵਿਕਾਸ ਅਤੇ ਆਰਥਿਕ ਵਾਧੇ ਵਿਚਕਾਰ ਕੀ ਫਰਕ ਹੈ।
5. ਆਰਥਿਕ ਵਿਕਾਸ ਦੇ ਮੁੱਖ ਨਿਰਧਾਰਕ ਕੀ ਹਨ?

ਪਾਠ ਅਧੀਨ ਪ੍ਰਸ਼ਨਾਂ ਦੇ ਉੱਤਰ

ਪਾਠ ਅਧੀਨ ਪ੍ਰਸ਼ਨ 4.1 ਦੇ ਉੱਤਰ

1. (1) ਗਲਤ (2) ਸਹੀ (3) ਗਲਤ (4) ਸਹੀ

ਮੈਂਡਿਊਲ: 2

ਅਰਥਵਿਵਸਥਾ ਦੇ ਵਿਸ਼ੇ ਬਾਰੇ



ਨੋਟ

ਮੋਡਿਊਲ: 2

ਅਰਥਵਿਵਸਥਾ ਦੇ ਵਿਸ਼ੇ
ਬਾਰੇ



ਨੋਟ

ਅਰਥਵਿਵਸਥਾ - ਅਰਥ ਅਤੇ ਕਿਸਮਾਂ

2. (1) ਬਹੁਤ ਮਹੱਤਵਪੂਰਨ (2) ਖਪਤਕਾਰ ਦੀ ਪ੍ਰਭੂਸੱਤਾ
(3) ਕੇਂਦਰੀ ਰੂਪ ਨਾਲ ਸਪਾਂਸਰ (4) ਪੂੰਜੀਵਾਦੀ (5) ਸਹਿ-ਹੋਂਦ

ਪੂੰਜੀਵਾਦੀ ਅਰਥਵਿਵਸਥਾ	ਸਮਾਜਵਾਦੀ ਅਰਥਵਿਵਸਥਾ	ਮਿਸ਼ਰਤ ਅਰਥਵਿਵਸਥਾ
ਮੁਨਾਫੇ ਦਾ ਮਨੋਰਥ ਖਪਤਕਾਰ ਪ੍ਰਭੂਸੱਤਾ ਵਿਰਾਸਤ ਦਾ ਕਾਨੂੰਨ ਮੁਕਾਬਲਾ ਕੀਮਤ ਵਿਧੀ ਅਸਮਾਨਤਾਵਾਂ	ਕੇਂਦਰੀ ਯੋਜਨਾ ਸਮਾਜਿਕ ਕਲਿਆਣ ਵਰਗ ਸੰਘਰਸ਼ ਦੀ ਕਮੀ	ਜਨਤਕ ਅਤੇ ਨਿੱਜੀ ਖੇਤਰ ਸਰਕਾਰੀ ਨਿਯਮ ਆਰਥਿਕ ਯੋਜਨਾਬੰਦੀ ਸਬਸਿਡੀ, ਆਰਥਿਕ ਯੋਜਨਾਬੰਦੀ ਚੋਣ ਦੀ ਸੀਮਤ ਆਜ਼ਾਦੀ

ਪਾਠ ਅਧੀਨ ਪ੍ਰਸ਼ਨ 4.2 ਦੇ ਉੱਤਰ

- ਵਿਕਸਤ ਅਰਥਵਿਵਸਥਾ ਅਤੇ ਵਿਕਾਸਸ਼ੀਲ ਅਰਥਵਿਵਸਥਾ
- ਆਰਥਿਕ ਵਿਕਾਸ ਇੱਕ ਪ੍ਰਕਿਰਿਆ ਹੈ ਜਿਸ ਦੁਆਰਾ ਇੱਕ ਅਰਥਵਿਵਸਥਾ ਦੀ ਅਸਲ ਰਾਸ਼ਟਰੀ ਆਮਦਨ ਲੰਬੇ ਸਮੇਂ ਵਿੱਚ ਵਧਦੀ ਹੈ।
- ਕੁਦਰਤੀ ਸਰੋਤ, ਮਨੁੱਖੀ ਸਰੋਤ, ਪੂੰਜੀ ਨਿਰਮਾਣ, ਤਕਨਾਲੋਜੀ।
- ਜਾਤ ਪ੍ਰਣਾਲੀ, ਪਰਿਵਾਰਕ ਕਿਸਮ, ਨਸਲੀ
- ਇਹ ਵਾਤਾਵਰਣ ਦੀ ਲਾਗਤ ਅਤੇ ਸਰੋਤ ਦੀ ਕਮੀ ਨੂੰ ਧਿਆਨ ਵਿੱਚ ਨਹੀਂ ਰੱਖਦਾ।
- ਆਰਥਿਕ ਵਾਧਾ ਅਸਲ ਆਮਦਨ ਵਿੱਚ ਇੱਕ ਥੋੜ੍ਹੇ ਸਮੇਂ ਵਿੱਚ ਸੁਧਾਰ ਕਰਦਾ ਹੈ ਜਦੋਂ ਕਿ ਆਰਥਿਕ ਵਿਕਾਸ ਅਸਲ ਆਮਦਨ ਵਿੱਚ ਲੰਬੇ ਸਮੇਂ ਲਈ ਵਾਧਾ ਅਤੇ ਜੀਵਨ ਦੇ ਸਮੁੱਚੇ ਪੱਧਰ ਅਤੇ ਜੀਵਨ ਦੀ ਗੁਣਵੱਤਾ ਵਿੱਚ ਸੁਧਾਰ ਕਰਦਾ ਹੈ।
- ਪੂੰਜੀ ਨਿਰਮਾਣ ਪੂੰਜੀ ਉਤਪਾਦਨ ਅਨੁਪਾਤ ਦੇ ਆਧਾਰ 'ਤੇ ਵਿਕਾਸ ਦਰ ਨੂੰ ਨਿਰਧਾਰਤ ਕਰਦਾ ਹੈ।

5

ਅਰਥਵਿਵਸਥਾ ਦੀਆਂ ਕੇਂਦਰੀ ਸਮੱਸਿਆਵਾਂ

ਜਿਵੇਂ ਕਿ ਤੁਸੀਂ ਜਾਣਦੇ ਹੋ, ਸਾਡੀਆਂ ਜ਼ਰੂਰਤਾਂ ਅਨੰਤ ਹਨ ਪਰ ਉਹਨਾਂ ਨੂੰ ਪੂਰਾ ਕਰਨ ਲਈ ਸੀਮਤ ਸਰੋਤ ਹਨ। ਸਾਨੂੰ ਵੱਖ-ਵੱਖਰੀਆਂ ਜ਼ਰੂਰਤਾਂ ਪੂਰੀਆਂ ਕਰਨ ਲਈ ਵੱਖ-ਵੱਖ ਵਸਤਾਂ ਅਤੇ ਸੇਵਾਵਾਂ ਦੀ ਲੋੜ ਹੁੰਦੀ ਹੈ। ਪਰ ਸਾਧਨਾਂ ਦੀ ਘਾਟ ਕਾਰਨ, ਅਸੀਂ ਇੱਕੋ ਸਮੇਂ ਅਰਥਵਿਵਸਥਾ ਵਿੱਚ ਹਰੇਕ ਲਈ ਸਾਰੀਆਂ ਵੱਖ-ਵੱਖ ਕਿਸਮਾਂ ਦੀਆਂ ਚੀਜ਼ਾਂ ਅਤੇ ਸੇਵਾਵਾਂ ਦਾ ਉਤਪਾਦਨ ਨਹੀਂ ਕਰ ਸਕਦੇ। ਸਰੋਤਾਂ ਦੀ ਘਾਟ ਦੇ ਕਾਰਨ, ਅਸੀਂ ਉਨ੍ਹਾਂ ਨੂੰ ਬਰਬਾਦ ਨਹੀਂ ਕਰ ਸਕਦੇ। ਇਸ ਲਈ ਹਰੇਕ ਅਰਥਵਿਵਸਥਾ ਨੂੰ ਇਨ੍ਹਾਂ ਸਮੱਸਿਆਵਾਂ ਦਾ ਹੱਲ ਲੱਭਣਾ ਚਾਹੀਦਾ ਹੈ।

ਉਦੇਸ਼

ਇਸ ਪਾਠ ਨੂੰ ਪੂਰਾ ਕਰਨ ਤੋਂ ਬਾਅਦ, ਤੁਸੀਂ ਇਹ ਕਰਨ ਦੇ ਯੋਗ ਹੋਵੋਗੇ:

- ਚੋਣ ਕਰਨ ਦੀ ਜ਼ਰੂਰਤ ਬਾਰੇ ਸਮਝਣ ਦੇ;
- ਸੀਮਤ ਸਰੋਤਾਂ ਦੀ ਵਿਕਲਪਕ ਵਰਤੋਂ ਕਰਨ ਬਾਰੇ;
- ਅਰਥਵਿਵਸਥਾ ਦੀਆਂ ਕੇਂਦਰੀ ਸਮੱਸਿਆਵਾਂ ਤੋਂ ਜਾਣੂ;
- ਵੱਖ-ਵੱਖ ਕਿਸਮਾਂ ਦੀਆਂ ਅਰਥਵਿਵਸਥਾਵਾਂ ਵਿੱਚ ਸਰੋਤ ਵੰਡ ਬਾਰੇ;
- ਅਰਥਵਿਵਸਥਾ ਦੇ ਵਿਕਾਸ ਅਤੇ ਸਰੋਤਾਂ ਦੇ ਵਾਧੇ ਵਿਚਕਾਰ ਸਬੰਧਾਂ ਦੀ ਵਿਆਖਿਆ ਕਰਨ ਦੇ।

5.1 ਦੁਰਲੱਭਤਾ (ਸੀਮਤਤਾ) ਅਤੇ ਚੋਣ

ਮੰਨ ਲਓ ਕਿ ਤੁਸੀਂ ਆਪਣੇ ਦੇਸ਼ ਲਈ ਕਮੀਜ਼, ਕਿਤਾਬ ਅਤੇ ਇੱਕ ਤੋਹਫ਼ਾ ਖਰੀਦਣਾ ਚਾਹੁੰਦੇ ਹੋ। ਤੁਸੀਂ ਵੀ ਸਿਨੇਮਾ ਹਾਲ ਵਿੱਚ ਇੱਕ ਫਿਲਮ ਦੇਖਣਾ ਚਾਹੁੰਦੇ ਹੋ। ਇਹ ਬਹੁਤ ਸਾਰੀਆਂ ਇੱਛਾਵਾਂ ਹਨ ਜਿਨ੍ਹਾਂ ਨੂੰ ਪੂਰਾ ਕਰਨਾ ਹੈ। ਪਰ ਤੁਹਾਡੇ ਕੋਲ ਸਿਰਫ਼ 110 ਰੁਪਏ ਹਨ। ਮੰਨ

ਲਓ ਕਿ ਇੱਕ ਕਮੀਜ਼ 150 ਰੁਪਏ ਵਿੱਚ ਉਪਲੱਬਧ ਹੈ, ਕਿਤਾਬ 95 ਰੁਪਏ ਦੀ ਹੈ, ਤੋਹਫ਼ੇ ਦੀ ਕੀਮਤ 90 ਰੁਪਏ ਹੈ। ਫਿਲਮ ਦੀ ਟਿਕਟ 100 ਰੁਪਏ ਵਿੱਚ ਖਰੀਦੀ ਜਾ ਸਕਦੀ ਹੈ। ਇਸ

ਮੈਂਡਿਊਲ: 2

ਅਰਥਵਿਵਸਥਾ ਦੇ ਵਿਸ਼ੇ
ਬਾਰੇ



ਨੋਟ

ਅਰਥਵਿਵਸਥਾ ਦੇ ਵਿਸ਼ੇ
ਬਾਰੇ



ਨੋਟ

ਲਈ ਇਹਨਾਂ ਸਾਰਿਆਂ ਨੂੰ ਮਿਲਾ ਕੇ ਤੁਹਾਡੇ 435 ਰੁਪਏ ਖਰਚ ਹੋਣਗੇ ਜੇ ਤੁਹਾਡੇ ਕੋਲ ਨਹੀਂ ਹਨ। ਸਪੱਸ਼ਟ ਤੌਰ 'ਤੇ, ਤੁਸੀਂ ਸਾਰੀਆਂ ਚੀਜ਼ਾਂ ਨਹੀਂ ਖਰੀਦ ਸਕਦੇ ਕਿਉਂਕਿ ਤੁਹਾਡੇ ਕੋਲ ਸੀਮਤ ਪੈਸਾ ਜਾਂ ਸਰੋਤ ਹੈ। ਤੁਸੀਂ ਕੀ ਕਰੋਗੇ? 110 ਰੁਪਏ ਨਾਲ, ਤੁਸੀਂ ਕਮੀਜ਼ ਨਹੀਂ ਖਰੀਦ ਸਕਦੇ ਕਿਉਂਕਿ ਇਸਦੀ ਕੀਮਤ ਤੁਹਾਡੇ ਕੋਲ ਮੌਜੂਦ ਪੈਸਿਆਂ ਤੋਂ ਵੱਧ ਹੈ। ਪਰ ਤੁਸੀਂ ਕਿਤਾਬ ਜਾਂ ਤੋਹਫ਼ੇ ਜਾਂ ਫ਼ਿਲਮ ਦੀ ਟਿਕਟ ਖਰੀਦਣ ਬਾਰੇ ਸੋਚ ਸਕਦੇ ਹੋ। ਇੱਥੇ ਤੁਹਾਨੂੰ ਇਹ ਚੋਣ ਕਰਨੀ ਪਵੇਗੀ ਕਿ ਤੁਸੀਂ ਇਹਨਾਂ ਵਿੱਚੋਂ ਕਿਹੜੀ ਚੀਜ਼ ਖਰੀਦਣਾ ਚਾਹੁੰਦੇ ਹੋ।

ਚੋਣ ਦੀ ਸਮੱਸਿਆ ਕਿਉਂ ਪੈਦਾ ਹੁੰਦੀ ਹੈ? ਜੇ ਤੁਹਾਡੇ ਕੋਲ ਜਾਦੂ ਦੀ ਛੜੀ ਜਾਂ ਜਾਦੂ ਦਾ ਚਿਰਾਗ ਹੁੰਦਾ, ਤਾਂ ਤੁਹਾਡੇ ਕੋਲ ਤੁਹਾਡੀਆਂ ਜ਼ਰੂਰਤਾਂ ਨੂੰ ਪੂਰਾ ਕਰਨ ਲਈ ਸਭ ਕੁਝ ਹੋ ਸਕਦਾ ਸੀ ਅਤੇ ਚੋਣ ਕਰਨ ਦੀ ਸਮੱਸਿਆ ਪੈਦਾ ਨਹੀਂ ਹੁੰਦੀ। ਇਹ ਇੱਕ ਆਦਰਸ਼ ਸਥਿਤੀ ਹੈ, ਜੋ ਕਦੇ ਨਹੀਂ ਹੋ ਸਕਦੀ। ਤੁਹਾਡੇ ਕੋਲ ਸਿਰਫ਼ 110 ਰੁਪਏ ਹਨ ਨਾ ਕਿ 435 ਰੁਪਏ, ਜਿਸ ਦਾ ਮਤਲਬ ਹੈ ਕਿ ਤੁਹਾਡੇ ਕੋਲ ਸਰੋਤ (ਇਸ ਕੇਸ ਵਿੱਚ ਪੈਸਾ) ਸੀਮਤ ਜਾਂ ਘੱਟ ਹਨ। ਕਿਉਂਕਿ ਤੁਸੀਂ ਆਪਣੇ ਸੀਮਤ ਸਰੋਤ ਨਾਲ ਸਿਰਫ਼ ਇੱਕ ਹੀ ਵਸਤੂ ਖਰੀਦ ਸਕਦੇ ਹੋ, ਇਸ ਲਈ ਤੁਹਾਨੂੰ ਇਹ ਫੈਸਲਾ ਕਰਨ ਦੀ ਸਮੱਸਿਆ ਦਾ ਸਾਹਮਣਾ ਕਰਨਾ ਪੈਂਦਾ ਹੈ ਕਿ ਤੁਹਾਡੀ ਜ਼ਰੂਰਤ ਨੂੰ ਪੂਰਾ ਕਰਨ ਲਈ ਕੀ ਖਰੀਦਿਆ ਜਾਵੇ। ਇਹ ਚੁਣਦੇ ਹੋਏ ਕਿ ਕੀ ਖਰੀਦਣਾ ਹੈ, ਇੱਕ ਹੋਰ ਮਹੱਤਵਪੂਰਣ ਗੱਲ ਵੱਲ ਧਿਆਨ ਦਿਓ। ਭਾਵ, ਸਰੋਤਾਂ ਨੂੰ ਵਿਕਲਪਕ ਵਰਤੋਂ ਵਿੱਚ ਲਗਾਇਆ ਜਾ ਸਕਦਾ ਹੈ। ਕਿਵੇਂ? ਭਾਵੇਂ ਤੁਸੀਂ ਇਹ ਸਭ ਨਹੀਂ ਖਰੀਦ ਸਕਦੇ ਹੋ, ਤੁਸੀਂ ਇੱਕ ਕਿਤਾਬ ਜਾਂ ਇੱਕ ਤੋਹਫ਼ਾ ਜਾਂ ਇੱਕ ਫ਼ਿਲਮ ਦੀ ਟਿਕਟ ਖਰੀਦ ਸਕਦੇ ਹੋ। ਇਸ ਲਈ ਸਰੋਤਾਂ ਦੀ ਵਿਕਲਪਕ ਵਰਤੋਂ ਕੀਤੀ ਜਾ ਸਕਦੀ ਹੈ।

ਇਸੇ ਤਰ੍ਹਾਂ ਅਰਥਵਿਵਸਥਾ ਨੂੰ ਇਹ ਵੀ ਤੈਅ ਕਰਨਾ ਹੁੰਦਾ ਹੈ ਕਿ ਕਿਹੜੀਆਂ ਵਸਤਾਂ ਅਤੇ ਸੇਵਾਵਾਂ ਦਾ ਉਤਪਾਦਨ ਕਰਨਾ ਹੈ ਅਤੇ ਸਰੋਤਾਂ ਦੀ ਵਰਤੋਂ ਕਿਵੇਂ

ਕਰਨੀ ਹੈ। ਇਸ ਤਰ੍ਹਾਂ 'ਚੋਣ' ਦਾ ਮੁੱਦਾ ਪੈਦਾ ਹੁੰਦਾ ਹੈ ਕਿਉਂਕਿ (ੳ) ਸਰੋਤ ਬਹੁਤ ਘੱਟ ਹਨ ਅਤੇ (ਅ) ਸਰੋਤਾਂ ਦੀ ਵਿਕਲਪਿਕ ਵਰਤੋਂ ਕੀਤੀ ਜਾ ਸਕਦੀ ਹੈ।

ਪਾਠ ਅਧੀਨ ਪ੍ਰਸ਼ਨ 5.1

1. ਨਿਮਨਲਿਖਤ ਵਸਤਾਂ ਦੇ ਬਦਲਵੇਂ ਉਪਯੋਗ ਕੀ ਹੋ ਸਕਦੇ ਹਨ?
 - (ੳ) ਬੱਸ
 - (ਅ) ਕਮਰਾ

(ੲ) ਇਮਾਰਤ

(ਸ) ਕੰਪਿਊਟਰ

5.2 ਅਰਥਵਿਵਸਥਾ ਦੀਆਂ ਕੇਂਦਰੀ ਸਮੱਸਿਆਵਾਂ

ਅਸੀਂ ਕਿਸੇ ਵੀ ਅਰਥਵਿਵਸਥਾ ਵੱਲੋਂ ਸਾਹਮਣਾ ਕੀਤੀਆਂ ਜਾਣ ਵਾਲੀਆਂ ਤਿੰਨ ਵੱਡੀਆਂ ਸਮੱਸਿਆਵਾਂ ਨੂੰ ਸੂਚੀਬੱਧ ਕਰ ਸਕਦੇ ਹਾਂ। ਇਹ ਹਨ:

1. ਸਰੋਤਾਂ ਦੀ ਵੰਡ ਦੀ ਸਮੱਸਿਆ
2. ਸਰੋਤਾਂ ਦੀ ਵਰਤੋਂ ਦੀ ਸਮੱਸਿਆ
3. ਸਰੋਤਾਂ ਦੇ ਵਾਧੇ ਦੀ ਸਮੱਸਿਆ

ਆਉ ਇਹਨਾਂ ਮੁੱਦਿਆਂ 'ਤੇ ਇੱਕ-ਇੱਕ ਕਰਕੇ ਚਰਚਾ ਕਰੀਏ।

5.2.1 ਸਰੋਤਾਂ ਦੀ ਵੰਡ

ਅਰਥਵਿਵਸਥਾ ਤਿੰਨ ਬੁਨਿਆਦੀ ਆਰਥਿਕ ਸਮੱਸਿਆਵਾਂ ਦਾ ਵੀ ਸਾਹਮਣਾ ਕਰਦੀ ਹੈ:

1. ਕਿਹੜੀਆਂ ਵਸਤਾਂ ਅਤੇ ਸੇਵਾਵਾਂ ਦਾ ਉਤਪਾਦਨ ਕੀਤਾ ਜਾਣਾ ਚਾਹੀਦਾ ਹੈ ਅਤੇ ਕਿੰਨੀ ਮਾਤਰਾ ਵਿੱਚ?
2. ਵਸਤਾਂ ਅਤੇ ਸੇਵਾਵਾਂ ਦਾ ਉਤਪਾਦਨ ਕਿਵੇਂ ਕੀਤਾ ਜਾਵੇ?
3. ਵਸਤਾਂ ਅਤੇ ਸੇਵਾਵਾਂ ਕਿਸ ਲਈ ਪੈਦਾ ਕੀਤੀਆਂ ਜਾਣ?

ਕਿਹੜੀਆਂ ਵਸਤਾਂ ਅਤੇ ਸੇਵਾਵਾਂ ਦਾ ਉਤਪਾਦਨ ਕੀਤਾ ਜਾਵੇਗਾ? ਕਿੰਨੀ ਮਾਤਰਾ ਵਿੱਚ ਕੀਤਾ ਜਾਵੇਗਾ? ਹਰ ਸਮਾਜ ਨੂੰ ਚੋਣ ਦੀ ਇੱਕੋ ਜਿਹੀ ਸਮੱਸਿਆ ਦਾ ਸਾਹਮਣਾ ਕਰਨਾ ਪੈ ਸਕਦਾ ਹੈ; ਹਾਲਾਂਕਿ ਤਰਜੀਹਾਂ ਵੱਖਰੀਆਂ ਹੋ ਸਕਦੀਆਂ ਹਨ। ਘੱਟ ਵਿਕਸਤ ਅਰਥਵਿਵਸਥਾਵਾਂ ਵਿੱਚ ਚੋਣ ਭੋਜਨ ਫਸਲਾਂ ਦੇ ਉਤਪਾਦਨ ਅਤੇ ਸਾਈਕਲਾਂ ਦੇ ਨਿਰਮਾਣ ਪ੍ਰਤੀ ਹੋ ਸਕਦੀ ਹੈ। ਉੱਨਤ ਅਰਥਵਿਵਸਥਾਵਾਂ ਵਿੱਚ ਵਿਕਲਪ ਵਧੇਰੇ ਸ਼ਾਪਿੰਗ ਮਾਲ ਬਣਾਉਣ ਜਾਂ ਵਧੇਰੇ ਕਾਰਾਂ ਬਣਾਉਣ ਬਾਰੇ ਹੋ ਸਕਦਾ ਹੈ।

ਵਸਤਾਂ ਅਤੇ ਸੇਵਾਵਾਂ ਦਾ ਉਤਪਾਦਨ ਕਿਵੇਂ ਕੀਤਾ ਜਾਵੇਗਾ? ਇਹ ਉਸ ਵਿਧੀ ਨਾਲ ਸਬੰਧਤ ਹੈ ਜਿਸ ਦੁਆਰਾ ਇਹ ਪੈਦਾ ਕੀਤੇ ਜਾਣੇ ਹਨ? ਇੱਕ ਵਾਰ ਪੈਦਾ ਕੀਤੀਆਂ ਜਾਣ ਵਾਲੀਆਂ ਵਸਤਾਂ ਦਾ ਫੈਸਲਾ ਹੋ ਜਾਣ ਤੋਂ ਬਾਅਦ, ਉਹਨਾਂ ਨੂੰ ਕਿਵੇਂ ਪੈਦਾ ਕਰਨਾ ਹੈ ਇਸ ਦੀ ਸਮੱਸਿਆ ਹੈ। ਕਿਹੜੇ ਸੰਦਾਂ ਦੀ ਲੋੜ ਹੈ, ਕਿੰਨੀ ਜ਼ਮੀਨ ਅਤੇ ਕਿੰਨੇ ਮਜ਼ਦੂਰਾਂ ਦੀ ਲੋੜ ਹੈ। ਵਸਤਾਂ ਬਣਾਉਣ ਦੇ ਕਈ ਤਰੀਕੇ ਹਨ। ਉਦਾਹਰਨ ਲਈ, ਕੱਪੜੇ ਜ਼ਿਆਦਾ ਮਜ਼ਦੂਰੀ ਅਤੇ ਘੱਟ ਮਸ਼ੀਨਾਂ ਜਾਂ ਜ਼ਿਆਦਾ ਮਸ਼ੀਨਾਂ ਅਤੇ ਘੱਟ ਮਜ਼ਦੂਰੀ ਦੁਆਰਾ ਤਿਆਰ ਕੀਤੇ ਜਾ ਸਕਦੇ ਹਨ। ਜੇਕਰ ਵਸਤਾਂ ਅਤੇ ਸੇਵਾਵਾਂ ਦਾ ਉਤਪਾਦਨ ਵਧੇਰੇ ਕਿਰਤ ਅਤੇ ਘੱਟ ਪੂੰਜੀ ਲਗਾ ਕੇ ਕੀਤਾ ਜਾਂਦਾ ਹੈ, ਤਾਂ ਇਸਨੂੰ ਉਤਪਾਦਨ ਦੀ ਕਿਰਤ ਤੀਬਰ ਵਿਧੀ ਵਜੋਂ ਜਾਣਿਆ ਜਾਂਦਾ ਹੈ। ਜੇ ਵਸਤਾਂ ਅਤੇ ਸੇਵਾਵਾਂ

ਮੈਂਡਿਊਲ: 2

ਅਰਥਵਿਵਸਥਾ ਦੇ ਵਿਸ਼ੇ
ਬਾਰੇ



ਨੋਟ



ਦਾ ਉਤਪਾਦਨ ਵਧੇਰੇ ਪੂੰਜੀ (ਮਸ਼ੀਨਰੀ ਆਦਿ) ਦੁਆਰਾ ਕੀਤਾ ਜਾਂਦਾ ਹੈ, ਤਾਂ ਇਸਨੂੰ ਉਤਪਾਦਨ ਦੀ ਪੂੰਜੀ ਤੀਬਰ ਵਿਧੀ ਕਿਹਾ ਜਾਂਦਾ ਹੈ।

ਵਸਤਾਂ ਅਤੇ ਸੇਵਾਵਾਂ ਦਾ ਉਤਪਾਦਨ ਕਿਸ ਲਈ ਕੀਤਾ ਜਾਣਾ ਹੈ? ਪੈਦਾ ਕੀਤੀਆਂ ਵਸਤਾਂ ਅਤੇ ਸੇਵਾਵਾਂ ਦਾ ਆਨੰਦ ਅਤੇ ਲਾਭ ਕਿਸ ਨੇ ਲੈਣਾ ਹੈ? ਘਾਟ ਕਾਰਨ ਹਰ ਕਿਸੇ ਦੀਆਂ ਜ਼ਰੂਰਤਾਂ ਨੂੰ ਪੂਰਾ ਕਰਨਾ ਸੰਭਵ ਨਹੀਂ ਹੈ, ਇਸ ਲਈ ਇਹ ਤੈਅ ਕਰਨਾ ਚਾਹੀਦਾ ਹੈ ਕਿ ਕਿਨ੍ਹਾਂ ਦੀਆਂ ਜ਼ਰੂਰਤਾਂ ਨੂੰ ਪੂਰਾ ਕਰਨਾ ਹੈ। ਕੀ ਅਰਥਵਿਵਸਥਾ ਨੂੰ ਭੋਜਨ ਦੀਆਂ ਫਸਲਾਂ ਜਾਂ ਵਧੇਰੇ ਕੰਪਿਊਟਰਾਂ ਦਾ ਉਤਪਾਦਨ ਕਰਨਾ ਚਾਹੀਦਾ ਹੈ? ਕਿਸ ਦੀਆਂ ਲੋੜਾਂ ਨੂੰ ਸੰਬੋਧਿਤ ਕੀਤਾ ਜਾਣਾ ਹੈ, ਗਰੀਬ

ਲੋਕ ਜਾਂ ਅਮੀਰ ਲੋਕ? ਕੀ ਹਰ ਕਿਸੇ ਨੂੰ ਪੈਦਾ ਕੀਤੀਆਂ ਕੁੱਲ ਵਸਤਾਂ ਅਤੇ ਸੇਵਾਵਾਂ ਦਾ ਬਰਾਬਰ ਹਿੱਸਾ ਮਿਲਣਾ ਚਾਹੀਦਾ ਹੈ, ਭਾਵੇਂ ਕੁਝ ਲੋਕਾਂ ਨੂੰ ਦੂਜਿਆਂ ਨਾਲੋਂ ਵੱਧ ਹੀ ਜ਼ਰੂਰਤ ਹੋਵੇ? ਇਹ ਸਾਰੇ ਫੈਸਲੇ ਸਮਾਜ ਵਿੱਚ ਆਮਦਨ ਅਤੇ ਦੌਲਤ ਦੀ ਵੰਡ ਨੂੰ ਦਰਸਾਉਂਦੇ ਹਨ।

ਪਾਠ ਅਧੀਨ ਪ੍ਰਸ਼ਨ 5.2

1. ਇੱਕ ਕਾਰਨ ਦੱਸੋ ਜੋ ਆਰਥਿਕ ਸਮੱਸਿਆਵਾਂ ਨੂੰ ਜਨਮ ਦਿੰਦਾ ਹੈ?
2. ਅਰਥਵਿਵਸਥਾਵਾਂ ਦੀਆਂ ਤਿੰਨ ਕੇਂਦਰੀ ਸਮੱਸਿਆਵਾਂ ਦੇ ਨਾਮ ਦੱਸੋ।

5.2.1.1 ਪੂੰਜੀਵਾਦੀ ਅਰਥਵਿਵਸਥਾ ਵਿੱਚ ਸਰੋਤ ਵੰਡ

ਪੂੰਜੀਵਾਦੀ ਅਰਥਵਿਵਸਥਾ ਇੱਕ ਆਰਥਿਕ ਪ੍ਰਣਾਲੀ ਹੈ ਜਿਸ ਵਿੱਚ ਉਤਪਾਦਨ ਦੇ ਕਾਰਕ ਨਿੱਜੀ ਤੌਰ 'ਤੇ ਹੁੰਦੇ ਹਨ ਅਤੇ ਵੱਧ ਤੋਂ ਵੱਧ ਲਾਭ ਕਮਾਉਣ ਦੇ ਉਦੇਸ਼ ਨਾਲ ਵਸਤਾਂ ਅਤੇ ਸੇਵਾਵਾਂ ਦਾ ਉਤਪਾਦਨ ਕੀਤਾ ਜਾਂਦਾ ਹੈ। ਇੱਕ ਪੂੰਜੀਵਾਦੀ (ਮਾਰਕੀਟ-ਆਧਾਰਿਤ) ਅਰਥਵਿਵਸਥਾ ਵਿੱਚ, ਵਸਤਾਂ ਅਤੇ ਸੇਵਾਵਾਂ ਦੀ ਚੋਣ ਦੀ ਅਗਵਾਈ ਕਰਨ ਲਈ ਕੋਈ ਕੇਂਦਰੀ ਅਧਿਕਾਰੀ ਨਹੀਂ ਹੈ। ਉਤਪਾਦਨ ਵਿਅਕਤੀਆਂ ਦੇ ਹੱਥਾਂ ਵਿੱਚ ਹੈ - ਕਿਸਾਨ, ਨਿਰਮਾਤਾ, ਉਤਪਾਦਕ, ਸੇਵਾ ਪ੍ਰਦਾਤਾ ਅਤੇ ਹੋਰ। ਜ਼ਮੀਨ, ਕਿਰਤ, ਪੂੰਜੀ ਆਦਿ ਸਾਧਨਾਂ ਦੀ ਨਿੱਜੀ ਮਾਲਕੀ ਲੋਕਾਂ ਦੀ ਹੈ। ਇਹ ਸਾਰੇ ਵਿਅਕਤੀ ਬਾਜ਼ਾਰ ਲਈ ਪੈਦਾ ਕਰਦੇ ਹਨ ਅਤੇ ਮੁਨਾਫ਼ੇ ਦੇ ਮਨੋਰਥ ਦੁਆਰਾ ਸੇਧਿਤ ਹੁੰਦੇ ਹਨ। ਉਹ ਸਿਰਫ਼ ਉਹੀ ਵਸਤਾਂ ਤਿਆਰ ਕਰਦੇ ਹਨ ਜਿਨ੍ਹਾਂ ਦੀ ਖਪਤਕਾਰਾਂ ਵੱਲੋਂ ਮੰਗ ਕੀਤੀ ਜਾਂਦੀ ਹੈ। ਉਹ ਸਭ ਤੋਂ ਸਸਤੇ ਤਰੀਕੇ ਨਾਲ ਮਾਲ ਤਿਆਰ ਕਰਨ ਦੀ ਕੋਸ਼ਿਸ਼ ਕਰਦੇ ਹਨ ਤਾਂ ਜੋ ਉਹ ਵੱਧ ਤੋਂ ਵੱਧ ਮੁਨਾਫ਼ਾ ਕਮਾ ਸਕਣ। ਉਹ ਉਹਨਾਂ ਚੀਜ਼ਾਂ ਦਾ ਉਤਪਾਦਨ ਨਹੀਂ ਕਰਨਗੇ ਜੋ ਲੋਕ ਨਹੀਂ ਖਰੀਦਦੇ। ਉਹਨਾਂ ਦਾ ਧਿਆਨ ਉਨ੍ਹਾਂ ਵਸਤਾਂ ਦੇ ਉਤਪਾਦਨ ਵੱਲ ਹੈ ਜੋ ਲੋਕ ਖਰੀਦਣਾ ਪਸੰਦ ਕਰਦੇ ਹਨ। ਉਤਪਾਦ ਉਹਨਾਂ ਲੋਕਾਂ ਲਈ ਹਨ ਜੋ ਅਜਿਹੇ ਉਤਪਾਦਾਂ ਦੀ ਮੰਗ ਕਰਦੇ ਹਨ ਅਤੇ ਉਹਨਾਂ ਨੂੰ ਖਰੀਦਣ ਦੀ ਸਮਰੱਥਾ ਰੱਖਦੇ ਹਨ।



ਰਾਜਨ ਇੱਕ ਕਾਰੋਬਾਰੀ ਹੈ ਜੋ ਕਮੀਜ਼ਾਂ ਦਾ ਉਤਪਾਦਨ ਕਰਦਾ ਹੈ। ਉਸ ਨੇ ਮਹਿਸੂਸ ਕੀਤਾ ਕਿ ਉਸ ਦੀਆਂ ਬਹੁਤ ਸਾਰੀਆਂ ਕਮੀਜ਼ਾਂ ਅਣਵਿਕੀਆਂ ਪਈਆਂ ਹਨ। ਉਸਨੇ ਇਹ ਵੀ ਦੇਖਿਆ ਕਿ ਅੱਜਕੱਲ੍ਹ ਨੌਜਵਾਨ ਲੜਕੇ ਅਤੇ ਲੜਕੀਆਂ ਟੀ-ਸ਼ਰਟਾਂ ਪਹਿਨ ਰਹੇ ਹਨ। ਇਹ ਨੌਜਵਾਨ ਅੱਜ-ਕੱਲ੍ਹ ਸ਼ਰਟ ਦੀ ਬਜਾਏ ਟੀ-ਸ਼ਰਟਾਂ 'ਤੇ ਪੈਸਾ ਖਰਚਣ ਲਈ ਤਿਆਰ ਹਨ। ਜਿਵੇਂ ਹੀ ਰਾਜਨ ਦਾ ਮੁਨਾਫਾ ਘਟਣਾ ਸ਼ੁਰੂ ਹੋ ਗਿਆ ਹੈ, ਉਸਨੇ ਕਮੀਜ਼ਾਂ ਦੀ ਬਜਾਏ ਟੀ-ਸ਼ਰਟਾਂ ਬਣਾਉਣ ਦਾ ਫੈਸਲਾ ਕੀਤਾ। ਕਿਉਂਕਿ ਉਸਦੇ ਸਰੋਤ ਸੀਮਤ ਹਨ, ਉਹ ਨੌਜਵਾਨਾਂ ਦੀਆਂ ਮੰਗਾਂ ਨੂੰ ਪੂਰਾ ਕਰਨ ਲਈ ਆਪਣੇ ਸਰੋਤਾਂ ਨੂੰ ਟੀ-ਸ਼ਰਟਾਂ ਦੇ ਉਤਪਾਦਨ ਵੱਲ ਮੋੜ ਲੈਂਦਾ ਹੈ। ਰਾਜਨ ਹੁਣ 2 ਸਿਲਾਈ ਮਸ਼ੀਨਾਂ ਅਤੇ ਆਪਣੇ ਸਾਰੇ 10 ਕਾਮਿਆਂ ਨੂੰ ਰੁਜ਼ਗਾਰ ਦੇ ਕੇ ਟੀ-ਸ਼ਰਟਾਂ ਤਿਆਰ ਕਰ ਸਕਦਾ ਹੈ। ਇਸ ਪ੍ਰਕਿਰਿਆ ਦੁਆਰਾ ਹਰੇਕ ਟੀ-ਸ਼ਰਟ ਦੀ ਕੀਮਤ ਉਸ ਨੂੰ 100/ ਰੁਪਏ ਹੋਵੇਗੀ। ਰਾਜਨ ਲਈ ਇੱਕ ਹੋਰ ਵਿਕਲਪ 5 ਮਸ਼ੀਨਾਂ ਅਤੇ ਸਿਰਫ 8 ਕਰਮਚਾਰੀਆਂ ਦੀ ਵਰਤੋਂ ਕਰਕੇ ਟੀ-ਸ਼ਰਟਾਂ ਤਿਆਰ ਕਰਨਾ ਹੈ, ਇਸ ਸਥਿਤੀ ਵਿੱਚ ਟੀ-ਸ਼ਰਟ ਦੀ ਕੀਮਤ 125 ਰੁਪਏ ਹੋਵੇਗੀ। ਰਾਜਨ ਪਹਿਲਾ ਅਤੇ ਸਸਤਾ ਤਰੀਕਾ ਚੁਣੇਗਾ ਕਿਉਂਕਿ ਉਹ ਆਪਣੀਆਂ ਟੀ-ਸ਼ਰਟਾਂ ਵੇਚ ਕੇ ਵੱਧ ਤੋਂ ਵੱਧ ਮੁਨਾਫਾ ਕਮਾਉਣਾ ਚਾਹੁੰਦਾ ਹੈ। ਹੁਣ ਰਾਜਨ ਦੀਆਂ ਟੀ-ਸ਼ਰਟਾਂ ਨੌਜਵਾਨਾਂ ਵਿੱਚ ਬਹੁਤ ਮਸ਼ਹੂਰ ਹਨ। ਉਹ ਹੁਣ ਉਸ ਤੋਂ ਵੱਧ ਮੁਨਾਫਾ ਕਮਾਉਂਦਾ ਹੈ ਜੋ ਉਹ ਕਮੀਜ਼ਾਂ ਦਾ ਉਤਪਾਦਨ ਕਰਦੇ ਸਮੇਂ ਕਮਾ ਰਿਹਾ ਸੀ। ਉਹ ਨੌਜਵਾਨ ਜੋ 100 ਰੁਪਏ ਦਾ ਭੁਗਤਾਨ ਕਰ ਸਕਦੇ ਹਨ, ਉਹ ਸਾਰੇ ਰਾਜਨ ਦੁਆਰਾ ਤਿਆਰ ਕੀਤੀਆਂ ਟੀ-ਸ਼ਰਟਾਂ ਪਹਿਨਦੇ ਹਨ।

ਇਸ ਤਰ੍ਹਾਂ, ਪੂੰਜੀਵਾਦੀ ਆਰਥਿਕ ਪ੍ਰਣਾਲੀ ਦੀਆਂ ਮਹੱਤਵਪੂਰਨ ਵਿਸ਼ੇਸ਼ਤਾਵਾਂ ਹੇਠਾਂ ਦਿੱਤੀਆਂ ਗਈਆਂ ਹਨ:



- ਸਿਰਫ਼ ਉਹੀ ਵਸਤਾਂ ਅਤੇ ਸੇਵਾਵਾਂ ਪੈਦਾ ਕੀਤੀਆਂ ਜਾਂਦੀਆਂ ਹਨ ਜੋ ਖਪਤਕਾਰ ਚਾਹੁੰਦੇ ਹਨ।
- ਵਸਤਾਂ ਦੀ ਵੱਧ ਤੋਂ ਵੱਧ ਮਾਤਰਾ ਪ੍ਰਤੀ ਯੂਨਿਟ ਘੱਟੋ-ਘੱਟ ਲਾਗਤ 'ਤੇ ਪੈਦਾ ਕੀਤੀ ਜਾਂਦੀ ਹੈ।
- ਵਸਤਾਂ ਅਤੇ ਸੇਵਾਵਾਂ ਹਰ ਉਸ ਵਿਅਕਤੀ ਲਈ ਤਿਆਰ ਕੀਤੀਆਂ ਜਾਂਦੀਆਂ ਹਨ ਜੋ ਉਹਨਾਂ ਲਈ ਭੁਗਤਾਨ ਕਰ ਸਕਦਾ ਹੈ।

5.2.1.2 ਯੋਜਨਾਬੱਧ ਆਰਥਿਕ ਪ੍ਰਣਾਲੀ ਵਿੱਚ ਸਰੋਤ ਵੰਡ

ਇੱਕ ਯੋਜਨਾਬੱਧ ਆਰਥਿਕ ਪ੍ਰਣਾਲੀ ਵਿੱਚ, ਸਰਕਾਰ ਦੀ ਇੱਕ ਕੇਂਦਰੀ ਯੋਜਨਾ ਅਥਾਰਟੀ ਹੁੰਦੀ ਹੈ ਜੋ ਇਹ ਫੈਸਲਾ ਕਰਦੀ ਹੈ ਕਿ ਕੀ ਪੈਦਾ ਕਰਨਾ ਹੈ, ਕਿਵੇਂ ਪੈਦਾ ਕਰਨਾ ਹੈ ਅਤੇ ਕਿਸ ਲਈ ਪੈਦਾ ਕਰਨਾ ਹੈ। ਯੋਜਨਾ ਅਥਾਰਟੀ ਉਤਪਾਦਨ ਦੇ ਟੀਚੇ ਨਿਰਧਾਰਤ ਕਰਦੀ ਹੈ। ਸਰਕਾਰ ਟੀਚੇ ਤੈਅ ਕਰਦੀ ਹੈ ਅਤੇ ਫਰਮਾਂ ਟੀਚਿਆਂ ਨੂੰ ਪੂਰਾ ਕਰਨ ਦੀ ਕੋਸ਼ਿਸ਼ ਕਰਦੀਆਂ ਹਨ। ਜਦੋਂ ਟੀਚਿਆਂ 'ਤੇ ਸਮਝੌਤਾ ਹੁੰਦਾ ਹੈ, ਤਾਂ ਫਰਮਾਂ ਉਤਪਾਦਨ ਸ਼ੁਰੂ ਕਰਦੀਆਂ ਹਨ। ਇਹ ਮਾਰਕੀਟ ਅਰਥਵਿਵਸਥਾਵਾਂ ਦੇ ਉਲਟ ਹੈ, ਜਿੱਥੇ ਪੈਸੇ ਵਾਲੇ ਲੋਕ ਆਪਣੀਆਂ ਲੋੜਾਂ ਪੂਰੀਆਂ ਕਰ ਸਕਦੇ ਹਨ ਅਤੇ ਜਿਨ੍ਹਾਂ ਲੋਕਾਂ ਕੋਲ ਪੈਸਾ ਨਹੀਂ ਹੈ, ਉਹ ਆਪਣੀਆਂ ਜ਼ਰੂਰਤਾਂ ਨੂੰ ਪੂਰਾ ਕਰਨ ਲਈ ਚੀਜ਼ਾਂ ਖਰੀਦਣ ਦੇ ਸਮਰੱਥ ਨਹੀਂ ਹਨ। ਇੱਕ ਯੋਜਨਾਬੱਧ ਪ੍ਰਣਾਲੀ ਵਿੱਚ, ਸਰਕਾਰ ਚਾਹੁੰਦੀ ਹੈ ਕਿ ਹਰ ਕੋਈ ਬਰਾਬਰ ਹੋਵੇ। ਉਹ, ਉਹ ਚੀਜ਼ਾਂ ਪੈਦਾ ਕਰਦੇ ਹਨ ਜਿਸਦੀ ਹਰ ਕਿਸੇ ਨੂੰ ਲੋੜ ਹੁੰਦੀ ਹੈ ਅਤੇ ਹਰ ਕਿਸੇ ਦੁਆਰਾ ਇਸ ਨੂੰ ਬਰਾਬਰ ਸਾਂਝਾ ਕੀਤਾ ਜਾ ਸਕਦਾ ਹੈ। ਅਜਿਹਾ ਨਹੀਂ ਹੈ ਕਿ ਜੇ ਲੋਕ ਖਰੀਦਣ ਦੇ ਸਮਰੱਥ ਹਨ, ਉਨ੍ਹਾਂ ਕੋਲ ਜ਼ਿਆਦਾ ਵੀ ਹੋ ਸਕਦਾ ਹੈ। ਘੱਟੋ-ਘੱਟ ਸਿਹਤ ਅਤੇ ਸਿੱਖਿਆ, ਸੜਕਾਂ ਅਤੇ ਰਿਹਾਇਸ਼ ਵਰਗੀਆਂ ਸੇਵਾਵਾਂ ਦੇ ਮਾਮਲੇ ਵਿੱਚ, ਹਰੇਕ ਨੂੰ ਬਰਾਬਰ ਮੌਕੇ ਮਿਲਣੇ ਚਾਹੀਦੇ ਹਨ, ਚਾਹੇ ਉਨ੍ਹਾਂ ਦੀ ਸਮਰੱਥਾ ਕੁਝ ਵੀ ਹੋਵੇ। ਇਸ ਤਰ੍ਹਾਂ ਯੋਜਨਾਬੱਧ ਅਰਥਵਿਵਸਥਾਵਾਂ ਦੇ ਮਾਮਲੇ ਵਿੱਚ, ਸਰਕਾਰ ਉਨ੍ਹਾਂ ਵਸਤਾਂ ਅਤੇ ਸੇਵਾਵਾਂ ਦਾ ਉਤਪਾਦਨ ਕਰਨ ਦਾ ਫੈਸਲਾ ਕਰਦੀ ਹੈ ਜੋ ਉਹ ਸੋਚਦੀ ਹੈ ਕਿ ਲੋਕਾਂ ਕੋਲ ਹੋਣੀਆਂ ਚਾਹੀਦੀਆਂ ਹਨ ਨਾ ਕਿ ਲੋਕ ਜੋ ਸੋਚਦੇ ਹਨ ਕਿ ਉਨ੍ਹਾਂ ਕੋਲ ਹੋਣਾ ਚਾਹੀਦਾ ਹੈ। ਇਸ ਤਰ੍ਹਾਂ, ਸਰਕਾਰ ਲੋਕਾਂ ਦੀਆਂ ਲੋੜਾਂ ਨੂੰ ਪੂਰਾ ਕਰਨ ਲਈ ਵਸਤਾਂ ਅਤੇ ਸੇਵਾਵਾਂ ਦਾ ਉਤਪਾਦਨ ਕਰਦੀ ਹੈ।

ਜਿਵੇਂ ਕਿ ਸਰਕਾਰ ਵੱਖ-ਵੱਖ ਵਸਤਾਂ ਦਾ ਉਤਪਾਦਨ ਅਤੇ ਉਨ੍ਹਾਂ ਦੀ ਮਾਤਰਾ ਨਿਰਧਾਰਤ ਕਰਦੀ ਹੈ, ਇਹ ਸੰਭਵ ਹੈ ਕਿ ਸਰਕਾਰ ਸਕੂਟਰ ਅਤੇ ਟਰੈਕਟਰ ਜ਼ਿਆਦਾ ਪੈਦਾ ਕਰੇ ਜਦੋਂ ਕਿ ਖਪਤਕਾਰ ਕਾਰ ਦੀ ਮੰਗ ਕਰਦੇ ਹਨ। ਉਤਪਾਦਨ ਕਿਵੇਂ ਕਰਨਾ ਹੈ, ਇਸ ਬਾਰੇ ਕੇਂਦਰੀ ਯੋਜਨਾ

ਅਥਾਰਟੀ ਬਹੁਤ ਸਾਰੀਆਂ ਚੀਜ਼ਾਂ ਦੀ ਕੀਮਤ ਦਾ ਹਿਸਾਬ ਨਹੀਂ ਲਗਾ ਸਕਦੀ ਹੈ ਅਤੇ ਇਹ ਖਤਰਾ ਹੈ ਕਿ ਸਰੋਤਾਂ ਦੀ ਵੰਡ ਆਦਰਸ਼ਕ ਢੰਗ ਨਾਲ ਨਾ ਹੋਵੇ। ਸਮਾਜਵਾਦੀ ਅਰਥਵਿਵਸਥਾ ਲੋਕਾਂ ਦੀਆਂ ਬੁਨਿਆਦੀ ਲੋੜਾਂ ਜਿਵੇਂ ਕਿ ਭੋਜਨ, ਕੱਪੜਾ ਅਤੇ ਮਕਾਨ ਦੀਆਂ ਜ਼ਰੂਰਤਾਂ ਨੂੰ ਸੰਤੁਸ਼ਟ ਕਰਨ ਦੇ ਆਧਾਰ 'ਤੇ 'ਕਿਸ ਲਈ ਉਤਪਾਦਨ ਕੀਤਾ ਜਾਵੇ' ਸਮੱਸਿਆ ਨੂੰ ਹੱਲ ਕਰਦੀ ਹੈ। ਸਾਰਿਆਂ ਨਾਲ ਇੱਕੋ ਜਿਹਾ ਵਿਹਾਰ ਕੀਤਾ ਜਾਂਦਾ ਹੈ ਅਤੇ ਕਿਸੇ ਨੂੰ ਵੀ ਦੂਜੇ ਉੱਤੇ ਪਹਿਲ ਨਹੀਂ ਮਿਲਦੀ। ਹਾਲਾਂਕਿ ਇਹ ਕਿਹਾ ਜਾਂਦਾ ਹੈ ਕਿ ਯੋਜਨਾਬੱਧ ਆਰਥਿਕ ਪ੍ਰਣਾਲੀ ਸਭ ਤੋਂ ਆਦਰਸ਼ ਤਰੀਕੇ ਨਾਲ ਸਰੋਤਾਂ ਦੀ ਵੰਡ ਨਹੀਂ ਕਰਦੀ ਕਿਉਂਕਿ ਇਹ ਲੋਕਾਂ ਦੀ ਪਸੰਦ ਅਤੇ

ਤਰਜੀਹ 'ਤੇ ਆਧਾਰਿਤ ਨਹੀਂ ਹੈ। ਇਹ ਸਰਕਾਰ ਦੇ ਫੈਸਲੇ 'ਤੇ ਆਧਾਰਿਤ ਹੈ। ਹਾਲਾਂਕਿ, ਪ੍ਰਣਾਲੀ ਸਮਾਜ ਭਲਾਈ ਦੇ ਸਿਧਾਂਤ 'ਤੇ ਆਧਾਰਿਤ ਹੈ।

5.2.1.3 ਮਿਸ਼ਰਤ ਅਰਥਵਿਵਸਥਾ ਵਿੱਚ ਸਰੋਤ ਵੰਡ

ਮਿਸ਼ਰਤ ਆਰਥਿਕ ਪ੍ਰਣਾਲੀ ਸਰਕਾਰੀ ਯੋਜਨਾਬੰਦੀ ਨੂੰ ਮੁਕਤ ਬਾਜ਼ਾਰ ਦੀ ਆਰਥਿਕਤਾ ਨਾਲ ਜੋੜਦੀ ਹੈ। ਦੁਨੀਆ ਦੀ ਕੋਈ ਵੀ ਅਰਥਵਿਵਸਥਾ ਪੂਰੀ ਤਰ੍ਹਾਂ ਕੇਂਦਰੀ ਯੋਜਨਾਬੱਧ ਜਾਂ ਪੂਰੀ ਤਰ੍ਹਾਂ ਬਾਜ਼ਾਰ-ਮੁਖੀ ਨਹੀਂ ਹੈ। ਅੱਜ ਬਹੁਤੀਆਂ ਅਰਥਵਿਵਸਥਾਵਾਂ ਮਿਸ਼ਰਤ ਅਰਥਵਿਵਸਥਾਵਾਂ ਹਨ। ਮਿਸ਼ਰਤ ਆਰਥਿਕ ਪ੍ਰਣਾਲੀ ਵਿੱਚ ਨਿੱਜੀ ਖੇਤਰ ਦੁਆਰਾ ਪੈਦਾ ਕੀਤੀਆਂ ਜਾਣ ਵਾਲੀਆਂ ਵਸਤਾਂ ਅਤੇ ਸੇਵਾਵਾਂ ਦੀ ਚੋਣ ਮੁਨਾਫੇ ਦੇ ਉਦੇਸ਼ ਦੇ ਆਧਾਰ 'ਤੇ ਨਿਰਭਰ ਕਰਦੀ ਹੈ। ਸਰਕਾਰ ਦੁਆਰਾ ਪੈਦਾ ਕੀਤੀਆਂ ਜਾਣ ਵਾਲੀਆਂ ਵਸਤਾਂ ਅਤੇ ਸੇਵਾਵਾਂ ਦੀ ਚੋਣ ਲੋਕਾਂ ਦੀਆਂ ਲੋੜਾਂ ਅਤੇ ਲੋੜਾਂ ਦੇ ਆਧਾਰ 'ਤੇ ਨਿਰਭਰ ਕਰਦੀ ਹੈ। ਇਹ ਉਤਪਾਦਨ ਦੀ ਕੁਸ਼ਲਤਾ ਨੂੰ ਵੰਡ ਦੇ ਨਿਆਂ ਨਾਲ ਜੋੜਦਾ ਹੈ; ਸਰਕਾਰ ਕੋਲ ਵਸਤਾਂ ਅਤੇ ਸੇਵਾਵਾਂ ਪੈਦਾ ਕਰਨ ਲਈ ਬਹੁਤ ਘੱਟ ਸਰੋਤ ਹਨ ਜਿਨ੍ਹਾਂ ਦੀ ਉਹ ਆਪਣੇ ਦੇਸ਼ ਅਤੇ ਲੋਕਾਂ ਨੂੰ ਲੋੜ ਹੈ। ਨਿੱਜੀ ਖੇਤਰ ਦੇ ਲੋਕ ਅਤੇ ਫਰਮਾਂ ਵੀ ਵੱਧ ਤੋਂ ਵੱਧ ਪੈਸਾ ਕਮਾਉਣ ਦੇ ਉਦੇਸ਼ ਨਾਲ ਕੁਝ ਸੀਮਤ ਸਰੋਤਾਂ ਦੇ ਮਾਲਕ ਹਨ। ਇਸ ਤਰ੍ਹਾਂ, ਮਿਸ਼ਰਤ ਆਰਥਿਕ ਪ੍ਰਣਾਲੀ ਬਾਜ਼ਾਰ ਆਰਥਿਕ ਪ੍ਰਣਾਲੀ ਦੇ ਫਾਇਦਿਆਂ ਨੂੰ ਯੋਜਨਾਬੱਧ ਆਰਥਿਕ ਪ੍ਰਣਾਲੀ ਦੇ ਫਾਇਦਿਆਂ ਨਾਲ ਜੋੜਨ ਦੀ ਕੋਸ਼ਿਸ਼ ਕਰਦੀ ਹੈ।

ਪਾਠ ਅਧੀਨ ਪ੍ਰਸ਼ਨ 5.3

1. ਵਸਤਾਂ ਅਤੇ ਸੇਵਾਵਾਂ ਦੇ ਉਤਪਾਦਨ ਦਾ ਮੁੱਖ ਉਦੇਸ਼ ਕੀ ਹੈ:
 - (ੳ) ਬਾਜ਼ਾਰ ਅਰਥਵਿਵਸਥਾ ਵਿੱਚ
 - (ਅ) ਯੋਜਨਾਬੱਧ ਅਰਥਵਿਵਸਥਾ ਵਿੱਚ

ਮੈਂਡਿਊਲ: 2

ਅਰਥਵਿਵਸਥਾ ਦੇ ਵਿਸ਼ੇ ਬਾਰੇ



ਨੋਟ

ਅਰਥਵਿਵਸਥਾ ਦੇ ਵਿਸ਼ੇ
ਬਾਰੇ



ਨੋਟ

2. ਬਾਜ਼ਾਰ ਅਰਥਵਿਵਸਥਾ ਵਿੱਚ ਵਸਤਾਂ ਦਾ ਉਤਪਾਦਨ ਕਿਸ ਲਈ ਕੀਤਾ ਜਾਂਦਾ ਹੈ?

ਅਸੀਂ ਚਰਚਾ ਕੀਤੀ ਹੈ ਕਿ ਕੁੱਲ ਵਸੀਲੇ ਸੀਮਤ ਹੁੰਦੇ ਹਨ ਅਤੇ ਸਰੋਤ ਵੱਖ-ਵੱਖ ਵਸਤਾਂ ਪੈਦਾ ਕਰਨ ਦੇ ਸਮਰੱਥ ਹਨ। ਕੀ ਪੈਦਾ ਕਰਨਾ ਹੈ ਅਤੇ ਕਿੰਨਾ ਕਰਨਾ ਹੈ, ਇਹ ਫੈਸਲਾ ਕਰਨ ਵਿੱਚ, ਅਰਥਚਾਰੇ ਨੂੰ ਹਜ਼ਾਰਾਂ ਵੱਖ-ਵੱਖ ਸੰਭਾਵਿਤ ਵਸਤਾਂ ਵਿੱਚ ਸਰੋਤਾਂ ਦੀ ਵੰਡ ਬਾਰੇ ਫੈਸਲੇ ਲੈਣੇ ਪੈਂਦੇ ਹਨ। ਮੰਨ ਲਓ ਕਿ ਅਰਥਚਾਰਾ ਸਿਰਫ਼ ਦੋ ਵਸਤਾਂ ਦਾ ਉਤਪਾਦਨ ਕਰ ਰਿਹਾ ਹੈ- ਕਣਕ ਅਤੇ ਸਾਈਕਲ। ਕੁੱਲ ਵਸੀਲਿਆਂ ਦੀ ਸੀਮਾ ਨਾਲ ਜੇਕਰ ਸਾਰੇ ਸਾਧਨਾਂ ਦੀ ਵਰਤੋਂ ਕਣਕ ਦੀ ਪੈਦਾਵਾਰ ਵਿੱਚ ਕੀਤੀ ਜਾਵੇ ਤਾਂ 20 ਕੁਇੰਟਲ ਕਣਕ ਪੈਦਾ ਹੋ ਸਕਦੀ ਹੈ ਅਤੇ ਸਾਈਕਲ ਦਾ ਉਤਪਾਦਨ ਨਹੀਂ ਹੋਵੇਗਾ। ਜੇਕਰ ਵੱਧ ਤੋਂ ਵੱਧ ਸਾਧਨਾਂ ਨੂੰ ਸਾਈਕਲਾਂ ਦੇ ਉਤਪਾਦਨ ਵੱਲ ਮੋੜਿਆ ਜਾ ਰਿਹਾ ਹੈ, ਤਾਂ ਕਣਕ ਦੀ ਪੈਦਾਵਾਰ ਲਈ ਬਹੁਤ ਘੱਟ ਰਕਮ ਬਚੇਗੀ। ਇਸੇ ਤਰ੍ਹਾਂ ਜੇਕਰ ਸਾਰੇ ਸਾਧਨ ਸਾਈਕਲਾਂ ਦੇ ਉਤਪਾਦਨ ਵਿੱਚ ਵਰਤੇ ਜਾਣ ਤਾਂ 100 ਸਾਈਕਲ ਪੈਦਾ ਕੀਤੇ ਜਾ ਸਕਦੇ ਹਨ ਅਤੇ ਕਣਕ ਦੀ ਪੈਦਾਵਾਰ ਲਈ ਕੋਈ ਵਸੀਲਾ ਨਹੀਂ ਬਚੇਗਾ।

ਸਾਰਣੀ 1: ਉਤਪਾਦਨ ਦੀਆਂ ਸੰਭਾਵਨਾਵਾਂ

ਉਤਪਾਦਨ ਦੀਆਂ ਸੰਭਾਵਨਾਵਾਂ	ਕਣਕ (ਕੁਇੰਟਲ)	ਸਾਈਕਲ
ੳ	20	0
ਅ	8	30
ੲ	5	60
ਸ	2	75
ਹ	0	100

ਉਪਰੋਕਤ ਸਾਰਣੀ ਦੇ ਵਸਤਾਂ , ਕਣਕ ਅਤੇ ਸਾਈਕਲਾਂ ਦੇ ਵੱਖੋ-ਵੱਖਰੇ ਸੰਜੋਗਾਂ ਦੀਆਂ ਕੁਝ ਉਤਪਾਦਨ ਸੰਭਾਵਨਾਵਾਂ ਦੀ ਉਦਾਹਰਨ ਦਿਖਾਉਂਦੀ ਹੈ। ਸਿਰਫ਼ ਪੰਜ ਸੰਭਾਵਨਾਵਾਂ ਹਨ। ਹੋਰ ਵੀ ਬਹੁਤ ਸਾਰੀਆਂ ਸੰਭਾਵਨਾਵਾਂ ਹੋ ਸਕਦੀਆਂ ਹਨ। ਜੇ ਕਣਕ ਦੀ ਕੁਝ ਮਾਤਰਾ ਛੱਡ ਦਿੱਤੀ

ਜਾਵੇ, ਤਾਂ ਸਾਡੇ ਕੋਲ ਸਾਈਕਲਾਂ ਦੀ ਵਧੇਰੇ ਮਾਤਰਾ ਹੋ ਸਕਦੀ ਹੈ; ਜੇਕਰ ਕੁਝ ਸਾਈਕਲ ਛੱਡ ਦਿੱਤੇ ਜਾਣ ਤਾਂ ਕਣਕ ਦੀ ਵਧੇਰੇ ਪੈਦਾਵਾਰ ਹੋ ਸਕਦੀ ਹੈ। ਇਸ ਲਈ ਵਿਕਲਪਿਕ ਉਤਪਾਦਨ ਦੀਆਂ ਸੰਭਾਵਨਾਵਾਂ ਪ੍ਰਾਪਤ ਕਰਨ ਲਈ ਦੁਰਲੱਭ ਸਰੋਤਾਂ ਨੂੰ ਵੱਖ-ਵੱਖ ਸੰਜੋਗਾਂ ਵਿੱਚ ਲਗਾਇਆ ਜਾਂਦਾ ਹੈ।

5.2.2 ਸਰੋਤਾਂ ਦੀ ਪੂਰੀ ਵਰਤੋਂ

ਆਰਥਿਕਤਾ ਦੀ ਦੂਜੀ ਕੇਂਦਰੀ ਸਮੱਸਿਆ ਸਰੋਤਾਂ - ਜ਼ਮੀਨ, ਕਿਰਤ, ਪੂੰਜੀ ਦੀ ਪੂਰੀ ਵਰਤੋਂ ਨਾਲ ਸਬੰਧਤ ਹੈ। ਤੁਸੀਂ ਦੇਖਿਆ ਹੈ ਕਿ ਤੁਸੀਂ ਕੁਝ ਮਾਤਰਾ ਵਿੱਚ ਕਣਕ ਦਾ ਤਿਆਗ ਕਰਕੇ ਸਾਈਕਲਾਂ ਦੀ ਜ਼ਿਆਦਾ ਮਾਤਰਾ ਲੈ ਸਕਦੇ ਹੋ। ਜੇਕਰ ਅਰਥਵਿਵਸਥਾ ਦੇ ਸਾਰੇ ਸਾਧਨ ਪੂਰੀ ਤਰ੍ਹਾਂ ਨਾਲ ਕੰਮ 'ਤੇ ਹਨ, ਤਾਂ ਇੱਕ ਵਸਤੂ ਦੀ ਮਾਤਰਾ ਦੂਜੀ ਦੀ ਕੁਝ ਮਾਤਰਾ ਨੂੰ ਛੱਡ ਕੇ ਹੀ ਵਧਾਈ ਜਾ ਸਕਦੀ ਹੈ। ਇਹ ਉਦੋਂ ਹੁੰਦਾ ਹੈ ਜਦੋਂ ਉਤਪਾਦਨ ਕੁਸ਼ਲਤਾ ਨਾਲ ਹੁੰਦਾ ਹੈ। ਪਰ ਅਸਲ ਵਿੱਚ, ਜ਼ਿਆਦਾਤਰ ਸਮਾਂ ਉਤਪਾਦਨ ਕੁਸ਼ਲਤਾ ਨਾਲ ਨਹੀਂ ਹੁੰਦਾ। ਸਾਰੇ ਕਾਰਕ ਪੂਰੀ ਤਰ੍ਹਾਂ ਕੰਮ ਨਹੀਂ ਕਰ ਕਰਦੇ ਹਨ ਅਤੇ ਉਤਪਾਦਨ ਅਰਥਵਿਵਸਥਾ ਦੀ ਸਰਵੋਤਮ ਸਮਰੱਥਾ ਤੋਂ ਹੇਠਾਂ ਹੈ। ਤੁਸੀਂ ਆਪਣੇ ਪਰਿਵਾਰ ਦੇ ਕੁਝ ਮੈਂਬਰਾਂ ਜਾਂ ਦੇਸਤਾਂ ਨੂੰ ਜ਼ਰੂਰ ਦੇਖਿਆ ਹੋਵੇਗਾ ਜੋ ਪੜ੍ਹੇ-ਲਿਖੇ ਹੋਣ ਦੇ ਬਾਵਜੂਦ ਬੇਰੁਜ਼ਗਾਰ ਹਨ। ਇਸੇ ਤਰ੍ਹਾਂ ਸਾਡੀ ਖੇਤੀ ਵਾਲੀ ਜ਼ਮੀਨ ਵਿੱਚ ਅਸੀਂ ਅਜੇ ਵੀ ਸਾਲ ਵਿੱਚ ਸਿਰਫ਼ ਇੱਕ ਫ਼ਸਲ ਹੀ ਉਗਾਉਂਦੇ ਹਾਂ। ਇਹ ਚੰਗਾ ਸੰਕੇਤ ਨਹੀਂ ਹੈ, ਕਿਉਂਕਿ ਸਰੋਤ ਪਹਿਲਾਂ ਹੀ ਘੱਟ ਹਨ। ਜੇਕਰ ਇਨ੍ਹਾਂ ਸੀਮਤ ਸਾਧਨਾਂ ਦੀ ਵੀ ਪੂਰੀ ਵਰਤੋਂ ਨਾ ਕੀਤੀ ਜਾਵੇ ਤਾਂ ਇਹ ਸਾਧਨਾਂ ਦੀ ਬਰਬਾਦੀ ਹੈ। ਇਸ ਲਈ ਇਹ ਯਕੀਨੀ ਬਣਾਉਣਾ ਇੱਕ ਅਰਥਵਿਵਸਥਾ ਦਾ ਫਰਜ਼ ਹੈ ਕਿ ਸੀਮਤ ਵਸੀਲੇ ਅਣਵਰਤੇ ਜਾਂ ਘੱਟ ਵਰਤੇ ਨਾ ਰਹਿਣ।

5.2.3 ਸਰੋਤਾਂ ਦਾ ਵਾਧਾ

ਜੇਕਰ ਕਿਰਤ, ਪੂੰਜੀ ਅਤੇ ਤਕਨਾਲੋਜੀ ਵਰਗੇ ਸਰੋਤ ਸਮੇਂ ਦੇ ਨਾਲ ਵਧਦੇ ਹਨ, ਤਾਂ ਘਾਟ ਦੀ ਸਮੱਸਿਆ ਨੂੰ ਹੱਲ ਕੀਤਾ ਜਾ ਸਕਦਾ ਹੈ। ਇਸ ਤਰ੍ਹਾਂ, ਕਿਸੇ ਵੀ ਅਰਥਵਿਵਸਥਾ ਦੇ ਵਿਕਾਸ ਲਈ, ਆਰਥਿਕਤਾ ਲਈ ਉਪਲੱਬਧ ਸਰੋਤਾਂ ਨੂੰ

ਵਧਣਾ ਚਾਹੀਦਾ ਹੈ। ਇਹ ਕੇਵਲ ਸਰੋਤਾਂ ਦੇ ਪ੍ਰਭਾਵਸ਼ਾਲੀ ਵਿਕਾਸ ਦੁਆਰਾ ਹੀ ਹੈ ਕਿ ਇੱਕ ਸਮਾਜ ਉੱਚ ਪੱਧਰੀ ਜੀਵਨ ਪੱਧਰ ਦਾ ਆਨੰਦ ਮਾਣ ਸਕਦਾ ਹੈ। ਇਸ ਤਰ੍ਹਾਂ ਦੇਸ਼ਾਂ ਦਾ ਵਿਕਾਸ ਹੋਇਆ ਹੈ। ਜੇਕਰ ਸਰੋਤ ਵਾਧਾ ਕਰਨ ਵਿੱਚ ਅਸਫਲ ਰਹੇ ਹਨ, ਤਾਂ ਦੇਸ਼ ਲਗਾਤਾਰ ਪੱਛੜੇ ਹੋਏ ਹਨ। ਇਸ ਲਈ ਅਰਥਵਿਵਸਥਾਵਾਂ ਨੂੰ ਉਪਰਾਲੇ ਕਰਨੇ ਚਾਹੀਦੇ ਹਨ ਤਾਂ ਜੋ ਵਧਦੀਆਂ ਲੋੜਾਂ ਨੂੰ ਪੂਰਾ ਕਰਨ ਲਈ ਉਨ੍ਹਾਂ ਦੇ ਸਰੋਤਾਂ ਵਿੱਚ ਹੌਲੀ-ਹੌਲੀ ਵਾਧਾ ਹੋਵੇ।

ਪਾਠ ਅਧੀਨ ਪ੍ਰਸ਼ਨ 5.4

1. ਸਰੋਤਾਂ ਦੀ ਘੱਟ ਵਰਤੋਂ ਦੀ ਇੱਕ ਉਦਾਹਰਣ ਦਿਓ।
2. ਸਰੋਤਾਂ ਦੇ ਵਾਧੇ ਦੀਆਂ ਦੋ ਉਦਾਹਰਣਾਂ ਦਿਓ।

ਮੈਂਡਿਊਲ: 2

ਅਰਥਵਿਵਸਥਾ ਦੇ ਵਿਸ਼ੇ ਬਾਰੇ



ਨੋਟ



ਤੁਸੀਂ ਕੀ ਸਿੱਖਿਆ ਹੈ

- 'ਚੇਣ' ਦਾ ਮੁੱਦਾ ਉੱਠਦਾ ਹੈ, ਕਿਉਂਕਿ (ੳ) ਸਰੋਤ ਬਹੁਤ ਘੱਟ ਹਨ ਅਤੇ (ਅ) ਸਰੋਤਾਂ ਨੂੰ ਕਈ ਤਰ੍ਹਾਂ ਦੀ ਵਿਕਲਪਿਕ ਵਰਤੋਂ ਲਈ ਵਰਤਿਆ ਜਾ ਸਕਦਾ ਹੈ।
- ਅਰਥਵਿਵਸਥਾ ਤਿੰਨ ਬੁਨਿਆਦੀ ਆਰਥਿਕ ਸਮੱਸਿਆਵਾਂ ਦਾ ਸਾਹਮਣਾ ਕਰਦੀ ਹੈ, ਕਿਹੜੀਆਂ ਵਸਤਾਂ ਅਤੇ ਸੇਵਾਵਾਂ ਦਾ ਉਤਪਾਦਨ ਕਰਨਾ ਹੈ, ਕਿਵੇਂ ਉਤਪਾਦਨ ਕਰਨਾ ਹੈ ਅਤੇ ਕਿਸ ਲਈ ਉਤਪਾਦਨ ਕਰਨਾ ਹੈ।
- ਪੂੰਜੀਵਾਦੀ ਅਰਥਵਿਵਸਥਾ ਇੱਕ ਆਰਥਿਕ ਪ੍ਰਣਾਲੀ ਹੈ ਜਿਸ ਵਿੱਚ ਉਤਪਾਦਨ ਦੇ ਕਾਰਕ ਨਿੱਜੀ ਤੌਰ 'ਤੇ ਹੁੰਦੇ ਹਨ ਅਤੇ ਵੱਧ ਤੋਂ ਵੱਧ ਲਾਭ ਕਮਾਉਣ ਦੇ ਉਦੇਸ਼ ਨਾਲ ਵਸਤਾਂ ਅਤੇ ਸੇਵਾਵਾਂ ਦਾ ਉਤਪਾਦਨ ਕੀਤਾ ਜਾਂਦਾ ਹੈ।
- ਇੱਕ ਯੋਜਨਾਬੱਧ ਆਰਥਿਕ ਪ੍ਰਣਾਲੀ ਵਿੱਚ, ਸਰਕਾਰ ਦੀ ਇੱਕ ਕੇਂਦਰੀ ਯੋਜਨਾ ਅਥਾਰਟੀ ਹੁੰਦੀ ਹੈ ਜੋ ਇਹ ਫੈਸਲਾ ਕਰਦੀ ਹੈ ਕਿ ਕੀ ਪੈਦਾ ਕਰਨਾ ਹੈ, ਕਿਵੇਂ ਪੈਦਾ ਕਰਨਾ ਹੈ ਅਤੇ ਕਿਸ ਲਈ ਪੈਦਾ ਕਰਨਾ ਹੈ।
- ਇੱਕ ਮਿਸ਼ਰਤ ਆਰਥਿਕ ਪ੍ਰਣਾਲੀ ਸਰਕਾਰੀ ਯੋਜਨਾਬੰਦੀ ਨੂੰ ਖੁੱਲ੍ਹੇ ਬਾਜ਼ਾਰ ਦੀ ਆਰਥਿਕਤਾ ਨਾਲ ਜੋੜਦੀ ਹੈ।
- ਕਿਸੇ ਵੀ ਅਰਥਵਿਵਸਥਾ ਦੇ ਵਿਕਾਸ ਲਈ, ਕਿਰਤ, ਪੂੰਜੀ ਅਤੇ ਤਕਨਾਲੋਜੀ ਵਰਗੇ ਅਰਥਚਾਰੇ ਲਈ ਉਪਲੱਬਧ ਸਾਧਨ ਵਧਣੇ ਚਾਹੀਦੇ ਹਨ।
- ਜੇਕਰ ਅਰਥਵਿਵਸਥਾ ਦੇ ਸਾਰੇ ਸਾਧਨ ਪੂਰੀ ਤਰ੍ਹਾਂ ਨਾਲ ਕੰਮ ਕਰਦੇ ਹਨ, ਤਾਂ ਇੱਕ ਵਸਤੂ ਦੀ ਮਾਤਰਾ ਦੂਜੀ ਦੀ ਮਾਤਰਾ ਨੂੰ ਛੱਡ ਕੇ ਹੀ ਵਧਾਈ ਜਾ ਸਕਦੀ ਹੈ। ਇਹ ਉਦੋਂ ਹੁੰਦਾ ਹੈ ਜਦੋਂ ਉਤਪਾਦਨ ਕੁਸ਼ਲਤਾ ਨਾਲ ਹੁੰਦਾ ਹੈ।
- ਜੇਕਰ ਸੀਮਤ ਸਰੋਤਾਂ ਦੀ ਵੀ ਪੂਰੀ ਵਰਤੋਂ ਨਹੀਂ ਕੀਤੀ ਜਾਂਦੀ, ਤਾਂ ਇਹ ਸਾਧਨਾਂ ਦੀ ਬਰਬਾਦੀ ਹੈ। ਇਸ ਲਈ ਇਹ ਯਕੀਨੀ ਬਣਾਉਣਾ ਇੱਕ ਅਰਥਚਾਰੇ ਦਾ ਫਰਜ਼ ਹੈ ਕਿ ਸੀਮਤ ਵਸੀਲੇ ਅਣਵਰਤੇ ਜਾਂ ਘੱਟ ਵਰਤੋਂ ਵਿੱਚ ਨਾ ਰਹਿਣ।

ਪਾਠ ਦੇ ਅੰਤ ਦੇ ਪ੍ਰਸ਼ਨ

ਪ੍ਰਸ਼ਨ 1 ਅਤੇ ਪ੍ਰਸ਼ਨ 2 ਵਿੱਚੋਂ ਠੀਕ ਉੱਤਰ ਚੁਣੋ

1. ਅਰਥਵਿਵਸਥਾ ਦੀ ਕੇਂਦਰੀ ਸਮੱਸਿਆ ਪੈਦਾ ਹੁੰਦੀ ਹੈ, ਕਿਉਂਕਿ:
 1. ਬਹੁਤ ਸਾਰੀਆਂ ਵਸਤਾਂ ਬਾਜ਼ਾਰ ਵਿੱਚ ਵਿਕਦੀਆਂ ਹਨ

- II. ਸਰਕਾਰ ਫੈਸਲੇ ਕਰਦੀ ਹੈ
 - III. ਮਜ਼ਦੂਰੀ ਦੀ ਘਾਟ
 - IV. ਲੋੜਾਂ ਦੀ ਬਹੁਲਤਾ ਅਤੇ ਸਰੋਤਾਂ ਦੀ ਘਾਟ
2. ਚੋਣ ਆਰਥਿਕ ਵਿਵਹਾਰ ਲਈ ਬੁਨਿਆਦੀ ਹੈ, ਕਿਉਂਕਿ:
- I. ਲੋਕਾਂ ਨੂੰ ਉਹ ਚੁਣਨਾ ਔਖਾ ਲੱਗਦਾ ਹੈ ਜੋ ਉਹ ਚਾਹੁੰਦੇ ਹਨ
 - II. ਲੋਕਾਂ ਦੀਆਂ ਇੱਛਾਵਾਂ ਦੇ ਸਬੰਧ ਵਿੱਚ ਸਰੋਤ ਬਹੁਤ ਘੱਟ ਹਨ
 - III. ਲੋਕ ਤਰਕਸ਼ੀਲ ਵਿਵਹਾਰ ਕਰਦੇ ਹਨ
 - IV. ਕਿਸੇ ਵਸਤੂ ਦੀ ਕੀਮਤ ਚੋਣ 'ਤੇ ਨਿਰਭਰ ਕਰਦੀ ਹੈ
3. ਘਾਟ ਅਤੇ ਚੋਣ ਕਿਵੇਂ ਇਕੱਠੇ ਚੱਲਦੇ ਹਨ? ਵਿਆਖਿਆ ਕਰੋ।
4. ਇਹ ਕਿਉਂ ਕਿਹਾ ਜਾਂਦਾ ਹੈ ਕਿ ਖੁੱਲ੍ਹੇ ਬਾਜ਼ਾਰ ਦੀ ਅਰਥਵਿਵਸਥਾ ਸਰੋਤਾਂ ਦੀ ਸਭ ਤੋਂ ਕੁਸ਼ਲ ਵੰਡ ਨੂੰ ਯਕੀਨੀ ਬਣਾਉਂਦੀ ਹੈ?
5. ਹਰੇਕ ਦੀ ਇੱਕ ਢੁਕਵੀਂ ਉਦਾਹਰਣ ਦੇ ਨਾਲ ਤਿੰਨ ਕੇਂਦਰੀ ਸਮੱਸਿਆਵਾਂ ਦੀ ਵਿਆਖਿਆ ਕਰੋ।

ਪਾਠ ਅਧੀਨ ਪ੍ਰਸ਼ਨ 5.2 ਦੇ ਉੱਤਰ

1. ਸਰੋਤਾਂ ਦੀ ਕਮੀ।
2. (i) ਕੀ ਪੈਦਾ ਕਰਨਾ ਹੈ, (ii) ਕਿਵੇਂ ਪੈਦਾ ਕਰਨਾ ਹੈ, (iii) ਕਿਸ ਲਈ ਪੈਦਾ ਕਰਨਾ ਹੈ।

ਪਾਠ ਅਧੀਨ ਪ੍ਰਸ਼ਨ 5.3 ਦੇ ਉੱਤਰ

1. (i) ਮੁਨਾਫੇ ਦਾ ਮਨੋਰਥ।
(ii) ਜਨਤਾ ਦੀਆਂ ਇੱਛਾਵਾਂ ਦੀ ਸੰਤੁਸ਼ਟੀ ਲਈ।
2. ਜੇ ਇਨ੍ਹਾਂ ਲਈ ਭੁਗਤਾਨ ਕਰ ਸਕਦੇ ਹਨ?

ਪਾਠ ਅਧੀਨ ਪ੍ਰਸ਼ਨ 5.4 ਦੇ ਉੱਤਰ

1. ਮਜ਼ਦੂਰਾਂ ਦੀ ਬੇਰੁਜ਼ਗਾਰੀ।
2. ਆਬਾਦੀ ਦੇ ਵਧੇ ਨਾਲ ਕੁਸ਼ਲ ਅਤੇ ਅਕੁਸ਼ਲ ਕਾਮਿਆਂ ਦੀ ਗਿਣਤੀ ਵਿੱਚ ਵਾਧਾ।

ਮੈਂਡਿਊਲ: 2

ਅਰਥਵਿਵਸਥਾ ਦੇ ਵਿਸ਼ੇ ਬਾਰੇ



ਨੋਟ



ਮੁੱਢਲੀਆਂ ਆਰਥਿਕ ਗਤੀਵਿਧੀਆਂ

ਉਤਪਾਦਨ, ਖਪਤ ਅਤੇ ਪੂੰਜੀ ਨਿਰਮਾਣ ਨੂੰ ਕਿਸੇ ਆਰਥਿਕਤਾ ਦੀਆਂ ਬੁਨਿਆਦੀ ਆਰਥਿਕ ਗਤੀਵਿਧੀਆਂ ਕਿਹਾ ਜਾਂਦਾ ਹੈ। ਸਾਡੀਆਂ ਜ਼ਰੂਰਤਾਂ ਅਤੇ ਇੱਛਾਵਾਂ ਨੂੰ ਸੰਤੁਸ਼ਟ ਕਰਨ ਦੇ ਉਦੇਸ਼ ਨਾਲ ਵਸਤਾਂ ਅਤੇ ਸੇਵਾਵਾਂ ਦੇ ਉਤਪਾਦਨ ਵਿੱਚ ਦੁਰਲੱਭ ਸਰੋਤਾਂ ਦੀ ਵਰਤੋਂ ਕੀਤੀ ਜਾਂਦੀ ਹੈ। ਵਸਤਾਂ ਅਤੇ ਸੇਵਾਵਾਂ ਦੇ ਉਤਪਾਦਨ ਦੀ ਪ੍ਰਕਿਰਿਆ ਜ਼ਮੀਨ, ਮਜ਼ਦੂਰੀ, ਪੂੰਜੀ ਅਤੇ ਉੱਦਮ ਵਰਗੇ ਸਾਧਨਾਂ ਨੂੰ ਜੋੜ ਕੇ ਕੀਤੀ ਜਾਂਦੀ ਹੈ। ਇਹ ਸਾਧਨ ਉਹਨਾਂ ਦੀਆਂ ਉਤਪਾਦਕ ਸੇਵਾਵਾਂ ਲਈ ਕਿਰਾਇਆ, ਮਜ਼ਦੂਰੀ, ਵਿਆਜ ਅਤੇ ਮੁਨਾਫੇ ਦਾ ਭੁਗਤਾਨ ਕਰਦੇ ਹਨ। ਖਪਤ ਦੀ ਗਤੀਵਿਧੀ ਵਿੱਚ ਵਿਅਕਤੀਗਤ ਜਾਂ ਸਮੂਹਿਕ ਮਨੁੱਖੀ ਜ਼ਰੂਰਤਾਂ ਦੀ ਸਿੱਧੀ ਸੰਤੁਸ਼ਟੀ ਲਈ ਵਸਤਾਂ ਅਤੇ ਸੇਵਾਵਾਂ ਦੀ ਵਰਤੋਂ ਸ਼ਾਮਲ ਹੁੰਦੀ ਹੈ। ਮੌਜੂਦਾ ਉਤਪਾਦਨ ਦਾ ਇੱਕ ਹਿੱਸਾ ਭਵਿੱਖ ਵਿੱਚ ਉਤਪਾਦਨ ਦੀ ਸੰਭਾਵਨਾ ਨੂੰ ਵਧਾਉਣ ਲਈ ਹਰ ਸਾਲ ਮੌਜੂਦਾ ਪੂੰਜੀ ਸਟਾਕ ਜਿਵੇਂ ਕਿ ਪਲਾਂਟ, ਮਸ਼ੀਨਰੀ, ਬਿਲਡਿੰਗ ਆਦਿ ਵਿੱਚ ਜੋੜਨ ਲਈ ਭਵਿੱਖ ਲਈ ਬਚਾਇਆ ਜਾਂਦਾ ਹੈ। ਇਸ ਲਈ ਜੇ ਵੀ ਪੈਦਾ ਹੁੰਦਾ ਹੈ ਉਸ ਨੂੰ ਖਪਤ ਜਾਂ ਪੂੰਜੀ ਨਿਰਮਾਣ ਜਾਂ ਦੋਵਾਂ ਲਈ ਵੰਡ ਦਿੱਤਾ ਜਾਂਦਾ ਹੈ।

ਉਦੇਸ਼

- ਇਸ ਪਾਠ ਨੂੰ ਪੂਰਾ ਕਰਨ ਤੋਂ ਬਾਅਦ, ਤੁਸੀਂ ਯੋਗ ਹੋਵੋਗੇ:
- ਉਤਪਾਦਨ ਅਤੇ ਇਸਦੇ ਉਦੇਸ਼ਾਂ ਨੂੰ ਸਮਝੋਗੇ;
- ਉਤਪਾਦਨ ਅਤੇ ਸਾਧਨ ਆਮਦਨ ਦੇ ਸਾਧਨਾਂ ਨੂੰ ਜਾਣ ਸਕੋਗੇ;
- ਖਪਤ ਬਾਰੇ ਜਾਣ ਸਕੋਗੇ;
- ਖਪਤ ਲਈ ਪੈਦਾ ਕੀਤੀਆਂ ਵਸਤਾਂ ਤੋਂ ਜਾਣੂ ਹੋਵੋਗੇ;
- ਇਹ ਸਮਝ ਸਕੋਗੇ ਕਿ ਉਤਪਾਦਨ ਅਤੇ ਖਪਤ ਪੂੰਜੀ ਨਿਰਮਾਣ ਵਿੱਚ ਕਿਵੇਂ ਮਦਦ ਕਰਦੇ ਹਨ;
- ਆਰਥਿਕ ਗਤੀਵਿਧੀਆਂ ਦੇ ਚੱਕਰ ਪ੍ਰਵਾਹ ਦੀ ਵਿਆਖਿਆ ਕਰ ਸਕੋਗੇ।

6.1 ਉਤਪਾਦਨ

ਪਿਛਲੇ ਪਾਠ ਵਿੱਚ ਤੁਸੀਂ ਸਰੋਤਾਂ ਦੀ ਘਾਟ ਅਤੇ ਚੋਣ ਕਰਨ ਬਾਰੇ ਪੜ੍ਹਿਆ ਹੈ। ਇਹ ਸੀਮਤ ਸਰੋਤ ਵਸਤਾਂ ਅਤੇ ਸੇਵਾਵਾਂ ਦੇ ਉਤਪਾਦਨ ਵਿੱਚ ਵਰਤੇ ਜਾਂਦੇ ਹਨ। ਉਤਪਾਦਨ ਦਾ ਟੀਚਾ ਸਾਡੀਆਂ ਜ਼ਰੂਰਤਾਂ ਨੂੰ ਪੂਰਾ ਕਰਨਾ ਹੈ। ਇਹ ਉਤਪਾਦ ਅਤੇ ਸੇਵਾਵਾਂ ਬਾਜ਼ਾਰਾਂ ਵਿੱਚ ਵੇਚੀਆਂ ਜਾ ਸਕਦੀਆਂ ਹਨ ਜਾਂ ਸਰਕਾਰ ਦੁਆਰਾ ਲੋਕਾਂ ਨੂੰ ਮਾਮੂਲੀ ਕੀਮਤ 'ਤੇ ਪ੍ਰਦਾਨ ਕੀਤੀਆਂ ਜਾ ਸਕਦੀਆਂ ਹਨ। ਇਸ ਲਈ ਉਤਪਾਦਨ ਨੂੰ ਉਪਯੋਗਤਾ ਦੀ ਸਿਰਜਣਾ ਵਜੋਂ ਪਰਿਭਾਸ਼ਿਤ ਕੀਤਾ ਗਿਆ ਹੈ।

ਉਤਪਾਦਨ ਦੀਆਂ ਗਤੀਵਿਧੀਆਂ ਵਿੱਚ ਵਸਤਾਂ ਅਤੇ ਸੇਵਾਵਾਂ ਦਾ ਨਿਰਮਾਣ ਸ਼ਾਮਲ ਹੁੰਦਾ ਹੈ। ਜਿਹੜੇ ਲੋਕ ਇਹਨਾਂ ਚੀਜ਼ਾਂ ਅਤੇ ਸੇਵਾਵਾਂ ਨੂੰ ਬਣਾਉਂਦੇ ਅਤੇ ਵੇਚਦੇ ਹਨ ਉਹਨਾਂ ਨੂੰ ਉਤਪਾਦਕ ਵਜੋਂ ਜਾਣਿਆ ਜਾਂਦਾ ਹੈ। ਉਤਪਾਦਕ ਵੱਖ-ਵੱਖ ਵਸਤਾਂ ਅਤੇ ਸੇਵਾਵਾਂ ਵਿੱਚ ਬਦਲਣ ਲਈ ਕੱਚੇ ਮਾਲ ਦੇ ਨਾਲ ਜ਼ਮੀਨ, ਮਜ਼ਦੂਰੀ, ਪੂੰਜੀ ਅਤੇ ਉੱਦਮ ਵਰਗੇ ਸਾਧਨਾਂ ਨੂੰ ਜੋੜਦੇ ਹਨ। ਜ਼ਮੀਨ, ਮਜ਼ਦੂਰੀ, ਪੂੰਜੀ ਅਤੇ ਉੱਦਮ ਨੂੰ ਪੈਦਾਵਾਰ ਦੇ ਸਾਧਨ ਕਿਹਾ ਜਾਂਦਾ ਹੈ। ਉਤਪਾਦਕ ਉਤਪਾਦਨ ਦੇ ਸਾਧਨਾਂ ਦੇ ਵੱਖ-ਵੱਖ ਸੁਮੇਲ ਦੀ ਵਰਤੋਂ ਕਰਕੇ ਵੱਧ ਤੋਂ ਵੱਧ ਵਸਤਾਂ ਅਤੇ ਸੇਵਾਵਾਂ ਦਾ ਉਤਪਾਦਨ ਕਰਨ ਦੀ ਕੋਸ਼ਿਸ਼ ਕਰਦੇ ਹਨ। ਆਓ, ਉਤਪਾਦਨ ਦੇ ਇਹਨਾਂ ਸਾਧਨਾਂ ਬਾਰੇ ਹੋਰ ਜਾਣੀਏ।

6.1.1 ਜ਼ਮੀਨ

ਜ਼ਮੀਨ ਕੁਦਰਤ ਦੀ ਦੇਣ ਹੈ। ਇਸ ਵਿੱਚ ਮੈਦਾਨੀ ਖੇਤਰ, ਪਹਾੜ ਅਤੇ ਪਠਾਰ ਖੇਤਰ ਸ਼ਾਮਲ ਹਨ। ਮੈਦਾਨੀ ਖੇਤਰ ਖੇਤੀਬਾੜੀ ਅਤੇ ਉਦਯੋਗਿਕ ਗਤੀਵਿਧੀਆਂ ਲਈ ਲਾਭਦਾਇਕ ਹਨ। ਪਹਾੜੀ ਸਮਤਲ ਖੇਤਰ ਨਦੀਆਂ ਦੇ ਵਹਾਅ ਨੂੰ ਯਕੀਨੀ ਬਣਾਉਂਦੇ ਹਨ ਅਤੇ ਸੈਰ-ਸਪਾਟੇ ਲਈ ਸਹੂਲਤਾਂ ਪ੍ਰਦਾਨ ਕਰਦੇ ਹਨ। ਪਠਾਰ ਖੇਤਰ ਵਿੱਚ ਖਣਿਜਾਂ, ਜੈਵਿਕ ਬਾਲਣ ਅਤੇ ਜੰਗਲਾਂ ਦੇ ਭੰਡਾਰ ਹਨ। ਅਨਾਜ, ਸਬਜ਼ੀਆਂ, ਫਲ ਆਦਿ ਦੇ ਉਤਪਾਦਨ ਲਈ ਯੋਜਨਾ ਖੇਤਰ ਵਿੱਚ ਵਾਹੀਯੋਗ ਜ਼ਮੀਨ ਦੀ ਲੋੜ ਹੁੰਦੀ ਹੈ। ਇਸ ਦੇ ਨਾਲ ਹੀ ਲੋਕ ਪਸ਼ੂ ਪਾਲਣ, ਮੱਛੀ ਪਾਲਣ ਅਤੇ ਜੰਗਲਾਤ ਦਾ ਕੰਮ ਵੀ ਕਰਦੇ ਹਨ ਜਿਨ੍ਹਾਂ ਨੂੰ ਸਹਾਇਕ ਗਤੀਵਿਧੀਆਂ ਕਿਹਾ ਜਾਂਦਾ ਹੈ। ਭਾਰਤ ਵਿੱਚ ਪੇਂਡੂ ਖੇਤਰ ਖੇਤੀਬਾੜੀ ਅਤੇ ਸਹਾਇਕ ਗਤੀਵਿਧੀਆਂ ਲਈ ਜਾਣਿਆ ਜਾਂਦਾ ਹੈ। ਮੈਦਾਨੀ ਖੇਤਰ ਵਿੱਚ ਕੁਝ ਜ਼ਮੀਨ ਖਾਸ ਤੌਰ 'ਤੇ ਉਦਯੋਗਾਂ ਅਤੇ ਸ਼ਹਿਰੀ ਖੇਤਰਾਂ ਜਿਵੇਂ ਕਿ ਕਸਬਿਆਂ ਅਤੇ ਸ਼ਹਿਰਾਂ ਦੀ ਸਥਾਪਨਾ ਲਈ ਵਿਕਸਤ ਕੀਤੀ ਜਾਂਦੀ ਹੈ।

ਮੈਂਡਿਊਲ: 2

ਅਰਥਵਿਵਸਥਾ ਦੇ ਵਿਸ਼ੇ
ਬਾਰੇ



ਨੋਟ

ਅਰਥਵਿਵਸਥਾ ਦੇ ਵਿਸ਼ੇ
ਬਾਰੇ



ਨੋਟ

6.1.2 ਮਜ਼ਦੂਰੀ

ਆਮ ਤੌਰ 'ਤੇ ਮਜ਼ਦੂਰੀ ਦਾ ਅਰਥ ਹੈ ਵਸਤਾਂ ਅਤੇ ਸੇਵਾਵਾਂ ਦੇ ਉਤਪਾਦਨ ਵਿੱਚ ਸਰੀਰਕ ਅਤੇ ਮਾਨਸਿਕ ਮਿਹਨਤ ਰਾਹੀਂ ਮਨੁੱਖੀ ਕੋਸ਼ਿਸ਼ਾਂ। ਖੇਤੀਬਾੜੀ ਦੇ ਖੇਤਰ ਵਿੱਚ ਕੰਮ ਕਰਨ ਵਾਲੇ ਵਿਅਕਤੀ ਨੂੰ ਸਰੀਰਕ ਮਿਹਨਤ ਪ੍ਰਦਾਨ ਕਰਨ ਲਈ ਕਿਹਾ ਜਾਂਦਾ ਹੈ ਜਦੋਂ ਕਿ ਕਿਤਾਬ ਦੇ ਲੇਖਕ ਨੂੰ ਉਸਦੀ ਮਾਨਸਿਕ ਮਿਹਨਤ/ਕਿਰਤ ਪ੍ਰਦਾਨ ਕਰਨ ਲਈ ਕਿਹਾ ਜਾਂਦਾ ਹੈ। ਜੇ ਲੋਕ ਮਿਹਨਤ ਮਜ਼ਦੂਰੀ ਪ੍ਰਦਾਨ ਕਰਦੇ ਹਨ ਉਹਨਾਂ ਨੂੰ ਮਨੁੱਖੀ ਸਰੋਤ ਵਜੋਂ ਜਾਣਿਆ ਜਾਂਦਾ ਹੈ। ਉਤਪਾਦਨ ਦੀਆਂ ਗਤੀਵਿਧੀਆਂ ਲਈ ਹੁਨਰਮੰਦ ਅਤੇ ਗੈਰ-ਹੁਨਰਮੰਦ ਮਜ਼ਦੂਰਾਂ ਦੀ ਲੋੜ ਹੁੰਦੀ ਹੈ। ਪੂਰੀ ਤਰ੍ਹਾਂ ਸਰੀਰਕ ਮਿਹਨਤ ਜਿਵੇਂ ਕਿ ਲੱਦਣ ਅਤੇ ਉਤਾਰਨਾ, ਖੇਤ ਵਿੱਚ ਹਲ ਵਾਹੁਣਾ ਆਦਿ ਲਈ ਵਿਸ਼ੇਸ਼ ਹੁਨਰ ਦੀ ਲੋੜ ਨਹੀਂ ਹੁੰਦੀ ਹੈ। ਪਰ ਇੰਜੀਨੀਅਰ, ਡਾਕਟਰ, ਅਧਿਆਪਕ, ਵਕੀਲ, ਮਕੈਨਿਕ, ਇਲੈਕਟ੍ਰੀਸ਼ੀਅਨ ਜਾਂ ਦਰਜ਼ੀ ਆਦਿ ਬਣਨ ਲਈ ਸਿੱਖਿਆ ਅਤੇ ਸਿਖਲਾਈ ਰਾਹੀਂ ਹੁਨਰ ਹਾਸਲ ਕਰਨਾ ਜ਼ਰੂਰੀ ਹੈ।

6.1.3 ਪੂੰਜੀ

ਪੂੰਜੀ ਤੋਂ ਸਾਡਾ ਮਤਲਬ ਹੈ ਮਨੁੱਖ ਦੁਆਰਾ ਬਣਾਏ ਸਾਰੇ ਉਪਕਰਨ ਅਤੇ ਉਤਪਾਦਨ ਵਿੱਚ ਵਰਤਿਆ ਜਾਂਦਾ ਹਰ ਕਿਸਮ ਦਾ ਧਨ। ਪੂੰਜੀ ਵਿੱਚ ਮਸ਼ੀਨਰੀ, ਸੰਦ, ਇਮਾਰਤਾਂ, ਸਮੱਗਰੀ ਆਦਿ ਸ਼ਾਮਲ ਹੁੰਦੇ ਹਨ। ਜਦੋਂ ਕਿ ਜ਼ਮੀਨ ਇੱਕ ਕੁਦਰਤੀ ਸਰੋਤ ਹੈ, ਪੂੰਜੀ ਮਨੁੱਖ ਦੁਆਰਾ ਬਣਾਇਆ ਸਰੋਤ ਹੈ। ਪੂੰਜੀ ਦੀ ਵਰਤੋਂ ਉਤਪਾਦਨ ਦੇ ਹੋਰ ਸਾਧਨਾਂ ਜਿਵੇਂ ਕਿ ਜ਼ਮੀਨ ਜਾਂ ਮਜ਼ਦੂਰੀ ਦੀ ਕੁਸ਼ਲਤਾ ਵਧਾਉਣ ਲਈ ਕੀਤੀ ਜਾਂਦੀ ਹੈ। ਬਿਹਤਰ ਸਿੰਚਾਈ ਸਹੂਲਤਾਂ ਅਤੇ ਮਸ਼ੀਨਾਂ ਦੀ ਵਰਤੋਂ ਕਰਕੇ ਜ਼ਮੀਨ ਦੀ ਕੁਸ਼ਲਤਾ ਨੂੰ ਵਧਾਇਆ ਜਾ ਸਕਦਾ ਹੈ। ਹਾਲਾਂਕਿ, ਪੂੰਜੀ

ਉਤਪਾਦਨ ਦਾ ਇੱਕ ਨਿਸ਼ਕਿਰਿਆ ਸਾਧਨ ਹੈ ਅਤੇ ਇਸਦੀ ਵਰਤੋਂ ਮਜ਼ਦੂਰਾਂ ਨੂੰ ਕੰਮ ਕਰਨ ਲਈ ਲਗਾਏ ਬਿਨਾਂ ਨਹੀਂ ਕੀਤੀ ਜਾ ਸਕਦੀ। ਪੂੰਜੀ ਦਾ ਜੀਵਨ ਕਾਲ ਸੀਮਤ ਹੁੰਦਾ ਹੈ, ਅਤੇ ਇੱਕ ਨਿਸ਼ਚਿਤ ਸਮੇਂ ਤੋਂ ਬਾਅਦ ਇਹ ਅਪ੍ਰਚੱਲਿਤ ਹੋ ਜਾਂਦਾ ਹੈ। ਇੰਜਣ, ਟਰੈਕਟਰ, ਜਹਾਜ਼ ਵਰਗੀਆਂ ਭਾਰੀ ਮਸ਼ੀਨਾਂ ਤੋਂ ਲੈ ਕੇ ਛੋਟੇ ਔਜ਼ਾਰ ਜਿਵੇਂ ਕਿ ਸਕ੍ਰਿਊਡਰਾਈਵਰ (ਪੇਚਕਸ), ਕੈਲਕੂਲੇਟਰ, ਸਾਰੇ ਸਥਿਰ ਪੂੰਜੀ ਦੀਆਂ ਉਦਾਹਰਣਾਂ ਹਨ, ਕਿਉਂਕਿ ਇਹਨਾਂ ਦੀ ਵਰਤੋਂ ਕਈ ਸਾਲਾਂ ਤੱਕ ਉਤਪਾਦਨ ਵਿੱਚ ਕੀਤੀ ਜਾ ਸਕਦੀ ਹੈ। ਸਥਿਰ ਪੂੰਜੀ ਵਿੱਚ ਇਮਾਰਤਾਂ ਅਤੇ ਭਾਰੀ ਮਸ਼ੀਨਾਂ ਵੀ ਸ਼ਾਮਲ ਹਨ। ਕਾਰਜਕਾਰੀ ਪੂੰਜੀ ਵਿੱਚ ਕਪਾਹ ਦੇ ਧਾਗੇ, ਮਿੱਟੀ, ਬੀਜ, ਖਾਦ ਵਰਗੇ ਕੱਚੇ ਮਾਲ ਸ਼ਾਮਲ ਹੁੰਦੇ ਹਨ, ਜੋ ਉਤਪਾਦਨ ਦੀ ਪ੍ਰਕਿਰਿਆ ਵਿੱਚ ਵਰਤੇ ਜਾਂਦੇ ਹਨ।

6.1.4 ਉੱਦਮ

ਜ਼ਮੀਨ, ਮਜ਼ਦੂਰੀ ਅਤੇ ਪੂੰਜੀ ਨੂੰ ਸਹੀ ਅਨੁਪਾਤ ਵਿੱਚ ਇਕੱਠਾ ਕਰਕੇ ਵਸਤਾਂ ਜਾਂ ਸੇਵਾਵਾਂ ਦੇ ਉਤਪਾਦਨ ਦੀ ਪ੍ਰਕਿਰਿਆ ਸ਼ੁਰੂ ਕਰਨ ਲਈ ਕਿਸੇ ਨੂੰ ਪਹਿਲ ਕਰਨੀ ਚਾਹੀਦੀ ਹੈ। ਉਹ ਸਹੀ ਕਿਸਮ ਦੀ ਜ਼ਮੀਨ, ਮਜ਼ਦੂਰਾਂ ਅਤੇ ਪੂੰਜੀ ਦੀ ਚੋਣ ਕਰਨ ਲਈ ਜ਼ਿੰਮੇਵਾਰ ਹੋਵੇਗਾ ਅਤੇ ਪੈਦਾ ਕੀਤੀ ਜਾਣ ਵਾਲੀ ਮਾਤਰਾ, ਸਾਧਨਾਂ ਅਤੇ ਕੱਚੇ ਮਾਲ ਨੂੰ ਖਰੀਦਣ ਲਈ ਖਰਚੇ ਜਾਣ ਵਾਲੇ ਪੈਸੇ, ਪੈਦਾ ਹੋਏ ਉਤਪਾਦਨ ਦੀ ਮਾਰਕੀਟਿੰਗ ਆਦਿ ਦੇ ਸਬੰਧ ਵਿੱਚ ਮਹੱਤਵਪੂਰਨ ਫੈਸਲੇ ਲੈਣ ਲਈ ਜ਼ਿੰਮੇਵਾਰ ਹੋਵੇਗਾ। ਉਤਪਾਦਨ ਦੀ ਗਤੀਵਿਧੀ ਦਾ ਆਯੋਜਨ ਉੱਦਮ ਦੀ ਕਲਾ ਹੈ। ਉਹ ਵਿਅਕਤੀ ਜੋ ਫੈਸਲੇ ਲੈਂਦਾ ਹੈ ਅਤੇ ਉਤਪਾਦਨ ਪ੍ਰਕਿਰਿਆ ਨੂੰ ਨਿਯੰਤਰਿਤ ਕਰਦਾ ਹੈ ਅਤੇ ਉਤਪਾਦਨ ਵਿੱਚ ਸ਼ਾਮਲ ਜੋਖਮਾਂ ਅਤੇ ਅਨਿਸ਼ਚਿਤਤਾਵਾਂ ਨੂੰ ਸਹਿਣ ਕਰਦਾ ਹੈ, ਉਸ ਨੂੰ ਉਦਯੋਗਪਤੀ ਕਿਹਾ ਜਾਂਦਾ ਹੈ। ਉਸ ਨੂੰ ਗਿਆਨਵਾਨ, ਦਲੇਰ ਹੋਣਾ ਚਾਹੀਦਾ ਹੈ ਅਤੇ ਉਸ ਵਿੱਚ ਲੀਡਰਸ਼ਿਪ ਦੇ ਗੁਣ ਹੋਣੇ ਚਾਹੀਦੇ ਹਨ। ਉਦਯੋਗਪਤੀ ਦਾ ਉਦੇਸ਼ ਦਿੱਤੇ ਗਏ ਸਰੋਤਾਂ ਦੀ ਵਰਤੋਂ ਕਰਕੇ ਵੱਧ ਤੋਂ ਵੱਧ ਉਤਪਾਦਨ ਪ੍ਰਾਪਤ ਕਰਨਾ ਅਤੇ ਤਿਆਰ ਉਤਪਾਦਾਂ ਦੀ ਵਿਕਰੀ ਲਈ ਪ੍ਰਬੰਧ ਕਰਨਾ ਹੈ। ਉਹ ਉਤਪਾਦਨ ਦੇ ਹੋਰ ਸਾਧਨਾਂ ਲਈ ਭੁਗਤਾਨ ਕਰਨ ਲਈ ਵੀ ਜ਼ਿੰਮੇਵਾਰ ਹੈ।

ਉਹ ਮਜ਼ਦੂਰਾਂ ਨੂੰ ਮਜ਼ਦੂਰੀ, ਜ਼ਿੰਮੀਂਦਾਰਾਂ ਨੂੰ ਕਿਰਾਇਆ ਅਤੇ ਪੂੰਜੀ ਦੇ ਮਾਲਕ ਨੂੰ ਉਨ੍ਹਾਂ ਦੀਆਂ ਉਤਪਾਦਕ ਸੇਵਾਵਾਂ ਦੇ ਬਦਲੇ ਵਿਆਜ ਦਿੰਦਾ ਹੈ। ਇਸੇ ਤਰ੍ਹਾਂ, ਉਹ ਆਪਣੀ ਉਤਪਾਦਕ ਗਤੀਵਿਧੀ ਲਈ ਮੁਨਾਫਾ ਕਮਾਉਂਦੇ ਹਨ ਕਿਉਂਕਿ ਇਹ ਅਦਾਇਗੀਆਂ, ਕਿਰਾਇਆ, ਉਜਰਤਾਂ, ਵਿਆਜ ਅਤੇ ਮੁਨਾਫੇ ਉਹਨਾਂ ਦੀਆਂ ਉਤਪਾਦਕ ਸੇਵਾਵਾਂ ਲਈ ਸਾਧਨਾਂ ਦੁਆਰਾ ਪ੍ਰਾਪਤ ਕੀਤੇ ਜਾਂਦੇ ਹਨ, ਇਹਨਾਂ ਨੂੰ ਸਾਧਨ ਆਮਦਨ ਕਹਿੰਦੇ ਹਨ।

ਪਾਠ ਅਧੀਨ ਪ੍ਰਸ਼ਨ 6.1

1. ਹੇਠਾਂ ਕੁਝ ਸਾਧਨਾਂ ਦੀ ਸੂਚੀ ਦਿੱਤੀ ਗਈ ਹੈ ਜੋ ਕਮੀਜ਼ ਬਣਾਉਣ ਲਈ ਵਰਤੇ ਜਾਂਦੇ ਹਨ। ਉਹਨਾਂ ਨੂੰ ਕੁਦਰਤੀ ਸਰੋਤਾਂ, ਮਨੁੱਖੀ ਵਸੀਲਿਆਂ, ਸਥਿਰ ਪੂੰਜੀ ਅਤੇ ਕਾਰਜਸ਼ੀਲ ਪੂੰਜੀ ਵਿੱਚ ਸਮੂਹੀਕ੍ਰਿਤ ਕਰੋ।

ਧਾਗਾ, ਮਸ਼ੀਨਰੀ, ਦਰਜ਼ੀ, ਫੈਕਟਰੀ ਲਈ ਜ਼ਮੀਨ, ਲੱਕੜ ਦੇ ਦਰਵਾਜ਼ੇ, ਰੰਗ, ਰੰਗਣ ਦਾ ਪਦਾਰਥ, ਇਮਾਰਤ, ਸਿਲਾਈ ਮਸ਼ੀਨਾਂ, ਟੈਲੀਫੋਨ, ਮਾਰਕੀਟਿੰਗ ਮੈਨੇਜਰ, ਇਸ਼ਤਿਹਾਰ ਪ੍ਰਬੰਧਕ, ਪੈਕੇਜਿੰਗ ਮਸ਼ੀਨਾਂ, ਕੈਂਚੀ, ਬਟਨ, ਬੈਂਕ ਕਰਜ਼ੇ, ਨਕਦ ਪੈਸੇ।

ਮੌਡਿਊਲ: 2

ਅਰਥਵਿਵਸਥਾ ਦੇ ਵਿਸ਼ੇ ਬਾਰੇ



ਨੋਟ



2. ਹੇਠ ਲਿਖੀਆਂ ਵਿੱਚੋਂ ਕਿਹੜੀ ਇੱਕ ਜ਼ਮੀਨ ਦੀ ਵਿਸ਼ੇਸ਼ਤਾ ਨਹੀਂ ਹੈ:
- (ੳ) ਗਤੀਸ਼ੀਲ
 - (ਅ) ਕੁਦਰਤ ਦੀ ਦਾਤ
 - (ੲ) ਮਾਤਰਾ ਵਿੱਚ ਸੀਮਤ
 - (ਸ) ਅਵਿਨਾਸ਼ੀ

6.2 ਸਾਧਨ ਆਮਦਨ

ਉਤਪਾਦਨ ਦੇ ਇਹ ਸਾਧਨ ਲੋਕਾਂ ਦੀ ਮਲਕੀਅਤ ਹਨ। ਜ਼ਮੀਨ ਦੀ ਮਲਕੀਅਤ ਜ਼ਿਮੀਂਦਾਰ ਦੀ ਹੁੰਦੀ ਹੈ, ਮਜ਼ਦੂਰ ਦੀ ਮਲਕੀਅਤ ਮਜ਼ਦੂਰ ਦੀ ਹੁੰਦੀ ਹੈ, ਪੂੰਜੀ ਦੀ ਮਲਕੀਅਤ ਉਨ੍ਹਾਂ ਲੋਕਾਂ ਦੀ ਹੁੰਦੀ ਹੈ ਜੋ ਪੂੰਜੀ ਵਸਤਾਂ ਦੀ ਪ੍ਰਾਪਤੀ ਕਰਦੇ ਹਨ, ਉੱਦਮ ਦੀ ਮਲਕੀਅਤ ਉੱਦਮੀ ਦੀ ਹੁੰਦੀ ਹੈ। ਉਤਪਾਦਨ ਦੇ ਸਾਧਨਾਂ ਦੇ ਮਾਲਕਾਂ ਨੂੰ ਉਨ੍ਹਾਂ ਦੀਆਂ ਉਤਪਾਦਕ ਸੇਵਾਵਾਂ ਦੇ ਬਦਲੇ ਭੁਗਤਾਨ ਕੀਤਾ ਜਾਂਦਾ ਹੈ। ਜਦੋਂ ਤੁਸੀਂ ਜ਼ਮੀਨ ਦਾ ਇੱਕ ਹਿੱਸਾ ਕਿਰਾਏ 'ਤੇ ਲੈਂਦੇ ਹੋ, ਤਾਂ ਤੁਸੀਂ ਜ਼ਮੀਨ ਦੀਆਂ ਸੇਵਾਵਾਂ ਦੀ ਵਰਤੋਂ ਕਰਨ ਲਈ ਮਕਾਨ ਮਾਲਕ ਨੂੰ ਕਿਰਾਏ ਦਾ ਭੁਗਤਾਨ ਕਰਦੇ ਹੋ। ਇਸ ਤਰ੍ਹਾਂ ਕਿਰਾਏਦਾਰ ਜ਼ਮੀਨ ਦੀਆਂ ਸੇਵਾਵਾਂ ਲਈ ਕਿਰਾਇਆ ਅਦਾ ਕਰਦਾ ਹੈ। ਮਜ਼ਦੂਰੀ ਦਾ ਮਤਲਬ ਹੈ ਕਿਰਤੀਆਂ ਦੁਆਰਾ ਦਿੱਤੀਆਂ ਜਾਂਦੀਆਂ ਸੇਵਾਵਾਂ। ਇਹ ਹਰ ਕਿਸਮ ਦੇ ਕਾਮਿਆਂ, ਹੱਥੀਂ ਕਿਰਤੀਆਂ, ਤਕਨੀਕੀ ਕਾਮਿਆਂ ਅਤੇ ਹੋਰਾਂ ਨੂੰ ਦਰਸਾਉਂਦਾ ਹੈ। ਜਦੋਂ ਕਿਸੇ

ਰੁਜ਼ਗਾਰਦਾਤਾ ਨੂੰ ਕਿਸੇ ਕਰਮਚਾਰੀ ਦੁਆਰਾ ਪ੍ਰਦਾਨ ਕੀਤੀਆਂ ਸੇਵਾਵਾਂ ਦੀ ਲੋੜ ਹੁੰਦੀ ਹੈ, ਤਾਂ ਉਹ ਆਪਣੀਆਂ ਸੇਵਾਵਾਂ ਲਈ ਭੁਗਤਾਨ ਕਰਨ ਲਈ ਤਿਆਰ ਹੁੰਦਾ ਹੈ। ਇੱਕ ਕਰਮਚਾਰੀ ਨੂੰ ਨੌਕਰੀ 'ਤੇ ਰੱਖ ਕੇ, ਅਸਲ ਵਿੱਚ ਉਸ ਦੀਆਂ ਸੇਵਾਵਾਂ ਨੂੰ ਕਿਰਾਏ 'ਤੇ ਲਿਆ ਜਾਂਦਾ ਹੈ। ਜਦੋਂ ਟਰੈਕਟਰ, ਬੀਜ, ਮਸ਼ੀਨਰੀ ਆਦਿ ਖਰੀਦਣ ਲਈ ਬੈਂਕ ਤੋਂ ਕਰਜ਼ਾ ਲਿਆ ਜਾਂਦਾ ਹੈ ਤਾਂ ਬੈਂਕ ਨੂੰ ਵਿਆਜ ਅਦਾ ਕੀਤਾ ਜਾਂਦਾ ਹੈ। ਇਸ ਤਰ੍ਹਾਂ ਮਕਾਨ ਮਾਲਕਾਂ ਨੂੰ ਕਿਰਾਇਆ, ਮਜ਼ਦੂਰਾਂ ਨੂੰ ਮਜ਼ਦੂਰੀ, ਪੂੰਜੀ ਸਰੋਤਾਂ ਦੇ ਮਾਲਕਾਂ ਨੂੰ ਵਿਆਜ ਅਤੇ ਉੱਦਮੀਆਂ ਨੂੰ ਮੁਨਾਫ਼ਾ ਦਿੱਤਾ ਜਾਂਦਾ ਹੈ। ਕਿਉਂਕਿ ਉਹਨਾਂ ਨੂੰ ਉਹਨਾਂ ਦੀਆਂ ਉਤਪਾਦਕ ਸੇਵਾਵਾਂ ਦੇ ਬਦਲੇ ਭੁਗਤਾਨ ਕੀਤਾ ਜਾਂਦਾ ਹੈ, ਉਹਨਾਂ ਨੂੰ ਸਾਧਨ ਭੁਗਤਾਨ ਕਿਹਾ ਜਾਂਦਾ ਹੈ ਅਤੇ ਉਹਨਾਂ ਦੀ ਆਮਦਨ ਨੂੰ ਸਾਧਨ ਆਮਦਨੀ ਕਿਹਾ ਜਾਂਦਾ ਹੈ।

ਪਾਠ ਅਧੀਨ ਪ੍ਰਸ਼ਨ 6.2

ਰਾਮ ਸਿੰਘ ਹਰਿਆਣਾ ਦੇ ਇੱਕ ਪਿੰਡ ਦਾ ਕਿਸਾਨ ਹੈ, ਜਿਸ ਕੋਲ 2 ਹੈਕਟੇਅਰ ਜ਼ਮੀਨ ਹੈ। ਉਹ ਅਤੇ ਉਸਦੀ ਪਤਨੀ ਰਾਣੀ ਦੋਵੇਂ ਖੇਤ ਵਿੱਚ ਕੰਮ ਕਰਦੇ ਹਨ। ਪਹਿਲਾਂ ਉਹ ਆਪਣੀ ਜ਼ਮੀਨ 'ਤੇ ਝੋਨਾ ਹੀ ਉਗਾਉਂਦੇ ਸਨ। ਹੁਣ ਉਹ ਦੋ ਫਸਲਾਂ ਅਤੇ ਬਿਹਤਰ ਕਿਸਮ ਦੇ ਬੀਜ ਅਤੇ ਸਿੰਚਾਈ ਕਰਕੇ ਆਪਣੀ ਜ਼ਮੀਨ ਦੀ ਉਤਪਾਦਕਤਾ ਵਧਾਉਣਾ ਚਾਹੁੰਦੇ ਹਨ। ਉਹ ਦੋ ਫਸਲਾਂ ਝੋਨਾ ਅਤੇ ਆਲੂ ਉਗਾਉਣਾ ਚਾਹੁੰਦੇ ਹਨ। ਇਸ ਦੇ ਲਈ ਉਨ੍ਹਾਂ ਨੂੰ ਚੰਗੀ ਗੁਣਵੱਤਾ ਵਾਲੇ ਬੀਜ ਅਤੇ ਖਾਦ ਖਰੀਦਣ ਲਈ ਪੈਸੇ ਦੀ ਲੋੜ ਹੈ। ਕਿਉਂਕਿ ਉਨ੍ਹਾਂ ਕੋਲ ਲੋੜੀਂਦਾ ਪੈਸਾ ਨਹੀਂ ਹੈ, ਦੋਵੇਂ ਕਿਸੇ ਦੂਜੇ ਦੇ ਖੇਤਾਂ ਵਿੱਚ ਮਜ਼ਦੂਰ ਵਜੋਂ ਕੰਮ ਕਰਦੇ ਹਨ। ਉਹ ਖਾਦਾਂ, ਬੀਜਾਂ, ਪੰਪ ਸੈੱਟਾਂ ਆਦਿ 'ਤੇ ਕੁਝ ਪੈਸਾ ਖਰਚ ਕਰਦੇ ਹਨ ਅਤੇ ਬਹੁਤ ਮਿਹਨਤ ਕਰਨ ਤੋਂ ਬਾਅਦ, ਉਹ ਝੋਨੇ ਅਤੇ ਆਲੂ ਦੋਵਾਂ ਦੀ ਚੰਗੀ ਫਸਲ ਲੈਣ ਦਾ ਪ੍ਰਬੰਧ ਕਰਦੇ ਹਨ। ਕੁਝ ਝੋਨਾ ਅਤੇ ਆਲੂ ਉਹ ਆਪਣੀ ਨਿੱਜੀ ਵਰਤੋਂ ਲਈ ਆਪਣੇ ਕੋਲ ਰੱਖਦੇ ਹਨ ਅਤੇ ਬਾਕੀ ਵੇਚ ਦਿੰਦੇ ਹਨ। ਆਪਣੀ ਫਸਲ ਵੇਚ ਕੇ ਉਹਨਾਂ ਨੇ 12,000 ਰੁਪਏ ਕਮਾਏ।

- ਇਸ ਕਹਾਣੀ ਵਿੱਚ ਉਤਪਾਦਨ ਦੇ ਸਾਧਨਾਂ ਦੀ ਪਛਾਣ ਕਰੋ?
- ਇਸ ਉਦਾਹਰਨ ਵਿੱਚ ਵਰਤੀਆਂ ਗਈਆਂ ਪੂੰਜੀਗਤ ਵਸਤਾਂ ਕੀ ਹਨ?

6.3 ਖਪਤ

ਉਤਪਾਦਨ ਦਾ ਉਦੇਸ਼ ਖਪਤ ਲਈ ਵਸਤਾਂ ਅਤੇ ਸੇਵਾਵਾਂ ਦਾ ਉਤਪਾਦਨ ਕਰਨਾ ਹੈ। ਖਪਤ ਦੀ ਗਤੀਵਿਧੀ ਵਿੱਚ ਵਿਅਕਤੀਗਤ ਜਾਂ ਸਮੂਹਿਕ ਮਨੁੱਖੀ ਜ਼ਰੂਰਤਾਂ ਜਾਂ ਲੋੜਾਂ ਦੀ ਸਿੱਧੀ

ਸੰਤੁਸ਼ਟੀ ਲਈ ਚੀਜ਼ਾਂ ਅਤੇ ਸੇਵਾਵਾਂ ਦੀ ਵਰਤੋਂ ਸ਼ਾਮਲ ਹੁੰਦੀ ਹੈ। ਆਪਣੀਆਂ ਜ਼ਰੂਰਤਾਂ ਦੀ ਪੂਰਤੀ ਲਈ ਪਰਿਵਾਰ ਸਾਈਕਲ, ਫਰਨੀਚਰ, ਟੈਲੀਵਿਜ਼ਨ ਸੈੱਟ, ਕਾਰ, ਫਰਿੱਜ, ਅਨਾਜ, ਦੁੱਧ, ਤੇਲ, ਸਾਬਣ ਆਦਿ ਅਤੇ ਨਾਈ, ਅਧਿਆਪਕ, ਡਾਕਟਰ, ਬੈਂਕ ਅਤੇ ਬੀਮਾ ਕੰਪਨੀਆਂ ਆਦਿ ਵਰਗੀਆਂ ਸੇਵਾਵਾਂ ਅਤੇ ਸੇਵਾਵਾਂ ਦੀ ਇੱਕ ਵੱਡੀ ਕਿਸਮ ਖਰੀਦਦੇ ਹਨ। ਸੇਵਾਵਾਂ ਦੇ ਉਤਪਾਦਨ ਅਤੇ ਖਪਤ ਵਿੱਚ ਕੋਈ ਸਮੇਂ ਦਾ ਅੰਤਰ ਨਹੀਂ ਹੈ। ਸੇਵਾਵਾਂ ਦੇ ਮਾਮਲੇ ਵਿੱਚ ਉਤਪਾਦਨ ਅਤੇ ਖਪਤ ਇੱਕੋ ਸਮੇਂ ਹੁੰਦੀ ਹੈ। ਉਹ ਪੈਦਾ ਹੁੰਦੇ ਹੀ ਖਪਤ ਹੋ ਜਾਂਦੇ ਹਨ, ਜਿਵੇਂ ਕਿ ਡਾਕਟਰਾਂ, ਵਕੀਲਾਂ, ਅਧਿਆਪਕਾਂ ਆਦਿ ਦੀਆਂ ਸੇਵਾਵਾਂ। ਜਦੋਂ ਤੁਸੀਂ ਡਾਕਟਰੀ ਸਲਾਹ ਲੈਣ ਲਈ ਡਾਕਟਰ

ਮੈਂਡਿਊਲ: 2

ਅਰਥਵਿਵਸਥਾ ਦੇ ਵਿਸ਼ੇ
ਬਾਰੇ



ਨੋਟ



ਕੋਲ ਜਾਂਦੇ ਹੋ, ਤੁਸੀਂ ਉਸਦੀ ਸੇਵਾ ਦਾ ਸੇਵਨ ਕਰਦੇ ਹੋ। ਵਸਤੂ ਦੇ ਸਬੰਧ ਵਿੱਚ ਅਜਿਹਾ ਨਹੀਂ ਹੈ। ਵਸਤਾਂ ਦੇ ਉਤਪਾਦਨ ਅਤੇ ਖਪਤ ਵਿੱਚ ਸਮੇਂ ਦਾ ਅੰਤਰ ਹੁੰਦਾ ਹੈ। ਜਦੋਂ ਚੀਜ਼ਾਂ ਖਰੀਦੀਆਂ ਜਾਂਦੀਆਂ ਹਨ ਤਾਂ ਉਨ੍ਹਾਂ ਨੂੰ ਖਪਤ ਮੰਨਿਆ ਜਾਂਦਾ ਹੈ। ਹਾਲਾਂਕਿ, ਕੁਝ ਟਿਕਾਊ ਸਾਮਾਨ ਜਿਵੇਂ ਕਿ ਫਰਨੀਚਰ, ਸਾਈਕਲ ਆਦਿ ਕਈ ਸਾਲਾਂ ਤੱਕ ਸੇਵਾਵਾਂ ਪ੍ਰਦਾਨ ਕਰਦੇ ਰਹਿੰਦੇ ਹਨ, ਫਿਰ ਵੀ ਉਨ੍ਹਾਂ ਨੂੰ ਖਰੀਦਦੇ ਹੀ ਖਪਤ ਮੰਨਿਆ ਜਾਂਦਾ ਹੈ।

6.4 ਪੂੰਜੀ

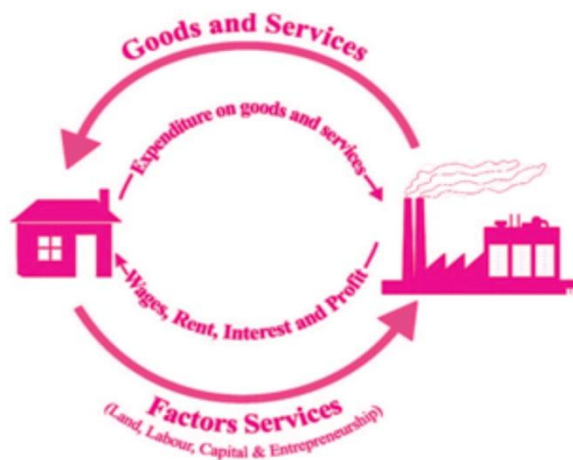
ਆਰਥਿਕਤਾ ਦੀ ਤੀਜੀ ਮਹੱਤਵਪੂਰਨ ਗਤੀਵਿਧੀ ਪੂੰਜੀ ਨਿਰਮਾਣ ਹੈ। ਜਿਵੇਂ ਕਿ ਤੁਸੀਂ ਪੜ੍ਹਿਆ ਹੈ, ਸਾਧਨ ਮਾਲਕਾਂ ਨੂੰ ਉਹਨਾਂ ਦੀਆਂ ਉਤਪਾਦਕ ਸੇਵਾਵਾਂ ਦੇ ਬਦਲੇ ਸਾਧਨ ਆਮਦਨੀ ਮਿਲਦੀ ਹੈ। ਉਹ ਆਪਣੀ ਆਮਦਨ ਦਾ ਵੱਡਾ ਹਿੱਸਾ ਵਸਤਾਂ ਅਤੇ ਸੇਵਾਵਾਂ ਜਿਵੇਂ ਕਿ ਖਾਣ-ਪੀਣ ਦੀਆਂ ਵਸਤਾਂ, ਕੱਪੜਾ, ਫਰਨੀਚਰ, ਰਿਹਾਇਸ਼, ਸਾਈਕਲ, ਸਿੱਖਿਆ, ਸਿਹਤ ਸੰਭਾਲ ਆਦਿ 'ਤੇ ਖਰਚ ਕਰਦੇ ਹਨ, ਹਾਲਾਂਕਿ, ਉਹ ਆਪਣੀ ਪੂਰੀ ਆਮਦਨ ਇਨ੍ਹਾਂ ਵਸਤਾਂ ਅਤੇ ਸੇਵਾਵਾਂ 'ਤੇ ਖਰਚ ਨਹੀਂ ਕਰਦੇ। ਉਹ ਕੁਝ ਆਮਦਨ ਵੀ ਬਚਾਉਂਦੇ ਹਨ ਅਤੇ ਭਵਿੱਖ ਲਈ ਬੈਂਕ ਵਿੱਚ ਜਮ੍ਹਾਂ ਕਰਵਾਉਂਦੇ ਹਨ। ਉਦਾਹਰਨ ਲਈ, ਜੇਕਰ ਕਿਸੇ ਵਿਅਕਤੀ ਦੀ ਆਮਦਨ 500/ ਰੁਪਏ ਹੈ। ਜਿਸ ਦੀ ਉਹ ਖਪਤ ਕਰਦਾ ਹੈ, ਪਰ ਕੋਈ ਬੱਚਤ ਨਹੀਂ ਹੈ। ਇਸਦੀ ਬਚਾਏ ਜੇਕਰ ਉਹ ਆਪਣੀ ਖਪਤ ਨੂੰ 300/ ਰੁਪਏ ਤੱਕ ਸੀਮਤ ਕਰਦਾ

ਹੈ, ਤਾਂ ਉਹ 200/ ਰੁਪਏ ਦੀ ਬੱਚਤ ਕਰਦਾ ਹੈ ਅਤੇ ਇਸ ਪੈਸੇ ਦੀ ਵਰਤੋਂ ਭਵਿੱਖ ਵਿੱਚ ਵਰਤੋਂ ਲਈ ਬੈਂਕ ਵਿੱਚ ਜਮ੍ਹਾਂ ਕਰਨ ਲਈ ਕਰ ਸਕਦਾ ਹੈ। ਬੈਂਕ, ਬਦਲੇ ਵਿੱਚ, ਇਸ ਪੈਸੇ ਦੀ ਵਰਤੋਂ ਇੱਕ ਉਦਯੋਗਪਤੀ ਨੂੰ ਉਸਦੇ ਕਾਰੋਬਾਰ ਦੇ ਵਿਸਥਾਰ ਵਿੱਚ ਨਿਵੇਸ਼ ਕਰਨ ਲਈ ਕਰਜ਼ਾ ਦੇਣ ਲਈ ਕਰ ਸਕਦਾ ਹੈ। ਪੂੰਜੀ ਦਾ ਨਿਰਮਾਣ ਵਰਤਮਾਨ ਖਪਤ 'ਤੇ ਰੋਕ ਲਗਾ ਕੇ ਹੀ ਕੀਤਾ ਜਾਂਦਾ ਹੈ। ਇਹ ਧਿਆਨ ਦੇਣਾ ਚਾਹੀਦਾ ਹੈ ਕਿ ਬੱਚਤ, ਜੇਕਰ ਵਿਅਰਥ ਪਈ ਰਹਿੰਦੀ ਹੈ, ਤਾਂ ਪੂੰਜੀ ਨਿਰਮਾਣ ਨਹੀਂ ਹੋ ਸਕਦਾ। ਜੇਕਰ ਕੋਈ ਵਿਅਕਤੀ ਪੈਸੇ ਦੀ ਬੱਚਤ ਕਰਦਾ ਹੈ ਅਤੇ ਉਸ ਨੂੰ ਘਰ ਵਿੱਚ ਤਾਲੇ ਦੇ ਅੰਦਰ ਰੱਖ ਦਿੰਦਾ ਹੈ, ਤਾਂ ਕੋਈ ਪੂੰਜੀ ਨਿਰਮਾਣ ਨਹੀਂ ਹੁੰਦਾ ਹੈ। ਜੇਕਰ ਸਿਰਫ਼ ਬਚੇ ਹੋਏ ਪੈਸੇ ਨੂੰ ਪੂੰਜੀਗਤ ਵਸਤਾਂ ਵਿੱਚ ਨਿਵੇਸ਼ ਕੀਤਾ ਜਾਂਦਾ ਹੈ ਤਾਂ ਇਹ ਭਵਿੱਖ ਵਿੱਚ ਉਤਪਾਦਨ ਅਤੇ ਖਪਤ ਦੀ ਸਹੂਲਤ ਦੇ ਕੇ ਪੂੰਜੀ ਨਿਰਮਾਣ ਵੱਲ ਅਗਵਾਈ ਕਰਦਾ ਹੈ। ਇਸ ਤਰ੍ਹਾਂ, ਮੌਜੂਦਾ ਖਪਤ ਨੂੰ ਛੱਡ ਦਿੱਤਾ ਜਾਂਦਾ ਹੈ ਅਤੇ ਭਵਿੱਖ ਵਿੱਚ ਉਤਪਾਦਨ ਦੀ ਸੰਭਾਵਨਾ ਨੂੰ ਵਧਾਉਣ ਲਈ ਹਰ ਸਾਲ ਮੌਜੂਦਾ ਪੂੰਜੀ ਸਟਾਕ ਜਿਵੇਂ ਕਿ ਪਲਾਂਟ, ਮਸ਼ੀਨਰੀ, ਬਿਲਡਿੰਗ ਆਦਿ ਵਿੱਚ ਜੋੜਨ ਲਈ ਵਰਤਿਆ ਜਾਂਦਾ ਹੈ। ਇੱਕ ਸਾਲ ਵਿੱਚ ਪੂੰਜੀ ਵਸਤਾਂ ਦੇ ਸਟਾਕ ਵਿੱਚ ਇਸ

ਮੁੱਢਲੀਆਂ ਆਰਥਿਕ ਗਤੀਵਿਧੀਆਂ

ਵਾਧੇ ਨੂੰ ਪੂੰਜੀ ਨਿਰਮਾਣ ਜਾਂ ਨਿਵੇਸ਼ ਕਿਹਾ ਜਾਂਦਾ ਹੈ। ਇਸੇ ਤਰ੍ਹਾਂ ਰਾਸ਼ਟਰ ਦੇ ਉਤਪਾਦਨ ਦਾ ਇੱਕ ਹਿੱਸਾ ਖਪਤਕਾਰਾਂ ਦੀਆਂ ਜ਼ਰੂਰਤਾਂ ਦੀ ਤਤਕਾਲ ਸੰਤੁਸ਼ਟੀ ਲਈ ਨਹੀਂ, ਬਲਕਿ ਪਲਾਂਟਾਂ ਅਤੇ ਉਪਕਰਨਾਂ ਦੀ ਵਿਵਸਥਾ ਲਈ ਸਮਰਪਿਤ ਹੈ ਜਿਸ ਦੁਆਰਾ ਉਤਪਾਦਨ ਨੂੰ ਕਾਇਮ ਰੱਖਿਆ ਅਤੇ ਫੈਲਾਇਆ ਜਾਂਦਾ ਹੈ। ਸੰਖੇਪ ਵਿੱਚ, ਜੇ ਵੀ ਉਤਪਾਦਨ ਹੁੰਦਾ ਹੈ, ਉਸ ਦੀ ਵਰਤੋਂ ਜਾਂ ਤਾਂ ਖਪਤ ਲਈ ਜਾਂ ਪੂੰਜੀ ਨਿਰਮਾਣ ਲਈ ਜਾਂ ਦੋਵਾਂ ਲਈ ਕੀਤੀ ਜਾਂਦੀ ਹੈ।

ਇਹ ਤਿੰਨੇ ਗਤੀਵਿਧੀਆਂ, ਉਤਪਾਦਨ, ਖਪਤ ਅਤੇ ਪੂੰਜੀ ਨਿਰਮਾਣ ਆਪਸ ਵਿੱਚ ਸਬੰਧਿਤ ਹਨ। ਵਸਤਾਂ ਅਤੇ ਸੇਵਾਵਾਂ ਦੇ ਉਤਪਾਦਨ ਵਿੱਚ ਵਾਧਾ ਖਪਤ ਅਤੇ ਪੂੰਜੀ ਨਿਰਮਾਣ ਦੇ ਪੱਧਰ ਨੂੰ ਵਧਾਉਂਦਾ ਹੈ। ਖਪਤ ਵਿੱਚ ਵਾਧਾ ਲੋਕਾਂ ਦੇ ਜੀਵਨ ਪੱਧਰ ਦੇ ਵਧਣ ਦਾ ਸੂਚਕ ਹੈ ਅਤੇ ਪੂੰਜੀ ਨਿਰਮਾਣ ਵਿੱਚ ਵਾਧਾ ਬਹੁਤ ਮਹੱਤਵਪੂਰਨ ਹੈ ਕਿਉਂਕਿ ਦੇਸ਼ ਦਾ ਵਿਕਾਸ ਇਸ ਉੱਤੇ ਨਿਰਭਰ ਕਰਦਾ ਹੈ। ਜੇਕਰ ਜ਼ਿਆਦਾ ਉਤਪਾਦਨ ਹੋਵੇਗਾ ਤਾਂ ਜ਼ਿਆਦਾ ਖਪਤ ਸੰਭਵ ਹੈ ਅਤੇ ਜੇਕਰ ਜ਼ਿਆਦਾ ਪੂੰਜੀ ਨਿਰਮਾਣ ਹੋਵੇਗਾ ਤਾਂ ਜ਼ਿਆਦਾ ਉਤਪਾਦਨ ਸੰਭਵ ਹੈ। ਇਸ ਤਰ੍ਹਾਂ ਅਰਥਵਿਵਸਥਾ ਨੂੰ ਵਿਕਾਸ ਦੇ ਰਾਹ 'ਤੇ ਲਿਜਾਣ ਲਈ ਤਿੰਨ ਆਰਥਿਕ ਗਤੀਵਿਧੀਆਂ ਇੱਕ-ਦੂਜੇ 'ਤੇ ਆਪਣਾ ਪ੍ਰਭਾਵ ਪਾਉਂਦੀਆਂ ਹਨ।



ਚੱਕਰੀ ਪਵਾਰ ਚਾਰਟ

ਪਾਠ ਅਧੀਨ ਪ੍ਰਸ਼ਨ: 6.3

1. ਲੰਬੇ ਸਮੇਂ ਲਈ ਉਪਯੋਗੀ ਅਤੇ ਇਕਹਿਰੀ ਵਰਤੋਂ ਵਾਲੀਆਂ ਵਸਤਾਂ ਅਤੇ ਸੇਵਾਵਾਂ ਦੀਆਂ ਦੋ ਉਦਾਹਰਣਾਂ ਦਿਓ।
2. ਇੱਕ ਸਾਲ ਵਿੱਚ ਖਪਤ ਤੋਂ ਵੱਧ ਉਤਪਾਦਨ ਹੁੰਦਾ ਹੈ। ਇਹ ਕਿੱਥੇ ਜਾਂਦਾ ਹੈ?

ਮੈਂਡਿਊਲ: 2

ਅਰਥਵਿਵਸਥਾ ਦੇ ਵਿਸ਼ੇ ਬਾਰੇ



ਨੋਟ



3. ਉਤਪਾਦਨ, ਖਪਤ ਅਤੇ ਪੂੰਜੀ ਨਿਰਮਾਣ ਨੂੰ ਕਿਵੇਂ ਸੁਚਾਰੂ ਬਣਾਉਂਦਾ ਹੈ?

ਤੁਸੀਂ ਕੀ ਸਿੱਖਿਆ

- ਉਤਪਾਦਨ, ਖਪਤ ਅਤੇ ਪੂੰਜੀ ਨਿਰਮਾਣ ਤਿੰਨ ਬੁਨਿਆਦੀ ਆਰਥਿਕ ਗਤੀਵਿਧੀਆਂ ਹਨ।
- ਉਤਪਾਦਨ ਨੂੰ ਉਪਯੋਗਤਾ ਦੀ ਰਚਨਾ ਵਜੋਂ ਪਰਿਭਾਸ਼ਿਤ ਕੀਤਾ ਗਿਆ ਹੈ।
- ਜ਼ਮੀਨ, ਮਜ਼ਦੂਰੀ, ਪੂੰਜੀ ਅਤੇ ਉੱਦਮ ਪੈਦਾਵਾਰ ਦੇ ਚਾਰ ਸਾਧਨ ਹਨ।
- ਮਜ਼ਦੂਰੀ, ਵਿਆਜ, ਕਿਰਾਇਆ ਅਤੇ ਮੁਨਾਫੇ ਉਤਪਾਦਨ ਦੇ ਸਾਧਨਾਂ ਦੇ ਮਾਲਕਾਂ ਨੂੰ ਫਰਮ ਦੁਆਰਾ ਕੀਤੇ ਗਏ ਸਾਧਨ ਭੁਗਤਾਨ ਹਨ। ਸਾਧਨ ਸੇਵਾਵਾਂ ਦੇ ਮਾਲਕਾਂ ਲਈ ਉਹਨਾਂ ਨੂੰ ਸਾਧਨ ਆਮਦਨੀ ਕਿਹਾ ਜਾਂਦਾ ਹੈ।
- ਖਪਤ ਦਾ ਮਤਲਬ ਹੈ ਵਿਅਕਤੀਗਤ ਅਤੇ ਸਮੂਹਿਕ ਜ਼ਰੂਰਤਾਂ ਦੀ ਸਿੱਧੀ ਸੰਤੁਸ਼ਟੀ ਲਈ ਵਸਤਾਂ ਅਤੇ ਸੇਵਾਵਾਂ ਦੀ ਵਰਤੋਂ ਕਰਨਾ।
- ਪੂੰਜੀ ਨਿਰਮਾਣ ਸਮੇਂ ਦੀ ਇੱਕ ਮਿਆਦ ਵਿੱਚ ਖਪਤ ਤੋਂ ਵੱਧ ਉਤਪਾਦਨ ਦਾ ਸਰਪਲੱਸ ਹੈ।

ਪਾਠ ਦੇ ਅੰਤ ਦੇ ਪ੍ਰਸ਼ਨ

1. ਵਾਹੀਯੋਗ ਜ਼ਮੀਨ ਇੱਕ ਨਿਸ਼ਚਿਤ ਸਰੋਤ ਹੈ। ਇਸ ਦੀ ਉਤਪਾਦਕਤਾ ਨੂੰ ਕਿਵੇਂ ਵਧਾਇਆ ਜਾ ਸਕਦਾ ਹੈ?
2. ਮਜ਼ਦੂਰੀ ਦੀ ਉਤਪਾਦਕਤਾ ਕਿਵੇਂ ਵਧਾਈ ਜਾ ਸਕਦੀ ਹੈ?
3. ਉੱਦਮੀ ਦੇ ਮੁੱਖ ਕੰਮ ਕੀ ਹਨ?
4. ਪੂੰਜੀ ਦੀ ਮਜ਼ਦੂਰੀ ਦੀ ਉਤਪਾਦਕਤਾ ਵਿੱਚ ਕਿਵੇਂ ਵਾਧਾ ਕਰਦੀ ਹੈ?
5. ਜੇਕਰ ਇੱਕ ਸਾਲ ਵਿੱਚ ਖਪਤ ਤੋਂ ਵੱਧ ਉਤਪਾਦਨ ਹੁੰਦਾ ਹੈ, ਤਾਂ ਇਹ ਕਿੱਥੇ ਜਾਂਦਾ ਹੈ? ਉਨ੍ਹਾਂ ਦੇ ਵਸਤਾਂ ਦਾ ਵੀ ਜ਼ਿਕਰ ਕਰੋ ਜੋ ਆਰਥਿਕਤਾ ਵਿੱਚ ਪੂੰਜੀ ਨਿਰਮਾਣ ਵਿੱਚ ਮਦਦ ਕਰਦੀਆਂ ਹਨ।
6. ਤਿੰਨ ਮਹੱਤਵਪੂਰਨ ਆਰਥਿਕ ਗਤੀਵਿਧੀਆਂ ਦਾ ਜ਼ਿਕਰ ਕਰੋ ਅਤੇ ਉਹਨਾਂ ਦੇ ਅੰਤਰ-ਸਬੰਧਾਂ ਨੂੰ ਰੇਖਾ-ਚਿੱਤਰ ਰੂਪ ਵਿੱਚ ਦਿਖਾਓ।

7. ਇੱਕ ਪਰਿਵਾਰ ਦੁਆਰਾ ਇੱਕ ਸਾਈਕਲ ਦੀ ਖਰੀਦ ਨੂੰ ਇਸ ਤਰ੍ਹਾਂ ਮੰਨਿਆ ਜਾਂਦਾ ਹੈ:
- (ੳ) ਪੂੰਜੀ ਨਿਰਮਾਣ
 - (ਅ) ਘਰੇਲੂ ਉਤਪਾਦਨ
 - (ੲ) ਖਪਤ
 - (ਸ) ਸਵੈ-ਖਪਤ ਲਈ ਉਤਪਾਦਨ
8. ਹੇਠਾਂ ਦਿੱਤੇ ਕਥਨਾਂ ਵਿੱਚੋਂ ਕਿਹੜਾ ਸਹੀ ਜਾਂ ਗਲਤ ਹੈ:
- (ੳ) ਪੂੰਜੀ ਦਾ ਨਿਰਮਾਣ ਕਿਸੇ ਦੇਸ਼ ਦੀ ਪੂੰਜੀ ਨੂੰ ਵਧਾਉਂਦਾ ਹੈ।
 - (ਅ) ਕਿਚਨ ਗਾਰਡਨ ਵਿੱਚ ਸਬਜ਼ੀਆਂ ਉਗਾਉਣਾ ਉਤਪਾਦਨ ਦਾ ਹਿੱਸਾ ਨਹੀਂ ਹਨ।
 - (ੲ) ਸਵੈ-ਖਪਤ ਲਈ ਕਣਕ ਦਾ ਉਤਪਾਦਨ ਕਰਨ ਵਾਲਾ ਕਿਸਾਨ ਉਤਪਾਦਨ ਦਾ ਹਿੱਸਾ ਹੈ।
 - (ਸ) ਸਕੂਲ ਵਿੱਚ ਪੜ੍ਹਾਉਣ ਵਾਲਾ ਅਧਿਆਪਕ ਉਤਪਾਦਕ ਹੁੰਦਾ ਹੈ।
 - (ਹ) ਸਟੇਸ਼ਨਰੀ ਦੀ ਵਰਤੋਂ ਕਰਨ ਵਾਲਾ ਵਿਦਿਆਰਥੀ ਉਤਪਾਦਕ ਹੈ।
 - (ਕ) ਪਰਿਵਾਰ ਦੇ ਮੈਂਬਰਾਂ ਦੁਆਰਾ ਆਪਣੇ ਖੇਤ ਵਿੱਚ ਖੂਹ ਪੁੱਟਣਾ ਪੂੰਜੀ ਨਿਰਮਾਣ ਦਾ ਹਿੱਸਾ ਹੈ।
 - (ਖ) ਇੱਕ ਪਿੰਡ ਤੋਂ ਨੇੜਲੇ ਕਸਬੇ ਦੀ ਮੰਡੀ ਵਿੱਚ ਕਣਕ ਲਿਜਾਣ ਵਾਲਾ ਟਰੱਕ ਉਤਪਾਦਨ ਦਾ ਇੱਕ ਹਿੱਸਾ ਹੈ।
9. ਖਾਲੀ ਸਥਾਨਾਂ ਨੂੰ ਭਰੋ :
- (ੳ) ਸਰਕਾਰ ਵੱਲੋਂ ਸੜਕਾਂ ਦਾ ਨਿਰਮਾਣ ਹੈ ----- (ਉਤਪਾਦਨ/ਪੂੰਜੀ ਨਿਰਮਾਣ)
 - (ਅ) ਇੱਕ ਕਿਸਾਨ ਵੱਲੋਂ ਟਰੈਕਟਰ ਦੀ ਖਰੀਦ-----ਦਾ ਇੱਕ ਹਿੱਸਾ ਹੈ। (ਉਤਪਾਦਨ/ਖਪਤ)
 - (ੲ) ਕਿਸੇ ਵਿਅਕਤੀ ਵੱਲੋਂ ਨਵਾਂ ਮਕਾਨ ਖਰੀਦਣਾ-----ਹੈ। (ਉਤਪਾਦਨ/ਖਪਤ)



ਮੌਡਿਊਲ: 2

ਅਰਥਵਿਵਸਥਾ ਦੇ ਵਿਸ਼ੇ
ਬਾਰੇ



ਨੋਟ

ਮੁੱਢਲੀਆਂ ਆਰਥਿਕ ਗਤੀਵਿਧੀਆਂ

- (ਸ) ਇੱਕ ਡਾਕਟਰ ਵੱਲੋਂ ਕਿਸੇ ਮਰੀਜ਼ ਨੂੰ ਦੇਖਣਾ-----ਹੈ।
(ਉਤਪਾਦਨ/ਖਪਤ)
- (ਹ) ਇੱਕ ਵਿਦਿਆਰਥੀ ਦਾ ਕਿਸੇ ਸਕੂਲ ਵਿੱਚ ਪੜ੍ਹਨਾ-----ਹੈ।
(ਉਤਪਾਦਨ/ਖਪਤ)

ਪਾਠ ਅਧੀਨ ਪ੍ਰਸ਼ਨਾਂ ਦੇ ਉੱਤਰ

ਪਾਠ ਅਧੀਨ ਪ੍ਰਸ਼ਨ 6.1 ਦੇ ਉੱਤਰ

- ਕੁਦਰਤੀ ਸਰੋਤ - ਫੈਕਟਰੀ ਲਈ ਜ਼ਮੀਨ
ਮਨੁੱਖੀ ਵਸੀਲੇ - ਦਰਜ਼ੀ, ਮਾਰਕੀਟਿੰਗ ਮੈਨੇਜਰ, ਵਿਗਿਆਪਨ ਪ੍ਰਬੰਧਕ।
ਸਥਿਰ ਪੂੰਜੀ - ਮਸ਼ੀਨਰੀ, ਲੱਕੜ ਦੇ ਦਰਵਾਜ਼ੇ, ਇਮਾਰਤਾਂ, ਸਿਲਾਈ ਮਸ਼ੀਨਾਂ, ਟੈਲੀਫੋਨ, ਪੈਕੇਜਿੰਗ ਮਸ਼ੀਨਾਂ ਅਤੇ ਕੈਂਚੀ।
ਕਾਰਜਕਾਰੀ ਪੂੰਜੀ- ਧਾਗਾ, ਰੰਗ, ਬਟਨ, ਬੈਂਕ ਕਰਜ਼ਾ, ਨਕਦ ਪੈਸਾ।
- ਉ.

ਪਾਠ ਅਧੀਨ ਪ੍ਰਸ਼ਨ 6.3 ਦੇ ਉੱਤਰ

- ਲੰਬੇ ਸਮੇਂ ਲਈ ਉਪਯੋਗੀ ਸਾਮਾਨ: ਟੈਲੀਵਿਜ਼ਨ, ਫਰਿੱਜ, ਵਾਸ਼ਿੰਗ ਮਸ਼ੀਨ ਆਦਿ।
ਇਕਹਿਰੇ ਸਮੇਂ ਲਈ ਉਪਯੋਗੀ ਸਾਮਾਨ: ਰੋਟੀ, ਮੱਖਣ, ਦੁੱਧ, ਆਟਾ।
ਸੇਵਾਵਾਂ: ਨਾਈ ਦੀਆਂ ਸੇਵਾਵਾਂ, ਅਧਿਆਪਕ ਦੀਆਂ ਸੇਵਾਵਾਂ, ਡਾਕਟਰ ਦੀਆਂ ਸੇਵਾਵਾਂ।
- ਇਹ ਪੂੰਜੀ ਨਿਰਮਾਣ ਵਿੱਚ ਚਲਾ ਜਾਂਦਾ ਹੈ।
- ਵਸਤਾਂ ਅਤੇ ਸੇਵਾਵਾਂ ਦੇ ਉਤਪਾਦਨ ਵਿੱਚ ਵਾਧਾ ਖਪਤ ਅਤੇ ਪੂੰਜੀ ਨਿਰਮਾਣ ਦੇ ਪੱਧਰ ਨੂੰ ਵਧਾਉਂਦਾ ਹੈ। ਵਧੇਰੇ ਖਪਤ ਤਾਂ ਹੀ ਸੰਭਵ ਹੈ ਜਦੋਂ ਵਧੇਰੇ ਉਤਪਾਦਨ ਹੋਵੇਗਾ ਅਤੇ ਵਧੇਰੇ ਪੂੰਜੀ ਨਿਰਮਾਣ ਤਾਂ ਹੀ ਸੰਭਵ ਹੈ ਜਦੋਂ ਉਤਪਾਦਨ ਖਪਤ ਤੋਂ ਵੱਧ ਹੋਵੇਗਾ।

ਮੋਡਿਊਲ-3 ਵਸਤੂਆਂ ਅਤੇ ਸੇਵਾਵਾਂ ਦਾ ਉਤਪਾਦਨ ਕਰਨਾ

7. ਉਤਪਾਦਨ

8. ਲਾਗਤ ਅਤੇ ਮਾਲੀਆ

7

ਉਤਪਾਦਨ

ਆਪਣੀਆਂ ਜ਼ਰੂਰਤਾਂ ਦੀ ਪੂਰਤੀ ਲਈ ਸਾਨੂੰ ਵੱਖ-ਵੱਖ ਕਿਸਮਾਂ ਦੀਆਂ ਵਸਤਾਂ ਅਤੇ ਸੇਵਾਵਾਂ ਦਾ ਉਤਪਾਦਨ ਕਰਨਾ ਪੈਂਦਾ ਹੈ। ਵਸਤਾਂ ਦਾ ਉਤਪਾਦਨ ਖੇਤੀਬਾੜੀ ਦੇ ਖੇਤਾਂ, ਫੈਕਟਰੀਆਂ, ਫਰਮਾਂ, ਉਦਯੋਗਾਂ ਵਿੱਚ ਹੁੰਦਾ ਹੈ ਅਤੇ ਸੇਵਾਵਾਂ ਦਾ ਉਤਪਾਦਨ ਦੁਕਾਨਾਂ, ਦਫ਼ਤਰਾਂ, ਹਸਪਤਾਲਾਂ, ਸਕੂਲਾਂ, ਕਾਲਜਾਂ, ਹੋਟਲਾਂ, ਬੈਂਕਾਂ ਅਤੇ ਹੋਰ ਬਹੁਤ ਸਾਰੀਆਂ ਥਾਵਾਂ 'ਤੇ ਹੁੰਦਾ ਹੈ। ਅਰਥਵਿਵਸਥਾ ਵਿੱਚ ਲੱਖਾਂ ਉਤਪਾਦਨ ਯੂਨਿਟ ਹੋ ਸਕਦੇ ਹਨ ਜੋ ਵਸਤਾਂ ਅਤੇ ਸੇਵਾਵਾਂ ਦਾ ਉਤਪਾਦਨ ਕਰਦੇ ਹਨ। ਉਤਪਾਦਨ- ਉਤਪਾਦਨ ਦੇ ਚਾਰ ਸਾਧਨਾਂ - ਜ਼ਮੀਨ, ਮਜ਼ਦੂਰੀ, ਪੂੰਜੀ ਅਤੇ ਉੱਦਮ ਦੇ ਸਾਂਝੇ ਯਤਨਾਂ ਦਾ ਨਤੀਜਾ ਹੈ। ਇਹਨਾਂ ਨੂੰ ਇਨਪੁੱਟਸ ਜਾਂ ਸਰੋਤ ਵੀ ਕਿਹਾ ਜਾਂਦਾ ਹੈ। ਇਨਪੁੱਟਸ ਅਤੇ ਆਉਟਪੁੱਟ ਵਿਚਕਾਰ ਸਬੰਧ ਸਰੋਤਾਂ ਦੀ ਸਰਵੋਤਮ ਵਰਤੋਂ, ਆਉਟਪੁੱਟ ਦੇ ਵੱਧ ਤੋਂ ਵੱਧ ਪੱਧਰ ਨੂੰ ਸੰਭਵ ਬਣਾਉਣ ਅਤੇ ਆਉਟਪੁੱਟ ਦੇ ਪੱਧਰ ਨੂੰ ਵਧਾਉਣ ਆਦਿ 'ਤੇ ਨਿਰਭਰ ਕਰਦਾ ਹੈ।

ਉਦੇਸ਼

ਇਸ ਪਾਠ ਨੂੰ ਪੂਰਾ ਕਰਨ ਤੋਂ ਬਾਅਦ, ਤੁਸੀਂ ਇਹ ਕਰਨ ਦੇ ਯੋਗ ਹੋਵੋਗੇ:

- ਉਤਪਾਦਨ ਕਾਰਜ ਦੀ ਧਾਰਨਾ ਦੀ ਵਿਆਖਿਆ;
- ਵਸਤਾਂ ਅਤੇ ਸੇਵਾਵਾਂ ਦੇ ਉਤਪਾਦਨ ਲਈ ਵਰਤੀਆਂ ਜਾਂਦੀਆਂ ਵੱਖ-ਵੱਖ ਤਕਨੀਕਾਂ ਜਾਂ ਤਰੀਕਿਆਂ ਦਾ ਵਿਸ਼ਲੇਸ਼ਣ;
- ਸਰਤਾਂ, ਕੁੱਲ ਉਤਪਾਦ, ਔਸਤ ਉਤਪਾਦ ਅਤੇ ਸੀਮਾਂਤ ਉਤਪਾਦ ਸ਼ਬਦਾਂ ਦੀ ਵਿਆਖਿਆ;
- ਸੀਮਾਂਤ ਉਤਪਾਦ ਨੂੰ ਘਟਾਉਣ ਦੇ ਨਿਯਮ ਦੀ ਜਾਣਕਾਰੀ;
- ਉਤਪਾਦਨ ਦੀ ਪ੍ਰਕਿਰਿਆ ਅਤੇ ਉਤਪਾਦਨ ਗਤੀਵਿਧੀ ਦੇ ਸੰਗਠਨ ਦੀ ਵਿਆਖਿਆ;
- ਉਤਪਾਦਨ ਦੇ ਸਾਧਨਾਂ ਦੀ ਭੂਮਿਕਾ ਨੂੰ ਸਮਝਣਾ;
- ਫਰਮਾਂ ਅਤੇ ਉਦਯੋਗ ਦੀ ਭੂਮਿਕਾ ਅਤੇ ਮਹੱਤਵ ਦੀ ਵਿਆਖਿਆ;
- ਆਰਥਿਕਤਾ ਵਿੱਚ ਵੱਖ-ਵੱਖ ਕਿਸਮਾਂ ਦੇ ਉਤਪਾਦਕਾਂ ਦੀ ਪਛਾਣ ਕਰਨ।

ਮੈਂਡਿਊਲ: 3

ਵਸਤੂਆਂ ਅਤੇ ਸੇਵਾਵਾਂ ਦਾ
ਉਤਪਾਦਨ ਕਰਨਾ



ਨੋਟ

ਵਸਤੂਆਂ ਅਤੇ ਸੇਵਾਵਾਂ ਦਾ
ਉਤਪਾਦਨ ਕਰਨਾ

ਨੋਟ

7.1 ਉਤਪਾਦਨ ਕਾਰਜ ਦੀ ਧਾਰਨਾ

ਉਤਪਾਦਨ ਨੂੰ ਆਉਟਪੁੱਟ ਵਿੱਚ ਇਨਪੁੱਟਸ ਦੇ ਰੂਪਾਂਤਰਣ ਵਜੋਂ ਪਰਿਭਾਸ਼ਿਤ ਕੀਤਾ ਗਿਆ ਹੈ। ਉਤਪਾਦਨ ਵਿੱਚ ਵਰਤੇ ਜਾਣ ਵਾਲੇ ਸਰੋਤਾਂ ਨੂੰ ਇਨਪੁੱਟ ਕਿਹਾ ਜਾਂਦਾ ਹੈ ਅਤੇ ਪੈਦਾ ਕੀਤੀਆਂ ਵਸਤੂਆਂ ਅਤੇ ਸੇਵਾਵਾਂ ਨੂੰ ਆਉਟਪੁੱਟ ਕਿਹਾ ਜਾਂਦਾ ਹੈ। ਉਦਾਹਰਨ ਲਈ, ਚਾਵਲ ਨਾਮਕ ਆਉਟਪੁੱਟ ਦੇ ਉਤਪਾਦਨ ਲਈ, ਸਾਨੂੰ ਖੇਤੀ ਵਾਲੀ ਜ਼ਮੀਨ, ਬੀਜ, ਖਾਦ, ਹਲ, ਪਾਣੀ, ਕੀੜੇਮਾਰ ਦਵਾਈਆਂ, ਟਰੈਕਟਰ ਚਲਾਉਣ ਲਈ ਡੀਜ਼ਲ ਆਦਿ ਦੀ ਲੋੜ ਹੁੰਦੀ ਹੈ। ਇਹਨਾਂ ਸਾਰੀਆਂ ਇਨਪੁੱਟਾਂ ਨੂੰ ਕੁਝ ਨਿਰਧਾਰਤ ਮਾਤਰਾ ਵਿੱਚ ਮਿਲਾ ਕੇ ਕੁਝ ਉਤਪਾਦਨ ਕਰਨਾ ਪੈਂਦਾ ਹੈ। ਚਾਵਲ ਦੀ ਮਾਤਰਾ. ਉਤਪਾਦਨ ਕਾਰਜ ਸਾਨੂੰ ਇੱਕ ਫਰਮ ਦੇ ਇਨਪੁੱਟਸ ਅਤੇ ਆਉਟਪੁੱਟ ਵਿਚਕਾਰ ਤਕਨੀਕੀ ਸਬੰਧ ਦੱਸਦਾ ਹੈ। ਇਹ ਸਾਨੂੰ ਆਉਟਪੁੱਟ ਦੀ ਵੱਧ ਤੋਂ ਵੱਧ ਮਾਤਰਾ ਬਾਰੇ ਦੱਸਦਾ ਹੈ ਜੋ ਦਿੱਤੀ ਗਈ ਮਾਤਰਾ ਦੀ ਮਦਦ ਨਾਲ ਪੈਦਾ ਕੀਤਾ ਜਾ ਸਕਦਾ ਹੈ।

ਸੰਖੇਪ ਵਿੱਚ, ਆਉਟਪੁੱਟ ਦੀ ਮਾਤਰਾ ਜ਼ਮੀਨ, ਮਜ਼ਦੂਰੀ, ਪੂੰਜੀ, ਉੱਦਮ ਅਤੇ ਲੋੜੀਂਦੇ ਕੱਚੇ ਮਾਲ ਵਰਗੇ ਨਿਵੇਸ਼ਾਂ ਦਾ ਕਾਰਜ ਹੈ। ਇਨਪੁੱਟਸ ਦੀ ਮਾਤਰਾ ਅਤੇ ਪੈਦਾ ਕੀਤੇ ਆਉਟਪੁੱਟ ਦੀ ਮਾਤਰਾ ਵਿਚਕਾਰ ਸਿੱਧਾ ਸਬੰਧ ਹੈ। ਇਨਪੁੱਟਸ ਵਿੱਚ ਵਾਧਾ ਕੁਝ ਹੱਦ ਤੱਕ ਆਉਟਪੁੱਟ ਵਿੱਚ ਵਾਧਾ ਕਰਦਾ ਹੈ ਅਤੇ ਇਸਦੇ ਉਲਟ ਵੀ ਹੁੰਦਾ ਹੈ। ਹਰੇਕ ਉਤਪਾਦਕ ਦਾ ਉਦੇਸ਼ ਇਨਪੁੱਟਸ ਦੀ ਦਿੱਤੀ ਗਈ ਮਾਤਰਾ ਤੋਂ ਆਉਟਪੁੱਟ ਦੀ ਮਾਤਰਾ ਨੂੰ ਵੱਧ ਤੋਂ ਵੱਧ ਕਰਨਾ ਹੈ। ਕਿਸੇ ਖਾਸ ਕਿਸਮ ਦੇ ਆਉਟਪੁੱਟ ਦੇ ਉਤਪਾਦਨ ਲਈ ਇਨਪੁੱਟਸ ਨੂੰ ਇੱਕ ਖਾਸ ਤਰੀਕੇ ਨਾਲ ਜੋੜਿਆ ਜਾਣਾ ਚਾਹੀਦਾ ਹੈ। ਦਰਜ਼ੀ ਦੀ ਦੁਕਾਨ ਦੀ ਉਦਾਹਰਣ ਲਓ। ਇਸ ਵਿੱਚ ਇੱਕ ਮਾਸਟਰ/ਦਰਜ਼ੀ ਦੀ ਲੋੜ ਹੁੰਦੀ ਹੈ ਜੋ ਮਾਪ ਅਨੁਸਾਰ ਕੱਪੜਾ ਕੱਟ ਸਕਦਾ ਹੈ ਅਤੇ ਇੱਕ ਸਿਲਾਈ ਮਸ਼ੀਨ ਲਈ ਇੱਕ ਵਿਅਕਤੀ ਦੀ ਲੋੜ ਹੁੰਦੀ ਹੈ ਜੋ ਮਾਸਟਰ/ਦਰਜ਼ੀ ਦੁਆਰਾ ਕੱਟੇ ਗਏ ਕੱਪੜੇ ਨੂੰ ਕਮੀਜ਼ ਜਾਂ ਪੈਂਟ ਆਦਿ ਬਣਾਉਣ ਲਈ ਸਿਲਾਈ ਕਰ ਸਕਦਾ ਹੈ। ਤਕਨਾਲੋਜੀ ਜਾਂ ਉਤਪਾਦਨ ਦੀ ਵਿਧੀ ਉਸ ਅਨੁਪਾਤ ਨੂੰ ਦਰਸਾਉਂਦੀ ਹੈ ਜਿਸ ਵਿੱਚ ਆਉਟਪੁੱਟ ਪੈਦਾ ਕਰਨ ਲਈ ਇਨਪੁੱਟਸ ਨੂੰ ਜੋੜਿਆ ਜਾਂਦਾ ਹੈ।

ਇਸ ਲਈ, ਉਤਪਾਦਨ ਕਾਰਜ ਨੂੰ 'ਤਕਨੀਕੀ ਸਬੰਧ' ਵਜੋਂ ਵੀ ਪਰਿਭਾਸ਼ਿਤ ਕੀਤਾ ਗਿਆ ਹੈ ਜੋ ਸਾਨੂੰ ਇਨਪੁੱਟਸ ਦੇ ਵੱਖ-ਵੱਖ ਸੰਜੋਗਾਂ ਤੋਂ ਪੈਦਾ ਹੋਣ ਵਾਲੇ ਵੱਧ ਤੋਂ ਵੱਧ ਆਉਟਪੁੱਟ ਬਾਰੇ ਦੱਸਦਾ ਹੈ।

ਪਾਠ ਅਧੀਨ ਪ੍ਰਸ਼ਨ 7.1

1. ਇਨਪੁੱਟਸ ਨੂੰ ਪਰਿਭਾਸ਼ਿਤ ਕਰੋ?
2. ਆਉਟਪੁੱਟ ਨੂੰ ਪਰਿਭਾਸ਼ਿਤ ਕਰੋ?
3. ਉਤਪਾਦਨ ਕਾਰਜ ਨੂੰ ਪਰਿਭਾਸ਼ਿਤ ਕਰੋ?

7.2 ਉਤਪਾਦਨ ਦੀਆਂ ਵੱਖ-ਵੱਖ ਤਕਨੀਕਾਂ

ਵਸਤਾਂ ਅਤੇ ਸੇਵਾਵਾਂ ਦਾ ਉਤਪਾਦਨ ਇੱਕ ਤੋਂ ਵੱਧ ਤਰੀਕਿਆਂ ਨਾਲ ਕੀਤਾ ਜਾ ਸਕਦਾ ਹੈ। ਉਦਾਹਰਨ ਲਈ, ਕੱਪੜੇ ਦਾ ਉਤਪਾਦਨ ਜਾਂ ਤਾਂ ਹੈਂਡਲੂਮ ਦੀ ਮਦਦ ਨਾਲ ਜਾਂ ਪਾਵਰਲੂਮ ਦੀ ਮਦਦ ਨਾਲ ਕੀਤਾ ਜਾ ਸਕਦਾ ਹੈ। ਪਹਿਲੀ ਉਤਪਾਦਨ ਦੀ ਕਿਰਤ ਤੀਬਰ ਟੈਕਨਾਲੋਜੀ ਹੈ ਅਤੇ ਦੂਜੀ ਹੈ ਉਤਪਾਦਨ ਦੀ ਪੂੰਜੀ ਤੀਬਰ ਤਕਨਾਲੋਜੀ।

ਜਦੋਂ ਇੱਕ ਕਿਸਾਨ ਅਨਾਜ ਦੇ ਉਤਪਾਦਨ ਵਿੱਚ ਲੱਕੜ ਦੇ ਹਲ, ਬਲਦਾਂ ਆਦਿ ਦੀ ਵਰਤੋਂ ਕਰਦਾ ਹੈ ਤਾਂ ਉਹ ਉਤਪਾਦਨ ਦੀ ਕਿਰਤ ਤੀਬਰ ਤਕਨਾਲੋਜੀ ਦੀ ਵਰਤੋਂ ਕਰਦਾ ਹੈ। ਦੂਜੇ ਪਾਸੇ ਜਦੋਂ ਉਹ ਅਨਾਜ ਦੇ ਉਤਪਾਦਨ ਵਿੱਚ ਟਰੈਕਟਰ, ਪੰਪਸੈੱਟ, ਹਾਰਵੈਸਟਰ ਦੀ ਵਰਤੋਂ ਕਰਦਾ ਹੈ, ਤਾਂ ਉਹ ਉਤਪਾਦਨ ਦੀ ਪੂੰਜੀ ਤੀਬਰ ਤਕਨਾਲੋਜੀ ਦੀ ਵਰਤੋਂ ਕਰਦਾ ਹੈ। ਇਸ ਤਰ੍ਹਾਂ ਉਤਪਾਦਨ ਦੀ ਤਕਨੀਕ ਹੇਠ ਲਿਖੀਆਂ ਦੋ ਕਿਸਮਾਂ ਦੀ ਹੋ ਸਕਦੀ ਹੈ।

1. ਕਿਰਤ ਤੀਬਰ ਤਕਨਾਲੋਜੀ (ਲੇਬਰ ਇੰਟੈਂਸਿਵ ਟੈਕਨਾਲੋਜੀ)
2. ਪੂੰਜੀ ਤੀਬਰ ਤਕਨਾਲੋਜੀ (ਕੈਪੀਟਲ ਇੰਟੈਂਸਿਵ ਟੈਕਨਾਲੋਜੀ)

ਕਿਰਤ ਤੀਬਰ ਤਕਨਾਲੋਜੀ (ਲੇਬਰ ਇੰਟੈਂਸਿਵ ਟੈਕਨਾਲੋਜੀ): ਜਦੋਂ ਅਸੀਂ ਆਪਣੀ ਜਿਣਸ ਦੇ ਉਤਪਾਦਨ ਵਿੱਚ ਮਜ਼ਦੂਰੀ ਦੀ ਵੱਧ ਵਰਤੋਂ ਕਰਦੇ ਹਾਂ ਅਤੇ ਉਤਪਾਦਨ ਦੀ ਪ੍ਰਤੀ ਯੂਨਿਟ ਪੂੰਜੀ ਦੀ ਘੱਟ ਵਰਤੋਂ ਕਰਦੇ ਹਾਂ ਤਾਂ ਉਸ ਨੂੰ ਕਿਰਤ ਤੀਬਰ ਤਕਨਾਲੋਜੀ ਕਿਹਾ ਜਾਂਦਾ ਹੈ। ਇਸ ਕਿਸਮ ਦੀ ਤਕਨਾਲੋਜੀ ਦੀ ਵਰਤੋਂ ਘਰੇਲੂ ਉੱਦਮਾਂ ਵਿੱਚ ਕੀਤੀ ਜਾਂਦੀ ਹੈ ਜੋ ਉਤਪਾਦਨ ਕਰਦੇ ਹਨ। ਇਹ ਸਵੈ ਖਪਤ ਜਾਂ ਛੋਟੇ ਪੈਮਾਨੇ ਦੇ ਉਤਪਾਦਨ ਦੇ ਮਾਮਲੇ ਵਿੱਚ ਹੁੰਦਾ ਹੈ।

ਪੂੰਜੀ ਤੀਬਰ ਤਕਨਾਲੋਜੀ (ਕੈਪੀਟਲ ਇੰਟੈਂਸਿਵ ਟੈਕਨਾਲੋਜੀ): ਜਦੋਂ ਅਸੀਂ ਆਪਣੀ ਜਿਣਸ ਦੇ ਉਤਪਾਦਨ ਵਿੱਚ ਪੂੰਜੀ ਦੀ ਜ਼ਿਆਦਾ ਵਰਤੋਂ ਕਰਦੇ ਹਾਂ ਅਤੇ ਪ੍ਰਤੀ ਯੂਨਿਟ ਆਉਟਪੁੱਟ ਦੀ ਘੱਟ ਵਰਤੋਂ ਕਰਦੇ ਹਾਂ ਜਿਸ ਨੂੰ ਉਤਪਾਦਨ ਦੀ ਪੂੰਜੀ ਤੀਬਰ ਤਕਨਾਲੋਜੀ ਕਿਹਾ ਜਾਂਦਾ ਹੈ। ਇਸ

ਮੈਂਡਿਊਲ: 3

ਵਸਤੂਆਂ ਅਤੇ ਸੇਵਾਵਾਂ ਦਾ
ਉਤਪਾਦਨ ਕਰਨਾ



ਨੋਟ

ਵਸਤੂਆਂ ਅਤੇ ਸੇਵਾਵਾਂ ਦਾ
ਉਤਪਾਦਨ ਕਰਨਾ

ਨੋਟ

ਕਿਸਮ ਦੀ ਤਕਨਾਲੋਜੀ ਦੀ ਵਰਤੋਂ ਉਦੋਂ ਕੀਤੀ ਜਾਂਦੀ ਹੈ ਜਦੋਂ ਮੁਨਾਫਾ ਕਮਾਉਣ ਲਈ ਉਤਪਾਦਨ ਨੂੰ ਮਾਰਕੀਟ ਵਿੱਚ ਵਿਕਰੀ ਲਈ ਵੱਡੇ ਪੱਧਰ 'ਤੇ ਬਣਾਇਆ ਜਾਂਦਾ ਹੈ। ਕਾਰਪੋਰੇਸ਼ਨਾਂ ਅਤੇ ਸਰਕਾਰੀ ਉਦਮਾਂ ਵਿੱਚ ਆਮ ਤੌਰ 'ਤੇ ਉਤਪਾਦਨ ਦੀ ਪੂੰਜੀ ਤੀਬਰ ਤਕਨਾਲੋਜੀ ਦੀ ਵਰਤੋਂ ਹੁੰਦੀ ਹੈ ਕਿਉਂਕਿ ਉੱਥੇ ਵਸਤਾਂ ਅਤੇ ਸੇਵਾਵਾਂ ਦਾ ਵੱਡੇ ਪੱਧਰ 'ਤੇ ਉਤਪਾਦਨ ਹੁੰਦਾ ਹੈ।

ਉਤਪਾਦਨ ਦੀ ਗਤੀਵਿਧੀ ਨੂੰ ਸੰਗਠਿਤ ਕਰਨ ਦਾ ਇੱਕ ਹੋਰ ਪਹਿਲੂ ਕਿਰਤ ਦੀ ਵੰਡ ਹੈ। ਕਿਰਤ ਦੀ ਵੰਡ ਮਜ਼ਦੂਰਾਂ ਦੀ ਕੁਸ਼ਲਤਾ ਨੂੰ ਵਧਾਉਂਦੀ ਹੈ ਜਿਸ ਕਾਰਨ ਵੱਡੇ ਪੱਧਰ 'ਤੇ ਉਤਪਾਦਨ ਸੰਭਵ ਹੋ ਜਾਂਦਾ ਹੈ। ਕਿਰਤ ਦੀ ਵੰਡ ਦਾ ਅਰਥ ਹੈ ਉਤਪਾਦਨ ਦੀ ਗਤੀਵਿਧੀ ਨੂੰ ਕਈ ਪ੍ਰਕਿਰਿਆਵਾਂ ਵਿੱਚ ਵੰਡਣਾ ਅਤੇ ਹਰੇਕ ਪ੍ਰਕਿਰਿਆ ਨੂੰ ਵੱਖ-ਵੱਖ ਕਾਮਿਆਂ ਵਿੱਚ ਉਹਨਾਂ ਦੀ ਯੋਗਤਾ ਅਤੇ ਸਮਰੱਥਾ ਅਨੁਸਾਰ ਨਿਰਧਾਰਤ ਕਰਨਾ। ਕਿਰਤ ਦੀ ਵੰਡ ਹੇਠ ਲਿਖੀਆਂ ਦੋ ਕਿਸਮਾਂ ਦੀ ਹੁੰਦੀ ਹੈ।

1. **ਕਿਰਤ ਦੀ ਉਤਪਾਦ ਆਧਾਰਿਤ ਵੰਡ:** ਜੇਕਰ ਕੋਈ ਕਰਮਚਾਰੀ ਇੱਕ ਮਾਲ ਜਾਂ ਸੇਵਾ ਦੇ ਉਤਪਾਦਨ ਵਿੱਚ ਮੁਹਾਰਤ ਰੱਖਦਾ ਹੈ, ਤਾਂ ਇਸਨੂੰ ਕਿਰਤ ਦੀ ਉਤਪਾਦ ਆਧਾਰਿਤ ਵੰਡ ਕਿਹਾ ਜਾਂਦਾ ਹੈ। ਕਿਸੇ ਪਿੰਡ ਵਿੱਚ ਛੋਟੇ ਕਿਸਾਨਾਂ, ਘੁਮਿਆਰ, ਮੋਚੀ ਜਾਂ ਤਰਖਾਣ ਦੇ ਮਾਮਲੇ ਵਿੱਚ ਅਸੀਂ ਦੇਖਦੇ ਹਾਂ ਕਿ ਕਿਰਤ ਦੀ ਉਤਪਾਦ ਆਧਾਰਿਤ ਵੰਡ ਦੀ ਵਰਤੋਂ ਹੁੰਦੀ ਹੈ। ਇਹ ਭਾਰਤ ਵਰਗੇ ਵਿਕਾਸਸ਼ੀਲ ਦੇਸ਼ਾਂ ਦੇ ਘਰੇਲੂ ਉਦਯੋਗਾਂ ਵਿੱਚ ਬਹੁਤ ਆਮ ਹੈ। ਜਦੋਂ ਉਤਪਾਦਨ ਸਵੈ-ਖਪਤ ਲਈ ਜਾਂ ਛੋਟੇ ਪੈਮਾਨੇ 'ਤੇ ਬਣਾਇਆ ਜਾਂਦਾ ਹੈ ਤਾਂ ਕਿਰਤ ਦੀ ਉਤਪਾਦ ਆਧਾਰਿਤ ਵੰਡ ਦੀ ਵਰਤੋਂ ਹੁੰਦੀ ਹੈ। ਉਦਾਹਰਨ ਲਈ ਸਾਡੇ ਦੇਸ਼ ਵਿੱਚ ਜ਼ਿਆਦਾਤਰ ਕਿਸਾਨ ਅਨਾਜ ਦਾ ਉਤਪਾਦਨ ਮੁੱਖ ਤੌਰ 'ਤੇ ਸਵੈ-ਖਪਤ ਲਈ ਕਰਦੇ ਹਨ। ਇਹ ਸਾਰੇ ਉਤਪਾਦ ਆਧਾਰਿਤ ਕਿਰਤ ਵੰਡ ਦੀ ਵਰਤੋਂ ਕਰਦੇ ਹਨ।
2. **ਕਿਰਤ ਦੀ ਪ੍ਰਕਿਰਿਆ ਆਧਾਰਿਤ ਵੰਡ:** ਕਾਰਪੋਰੇਸ਼ਨਾਂ ਅਤੇ ਸਰਕਾਰੀ ਉਦਯੋਗਾਂ ਵਰਗੀਆਂ ਵੱਡੀਆਂ ਉਤਪਾਦਨ ਇਕਾਈਆਂ ਵਿੱਚ ਜਿੱਥੇ ਉਤਪਾਦਨ ਬਹੁਤ ਵੱਡੇ ਪੱਧਰ 'ਤੇ ਕੀਤਾ ਜਾਂਦਾ ਹੈ, ਉੱਥੇ ਕਿਰਤ ਦੀ ਪ੍ਰਕਿਰਿਆ ਆਧਾਰਿਤ ਵੰਡ ਦੀ ਵਰਤੋਂ ਕੀਤੀ ਜਾਂਦੀ ਹੈ। ਕਿਰਤ ਦੀ ਪ੍ਰਕਿਰਿਆ ਆਧਾਰਿਤ ਵੰਡ ਦੇ ਮਾਮਲੇ ਵਿੱਚ, ਇੱਕ ਵਸਤੂ ਦਾ ਉਤਪਾਦਨ ਕਈ ਪ੍ਰਕਿਰਿਆਵਾਂ ਵਿੱਚ ਵੰਡਿਆ ਜਾਂਦਾ ਹੈ ਅਤੇ ਇੱਕ ਕਰਮਚਾਰੀ ਇੱਕ ਜਾਂ ਦੋ ਪ੍ਰਕਿਰਿਆਵਾਂ ਵਿੱਚ ਮੁਹਾਰਤ ਰੱਖਦਾ ਹੈ, ਜਿਸਨੂੰ ਕਿਰਤ ਦੀ ਪ੍ਰਕਿਰਿਆ

ਉਤਪਾਦਨ

ਆਧਾਰਿਤ ਵੰਡ ਕਿਹਾ ਜਾਂਦਾ ਹੈ। ਉਦਾਹਰਨ ਲਈ ਬ੍ਰਿਟਾਨੀਆ ਬਰੈਂਡ ਕੰਪਨੀ ਬਰੈਂਡ ਤਿਆਰ ਕਰਦੀ ਹੈ। ਬਰੈਂਡ ਲਈ ਕੱਚਾ ਮਾਲ ਕਣਕ ਦਾ ਆਟਾ ਹੈ। ਕਣਕ ਦੇ ਆਟੇ ਨੂੰ ਬਰੈਂਡ ਵਿੱਚ ਬਦਲਣ ਲਈ ਤਿੰਨ ਜਾਂ ਚਾਰ ਪ੍ਰਕਿਰਿਆਵਾਂ ਦੀ ਲੋੜ ਹੁੰਦੀ ਹੈ। ਆਟੇ ਨੂੰ ਬਰੈਂਡ ਬਣਾਉਣ ਵਿੱਚ ਬਦਲਣਾ ਪੈਂਦਾ ਹੈ ਅਤੇ ਆਟੇ ਨੂੰ ਪਕਾਉਣ ਲਈ ਡੱਬਿਆਂ ਵਿੱਚ ਰੱਖਣਾ ਪੈਂਦਾ ਹੈ। ਪਕਾਉਣ ਲਈ ਕੰਟੇਨਰ ਓਵਨ ਵਿੱਚ ਰੱਖੇ ਜਾਂਦੇ ਹਨ। ਪਕਾਈ ਹੋਈ ਬਰੈਂਡ ਨੂੰ ਢੁਕਵੇਂ ਆਕਾਰ ਵਿੱਚ ਕੱਟਿਆ ਜਾਂਦਾ ਹੈ ਅਤੇ ਪੈਕ ਕੀਤਾ ਜਾਂਦਾ ਹੈ। ਬਰੈਂਡ ਦੇ ਨਿਰਮਾਣ ਵਿੱਚ ਲੋੜੀਂਦੀਆਂ ਸਾਰੀਆਂ ਪ੍ਰਕਿਰਿਆਵਾਂ ਵੱਖ-ਵੱਖ ਕਾਮਿਆਂ ਦੁਆਰਾ ਕੀਤੀਆਂ ਜਾਂਦੀਆਂ ਹਨ ਅਤੇ ਕੋਈ ਵੀ ਇਹ ਦਾਅਵਾ ਨਹੀਂ ਕਰ ਸਕਦਾ ਕਿ ਉਸ ਨੇ ਬਰੈਂਡ ਬਣਾਈ ਹੈ। ਉਹ ਕਹਿ ਸਕਦਾ ਹੈ ਕਿ ਉਸ ਨੇ ਬਰੈਂਡ ਬਣਾਉਣ ਵਿੱਚ ਇੱਕ ਜਾਂ ਦੋ ਪ੍ਰਕਿਰਿਆਵਾਂ ਕੀਤੀਆਂ ਹਨ।

ਸਰਕਾਰੀ ਖੇਤਰ ਵਿੱਚ ਵੀ, ਕਿਸੇ ਇੱਕ ਵਸਤੂ ਜਾਂ ਸੇਵਾ ਦੀ ਸਪਲਾਈ ਕਿਰਤ ਦੀ ਪ੍ਰਕਿਰਿਆ ਆਧਾਰਿਤ ਵੰਡ 'ਤੇ ਨਿਰਭਰ ਕਰਦੀ ਹੈ। ਉਦਾਹਰਨ ਲਈ, ਇੱਕ ਨਵੇਂ ਬਣੇ ਗਰੁੱਪ ਹਾਊਸਿੰਗ ਕੰਪਲੈਕਸ ਵਿੱਚ ਪ੍ਰਦਾਨ ਕੀਤੀ ਜਾਣ ਵਾਲੀ ਇੱਕ ਸਧਾਰਨ ਸਟਰੀਟ ਲਾਈਟਿੰਗ ਦਾ ਮਾਮਲਾ ਲਓ। ਇਹ ਕਈ ਪ੍ਰਕਿਰਿਆਵਾਂ ਵਿੱਚੋਂ ਗੁਜ਼ਰਦਾ ਹੈ। ਸਭ ਤੋਂ ਪਹਿਲਾਂ ਗਲੀਆਂ ਵਿੱਚ ਬਿਜਲੀ ਦੇ ਖੰਭੇ ਲਗਾਏ ਜਾਂਦੇ ਹਨ। ਦੂਜੀ ਪ੍ਰਕਿਰਿਆ ਸਾਰੇ ਖੰਭਿਆਂ ਨੂੰ ਬਿਜਲੀ ਦੀਆਂ ਤਾਰਾਂ ਨਾਲ ਜੋੜਿਆ ਜਾਂਦਾ ਹੈ। ਤੀਜਾ ਇਲੈਕਟ੍ਰਿਕ ਬਲਬ ਅਤੇ ਟਿਊਬਾਂ ਨੂੰ ਫਿਟ ਕਰਨਾ ਹੈ ਅਤੇ ਆਖਰੀ ਪੜਾਅ ਬਿਜਲੀ ਸਪਲਾਈ ਫਾਰਮ ਸਬ-ਸਟੇਸ਼ਨ ਨੂੰ ਜਾਰੀ ਕਰਨਾ ਹੈ। ਇਹ ਸਾਰੀਆਂ ਪ੍ਰਕਿਰਿਆਵਾਂ ਵੱਖ-ਵੱਖ ਕਰਮਚਾਰੀਆਂ ਦੁਆਰਾ ਕੀਤੀਆਂ ਜਾਂਦੀਆਂ ਹਨ। ਸਿਸਟਮ ਦੇ ਕੰਮਕਾਜ ਵਿੱਚ ਕਿਸੇ ਵੀ ਨੁਕਸ ਨੂੰ ਦੂਰ ਕਰਨ ਲਈ, ਇਹ ਰੱਖ-ਰਖਾਅ ਵਿਭਾਗ ਦੇ ਕਰਮਚਾਰੀਆਂ ਦੀ ਇੱਕ ਹੋਰ ਟੀਮ ਹੈ ਜੋ ਸਿਸਟਮ ਨੂੰ ਕ੍ਰਮਬੱਧ ਕਰਦੀ ਹੈ।

ਕਿਰਤ ਦੀ ਵੰਡ ਮਜ਼ਦੂਰਾਂ ਦੀ ਰੁਸ਼ਲਤਾ ਨੂੰ ਵਧਾਉਂਦੀ ਹੈ ਅਤੇ ਕੰਮ ਦੇ ਦੁਹਰਾਉਣ ਵਾਲੀ ਪ੍ਰਕਿਰਤੀ ਦੇ ਕਾਰਨ ਖੇਜਾਂ ਅਤੇ ਨਵੀਆਂ ਸੰਭਾਵਨਾਵਾਂ ਵੱਲ ਅਗਵਾਈ ਕਰਦੀ ਹੈ। ਇਹ ਹੱਥੀਂ

ਕਿਰਤ ਦੀ ਥਾਂ ਮਸ਼ੀਨਾਂ ਦੀ ਵਰਤੋਂ ਨੂੰ ਉਤਸ਼ਾਹਿਤ ਕਰਦੀ ਹੈ। ਇਹ ਉਤਪਾਦਨ ਦੀ ਪੂੰਜੀ ਤੀਬਰ ਤਕਨੀਕ ਦੀ ਵਰਤੋਂ ਨੂੰ ਉਤਸ਼ਾਹਿਤ ਕਰਦੀ ਹੈ।

ਪਾਠ ਅਧੀਨ ਪ੍ਰਸ਼ਨ 7.2

1. ਕਿਰਤ ਤੀਬਰ ਤਕਨਾਲੋਜੀ ਨੂੰ ਪਰਿਭਾਸ਼ਿਤ ਕਰੋ।

ਮੈਂਡਿਊਲ: 3

ਵਸਤੂਆਂ ਅਤੇ ਸੇਵਾਵਾਂ ਦਾ ਉਤਪਾਦਨ ਕਰਨਾ



ਨੋਟ

ਵਸਤੂਆਂ ਅਤੇ ਸੇਵਾਵਾਂ ਦਾ ਉਤਪਾਦਨ ਕਰਨਾ



- ਪੂੰਜੀ ਦੀ ਤੀਬਰ ਤਕਨਾਲੋਜੀ ਨੂੰ ਪਰਿਭਾਸ਼ਿਤ ਕਰੋ।
- ਕਿਰਤ ਦੀ ਉਤਪਾਦ ਆਧਾਰਿਤ ਅਤੇ ਪ੍ਰਕਿਰਿਆ ਆਧਾਰਿਤ ਵੰਡ ਦੀ ਇੱਕ ਉਦਾਹਰਨ ਦਿਓ?

7.3 ਕੁੱਲ ਉਤਪਾਦ, ਔਸਤ ਉਤਪਾਦ ਅਤੇ ਸੀਮਾਂਤ ਉਤਪਾਦ

ਨੋਟ

ਕਿਸੇ ਵਸਤੂ ਦੇ ਉਤਪਾਦਨ ਨਾਲ ਸਬੰਧਤ ਮੁੱਖ ਤੌਰ 'ਤੇ ਤਿੰਨ ਧਾਰਨਾਵਾਂ ਹਨ (i) ਕੁੱਲ ਉਤਪਾਦ ਨੂੰ TP (Total Product) ਵਜੋਂ ਦਰਸਾਇਆ ਗਿਆ ਹੈ (ii) ਔਸਤ ਉਤਪਾਦ ਨੂੰ AP (Average Product) ਵਜੋਂ ਦਰਸਾਇਆ ਗਿਆ ਹੈ ਅਤੇ (iii) ਸੀਮਾਂਤ ਉਤਪਾਦ ਨੂੰ MP (Marginal Product) ਵਜੋਂ ਦਰਸਾਇਆ ਗਿਆ ਹੈ।

- ਕੁੱਲ ਉਤਪਾਦ (TP):** ਕੁੱਲ ਉਤਪਾਦ (TP) ਤੋਂ ਮਤਲਬ ਕਿਸੇ ਵਸਤੂ ਦੇ ਉਸ ਕੁੱਲ ਉਤਪਾਤ ਤੋਂ ਹੈ ਜੋ ਕਿਸੇ ਇਨਪੁਟ ਜਿਵੇਂ ਕਿਰਤ ਦੇ ਰੁਜ਼ਗਾਰ ਦੇ ਇੱਕ ਖਾਸ ਪੱਧਰ 'ਤੇ ਕਿਸੇ ਵਸਤੂ ਤੋਂ ਪ੍ਰਾਪਤ ਹੁੰਦਾ ਹੈ। ਜਦੋਂ ਕਿ ਹੋਰ ਇਨਪੁੱਟਸ ਦੀ ਮਾਤਰਾ ਨੂੰ ਬਦਲਿਆ ਨਹੀਂ ਜਾ ਸਕਦਾ। ਕੁੱਲ ਉਤਪਾਦ ਨੂੰ ਕਿਰਤ ਦੀਆਂ ਇਕਾਈਆਂ ਨੂੰ ਵਧਾਇਆ ਅਤੇ ਘਟਾਇਆ ਜਾ ਸਕਦਾ ਹੈ। ਇਸ ਲਈ ਕੁੱਲ ਉਤਪਾਦਨ ਦੀ ਕਿਰਤ ਦੇ ਰੁਜ਼ਗਾਰ ਤੋਂ ਪ੍ਰਤੱਖ ਰੂਪ ਨਾਲ ਸਬੰਧਿਤ ਹੈ ਕਿਉਂਕਿ ਇਸਨੂੰ ਬਦਲਿਆ ਜਾ ਸਕਦਾ ਹੈ, ਇਸ ਲਈ ਕਿਰਤ ਇੱਕ ਪਰਿਵਰਤਨਸ਼ੀਲ ਸਾਧਨ ਹੈ।
- ਔਸਤ ਉਤਪਾਦ (AP) :** ਇੱਕ ਪਰਿਵਰਤਨਸ਼ੀਲ ਇਨਪੁੱਟ ਜਿਵੇਂ ਕਿਰਤ ਦਾ ਪ੍ਰਤੀ ਇਕਾਈ ਉਤਪਾਦ ਔਸਤ ਉਤਪਾਦ ਕਹਾਉਂਦਾ ਹੈ। ਇਸ ਨੂੰ ਕੁੱਲ ਉਤਪਾਦ ਨੂੰ ਪਰਿਵਰਤਨਸ਼ੀਲ ਸਾਧਨ ਦੀਆਂ ਇਕਾਈਆਂ ਨਾਲ ਭਾਗ ਕਰਕੇ ਪ੍ਰਾਪਤ ਕੀਤਾ ਜਾ ਸਕਦਾ ਹੈ।

$$\frac{\text{ਕੁੱਲ ਉਤਪਾਦ}}{\text{ਉਤਪਾਦ}} = \frac{\text{ਔਸਤ ਉਤਪਾਦ}}{\text{ਕਿਰਤ ਦੀਆਂ ਇਕਾਈਆਂ}}$$

ਜਾਂ

$$AP = \frac{TP}{L}$$

ਇੱਥੇ L = ਕਿਰਤ ਦੀਆਂ ਇਕਾਈਆਂ ਦੀ ਸੰਖਿਆ ਹੈ।

ਉਤਪਾਦਨ

3. **ਸੀਮਾਂਤ ਉਤਪਾਦ (MP):** ਕਿਰਤ ਦੀ ਇੱਕ ਵਧੀਕ ਇਕਾਈ ਲਗਾਉਣ ਨਾਲ ਕੁੱਲ ਉਤਪਾਦ ਵਿੱਚ ਹੋਣ ਵਾਲੇ ਵਾਧੇ ਜਾਂ ਕਮੀ ਨੂੰ ਸੀਮਾਂਤ ਉਤਪਾਦ ਦੇ ਰੂਪ ਵਿੱਚ ਪਰਿਭਾਸ਼ਿਤ ਕੀਤਾ ਜਾ ਸਕਦਾ ਹੈ, ਜਦੋਂਕਿ ਬਾਕੀ ਸਾਰੇ ਇਨਪੁੱਟਸ ਨੂੰ ਬਿਨਾਂ ਬਦਲੇ ਰੱਖਿਆ ਜਾਂਦਾ ਹੈ। ਉਤਪਾਦਨ ਜਾਂ ਕੁੱਲ ਉਤਪਾਦ ਨੂੰ ਵਧਾਉਣ ਲਈ ਸਾਨੂੰ ਮਜ਼ਦੂਰਾਂ ਦੇ ਰੁਜ਼ਗਾਰ ਵਿੱਚ ਇੱਕ ਜਾਂ ਜ਼ਿਆਦਾ ਇਕਾਈਆਂ ਦਾ ਵਾਧਾ ਕਰਨਾ ਪੈਂਦਾ ਹੈ। ਘੱਟ ਤੋਂ ਘੱਟ ਸੰਖਿਆ ਜਿਸ ਦਾ ਵਾਧਾ ਕਿਰਤ ਵਿੱਚ ਕੀਤਾ ਜਾ ਸਕਦੀ ਹੈ, ਇੱਕ ਹੈ। ਕਿਉਂਕਿ ਸੀਮਾਂਤ ਤੋਂ ਮਤਲਬ ਬਹੁਤ ਛੋਟੇ ਤੋਂ ਹੈ, ਇਸ ਅਨੁਸਾਰ ਅਸੀਂ ਕਹਿ ਸਕਦੇ ਹਾਂ ਕਿ ਸੀਮਾਂਤ ਉਤਪਾਦ ਕਿਰਤ ਦੀ ਆਖਰੀ ਇਕਾਈ ਰਾਹੀਂ ਉਤਪਾਦਨ ਵਿੱਚ ਯੋਗਦਾਨ ਹੈ।

ਉਦਾਹਰਨ

$$MP = TP_L - TP_{L-1}$$

ਇੱਕ ਮਜ਼ਦੂਰ ਦੇ ਕਮੀਜ਼ਾਂ ਨੂੰ ਸਿਲਾਈ ਕਰਨ ਲਈ ਸਿਲਾਈ ਮਸ਼ੀਨ ਨਾਲ ਕੰਮ ਕਰਦਾ ਹੈ। ਇੱਕ ਹੋਰ ਮਜ਼ਦੂਰ ਉਸ ਨਾਲ ਜੁੜ ਜਾਂਦਾ ਹੈ ਅਤੇ ਦੋ 6 ਕਮੀਜ਼ਾਂ ਸਿਲਾਈ ਕਰ ਸਕਦੇ ਹਨ। MP ਦੀ ਗਣਨਾ ਕਰੋ?

ਉੱਤਰ : ਸੀਮਾਂਤ ਉਤਪਾਦ $MP = TP_2 - TP_{2-1} = TP_2 - TP_1 = 6 - 2 = 4$

'L' ਕਿਰਤ ਦੀਆਂ ਇਕਾਈਆਂ ਜਾਂ ਪਰਿਵਰਤਨਸ਼ੀਲ ਸਾਧਨ, ਭਾਵ ਕਿਰਤ ਦੇ ਰੁਜ਼ਗਾਰ ਦਾ ਪੱਧਰ ਹੈ। ਇਸ ਨੂੰ ਸੰਖਿਆਤਮਕ ਤੌਰ 'ਤੇ 0, 1, 2, 3, 4, 5, 6, 7, 8, 9, ਅਤੇ ਇਸ ਤਰ੍ਹਾਂ ਦਿੱਤਾ ਗਿਆ ਹੈ।

L = 0 ਦਾ ਮਤਲਬ ਹੈ ਕਿ ਮਜ਼ਦੂਰ ਨੂੰ ਕੋਈ ਰੁਜ਼ਗਾਰ ਨਹੀਂ ਦਿੱਤਾ ਗਿਆ ਹੈ।

'L - 1' ਰੁਜ਼ਗਾਰ ਦਾ ਪਿਛਲਾ ਪੱਧਰ ਹੈ, 'L' ਦਿੱਤਾ ਗਿਆ ਹੈ। ਉਦਾਹਰਨ ਲਈ, ਜੇਕਰ L = 3, ਤਾਂ L - 1 = 2 ਅਤੇ ਇਸ ਤਰ੍ਹਾਂ ਹੀ ਅੱਗੇ ਹੈ।

TP, AP ਅਤੇ MP ਦੀਆਂ ਤਿੰਨ ਧਾਰਨਾਵਾਂ ਨੂੰ ਹੇਠਾਂ ਦਿੱਤੀ ਸੰਖਿਆਤਮਕ ਉਦਾਹਰਨ ਦੀ ਮਦਦ ਨਾਲ ਵੀ ਸਮਝਿਆ ਜਾ ਸਕਦਾ ਹੈ।

ਮੈਂਡਿਊਲ: 3

ਵਸਤੂਆਂ ਅਤੇ ਸੇਵਾਵਾਂ ਦਾ ਉਤਪਾਦਨ ਕਰਨਾ



ਨੋਟ

ਵਸਤੂਆਂ ਅਤੇ ਸੇਵਾਵਾਂ ਦਾ ਉਤਪਾਦਨ ਕਰਨਾ



ਨੋਟ

ਸਾਰਣੀ 7.1 ਕੁੱਲ ਉਤਪਾਦ, ਔਸਤ ਉਤਪਾਦ ਅਤੇ ਸੀਮਾਂਤ ਉਤਪਾਦ

ਕਿਰਤ ਦੀਆਂ ਇਕਾਈਆਂ (L)	ਕੁੱਲ ਉਤਪਾਦ (TP) (ਇਕਾਈਆਂ)	ਔਸਤ ਉਤਪਾਦ (AP) (ਇਕਾਈਆਂ)	ਸੀਮਾਂਤ ਉਤਪਾਦ (MP) (ਇਕਾਈਆਂ)
0	0	-	-
1	10	10	10
2	22	11	12
3	36	12	14
4	44	11	8
5	50	10	6
6	54	9	4
7	56	8	2
8	56	7	0
9	54	6	-2
10	50	5	-4

ਉਪਰੋਕਤ ਸਾਰਣੀ ਵਿੱਚ, L = ਕਿਰਤ ਦੀਆਂ ਇਕਾਈਆਂ = 0, 1, 2, 3, 4, 5, 6, 7, 8, 9 ਅਤੇ 10

ਜਦੋਂ L = 1, ਇਸਦਾ ਅਰਥ ਹੈ ਕਿਰਤ ਇਕਾਈਆਂ ਦੀ ਸੰਖਿਆ ਜਾਂ ਕਿਰਤ ਰੁਜ਼ਗਾਰ ਦਾ ਪੱਧਰ 1 ਹੈ। ਇਸ ਪੱਧਰ 'ਤੇ TP = 10 ਹੈ। ਅਸੀਂ ਜਾਣਦੇ ਹਾਂ ਕਿ AP = TP/L = 10/1 = 10 ਹੈ।

ਜਦੋਂ L = 2, TP = 22 ਤਾਂ AP = 22/2 = 11 ਹੈ।

ਜਦੋਂ L = 9, TP = 54 ਤਾਂ AP = 54/9 = 6 ਹੈ।

ਹੁਣ MP ਦੀ ਗਣਨਾ ਕਰੋ। ਉੱਪਰ ਦਿੱਤੇ ਫਾਰਮੂਲੇ ਦੇ ਅਨੁਸਾਰ, $MP = TP_L - TP_{L-1}$

L=1 'ਤੇ ਸੀਮਾਂਤ ਉਤਪਾਦ ਦੀ ਗਣਨਾ ਕਰੋ।

ਇੱਥੇ TP_L ਤੋਂ ਮਤਲਬ L=1 'ਤੇ ਕੁੱਲ ਉਤਪਾਦ ਤੋਂ ਹੈ ਜੋ 10 ਹੈ।

ਉਤਪਾਦਨ

$L=1$ ਤੋਂ ਮਤਲਬ ਕਿਰਤ ਦੇ ਰੁਜ਼ਗਾਰ ਦਾ ਪਿਛਲਾ ਪੱਧਰ ਹੈ ਕਿਉਂਕਿ $L-1=1-1=0$

TP_{L-1} ਤੋਂ ਮਤਲਬ ਜ਼ੀਰੋ ਰੁਜ਼ਗਾਰ ਦੀ ਮਾਤਰਾ 'ਤੇ ਕੁੱਲ ਉਤਪਾਦ ਤੋਂ ਹੈ।

ਸਾਰਣੀ ਵਿੱਚ ਕਿਰਤ ਦੀ ਜ਼ੀਰੋ ਇਕਾਈ 'ਤੇ $TP=0$ ਇਸ ਲਈ $TP_L - TP_{L-1} = 10-0=10$ ਇਸ ਲਈ ਜਦੋਂ ਕਿਰਤ ਦੀ ਇਕਾਈ 1 ਹੈ ਤਾਂ ਸੀਮਤਾਂ ਉਤਪਾਦ (MP) = 10, ਇਸੀ ਤਰ੍ਹਾਂ ਜਦੋਂ ਕਿਰਤ ਦੀਆਂ 8 ਇਕਾਈਆਂ ਹਨ ਤਾਂ $MP = TP_8 - TP_{8-1} = TP_8 - TP_7 = 56 - 56 = 0$

ਕਿਉਂਕਿ ਸੀਮਤਾਂ ਉਤਪਾਦ ਕੁੱਲ ਉਤਪਾਦ ਦੇ ਦੋ ਕ੍ਰਮਵਾਰ ਮੁੱਲਾਂ ਦਾ ਅੰਤਰ ਹੈ, ਉਹ ਰਿਣਾਤਮਕ ਵੀ ਹੋ ਸਕਦਾ ਹੈ। ਸਾਰਣੀ ਵਿੱਚ ਕਿਰਤ ਦੀਆਂ 9 ਇਕਾਈਆਂ 'ਤੇ ਸੀਮਤਾਂ ਉਤਪਾਦ-2 ਹੈ। ਇਸ ਨੂੰ $TP_9 - TP_{9-1}$ ਰਾਹੀਂ ਪ੍ਰਾਪਤ ਕੀਤਾ ਜਾ ਸਕਦਾ ਹੈ।

$$TP_9 - TP_{9-1} = TP_9 - TP_8 = 54 - 56 = -2$$

ਪਾਠ ਅਧੀਨ ਪ੍ਰਸ਼ਨ 7.3

1. ਸੀਮਤਾਂ ਉਤਪਾਦ ਨੂੰ ਪਰਿਭਾਸ਼ਿਤ ਕਰੋ।
2. ਹੇਠਾਂ ਦਿੱਤੀ ਸਾਰਣੀ ਦੀ ਮਦਦ ਨਾਲ MP ਅਤੇ AP ਦੀ ਗਣਨਾ ਕਰੋ।

ਕਿਰਤ ਦੀਆਂ ਇਕਾਈਆਂ	ਕੁੱਲ ਉਤਪਾਦ (ਇਕਾਈਆਂ)	ਔਸਤ ਉਤਪਾਦ	ਸੀਮਤਾਂ ਉਤਪਾਦ
0	0		
1	10		
2	18		
3	24		
4	28		
5	30		
6	28		

7.4 ਕਿਰਤ ਦਾ ਸੀਮਤਾਂ ਉਤਪਾਦ ਘਟਾਉਣ ਦਾ

ਸਾਰਣੀ 7.1 ਵਿੱਚ ਕਿਰਤ ਦੀਆਂ ਵੱਖ-ਵੱਖ ਇਕਾਈਆਂ ਵਿੱਚ ਸੀਮਤਾਂ ਉਤਪਾਦ ਦੇ ਮੁੱਲਾਂ ਨੂੰ ਦੇਖੋ। ਕਿਰਤ ਦੀਆਂ ਇਕਾਈਆਂ ਵਿੱਚ 1 ਤੋਂ ਅੱਗੇ ਵਾਧੇ ਦੇ ਨਾਲ ਅਤੇ ਹਰੇਕ ਪੜਾਅ 'ਤੇ 1 ਯੂਨਿਟ ਦੇ ਵਾਧੇ ਨਾਲ ਸੀਮਤਾਂ ਉਤਪਾਦ ਪਹਿਲੀਆਂ ਤਿੰਨ ਇਕਾਈਆਂ ਤੱਕ ਵਧਦਾ ਹੈ ਭਾਵ $L =$

ਮੌਡਿਊਲ: 3

ਵਸਤੂਆਂ ਅਤੇ ਸੇਵਾਵਾਂ ਦਾ
ਉਤਪਾਦਨ ਕਰਨਾ



ਨੋਟ

ਵਸਤੂਆਂ ਅਤੇ ਸੇਵਾਵਾਂ ਦਾ
ਉਤਪਾਦਨ ਕਰਨਾ



ਨੋਟ

1 ਤੋਂ $L = 12$ 'ਤੇ। 12 ਤੋਂ $L = 3$ 'ਤੇ 14 ਹੋ ਜਾਂਦਾ ਹੈ। ਫਿਰ ਕਿਰਤ ਦੀਆਂ ਅਗਲੀਆਂ 4 ਇਕਾਈਆਂ ਤੱਕ ਸੀਮਾਂਤ ਉਤਪਾਦ ਘਟਦਾ ਹੈ ਭਾਵ $L = 3$ 'ਤੇ 14 'ਤੇ $L = 4$ ਤੋਂ 8, $L = 5$ 'ਤੇ 6, $L = 6$ 'ਤੇ 4, $L = 7$ 'ਤੇ 2, $L = 8$ 'ਤੇ 0 ਹੋ ਜਾਂਦਾ ਹੈ। ਅੰਤ ਵਿੱਚ ਸੀਮਾਂਤ ਉਤਪਾਦ ਦਾ ਮੁੱਲ $L = 9$ 'ਤੇ ਰਿਣਾਤਮਕ ਹੋ ਜਾਂਦਾ ਹੈ। ਦੂਜੇ ਸ਼ਬਦਾਂ ਵਿੱਚ ਕੁਝ ਸਮੇਂ ਲਈ ਅਸਥਾਈ ਤੌਰ 'ਤੇ ਵਧਣ ਤੋਂ ਬਾਅਦ ਕਿਰਤ ਦਾ ਮਾਮੂਲੀ ਉਤਪਾਦ ਅੰਤ ਵਿੱਚ ਘਟਦਾ ਹੈ। ਆਮ ਤੌਰ 'ਤੇ, ਅਸੀਂ ਕਹਿ ਸਕਦੇ ਹਾਂ ਕਿ ਪਰਿਵਰਤਨਸ਼ੀਲ ਕਾਰਕ ਕਿਰਤ ਵਿੱਚ ਲਗਾਤਾਰ ਵਾਧੇ ਦੇ ਨਾਲ, ਇਸ ਦਾ ਸੀਮਾਂਤ ਉਤਪਾਦ ਸ਼ੁਰੂ ਵਿੱਚ ਉਦੋਂ ਤੱਕ ਵਧਦਾ ਜਾਵੇਗਾ ਜਦੋਂ ਤੱਕ ਕਿ ਨਿਸ਼ਚਿਤ ਬਿੰਦੂ ਤੱਕ ਨਹੀਂ ਪਹੁੰਚ ਜਾਂਦਾ, ਪਰ ਉਸ ਤੋਂ ਬਾਅਦ ਇਹ ਘਟ ਜਾਵੇਗਾ ਅਤੇ ਬਾਕੀ ਸਾਰੇ ਸਾਧਨਾਂ ਨੂੰ

ਬਦਲਦੇ ਹੋਏ, ਰਿਣਾਤਮਕ ਬਣ ਸਕਦਾ ਹੈ। ਇਸਨੂੰ ਕਿਰਤ ਦੇ ਸੀਮਾਂਤ ਉਤਪਾਦ ਨੂੰ ਘਟਾਉਣ ਦੇ ਨਿਯਮ ਵਜੋਂ ਜਾਣਿਆ ਜਾਂਦਾ ਹੈ।

ਇਸ ਨੂੰ ਚੰਗੀ ਤਰ੍ਹਾਂ ਸਮਝਣ ਲਈ ਸੋਚੋ ਕਿ ਉਤਪਾਦਨ ਦੇ ਦੋ ਸਾਧਨ ਹਨ, ਕਿਰਤ ਅਤੇ ਪੂੰਜੀ, ਜਿੱਥੇ ਪੂੰਜੀ ਇੱਕ ਮਸ਼ੀਨ ਦੇ ਰੂਪ ਵਿੱਚ ਹੁੰਦੀ ਹੈ। ਮੰਨ ਲਓ ਕਿ ਕਿਰਤ ਇੱਕ ਪਰਿਵਰਤਨਸ਼ੀਲ ਸਾਧਨ ਹੈ ਜਿਸ ਨੂੰ ਉਤਪਾਦਨ ਵਧਾਉਣ ਲਈ ਵਧਾਇਆ ਜਾ ਸਕਦਾ ਹੈ ਅਤੇ ਪੂੰਜੀ ਇੱਕ ਸਥਿਰ ਸਾਧਨ ਹੈ ਜਿਸਨੂੰ ਸਥਿਰ ਰੱਖਿਆ ਜਾਂਦਾ ਹੈ। ਸ਼ੁਰੂਆਤ ਵਿੱਚ ਸਿਰਫ਼ 1 ਮਜ਼ਦੂਰ ਹੀ ਕੰਮ ਕਰ ਰਿਹਾ ਹੈ। ਹੋ ਸਕਦਾ ਹੈ ਕਿ ਇੱਕ ਮਜ਼ਦੂਰ ਮਸ਼ੀਨ ਦੀ ਕੁਸ਼ਲਤਾ ਨਾਲ ਵਰਤੋਂ ਕਰਨ ਲਈ ਕਾਫ਼ੀ ਨਾ ਹੋਵੇ। ਇਸ ਲਈ ਕਿਰਤ ਦੀ ਇਕਾਈ ਨੂੰ 2 ਅਤੇ ਫਿਰ 3 ਤੱਕ ਵਧਾ ਦਿੱਤਾ ਜਾਂਦਾ ਹੈ। ਸ਼ੁਰੂ ਵਿੱਚ ਜਦੋਂ ਅਸੀਂ ਕਿਰਤ ਵਿੱਚ ਵਾਧਾ ਕਰਦੇ ਹਾਂ, ਇਹ ਫਲਦਾਇਕ ਹੁੰਦਾ ਹੈ ਕਿਉਂਕਿ ਮਜ਼ਦੂਰ ਆਪਣੀ ਕੁਸ਼ਲਤਾ ਅਤੇ ਪਸੰਦ ਦੇ ਅਨੁਸਾਰ ਵੱਖ-ਵੱਖ ਕੰਮਾਂ ਨੂੰ ਸੰਭਾਲ ਸਕਦੇ ਹਨ। ਇਸ ਲਈ ਕਿਰਤ ਦੀ ਵਾਧੂ ਇਕਾਈ ਦਾ ਉਤਪਾਦਨ ਵਧਦਾ ਹੈ। ਪਰ ਇੱਕ ਸੀਮਾ ਹੈ ਜਿਸ ਵਿੱਚ ਕਿਰਤ ਨੂੰ ਵਧਾਇਆ ਜਾ ਸਕਦਾ ਹੈ ਕਿਉਂਕਿ ਫਿਰ ਸਾਨੂੰ ਇੱਕ ਹੋਰ ਮਸ਼ੀਨ ਦੀ ਲੋੜ ਹੋ ਸਕਦੀ ਹੈ। ਪਰ ਮਸ਼ੀਨ ਸਥਿਰ ਸਾਧਨ ਹੈ ਅਤੇ ਇਸਨੂੰ ਵਧਾਇਆ ਜਾਂ ਘਟਾਇਆ ਨਹੀਂ ਜਾ ਸਕਦਾ। ਇਸ ਲਈ ਕੇਵਲ ਪਰਿਵਰਤਨਸ਼ੀਲ ਸਾਧਨ, ਕਿਰਤ ਨੂੰ ਵਧਾਉਣ 'ਤੇ ਮਸ਼ੀਨ ਦੀ ਜ਼ਰੂਰਤ ਤੋਂ ਜ਼ਿਆਦਾ ਵਰਤੋਂ ਹੋਣ ਲੱਗਦੀ ਹੈ ਅਤੇ ਮਸ਼ੀਨ ਦਾ ਕੰਮ ਵਧਾਏ ਗਏ ਮਜ਼ਦੂਰ ਵੱਲੋਂ ਵੀ ਨਹੀਂ ਕੀਤਾ ਜਾ ਸਕਦਾ। ਇਸ ਲਈ ਕਿਰਤ ਦੀ ਹਰੇਕ ਵਾਧੂ ਇਕਾਈ ਦਾ ਉਤਪਾਦ ਯਾਨਿ ਕਿ ਕਿਰਤ ਦਾ ਸੀਮਾਂਤ ਉਤਪਾਦ ਇੱਕ ਬਿੰਦੂ ਦੇ ਬਾਅਦ ਘਟਣ ਲੱਗਦਾ ਹੈ।

ਇੱਥੇ ਪ੍ਰਸ਼ਨ ਇਹ ਪੈਦਾ ਹੁੰਦਾ ਹੈ। ਪਰਿਵਰਤਨਸ਼ੀਲ ਸਾਧਨ ਨੂੰ ਕਿਸ ਹੱਦ ਤੱਕ ਵਧਾਇਆ ਜਾਂ ਰੁਜ਼ਗਾਰ ਦਿੱਤਾ ਜਾ ਸਕਦਾ ਹੈ? ਜਵਾਬ ਪ੍ਰਾਪਤ ਕਰਨ ਲਈ, ਸਾਰਣੀ 7.1 ਨੂੰ ਦੁਬਾਰਾ ਦੇਖੋ।

ਉਤਪਾਦਨ

ਜਦੋਂ ਕਿਰਤ ਨੂੰ 9 ਇਕਾਈ ਤੱਕ ਵਧਾ ਦਿੱਤਾ ਗਿਆ ਹੈ, ਤਾਂ ਸੀਮਾਂਤ ਉਤਪਾਦ ਰਿਣਾਤਮਕ ਹੋਣੇ ਸ਼ੁਰੂ ਹੋ ਗਏ ਹਨ। ਕਿਰਤ ਦੀ 9ਵੀਂ ਇਕਾਈ ਦਾ ਰੁਜ਼ਗਾਰ ਸੀਮਾਂਤ ਉਤਪਾਦ $(-)$ 2 ਹੈ ਅਤੇ ਫਿਰ 10ਵੀਂ ਕਿਰਤ ਦੀ ਇਕਾਈ 'ਤੇ ਇਹ $(-)$ 4 ਹੈ। ਇਸ ਕਾਰਨ ਕੁੱਲ ਉਤਪਾਦ ਵੀ ਡਿੱਗਣ ਲੱਗਾ ਹੈ। ਇਸ ਦਾ ਸਪੱਸ਼ਟ ਅਰਥ ਹੈ ਕਿ ਕਿਰਤ ਨੂੰ 9 ਅਤੇ ਇਸ ਤੋਂ ਅੱਗੇ ਨਹੀਂ ਵਧਾਉਣਾ ਚਾਹੀਦਾ। ਮਜ਼ਦੂਰਾਂ ਦਾ ਰੁਜ਼ਗਾਰ 9 ਇਕਾਈਆਂ ਤੋਂ ਪਹਿਲਾਂ ਬੰਦ ਹੋਣਾ ਚਾਹੀਦਾ ਹੈ ਜਿਸਦਾ ਮਤਲਬ ਹੈ ਕਿ ਮਜ਼ਦੂਰਾਂ ਨੂੰ 8 ਇਕਾਈਆਂ ਤੱਕ ਵਧਾਇਆ ਜਾਣਾ ਚਾਹੀਦਾ ਹੈ ਜਾਂ ਰੁਜ਼ਗਾਰ ਦੇਣਾ ਚਾਹੀਦਾ ਹੈ। ਦੇਖੋ ਕਿ ਜਦੋਂ ਕਿਰਤ ਦੀਆਂ 8 ਇਕਾਈਆਂ ਨੂੰ ਰੁਜ਼ਗਾਰ ਦਿੱਤਾ ਜਾਂਦਾ ਹੈ ਤਾਂ ਸੀਮਾਂਤ ਉਤਪਾਦ ਇਸ ਬਿੰਦੂ 'ਤੇ ਘੱਟ ਹੋ ਗਿਆ ਹੈ ਜੋ ਕਿ 0 ਹੈ ਅਤੇ ਕੁੱਲ ਉਤਪਾਦ ਵੱਧ ਤੋਂ ਵੱਧ 56 ਹੋ ਗਿਆ ਹੈ।

ਇਸ ਲਈ ਅਸੀਂ ਸਿੱਖਦੇ ਹਾਂ ਕਿ ਪਰਿਵਰਤਨਸ਼ੀਲ ਸਾਧਨ ਵਿੱਚ ਵਾਧਾ ਉਸ ਬਿੰਦੂ ਤੱਕ ਹੋਣਾ ਚਾਹੀਦਾ ਹੈ ਜਿੱਥੇ ਇਸ ਦਾ ਸੀਮਾਂਤ ਉਤਪਾਦ ਘੱਟੋ-ਘੱਟ ਹੋ ਜਾਂਦਾ ਹੈ ਅਤੇ ਸੀਮਾਂਤ ਉਤਪਾਦ ਦੇ ਰਿਣਾਤਮਕ ਬਣਨ ਤੋਂ ਪਹਿਲਾਂ ਹੋਰ ਕੰਮ ਕਰਨਾ ਬੰਦ ਕਰ ਦੇਣਾ ਚਾਹੀਦਾ ਹੈ।

ਪਾਠ ਅਧੀਨ ਪ੍ਰਸ਼ਨ 7.4

1. ਸੀਮਾਂਤ ਉਤਪਾਦ ਨੂੰ ਘਟਾਉਣ ਦਾ ਨਿਯਮ ਦੱਸੋ?
2. ਜਦੋਂ ਸੀਮਾਂਤ ਉਤਪਾਦ ਘੱਟੋ-ਘੱਟ ਹੁੰਦਾ ਹੈ ਤਾਂ ਕੁੱਲ ਉਤਪਾਦ ਦਾ ਪੱਧਰ ਕੀ ਹੁੰਦਾ ਹੈ?
3. ਉਤਪਾਦਕ ਨੂੰ ਮਜ਼ਦੂਰਾਂ ਨੂੰ ਜ਼ਿਆਦਾ ਰੁਜ਼ਗਾਰ ਦੇਣਾ ਕਦੋਂ ਬੰਦ ਕਰਨਾ ਚਾਹੀਦੀ ਹੈ?

7.5 ਉਤਪਾਦਨ ਪ੍ਰਕਿਰਿਆ

ਉਤਪਾਦਨ ਪ੍ਰਕਿਰਿਆ ਵਿੱਚ ਸਾਧਨਾਂ ਦੇ ਮਾਲਕਾਂ ਤੋਂ ਉਤਪਾਦਨ ਦੇ ਸਾਧਨਾਂ ਦੀ ਖਰੀਦ ਜਾਂ ਪ੍ਰਬੰਧ ਕਰਨਾ, ਸਾਧਨਾਂ ਦਾ ਸਹੀ ਸੁਮੇਲ ਬਣਾਉਣਾ, ਉਤਪਾਦਨ ਵਿੱਚ ਇਸਦੀ ਵਰਤੋਂ ਲਈ ਕੱਚੇ ਮਾਲ ਦੀ ਖਰੀਦ ਅਤੇ ਇੱਕ ਵਸਤੂ ਸੂਚੀ ਬਣਾਉਣਾ, ਉਤਪਾਦਨ, ਸਟੋਰ ਕਰਨਾ ਅਤੇ ਅੰਤ ਵਿੱਚ ਆਉਟਪੁੱਟ ਵੇਚਣਾ ਸ਼ਾਮਲ ਹੈ।

ਉਤਪਾਦਨ ਪ੍ਰਕਿਰਿਆ ਨੂੰ ਵਿਵਸਥਿਤ ਕਰਨ ਲਈ ਕਿਸੇ ਨੂੰ ਪਹਿਲ ਕਰਨੀ ਚਾਹੀਦੀ ਹੈ। ਜੇ ਵਿਅਕਤੀ ਅਜਿਹੀ ਪਹਿਲ ਕਰਦਾ ਹੈ ਉਸਨੂੰ ਉੱਦਮੀ ਕਿਹਾ ਜਾਂਦਾ ਹੈ। ਪਾਠ 6 ਵਿੱਚ ਤੁਸੀਂ ਪੜ੍ਹ ਚੁੱਕੇ ਹੋ ਕਿ ਉੱਦਮੀ ਉਤਪਾਦਨ ਯੂਨਿਟ ਦਾ ਪ੍ਰਬੰਧਕ ਹੁੰਦਾ ਹੈ। ਉੱਦਮਤਾ ਉੱਦਮੀ ਦੁਆਰਾ

ਮੈਂਡਿਊਲ: 3

ਵਸਤੂਆਂ ਅਤੇ ਸੇਵਾਵਾਂ ਦਾ ਉਤਪਾਦਨ ਕਰਨਾ



ਨੋਟ

ਵਸਤੂਆਂ ਅਤੇ ਸੇਵਾਵਾਂ ਦਾ
ਉਤਪਾਦਨ ਕਰਨਾ



ਨੋਟ

ਉਤਪਾਦਨ ਪ੍ਰਕਿਰਿਆ ਨੂੰ ਸੰਗਠਿਤ ਕਰਨ ਦੀ ਕਲਾ ਹੈ। ਉਸ ਨੂੰ ਮਜ਼ਦੂਰੀ ਦੇ ਕੇ ਕਿਰਤੀ ਲਿਆਉਣ ਲਈ

ਉਪਰਾਲੇ ਕਰਨੇ ਪੈਂਦੇ ਹਨ। ਇਸੇ ਤਰ੍ਹਾਂ, ਜ਼ਮੀਨ ਅਤੇ ਇਮਾਰਤ, ਮਸ਼ੀਨਰੀ ਆਦਿ ਨੂੰ ਕ੍ਰਮਵਾਰ ਕਰਜ਼ਾ ਲੈ ਕੇ ਜਾਂ ਕਿਰਾਇਆ ਅਤੇ ਵਿਆਜ ਦੇ ਕੇ ਖਰੀਦਿਆ ਜਾਂ

ਖਰੀਦਣਾ ਪੈਂਦਾ ਹੈ। ਉੱਦਮੀ ਖੁਦ ਆਪਣੇ ਸਾਰੇ ਯਤਨਾਂ ਲਈ ਮੁਨਾਫੇ ਦੇ ਰੂਪ ਵਿੱਚ ਕੁਝ ਮਾਰਜਿਨ ਰੱਖਦਾ ਹੈ।

ਪਾਠ ਅਧੀਨ ਪ੍ਰਸ਼ਨ 7.5

1. ਉਤਪਾਦਨ ਪ੍ਰਕਿਰਿਆ ਨੂੰ ਪਰਿਭਾਸ਼ਿਤ ਕਰੋ।
2. ਉਤਪਾਦਨ ਪ੍ਰਕਿਰਿਆ ਨੂੰ ਕੋਣ ਵਿਵਸਥਿਤ ਕਰਦਾ ਹੈ।

7.6 ਫਰਮਾਂ ਅਤੇ ਉਦਯੋਗਾਂ ਦੀ ਭੂਮਿਕਾ ਅਤੇ ਮਹੱਤਵ

ਇੱਕ ਫਰਮ ਵਿਅਕਤੀਗਤ ਉਤਪਾਦਨ ਇਕਾਈ ਹੈ ਜੋ ਬਾਜ਼ਾਰ ਵਿੱਚ ਵਿਕਰੀ ਲਈ ਵਸਤਾਂ ਅਤੇ ਸੇਵਾਵਾਂ ਦਾ ਉਤਪਾਦਨ ਕਰਦੀ ਹੈ। ਕੁਝ ਉਤਪਾਦਨ ਇਕਾਈਆਂ ਹਨ ਜਿਵੇਂ ਚੈਰੀਟੇਬਲ ਸਕੂਲ, ਚੈਰੀਟੇਬਲ ਹਸਪਤਾਲ ਅਤੇ ਸਰਕਾਰੀ ਇਕਾਈਆਂ ਆਦਿ ਮੁਨਾਫਾ ਕਮਾਉਣ ਲਈ ਸੇਵਾਵਾਂ ਪ੍ਰਦਾਨ ਕਰਦੀਆਂ ਹਨ। ਉਹ ਸਮਾਜ ਭਲਾਈ ਲਈ ਕੰਮ ਕਰਦੇ ਹਨ। ਆਮ ਤੌਰ 'ਤੇ ਇੱਕ ਫਰਮ ਇੱਕ ਵਸਤੂ ਦੇ ਉਤਪਾਦਨ ਨਾਲ ਸਬੰਧਤ ਹੁੰਦੀ ਹੈ।

ਉਦਯੋਗ ਅਜਿਹੀਆਂ ਸਾਰੀਆਂ ਫਰਮਾਂ ਦਾ ਇੱਕ ਸਮੂਹ ਹੈ ਜੋ ਇੱਕੋ ਜਿਹੀਆਂ ਵਸਤਾਂ ਦਾ ਉਤਪਾਦਨ ਕਰਦਾ ਹੈ। ਉਦਾਹਰਨ ਲਈ ਬਾਟਾ ਸ਼ੂ ਕੰਪਨੀ ਇੱਕ ਫਰਮ ਹੈ ਜੋ ਜੁੱਤੀਆਂ ਬਣਾਉਂਦੀ ਹੈ, ਪਰ ਜੁੱਤੀ ਉਦਯੋਗ ਵਿੱਚ ਜੁੱਤੀਆਂ ਬਣਾਉਣ ਵਾਲੀਆਂ ਬਹੁਤ ਸਾਰੀਆਂ ਫਰਮਾਂ ਸ਼ਾਮਲ ਹਨ। ਇਸ ਲਈ ਬਾਟਾ, ਐਕਸ਼ਨ, ਲਿਬਰਟੀ, ਐਡੀਡਾਸ, ਨਾਈਕੀ ਅਤੇ ਰੀਬੋਕ ਆਦਿ ਜੁੱਤੀਆਂ ਬਣਾਉਣ ਵਾਲੇ ਉਦਯੋਗ ਹਨ।

ਇੱਥੇ ਵੱਖ-ਵੱਖ ਕਿਸਮਾਂ ਦੇ ਉਦਯੋਗ ਹਨ ਜੋ ਸਾਨੂੰ ਵੱਖ-ਵੱਖ ਕਿਸਮਾਂ ਦੀਆਂ ਚੀਜ਼ਾਂ ਅਤੇ ਸੇਵਾਵਾਂ ਪ੍ਰਦਾਨ ਕਰਦੇ ਹਨ। ਉਦਾਹਰਣ ਵਜੋਂ ਖੇਤੀਬਾੜੀ ਉਦਯੋਗ ਸਾਨੂੰ ਅਨਾਜ, ਸਬਜ਼ੀਆਂ, ਫਲ, ਕਪਾਹ, ਦਾਲਾਂ, ਦੁੱਧ ਅਤੇ ਮੱਖਣ ਆਦਿ ਦੀ ਸਪਲਾਈ ਕਰਦਾ ਹੈ। ਇਹ ਚੀਜ਼ਾਂ ਸਾਨੂੰ ਸਾਰਿਆਂ ਨੂੰ

ਲੋੜੀਂਦੀਆਂ ਹਨ। ਇਸੇ ਤਰ੍ਹਾਂ ਹੋਰ ਉਦਯੋਗ ਕਈ ਹੋਰ ਸਾਮਾਨ ਅਤੇ ਸੇਵਾਵਾਂ ਜਿਵੇਂ ਕਿ ਕੱਪੜੇ, ਟੈਲੀਵਿਜ਼ਨ, ਕੰਪਿਊਟਰ, ਸਕੂਟਰ, ਫਰਿੱਜ, ਏਅਰ ਕੰਡੀਸ਼ਨਰ, ਕਾਰਾਂ ਆਦਿ ਦੀ ਸਪਲਾਈ ਕਰਦੇ ਹਨ, ਇਸ ਲਈ ਇਹ ਸਾਰੇ ਉਦਯੋਗ ਸਾਡੇ ਰੋਜ਼ਾਨਾ ਜੀਵਨ ਵਿੱਚ ਮਹੱਤਵਪੂਰਣ ਭੂਮਿਕਾ ਨਿਭਾਉਂਦੇ ਹਨ।

ਫਰਮਾਂ ਅਤੇ ਉਦਯੋਗਾਂ ਦੀ ਮਹੱਤਤਾ ਨੂੰ ਸੰਖੇਪ ਵਿੱਚ ਦੱਸਿਆ ਜਾ ਸਕਦਾ ਹੈ।

1. **ਖਪਤ ਲਈ ਵਸਤਾਂ ਅਤੇ ਸੇਵਾਵਾਂ:** ਅੱਜਕੱਲ੍ਹ ਮਨੁੱਖੀ ਜ਼ਰੂਰਤਾਂ ਤੇਜ਼ੀ ਨਾਲ ਵਧ ਰਹੀਆਂ ਹਨ। ਇਹਨਾਂ ਲੋੜਾਂ ਨੂੰ ਪੂਰਾ ਕਰਨ ਲਈ ਸਾਡੀ ਰੋਜ਼ਾਨਾ ਦੀ ਖਪਤ ਲਈ ਵੱਖ-ਵੱਖ ਕਿਸਮਾਂ ਦੀਆਂ ਵਸਤਾਂ ਅਤੇ ਸੇਵਾਵਾਂ ਦੀ ਲੋੜ ਹੁੰਦੀ ਹੈ। ਇਹ ਸਾਰੀਆਂ ਵਸਤਾਂ ਅਤੇ ਸੇਵਾਵਾਂ ਫਰਮਾਂ ਅਤੇ ਉਦਯੋਗਾਂ ਦੁਆਰਾ ਪ੍ਰਦਾਨ ਕੀਤੀਆਂ ਜਾਂਦੀਆਂ ਹਨ।

2. **ਨਿਵੇਸ਼ ਲਈ ਸਾਮਾਨ:** ਸਾਨੂੰ ਨਿਵੇਸ਼ ਲਈ ਕਈ ਤਰ੍ਹਾਂ ਦੀਆਂ ਵਸਤਾਂ ਦੀ ਲੋੜ ਹੁੰਦੀ ਹੈ। ਸਾਨੂੰ ਨਿਵੇਸ਼ ਲਈ ਮਸ਼ੀਨਾਂ, ਪਲਾਂਟ, ਟਰਾਂਸਪੋਰਟ ਵਾਹਨ ਜਿਵੇਂ ਬੱਸਾਂ, ਟਰੱਕ, ਰੇਲਵੇ ਅਤੇ ਹਵਾਈ ਜਹਾਜ਼ ਆਦਿ ਅਤੇ ਹੋਰ ਬਹੁਤ ਸਾਰੀਆਂ ਚੀਜ਼ਾਂ ਦੀ ਲੋੜ ਹੁੰਦੀ ਹੈ। ਇਹ ਸਾਰੀਆਂ ਚੀਜ਼ਾਂ ਫਰਮਾਂ ਅਤੇ ਉਦਯੋਗਾਂ ਦੁਆਰਾ ਪੈਦਾ ਕੀਤੀਆਂ ਜਾਂਦੀਆਂ ਹਨ।

3. **ਬਹੁਤ ਸਾਰੇ ਵਿਅਕਤੀਆਂ ਨੂੰ ਰੁਜ਼ਗਾਰ:** ਫਰਮਾਂ ਅਤੇ ਉਦਯੋਗ ਲੋਕਾਂ ਲਈ ਰੁਜ਼ਗਾਰ ਦਾ ਸਰੋਤ ਹਨ। ਜ਼ਿਆਦਾਤਰ ਲੋਕਾਂ ਨੂੰ ਫਰਮਾਂ ਅਤੇ ਉਦਯੋਗਾਂ ਵਿੱਚ ਰੁਜ਼ਗਾਰ ਮਿਲਦਾ ਹੈ ਜਿਸ ਦੁਆਰਾ ਉਹ ਆਪਣੀਆਂ ਜ਼ਰੂਰਤਾਂ ਦੀ ਪੂਰਤੀ ਲਈ ਆਮਦਨ ਪ੍ਰਾਪਤ ਕਰਦੇ ਹਨ। ਅਸੀਂ ਰੁਜ਼ਗਾਰ ਤੋਂ ਬਿਨਾਂ ਨਹੀਂ ਰਹਿ ਸਕਦੇ। ਇਸ ਲਈ ਫਰਮਾਂ ਅਤੇ ਉਦਯੋਗਾਂ ਦੀ ਮਹੱਤਤਾ ਨੂੰ ਆਸਾਨੀ ਨਾਲ ਸਮਝਿਆ ਜਾ ਸਕਦਾ ਹੈ।

4. **ਦੇਸ਼ ਦੇ ਵਿਕਾਸ ਲਈ ਬੁਨਿਆਦੀ ਢਾਂਚਾ:** ਇਹ ਸਾਨੂੰ ਊਰਜਾ, ਆਵਾਜਾਈ, ਸੰਚਾਰ, ਸਿਹਤ, ਸਿੱਖਿਆ ਅਤੇ ਰਿਹਾਇਸ਼ ਪ੍ਰਦਾਨ ਕਰਦੇ ਹਨ ਜੋ ਦੇਸ਼ ਲਈ ਬੁਨਿਆਦੀ ਢਾਂਚਾ ਪ੍ਰਦਾਨ ਕਰਨ ਲਈ ਬੁਨਿਆਦੀ ਲੋੜ ਹੈ। ਬੁਨਿਆਦੀ ਢਾਂਚੇ ਦੇ ਵਿਕਾਸ ਤੋਂ ਬਿਨਾਂ ਦੇਸ਼ ਦਾ ਸਰਵਪੱਖੀ ਵਿਕਾਸ ਸੰਭਵ ਨਹੀਂ ਹੈ। ਇਸ ਲਈ ਅਸੀਂ ਫਰਮਾਂ ਅਤੇ ਉਦਯੋਗਾਂ ਦੀ ਭੂਮਿਕਾ ਅਤੇ ਮਹੱਤਤਾ ਤੋਂ ਇਨਕਾਰ ਨਹੀਂ ਕਰ ਸਕਦੇ।

ਪਾਠ ਅਧੀਨ ਪ੍ਰਸ਼ਨ 7.6

1. ਫਰਮ ਕੀ ਹੈ?
2. ਉਦਯੋਗ ਦਾ ਅਰਥ ਦੱਸੋ?



ਵਸਤੂਆਂ ਅਤੇ ਸੇਵਾਵਾਂ ਦਾ
ਉਤਪਾਦਨ ਕਰਨਾ



ਨੋਟ

7.7 ਅਰਥਵਿਵਸਥਾ ਵਿੱਚ ਵੱਖ-ਵੱਖ ਕਿਸਮਾਂ ਦੇ ਉਤਪਾਦਕਾਂ ਦੀ ਪਛਾਣ ਕਰਨਾ

ਮਾਲਕੀ ਦੇ ਆਧਾਰ 'ਤੇ ਉਤਪਾਦਨ ਇਕਾਈਆਂ ਨੂੰ ਮੋਟੇ ਤੌਰ 'ਤੇ ਹੇਠ ਲਿਖੀਆਂ ਸ਼੍ਰੇਣੀਆਂ ਵਿੱਚ ਵੰਡਿਆ ਜਾ ਸਕਦਾ ਹੈ।

- (i) ਸਵਦੇਸ਼ੀ ਉਤਪਾਦਨ ਇਕਾਈਆਂ
- (ii) ਵਿਦੇਸ਼ੀ ਉਤਪਾਦਨ ਇਕਾਈਆਂ

ਆਉ ਉਹਨਾਂ ਦੀ ਇੱਕ-ਇੱਕ ਕਰਕੇ ਚਰਚਾ ਕਰੀਏ।

7.7.1 ਸਵਦੇਸ਼ੀ ਉਤਪਾਦਨ ਇਕਾਈਆਂ

ਕਿਸੇ ਦੇਸ਼ ਵਿੱਚ ਸਥਿਤ ਅਤੇ ਦੇਸ਼ ਦੇ ਵਸਨੀਕਾਂ ਦੀ ਮਲਕੀਅਤ ਵਾਲੀਆਂ ਉਤਪਾਦਨ ਇਕਾਈਆਂ ਨੂੰ ਸਵਦੇਸ਼ੀ ਉਤਪਾਦਨ ਇਕਾਈਆਂ ਕਿਹਾ ਜਾਂਦਾ ਹੈ। ਸਾਡੇ ਆਲੇ-ਦੁਆਲੇ ਜ਼ਿਆਦਾਤਰ ਉਤਪਾਦਨ ਇਕਾਈਆਂ ਸਵਦੇਸ਼ੀ ਹਨ। ਪਿੰਡਾਂ ਵਿੱਚ ਫਾਰਮ ਹਾਊਸ, ਦੁਕਾਨਾਂ, ਛੋਟੀਆਂ ਫੈਕਟਰੀਆਂ, ਵੱਡੀਆਂ ਫੈਕਟਰੀਆਂ, ਹਸਪਤਾਲ, ਸਕੂਲ, ਕਾਲਜ, ਸਿਨੇਮਾ ਹਾਲ, ਰੈਸਟੋਰੈਂਟ, ਡੇਅਰੀ ਫਾਰਮ, ਸਰਕਾਰੀ ਦਫ਼ਤਰ, ਸਵੈ-ਰੁਜ਼ਗਾਰ ਡਾਕਟਰ, ਵਕੀਲ ਅਤੇ ਅਧਿਆਪਕ ਆਦਿ ਸਭ ਦੇਸ਼ੀ ਉਤਪਾਦਨ ਇਕਾਈਆਂ ਦੀਆਂ ਉਦਾਹਰਣਾਂ ਹਨ। ਕਿਉਂਕਿ ਉਤਪਾਦਨ ਇਕਾਈਆਂ ਨੂੰ ਅੱਗੇ ਪ੍ਰਾਈਵੇਟ ਅਤੇ ਸਰਕਾਰੀ ਵਿੱਚ ਵੰਡਿਆ ਗਿਆ ਹੈ, ਇਸ ਲਈ ਸਵਦੇਸ਼ੀ ਉਤਪਾਦਨ ਇਕਾਈਆਂ ਨੂੰ ਸ਼੍ਰੇਣੀਬੱਧ ਕੀਤਾ ਜਾ ਸਕਦਾ ਹੈ:

- ਨਿੱਜੀ ਉਤਪਾਦਨ ਇਕਾਈਆਂ
- ਸਰਕਾਰੀ ਉਤਪਾਦਨ ਇਕਾਈਆਂ

7.7.1.1 ਨਿੱਜੀ ਉਤਪਾਦਨ ਇਕਾਈਆਂ

ਜ਼ਿਆਦਾਤਰ ਦੁਕਾਨਾਂ, ਦਫ਼ਤਰ, ਕਾਰਖਾਨੇ ਨਿੱਜੀ ਵਿਅਕਤੀਆਂ ਜਾਂ ਸਮੂਹਾਂ ਜਾਂ ਪਰਿਵਾਰਾਂ ਦੀ ਮਲਕੀਅਤ ਹਨ। ਉਹ ਮੁਨਾਫ਼ਾ ਕਮਾਉਣ ਦੇ ਉਦੇਸ਼ ਨਾਲ ਬਾਜ਼ਾਰ ਵਿੱਚ ਵਿਕਰੀ ਲਈ ਵਸਤਾਂ ਅਤੇ ਸੇਵਾਵਾਂ ਦਾ ਉਤਪਾਦਨ ਕਰਦੇ ਹਨ।

ਨਿੱਜੀ ਖੇਤਰ ਦੀਆਂ ਇਕਾਈਆਂ ਨੂੰ ਅਜਿਹੀ ਇਕਾਈ ਦੇ ਮਾਲਕਾਂ ਦੀ ਸੰਖਿਆ ਦੇ ਆਧਾਰ 'ਤੇ ਅੱਗੇ ਵਰਗੀਕ੍ਰਿਤ ਕੀਤਾ ਜਾ ਸਕਦਾ ਹੈ। ਜ਼ਿਆਦਾਤਰ ਛੋਟੀਆਂ ਇਕਾਈਆਂ ਜਿਵੇਂ ਕਿ ਮਜ਼ਦੂਰ, ਧੋਬੀ, ਮੇਚੀ, ਦਰਜ਼ੀ, ਦੁੱਧ ਵਿਕਰੇਤਾ ਆਦਿ ਇਕੱਲੇ ਵਿਅਕਤੀ ਦੀ ਮਲਕੀਅਤ ਹਨ। ਪਰ ਕੁਝ ਉਤਪਾਦਨ ਇਕਾਈਆਂ ਇੱਕ ਤੋਂ ਵੱਧ ਵਿਅਕਤੀਆਂ ਦੀ ਮਲਕੀਅਤ ਹੋ ਸਕਦੀਆਂ ਹਨ। ਵਿਅਕਤੀਆਂ ਦੀ ਗਿਣਤੀ ਦੇ, ਵੀਹ, ਸੌ, ਹਜ਼ਾਰ ਜਾਂ ਇੱਕ ਲੱਖ ਜਾਂ ਇਸ ਤੋਂ ਵੀ ਵੱਧ ਹੋ ਸਕਦੀ ਹੈ। ਮਾਲਕਾਂ ਦੀ ਗਿਣਤੀ ਦੇ ਆਧਾਰ 'ਤੇ, ਨਿੱਜੀ ਖੇਤਰ ਦੀਆਂ ਉਤਪਾਦਨ ਇਕਾਈਆਂ ਨੂੰ ਹੇਠ ਲਿਖੀਆਂ ਸ਼੍ਰੇਣੀਆਂ ਵਿੱਚ ਸ਼੍ਰੇਣੀਬੱਧ ਕੀਤਾ ਜਾ ਸਕਦਾ ਹੈ।

(ੳ) ਇਕੱਲੀ ਮਲਕੀਅਤ

(ਅ) ਭਾਈਵਾਲੀ

(ੲ) ਕੰਪਨੀ ਜਾਂ ਕਾਰਪੋਰੇਸ਼ਨਾਂ

(ਸ) ਸਹਿਕਾਰੀ ਸਭਾ

(ਹ) ਨਿੱਜੀ ਗੈਰ-ਮੁਨਾਫ਼ਾ ਸੰਗਠਨ

(ੳ) ਇਕੱਲੀ ਮਲਕੀਅਤ: ਅਜਿਹੀਆਂ ਉਤਪਾਦਨ ਇਕਾਈਆਂ ਇਕੱਲੇ ਵਿਅਕਤੀ ਦੀ ਮਲਕੀਅਤ ਹੁੰਦੀਆਂ ਹਨ। ਉਹ ਉਤਪਾਦਨ ਇਕਾਈਆਂ ਦੇ ਨਫੇ-ਨੁਕਸਾਨ ਲਈ ਜ਼ਿੰਮੇਵਾਰ ਹੈ। ਉਹ ਉਤਪਾਦਨ ਯੂਨਿਟ ਦੇ ਪ੍ਰਬੰਧਨ ਅਤੇ ਕੰਮ ਕਰਨ ਲਈ ਜ਼ਿੰਮੇਵਾਰ ਹੈ।

(ਅ) ਭਾਈਵਾਲੀ: ਅਜਿਹੀਆਂ ਉਤਪਾਦਨ ਇਕਾਈਆਂ ਦੋ ਜਾਂ ਵੱਧ ਵਿਅਕਤੀਆਂ ਦੀ ਮਲਕੀਅਤ ਹੁੰਦੀਆਂ ਹਨ। ਵੱਧ ਤੋਂ ਵੱਧ ਸੰਖਿਆ 20 ਹੁੰਦੀ ਹੈ। ਅਜਿਹੀਆਂ ਉਤਪਾਦਨ ਇਕਾਈਆਂ ਦੇ ਮਾਲਕਾਂ ਨੂੰ ਕੰਪਨੀ ਦੇ ਭਾਈਵਾਲ ਕਿਹਾ ਜਾਂਦਾ ਹੈ। ਸਾਰੇ ਭਾਈਵਾਲ ਉਤਪਾਦਨ ਯੂਨਿਟ ਦੇ ਪ੍ਰਬੰਧਨ ਅਤੇ ਕੰਮਕਾਜ ਲਈ ਸਮੂਹਿਕ ਤੌਰ 'ਤੇ ਜ਼ਿੰਮੇਵਾਰ ਹੁੰਦੇ

ਹਨ। ਭਾਈਵਾਲੀ ਬਣਾਉਣ ਸਮੇਂ ਕੀਤੇ ਗਏ ਸਮਝੌਤੇ ਦੇ ਅਨੁਸਾਰ ਲਾਭ ਅਤੇ ਨੁਕਸਾਨ ਦਾ ਹਿੱਸਾ ਭਾਈਵਾਲਾਂ ਵਿੱਚ ਵੰਡਿਆ ਜਾਂਦਾ ਹੈ।

(ੲ) ਕੰਪਨੀ ਜਾਂ ਕਾਰਪੋਰੇਸ਼ਨ: ਇਹ ਇੱਕ ਉਤਪਾਦਨ ਇਕਾਈ ਹੈ ਜਿਸਦੀ ਮਲਕੀਅਤ ਬਹੁਤ ਸਾਰੇ ਵਿਅਕਤੀਆਂ ਦੀ ਹੈ। ਕੰਪਨੀ ਵਿੱਚ ਨਿਵੇਸ਼ ਕੀਤੀ ਰਕਮ ਨੂੰ ਸ਼ੇਅਰਾਂ ਵਿੱਚ ਵੰਡਿਆ ਜਾਂਦਾ ਹੈ। ਇਹਨਾਂ ਸ਼ੇਅਰਾਂ ਦੇ ਖਰੀਦਦਾਰਾਂ ਨੂੰ ਸ਼ੇਅਰਧਾਰਕ ਕਿਹਾ ਜਾਂਦਾ ਹੈ। ਉਹ ਸਾਰੇ ਕੰਪਨੀ ਦੇ ਮਾਲਕ ਹਨ। ਪ੍ਰਾਈਵੇਟ ਕੰਪਨੀ ਵਿੱਚ ਸ਼ੇਅਰ ਧਾਰਕਾਂ ਦੀ ਘੱਟੋ ਘੱਟ ਸੰਖਿਆ ਦੋ ਅਤੇ ਵੱਧ ਤੋਂ ਵੱਧ 50 ਹੈ। ਪਰ ਜਨਤਕ ਕੰਪਨੀ ਵਿੱਚ ਘੱਟੋ-ਘੱਟ ਸੰਖਿਆ ਸੱਤ ਹੈ ਪਰ ਵੱਧ ਤੋਂ ਵੱਧ ਸੀਮਾ



ਵਸਤੂਆਂ ਅਤੇ ਸੇਵਾਵਾਂ ਦਾ ਉਤਪਾਦਨ ਕਰਨਾ



ਨੋਟ

ਨਹੀਂ ਹੈ। ਇਹ ਸ਼ੇਅਰਧਾਰਕ ਕੰਪਨੀ ਦੇ ਪ੍ਰਬੰਧਨ ਲਈ ਕੁਝ ਵਿਅਕਤੀਆਂ ਦੀ ਚੋਣ ਕਰਦੇ ਹਨ ਜਿਨ੍ਹਾਂ ਨੂੰ ਕੰਪਨੀ ਦੇ ਡਾਇਰੈਕਟਰ ਕਿਹਾ ਜਾਂਦਾ ਹੈ। ਇਹ ਕੰਪਨੀਆਂ ਕੰਪਨੀ ਐਕਟ 1956 ਅਧੀਨ ਸਥਾਪਿਤ ਕੀਤੀਆਂ ਗਈਆਂ ਹਨ। ਕੰਪਨੀ ਦਾ ਮੁਨਾਫਾ ਸ਼ੇਅਰਧਾਰਕਾਂ ਵਿੱਚ ਉਹਨਾਂ ਦੁਆਰਾ ਰੱਖੇ ਸ਼ੇਅਰਾਂ ਦੇ ਅਨੁਸਾਰ ਵੰਡਿਆ ਜਾਂਦਾ ਹੈ। ਟਾਟਾ ਆਇਰਨ ਸਟੀਲ ਕੰਪਨੀ, ਰਿਲਾਇੰਸ ਇੰਡਸਟਰੀਜ਼ ਲਿਮਟਿਡ, ਬਜਾਜ ਆਟੋ ਲਿਮਟਿਡ, ਲਿਪਟਨ ਇੰਡੀਆ ਲਿਮਟਿਡ ਕੰਪਨੀ ਦੀਆਂ ਕੁਝ ਉਦਾਹਰਣਾਂ ਹਨ।

(ਸ) ਸਹਿਕਾਰੀ ਸਭਾ: ਇਹ ਇੱਕ ਉਤਪਾਦਨ ਯੂਨਿਟ ਵੀ ਹੈ ਜਿਸਦਾ ਪ੍ਰਬੰਧਨ ਕਈ ਵਿਅਕਤੀਆਂ ਦੁਆਰਾ ਕੀਤਾ ਜਾਂਦਾ ਹੈ। ਇਹ ਆਪਸੀ ਲਾਭ ਲਈ ਵਿਅਕਤੀਆਂ ਦੀ ਇੱਕ ਸਵੈ-ਇੱਛਤ ਐਸੋਸੀਏਸ਼ਨ ਹੈ। ਇਸਦੇ ਉਦੇਸ਼ ਸਵੈ ਸਹਾਇਤਾ ਅਤੇ ਸਮੂਹਿਕ ਯਤਨਾਂ ਦੁਆਰਾ ਪ੍ਰਾਪਤ ਕੀਤੇ ਜਾਂਦੇ ਹਨ। ਇਸੇ ਸਬੰਧ ਵਿੱਚ ਇਹ ਕੰਪਨੀ ਦੇ ਸਮਾਨ ਹੈ। ਇਸਦੇ ਮਾਲਕਾਂ ਨੂੰ ਸ਼ੇਅਰਧਾਰਕ ਵੀ ਕਿਹਾ ਜਾਂਦਾ ਹੈ। ਇਹ ਸਹਿਕਾਰੀ ਸਭਾਵਾਂ ਐਕਟ 1912 ਦੇ ਅਨੁਸਾਰ ਕੰਮ ਕਰਦੀਆਂ ਹਨ। ਸ਼ੇਅਰਧਾਰਕਾਂ ਦੀ ਘੱਟੋ-ਘੱਟ ਸੰਖਿਆ ਦਸ ਹੈ, ਪਰ ਕੋਈ ਉਪਰਲੀ ਸੀਮਾ ਨਹੀਂ ਹੈ। ਸ਼ੇਅਰਧਾਰਕ ਸਮਾਜ ਦੇ ਪ੍ਰਬੰਧਨ ਲਈ ਆਪਸ ਵਿੱਚ ਕੁਝ ਵਿਅਕਤੀਆਂ ਦੀ ਚੋਣ ਕਰਦੇ ਹਨ। ਸੁਸਾਇਟੀ ਦੇ ਮੁਨਾਫੇ ਨੂੰ ਸ਼ੇਅਰਧਾਰਕਾਂ ਵਿੱਚ ਉਹਨਾਂ ਦੁਆਰਾ ਰੱਖੇ ਗਏ ਸ਼ੇਅਰਾਂ ਦੇ ਅਨੁਸਾਰ ਵੰਡਿਆ ਜਾਂਦਾ ਹੈ। ਸਹਿਕਾਰੀ ਸਟੋਰ ਜੋ ਕਿ ਵਾਜਬ ਦਰਾਂ 'ਤੇ ਖਪਤਕਾਰਾਂ ਨੂੰ ਵੱਖ-ਵੱਖ ਸਾਮਾਨ ਵੇਚਦੇ ਹਨ, ਸਹਿਕਾਰੀ ਹਾਊਸਿੰਗ ਸੁਸਾਇਟੀਆਂ ਜੋ ਆਪਣੇ ਮੈਂਬਰਾਂ ਨੂੰ ਫਲੈਟ ਅਤੇ ਮਕਾਨ ਪ੍ਰਦਾਨ ਕਰਦੀਆਂ ਹਨ, ਸਹਿਕਾਰੀ ਸਭਾਵਾਂ ਦੀ ਮਿਸਾਲ ਹਨ। ਕੇਂਦਰੀ ਭੰਡਾਰ ਜੋ ਖਪਤਕਾਰਾਂ ਨੂੰ ਵੱਖ-ਵੱਖ ਵਸਤਾਂ ਪ੍ਰਦਾਨ ਕਰਦਾ ਹੈ, ਇੱਕ ਬਹੁਤ ਵੱਡੀ ਸਹਿਕਾਰੀ ਸਭਾ ਹੈ।

(ਹ) ਨਿੱਜੀ ਗੈਰ-ਲਾਭਕਾਰੀ ਸੰਗਠਨ: ਇੱਥੇ ਨਿੱਜੀ ਉਤਪਾਦਨ ਇਕਾਈਆਂ ਹਨ ਜੋ ਸੰਸਥਾਵਾਂ ਦੁਆਰਾ ਚਲਾਈਆਂ ਜਾਂਦੀਆਂ ਹਨ, ਜਿਵੇਂ ਕਿ ਟਰੱਸਟ, ਸੁਸਾਇਟੀਆਂ ਆਦਿ ਜਿਵੇਂ ਚੈਰੀਟੇਬਲ ਹਸਪਤਾਲ, ਚੈਰੀਟੇਬਲ ਸਕੂਲ, ਵੈਲਫੇਅਰ ਸੁਸਾਇਟੀਆਂ ਆਦਿ। ਅਜਿਹੀਆਂ ਉਤਪਾਦਨ ਇਕਾਈਆਂ ਆਪਣੀਆਂ ਸੇਵਾਵਾਂ ਮੁੱਖ ਰੂਪ ਨਾਲ ਸੰਗਠਨ ਦੇ ਮੈਂਬਰਾਂ ਦੀ ਸੇਵਾ ਲਈ ਬਿਨਾਂ ਲਾਭ ਕਮਾਉਣ ਦੇ ਉਦੇਸ਼ ਨਾਲ ਉਪਲੱਬਧ ਕਰਦੀਆਂ ਹਨ।

7.7.1.2 ਸਰਕਾਰੀ ਉਤਪਾਦਨ ਇਕਾਈਆਂ

ਸਰਕਾਰ ਬਹੁਤ ਸਾਰੀਆਂ ਸੇਵਾਵਾਂ ਪ੍ਰਦਾਨ ਕਰਦੀ ਹੈ ਜਿਵੇਂ ਕਿ ਸਿੱਖਿਆ, ਸਿਹਤ ਸੰਭਾਲ, ਕਾਨੂੰਨ ਅਤੇ ਵਿਵਸਥਾ, ਡਾਕ ਅਤੇ ਤਾਰ, ਟਰਾਂਸਪੋਰਟ, ਦੂਰਸੰਚਾਰ ਅਤੇ ਪ੍ਰਸਾਰਣ ਆਦਿ। ਇਹ ਸੇਵਾਵਾਂ ਪ੍ਰਦਾਨ ਕਰਨ ਵਾਲੀਆਂ ਕੁਝ ਸੰਸਥਾਵਾਂ ਸਰਕਾਰ ਦੇ ਵਿਭਾਗਾਂ ਅਤੇ ਮੰਤਰਾਲਿਆਂ

ਦੁਆਰਾ ਚਲਾਈਆਂ ਜਾਂਦੀਆਂ ਹਨ। ਇਹਨਾਂ ਨੂੰ ਵਿਭਾਗੀ ਉੱਦਮ ਕਿਹਾ ਜਾਂਦਾ ਹੈ। ਵਿਭਾਗੀ ਉੱਦਮਾਂ ਦੀਆਂ ਕੁਝ ਉਦਾਹਰਣਾਂ ਜਿਵੇਂ ਰੇਲਵੇ ਮੰਤਰਾਲੇ ਦੇ ਅਧੀਨ ਭਾਰਤੀ ਰੇਲਵੇ ਹਨ। ਇਸ ਤਰ੍ਹਾਂ ਹੀ ਆਲ ਇੰਡੀਆ ਰੇਡੀਓ ਅਤੇ ਦੂਰਦਰਸ਼ਨ ਹਨ ਜੋ ਸੂਚਨਾ ਅਤੇ ਪ੍ਰਸਾਰਣ ਮੰਤਰਾਲੇ ਦੇ ਅਧੀਨ ਪਰਸਾਰ ਭਾਰਤੀ ਦੇ ਉੱਦਮ ਹਨ। ਸਰਕਾਰ ਦਾ ਇਹਨਾਂ ਉੱਦਮਾਂ ਦੇ ਕੰਮਕਾਜ 'ਤੇ ਸਿੱਧਾ ਨਿਯੰਤਰਣ ਹੈ।

ਇੱਕ ਹੋਰ ਕਿਸਮ ਦੀਆਂ ਸਰਕਾਰੀ ਉਤਪਾਦਨ ਇਕਾਈਆਂ ਹਨ ਜੋ ਸਰਕਾਰ ਦੁਆਰਾ ਸਹਾਇਤਾ ਅਤੇ ਫੰਡ ਪ੍ਰਾਪਤ ਹੁੰਦੀਆਂ ਹਨ, ਪਰ ਸੁਤੰਤਰ ਤੌਰ 'ਤੇ ਕੰਮ ਕਰਦੀਆਂ ਹਨ। ਉਹ ਵੱਡੀਆਂ ਕਾਰਪੋਰੇਸ਼ਨਾਂ ਹਨ ਅਤੇ ਪ੍ਰਕਿਰਤੀ ਵਿੱਚ ਖੁਦਮੁਖਤਿਆਰ ਹਨ। ਇਹ ਇਕਾਈਆਂ ਗੈਰ-ਵਿਭਾਗੀ ਉੱਦਮ ਹਨ ਅਤੇ ਪਬਲਿਕ ਸੈਕਟਰ ਅੰਡਰਟੇਕਿੰਗਜ਼ ਕਹਾਉਂਦੀਆਂ ਹਨ। ਪਬਲਿਕ ਸੈਕਟਰ ਅੰਡਰਟੇਕਿੰਗਜ਼ ਦੀਆਂ ਕੁਝ ਉਦਾਹਰਣਾਂ ਇੰਡੀਅਨ ਏਅਰਲਾਈਨਜ਼, ਹਿੰਦੁਸਤਾਨ ਮਸ਼ੀਨ ਟੂਲਜ਼ (HMT), ਖਣਿਜ ਅਤੇ ਧਾਤੂ ਵਪਾਰ ਨਿਗਮ (MMTC), ਜੀਵਨ ਬੀਮਾ ਨਿਗਮ (LIC), ਜਨਰਲ ਇੰਸ਼ੂਰੈਂਸ ਕਾਰਪੋਰੇਸ਼ਨ (GIC), ਇੰਡੀਅਨ ਆਇਲ ਕਾਰਪੋਰੇਸ਼ਨ (IOC) ਆਦਿ ਹਨ।

7.7.1.3 ਵਿਦੇਸ਼ੀ ਉਤਪਾਦਨ ਇਕਾਈਆਂ

ਇੱਕ ਵਿਦੇਸ਼ੀ ਉਤਪਾਦਨ ਯੂਨਿਟ ਦੇਸ਼ ਵਿੱਚ ਸਥਿਤ ਹੈ, ਪਰ ਵਿਦੇਸ਼ੀ ਜਾਂ ਦੇਸ਼ ਦੇ ਗੈਰ-ਨਿਵਾਸੀਆਂ ਦੀ ਮਲਕੀਅਤ ਹੈ। ਅਜਿਹੀਆਂ ਉਤਪਾਦਨ ਇਕਾਈਆਂ ਵਿੱਚ ਵਿਦੇਸ਼ੀ ਲੋਕਾਂ ਦਾ ਯੋਗਦਾਨ ਕੁੱਲ ਪੂੰਜੀ ਦੇ 50% ਤੋਂ ਵੱਧ ਹੋਣਾ ਚਾਹੀਦਾ ਹੈ।

ਵਿਦੇਸ਼ੀ ਉਤਪਾਦਨ ਇਕਾਈਆਂ ਨੂੰ ਅੱਗੇ ਸ਼੍ਰੇਣੀਬੱਧ ਕੀਤਾ ਗਿਆ ਹੈ:

(i) ਬਹੁਰਾਸ਼ਟਰੀ ਕੰਪਨੀਆਂ ਅਤੇ

(ii) ਵਿਦੇਸ਼ੀ ਸਹਿਯੋਗੀ

(i) **ਬਹੁਰਾਸ਼ਟਰੀ ਕੰਪਨੀਆਂ:** ਇਹ ਉਹ ਫਰਮਾਂ ਹਨ ਜਿਨ੍ਹਾਂ ਦਾ ਮੁੱਖ ਦਫਤਰ ਇੱਕ ਦੇਸ਼ ਵਿੱਚ ਹੈ, ਪਰ ਉਹਨਾਂ ਦੀਆਂ ਵਪਾਰਕ ਗਤੀਵਿਧੀਆਂ ਕਈ ਦੇਸ਼ਾਂ ਵਿੱਚ ਫੈਲੀਆਂ ਹੋਈਆਂ ਹਨ। ਇਹਨਾਂ ਨੂੰ ਮਲਟੀ-ਨੈਸ਼ਨਲ ਕਾਰਪੋਰੇਸ਼ਨਾਂ (MNC) ਕਿਹਾ ਜਾਂਦਾ ਹੈ ਕਿਉਂਕਿ ਉਹ ਆਪਣੇ ਮੂਲ ਦੇਸ਼ ਤੋਂ ਇਲਾਵਾ ਇੱਕ ਤੋਂ ਵੱਧ ਦੇਸ਼ਾਂ ਵਿੱਚ ਕੰਮ ਕਰਦੇ ਹਨ। ਭਾਰਤ ਵਿੱਚ MNCs ਦੀਆਂ ਕੁਝ ਉਦਾਹਰਣਾਂ ਹਨ- ਕੋਕਾ ਕੋਲਾ, ਪੈਪਸੀ ਕੋਲਾ, ਜੌਹਨਸਨ ਐਂਡ ਜੌਹਨਸਨ, ਮਾਈਕ੍ਰੋਸਾਫਟ,

ਮੌਡਿਊਲ: 3

ਵਸਤੂਆਂ ਅਤੇ ਸੇਵਾਵਾਂ ਦਾ ਉਤਪਾਦਨ ਕਰਨਾ



ਨੋਟ

ਵਸਤੂਆਂ ਅਤੇ ਸੇਵਾਵਾਂ ਦਾ ਉਤਪਾਦਨ ਕਰਨਾ



ਨੋਟ

ਨੋਕੀਆ, ਸੋਨੀ, ਸੈਮਸੰਗ, ਇੰਟਰਨੈਸ਼ਨਲ ਬਿਜਨਸ ਮਸ਼ੀਨ (IBM), ਨੈਸਲੇ, ਵੇਡਾਫੋਨ, ਏਅਰਟੈੱਲ, ਐੱਲਜੀ, ਗੂਗਲ, ਫੋਰਡ ਮੋਟਰਜ਼, ਹੁੰਡਈ ਆਦਿ।

(ii) **ਵਿਦੇਸ਼ੀ ਸਹਿਯੋਗ:** ਇਹ ਉਤਪਾਦਨ ਇਕਾਈਆਂ ਹਨ ਜਿਨ੍ਹਾਂ ਵਿੱਚ ਵਿਦੇਸ਼ੀ ਅਤੇ ਘਰੇਲੂ ਉੱਦਮੀ ਸਾਂਝੇ ਤੌਰ 'ਤੇ ਹਿੱਸਾ ਲੈਂਦੇ ਹਨ। ਅਜਿਹੀਆਂ ਉਤਪਾਦਨ ਇਕਾਈਆਂ ਅੰਸ਼ਕ ਤੌਰ 'ਤੇ ਦੇਸ਼ੀ ਅਤੇ ਅੰਸ਼ਕ ਤੌਰ 'ਤੇ ਵਿਦੇਸ਼ੀ ਹਨ। ਜੇਕਰ ਇਸਦੀ ਕੁੱਲ ਪੂੰਜੀ ਦਾ 50% ਤੋਂ ਵੱਧ ਵਿਦੇਸ਼ੀ ਜਾਂ ਗੈਰ-ਨਿਵਾਸੀਆਂ ਦੁਆਰਾ ਯੋਗਦਾਨ ਪਾਇਆ ਜਾਂਦਾ ਹੈ ਤਾਂ ਇਹਨਾਂ ਨੂੰ ਮਲਕੀਅਤ ਦੇ ਰੂਪ ਵਿੱਚ ਵਿਦੇਸ਼ੀ ਉਤਪਾਦਨ ਇਕਾਈਆਂ ਮੰਨਿਆ ਜਾਂਦਾ ਹੈ। ਵਿਦੇਸ਼ੀ ਕੰਪਨੀ ਦੇ ਨਾਲ ਭਾਰਤੀ ਕੰਪਨੀ ਦੇ ਸਹਿਯੋਗ ਦੀ ਇੱਕ ਵਧੀਆ ਉਦਾਹਰਣ - ਮਾਰੂਤੀ-ਸੁਜੁਕੀ ਲਿਮਟਿਡ ਹੈ।

ਪਾਠ ਅਧੀਨ ਪ੍ਰਸ਼ਨ 7.7

ਸਹੀ ਜਵਾਬਾਂ 'ਤੇ ਨਿਸ਼ਾਨ ਲਗਾਓ (✓)

- ਇਕੱਲੇ ਵਿਅਕਤੀ ਦੀ ਮਲਕੀਅਤ ਵਾਲੀ ਉਤਪਾਦਨ ਇਕਾਈ, ਇਸ ਵਜੋਂ ਜਾਣੀ ਜਾਂਦੀ ਹੈ:

(ੳ) ਭਾਈਵਾਲੀ	(ਅ) ਪ੍ਰਾਈਵੇਟ ਕੰਪਨੀ
(ੲ) ਇਕੱਲੀ ਮਲਕੀਅਤ	(ਸ) ਜਨਤਕ ਉਤਪਾਦਨ ਯੂਨਿਟ
- ਇੱਕ ਸਾਂਝੇਦਾਰੀ ਵਿੱਚ ਭਾਈਵਾਲਾਂ ਦੀ ਵੱਧ ਤੋਂ ਵੱਧ ਸੰਖਿਆ ਹੈ:

(ੳ) 5	(ਅ) 10
(ੲ) 15	(ਸ) 20
- ਭਾਰਤੀ ਰੇਲਵੇ ਹੈ ਇੱਕ:

(ੳ) ਨਿੱਜੀ ਇਕਾਈ	(ਅ) ਜਨਤਕ ਇਕਾਈ
(ੲ) ਇਕੱਲੀ ਮਲਕੀਅਤ	(ਸ) ਭਾਈਵਾਲੀ
- ਇੱਕ ਸਹਿਕਾਰੀ ਸਭਾ ਵਿੱਚ ਮੈਂਬਰਾਂ ਦੀ ਘੱਟੋ-ਘੱਟ ਗਿਣਤੀ ਹੈ:

(ੳ) 20	(ਅ) 15
(ੲ) 10	(ਸ) 5

ਉਤਪਾਦਨ

5. ਇੱਕ ਜਨਤਕ ਕੰਪਨੀ ਵਿੱਚ ਸ਼ੇਅਰਧਾਰਕਾਂ ਦੀ ਵੱਧ ਤੋਂ ਵੱਧ ਸੰਖਿਆ:
- (ੳ) 10,000 (ਅ) 15,000
- (ੲ) 20,000 (ਸ) ਕੋਈ ਸੀਮਾ ਨਹੀਂ
6. ਕੰਪਨੀ ਐਕਟ 1956 ਅਧੀਨ ਸਰਕਾਰੀ ਰਜਿਸਟਰਡ ਉਤਪਾਦਨ ਇਕਾਈ ਹੈ:
- (ੳ) ਇੱਕ ਵਿਧਾਨਕ ਨਿਗਮ (ਅ) ਸਰਕਾਰੀ ਕੰਪਨੀ
- (ੲ) ਵਿਭਾਗੀ ਉੱਦਮ (ਸ) ਇਹਨਾਂ ਵਿੱਚੋਂ ਕੋਈ ਨਹੀਂ
7. ਇੱਕ ਪ੍ਰਾਈਵੇਟ ਕੰਪਨੀ ਵਿੱਚ ਮਾਲਕਾਂ ਦੀ ਘੱਟੋ-ਘੱਟ ਗਿਣਤੀ ਹੈ:
- (ੳ) 7 (ਅ) 10
- (ੲ) 2 (ਸ) 20
8. ਕਿਸ ਸਥਿਤੀ ਵਿੱਚ ਇੱਕ ਉਤਪਾਦਨ ਯੂਨਿਟ ਨੂੰ ਵਿਦੇਸ਼ੀ ਉਤਪਾਦਨ ਯੂਨਿਟ ਨਹੀਂ ਮੰਨਿਆ ਜਾਂਦਾ ਹੈ:
- (ੳ) ਸਾਰੀ ਪੂੰਜੀ ਗੈਰ-ਨਿਵਾਸੀ ਦੁਆਰਾ ਨਿਵੇਸ਼ ਕੀਤੀ ਜਾਂਦੀ ਹੈ
- (ਅ) ਕੁੱਲ ਪੂੰਜੀ ਦਾ 50% ਤੋਂ ਵੱਧ ਗੈਰ-ਨਿਵਾਸੀਆਂ ਦੁਆਰਾ ਨਿਵੇਸ਼ ਕੀਤਾ ਜਾਂਦਾ ਹੈ
- (ੲ) ਨਿਵਾਸੀਆਂ ਕੋਲ ਕੁੱਲ ਪੂੰਜੀ ਦਾ 50% ਤੋਂ ਵੱਧ ਹੈ
- (ਸ) 20% ਤੋਂ ਘੱਟ ਨਿਵੇਸ਼ ਨਿਵਾਸੀ ਦੁਆਰਾ ਕੀਤਾ ਗਿਆ ਹੈ

ਤੁਸੀਂ ਕੀ ਸਿੱਖਿਆ

- ਉਤਪਾਦਨ ਪ੍ਰਕਿਰਿਆ ਇਨਪੁੱਟਸ ਨੂੰ ਜੋੜਨ, ਉਹਨਾਂ ਦੀਆਂ ਸੇਵਾਵਾਂ ਦੀ ਵਰਤੋਂ ਕਰਨ ਅਤੇ ਵਸਤਾਂ ਅਤੇ ਸੇਵਾਵਾਂ ਦਾ ਉਤਪਾਦਨ ਕਰਨ ਦੀ ਪ੍ਰਕਿਰਿਆ ਹੈ।
- ਉੱਦਮੀ ਉਤਪਾਦਨ ਦੀਆਂ ਗਤੀਵਿਧੀਆਂ ਨੂੰ ਸੰਗਠਿਤ ਕਰਦਾ ਹੈ ਜਿਸ ਲਈ ਉਹ ਲਾਭ ਕਮਾਉਂਦਾ ਹੈ ਜਾਂ ਨੁਕਸਾਨ ਝੱਲਦਾ ਹੈ।
- ਉਤਪਾਦਨ ਦੀਆਂ ਦੋ ਕਿਸਮਾਂ ਦੀਆਂ ਤਕਨੀਕਾਂ ਹਨ (i) ਕਿਰਤ ਤੀਬਰ ਜਿਸ ਵਿੱਚ ਅਸੀਂ ਕਿਰਤ ਦੀ ਜ਼ਿਆਦਾ ਵਰਤੋਂ ਕਰਦੇ ਹਾਂ ਅਤੇ ਪੂੰਜੀ ਦੀ ਘੱਟ ਵਰਤੋਂ ਕਰਦੇ ਹਾਂ (ii)

ਮੈਂਡਿਊਲ: 3

ਵਸਤੂਆਂ ਅਤੇ ਸੇਵਾਵਾਂ ਦਾ ਉਤਪਾਦਨ ਕਰਨਾ



ਨੋਟ

ਵਸਤੂਆਂ ਅਤੇ ਸੇਵਾਵਾਂ ਦਾ ਉਤਪਾਦਨ ਕਰਨਾ



ਨੋਟ

ਪੂੰਜੀ ਦੀ ਤੀਬਰ ਵਰਤੋਂ ਜਿਸ ਵਿੱਚ ਅਸੀਂ ਪੂੰਜੀ ਦੀ ਜ਼ਿਆਦਾ ਵਰਤੋਂ ਕਰਦੇ ਹਾਂ ਅਤੇ ਕਿਰਤ ਦੀ ਘੱਟ ਵਰਤੋਂ ਕਰਦੇ ਹਾਂ।

- ਕਿਰਤ ਦੀ ਵੰਡ ਦੇ ਤਰ੍ਹਾਂ ਦੀ ਹੁੰਦੀ ਹੈ:
 - (i) ਕਿਰਤ ਦੀ ਉਤਪਾਦ ਆਧਾਰਿਤ ਵੰਡ ਜਿਸ ਵਿੱਚ ਕਰਮਚਾਰੀ ਇੱਕ ਵਸਤੂ ਦੇ ਉਤਪਾਦਨ ਵਿੱਚ ਮੁਹਾਰਤ ਰੱਖਦਾ ਹੈ
 - (ii) ਕਿਰਤ ਦੀ ਪ੍ਰਕਿਰਿਆ ਆਧਾਰਿਤ ਵੰਡ ਜਿਸ ਵਿੱਚ ਇੱਕ ਵਸਤੂ ਦੇ ਉਤਪਾਦਨ ਨੂੰ ਵੱਖ-ਵੱਖ ਪ੍ਰਕਿਰਿਆਵਾਂ ਵਿੱਚ ਵੰਡਿਆ ਜਾਂਦਾ ਹੈ ਅਤੇ ਇੱਕ ਕਰਮਚਾਰੀ ਕੇਵਲ ਇੱਕ ਜਾਂ ਦੋ ਪ੍ਰਕਿਰਿਆਵਾਂ ਵਿੱਚ ਮੁਹਾਰਤ ਰੱਖਦਾ ਹੈ।
- ਉਤਪਾਦਨ, ਉਤਪਾਦਨ ਦੇ ਸਾਰੇ ਚਾਰ ਸਾਧਨਾਂ ਦੇ ਸਾਂਝੇ ਯਤਨਾਂ ਦਾ ਨਤੀਜਾ ਹੈ

ਅਰਥਾਤ ਜ਼ਮੀਨ, ਕਿਰਤ, ਪੂੰਜੀ ਅਤੇ ਉੱਦਮਤਾ।

- ਕੁੱਲ ਉਤਪਾਦ (TP) ਕਿਸੇ ਇਨਪੁੱਟ ਦੇ ਰੁਜ਼ਗਾਰ ਦੇ ਇੱਕ ਖਾਸ ਪੱਧਰ 'ਤੇ ਕਿਸੇ ਵਸਤੂ ਦੇ ਉਤਪਾਦਨ ਦੀ ਕੁੱਲ ਮਾਤਰਾ ਨੂੰ ਦਰਸਾਉਂਦਾ ਹੈ, ਜਿਵੇਂ ਕਿ ਕਿਰਤ, ਜਦੋਂ ਹੋਰ ਸਾਰੀਆਂ ਇਨਪੁੱਟਾਂ ਦਾ ਰੁਜ਼ਗਾਰ ਬਦਲਿਆ ਨਹੀਂ ਜਾਂਦਾ ਹੈ।
- ਐਸਤ ਉਤਪਾਦ (AP) ਪ੍ਰਤੀ ਇਕਾਈ ਪਰਿਵਰਤਨਸ਼ੀਲ ਇਨਪੁੱਟ ਜਿਹੇ ਕਿਰਤ ਦਾ ਉਤਪਾਦ ਹੈ।
- ਸੀਮਾਂਤ ਉਤਪਾਦ (MP) ਨੂੰ ਕਿਰਤ ਦੀ ਇੱਕ ਵਾਧੂ ਇਕਾਈ ਨੂੰ ਜੋੜਨ ਦੇ ਨਤੀਜੇ ਵਜੋਂ ਕੁੱਲ ਉਤਪਾਦਨ-TP ਵਿੱਚ ਵਾਧੇ ਜਾਂ ਕਮੀ ਦੇ ਰੂਪ ਵਿੱਚ ਪਰਿਭਾਸ਼ਿਤ ਕੀਤਾ ਜਾ ਸਕਦਾ ਹੈ, ਬਾਕੀ ਸਾਰੇ ਇਨਪੁੱਟਸ ਨੂੰ ਬਿਨਾਂ ਕਿਸੇ ਬਦਲਾਅ ਦੇ ਰੱਖਦੇ ਹੋਏ।
- ਕਿਰਤ ਦੇ ਸੀਮਾਂਤ ਉਤਪਾਦ ਨੂੰ ਘਟਾਉਣ ਦਾ ਕਾਨੂੰਨ ਇਹ ਦੱਸਦਾ ਹੈ ਕਿ ਪਰਿਵਰਤਨਸ਼ੀਲ ਸਾਧਨ ਕਿਰਤ ਵਿੱਚ ਲਗਾਤਾਰ ਵਾਧੇ ਦੇ ਨਾਲ, ਇਸਦਾ ਸੀਮਾਂਤ ਉਤਪਾਦ ਸ਼ੁਰੂਆਤੀ ਤੌਰ 'ਤੇ ਨਿਸ਼ਚਿਤ ਬਿੰਦੂ ਤੱਕ ਪਹੁੰਚ ਜਾਵੇਗਾ, ਪਰ ਉਸ ਤੋਂ ਬਾਅਦ ਇਹ ਘਟ ਜਾਵੇਗਾ ਅਤੇ ਹੋਰ ਸਾਰੇ ਸਾਧਨਾਂ ਨੂੰ ਬਦਲਦੇ ਹੋਏ, ਨਕਾਰਾਤਮਕ ਬਣ ਸਕਦਾ ਹੈ।
- ਫਰਮ ਇੱਕ ਉਤਪਾਦਨ ਯੂਨਿਟ ਹੈ ਜੋ ਮੁਨਾਫਾ ਕਮਾਉਣ ਲਈ ਬਾਜ਼ਾਰ ਵਿੱਚ ਵਿਕਰੀ ਲਈ ਵਸਤਾਂ ਅਤੇ ਸੇਵਾਵਾਂ ਦਾ ਉਤਪਾਦਨ ਕਰਦੀ ਹੈ। ਉਦਯੋਗ ਸਾਰੀਆਂ ਫਰਮਾਂ ਦਾ

ਸਮੂਹ ਹੈ ਜੋ ਸਮਾਨ ਵਸਤਾਂ ਦਾ ਉਤਪਾਦਨ ਕਰਦੇ ਹਨ। ਦੇਸ਼ ਦੇ ਆਰਥਿਕ ਵਿਕਾਸ ਲਈ ਫਰਮਾਂ ਅਤੇ ਉਦਯੋਗ ਦੋਵੇਂ ਬਹੁਤ ਮਹੱਤਵਪੂਰਨ ਹਨ।

- ਮਾਲਕੀ ਦੇ ਆਧਾਰ 'ਤੇ ਉਤਪਾਦਨ ਇਕਾਈਆਂ ਨੂੰ ਦੇਸੀ ਅਤੇ ਵਿਦੇਸ਼ੀ ਉਤਪਾਦਨ ਇਕਾਈਆਂ ਵਿੱਚ ਸ਼੍ਰੇਣੀਬੱਧ ਕੀਤਾ ਗਿਆ ਹੈ। ਸਵਦੇਸ਼ੀ ਇਕਾਈਆਂ ਦੇਸ਼ ਦੇ ਵਸਨੀਕਾਂ ਦੀ ਮਲਕੀਅਤ ਹਨ ਅਤੇ ਵਿਦੇਸ਼ੀ ਇਕਾਈਆਂ ਗੈਰ-ਨਿਵਾਸੀਆਂ ਦੀ ਮਲਕੀਅਤ ਹਨ।
- ਸਵਦੇਸ਼ੀ ਇਕਾਈਆਂ ਨੂੰ ਅੱਗੇ ਨਿੱਜੀ ਅਤੇ ਜਨਤਕ ਖੇਤਰ ਦੀਆਂ ਉਤਪਾਦਨ ਇਕਾਈਆਂ ਵਿੱਚ ਸ਼੍ਰੇਣੀਬੱਧ ਕੀਤਾ ਗਿਆ ਹੈ। ਨਿੱਜੀ ਇਕਾਈਆਂ ਨਿੱਜੀ ਵਿਅਕਤੀਆਂ ਅਤੇ ਸੰਸਥਾਵਾਂ ਦੀ ਮਲਕੀਅਤ ਹਨ। ਜਨਤਕ ਖੇਤਰ ਦੀਆਂ ਇਕਾਈਆਂ ਸਰਕਾਰ ਦੀ ਮਲਕੀਅਤ ਹਨ।
- ਨਿੱਜੀ ਖੇਤਰ ਦੀਆਂ ਇਕਾਈਆਂ ਨੂੰ (i) ਇਕੱਲੀ ਮਲਕੀਅਤ (ii) ਭਾਈਵਾਲੀ (iii) ਕੰਪਨੀ ਅਤੇ (iv) ਸਹਿਕਾਰੀ ਸਭਾਵਾਂ (v) ਨਿੱਜੀ ਗੈਰ-ਮੁਨਾਫ਼ਾਕਾਰੀ ਸੰਗਠਨ ਵਿੱਚ ਸ਼੍ਰੇਣੀਬੱਧ ਕੀਤਾ ਗਿਆ ਹੈ।
- ਕੰਪਨੀ ਐਕਟ 1956 ਤਹਿਤ ਇੱਕ ਕੰਪਨੀ ਬਣਾਈ ਗਈ ਹੈ। ਇੱਕ ਕੰਪਨੀ ਵਿੱਚ ਮਾਲਕਾਂ ਦੀ ਘੱਟੋ ਘੱਟ ਸੰਖਿਆ 7 ਹੈ। ਕੋਈ ਵੱਧ ਤੋਂ ਵੱਧ ਸੀਮਾ ਨਹੀਂ ਹੈ।
- ਕੋ-ਆਪਰੇਟਿਵ ਸੁਸਾਇਟੀ ਐਕਟ 1912 ਤਹਿਤ ਇੱਕ ਸਹਿਕਾਰੀ ਸਭਾ ਬਣਾਈ ਗਈ ਹੈ। ਸ਼ੇਅਰਧਾਰਕਾਂ ਦੀ ਘੱਟੋ-ਘੱਟ ਸੰਖਿਆ 10 ਹੈ। ਕੋਈ ਵੱਧ ਤੋਂ ਵੱਧ ਸੀਮਾ ਨਹੀਂ ਹੈ।
- ਸਰਕਾਰੀ ਉਤਪਾਦਨ ਇਕਾਈ ਨੂੰ (i) ਵਿਭਾਗੀ ਅਤੇ (ii) ਗੈਰ-ਵਿਭਾਗੀ ਉੱਦਮਾਂ ਵਿੱਚ ਸ਼੍ਰੇਣੀਬੱਧ ਕੀਤਾ ਗਿਆ ਹੈ। ਵਿਭਾਗੀ ਉੱਦਮ ਕੁਝ ਮੰਤਰਾਲਿਆਂ ਦੇ ਸਿੱਧੇ ਨਿਯੰਤਰਣ ਅਧੀਨ ਹਨ। ਗੈਰ-ਵਿਭਾਗੀ ਉੱਦਮ ਖੁਦਮੁਖਤਿਆਰ ਹੁੰਦੇ ਹਨ ਜੋ ਜਨਤਕ ਖੇਤਰ ਦੇ ਅੰਡਰਟੇਕਿੰਗ ਕਾਰਪੋਰੇਸ਼ਨ ਵਜੋਂ ਜਾਣੇ ਜਾਂਦੇ ਹਨ।
- ਵਿਦੇਸ਼ੀਆਂ ਦੀ ਮਲਕੀਅਤ ਵਾਲੀਆਂ ਉਤਪਾਦਨ ਇਕਾਈਆਂ ਨੂੰ ਵਿਦੇਸ਼ੀ ਉਤਪਾਦਨ ਇਕਾਈਆਂ ਕਿਹਾ ਜਾਂਦਾ ਹੈ। ਕੁਝ ਬਹੁ-ਰਾਸ਼ਟਰੀ ਕੰਪਨੀਆਂ ਹਨ ਅਤੇ ਕੁਝ ਵਿਦੇਸ਼ੀ ਸਹਿਯੋਗ ਨਾਲ ਹਨ। ਬਹੁ-ਰਾਸ਼ਟਰੀ ਕੰਪਨੀ ਦਾ ਇੱਕ ਦੇਸ਼ ਵਿੱਚ ਮੁੱਖ ਦਫਤਰ ਹੈ ਪਰ ਕਈ ਦੇਸ਼ਾਂ ਵਿੱਚ ਇਸ ਦੀਆਂ ਉਤਪਾਦਨ ਇਕਾਈਆਂ ਹਨ। ਵਿਦੇਸ਼ੀ ਸਹਿਯੋਗ ਸਾਂਝੇ ਤੌਰ 'ਤੇ ਨਿਵਾਸੀਆਂ ਅਤੇ ਗੈਰ-ਨਿਵਾਸੀਆਂ ਦੀ ਮਲਕੀਅਤ ਹਨ।

ਮੈਂਡਿਊਲ: 3

ਵਸਤੂਆਂ ਅਤੇ ਸੇਵਾਵਾਂ ਦਾ ਉਤਪਾਦਨ ਕਰਨਾ



ਨੋਟ

ਵਸਤੂਆਂ ਅਤੇ ਸੇਵਾਵਾਂ ਦਾ
ਉਤਪਾਦਨ ਕਰਨਾ



ਨੋਟ

ਪਾਠ ਦੇ ਅੰਤ 'ਤੇ ਪ੍ਰਸ਼ਨ

1. ਉਤਪਾਦਨ ਪ੍ਰਕਿਰਿਆ ਨੂੰ ਪਰਿਭਾਸ਼ਿਤ ਕਰੋ।
2. ਇੱਕ ਉਦਯੋਗਪਤੀ ਇੱਕ ਉਤਪਾਦਨ ਇਕਾਈ ਨੂੰ ਕਿਵੇਂ ਸੰਗਠਿਤ ਕਰਦਾ ਹੈ?
3. ਉਤਪਾਦਨ ਦੀ ਕਿਰਤ ਦੀ ਤੀਬਰ ਅਤੇ ਪੂੰਜੀ ਦੀ ਤੀਬਰ ਤਕਨਾਲੋਜੀ ਦੇ ਵਿਚਕਾਰ ਅੰਤਰ ਦੱਸੋ।
4. ਉਤਪਾਦ ਆਧਾਰਿਤ ਅਤੇ ਕਿਰਤ ਦੀ ਪ੍ਰਕਿਰਿਆ ਆਧਾਰਿਤ ਵੰਡ ਵਿਚਕਾਰ ਫਰਕ ਕਰੋ।
5. ਦੇਸੀ ਉਤਪਾਦਨ ਇਕਾਈਆਂ ਅਤੇ ਵਿਦੇਸ਼ੀ ਉਤਪਾਦਨ ਇਕਾਈਆਂ ਵਿਚਕਾਰ ਫਰਕ ਕਰੋ।
6. ਨਿੱਜੀ ਖੇਤਰ ਅਤੇ ਜਨਤਕ ਖੇਤਰ ਦੀਆਂ ਉਤਪਾਦਨ ਇਕਾਈਆਂ ਵਿਚਕਾਰ ਫਰਕ ਕਰੋ।
7. ਇਕੱਲੀ ਮਲਕੀਅਤ ਅਤੇ ਭਾਈਵਾਲੀ ਵਿਚਕਾਰ ਅੰਤਰ ਕਰੋ।
8. ਇੱਕ ਕੰਪਨੀ ਅਤੇ ਸਹਿਕਾਰੀ ਸੁਸਾਇਟੀ ਵਿੱਚ ਫਰਕ ਦੱਸੋ।
9. ਵਿਭਾਗੀ ਅਤੇ ਗੈਰ-ਵਿਭਾਗੀ ਉੱਦਮਾਂ ਵਿਚਕਾਰ ਕੀ ਫਰਕ ਹੈ।
10. ਖੁਦਮੁਖਤਿਆਰ ਕਾਰਪੋਰੇਸ਼ਨਾਂ ਅਤੇ ਸਰਕਾਰੀ ਕੰਪਨੀਆਂ ਵਿਚਕਾਰ ਫਰਕ ਦੱਸੋ।
11. ਬਹੁ-ਰਾਸ਼ਟਰੀ ਅਤੇ ਸਹਿਯੋਗ ਵਿਚਕਾਰ ਫਰਕ ਕਰੋ।
12. ਫਰਮ ਅਤੇ ਉਦਯੋਗ ਵਿੱਚ ਫਰਕ ਕਰੋ।
13. ਫਰਮਾਂ ਅਤੇ ਉਦਯੋਗਾਂ ਦੀ ਭੂਮਿਕਾ ਅਤੇ ਮਹੱਤਤਾ ਦੀ ਵਿਆਖਿਆ ਕਰੋ।

ਪਾਠ ਅਧੀਨ ਪ੍ਰਸ਼ਨਾਂ ਦੇ ਉੱਤਰ

ਪ੍ਰਾਠ ਅਧੀਨ ਪ੍ਰਸ਼ਨ 7.1 ਦੇ ਉੱਤਰ

1. ਉਤਪਾਦਨ ਵਿੱਚ ਵਰਤੇ ਜਾਣ ਵਾਲੇ ਸਰੋਤਾਂ ਨੂੰ ਇਨਪੁੱਟ ਕਿਹਾ ਜਾਂਦਾ ਹੈ।
2. ਇਨਪੁੱਟ ਦੀ ਵਰਤੋਂ ਕਰਕੇ ਪੈਦਾ ਕੀਤੀਆਂ ਵਸਤਾਂ ਅਤੇ ਸੇਵਾਵਾਂ ਨੂੰ ਆਉਟਪੁੱਟ ਕਿਹਾ ਜਾਂਦਾ ਹੈ।

ਉਤਪਾਦਨ

- ਉਤਪਾਦਨ ਕਾਰਜ ਨੂੰ ਇੱਕ ਫਰਮ ਦੇ ਇਨਪੁੱਟਸ ਅਤੇ ਆਉਟਪੁੱਟ ਵਿਚਕਾਰ ਤਕਨੀਕੀ ਸਬੰਧ ਵਜੋਂ ਪਰਿਭਾਸ਼ਿਤ ਕੀਤਾ ਗਿਆ ਹੈ।

ਪਾਠ ਅਧੀਨ ਪ੍ਰਸ਼ਨ 7.2 ਦੇ ਉੱਤਰ

- ਸਾਡੀ ਵਸਤੂ ਦੇ ਉਤਪਾਦਨ ਵਿੱਚ ਕਿਰਤ ਦੀ ਵੱਧ ਵਰਤੋਂ ਅਤੇ ਉਤਪਾਦਨ ਦੀ ਪ੍ਰਤੀ ਇਕਾਈ ਪੂੰਜੀ ਦੀ ਘੱਟ ਵਰਤੋਂ ਨੂੰ ਕਿਰਤ ਤੀਬਰ ਤਕਨਾਲੋਜੀ ਕਿਹਾ ਜਾਂਦਾ ਹੈ।
- ਸਾਡੀ ਵਸਤੂ ਦੇ ਉਤਪਾਦਨ ਵਿੱਚ ਪੂੰਜੀ ਦੀ ਵੱਧ ਵਰਤੋਂ ਅਤੇ ਉਤਪਾਦਨ ਦੀ ਪ੍ਰਤੀ ਇਕਾਈ ਮਜ਼ਦੂਰੀ ਦੀ ਘੱਟ ਵਰਤੋਂ ਨੂੰ ਉਤਪਾਦਨ ਦੀ ਪੂੰਜੀ ਤੀਬਰ ਤਕਨਾਲੋਜੀ ਕਿਹਾ ਜਾਂਦਾ ਹੈ।
- ਉਤਪਾਦ ਆਧਾਰਿਤ- ਘੜਾ ਬਣਾਉਣਾ; ਪ੍ਰਕਿਰਿਆ ਆਧਾਰਿਤ - ਡਬਲ ਰੇਟੀ ਬਣਾਉਣੀ

ਪਾਠ ਅਧੀਨ ਪ੍ਰਸ਼ਨ 7.3 ਦੇ ਉੱਤਰ

- ਸੀਮਾਂਤ ਉਤਪਾਦ ਨੂੰ ਬਾਕੀ ਇਨਪੁੱਟਸ ਤੋਂ ਅਪਰਿਵਰਤਨਸ਼ੀਲ ਰੱਖਦੇ ਹੋਏ, ਕਿਰਤ ਦੀ ਇੱਕ ਇਕਾਈ ਦੇ ਪਰਿਵਰਤਨ ਕਰਨ 'ਤੇ ਕੁੱਲ ਉਤਪਾਦ ਵਿੱਚ ਹੋਣ ਵਾਲੇ ਵਾਧੇ ਜਾਂ ਘਾਟੇ ਦੇ ਰੂਪ ਵਿੱਚ ਪਰਿਭਾਸ਼ਿਤ ਕੀਤਾ ਜਾ ਸਕਦਾ ਹੈ।

ਕਿਰਤ ਦੀਆਂ ਇਕਾਈਆਂ	ਕੁੱਲ ਉਤਪਾਦ	ਸੀਮਾਂਤ ਉਤਪਾਦ	ਐਸਤ ਉਤਪਾਦ
0	0	-	-
1	10	10	10
2	18	8	9
3	24	6	8
4	28	4	7
5	30	2	6
6	24	-6	4

ਪਾਠ ਅਧੀਨ ਪ੍ਰਸ਼ਨ 7.4 ਦੇ ਉੱਤਰ

- ਸੀਮਾਂਤ ਉਤਪਾਦ ਨੂੰ ਘਟਾਉਣ ਦੇ ਨਿਯਮ ਦੇ ਅਨੁਸਾਰ, ਪਰਿਵਰਤਨਸ਼ੀਲ ਸਾਧਨਾਂ ਵਿੱਚ ਲਗਾਤਾਰ ਵਾਧੇ ਦੇ ਨਾਲ, ਸੀਮਾਂਤ ਉਤਪਾਦ ਸ਼ੁਰੂ ਵਿੱਚ ਨਿਸ਼ਚਿਤ ਬਿੰਦੂ ਤੱਕ ਪਹੁੰਚ ਜਾਵੇਗਾ, ਪਰ ਉਸ ਤੋਂ ਬਾਅਦ ਇਹ ਘਟੇਗਾ ਅਤੇ ਨੈਗੇਟਿਵ ਬਣ ਸਕਦਾ ਹੈ, ਬਾਕੀ ਸਾਰੇ ਸਾਧਨਾਂ ਨੂੰ ਅਪਰਿਵਰਤਨਸ਼ੀਲ ਰੱਖਿਆ ਜਾਵੇਗਾ।

ਮੌਡਿਊਲ: 3

ਵਸਤੂਆਂ ਅਤੇ ਸੇਵਾਵਾਂ ਦਾ ਉਤਪਾਦਨ ਕਰਨਾ



ਨੋਟ

ਮੌਡਿਊਲ: 3

ਵਸਤੂਆਂ ਅਤੇ ਸੇਵਾਵਾਂ ਦਾ
ਉਤਪਾਦਨ ਕਰਨਾ



ਨੋਟ

2. ਕੁੱਲ ਉਤਪਾਦ ਵੱਧ ਤੋਂ ਵੱਧ ਹੈ।
3. ਜਦੋਂ ਸੀਮਾਂਤ ਉਤਪਾਦ ਨਕਾਰਾਤਮਕ ਬਣ ਜਾਂਦਾ ਹੈ।

ਪਾਠ ਅਧੀਨ ਪ੍ਰਸ਼ਨ 7.5 ਦੇ ਉੱਤਰ

1. ਇਨਪੁੱਟਸ ਪ੍ਰਾਪਤ ਕਰਨ, ਉਹਨਾਂ ਦੀਆਂ ਸੇਵਾਵਾਂ ਦੀ ਵਰਤੋਂ ਕਰਨ ਅਤੇ ਵਸਤਾਂ ਅਤੇ ਸੇਵਾਵਾਂ ਦੇ ਉਤਪਾਦਨ ਦੀ ਪ੍ਰਕਿਰਿਆ ਨੂੰ ਉਤਪਾਦਨ ਪ੍ਰਕਿਰਿਆ ਕਿਹਾ ਜਾਂਦਾ ਹੈ।
2. ਉੱਦਮੀ।

ਪਾਠ ਅਧੀਨ ਪ੍ਰਸ਼ਨ 7.6 ਦੇ ਉੱਤਰ

1. ਕਿਸੇ ਵਸਤੂ ਦੀ ਵਿਅਕਤੀਗਤ ਉਤਪਾਦਨ ਇਕਾਈ ਨੂੰ ਫਰਮ ਕਿਹਾ ਜਾਂਦਾ ਹੈ।
2. ਉਦਯੋਗ ਇੱਕ ਸਮਾਨ ਵਸਤੂ ਦਾ ਉਤਪਾਦਨ ਕਰਨ ਵਾਲੀਆਂ ਸਾਰੀਆਂ ਫਰਮਾਂ ਦਾ ਸਮੂਹ ਹੈ।

ਪਾਠਕ੍ਰਮ ਪ੍ਰਸ਼ਨ 7.7 ਦੇ ਉੱਤਰ

- | | | | |
|--------|--------|--------|--------|
| 1. (ੲ) | 2. (ਸ) | 3. (ਅ) | 4. (ੲ) |
| 5. (ਸ) | 6. (ਅ) | 7. (ੲ) | 8. (ੲ) |

8

ਲਾਗਤ ਅਤੇ ਆਮਦਨ

ਇੱਕ ਉਤਪਾਦਕ ਨੂੰ ਵਸਤਾਂ ਜਾਂ ਸੇਵਾਵਾਂ ਪੈਦਾ ਕਰਨ ਲਈ ਬਹੁਤ ਮਿਹਨਤ ਕਰਨੀ ਪੈਂਦੀ ਹੈ। ਇਸ ਪ੍ਰਕਿਰਿਆ ਵਿਚ ਉਸ ਨੂੰ ਕਾਫੀ ਮਿਹਨਤ ਕਰਨੀ ਪੈਂਦੀ ਹੈ। ਸ਼ੁਰੂ ਵਿੱਚ, ਉਤਪਾਦਕ ਨੂੰ ਉਤਪਾਦਨ ਦੀ ਗਤੀਵਿਧੀ ਨੂੰ ਸੰਗਠਿਤ ਕਰਨ ਲਈ ਪੈਸੇ ਦਾ ਪ੍ਰਬੰਧ ਕਰਨਾ ਹੁੰਦਾ ਹੈ। ਅਸੀਂ ਪਹਿਲਾਂ ਹੀ ਕਿਹਾ ਹੈ ਕਿ ਵਸਤਾਂ ਦੇ ਉਤਪਾਦਨ ਲਈ ਜ਼ਮੀਨ, ਕਿਰਤ ਅਤੇ ਪੂੰਜੀ ਦੇ ਰੂਪ ਵਿੱਚ ਵੱਖ-ਵੱਖ ਸਾਧਨਾਂ ਦੀ ਲੋੜ ਹੁੰਦੀ ਹੈ। ਇਹ ਸਾਧਨ ਮੁਫਤ ਵਿੱਚ ਉਪਲੱਬਧ ਨਹੀਂ ਹਨ। ਉਤਪਾਦਕ ਨੂੰ ਉਹਨਾਂ ਨੂੰ ਉਤਪਾਦਨ ਲਈ ਲੋੜੀਂਦੀ ਮਾਤਰਾ ਵਿੱਚ ਖਰੀਦਣਾ ਚਾਹੀਦਾ ਹੈ। ਇਸੇ ਤਰ੍ਹਾਂ ਕੱਚਾ ਮਾਲ ਅਤੇ ਹੋਰ ਚੀਜ਼ਾਂ ਖਰੀਦ ਕੇ ਸਟੋਰ ਕਰਨੀਆਂ ਪੈਂਦੀਆਂ ਹਨ। ਇਨ੍ਹਾਂ ਚੀਜ਼ਾਂ ਨੂੰ ਖਰੀਦਣ ਲਈ, ਉਤਪਾਦਕ ਨੂੰ ਇਨ੍ਹਾਂ ਦੀ ਕੀਮਤ ਅਦਾ ਕਰਨ ਲਈ ਤਿਆਰ ਰਹਿਣਾ ਚਾਹੀਦਾ ਹੈ।

ਇੱਕ ਵਾਰ ਵਸਤਾਂ ਜਾਂ ਸੇਵਾਵਾਂ ਦਾ ਉਤਪਾਦਨ ਹੋਣ ਤੋਂ ਬਾਅਦ, ਉਤਪਾਦਕ ਉਹਨਾਂ ਨੂੰ ਬਾਜ਼ਾਰ ਵਿੱਚ ਵੱਖ-ਵੱਖ ਖਪਤਕਾਰਾਂ ਨੂੰ ਵੇਚਦਾ ਹੈ। ਇਸ ਸਮੇਂ, ਖਪਤਕਾਰ ਵਸਤਾਂ ਅਤੇ ਸੇਵਾਵਾਂ ਨੂੰ ਖਰੀਦਣ ਲਈ ਉਤਪਾਦਕ ਨੂੰ ਕੀਮਤ ਅਦਾ ਕਰਦੇ ਹਨ। ਇਸ ਨਾਲ ਨਿਰਮਾਤਾ ਨੂੰ ਪੈਸਾ ਕਮਾਉਣਾ ਸ਼ੁਰੂ ਹੋ ਜਾਂਦਾ ਹੈ। ਇਸ ਲਈ, ਵਸਤਾਂ ਅਤੇ ਸੇਵਾਵਾਂ ਦਾ ਉਤਪਾਦਨ ਕਰਨ ਲਈ, ਉਤਪਾਦਕ ਪਹਿਲਾਂ ਉਤਪਾਦਨ ਦੇ ਸਾਧਨਾਂ ਨੂੰ ਖਰੀਦਣ ਲਈ ਖਰਚ ਕਰਦਾ ਹੈ ਅਤੇ ਫਿਰ ਉਹਨਾਂ ਚੀਜ਼ਾਂ ਅਤੇ ਸੇਵਾਵਾਂ ਨੂੰ ਵੇਚ ਕੇ ਖਪਤਕਾਰਾਂ ਤੋਂ ਪੈਸੇ ਪ੍ਰਾਪਤ ਕਰਦਾ ਹੈ।

ਉਦੇਸ਼

ਇਸ ਪਾਠ ਨੂੰ ਪੂਰਾ ਕਰਨ ਤੋਂ ਬਾਅਦ, ਤੁਸੀਂ ਯੋਗ ਹੋਵੋਗੇ:

- ਵੱਖ-ਵੱਖ ਕਿਸਮਾਂ ਦੀਆਂ ਲਾਗਤਾਂ ਨੂੰ ਜਾਣੋਗੇ;
- ਵੱਖ-ਵੱਖ ਕਿਸਮਾਂ ਦੀ ਲਾਗਤ ਦੀ ਗਣਨਾ ਕਰੋਗੇ;
- ਮਾਲੀਏ ਦੀ ਧਾਰਨਾ ਨੂੰ ਜਾਣ ਸਕੋਗੇ।

ਮੌਡਿਊਲ: 3

ਵਸਤੂਆਂ ਅਤੇ ਸੇਵਾਵਾਂ ਦਾ
ਉਤਪਾਦਨ ਕਰਨਾ



ਨੋਟ

ਵਸਤੂਆਂ ਅਤੇ ਸੇਵਾਵਾਂ ਦਾ
ਉਤਪਾਦਨ ਕਰਨਾ



ਨੋਟ

8.1 ਲਾਗਤ ਦਾ ਅਰਥ

ਲਾਗਤ ਦੇ ਅਰਥ ਨੂੰ ਸਮਝਣ ਲਈ ਆਉ ਇੱਕ ਕਿਸਾਨ ਦੀ ਉਦਾਹਰਨ ਲਈਏ ਜੋ ਚਾਵਲ/ਝੋਨਾ ਪੈਦਾ ਕਰ ਰਿਹਾ ਹੈ। ਤੁਸੀਂ ਜਾਣਦੇ ਹੋ ਕਿ, ਆਮ ਤੌਰ 'ਤੇ ਚਾਵਲ ਪੈਦਾ ਕਰਨ ਲਈ 5 ਤੋਂ 6 ਮਹੀਨੇ ਲੱਗ ਜਾਂਦੇ ਹਨ। ਚਾਵਲਾਂ ਦੇ ਉਤਪਾਦਨ ਵਿੱਚ ਹੇਠ ਲਿਖੇ ਕੰਮ ਸ਼ਾਮਲ ਹੁੰਦੇ ਹਨ:

- (i) ਖੇਤੀ ਲਈ ਜ਼ਮੀਨ ਪ੍ਰਾਪਤ ਕਰਨਾ
- (ii) ਜ਼ਮੀਨ ਨੂੰ ਤਿਆਰ ਕਰਨ ਅਤੇ ਇਸ ਨੂੰ ਫਸਲ ਉਗਾਉਣ ਲਈ ਢੁਕਵੀਂ ਬਣਾਉਣ ਲਈ ਮਜ਼ਦੂਰੀ ਦੀ ਵਰਤੋਂ ਕਰਨਾ। ਇਸ ਵਿੱਚ ਖੇਤ ਦੀ ਵਹਾਈ, ਬੀਜ ਬੀਜਣਾ, ਖਾਦ ਪਾਉਣਾ ਅਤੇ ਜ਼ਮੀਨ ਦੀ ਸਿੰਚਾਈ ਅਤੇ ਅੰਤ ਵਿੱਚ ਵਾਢੀ ਸ਼ਾਮਲ ਹੈ।
- (iii) ਗੋਦਾਮ/ਮੰਡੀ ਤੱਕ ਚਾਵਲਾਂ ਦੀ ਢੇਆ-ਢੁਆਈ।

ਕਿਸਾਨ ਨੂੰ ਜ਼ਮੀਨ ਕਿਵੇਂ ਮਿਲਦੀ ਹੈ? ਹੋ ਸਕਦਾ ਹੈ ਕਿ ਕਿਸਾਨ ਕੋਲ ਜੱਦੀ ਜ਼ਮੀਨ ਹੋਵੇ। ਨਹੀਂ ਤਾਂ ਉਸ ਨੂੰ ਠੇਕੇ 'ਤੇ ਦੂਜਿਆਂ ਤੋਂ ਜ਼ਮੀਨ ਲੈਣੀ ਪੈਂਦੀ ਹੈ। ਉਸ ਕੋਲ ਬਹੁਤ ਭਾਰੀ ਰਕਮ ਅਦਾ ਕਰਕੇ ਜ਼ਮੀਨ ਖਰੀਦਣ ਦਾ ਵਿਕਲਪ ਵੀ ਹੋ ਸਕਦਾ ਹੈ। ਮੌਜੂਦਾ ਉਦਾਹਰਣ ਵਿੱਚ ਦੱਸ ਦੇਈਏ ਕਿ ਕਿਸਾਨ 5 ਏਕੜ ਜ਼ਮੀਨ ਠੇਕੇ 'ਤੇ ਲੈਂਦਾ ਹੈ।

ਮੰਨ ਲਓ, ਉਸ ਨੂੰ 5,000 ਰੁਪਏ ਜ਼ਮੀਨ ਦੇ ਮਾਲਕ ਨੂੰ ਪੂਰੀ ਮਿਆਦ ਲਈ ਠੇਕੇ ਦੇ ਤੌਰ 'ਤੇ ਉਹ ਇਸ ਦੀ ਵਰਤੋਂ ਕਰਦਾ ਹੈ।

ਕਿਸਾਨ ਨੂੰ 5 ਮਹੀਨੇ ਖੇਤ ਵਿੱਚ ਕੰਮ ਕਰਨ ਲਈ ਵੀ ਮਜ਼ਦੂਰਾਂ ਦੀ ਲੋੜ ਹੁੰਦੀ ਹੈ। ਦੱਸ ਦੇਈਏ ਕਿ ਕਿਸਾਨ 4 ਮਜ਼ਦੂਰਾਂ ਨੂੰ ਕੰਮ 'ਤੇ ਰੱਖਦਾ ਹੈ। ਪਹਿਲੇ ਦੋ ਮਹੀਨਿਆਂ ਵਿੱਚ ਉਹ ਮਜ਼ਦੂਰਾਂ ਦੀ ਵਰਤੋਂ ਖੇਤ ਦੀ ਵਹਾਈ, ਬੀਜ ਬੀਜਣ, ਬੂਟਿਆਂ ਦੀ ਢੇਆ-ਢੁਆਈ ਅਤੇ ਹੱਥਾਂ ਨਾਲ ਬੀਜਣ, ਖਾਦ ਪਾਉਣ ਅਤੇ ਖੇਤ ਦੀ ਸਿੰਚਾਈ ਕਰਨ ਲਈ ਕਰਦਾ ਹੈ। ਇੱਕ ਮਜ਼ਦੂਰ ਨੂੰ ਕੰਮ 'ਤੇ ਰੱਖਣ ਲਈ ਕਿਸਾਨ ਨੂੰ ਮਜ਼ਦੂਰੀ ਅਦਾ ਕਰਨੀ ਪਵੇਗੀ। ਬਾਜ਼ਾਰ ਵਿੱਚ ਔਸਤਨ ਪ੍ਰਚੱਲਿਤ ਮਜ਼ਦੂਰੀ ਦੀ ਦਰ 75 ਰੁਪਏ ਪ੍ਰਤੀ ਕਰਮਚਾਰੀ ਪ੍ਰਤੀ ਦਿਨ ਹੈ। ਕਿਸਾਨ ਨੇ ਖੜੀ ਫਸਲ ਦੀ

ਦੇਖ-ਭਾਲ ਲਈ ਦੋ ਮਹੀਨੇ ਲਈ ਸਿਰਫ਼ ਦੋ ਮਜ਼ਦੂਰ ਕੰਮ 'ਤੇ ਲਾਏ। ਜਦੋਂ ਵਾਢੀ ਦਾ ਸੀਜ਼ਨ ਆਉਂਦਾ ਹੈ ਤਾਂ ਉਹ ਦੁਬਾਰਾ 4 ਮਜ਼ਦੂਰ 15 ਦਿਨਾਂ ਲਈ ਕੰਮ 'ਤੇ ਰੱਖਦਾ ਹੈ। ਕਿਸਾਨ ਵੱਲੋਂ ਮਜ਼ਦੂਰਾਂ ਨੂੰ ਕੁੱਲ ਕਿੰਨੀ ਰਕਮ ਅਦਾ ਕੀਤੀ ਜਾਂਦੀ ਹੈ? ਪਹਿਲਾਂ 4 ਮਜ਼ਦੂਰ ਦੋ ਮਹੀਨੇ ਜਾਂ ਸੱਠ

ਲਾਗਤ ਅਤੇ ਆਮਦਨ

ਦਿਨ ਕੰਮ ਕਰਦੇ ਹਨ। ਇਸ ਲਈ 75 ਰੁਪਏ 'ਤੇ ਪ੍ਰਤੀ ਮਜ਼ਦੂਰ ਇਹ $75 \times 4 \times 60 = 18,000$ ਰੁਪਏ ਬਣਦਾ ਹੈ। ਫਿਰ ਦੋ ਮਜ਼ਦੂਰ ਦੇ ਮਹੀਨੇ ਕੰਮ ਕਰਦੇ ਹਨ। ਇਹ $75 \times 2 \times 60 = 9000$ ਰੁਪਏ ਹੋਏ। ਆਖਰਕਾਰ 4 ਮਜ਼ਦੂਰਾਂ ਨੇ 15 ਦਿਨ ਕੰਮ ਕੀਤਾ। ਇਹ $75 \times 4 \times 15 = 4,500$ ਰੁਪਏ ਬਣਦਾ ਹੈ। ਮਜ਼ਦੂਰਾਂ ਨੂੰ ਦਿੱਤੇ ਗਏ ਕੁੱਲ ਪੈਸੇ $18,000 + 9,000 + 4,500 = 31,500$ ਰੁਪਏ ਹੋਏ।

ਫਸਲ ਉਗਾਉਣ ਲਈ ਕਿਸਾਨ ਕੁਝ ਕੱਚੇ ਮਾਲ ਜਿਵੇਂ ਕਿ ਬੀਜ, ਪਾਣੀ, ਖਾਦ, ਕੀੜੇਮਾਰ ਦਵਾਈਆਂ ਆਦਿ ਦੀ ਵਰਤੋਂ ਕਰਦਾ ਹੈ। ਮੰਨ ਲਓ, ਉਹ ਇਸ 'ਤੇ 3,000 ਰੁਪਏ ਖਰਚਾ ਕਰਦਾ ਹੈ, ਉਹ ਟਰੈਕਟਰ ਵੀ ਵਰਤਦਾ ਹੈ ਜਿਸ ਲਈ ਉਸ ਨੇ 2500 ਰੁਪਏ ਅਦਾ ਕੀਤੇ। ਵਾਢੀ ਤੋਂ ਬਾਅਦ ਕਿਸਾਨ 30 ਕੁਇੰਟਲ ਚਾਵਲਾਂ ਦੀ ਪੈਦਾਵਾਰ ਕਰਦਾ ਹੈ।

ਹੁਣ, ਕਿਸਾਨ ਦੁਆਰਾ ਝੋਨੇ ਦੀ ਪੈਦਾਵਾਰ ਲਈ ਖਰਚੇ ਗਏ ਕੁੱਲ ਪੈਸੇ ਦਾ ਹਿਸਾਬ ਲਗਾਓ? ਅਸੀਂ ਇਸ ਨੂੰ ਹੇਠ ਲਿਖੇ ਤਰੀਕੇ ਨਾਲ ਕਰ ਸਕਦੇ ਹਾਂ।

ਵਸਤਾਂ	ਖਰਚਾ (ਰੁ.)
ਜ਼ਮੀਨ ਮਾਲਕ ਨੂੰ ਅਦਾ ਕੀਤੀ ਠੇਕੇ ਦੀ ਰਕਮ	5,000 ਰੁਪਏ
ਮਜ਼ਦੂਰਾਂ ਨੂੰ ਅਦਾ ਕੀਤੀ ਮਜ਼ਦੂਰੀ	31,500 ਰੁਪਏ
ਕੱਚਾ ਮਾਲ	3,000 ਰੁਪਏ
ਟਰੈਕਟਰ ਲਈ ਕਿਰਾਇਆ	2,500 ਰੁਪਏ
ਕੁੱਲ	42,000 ਰੁਪਏ

ਅਸੀਂ ਕਹਿ ਸਕਦੇ ਹਾਂ ਕਿ ਕਿਸਾਨ ਨੇ 30 ਕੁਇੰਟਲ ਚਾਵਲ ਪੈਦਾ ਕਰਨ ਲਈ 42,000 ਰੁਪਏ ਖਰਚ ਕੀਤੇ।

ਲਾਗਤ ਦੀ ਪਰਿਭਾਸ਼ਾ

ਲਾਗਤ ਨੂੰ ਉਤਪਾਦਕ ਦੁਆਰਾ ਵਸਤਾਂ ਅਤੇ ਸੇਵਾਵਾਂ ਦੇ ਉਤਪਾਦਨ ਲਈ ਉਤਪਾਦਨ ਅਤੇ ਕੱਚੇ ਮਾਲ ਦੇ ਸਾਧਨਾਂ ਨੂੰ ਖਰੀਦਣ (ਜਾਂ ਕਿਰਾਏ 'ਤੇ) ਲਈ ਕੀਤੇ ਗਏ ਪੈਸੇ ਦੇ ਖਰਚੇ ਵਜੋਂ ਪਰਿਭਾਸ਼ਿਤ ਕੀਤਾ ਜਾਂਦਾ ਹੈ।

ਇੱਕ ਤਰ੍ਹਾਂ ਨਾਲ, ਲਾਗਤ ਉਤਪਾਦਕ ਦੁਆਰਾ ਕੀਤੇ ਗਏ ਇੱਕ ਕਿਸਮ ਦੇ ਤਿਆਗ ਤੋਂ ਹੈ। ਇਸ ਉਦਾਹਰਨ ਵਿੱਚ, ਤਿਆਗ ਭੁਗਤਾਨ ਕਰਨ ਦੇ ਰੂਪ ਵਿੱਚ ਕੀਤਾ ਗਿਆ ਸੀ; ਜਿਵੇਂ ਕਿ ਮਜ਼ਦੂਰਾਂ

ਮੈਂਡਿਊਲ: 3

ਵਸਤੂਆਂ ਅਤੇ ਸੇਵਾਵਾਂ ਦਾ ਉਤਪਾਦਨ ਕਰਨਾ



ਨੋਟ

ਵਸਤੂਆਂ ਅਤੇ ਸੇਵਾਵਾਂ ਦਾ ਉਤਪਾਦਨ ਕਰਨਾ



ਨੋਟ

ਨੂੰ ਮਜ਼ਦੂਰੀ, ਜ਼ਮੀਨ ਅਤੇ ਟਰੈਕਟਰ ਦੀ ਵਰਤੋਂ ਲਈ ਕਿਰਾਇਆ ਅਤੇ ਕੱਚੇ ਮਾਲ 'ਤੇ ਹੋਣ ਵਾਲੇ ਖਰਚੇ ਆਦਿ।

ਪਾਠ ਅਧੀਨ ਪ੍ਰਸ਼ਨ 8.1

1. ਕਿਸਾਨ ਦੁਆਰਾ ਪੈਦਾਵਾਰ ਦੇ ਸਾਧਨਾਂ ਲਈ ਕੀਤੀਆਂ ਅਦਾਇਗੀਆਂ ਦੇ ਨਾਮ ਦੱਸੋ?
2. ਲਾਗਤ ਕੌਣ ਝੱਲਦਾ ਹੈ?

8.2 ਲਾਗਤ ਦੀਆਂ ਕਿਸਮਾਂ

ਉਪਰੋਕਤ ਉਦਾਹਰਨ ਤੋਂ ਅਸੀਂ ਹੇਠ ਲਿਖੀਆਂ ਕਿਸਮਾਂ ਦੀਆਂ ਲਾਗਤਾਂ ਵਿੱਚ ਫਰਕ ਕਰ ਸਕਦੇ ਹਾਂ।

- (ੳ) ਸਥਿਰ ਲਾਗਤ
- (ਅ) ਪਰਿਵਰਤਨਸ਼ੀਲ ਲਾਗਤ
- (ੲ) ਸਪੱਸ਼ਟ ਲਾਗਤ
- (ਸ) ਅਪ੍ਰਤੱਖ ਲਾਗਤ

ਆਓ ਆਪਾਂ ਉਨ੍ਹਾਂ ਦੀ ਇੱਕ-ਇੱਕ ਕਰਕੇ ਚਰਚਾ ਕਰੀਏ।

(ੳ) ਸਥਿਰ ਲਾਗਤ

ਉਪਰੋਕਤ ਉਦਾਹਰਨ ਵਿੱਚ, ਅਸੀਂ ਕਿਹਾ ਕਿ ਕਿਸਾਨ ਨੇ ਜ਼ਮੀਨ ਦੇ ਮਾਲਕ ਨੂੰ ਲਾਗਤ ਵਜੋਂ 5,000 ਰੁਪਏ ਦਿੱਤੇ। ਇੱਕ ਵਾਰ ਜਦੋਂ ਖੇਤੀ ਲਈ ਜ਼ਮੀਨ ਪ੍ਰਾਪਤ ਕਰ ਲਈ ਜਾਂਦੀ ਹੈ, ਤਾਂ ਕਿਸਾਨ ਨੂੰ ਇਸ ਦਾ ਕਿਰਾਇਆ ਦੇਣਾ ਪੈਂਦਾ ਹੈ, ਭਾਵੇਂ ਉਹ ਇਸ 'ਤੇ ਕੋਈ ਫਸਲ ਪੈਦਾ ਨਾ ਵੀ ਕਰੇ। ਜ਼ਮੀਨ ਵੀ ਇੱਥੇ ਪੈਦਾਵਾਰ ਦਾ ਨਿਸ਼ਚਿਤ ਸਾਧਨ ਹੈ। ਕਿਉਂਕਿ ਕਿਸਾਨ ਪੂਰੇ 5 ਏਕੜ ਜ਼ਮੀਨ 'ਤੇ ਖੇਤੀ ਕਰਦਾ ਹੈ ਜਾਂ ਨਹੀਂ, ਉਸ ਨੂੰ ਪੂਰੇ 5 ਏਕੜ ਦਾ ਕਿਰਾਇਆ ਦੇਣਾ ਪੈਂਦਾ ਹੈ। ਇਹ ਸਥਿਰ ਹੈ। ਇਸ ਲਈ ਨਿਸ਼ਚਿਤ ਲਾਗਤ ਨੂੰ ਨਿਸ਼ਚਿਤ ਸਾਧਨਾਂ/ਇਨਪੁੱਟਸ ਨੂੰ ਕਿਰਾਏ 'ਤੇ ਲੈਣ ਜਾਂ ਖਰੀਦ 'ਤੇ ਖਰਚੇ ਵਜੋਂ ਪਰਿਭਾਸ਼ਿਤ ਕੀਤਾ ਗਿਆ ਹੈ, ਜੋ ਕਿ ਲਾਜ਼ਮੀ ਹਨ ਅਤੇ ਇਸ ਦਾ ਵਸਤੂ ਜਾਂ ਸੇਵਾ ਦੇ ਉਤਪਾਦਨ ਦੀ ਮਾਤਰਾ 'ਤੇ ਨਿਰਭਰ ਨਹੀਂ ਕਰਦਾ ਹੈ। ਇਸੇ ਤਰ੍ਹਾਂ ਟਰੈਕਟਰ ਦੀ ਵਰਤੋਂ ਲਈ ਅਦਾ ਕੀਤਾ ਗਿਆ ਕਿਰਾਇਆ ਵੀ ਇੱਕ ਸਥਿਰ ਲਾਗਤ ਹੈ।

(ਅ) ਪਰਿਵਰਤਨਸ਼ੀਲ ਲਾਗਤ

ਉਪਰੋਕਤ ਉਦਾਹਰਨ ਵਿੱਚ, ਕਿਸਾਨ ਨੇ ਮਜ਼ਦੂਰਾਂ ਦੀ ਮਜ਼ਦੂਰੀ ਲਈ 31,500 ਰੁਪਏ ਅਤੇ ਕੱਚੇ ਮਾਲ ਦੀ ਖਰੀਦ ਲਈ 3000 ਰੁਪਏ ਅਦਾ ਕੀਤੇ। ਉਜਰਤ ਦਾ ਕਿੰਨਾ ਭੁਗਤਾਨ ਕੀਤਾ ਗਿਆ ਸੀ ਇਸ ਗੱਲ 'ਤੇ ਨਿਰਭਰ ਕਰਦਾ ਹੈ ਕਿ ਉਤਪਾਦਕ ਨੇ ਕਿੰਨੇ ਮਜ਼ਦੂਰਾਂ ਨੂੰ ਕੰਮ 'ਤੇ ਰੱਖਿਆ ਹੈ। ਉਤਪਾਦਨ ਦੇ ਸਾਧਨ ਵਜੋਂ ਕਿਰਤ ਨੂੰ ਬਦਲਿਆ ਜਾ ਸਕਦਾ ਹੈ। ਉਦਾਹਰਨ ਵਜੋਂ ਅਸੀਂ ਕਿਹਾ ਕਿ ਨਿਰਮਾਤਾ ਨੇ ਪਹਿਲੇ ਦੋ ਮਹੀਨਿਆਂ ਵਿੱਚ 4 ਮਜ਼ਦੂਰਾਂ ਦੀਆਂ ਸੇਵਾਵਾਂ ਲਈਆਂ ਅਤੇ ਅਗਲੇ ਦੋ ਮਹੀਨਿਆਂ ਲਈ ਸਿਰਫ਼ 2 ਮਜ਼ਦੂਰਾਂ ਦੀਆਂ ਸੇਵਾਵਾਂ ਲਈਆਂ। ਅਜਿਹਾ ਇਸ ਲਈ ਕਿਉਂਕਿ ਸ਼ੁਰੂ ਵਿੱਚ ਕੰਮ ਦੀ ਮਾਤਰਾ ਜ਼ਿਆਦਾ ਸੀ ਅਤੇ ਮਜ਼ਦੂਰਾਂ ਦੀ ਲੋੜ ਵੀ ਜ਼ਿਆਦਾ ਸੀ। ਇਸ ਅਨੁਸਾਰ ਹੋਰ ਰਕਮ ਯਾਨੀ ਕਿ 18000 ਰੁਪਏ ਅਦਾ ਕੀਤੇ ਗਏ। ਪਰ ਜਦੋਂ ਅਗਲੇ ਦੋ ਮਹੀਨਿਆਂ ਦੌਰਾਨ ਕੰਮ ਦੀ ਰਕਮ ਘੱਟ ਰਹੀ ਤਾਂ ਸਿਰਫ਼ 2 ਮਜ਼ਦੂਰ ਰੱਖੇ ਗਏ ਅਤੇ ਇਸ ਹਿਸਾਬ ਨਾਲ ਮਜ਼ਦੂਰੀ ਦਾ ਭੁਗਤਾਨ ਵੀ 9000 ਰੁਪਏ ਰਹਿ ਗਿਆ। ਇਸ ਲਈ, ਉਜਰਤਾਂ ਪ੍ਰਤੀ ਭੁਗਤਾਨ ਬਦਲਿਆ ਜਾ ਸਕਦਾ ਹੈ। ਇਸ ਲਈ ਇਸਨੂੰ ਪਰਿਵਰਤਨਸ਼ੀਲ ਲਾਗਤ ਕਿਹਾ ਜਾਂਦਾ ਹੈ। ਅਸੀਂ ਪਰਿਵਰਤਨਸ਼ੀਲ ਲਾਗਤ ਨੂੰ

ਪਰਿਵਰਤਨਸ਼ੀਲ ਸਾਧਨਾਂ/ਇਨਪੁੱਟਸ, ਜਿਵੇਂ ਕਿ ਕਿਰਤ, ਜਿਸ ਨੂੰ ਬਦਲਿਆ ਜਾ ਸਕਦਾ ਹੈ, 'ਤੇ ਖਰਚ ਵਜੋਂ ਪਰਿਭਾਸ਼ਿਤ ਕਰ ਸਕਦੇ ਹਾਂ।

(ੲ) ਸਪੱਸ਼ਟ ਲਾਗਤ

ਕਿਸਾਨ ਦੁਆਰਾ ਅਦਾ ਕੀਤਾ ਗਿਆ ਕਿਰਾਇਆ ਅਤੇ ਮਜ਼ਦੂਰੀ ਅਤੇ ਉਸ ਦੁਆਰਾ ਕੱਚੇ ਮਾਲ 'ਤੇ ਕੀਤੇ ਖਰਚੇ ਨੂੰ ਸਪੱਸ਼ਟ ਲਾਗਤ ਕਿਹਾ ਜਾਂਦਾ ਹੈ। ਸਪੱਸ਼ਟ ਲਾਗਤ ਨੂੰ ਉਤਪਾਦਕ ਦੁਆਰਾ ਉਤਪਾਦਨ ਅਤੇ ਕੱਚੇ ਮਾਲ ਆਦਿ ਦੇ ਸਥਿਰ ਅਤੇ ਪਰਿਵਰਤਨਸ਼ੀਲ ਸਾਧਨਾਂ ਆਦਿ 'ਤੇ ਕੀਤੇ ਗਏ ਪੈਸੇ ਦੇ ਖਰਚੇ ਵਜੋਂ ਪਰਿਭਾਸ਼ਿਤ ਕੀਤਾ ਜਾਂਦਾ ਹੈ। ਇਹ ਸਿੱਧੇ ਭੁਗਤਾਨ ਹਨ ਅਤੇ ਸਹੀ ਢੰਗ ਨਾਲ ਗਣਨਾ ਅਤੇ ਵੱਖਰੇ ਤੌਰ 'ਤੇ ਰਿਕਾਰਡ ਕੀਤੇ ਜਾਂਦੇ ਹਨ। ਨਿਰਮਾਤਾ ਕੋਲ ਅਜਿਹੇ ਖਰਚੇ ਦੇ ਸਬੰਧ ਵਿੱਚ ਬਿੱਲ, ਪੈਸੇ ਦੀਆਂ ਰਸੀਦਾਂ ਜਾਂ ਵਾਊਚਰ ਆਦਿ ਮੌਜੂਦ ਹੁੰਦੇ ਹਨ।

(ਸ) ਅਪ੍ਰਤੱਖ ਲਾਗਤ

ਉਤਪਾਦਨ ਅਤੇ ਕੱਚੇ ਮਾਲ ਦੀ ਖਰੀਦ ਦੇ ਸਾਧਨਾਂ ਤੋਂ ਇਲਾਵਾ, ਉਤਪਾਦਕ ਵਸਤਾਂ ਅਤੇ ਸੇਵਾਵਾਂ ਦੇ ਉਤਪਾਦਨ ਲਈ ਆਪਣੇ ਖੁਦ ਦੇ ਸਾਧਨਾਂ ਅਤੇ ਸਮੱਗਰੀਆਂ ਦੀ ਵਰਤੋਂ ਵੀ ਕਰਦਾ ਹੈ। ਇਸ ਲਈ ਉਹ ਖੁਦ ਨੂੰ ਕੋਈ ਪੈਸਾ ਨਹੀਂ ਦਿੰਦਾ। ਪਰ ਇਹ ਖਰਚਾ ਉਹ ਅਪ੍ਰਤੱਖ ਤੌਰ 'ਤੇ

ਮੌਡਿਊਲ: 3

ਵਸਤੂਆਂ ਅਤੇ ਸੇਵਾਵਾਂ ਦਾ ਉਤਪਾਦਨ ਕਰਨਾ



ਨੋਟ

ਵਸਤੂਆਂ ਅਤੇ ਸੇਵਾਵਾਂ ਦਾ ਉਤਪਾਦਨ ਕਰਨਾ



ਨੋਟ

ਝੱਲਦਾ ਹੈ। ਮੰਨ ਲਓ, ਇੱਕ ਕਿਸਾਨ ਜ਼ਮੀਨ ਦੀ ਖੇਤੀ ਕਰਨ ਲਈ ਆਪਣੇ ਟਰੈਕਟਰ ਦੀ ਵਰਤੋਂ ਕਰਦਾ ਹੈ। ਜੇਕਰ ਉਸ ਨੇ ਕਿਸੇ ਹੋਰ ਤੋਂ ਟਰੈਕਟਰ ਕਿਰਾਏ 'ਤੇ ਲਿਆ ਹੁੰਦਾ ਤਾਂ ਉਸ ਨੇ ਇਸ ਦਾ ਕਿਰਾਇਆ ਦੇਣਾ ਸੀ। ਉਸ ਹਾਲਤ ਵਿੱਚ ਇਸ ਨੂੰ ਕਿਸਾਨ ਦੀ ਸਪੱਸ਼ਟ ਲਾਗਤ ਕਿਹਾ ਜਾਣਾ ਸੀ। ਮੰਨ ਲਈਏ ਕਿ ਇੱਕ ਟਰੈਕਟਰ ਦੀਆਂ ਖਾਸ ਸੇਵਾਵਾਂ ਦੀ ਇੱਕ ਸਮੇਂ ਵਰਤੋਂ ਕਰਨ ਦਾ ਕਿਰਾਇਆ 3,000 ਰੁਪਏ ਹੈ। ਇਸ ਲਈ ਜੇਕਰ ਕਿਸਾਨ ਆਪਣਾ ਟਰੈਕਟਰ ਕਿਰਾਏ 'ਤੇ ਦੇਵੇ ਤਾਂ ਉਹ 3,000 ਰੁਪਏ ਕਮਾ ਸਕਦਾ ਹੈ। ਜੇ ਉਹ ਇਸ ਨੂੰ ਆਪਣੇ ਲਈ ਵਰਤਦਾ ਹੈ, ਤਾਂ ਉਹ 3,000 ਰੁਪਏ ਦੀ ਕੀਮਤ ਦੀ ਆਪਣੇ ਲਈ ਖਪਤ ਕਰੇਗਾ। ਇਸ ਨੂੰ ਕਿਸਾਨ ਦੀ ਅਪ੍ਰਤੱਖ ਲਾਗਤ ਕਿਹਾ ਜਾਵੇਗਾ। ਇਸ ਲਈ ਅਪ੍ਰਤੱਖ ਲਾਗਤ ਸਵੈ-ਸਪਲਾਈ ਕੀਤੇ ਸਾਧਨਾਂ ਦੀ ਲਾਗਤ ਹੈ। ਅਜਿਹੀ ਲਾਗਤ ਦੀ ਗਣਨਾ ਬਾਜ਼ਾਰ ਮੁੱਲ ਦੇ ਆਧਾਰ 'ਤੇ ਕੀਤੀ ਜਾਣੀ ਚਾਹੀਦੀ ਹੈ।

8.3 ਕੁੱਲ ਅਤੇ ਐਸਤ ਲਾਗਤ

ਕੁੱਲ ਲਾਗਤ ਕੁੱਲ ਨਿਸ਼ਚਿਤ ਲਾਗਤ ਅਤੇ ਕੁੱਲ ਪਰਿਵਰਤਨਸ਼ੀਲ ਲਾਗਤ ਦਾ ਜੋੜ ਹੈ ਜੋ ਸਪੱਸ਼ਟ ਤੌਰ 'ਤੇ ਦਿੱਤੀ ਗਈ ਹੈ। ਐਸਤ ਕੁੱਲ ਲਾਗਤ ਜਾਂ ਐਸਤ ਲਾਗਤ, ਕੁੱਲ ਲਾਗਤ ਅਤੇ ਉਤਪਾਦਨ ਦੀ ਕੁੱਲ ਮਾਤਰਾ ਦਾ ਅਨੁਪਾਤ ਹੁੰਦੀ ਹੈ। ਅਸੀਂ ਇਸ ਨੂੰ ਇਸ ਤਰ੍ਹਾਂ ਵੀ ਲਿਖ ਸਕਦੇ ਹਾਂ:

ਕੁੱਲ ਲਾਗਤ (TC) = ਕੁੱਲ ਸਥਿਰ ਲਾਗਤ + ਕੁੱਲ ਪਰਿਵਰਤਨਸ਼ੀਲ ਲਾਗਤ

ਐਸਤ ਲਾਗਤ (AC) = ਕੁੱਲ ਲਾਗਤ/ਕੁੱਲ ਆਉਟਪੁੱਟ।

ਐਸਤ ਲਾਗਤ ਆਉਟਪੁੱਟ ਦੀ ਪ੍ਰਤੀ ਇਕਾਈ ਦੀ ਲਾਗਤ ਹੈ।

ਸੀਮਾਂਤ ਲਾਗਤ (MC)

ਜੇਕਰ ਉਤਪਾਦਕ ਆਉਟਪੁੱਟ ਵਧਾਉਣਾ ਚਾਹੁੰਦਾ ਹੈ, ਤਾਂ ਉਸਨੂੰ ਵੱਧ ਮਜ਼ਦੂਰ ਲਗਾਉਣੇ ਪੈਣਗੇ। ਮਜ਼ਦੂਰਾਂ ਦੀ ਵੱਧ ਗਿਣਤੀ ਨਾਲ ਮਜ਼ਦੂਰਾਂ ਨੂੰ ਦਿੱਤੀ ਜਾਂਦੀ ਲਾਗਤ ਵਧ ਜਾਵੇਗੀ। ਨਤੀਜੇ ਵਜੋਂ ਉਤਪਾਦਨ ਦੀ ਕੁੱਲ ਲਾਗਤ ਵਧੇਗੀ। ਸੰਖੇਪ ਵਿੱਚ ਉਤਪਾਦਨ ਦੀ ਕੁੱਲ ਮਾਤਰਾ ਵਿੱਚ ਵਾਧੇ ਨਾਲ ਉਤਪਾਦਨ ਦੀ ਕੁੱਲ ਲਾਗਤ ਵਿੱਚ ਵਾਧਾ ਹੋ ਜਾਵੇਗਾ। ਇਸ ਸੰਦਰਭ ਵਿੱਚ ਸੀਮਾਂਤ ਲਾਗਤ ਨੂੰ ਉਤਪਾਦਨ ਵਿੱਚ ਇੱਕ ਵਾਧੂ ਇਕਾਈ ਵਿੱਚ ਵਾਧਾ ਕਰਨ 'ਤੇ ਕੁੱਲ ਲਾਗਤ ਵਿੱਚ ਹੋਣ ਵਾਲੇ ਵਾਧੇ ਦੇ ਰੂਪ ਵਿੱਚ ਪਰਿਭਾਸ਼ਿਤ ਕੀਤਾ ਜਾਂਦਾ ਹੈ।

ਲਾਗਤ ਅਤੇ ਆਮਦਨ

ਉਦਾਹਰਨ: ਮੰਨ ਲਓ ਕਿ ਇੱਕ ਦਰਜੀ 1110 ਰੁਪਏ ਦੀ ਕੁੱਲ ਲਾਗਤ ਨਾਲ 10 ਕਮੀਜ਼ਾਂ ਬਣਾਉਂਦਾ ਹੈ। ਫਿਰ ਉਸਨੇ ਕਮੀਜ਼ ਦੇ ਉਤਪਾਦਨ ਨੂੰ 11 ਪੀਸਾਂ ਤੱਕ ਵਧਾ ਦਿੱਤਾ ਜਿਸ ਲਈ ਉਸਨੇ 1999 ਰੁਪਏ ਖਰਚ ਕੀਤੇ। ਫਿਰ ਸੀਮਾਂਤ ਲਾਗਤ ਕੀ ਹੈ?

ਉੱਤਰ: ਇੱਥੇ ਆਉਟਪੁੱਟ ਵਿੱਚ ਵਾਧਾ $11-10 = 1$ ਇਕਾਈ ਹੈ। ਉਤਪਾਦਨ ਵਿੱਚ ਇੱਕ ਇਕਾਈ ਦੇ ਵਾਧੇ ਕਾਰਨ ਕੁੱਲ ਲਾਗਤ ਵਿੱਚ ਵਾਧਾ $1199-1190=89$ ਰੁਪਏ ਹੈ। ਇਸ ਲਈ ਸੀਮਾਂਤ ਲਾਗਤ 89 ਰੁਪਏ ਹੈ।

ਪਾਠ ਅਧੀਨ ਪ੍ਰਸ਼ਨ 8.2

1. ਜੇਕਰ ਆਉਟਪੁੱਟ ਦੀਆਂ 48 ਇਕਾਈਆਂ ਪੈਦਾ ਕੀਤੀਆਂ ਜਾਂਦੀਆਂ ਹਨ ਅਤੇ ਕੁੱਲ ਸਥਿਰ ਲਾਗਤ ਕੁੱਲ ਪਰਿਵਰਤਨਸ਼ੀਲ ਲਾਗਤ ਦੇ ਨਾਲ 180 ਰੁਪਏ ਜਾਂ 300 ਰੁਪਏ ਹੈ ਤਾਂ ਉਤਪਾਦਨ ਦੀ ਐਸਤ ਲਾਗਤ ਕੀ ਹੋਵੇਗੀ?
2. ਸਪੱਸ਼ਟ ਲਾਗਤ ਨੂੰ ਪਰਿਭਾਸ਼ਿਤ ਕਰੋ?
3. ਪ੍ਰਸ਼ਨ 1 ਵਿੱਚ ਆਉਟਪੁੱਟ ਵਧ ਕੇ 49 ਇਕਾਈ ਹੋ ਜਾਂਦੀ ਹੈ ਜਿਸ ਕਾਰਨ ਕੁੱਲ ਪਰਿਵਰਤਨਸ਼ੀਲ ਲਾਗਤ ਵਧ ਕੇ 307 ਰੁਪਏ ਹੋ ਜਾਂਦੀ ਹੈ। ਸੀਮਾਂਤ ਲਾਗਤ ਕੀ ਹੈ?

8.4 ਸੀਮਾਂਤ ਲਾਗਤ ਅਤੇ ਐਸਤ ਲਾਗਤ ਦੀ ਤੁਲਨਾ

ਉਪਰੋਕਤ ਉਦਾਹਰਨ ਵਿੱਚ ਜਦੋਂ ਕਿ ਉੱਪਰ ਗਣਨਾ ਕੀਤੀ ਗਈ ਸੀਮਤ ਲਾਗਤ ਦਾ ਇੱਕ ਮੁੱਲ ਹੈ, ਅਸੀਂ ਐਸਤ ਲਾਗਤ ਦੇ ਦੋ ਵੱਖ-ਵੱਖ ਮੁੱਲਾਂ ਦੀ ਗਣਨਾ ਕਰ ਸਕਦੇ ਹਾਂ।

ਐਸਤ ਲਾਗਤ ਦਾ ਪਹਿਲਾ ਮੁੱਲ 10 ਕਮੀਜ਼ਾਂ ਦੇ ਉਤਪਾਦਨ 'ਤੇ ਕੁੱਲ ਲਾਗਤ 1110 ਰੁਪਏ ਨਾਲ ਸਬੰਧਿਤ ਹੈ।

ਇਸ ਲਈ ਐਸਤ ਲਾਗਤ = $1110/10 = 111$ ਰੁਪਏ

ਐਸਤ ਲਾਗਤ ਦਾ ਦੂਜਾ ਮੁੱਲ 11 ਕਮੀਜ਼ਾਂ ਦੇ ਉਤਪਾਦਨ ਨਾਲ ਸਬੰਧਿਤ ਹੈ ਜਿਸ ਦੀ ਕੁੱਲ ਲਾਗਤ $1199/11 = 109$ ਰੁਪਏ ਹੈ।

ਇਸ ਤੋਂ ਅਸੀਂ ਕਹਿ ਸਕਦੇ ਹਾਂ ਕਿ ਐਸਤ ਲਾਗਤ ਆਉਟਪੁੱਟ ਦੇ ਹਰੇਕ ਦਿੱਤੇ ਪੱਧਰ ਲਈ ਗਿਣਿਆ ਜਾਂਦਾ ਹੈ। ਦੂਜੇ ਪਾਸੇ, ਜਦੋਂ ਆਉਟਪੁੱਟ ਦੇ ਦਿੱਤੇ ਪੱਧਰ ਨੂੰ ਇੱਕ ਇਕਾਈ ਦੁਆਰਾ

ਮੈਂਡਿਊਲ: 3

ਵਸਤੂਆਂ ਅਤੇ ਸੇਵਾਵਾਂ ਦਾ ਉਤਪਾਦਨ ਕਰਨਾ



ਨੋਟ

ਵਸਤੂਆਂ ਅਤੇ ਸੇਵਾਵਾਂ ਦਾ ਉਤਪਾਦਨ ਕਰਨਾ



ਨੋਟ

ਵਧਾਇਆ ਜਾਂਦਾ ਹੈ ਤਾਂ ਸੀਮਾਂਤ ਲਾਗਤ ਦੀ ਗਣਨਾ ਕੀਤੀ ਜਾਂਦੀ ਹੈ। ਭਾਵ, ਸੀਮਾਂਤ ਲਾਗਤ ਦੀ ਗਣਨਾ ਆਉਟਪੁੱਟ ਦੇ ਦੋ ਲਗਾਤਾਰ ਪੱਧਰਾਂ ਵਿਚਕਾਰ ਕੀਤੀ ਜਾਂਦੀ ਹੈ।

ਅਸੀਂ ਉਪਰੋਕਤ ਉਦਾਹਰਣ ਨੂੰ ਇੱਕ ਸਾਰਣੀ ਦੇ ਰੂਪ ਵਿੱਚ ਇਸ ਤਰ੍ਹਾਂ ਪ੍ਰਗਟ ਕਰ ਸਕਦੇ ਹਾਂ:

ਆਉਟਪੁੱਟ ਦੀਆਂ ਇਕਾਈਆਂ(ਕਮੀਜ਼ਾਂ)	ਕੁੱਲ ਲਾਗਤ(ਰੁ.)	ਔਸਤ ਲਾਗਤ (ਰੁ.)	ਸੀਮਾਂਤ ਲਾਗਤ (ਰੁ.)
10	1110	111	-
11	1199	109	89

8.5 ਆਮਦਨ

ਆਮਦਨ ਅਰਥ ਸ਼ਾਸਤਰ ਵਿੱਚ ਇੱਕ ਹੋਰ ਬਹੁਤ ਮਹੱਤਵਪੂਰਨ ਧਾਰਨਾ ਹੈ। ਅਸਲ ਵਿੱਚ ਲਾਗਤ ਦਾ ਅਧਿਐਨ ਪੂਰਾ ਨਹੀਂ ਹੁੰਦਾ, ਜੇਕਰ ਅਸੀਂ ਆਮਦਨ ਦੀ ਗੱਲ ਨਾ ਕਰੀਏ। ਆਮਦਨ ਕੀ ਹੈ?

ਆਮਦਨ ਦੀ ਪਰਿਭਾਸ਼ਾ

ਆਮਦਨ ਨੂੰ ਉਸ ਰਕਮ ਵਜੋਂ ਪਰਿਭਾਸ਼ਿਤ ਕੀਤਾ ਜਾਂਦਾ ਹੈ ਜੋ ਕਿਸੇ ਵਿਅਕਤੀ ਨੂੰ ਵਸਤੂ ਦੀ ਇੱਕ ਨਿਸ਼ਚਿਤ ਮਾਤਰਾ ਵੇਚ ਕੇ ਪ੍ਰਾਪਤ ਹੁੰਦੀ ਹੈ।

ਤੁਸੀਂ ਜਾਣਦੇ ਹੋ ਕਿ ਮੰਡੀ ਵਿੱਚ ਇੱਕ ਵਸਤੂ ਇੱਕ ਨਿਸ਼ਚਿਤ ਕੀਮਤ ਦੇ ਕੇ ਖਰੀਦੀ ਜਾ ਸਕਦੀ ਹੈ। ਇਸ ਲਈ ਵਸਤੂ ਦੀ ਕੀਮਤ ਅਤੇ ਮਾਤਰਾ ਨੂੰ ਗੁਣਾ ਕਰਕੇ ਆਮਦਨ ਦੀ ਗਣਨਾ ਕੀਤੀ ਜਾ ਸਕਦੀ ਹੈ। ਇਸ ਲਈ ਅਸੀਂ ਲਿਖ ਸਕਦੇ ਹਾਂ

$$\text{ਆਮਦਨ} = \text{ਵਸਤੂ ਦੀ ਕੀਮਤ} \times \text{ਵਸਤੂ ਦੀ ਮਾਤਰਾ}$$

ਇੱਕ ਦਿੱਤੇ ਸਮੇਂ ਦੇ ਦੌਰਾਨ, ਵਿਕਰੇਤਾ ਵਸਤੂ ਦੀ ਕੁਝ ਮਾਤਰਾ ਵੇਚਦਾ ਹੈ। ਇਸ ਲਈ ਉਸ ਸਮੇਂ ਦੌਰਾਨ ਵਿਕਰੇਤਾ ਦੁਆਰਾ ਪ੍ਰਾਪਤ ਕੀਤੀ ਕੁੱਲ ਰਕਮ ਨੂੰ ਕੁੱਲ ਆਮਦਨ ਕਿਹਾ ਜਾਂਦਾ ਹੈ। ਅਸੀਂ ਇਸ ਨੂੰ TR ਵਜੋਂ ਦਰਸਾਉਂਦੇ ਹਾਂ ਜਿੱਥੇ TR ਦਾ ਮਤਲਬ ਕੁੱਲ ਆਮਦਨ ਹੁੰਦਾ ਹੈ। ਆਉ ਅਸੀਂ ਕੀਮਤ ਨੂੰ 'P' ਅਤੇ ਮਾਤਰਾ ਨੂੰ 'Q' ਵਜੋਂ ਦਰਸਾਉਂਦੇ ਹਾਂ ਤਾਂ ਅਸੀਂ ਲਿਖ ਸਕਦੇ ਹਾਂ:

$$\text{ਕੁੱਲ ਆਮਦਨ} = \text{ਕੀਮਤ} \times \text{ਮਾਤਰਾ ਜਾਂ TR} = P \times Q$$

ਲਾਗਤ ਅਤੇ ਆਮਦਨ

ਉਦਾਹਰਨ: “ਲਾਗਤ” ਵਾਲੇ ਭਾਗ ਵਿੱਚ ਕਿਸਾਨ ਦੀ ਉਦਾਹਰਨ 'ਤੇ ਫਿਰ ਨਜ਼ਰ ਮਾਰੋ। ਸੋਚੋ ਕਿ ਕਿਸਾਨ ਨੇ 30 ਕੁਇੰਟਲ ਚਾਵਲਾਂ ਦੀ ਪੈਦਾਵਾਰ ਕੀਤੀ। ਚਾਵਲਾਂ ਦੀ ਕੀਮਤ 1600 ਰੁਪਏ ਪ੍ਰਤੀ ਕੁਇੰਟਲ ਹੈ। ਜੇਕਰ ਕਿਸਾਨ ਇਹ ਸਾਰੇ ਚਾਵਲ ਵੇਚਦਾ ਹੈ ਤਾਂ ਉਸਨੂੰ

$1600 \times 30 = 48,000$ ਰੁਪਏ ਹਾਸਲ ਹੁੰਦੇ ਹਨ। ਇਸ ਤਰ੍ਹਾਂ ਉਸਦੀ ਕੁੱਲ ਆਮਦਨ 48,000 ਰੁਪਏ ਹੋਵੇਗੀ।

ਇਸ ਉਦਾਹਰਨ ਨਾਲ ਅਸੀਂ ਇਹ ਵੀ ਕਹਿ ਸਕਦੇ ਹਾਂ ਕਿ ਲਾਗਤ ਉਤਪਾਦਕ ਜਾਂ ਵਿਕਰੇਤਾ ਦੁਆਰਾ ਉਸਦੇ ਆਉਟਪੁੱਟ ਦੀ ਵਿਕਰੀ ਤੋਂ ਪ੍ਰਾਪਤ ਹੋਣ ਵਾਲੀ ਰਾਸ਼ੀ ਹੈ।

“ਕੁੱਲ ਆਮਦਨ” ਲਈ ਵਰਤਿਆ ਜਾਣ ਵਾਲਾ ਇੱਕ ਹੋਰ ਸ਼ਬਦ ਕੁੱਲ ਵਿਕਰੀ ਆਮਦਨ ਹੈ। ਕਿਉਂਕਿ ਕੋਈ ਵਸਤੂ ਵੇਚ ਕੇ ਆਮਦਨ ਪ੍ਰਾਪਤ ਹੁੰਦੀ ਹੈ। ਇਸ ਨੂੰ ਉਸ ਵਸਤੂ ਤੋਂ ਕੁੱਲ ਵਿਕਰੀ ਕਮਾਈ ਵੀ ਕਿਹਾ ਜਾਂਦਾ ਹੈ।

ਪਾਠ ਅਧੀਨ ਪ੍ਰਸ਼ਨ 8.3

1. ਇੱਕ ਵਿਕਰੇਤਾ 1 ਕੁਇੰਟਲ ਕਣਕ ਵੇਚਦਾ ਹੈ। ਕਣਕ ਦਾ ਭਾਅ 15 ਰੁਪਏ ਪ੍ਰਤੀ ਕਿਲੋਗ੍ਰਾਮ ਹੈ। ਉਸ ਦੀ ਕੁੱਲ ਆਮਦਨ ਕਿੰਨੀ ਹੈ?

ਤੁਹਾਨੂੰ ਯਾਦ ਰੱਖਣਾ ਚਾਹੀਦਾ ਹੈ ਕਿ ਹਰ ਵਸਤੂ ਦੀ ਆਪਣੀ ਕੀਮਤ ਹੁੰਦੀ ਹੈ। ਇੱਕ ਰਿਟੇਲਰ ਖਰੀਦਦਾਰਾਂ ਨੂੰ ਵੱਖ-ਵੱਖ ਵਸਤਾਂ ਵੇਚਦਾ ਹੈ। ਪ੍ਰੋਵਿਜ਼ਨ ਸਟੋਰ ਜਾਂ ਸਟੋਸ਼ਨਰੀ ਦੀ ਦੁਕਾਨ ਦੀ ਉਦਾਹਰਣ ਲਓ। ਇੱਕ ਵਿਕਰੇਤਾ ਇੱਕ ਪ੍ਰੋਵਿਜ਼ਨ ਸਟੋਰ ਵਿੱਚ ਵੱਖ-ਵੱਖ ਚੀਜ਼ਾਂ ਵੇਚਦਾ ਹੈ; ਜਿਵੇਂ ਕਿ ਚਾਵਲ, ਕਣਕ, ਕਣਕ ਦਾ ਆਟਾ, ਦਾਲ ਦੀਆਂ ਵੱਖ-ਵੱਖ ਕਿਸਮਾਂ, ਬਿਸਕੂਟ, ਖਾਣ ਵਾਲਾ ਤੇਲ ਆਦਿ। ਤੁਹਾਨੂੰ ਚਾਵਲ ਦੀਆਂ ਕਿਸਮਾਂ ਜਿਵੇਂ ਕਿ ਬਾਸਮਤੀ, ਪਰਮਲ, ਸੈਲਾ ਆਦਿ ਵੀ ਮਿਲਣਗੀਆਂ; ਖਾਣ ਵਾਲੇ ਤੇਲ ਦੀਆਂ ਵੱਖ-ਵੱਖ ਕਿਸਮਾਂ ਹਨ, ਜਿਵੇਂ ਕਿ ਸੁੱਧ ਬਨਸਪਤੀ ਤੇਲ, ਸੂਰਜਮੁਖੀ ਦਾ ਤੇਲ, ਸਰ੍ਹੋਂ ਦਾ ਤੇਲ, ਸੋਇਆਬੀਨ ਦਾ ਤੇਲ, ਆਦਿ। ਇੱਕ ਪ੍ਰਚੂਨ ਦੁਕਾਨਦਾਰ ਬਹੁਤ ਸਾਰੀਆਂ ਵੱਖ-ਵੱਖ ਕਿਸਮਾਂ ਦੇ ਸਾਮਾਨ ਦੇ ਨਾਲ-ਨਾਲ ਵੱਖ-ਵੱਖ ਕਿਸਮਾਂ ਦੇ ਸਾਮਾਨ ਵੇਚਦਾ ਹੈ। ਇਸ ਲਈ ਇੱਕ ਹਫ਼ਤੇ ਦੀ ਮਿਆਦ ਦੇ ਬਾਅਦ, ਉਸਦੀ ਕੁੱਲ ਆਮਦਨ ਕੀ ਹੋਵੇਗੀ?

ਜਵਾਬ ਬਹੁਤ ਸਰਲ ਹੈ। ਪਹਿਲਾਂ ਉਸ ਵੱਲੋਂ ਹਫ਼ਤੇ ਦੌਰਾਨ ਵੇਚੇ ਗਏ ਸਾਮਾਨ ਦੀਆਂ ਕੀਮਤਾਂ ਦੀ ਸੂਚੀ ਬਣਾਓ। ਦੂਜਾ, ਸਾਮਾਨ ਦੀ ਸਬੰਧਿਤ ਮਾਤਰਾ ਦੀ ਸੂਚੀ ਬਣਾਓ।

ਮੈਂਡਿਊਲ: 3

ਵਸਤੂਆਂ ਅਤੇ ਸੇਵਾਵਾਂ ਦਾ ਉਤਪਾਦਨ ਕਰਨਾ



ਨੋਟ

ਵਸਤੂਆਂ ਅਤੇ ਸੇਵਾਵਾਂ ਦਾ ਉਤਪਾਦਨ ਕਰਨਾ



ਨੋਟ

ਤੀਜਾ, ਦਿੱਤੇ ਗਏ ਹਫ਼ਤੇ ਲਈ ਦੁਕਾਨਦਾਰ ਦੀ ਕੁੱਲ ਆਮਦਨ ਦਾ ਪਤਾ ਲਗਾਓ। ਅਸੀਂ ਇਸਨੂੰ ਹੇਠਾਂ ਦਿੱਤੇ ਤਰੀਕੇ ਨਾਲ ਦਰਸਾ ਸਕਦੇ ਹਾਂ।

ਉਦਾਹਰਨ

ਵਿਚਾਰ ਕਰੋ ਕਿ ਦੁਕਾਨਦਾਰ ਨੇ ਦਿੱਤੇ ਹਫ਼ਤੇ ਵਿੱਚ 100 ਕਿਲੋ ਬਾਸਮਤੀ ਚਾਵਲ, 70 ਲੀਟਰ ਸੂਰਜਮੁਖੀ ਦਾ ਤੇਲ, 100 ਪੈਕਟ ਬਿਸਕੁਟ ਅਤੇ 150 ਕਿਲੋ ਕਣਕ ਦਾ ਆਟਾ ਵੇਚਿਆ ਹੈ। ਕੀਮਤਾਂ ਰੁਪਏ ਵਿੱਚ ਹਨ। 35 ਪ੍ਰਤੀ ਕਿਲੋ ਬਾਸਮਤੀ ਚਾਵਲ, ਸੂਰਜਮੁਖੀ ਦਾ ਤੇਲ 90 ਪ੍ਰਤੀ ਲੀਟਰ, 10 ਪ੍ਰਤੀ ਪੈਕਟ ਬਿਸਕੁਟ ਅਤੇ 22 ਰੁਪਏ ਪ੍ਰਤੀ ਕਿਲੋ ਕਣਕ ਦਾ ਆਟਾ।

ਅਸੀਂ ਹੇਠ ਲਿਖੇ ਤਰੀਕੇ ਨਾਲ ਦੁਕਾਨਦਾਰ ਦੀ ਕੁੱਲ ਆਮਦਨ ਦੀ ਗਣਨਾ ਕਰ ਸਕਦੇ ਹਾਂ।

- (i) ਚਾਵਲਾਂ ਤੋਂ ਕੁੱਲ ਆਮਦਨ = $35 \times 100 = 3500$ ਰੁਪਏ।
- (ii) ਤੇਲ ਤੋਂ ਕੁੱਲ ਆਮਦਨ = $90 \times 70 = 6300$ ਰੁਪਏ।
- (iii) ਆਟੇ ਤੋਂ ਕੁੱਲ ਆਮਦਨ = $22 \times 150 = 3300$ ਰੁਪਏ।
- (iii) ਬਿਸਕੁਟ ਤੋਂ ਕੁੱਲ ਆਮਦਨ = $10 \times 100 = 1000$ ਰੁਪਏ।

ਸਾਰੀਆਂ ਵਸਤੂਆਂ ਤੋਂ ਕੁੱਲ ਆਮਦਨ = 14,100 ਰੁਪਏ ਹੈ

ਇਸ ਲਈ ਦਿੱਤੇ ਹਫ਼ਤੇ ਦੌਰਾਨ ਦੁਕਾਨਦਾਰ ਦੀ ਸਾਰੇ ਸਾਮਾਨ ਤੋਂ ਕੁੱਲ ਆਮਦਨੀ 14,100 ਹੈ।

8.6 ਔਸਤ ਅਤੇ ਸੀਮਾਂਤ ਆਮਦਨ

ਔਸਤ ਆਮਦਨ (AR)

ਔਸਤ ਆਮਦਨ ਨੂੰ AR ਵਜੋਂ ਦਰਸਾਇਆ ਗਿਆ ਹੈ। ਇਸ ਨੂੰ ਕੁੱਲ ਆਮਦਨ ਤੋਂ ਗਿਣਿਆ ਜਾਂਦਾ ਹੈ। ਔਸਤ ਆਮਦਨ ਦਾ ਫਾਰਮੂਲਾ ਇਸ ਤਰ੍ਹਾਂ ਦਿੱਤਾ ਗਿਆ ਹੈ

$$\text{ਔਸਤ ਆਮਦਨ} = \frac{\text{ਕੁੱਲ ਆਮਦਨਵੇਚੀ}}{\text{ਗਈ ਮਾਤਰਾ}}$$

$$AR = \frac{TR}{Q}$$

ਧਿਆਨਦੇਣ ਯੋਗ ਮਹੱਤਵਪੂਰਨ ਗੱਲ

ਦਿੱਤੀ ਗਈ ਉਦਾਹਰਨ ਵਿੱਚ ਅਸੀਂ ਦੇਖ ਸਕਦੇ ਹਾਂ ਕਿ ਜੇਕਰ ਵਿਕਰੇਤਾ ਦਿੱਤੇ ਗਏ ਜਾਂ ਇੱਕੋ ਕੀਮਤ 'ਤੇ ਆਉਟਪੁੱਟ ਦੀਆਂ ਲਗਾਤਾਰ ਮਾਤਰਾਵਾਂ ਨੂੰ ਵੇਚਣ ਦੇ ਯੋਗ ਹੁੰਦਾ ਹੈ, ਤਾਂ AR ਅਤੇ MR ਬਰਾਬਰ ਹਨ। ਇਸ ਤੋਂ ਅੱਗੇ ਇਹ ਸੰਕੇਤ ਮਿਲਦਾ ਹੈ ਕਿ ਜੇਕਰ ਬਾਜ਼ਾਰ ਵਿੱਚ ਵਸਤੂ ਦੀ ਕੀਮਤ ਵੱਖ-ਵੱਖ ਮਾਤਰਾਵਾਂ ਲਈ ਬਦਲੇਗੀ, ਤਾਂ AR ਅਤੇ MR ਇੱਕ ਦੂਜੇ ਤੋਂ ਵੱਖਰੇ ਹੋਣਗੇ।

ਉਦਾਹਰਨ: 1 ਕਿਲੋ ਅਮਰੂਦ ਦੀ ਕੀਮਤ 50 ਰੁਪਏ ਹੈ। ਵਿਕਰੇਤਾ ਨੇ ਦੋ ਦਿਨਾਂ ਵਿੱਚ 20 ਕਿਲੋ ਅਮਰੂਦ ਵੇਚਿਆ। ਉਸ ਦੀ ਔਸਤ ਆਮਦਨ ਕਿੰਨੀ ਹੈ?

ਉੱਤਰ: ਕੁੱਲ ਆਮਦਨ $50 \times 20 = 1000$ ਰੁਪਏ ਹੈ, ਜਦੋਂ ਮਾਤਰਾ 20 ਕਿਲੋ ਹੈ ਤਾਂ $AR = 1000/20 = 50$ ਰੁਪਏ ਹੈ।

(ਦੇਖੋ ਕਿ ਪ੍ਰਤੀ ਕਿਲੋ ਦੀ ਕੀਮਤ 50 ਰੁਪਏ ਹੈ। ਇਸ ਲਈ $AR = 50$ ਰੁਪਏ)

ਉਦਾਹਰਨ: ਉਪਰੋਕਤ ਉਦਾਹਰਨ ਤੋਂ ਜਾਰੀ ਰੱਖਣ ਲਈ - ਜੇਕਰ ਵਿਕਰੇਤਾ ਉਸੇ ਕੀਮਤ 'ਤੇ 21 ਕਿਲੋ ਅਮਰੂਦ ਵੇਚ ਸਕਦਾ ਹੈ ਤਾਂ ਸੀਮਾਂਤ ਆਮਦਨ ਕੀ ਹੈ?

ਉੱਤਰ: ਹੁਣ $TR = 50 \times 21 = 1050$ ਰੁਪਏ। ਪਹਿਲਾਂ $TR = 1000$ ਰੁਪਏ। ਇਸ ਲਈ $MR = 1050 - 1000 = 50$ ਰੁਪਏ ਹੈ।

ਉਦਾਹਰਨ: ਇੱਕ ਦੁਕਾਨਦਾਰ 10 ਕਿਲੋ ਚਾਵਲ 30 ਰੁਪਏ ਪ੍ਰਤੀ ਕਿਲੋ ਅਤੇ 11 ਕਿਲੋ ਚਾਵਲ 29 ਰੁਪਏ ਪ੍ਰਤੀ ਕਿਲੋ ਵੇਚਦਾ ਹੈ। ਸੀਮਾਂਤ ਆਮਦਨ ਕੀ ਹੈ?

ਉੱਤਰ: ਪਹਿਲੇ ਕੇਸ ਵਿੱਚ $TR = 10 \times 30 = 300$ ਰੁਪਏ। ਦੂਜੇ ਕੇਸ ਵਿੱਚ $TR = 11 \times 29 = 319$ ਰੁਪਏ ਤਾਂ $MR = 319 - 300 = 19$ ਰੁਪਏ

ਪਾਠ ਅਧੀਨ ਪ੍ਰਸ਼ਨ 8.4

1. ਔਸਤ ਆਮਦਨ ਅਤੇ ਮਾਲ ਦੀ ਕੀਮਤ ਵਿੱਚ ਕੀ ਅੰਤਰ ਹੈ?
2. ਕੁੱਲ ਅਤੇ ਔਸਤ ਆਮਦਨ ਕਿਵੇਂ ਸਬੰਧਿਤ ਹਨ?

ਮੈਂਡਿਊਲ: 3

ਵਸਤੂਆਂ ਅਤੇ ਸੇਵਾਵਾਂ ਦਾ ਉਤਪਾਦਨ ਕਰਨਾ



ਨੋਟ

ਵਸਤੂਆਂ ਅਤੇ ਸੇਵਾਵਾਂ ਦਾ
ਉਤਪਾਦਨ ਕਰਨਾ



ਨੋਟ

8.7 ਆਮਦਨ ਅਤੇ ਲਾਗਤ ਦੀ ਵਰਤੋਂ

ਆਮਦਨ ਅਤੇ ਲਾਗਤ ਦੋਵੇਂ ਅਰਥ ਸ਼ਾਸਤਰ ਵਿੱਚ ਮਹੱਤਵਪੂਰਨ ਸੰਕਲਪ ਹਨ। ਜਦੋਂ ਕਿ ਲਾਗਤ ਉਤਪਾਦਨ ਪ੍ਰਕਿਰਿਆ ਦੇ ਦੌਰਾਨ ਕਿਸੇ ਵਸਤੂ ਜਾਂ ਸੇਵਾ ਨੂੰ ਪੈਦਾ ਕਰਨ ਲਈ ਕੀਤਾ ਗਿਆ ਖਰਚ ਹੈ, ਆਮਦਨ ਉਤਪਾਦਕ ਦੁਆਰਾ ਉਸ ਚੀਜ਼ ਜਾਂ ਸੇਵਾ ਨੂੰ ਵੇਚ ਕੇ ਪ੍ਰਾਪਤ ਕੀਤਾ ਪੈਸਾ ਹੈ। ਇਸ ਲਈ ਲਾਗਤ ਉਤਪਾਦਕ ਦੁਆਰਾ ਕੀਤੇ ਤਿਆਗ ਦਾ ਪ੍ਰਤੀਕ ਹੈ ਅਤੇ ਆਮਦਨ ਉਤਪਾਦਕ ਲਈ ਲਾਭ ਦਾ ਪ੍ਰਤੀਕ ਹੈ। ਵਸਤੂ ਦੀ ਵਿਕਰੀ ਤੋਂ ਲੋੜੀਂਦੀ ਆਮਦਨ ਪ੍ਰਾਪਤ ਕਰਨ ਨਾਲ ਉਤਪਾਦਕ ਉਸ ਲਾਗਤ ਦੀ ਵਸੂਲੀ ਕਰਨ ਦੇ ਯੋਗ ਹੁੰਦਾ ਹੈ ਜੋ ਉਸਨੇ ਪਹਿਲਾਂ ਕੀਤਾ ਹੈ। ਉਸ ਸਥਿਤੀ ਵਿੱਚ ਅਸੀਂ ਕਹਿੰਦੇ ਹਾਂ ਕਿ ਉਤਪਾਦਕ ਨੇ ਆਪਣਾ ਬਣਦਾ ਹਿੱਸਾ ਕਮਾਇਆ ਜਿਸ ਨੂੰ ਲਾਭ ਕਿਹਾ ਜਾਂਦਾ ਹੈ। ਅਸੀਂ ਇਹ ਪਰਿਭਾਸ਼ਿਤ ਕਰ ਸਕਦੇ ਹਾਂ ਕਿ ਮੁਨਾਫ਼ਾ ਉਤਪਾਦਨ ਦੀ ਕੁੱਲ ਲਾਗਤ ਨਾਲੋਂ ਆਮਦਨ ਦਾ ਸਰਪਲੱਸ ਹੈ।

ਲਾਭ = ਕੁੱਲ ਆਮਦਨ - ਕੁੱਲ ਲਾਗਤ।

ਪਾਠ ਅਧੀਨ ਪ੍ਰਸ਼ਨ 8.5

- ਜੇਕਰ ਆਉਟਪੁੱਟ 50 ਯੂਨਿਟ ਹੈ ਅਤੇ ਪ੍ਰਤੀ ਯੂਨਿਟ ਕੀਮਤ 10 ਰੁਪਏ ਹੈ, ਸਥਿਰ ਲਾਗਤ 110 ਰੁਪਏ ਹੈ ਅਤੇ ਪਰਿਵਰਤਨਸ਼ੀਲ ਲਾਗਤ 150 ਰੁਪਏ ਹੈ, ਤਾਂ ਲਾਭ ਦੀ ਰਕਮ ਕੀ ਹੈ?

ਤੁਸੀਂ ਕੀ ਸਿੱਖਿਆ

- ਲਾਗਤ ਉਤਪਾਦਨ ਪ੍ਰਕਿਰਿਆ ਦੇ ਦੌਰਾਨ ਕਿਸੇ ਵਸਤੂ ਜਾਂ ਸੇਵਾ ਨੂੰ ਪੈਦਾ ਕਰਨ ਲਈ ਕੀਤਾ ਗਿਆ ਖਰਚ ਹੈ।
- ਸਥਿਰ ਲਾਗਤ ਨੂੰ ਉਤਪਾਦਨ ਦੇ ਸਥਿਰ ਸਾਧਨਾਂ 'ਤੇ ਖਰਚੇ ਵਜੋਂ ਪਰਿਭਾਸ਼ਿਤ ਕੀਤਾ ਜਾਂਦਾ ਹੈ।
- ਪਰਿਵਰਤਨਸ਼ੀਲ ਲਾਗਤ ਪਰਿਵਰਤਨਸ਼ੀਲ ਸਾਧਨਾਂ 'ਤੇ ਖਰਚਾ ਹੈ।
- ਸਪੱਸ਼ਟ ਲਾਗਤ ਨੂੰ ਉਤਪਾਦਕ ਦੁਆਰਾ ਉਤਪਾਦਨ ਲਈ ਕੀਤੇ ਗਏ ਖਰਚੇ ਵਜੋਂ ਪਰਿਭਾਸ਼ਿਤ ਕੀਤਾ ਜਾਂਦਾ ਹੈ।
- ਅਪ੍ਰਤੱਖ ਲਾਗਤ ਸਵੈ-ਸਪਲਾਈ ਕੀਤੇ ਸਾਧਨਾਂ ਦੀ ਲਾਗਤ ਹੈ।

ਲਾਗਤ ਅਤੇ ਆਮਦਨ

- ਐਸਤ ਲਾਗਤ ਆਉਟਪੁੱਟ ਦੀ ਪ੍ਰਤੀ ਯੂਨਿਟ ਦੀ ਲਾਗਤ ਹੈ।
- ਆਮਦਨ ਉਹ ਰਕਮ ਹੈ ਜੋ ਇੱਕ ਵਿਅਕਤੀ ਇੱਕ ਨਿਰਧਾਰਤ ਕੀਮਤ 'ਤੇ ਵਸਤੂ ਦੀ ਕੁਝ ਮਾਤਰਾ ਵੇਚ ਕੇ ਪ੍ਰਾਪਤ ਕਰਦਾ ਹੈ।
- ਐਸਤ ਆਮਦਨ = $\frac{\text{ਕੁੱਲ ਆਮਦਨ}}{\text{ਮਾਤਰਾ}}$
- ਸੀਮਾਂਤ ਆਮਦਨ ਇੱਕ ਇਕਾਈ ਦੁਆਰਾ ਆਉਟਪੁੱਟ ਦੀ ਮਾਤਰਾ ਦੀ ਵਿਕਰੀ ਵਿੱਚ ਤਬਦੀਲੀ ਕਾਰਨ ਕੁੱਲ ਆਮਦਨ ਵਿੱਚ ਤਬਦੀਲੀ ਹੈ।
- ਲਾਭ = ਕੁੱਲ ਆਮਦਨ - ਕੁੱਲ ਲਾਗਤ।

ਪਾਠ ਦੇ ਅੰਤ ਦੇ ਪ੍ਰਸ਼ਨ

1. ਸਥਿਰ ਅਤੇ ਪਰਿਵਰਤਨਸ਼ੀਲ ਲਾਗਤ ਵਿੱਚ ਅੰਤਰ ਦੱਸੋ?
2. ਸਪੱਸ਼ਟ ਅਤੇ ਅਪ੍ਰਤੱਖ ਲਾਗਤ ਵਿੱਚ ਅੰਤਰ ਦੱਸੋ?
3. ਤੁਸੀਂ ਕੁੱਲ ਅਤੇ ਐਸਤ ਲਾਗਤ ਦੀ ਗਣਨਾ ਕਿਵੇਂ ਕਰ ਸਕਦੇ ਹੋ?
4. ਤੁਸੀਂ ਕੁੱਲ ਅਤੇ ਐਸਤ ਆਮਦਨ ਦੀ ਗਣਨਾ ਕਿਵੇਂ ਕਰ ਸਕਦੇ ਹੋ?
5. ਆਮਦਨ ਅਤੇ ਲਾਗਤ ਵਿੱਚ ਅੰਤਰ ਦੱਸੋ? ਨਿਰਮਾਤਾ ਨੂੰ ਉਹਨਾਂ ਦੀ ਗਣਨਾ ਕਿਉਂ ਕਰਨੀ ਚਾਹੀਦੀ ਹੈ?

ਪਾਠ ਅਧੀਨ ਪ੍ਰਸ਼ਨਾਂ ਦੇ ਉੱਤਰ

ਪਾਠ ਅਧੀਨ ਪ੍ਰਸ਼ਨ 8.1 ਦਾ ਉੱਤਰ

1. ਜ਼ਮੀਨ – ਕਿਰਾਇਆ/ਠੇਕਾ
ਕਿਰਤ - ਮਜ਼ਦੂਰੀ
ਟਰੈਕਟਰ ਦੀਆਂ ਸੇਵਾਵਾਂ – ਕਿਰਾਇਆ ਅਤੇ ਕੱਚੇ ਮਾਲ ਲਈ ਭੁਗਤਾਨ
2. ਉਤਪਾਦਕ ਲਾਗਤ ਸਹਿਣ ਕਰਦਾ ਹੈ

ਪਾਠ ਅਧੀਨ ਪ੍ਰਸ਼ਨ 8.2 ਦਾ ਉੱਤਰ

1. $TC = TFC + TVC$
 $= 180 + 300$
 $= 480$ ਰੁਪਏ

ਮੈਂਡਿਊਲ: 3

ਵਸਤੂਆਂ ਅਤੇ ਸੇਵਾਵਾਂ ਦਾ ਉਤਪਾਦਨ ਕਰਨਾ



ਨੋਟ

ਮੌਡਿਊਲ: 3

ਵਸਤੂਆਂ ਅਤੇ ਸੇਵਾਵਾਂ ਦਾ
ਉਤਪਾਦਨ ਕਰਨਾ



ਨੋਟ

ਲਾਗਤ ਅਤੇ ਆਮਦਨ

ਟੀ.ਸੀ

$$AC = TQ$$

$$480$$

$$= 48 = 10 \text{ ਰੁਪਏ ਪ੍ਰਤੀ ਇਕਾਈ}$$

2. ਸਪੱਸ਼ਟ ਲਾਗਤ ਨੂੰ ਉਤਪਾਦਕ ਦੁਆਰਾ ਕਿਸੇ ਵਸਤੂ ਦੇ ਉਤਪਾਦਨ 'ਤੇ ਕੀਤੇ ਗਏ ਖਰਚੇ ਵਜੋਂ ਪਰਿਭਾਸ਼ਿਤ ਕੀਤਾ ਜਾਂਦਾ ਹੈ।

$$3. \quad TC = 180 + 30Q$$

$$= \text{ਰੁਪਏ } 487$$

$$MC = 487 - 480$$

$$= \text{ਰੁਪਏ } 7$$

ਪਾਠ ਅਧੀਨ ਪ੍ਰਸ਼ਨ 8.3 ਦਾ ਉੱਤਰ

$$1. \quad \text{ਕੁੱਲ ਆਮਦਨ} = 100 \text{ ਕਿਲੋਗ੍ਰਾਮ} \times 15 \text{ ਰੁਪਏ} = 1500 \text{ ਰੁਪਏ}$$

ਪਾਠਕ੍ਰਮ ਪ੍ਰਸ਼ਨ 8.4 ਦਾ ਉੱਤਰ

1. ਔਸਤ ਆਮਦਨ ਪ੍ਰਤੀ ਯੂਨਿਟ ਆਮਦਨ ਹੈ

ਵਸਤੂ ਦੀ ਕੀਮਤ ਵਸਤੂ ਦੀ ਹਰੇਕ ਇਕਾਈ ਲਈ ਵਿਕਰੇਤਾ ਦੁਆਰਾ ਪ੍ਰਾਪਤ ਕੀਤੀ ਰਕਮ ਹੈ

ਹਾਲਾਂਕਿ, $AR = \text{ਕੀਮਤ}$

$$2. \quad TR = Q \times P$$

$$AR = \frac{TR}{Q}$$

$$= \frac{Q \times P}{Q}$$

$$= P$$

ਇਸ ਲਈ, ਔਸਤ ਆਮਦਨ = ਕੀਮਤ

ਪਾਠ ਅਧੀਨ ਪ੍ਰਸ਼ਨ 8.5 ਦਾ ਉੱਤਰ

$$1. \quad \text{ਲਾਭ} = 240 \text{ ਰੁਪਏ}$$

ਮੋਡਿਊਲ 4: ਵਸਤਾਂ ਅਤੇ ਸੇਵਾਵਾਂ ਦੀ ਵੰਡ

9. ਮੰਗ

10. ਸਪਲਾਈ

11. ਕੀਮਤ ਅਤੇ ਮਾਤਰਾ ਦਾ ਨਿਰਧਾਰਨ

12. ਬਾਜ਼ਾਰ

13. ਕੀਮਤਾਂ ਅਤੇ ਮਾਤਰਾ ਦੇ ਨਿਰਧਾਰਨ ਵਿੱਚ ਸਰਕਾਰ ਦੀ ਭੂਮਿਕਾ

9

ਮੰਗ

ਅਸੀਂ ਪਾਠ 2 ਵਿੱਚ ਜ਼ਰੂਰਤਾਂ ਬਾਰੇ ਪਹਿਲਾਂ ਹੀ ਅਧਿਐਨ ਕਰ ਚੁੱਕੇ ਹਾਂ। ਇਹਨਾਂ ਨੂੰ ਪੂਰਾ ਕਰਨ ਲਈ, ਤੁਸੀਂ ਬਾਜ਼ਾਰ ਤੋਂ ਵਸਤਾਂ ਅਤੇ ਸੇਵਾਵਾਂ ਖਰੀਦਦੇ ਹੋ। ਅਸੀਂ ਵੱਖ-ਵੱਖ ਕੀਮਤਾਂ ਦਾ ਭੁਗਤਾਨ ਕਰਕੇ ਵਸਤਾਂ ਅਤੇ ਸੇਵਾਵਾਂ ਖਰੀਦਦੇ ਹਾਂ। ਅੱਜਕੱਲ੍ਹ ਬਾਜ਼ਾਰ ਕਈ ਤਰ੍ਹਾਂ ਦੇ ਸਾਮਾਨ ਨਾਲ ਭਰਿਆ ਪਿਆ ਹੈ। ਇਸ ਲਈ ਸਾਨੂੰ ਕੋਈ ਵੀ ਵਸਤੂ ਖਰੀਦਣ ਤੋਂ ਪਹਿਲਾਂ ਚੋਣ ਕਰਨੀ ਪਵੇਗੀ। ਪਰ, ਸਿਰਫ਼ ਇੱਕ ਵਿਕਲਪ ਬਣਾਉਣਾ ਜਾਂ ਖਰੀਦਣ ਲਈ ਕੋਈ ਖਾਸ ਵਸਤੂ ਚੁਣਨਾ ਕਾਫ਼ੀ ਨਹੀਂ ਹੈ। ਜਦੋਂ ਅਸੀਂ ਬਾਜ਼ਾਰ ਜਾਂਦੇ ਹਾਂ, ਅਸੀਂ ਕੁਝ ਖਾਸ ਰਕਮ ਲੈ ਕੇ ਜਾਂਦੇ ਹਾਂ ਜਿਸਦੀ ਵਰਤੋਂ ਅਸੀਂ ਵਸਤਾਂ ਅਤੇ ਸੇਵਾਵਾਂ ਖਰੀਦਣ ਲਈ ਕਰਦੇ ਹਾਂ। ਇੱਕ ਖਪਤਕਾਰ ਹੋਣ ਦੇ ਰੂਪ ਵਿੱਚ ਅਸੀਂ ਵਸਤਾਂ ਅਤੇ ਸੇਵਾਵਾਂ ਦੀ ਕਿੰਨੀ ਮਾਤਰਾ ਜਾਂ ਉਨ੍ਹਾਂ ਦੇ ਕਿਸ ਸੁਮੇਲ 'ਤੇ ਖਰਚਣਾ ਹੈ, ਇਹ ਸਾਡੇ ਕੋਲ ਪੈਸਿਆਂ ਦੀ ਮਾਤਰਾ ਜੋ ਕੀਮਤ ਅਸੀਂ ਅਦਾ ਕਰਨੀ ਹੈ, ਵਸਤਾਂ ਦੀ ਸਾਡੀ ਰੁਚੀ 'ਤੇ ਨਿਰਭਰ ਕਰਦਾ ਹੈ। ਇਨ੍ਹਾਂ ਸਾਰੀਆਂ ਚੀਜ਼ਾਂ ਨੂੰ ਮੰਗ ਦੇ ਅਧਿਐਨ ਵਿੱਚ ਸ਼ਾਮਲ ਕੀਤਾ ਜਾਂਦਾ ਹੈ ਜੋ ਬਾਜ਼ਾਰ ਵਿੱਚ ਖਪਤਕਾਰਾਂ ਦੇ ਰੂਪ ਵਿੱਚ ਸਾਡੇ ਵਿਵਹਾਰ ਨੂੰ ਪ੍ਰਦਰਸ਼ਿਤ ਕਰਦਾ ਹੈ।

ਉਦੇਸ਼

ਇਸ ਪਾਠ ਨੂੰ ਪੂਰਾ ਕਰਨ ਤੋਂ ਬਾਅਦ, ਤੁਸੀਂ ਇਹ ਕਰਨ ਦੇ ਯੋਗ ਹੋਵੋਗੇ:

- ਮੰਗ ਦੀ ਧਾਰਨਾ ਦੀ ਵਿਆਖਿਆ;
- ਕਿਸੇ ਵਸਤੂ ਦੀ ਵਿਅਕਤੀਗਤ ਮੰਗ ਅਤੇ ਬਾਜ਼ਾਰ ਦੀ ਮੰਗ ਵਿੱਚ ਅੰਤਰ;
- ਮੰਗ ਨੂੰ ਪ੍ਰਭਾਵਿਤ ਕਰਨ ਵਾਲੇ ਕਾਰਕਾਂ 'ਤੇ ਚਰਚਾ;
- ਮੰਗ ਦੇ ਨਿਯਮ ਦੱਸ ਸਕੋਗੇ ਅਤੇ ਮੰਗੀ ਗਈ ਕੀਮਤ ਅਤੇ ਮਾਤਰਾ ਵਿਚਕਾਰ ਸਬੰਧ ਸਥਾਪਿਤ ਕਰ ਸਕੋਗੇ;
- ਇੱਕ ਵਿਅਕਤੀਗਤ ਮੰਗ ਵਕਰ (individual demand curve) ਬਣਾ ਸਕੋਗੇ;
- ਵਿਅਕਤੀਗਤ ਮੰਗ ਵਕਰ ਦੀ ਸ਼ਕਲ ਦੀ ਵਿਆਖਿਆ।

ਮੈਂਡਿਊਲ: 4

ਵਸਤਾਂ ਅਤੇ ਸੇਵਾਵਾਂ ਦੀ
ਵੰਡ



ਨੋਟ



ਨੋਟ

9.1 ਮੰਗ ਦਾ ਅਰਥ

ਮੰਨ ਲਓ, ਵਰਸ਼ਾ ਪਿਛਲੇ ਹਫ਼ਤੇ ਬਾਜ਼ਾਰ ਗਈ ਅਤੇ ਆਪਣੇ ਲਈ ਹਫ਼ਤੇ ਲਈ ਹੇਠਾਂ ਦਿੱਤੀ ਖਰੀਦਦਾਰੀ ਕੀਤੀ।

1. 25 ਰੁਪਏ ਵਿੱਚ 1 ਕਿਲੋ ਚੌਲ ਪ੍ਰਤੀ ਕਿਲੋ ਕੀਮਤ 'ਤੇ।
2. 0.5 ਕਿਲੋ ਅਰਹਰ ਦੀ ਦਾਲ 68 ਰੁਪਏ ਪ੍ਰਤੀ ਕਿਲੋਗ੍ਰਾਮ ਕੀਮਤ 'ਤੇ।
3. 1 ਕਿਲੋ ਕਣਕ ਦਾ ਆਟਾ 24 ਰੁਪਏ ਪ੍ਰਤੀ ਕਿਲੋਗ੍ਰਾਮ ਕੀਮਤ 'ਤੇ।
4. 2 ਕਿਲੋ ਅੰਬ 50 ਰੁਪਏ ਪ੍ਰਤੀ ਕਿਲੋ ਦੇ ਹਿਸਾਬ ਨਾਲ।

ਜਦੋਂ ਵੀ ਕੋਈ ਬਾਜ਼ਾਰ ਵਿੱਚ ਕੋਈ ਵਸਤੂ ਖਰੀਦਦਾ ਹੈ, ਤਾਂ ਉਸਨੂੰ ਉਸ ਲਈ ਦਿੱਤੀ ਗਈ ਕੀਮਤ ਦਾ ਭੁਗਤਾਨ ਕਰਨਾ ਪੈਂਦਾ ਹੈ। ਉਸ ਅਨੁਸਾਰ ਇੱਕ ਨਿਰਧਾਰਤ ਸਮੇਂ ਦੀ ਖਪਤ ਲਈ ਕੁਝ ਮਾਤਰਾ ਵਿੱਚ ਵਸਤਾਂ ਨੂੰ ਖਰੀਦਣਾ ਪੈਂਦਾ ਹੈ। ਜਿਵੇਂ ਕਿ ਵਰਸ਼ਾ ਨੇ ਕੀਤਾ।

ਮੰਗ ਦੀ ਪਰਿਭਾਸ਼ਾ

ਵਸਤੂ ਦੀ ਉਹ ਮਾਤਰਾ ਜੋ ਇੱਕ ਦਿੱਤੀ ਗਈ ਕੀਮਤ 'ਤੇ ਦਿੱਤੇ ਗਏ ਸਮੇਂ ਵਿੱਚ ਖਰੀਦੀ ਜਾਂਦੀ ਹੈ, ਮੰਗ ਕਹਾਉਂਦੀ ਹੈ।

ਅਸੀਂ ਮੰਗ ਦੇ ਵੱਖੋ-ਵੱਖਰੇ ਹਿੱਸਿਆਂ ਨੂੰ ਪ੍ਰਦਰਸ਼ਿਤ ਕਰਨ ਲਈ ਉਪਰੋਕਤ ਉਦਾਹਰਣਾਂ ਨੂੰ ਨਿਮਨ ਤਰ੍ਹਾਂ ਪ੍ਰਗਟ ਕਰ ਸਕਦੇ ਹਾਂ;

Sl. No.	Name of the good	Price (Rs.per kg.)	Quantity (kg)	Time period
1.	ਚਾਵਲ	25	1.0	ਪਿਛਲੇ ਹਫ਼ਤੇ
2.	ਅਰਹਰ ਦੀ ਦਾਲ	68	0.5	ਉਹੀ
3.	ਕਣਕ ਦਾ ਆਟਾ	24	1.0	ਉਹੀ
4.	ਅੰਬ	50	2.0	ਉਹੀ

ਇਸ ਤਰ੍ਹਾਂ ਮੰਗ ਦੀ ਪਰਿਭਾਸ਼ਾ ਵਿੱਚ ਤਿੰਨ ਭਾਗ ਸ਼ਾਮਲ ਹਨ

- (ੳ) ਵਸਤੂ ਦੀ ਕੀਮਤ
- (ਅ) ਖਰੀਦੀ ਗਈ ਵਸਤੂ ਦੀ ਮਾਤਰਾ
- (ੲ) ਸਮੇਂ ਦੀ ਮਿਆਦ।

ਮੰਗ

ਸਮੇਂ ਦੀ ਮਿਆਦ ਵੱਖ-ਵੱਖ ਹੋ ਸਕਦੀ ਹੈ। ਇਹ ਹਫ਼ਤਾ, ਮਹੀਨਾ, ਸਾਲ ਆਦਿ ਹੋ ਸਕਦੀ ਹੈ। ਇਸ ਲਈ ਉੱਪਰ ਦਿੱਤੀਆਂ ਮੰਗ ਦੀਆਂ ਉਦਾਹਰਣਾਂ ਨੂੰ ਇਸ ਤਰ੍ਹਾਂ ਲਿਖਿਆ ਜਾ ਸਕਦਾ ਹੈ

1. ਵਰਸ਼ਾ ਨੇ ਪਿਛਲੇ ਹਫ਼ਤੇ 25 ਰੁਪਏ ਪ੍ਰਤੀ ਕਿਲੋ ਦੇ ਹਿਸਾਬ ਨਾਲ 1 ਕਿਲੋ ਚੌਲ ਖਰੀਦੇ। ਇਹ ਵਰਸ਼ਾ ਵੱਲੋਂ ਚੌਲਾਂ ਦੀ ਮੰਗ ਹੈ।
2. ਵਰਸ਼ਾ ਨੇ ਪਿਛਲੇ ਹਫ਼ਤੇ 2 ਕਿਲੋ ਅੰਬ 50 ਰੁਪਏ ਪ੍ਰਤੀ ਕਿਲੋ ਵਿੱਚ ਖਰੀਦੇ। ਇਹ ਵਰਸ਼ਾ ਦੀ ਅੰਬਾਂ ਦੀ ਮੰਗ ਹੈ। ਇਸ ਤਰ੍ਹਾਂ ਹੀ ਬਾਕੀ ਵਸਤਾਂ ਹਨ।

ਹੁਣ ਹੇਠ ਲਿਖੀਆਂ ਉਦਾਹਰਣਾਂ ਪੜ੍ਹੋ:

- (i) ਨਿਤਿਨ ਨੇ ਪਿਛਲੇ ਮਹੀਨੇ ਜੁੱਤੀਆਂ ਦੇ 2 ਜੋੜੇ ਖਰੀਦੇ ਸਨ।
- (ii) ਸ਼੍ਰੀਮਾਨ ਜਾਫ਼ਰੀ ਨੇ 5 ਕਿਲੋ ਸੇਬ 40 ਰੁਪਏ ਪ੍ਰਤੀ ਕਿਲੋ ਦੇ ਹਿਸਾਬ ਨਾਲ ਖਰੀਦੇ।
- (iii) ਸ਼੍ਰੀਮਤੀ ਹਰਮੀਤ ਕੌਰ ਨੇ ਪਿਛਲੇ ਮਹੀਨੇ ਦੁੱਧ ਲਈ 25 ਰੁਪਏ ਪ੍ਰਤੀ ਲੀਟਰ ਦਾ ਭੁਗਤਾਨ ਕੀਤਾ।

ਕੀ ਇਹ ਮੰਗ ਦੀਆਂ ਉਦਾਹਰਣਾਂ ਹਨ? ਤੁਸੀਂ ਆਸਾਨੀ ਨਾਲ ਦੇਖ ਸਕਦੇ ਹੋ ਕਿ ਨਿਤਿਨ ਦੇ ਮਾਮਲੇ ਵਿੱਚ ਜੁੱਤੀ ਦੇ ਇੱਕ ਜੋੜੇ ਦੀ ਕੀਮਤ ਨਹੀਂ ਦਿੱਤੀ ਗਈ ਹੈ। ਸ਼੍ਰੀਮਾਨ ਜਾਫ਼ਰੀ ਦੇ ਮਾਮਲੇ ਵਿੱਚ ਸਮੇਂ ਦੀ ਮਿਆਦ ਦਾ ਜ਼ਿਕਰ ਨਹੀਂ ਕੀਤਾ ਗਿਆ ਹੈ। ਅੰਤ ਵਿੱਚ ਸ਼੍ਰੀਮਤੀ ਹਰਮੀਤ ਕੌਰ ਦੇ ਮਾਮਲੇ ਵਿੱਚ ਦੁੱਧ ਦੀ ਖਪਤ ਦੀ ਮਾਤਰਾ ਨਹੀਂ ਦਿੱਤੀ ਗਈ।

ਪਾਠ ਅਧੀਨ ਪ੍ਰਸ਼ਨ 9.1

1. ਮੰਗ ਨੂੰ ਪਰਿਭਾਸ਼ਿਤ ਕਰੋ।
2. ਮੰਗ ਦੀ ਪਰਿਭਾਸ਼ਾ ਵਿੱਚ ਸ਼ਾਮਲ ਤਿੰਨ ਭਾਗਾਂ ਦੇ ਨਾਮ ਦਿਓ।

9.2 ਮੰਗ ਅਤੇ ਇੱਛਾ ਵਿਚਕਾਰ ਅੰਤਰ

ਬਹੁਤ ਸਾਰੇ ਮੌਕਿਆਂ 'ਤੇ ਲੋਕ ਇੱਛਾ ਅਤੇ ਮੰਗ ਵਿਚਕਾਰ ਉਲਝਣ ਵਿੱਚ ਪਾਉਂਦੇ ਹਨ ਅਤੇ ਉਹਨਾਂ ਨੂੰ ਬਦਲਵੇਂ ਰੂਪ ਵਿੱਚ ਵਰਤਦੇ ਹਨ। ਅਸਲ ਵਿੱਚ ਇਹ ਦੋ ਵੱਖ-ਵੱਖ ਸ਼ਬਦ ਹਨ। ਮੰਗ ਖਰੀਦਣ ਦੀ ਯੋਗਤਾ ਦੁਆਰਾ ਸਮਰਥਤ ਇੱਛਾ ਹੈ। ਇਸ ਦਾ ਮਤਲਬ ਹੈ ਕਿ ਜੇਕਰ ਕੋਈ

ਮੌਡਿਊਲ: 4

ਵਸਤਾਂ ਅਤੇ ਸੇਵਾਵਾਂ ਦੀ ਵੰਡ



ਨੋਟ



ਵਿਅਕਤੀ ਕੋਈ ਚੀਜ਼ ਪ੍ਰਾਪਤ ਕਰਨਾ ਚਾਹੁੰਦਾ ਹੈ, ਤਾਂ ਉਹ ਇਸ ਦੀ ਮੰਗ ਕਰ ਸਕਦਾ ਹੈ। ਇਹ ਤਾਂ ਹੋਵੇਗਾ ਜੇਕਰ ਉਸ ਕੋਲ ਇਸ ਦੀ ਕੀਮਤ ਅਦਾ ਕਰਕੇ ਇਸ ਨੂੰ ਖਰੀਦਣ ਲਈ ਪੈਸੇ ਹੋਣ। ਕੋਈ ਵੀ ਵਿਅਕਤੀ ਕਿਸੇ ਵੀ ਭਲਾਈ ਜਾਂ ਸੇਵਾ ਦੀ ਇੱਛਾ ਕਰ ਸਕਦਾ ਹੈ। ਪਰ ਕਿਸੇ ਚੀਜ਼ ਦੀ ਇੱਛਾ ਕਰਨ ਨਾਲ, ਕੋਈ ਕੀਮਤ ਅਦਾ ਕੀਤੇ ਬਿਨਾਂ ਨਹੀਂ ਪ੍ਰਾਪਤ ਕਰ ਸਕਦਾ। ਇੱਕ ਵਾਰ ਜਦੋਂ ਉਸ ਵਿਅਕਤੀ ਦੁਆਰਾ ਕੀਮਤ ਅਦਾ ਕੀਤੀ ਜਾਂਦੀ ਹੈ ਜਿਸਦੀ ਇੱਛਾ ਹੈ, ਤਾਂ ਹੀ ਇਹ ਉਸ ਵਿਅਕਤੀ ਦੁਆਰਾ ਚੰਗੇ ਦੀ ਮੰਗ ਬਣ ਜਾਂਦੀ ਹੈ। ਉੱਪਰ ਦਿੱਤੀ ਗਈ ਉਦਾਹਰਣ ਨੂੰ ਇੱਕ ਵਾਰ ਫਿਰ ਲਓ- “ਵਰਸ਼ਾ ਨੇ ਪਿਛਲੇ ਹਫ਼ਤੇ 2 ਕਿਲੋ ਅੰਬ 50 ਰੁਪਏ ਪ੍ਰਤੀ ਕਿਲੋਗ੍ਰਾਮ ਵਿੱਚ ਖਰੀਦੇ।” ਇਹ ਹੈ ਵਰਸ਼ਾ ਵੱਲੋਂ ਅੰਬਾਂ ਦੀ ਮੰਗ। ਜੇਕਰ ਵਰਸ਼ਾ ਅੰਬ ਲੈਣ ਦੀ ਇੱਛਾ ਰੱਖਦੀ ਸੀ, ਪਰ ਖਰੀਦਣ ਦੀ ਕੀਮਤ ਅਦਾ ਨਹੀਂ ਕਰ ਸਕਦੀ ਸੀ, ਤਾਂ ਇਸ ਨੂੰ ਵਰਸ਼ਾ ਦੀ ਇੱਛਾ ਕਿਹਾ ਜਾ ਸਕਦਾ ਸੀ, ਪਰ ਅੰਬਾਂ ਦੀ ਮੰਗ ਨਹੀਂ।

9.3 ਵਿਅਕਤੀ ਦੀ ਮੰਗ ਨੂੰ ਪ੍ਰਭਾਵਿਤ ਕਰਨ ਲੇ ਕਾਰਕ

ਵਿਅਕਤੀਗਤ ਮੰਗ ਇੱਕ ਵਸਤੂ ਦੀ ਮਾਤਰਾ ਨੂੰ ਦਰਸਾਉਂਦੀ ਹੈ ਜੋ ਇੱਕ ਵਿਅਕਤੀਗਤ ਖਰੀਦਦਾਰ ਸਮੇਂ ਦੀ ਪ੍ਰਤੀ ਇਕਾਈ ਕੀਮਤ 'ਤੇ ਖਰੀਦਣ ਲਈ ਤਿਆਰ ਹੈ। ਪਰ ਇੱਕ ਵਸਤੂ ਦੀ ਕਿੰਨੀ ਮਾਤਰਾ ਖਰੀਦਣ ਲਈ ਤਿਆਰ ਹੈ, ਇਹ ਹੇਠਾਂ ਦਿੱਤੇ ਕਾਰਕਾਂ 'ਤੇ ਨਿਰਭਰ ਕਰਦਾ ਹੈ। ਇਹਨਾਂ ਨੂੰ ਮੰਗ ਦੇ ਨਿਰਧਾਰਕ ਵੀ ਕਿਹਾ ਜਾਂਦਾ ਹੈ। ਇਹ ਹਨ;

- (i) ਵਸਤੂ ਦੀ ਕੀਮਤ
- (ii) ਸਬੰਧਤ ਵਸਤਾਂ ਦੀ ਕੀਮਤ
- (iii) ਖਰੀਦਦਾਰ ਦੀ ਆਮਦਨ
- (iv) ਖਰੀਦਦਾਰ ਦੀ ਰੁਚੀ ਅਤੇ ਤਰਜੀਹਾਂ

ਆਉ ਇਹਨਾਂ ਕਾਰਕਾਂ ਦੀ ਇੱਕ-ਇੱਕ ਕਰਕੇ ਚਰਚਾ ਕਰੀਏ।

1. ਵਸਤੂ ਦੀ ਕੀਮਤ

ਜਦੋਂ ਤੁਸੀਂ ਕਿਸੇ ਵਸਤੂ ਨੂੰ ਖਰੀਦਣ ਲਈ ਕਿਸੇ ਬਾਜ਼ਾਰ ਵਿੱਚ ਜਾਂਦੇ ਹੋ, ਤਾਂ ਤੁਸੀਂ ਉਸ ਵਸਤੂ ਦੇ ਵੇਚਣ ਵਾਲੇ ਕੋਲ ਜਾਂਦੇ ਹੋ ਅਤੇ ਪਹਿਲਾਂ ਉਸਦੀ ਕੀਮਤ ਪੁੱਛਦੇ ਹੋ। ਜੇ ਤੁਸੀਂ ਸੋਚਦੇ ਹੋ ਕਿ ਕੀਮਤ ਵਾਜਬ ਹੈ, ਤਾਂ ਤੁਸੀਂ ਵਸਤੂ ਦੀ ਲੋੜੀਂਦੀ ਮਾਤਰਾ ਖਰੀਦਦੇ ਹੋ। ਦੂਜੇ ਪਾਸੇ, ਜੇਕਰ ਤੁਹਾਡੀ ਰਾਏ ਵਿੱਚ ਕੀਮਤ ਵੱਧ ਹੈ, ਤਾਂ ਤੁਸੀਂ ਇਸ ਦੀ ਘੱਟ ਮਾਤਰਾ ਨੂੰ ਖਰੀਦ ਸਕਦੇ ਹੋ ਜਾਂ ਨਹੀਂ ਖਰੀਦ ਸਕਦੇ। ਆਮ ਤੌਰ 'ਤੇ ਅਸੀਂ ਕਿਸੇ ਵਸਤੂ ਦੀ ਘੱਟ ਕੀਮਤ 'ਤੇ ਉਸ ਨੂੰ ਵੱਧ

ਮਾਤਰਾ ਵਿੱਚ ਖਰੀਦਣ ਅਤੇ ਵੱਧ ਕੀਮਤ ਹੋਣ 'ਤੇ ਇਸ ਨੂੰ ਘੱਟ ਮਾਤਰਾ ਵਿੱਚ ਖਰੀਦਣ ਲਈ ਤਿਆਰ ਹੁੰਦੇ ਹਾਂ, ਜੇਕਰ ਮੰਗ ਨੂੰ ਨਿਰਧਾਰਤ ਕਰਨ ਵਾਲੇ ਹੋਰ ਸਾਰੇ ਕਾਰਕ ਸਥਿਰ ਰਹਿੰਦੇ ਹਨ।

2. ਸਬੰਧਿਤ ਵਸਤਾਂ ਦੀ ਕੀਮਤ

ਕਿਸੇ ਵਸਤੂ ਦੀ ਮੰਗ ਵੀ ਇਸ ਨਾਲ ਸਬੰਧਿਤ ਵਸਤਾਂ ਦੀਆਂ ਕੀਮਤਾਂ ਤੋਂ ਪ੍ਰਭਾਵਿਤ ਹੁੰਦੀ ਹੈ। ਸਬੰਧਿਤ ਵਸਤਾਂ ਦੇ ਕਿਸਮਾਂ ਦੀਆਂ ਹੋ ਸਕਦੀਆਂ ਹਨ: (ੳ) ਵਿਕਲਪਿਕ ਵਸਤਾਂ (ਅ) ਪੂਰਕ ਵਸਤਾਂ

ਵਿਕਲਪਿਕ ਵਸਤਾਂ ਉਹ ਵਸਤਾਂ ਹਨ ਜੋ ਇੱਕ ਦੂਜੇ ਦੀ ਥਾਂ 'ਤੇ ਆਸਾਨੀ ਨਾਲ ਵਰਤੀਆਂ ਜਾ ਸਕਦੀਆਂ ਹਨ। ਵਿਕਲਪਕ ਵਸਤਾਂ ਦੀ ਉਦਾਹਰਨ ਕੋਕ ਅਤੇ ਪੈਪਸੀ, ਚਾਹ ਅਤੇ ਕੋਫੀ ਆਦਿ ਹਨ। ਜੇਕਰ ਕੋਫੀ ਦੀ ਕੀਮਤ ਵਧਦੀ ਹੈ ਤਾਂ ਲੋਕ ਚਾਹ ਦੀ ਜ਼ਿਆਦਾ ਮੰਗ ਕਰਨਗੇ ਅਤੇ ਇਸ ਤਰ੍ਹਾਂ ਚਾਹ ਦੀ ਮੰਗ ਵਧੇਗੀ। ਜੇਕਰ ਕੋਫੀ ਦੀ ਕੀਮਤ ਡਿੱਗਦੀ ਹੈ, ਤਾਂ ਲੋਕ ਕੋਫੀ ਦੀ ਜ਼ਿਆਦਾ ਮੰਗ ਕਰਨਗੇ ਅਤੇ ਇਸ ਤਰ੍ਹਾਂ ਚਾਹ ਦੀ ਮੰਗ ਘੱਟ ਜਾਵੇਗੀ। ਇਸ ਲਈ, ਕਿਸੇ ਵਸਤੂ ਦੀ ਮੰਗ ਸਿੱਧੇ ਤੌਰ 'ਤੇ ਇਸ ਦੀਆਂ ਵਿਕਲਪਿਕ ਵਸਤਾਂ ਦੀ ਕੀਮਤ ਨਾਲ ਸਬੰਧਿਤ ਹੈ।

ਦੂਜੇ ਪਾਸੇ, ਪੂਰਕ ਵਸਤਾਂ ਉਹ ਵਸਤਾਂ ਹੁੰਦੀਆਂ ਹਨ ਜੋ ਕਿਸੇ ਖਾਸ ਲੋੜ ਨੂੰ ਪੂਰਾ ਕਰਨ ਲਈ ਇਕੱਠੀਆਂ ਵਰਤੀਆਂ ਜਾਂਦੀਆਂ ਹਨ। ਪੂਰਕ ਵਸਤਾਂ ਦੀਆਂ ਉਦਾਹਰਨਾਂ ਹਨ ਕਾਰ ਅਤੇ ਪੈਟਰੋਲ, ਬਾਲ ਪੈਂਨ ਅਤੇ ਰੀਫਿਲ ਆਦਿ। ਜੇਕਰ ਸਾਡੇ ਕੋਲ ਕਾਰ ਹੈ ਤਾਂ ਉਸ ਨੂੰ ਚਲਾਉਣ ਲਈ ਵੀ ਸਾਨੂੰ ਪੈਟਰੋਲ ਦੀ ਲੋੜ ਪੈਂਦੀ ਹੈ। ਜ਼ਰਾ ਸੋਚੋ, ਜੇਕਰ ਪੈਟਰੋਲ ਦੀ ਕੀਮਤ ਵਧਦੀ ਹੈ ਤਾਂ ਕਾਰ ਦੀ ਮੰਗ ਦਾ ਕੀ ਹੋਵੇਗਾ? ਕਾਰ ਦੀ ਮੰਗ ਘਟੇਗੀ। ਜੇਕਰ ਇਹਨਾਂ ਵਿੱਚੋਂ ਇੱਕ ਦੀ ਕੀਮਤ ਵਧਦੀ ਹੈ, ਤਾਂ ਹੋਰ ਵਸਤਾਂ ਦੀ ਮੰਗ ਘਟ ਜਾਂਦੀ ਹੈ ਅਤੇ ਜੇਕਰ ਇਹਨਾਂ ਵਿੱਚੋਂ ਇੱਕ ਦੀ ਕੀਮਤ ਘਟਦੀ ਹੈ, ਤਾਂ ਦੂਜੇ ਦੀ ਮੰਗ ਵਧ ਜਾਂਦੀ ਹੈ। ਇਸ ਲਈ, ਕਿਸੇ ਵਸਤੂ ਦੀ ਮੰਗ ਇਸ ਦੀਆਂ ਪੂਰਕ ਵਸਤਾਂ ਦੀ ਕੀਮਤ ਨਾਲ ਵਿਪਰੀਤ ਸਬੰਧਿਤ ਹੁੰਦਾ ਹੈ।

3. ਖਰੀਦਦਾਰ ਦੀ ਆਮਦਨ

ਕਿਸੇ ਵਸਤੂ ਦੀ ਮੰਗ ਵੀ ਖਰੀਦਦਾਰ ਦੀ ਆਮਦਨ 'ਤੇ ਨਿਰਭਰ ਕਰਦੀ ਹੈ। ਜਦੋਂ ਤੁਹਾਡੀ ਆਮਦਨ ਵਧਦੀ ਹੈ, ਤਾਂ ਤੁਸੀਂ ਫਲ, ਫੁੱਲ ਕਰੀਮ ਦੁੱਧ, ਮੱਖਣ ਆਦਿ ਵਰਗੇ ਕੁਝ ਸਾਮਾਨ ਦੀ





ਖਰੀਦ 'ਤੇ ਜ਼ਿਆਦਾ ਖਰਚ ਕਰਨ ਦੀ ਸੰਭਾਵਨਾ ਰੱਖਦੇ ਹੋ। ਅਜਿਹੀਆਂ ਵਸਤਾਂ ਸਾਧਾਰਨ ਵਸਤਾਂ ਹਨ। ਸਾਧਾਰਨ ਵਸਤਾਂ ਉਹ ਵਸਤਾਂ ਹੁੰਦੀਆਂ ਹਨ ਜਿਨ੍ਹਾਂ ਦੀ ਆਮਦਨ

ਵਧਣ ਨਾਲ ਮੰਗ ਵਧਦੀ ਹੈ। ਇਸ ਲਈ, ਆਮ ਵਸਤਾਂ ਦੀ ਮੰਗ ਸਿੱਧੇ ਤੌਰ 'ਤੇ ਖਰੀਦਦਾਰ ਦੀ ਆਮਦਨ ਨਾਲ ਸਬੰਧਤ ਹੈ।

ਪਰ ਕੁਝ ਵਸਤਾਂ ਅਜਿਹੀਆਂ ਹੁੰਦੀਆਂ ਹਨ ਤਾਂ ਜਦੋਂ ਖਰੀਦਦਾਰ ਦੀ ਆਮਦਨ ਵਧ ਜਾਂਦੀ ਹੈ ਤਾਂ ਇਨ੍ਹਾਂ ਦੀ ਮੰਗ ਘੱਟ ਜਾਂਦੀ ਹੈ ਜਿਵੇਂ ਕਿ ਜਵਾਰ, ਬਾਜਰਾ, ਟੇਨਡ ਦੁੱਧ ਆਦਿ। ਇਹਨਾਂ ਵਸਤਾਂ ਨੂੰ ਤੁੱਛ (ਘਟੀਆ) ਵਸਤਾਂ ਕਿਹਾ ਜਾਂਦਾ ਹੈ, ਇਸ ਲਈ ਇਨ੍ਹਾਂ ਵਸਤਾਂ ਦੀ ਮੰਗ ਖਰੀਦਦਾਰ ਦੀ ਆਮਦਨੀ ਦੇ ਵਿਪਰੀਤ ਸਬੰਧ ਹੁੰਦਾ ਹੈ।

4. ਰੁਚੀ, ਤਰਜੀਹਾਂ ਅਤੇ ਫੈਸ਼ਨ

ਰੁਚੀ, ਤਰਜੀਹ ਅਤੇ ਫੈਸ਼ਨ ਮਹੱਤਵਪੂਰਨ ਕਾਰਕ ਹਨ ਜੋ ਕਿਸੇ ਵਸਤੂ ਦੀ ਮੰਗ ਨੂੰ ਪ੍ਰਭਾਵਿਤ ਕਰਦੇ ਹਨ। ਉਦਾਹਰਨ ਲਈ, ਜੇਕਰ ਮੋਨਿਕਾ ਸਲਵਾਰ ਅਤੇ ਕਮੀਜ਼ ਦੇ ਮੁਕਾਬਲੇ ਜੀਨਸ ਅਤੇ ਟੈਪ ਨੂੰ ਤਰਜੀਹ ਦਿੰਦੀ ਹੈ, ਤਾਂ ਉਸਦੀ ਜੀਨਸ ਅਤੇ ਟੈਪ ਦੀ ਮੰਗ ਵੱਧ ਜਾਵੇਗੀ। ਇਸ ਲਈ ਉਹਨਾਂ ਵਸਤਾਂ ਦੀ ਮੰਗ ਵਧ ਜਾਂਦੀ ਹੈ ਜੋ ਖਰੀਦਦਾਰ ਦੁਆਰਾ ਪਸੰਦ ਕੀਤੀਆਂ ਜਾਂਦੀਆਂ ਹਨ ਜਾਂ ਜੋ ਫੈਸ਼ਨ ਵਿੱਚ ਹਨ। ਦੂਜੇ ਪਾਸੇ, ਉਨ੍ਹਾਂ ਵਸਤਾਂ ਦੀ ਮੰਗ ਘਟ ਜਾਂਦੀ ਹੈ ਜੋ ਖਰੀਦਦਾਰ ਦੁਆਰਾ ਪਸੰਦ ਨਹੀਂ ਕੀਤੀਆਂ ਜਾਂਦੀਆਂ ਜਾਂ ਜੋ ਫੈਸ਼ਨ ਤੋਂ ਬਾਹਰ ਹਨ।

9.4 ਵਿਅਕਤੀਗਤ ਮੰਗ ਅਨੁਸੂਚੀ

ਹਰ ਵਿਅਕਤੀ ਆਪਣੀਆਂ ਜ਼ਰੂਰਤਾਂ ਦੀ ਪੂਰਤੀ ਲਈ ਕੁਝ ਵਸਤਾਂ ਅਤੇ ਸੇਵਾਵਾਂ ਦੀ ਮੰਗ ਕਰਦਾ ਹੈ। ਪਹਿਲਾਂ ਦਿੱਤੀ ਗਈ ਉਦਾਹਰਣ ਵਿੱਚ ਅਸੀਂ ਵਰਸ਼ਾ ਦੀ ਇੱਕ ਹਫ਼ਤੇ ਲਈ ਚਾਵਲ, ਦਾਲ, ਕਣਕ ਦੇ ਆਟੇ ਅਤੇ ਅੰਬਾਂ ਦੀ ਮੰਗ ਬਾਰੇ ਗੱਲ ਕੀਤੀ ਸੀ। ਵਰਸ਼ਾ ਦੀ ਖਰੀਦਦਾਰੀ ਇੱਥੇ ਨਹੀਂ ਰੁਕੇਗੀ। ਜਦੋਂ ਵੀ ਉਸਨੂੰ ਇਹਨਾਂ ਦੀ ਜ਼ਰੂਰਤ ਹੋਵੇਗੀ ਤਾਂ ਉਹ ਦੁਬਾਰਾ ਇਹਨਾਂ ਚੀਜ਼ਾਂ ਨੂੰ ਖਰੀਦੇਗੀ। ਅਗਲੀ ਵਾਰ ਜਦੋਂ ਉਹ ਬਾਜ਼ਾਰ ਜਾਂਦੀ ਹੈ ਤਾਂ ਉਹ ਉਸੇ ਮਾਤਰਾ ਵਿੱਚ ਖਰੀਦੇਗੀ ਜਾਂ ਨਹੀਂ, ਇਹ ਇਸ ਗੱਲ 'ਤੇ ਨਿਰਭਰ ਕਰਦਾ ਹੈ ਕਿ ਵਸਤੂ ਦੀ ਕੀਮਤ ਪਹਿਲਾਂ ਵਾਂਗ ਹੀ ਰਹੀ ਹੈ ਜਾਂ ਨਹੀਂ। ਸਮੇਂ ਦੇ ਨਾਲ ਉਸ ਦੁਆਰਾ ਇੱਕ ਵਸਤੂ ਦੀ ਮੰਗ ਦਾ ਵਿਸ਼ਲੇਸ਼ਣ ਕਰਨ ਲਈ ਅਸੀਂ ਸਿਰਫ ਕਿਸੇ ਇੱਕ ਵਸਤੂ ਦੀ ਖਰੀਦ 'ਤੇ ਵਿਚਾਰ ਕਰੀਏ, ਉਸ ਦੁਆਰਾ ਲਏ ਗਏ ਅੰਬ ਲੈਂਦੇ ਹਾਂ। ਇਹ ਵੀ ਵਿਚਾਰੀਏ ਕਿ ਹੋਰ ਵਸਤਾਂ ਦੀਆਂ ਕੀਮਤਾਂ ਨੇ ਵਰਸ਼ਾ ਦੀ ਜੇਬ ਵਿੱਚ ਪੈਸੇ

ਮੰਗ

ਅਤੇ ਉਸਦੀ ਰੁਚੀ ਨਹੀਂ ਬਦਲੀ ਹੈ। ਸਮੇਂ ਦੇ ਨਾਲ ਵਰਸ਼ਾ ਦੁਆਰਾ ਅੰਬਾਂ ਦੀ ਖਰੀਦ ਨੂੰ ਦੇਖਣ ਤੋਂ ਬਾਅਦ ਸਾਨੂੰ ਨਿਮਨ ਗੱਲਾਂ ਦਾ ਪਤਾ ਲੱਗਦਾ ਹੈ।

“ਜੇ ਅੰਬਾਂ ਦੀ ਕੀਮਤ 50 ਰੁਪਏ ਪ੍ਰਤੀ ਕਿਲੋ ਹੈ ਤਾਂ ਵਰਸ਼ਾ ਇੱਕ ਹਫ਼ਤੇ ਲਈ 2 ਕਿਲੋ ਅੰਬ ਖਰੀਦਦੀ ਹੈ। ਜੇਕਰ ਅੰਬਾਂ ਦੀ ਕੀਮਤ 60 ਰੁਪਏ ਪ੍ਰਤੀ ਕਿਲੋ ਹੋ ਜਾਂਦੀ ਹੈ ਤਾਂ ਉਹ ਹਫ਼ਤੇ ਲਈ ਸਿਰਫ 1.5 ਕਿਲੋ ਅੰਬ ਹੀ ਖਰੀਦਦੀ ਹੈ। ਜੇਕਰ ਕੀਮਤ 40 ਰੁਪਏ ਪ੍ਰਤੀ ਕਿਲੋ ਤੱਕ ਡਿੱਗ ਜਾਂਦੀ ਹੈ। ਉਹ ਹੋਰ ਯਾਨੀ 2.5 ਕਿਲੋਗ੍ਰਾਮ ਖਰੀਦਣ ਲਈ ਤਿਆਰ ਹੈ। ਇੱਕ ਹਫ਼ਤੇ ਲਈ ਅੰਬਾਂ ਦਾ ਭਾਵ, ਜੇਕਰ ਕੀਮਤ 50 ਰੁਪਏ ਪ੍ਰਤੀ ਕਿਲੋ ਹੈ। ਵਰਸ਼ਾ ਦੀ ਮੰਗ 2 ਕਿਲੋ ਪ੍ਰਤੀ ਹਫ਼ਤੇ ਹੈ, 60 ਰੁਪਏ ਪ੍ਰਤੀ ਕਿਲੋ ਦੇ ਹਿਸਾਬ ਨਾਲ, ਉਸਦੀ ਮੰਗ ਸਿਰਫ 1.5 ਕਿਲੋ ਪ੍ਰਤੀ ਹਫ਼ਤੇ ਹੈ। 40 ਰੁਪਏ ਪ੍ਰਤੀ ਕਿਲੋ ਦੇ ਹਿਸਾਬ ਨਾਲ ਉਸਦੀ ਮੰਗ 2.5 ਕਿਲੋ ਹੈ।” ਅਸੀਂ ਇਸ ਨੂੰ ਸਾਰਣੀ 9.1 ਵਿੱਚ ਹੇਠਾਂ ਪੇਸ਼ ਕਰ ਸਕਦੇ ਹਾਂ।

ਸਾਰਣੀ 9.1 ਅੰਬਾਂ ਲਈ ਵਰਸ਼ਾ ਦੀ ਮੰਗ

ਅੰਬਾਂ ਦੀ ਕੀਮਤ (ਰੁਪਏ ਪ੍ਰਤੀ ਕਿਲੋ)	ਅੰਬਾਂ ਦੀ ਮੰਗੀ ਗਈ ਮਾਤਰਾ ਪ੍ਰਤੀ ਹਫ਼ਤਾ (ਕਿਲੋਗ੍ਰਾਮ 'ਚ)
80	0.5
70	1.0
60	1.5
50	2.0
40	2.5
30	3

ਸਾਰਣੀ 9.1 ਵਰਸ਼ਾ ਦੁਆਰਾ ਪ੍ਰਤੀ ਹਫ਼ਤੇ ਵੱਖ-ਵੱਖ ਕੀਮਤਾਂ 'ਤੇ ਮੰਗੇ ਗਏ ਅੰਬਾਂ ਦੀ ਵੱਖ-ਵੱਖ ਮਾਤਰਾ ਨੂੰ ਦਰਸਾਉਂਦੀ ਹੈ। ਵੱਖ-ਵੱਖ ਕੀਮਤਾਂ 'ਤੇ ਮੰਗੀ ਗਈ ਵਸਤੂ ਦੀਆਂ ਵੱਖ-ਵੱਖ ਮਾਤਰਾਵਾਂ ਦੀ ਅਜਿਹੀ ਸਾਰਣੀਬੱਧ ਪੇਸ਼ਕਾਰੀ ਨੂੰ ਵਿਅਕਤੀਗਤ ਮੰਗ ਅਨੁਸੂਚੀ ਕਿਹਾ ਜਾਂਦਾ ਹੈ। ਵਿਅਕਤੀਗਤ ਖਰੀਦਦਾਰ ਦੁਆਰਾ ਕਿਸੇ ਵਸਤੂ ਦੀ ਮੰਗ ਨੂੰ ਵਿਅਕਤੀਗਤ ਮੰਗ ਕਿਹਾ ਜਾਂਦਾ ਹੈ। ਵਿਅਕਤੀਗਤ ਮੰਗ ਇੱਕ ਵਸਤੂ ਦੀ ਮਾਤਰਾ ਹੁੰਦੀ ਹੈ ਜਿਸਨੂੰ ਵਿਅਕਤੀਗਤ ਖਰੀਦਦਾਰ ਸਮੇਂ ਦੀ ਪ੍ਰਤੀ ਯੂਨਿਟ ਕੀਮਤ 'ਤੇ ਖਰੀਦਣ ਲਈ ਤਿਆਰ ਹੁੰਦਾ ਹੈ।

9.5 ਮੰਗ ਦਾ ਨਿਯਮ

ਮੰਗ ਦਾ ਨਿਯਮ ਕਿਸੇ ਵਸਤੂ ਦੀ ਕੀਮਤ ਵਿੱਚ ਪਰਿਵਰਤਨ ਹੋਣ 'ਤੇ ਉਸ ਦੀ ਮੰਗ ਦੀ ਮਾਤਰਾ 'ਤੇ ਹੋਣ ਵਾਲੇ ਪ੍ਰਭਾਵ ਨੂੰ ਪ੍ਰਗਟ ਕਰਦਾ ਹੈ।

ਮੈਂਡਿਊਲ: 4

ਵਸਤਾਂ ਅਤੇ ਸੇਵਾਵਾਂ ਦੀ ਵੰਡ



ਨੋਟ



ਜਿਵੇਂ ਕਿ ਪਹਿਲਾਂ ਚਰਚਾ ਕੀਤੀ ਗਈ ਹੈ, ਵਸਤੂ ਦੀ ਮੰਗ ਬਹੁਤ ਸਾਰੇ ਕਾਰਕਾਂ ਦੁਆਰਾ ਪ੍ਰਭਾਵਿਤ ਹੁੰਦੀ ਹੈ ਜਿਵੇਂ ਕਿ ਵਸਤੂ ਦੀ ਕੀਮਤ, ਸਬੰਧਤ ਵਸਤਾਂ ਦੀ ਕੀਮਤ, ਖਰੀਦਦਾਰ ਦੀ ਆਮਦਨ, ਰੁਚੀ ਅਤੇ ਤਰਜੀਹਾਂ ਆਦਿ ਸਥਿਰ ਰਹਿੰਦੇ ਹਨ। ਮੰਗ ਦਾ ਨਿਯਮ ਵਸਤੂ ਦੀ ਕੀਮਤ ਵਿੱਚ ਤਬਦੀਲੀ ਹੋਣ 'ਤੇ ਉਸ ਦੀ ਮੰਗ ਦੀ ਮਾਤਰਾ 'ਤੇ ਹੋਣ ਵਾਲੇ ਪ੍ਰਭਾਵ ਨੂੰ ਪ੍ਰਗਟ ਕਰਦਾ ਹੈ।

ਮੰਗ ਦਾ ਨਿਯਮ ਹੈ, “ਹੋਰ ਕਾਰਕ ਸਥਿਰ ਰਹਿਣ 'ਤੇ, ਜੇਕਰ ਕਿਸੇ ਵਸਤੂ ਦੀ ਕੀਮਤ ਵਿੱਚ ਕਮੀ ਹੁੰਦੀ ਹੈ ਤਾਂ ਉਸ ਦੀ ਮੰਗ ਦੀ ਮਾਤਰਾ ਵਿੱਚ ਵਾਧਾ ਹੁੰਦਾ ਹੈ। ਜੇਕਰ ਕੀਮਤ ਵਿੱਚ ਵਾਧਾ ਹੁੰਦਾ ਹੈ ਤਾਂ ਉਸ ਦੀ ਮੰਗ ਦੀ ਮਾਤਰਾ ਵਿੱਚ ਕਮੀ ਹੋ ਜਾਂਦੀ ਹੈ।”

ਮੰਗ ਦੇ ਨਿਯਮ ਤੋਂ ਮਤਲਬ ਹੈ, ਮੰਗ ਨੂੰ ਨਿਰਧਾਰਤ ਕਰਨ ਵਾਲੇ ਹੋਰ ਕਾਰਕਾਂ ਦੇ ਸਥਿਰ ਰਹਿਣ 'ਤੇ ਕਿਸੇ ਵਸਤੂ ਦੀ ਕੀਮਤ ਅਤੇ ਉਸ ਦੀ ਮੰਗ ਦੀ ਮਾਤਰਾ ਵਿੱਚ ਵਿਪਰੀਤ ਸਬੰਧ ਹੁੰਦਾ ਹੈ।

9.6 ਵਿਅਕਤੀਗਤ ਮੰਗ ਵਕਰ (INDIVIDUAL DEMAND CURVE)

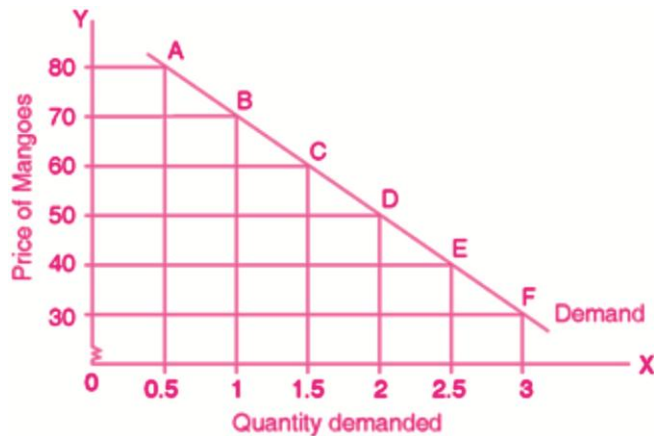
ਜਦੋਂ ਮੰਗ ਕੀਤੀ ਕੀਮਤ ਅਤੇ ਮਾਤਰਾ ਦੇ ਉੱਪਰ ਦੱਸੇ ਗਏ ਸਬੰਧ ਨੂੰ ਰੇਖਾ-ਚਿੱਤਰ ਰੂਪ ਵਿੱਚ ਦਰਸਾਇਆ ਜਾਂਦਾ ਹੈ, ਤਾਂ ਇਸਨੂੰ ਮੰਗ ਵਕਰ ਕਿਹਾ ਜਾਂਦਾ ਹੈ। ਇਸ ਤਰ੍ਹਾਂ ਮੰਗ ਵਕਰ ਮੰਗ ਦੇ ਨਿਯਮ ਦੀ ਇੱਕ ਰੇਖਾ-ਚਿੱਤਰ ਪ੍ਰਤੀਨਿਧਤਾ ਹੈ। ਮੰਗ ਵਕਰ ਚਿਤਰਾਤਮਕ ਰੂਪ ਵਿੱਚ ਵੱਖ-ਵੱਖ ਕੀਮਤਾਂ 'ਤੇ ਮੰਗੀ ਗਈ ਵਸਤੂ ਦੀਆਂ ਵੱਖ-ਵੱਖ ਮਾਤਰਾਵਾਂ ਨੂੰ ਦਰਸਾਉਂਦਾ ਹੈ।

ਅਸੀਂ ਚਿੱਤਰ 9.1 ਦੀ ਮਦਦ ਨਾਲ ਅੰਬਾਂ ਲਈ ਵਰਸ਼ਾ ਦਾ ਮੰਗ ਵਕਰ (ਵਿਅਕਤੀਗਤ ਮੰਗ ਵਕਰ) ਬਣਾ ਸਕਦੇ ਹਾਂ। ਚਿੱਤਰ 9.1 ਵਿੱਚ ਮੰਗ ਵਕਰ ਵੇਖੋ।

X-ਧੁਰੇ 'ਤੇ ਅੰਬਾਂ ਦੀ ਮੰਗ ਕੀਤੀ ਮਾਤਰਾ ਅਤੇ Y-ਧੁਰੇ 'ਤੇ ਅੰਬਾਂ ਦੀ ਕੀਮਤ ਲਓ। Y-ਧੁਰੇ (ਲੰਬਕਾਰੀ) 'ਤੇ 30 ਤੋਂ 80 ਰੁਪਏ ਤੱਕ ਦੀਆਂ ਕੀਮਤਾਂ ਅੰਕਿਤ ਕੀਤੀਆਂ ਗਈਆਂ ਹਨ। ਐਕਸ-ਐਕਸਿਸ (ਲੇਟਵੇਂ) ਉੱਤੇ 0.5 ਤੋਂ 3 ਕਿਲੋਗ੍ਰਾਮ ਤੱਕ ਅੰਬਾਂ ਦੀ ਮਾਤਰਾ ਅੰਕਿਤ ਕੀਤੀ ਜਾਂਦੀ ਹੈ। ਵਰਸ਼ਾ ਨੇ 80 ਰੁਪਏ ਵਿੱਚ 0.5 ਕਿਲੋ ਅੰਬ ਦੀ ਮੰਗ ਕੀਤੀ ਹੈ। ਇਹ ਮਿਸ਼ਰਨ ਚਿੱਤਰ 9.1 ਵਿੱਚ ਦਿੱਤੇ ਗਏ ਗ੍ਰਾਫ ਵਿੱਚ ਬਿੰਦੂ A 'ਤੇ ਦਿਖਾਇਆ ਗਿਆ ਹੈ। ਇਸੇ ਤਰ੍ਹਾਂ, ਸਾਰਣੀ 9.1 ਵਿੱਚ ਦਿੱਤੇ

ਮੰਗ

ਅੰਬਾਂ ਦੀ ਕੀਮਤ ਅਤੇ ਮਾਤਰਾ ਦੇ ਹੋਰ ਸੰਯੋਜਨ ਬਿੰਦੂ B, C, D, E ਅਤੇ F ਦੇ ਰੂਪ ਵਿੱਚ ਦਰਸਾਏ ਗਏ ਹਨ। ਇਹਨਾਂ ਬਿੰਦੂਆਂ ਨੂੰ ਜੋੜ ਕੇ ਅੰਬਾਂ ਲਈ ਵਰਸ਼ਾ ਦੀ ਮੰਗ ਵਕਰ ਪ੍ਰਾਪਤ ਕੀਤੀ ਗਈ ਹੈ।



ਚਿੱਤਰ 9.1 ਵਿਅਕਤੀਗਤ ਮੰਗ ਵਕਰ

ਇਸ ਤਰ੍ਹਾਂ, ਮੰਗ ਅਨੁਸੂਚੀ ਅਤੇ ਮੰਗ ਵਕਰ ਦੋਵੇਂ ਮੰਗੀ ਗਈ ਕੀਮਤ ਅਤੇ ਮਾਤਰਾ ਦੇ ਵਿਚਕਾਰ ਇੱਕੋ ਰਿਸ਼ਤੇ ਨੂੰ ਦਰਸਾਉਂਦੇ ਹਨ, ਪਰ ਮੰਗ ਅਨੁਸੂਚੀ ਇਸਨੂੰ ਇੱਕ ਸਾਰਣੀ ਵਿੱਚ ਦਰਸਾਉਂਦੀ ਹੈ ਅਤੇ ਇੱਕ ਡਾਇਗ੍ਰਾਮੈਟਿਕ ਰੂਪ ਵਿੱਚ ਮੰਗ ਵਕਰ ਨੂੰ ਦਰਸਾਉਂਦੀ ਹੈ।

ਪਾਠ ਅਧੀਨ ਪ੍ਰਸ਼ਨ 9.2

1. ਮੰਗ ਦਾ ਨਿਯਮ ਦੱਸੋ।
2. ਮੰਗ ਦੇ ਨਿਯਮ ਦੀਆਂ ਧਾਰਨਾਵਾਂ ਕੀ ਹਨ।
3. ਇਹ ਮੰਨ ਕੇ ਕਿ ਤੁਹਾਡੀ ਆਮਦਨ, ਰੁਚੀ ਅਤੇ ਤਰਜੀਹਾਂ ਆਦਿ ਵਿੱਚ ਕੋਈ ਤਬਦੀਲੀ ਨਹੀਂ ਆਉਂਦੀ ਤਾਂ ਸੇਬਾਂ ਦੀ ਤੁਹਾਡੀ ਮੰਗ 'ਤੇ ਕੀ ਪ੍ਰਭਾਵ ਪਵੇਗਾ? ਜੇਕਰ ਸੇਬਾਂ ਦੀ ਕੀਮਤ 80 ਰੁਪਏ ਪ੍ਰਤੀ ਕਿਲੋ ਤੋਂ ਵਧ ਕੇ 100 ਰੁਪਏ ਪ੍ਰਤੀ ਕਿਲੋ ਹੋ ਜਾਂਦੀ ਹੈ।

9.7 ਵਿਅਕਤੀਗਤ ਮੰਗ ਵਕਰ ਦਾ ਆਕਾਰ

ਮੰਗ ਦੇ ਨਿਯਮ ਦੇ ਅਨੁਸਾਰ, ਜਦੋਂ ਮੰਗ ਨੂੰ ਨਿਰਧਾਰਤ ਕਰਨ ਵਾਲੇ ਹੋਰ ਸਾਰੇ ਕਾਰਕ ਸਥਿਰ ਰਹਿੰਦੇ ਹਨ, ਤਾਂ ਖਰੀਦਦਾਰ ਕਿਸੇ ਵਸਤੂ ਦੀ ਘੱਟ ਕੀਮਤ 'ਤੇ ਵਧੇਰੇ ਮਾਤਰਾ ਅਤੇ ਉੱਚ

ਮੈਂਡਿਊਲ: 4

ਵਸਤਾਂ ਅਤੇ ਸੇਵਾਵਾਂ ਦੀ ਵੰਡ



ਨੋਟ



ਕੀਮਤ 'ਤੇ ਘੱਟ ਖਰੀਦਦਾ ਹੈ। ਮੰਗ ਕੀਤੀ ਕੀਮਤ ਅਤੇ ਮਾਤਰਾ ਦੇ ਵਿਚਕਾਰ ਇਸ ਵਿਪਰੀਤ ਸਬੰਧ ਦੇ ਕਾਰਨ, ਮੰਗ ਵਕਰ ਖੱਬੇ ਤੋਂ ਸੱਜੇ ਵੱਲ ਹੇਠਾਂ ਵੱਲ ਢਲ ਜਾਂਦਾ ਹੈ। ਪਰ ਸਵਾਲ ਇਹ ਪੈਦਾ ਹੁੰਦਾ ਹੈ ਕਿ ਖਰੀਦਦਾਰ ਘੱਟ ਕੀਮਤ 'ਤੇ ਵਸਤਾਂ ਦੀ ਜ਼ਿਆਦਾ ਮਾਤਰਾ ਅਤੇ ਜ਼ਿਆਦਾ ਕੀਮਤ 'ਤੇ ਘੱਟ ਕਿਉਂ ਖਰੀਦਦਾ ਹੈ? ਦੂਜੇ ਸ਼ਬਦਾਂ ਵਿੱਚ ਮੰਗ ਵਕਰ ਖੱਬੇ ਤੋਂ ਸੱਜੇ ਹੇਠਾਂ ਵੱਲ ਕਿਉਂ ਢਲਦਾ ਹੈ? ਕੀਮਤ ਅਤੇ ਮੰਗ ਦੀ ਮਾਤਰਾ ਵਿਚਕਾਰ ਵਿਪਰੀਤ ਸਬੰਧ ਹੋਣ ਦੇ ਕੁਝ ਮਹੱਤਵਪੂਰਨ ਕਾਰਨਾਂ ਦਾ ਇੱਥੇ ਜ਼ਿਕਰ ਕੀਤਾ ਗਿਆ ਹੈ।

1. ਜਦੋਂ ਕਿਸੇ ਵਸਤੂ ਦੀਆਂ ਵੱਧ ਤੋਂ ਵੱਧ ਇਕਾਈਆਂ ਦੀ ਖਪਤ ਹੁੰਦੀ ਹੈ, ਤਾਂ ਵਸਤੂ ਦੀਆਂ ਲਗਾਤਾਰ ਇਕਾਈਆਂ ਤੋਂ ਪ੍ਰਾਪਤ ਸੰਤੁਸ਼ਟੀ ਘਟਦੀ ਜਾਂਦੀ ਹੈ। ਉਦਾਹਰਨ ਲਈ, ਇੱਕ ਭੁੱਖੇ ਵਿਅਕਤੀ ਨੂੰ ਪਹਿਲੀ ਰੋਟੀ ਤੋਂ ਵੱਧ ਤੋਂ ਵੱਧ ਸੰਤੁਸ਼ਟੀ ਮਿਲਦੀ ਹੈ, ਦੂਜੀ ਰੋਟੀ ਤੋਂ ਘੱਟ ਸੰਤੁਸ਼ਟੀ ਮਿਲਦੀ ਹੈ ਅਤੇ ਤੀਜੀ ਤੋਂ ਹੋਰ ਵੀ ਘੱਟ। ਜੇਕਰ ਉਸ ਨੂੰ ਜ਼ਿਆਦਾ ਸੰਤੁਸ਼ਟੀ ਮਿਲਦੀ ਹੈ, ਤਾਂ ਉਹ ਜ਼ਿਆਦਾ ਦੇਣ ਲਈ ਤਿਆਰ ਹੋਵੇਗਾ ਅਤੇ ਜੇਕਰ ਉਸ ਨੂੰ ਘੱਟ ਸੰਤੁਸ਼ਟੀ ਮਿਲਦੀ ਹੈ, ਤਾਂ ਉਹ ਇਸ ਲਈ ਘੱਟ ਕੀਮਤ ਦੇਣ ਲਈ ਤਿਆਰ ਹੋਵੇਗਾ। ਇਸ ਦਾ ਮਤਲਬ ਹੈ ਕਿ ਉਹ ਕਿਸੇ ਵਸਤੂ ਦੀ ਵੱਧ ਮਾਤਰਾ ਘੱਟ ਕੀਮਤ 'ਤੇ ਅਤੇ ਘੱਟ ਮਾਤਰਾ ਵੱਧ ਕੀਮਤ 'ਤੇ ਖਰੀਦਣ ਲਈ ਤਿਆਰ ਹੋਵੇਗਾ। ਮੰਗ ਦਾ ਨਿਯਮ ਵੀ ਉਹੀ ਜਾਣਕਾਰੀ ਪ੍ਰਦਾਨ ਕਰਦਾ ਹੈ ਜੋ ਮੰਗ ਵਕਰ ਦੀ ਢਲਾਣ ਨੂੰ ਹੇਠਾਂ ਵੱਲ ਲੈ ਜਾਵੇਗਾ।
2. ਮੰਨ ਲਓ, ਤੁਸੀਂ ਬਾਜ਼ਾਰ ਤੋਂ ਅੰਬ ਖਰੀਦਦੇ ਹੋ। ਜੇਕਰ ਅੰਬਾਂ ਦੀ ਕੀਮਤ 40 ਰੁਪਏ ਪ੍ਰਤੀ ਕਿਲੋ ਹੈ ਅਤੇ ਤੁਸੀਂ ਇਸ ਕੀਮਤ 'ਤੇ 2 ਕਿਲੋ ਅੰਬ ਖਰੀਦਦੇ ਹੋ। ਜੇਕਰ ਅੰਬਾਂ ਦੀ ਕੀਮਤ 40 ਰੁਪਏ ਪ੍ਰਤੀ ਕਿਲੋ ਤੋਂ ਘਟ ਕੇ 20 ਰੁਪਏ ਪ੍ਰਤੀ ਕਿਲੋ ਹੋ ਜਾਂਦੀ ਹੈ, ਤਾਂ ਤੁਹਾਡੀ ਅਸਲ ਆਮਦਨ ਜਾਂ ਖਰੀਦ ਸ਼ਕਤੀ ਦੁੱਗਣੀ ਹੋ ਜਾਂਦੀ ਹੈ ਅਤੇ ਹੁਣ ਤੁਸੀਂ ਉਸੇ ਪੈਸੇ ਦੀ ਆਮਦਨ ਨਾਲ ਦੁੱਗਣੀ ਮਾਤਰਾ ਭਾਵ 4 ਕਿਲੋ ਅੰਬ ਖਰੀਦ ਸਕਦੇ ਹੋ। ਇਸ ਤਰ੍ਹਾਂ ਇੱਕ ਖਰੀਦਦਾਰ ਕਿਸੇ ਵਸਤੂ ਦੀ ਵਧੇਰੇ ਮਾਤਰਾ ਖਰੀਦ ਸਕਦਾ ਹੈ ਜਦੋਂ ਉਸਦੀ ਕੀਮਤ ਘਟਦੀ ਹੈ ਅਤੇ ਜਦੋਂ ਉਸਦੀ ਕੀਮਤ ਵੱਧਦੀ ਹੈ ਤਾਂ ਮੰਗ ਵਕਰ ਦੇ ਹੇਠਾਂ ਵੱਲ ਜਾਂਦੀ ਹੈ।

ਮੰਗ

- ਜਦੋਂ ਕਿਸੇ ਵਸਤੂ ਦੀ ਕੀਮਤ ਘਟਦੀ ਹੈ, ਤਾਂ ਇਹ ਇਸਦੇ ਵਿਕਲਪਾਂ ਨਾਲੋਂ ਮੁਕਾਬਲਤਨ ਸਸਤੀ ਹੋ ਜਾਂਦੀ ਹੈ (ਹਾਲਾਂਕਿ ਵਿਕਲਪ ਦੀ ਕੀਮਤ ਉਹੀ ਰਹਿੰਦੀ ਹੈ)। ਉਦਾਹਰਨ ਲਈ, ਜੇਕਰ ਕੋਕ ਦੀ ਕੀਮਤ ਘਟਦੀ ਹੈ, ਤਾਂ ਇਹ ਆਪਣੇ ਵਿਕਲਪ ਪੈਪਸੀ ਨਾਲੋਂ ਤੁਲਨਾਤਮਕ ਤੌਰ 'ਤੇ ਸਸਤਾ ਹੋ ਜਾਂਦਾ ਹੈ। ਲੋਕ ਪੈਪਸੀ ਦੀ ਥਾਂ ਕੋਕ ਖਰੀਦਣ ਲੱਗਣਗੇ। (ਵਿਕਲਪਿਕ ਤੌਰ 'ਤੇ ਪੈਪਸੀ ਨੂੰ ਕੋਕ ਦੁਆਰਾ ਬਦਲਿਆ ਜਾਂਦਾ ਹੈ), ਜਿਸ ਨਾਲ ਕੋਕ ਦੀ ਕੀਮਤ ਡਿੱਗਣ 'ਤੇ ਉਸਦੀ ਮੰਗ ਵੱਧ ਜਾਂਦੀ ਹੈ। ਦੂਜੇ ਪਾਸੇ, ਕੀਮਤ ਵਧਣ 'ਤੇ ਵਸਤੂ ਦੀ ਮੰਗ ਘਟੇਗੀ। ਇਹ ਮੰਗ ਵਕਰ ਦੀ ਢਲਾਣ ਨੂੰ ਹੇਠਾਂ ਵੱਲ ਲੈ ਜਾਵੇਗੀ।

ਪਾਠ ਅਧੀਨ ਪ੍ਰਸ਼ਨ 9.3

- ਜੇਕਰ ਕਿਸੇ ਵਸਤੂ ਦੀ ਕੀਮਤ ਘਟਦੀ ਹੈ ਤਾਂ ਖਰੀਦਦਾਰ ਦੀ ਅਸਲ ਆਮਦਨ 'ਤੇ ਕੀ ਪ੍ਰਭਾਵ ਹੋਵੇਗਾ?
- ਜਦੋਂ ਕੀਮਤ ਅਤੇ ਉਸਦੀ ਮੰਗ ਦੀ ਮਾਤਰਾ ਵਿਚਕਾਰ ਵਿਪਰੀਤ ਸਬੰਧ ਹੈ ਤਾਂ ਮੰਗ ਵਕਰ ਦੀ ਢਲਾਣ ਕਿਵੇਂ ਦੀ ਹੋਵੇਗੀ?
- ਤੁਹਾਨੂੰ ਪਿਆਸ ਲੱਗੀ ਹੈ ਅਤੇ ਤੁਸੀਂ ਪਹਿਲਾਂ ਹੀ ਇੱਕ ਗਲਾਸ ਪਾਣੀ ਪੀ ਚੁੱਕੇ ਹੋ। ਦੂਜਾ ਗਲਾਸ ਪਾਣੀ ਪੀਣ 'ਤੇ ਉਸ ਨੂੰ ਮਿਲਣ ਵਾਲੀ ਸੰਤੁਸ਼ਟੀ ਵਧੇਗੀ ਜਾਂ ਘਟੇਗੀ?
- ਹੇਠਾਂ ਦਿੱਤੇ ਅੰਕੜਿਆਂ ਦੀ ਮਦਦ ਨਾਲ ਮੰਗ ਵਕਰ ਬਣਾਓ:

ਕੀਮਤ (ਰੁਪਏ ਪ੍ਰਤੀ ਇਕਾਈ) 1 2 3 4 5

ਮੰਗੀ ਗਈ ਮਾਤਰਾ (ਇਕਾਈਆਂ) 20 16 12 8 4

9.8 ਵਸਤਾਂ ਲਈ ਬਾਜ਼ਾਰ ਦੀ ਮੰਗ

ਮੰਡੀ 'ਚ ਅੰਬਾਂ ਦਾ ਇਕੱਲਾ ਖਰੀਦਦਾਰ ਵਰਸ਼ਾ ਨਹੀਂ ਹੈ। ਕੁਝ ਹੋਰ ਵਿਅਕਤੀ ਵੀ ਹੋ ਸਕਦੇ ਹਨ ਜੋ ਮੰਡੀ ਵਿੱਚ ਅੰਬਾਂ ਦੀ ਮੰਗ ਕਰ ਸਕਦੇ ਹਨ। ਮੰਨ ਲਓ ਕਿ ਦੋ ਹੋਰ ਖਰੀਦਦਾਰ ਵਿਭਾ ਅਤੇ ਸੇਮਿਆ ਹਨ ਜੋ ਮੰਡੀ ਵਿੱਚ ਅੰਬ ਖਰੀਦਣ ਲਈ ਤਿਆਰ ਹਨ।

ਮੈਂਡਿਊਲ: 4

ਵਸਤਾਂ ਅਤੇ ਸੇਵਾਵਾਂ ਦੀ ਵੰਡ



ਨੋਟ

ਵਸਤਾਂ ਅਤੇ ਸੇਵਾਵਾਂ ਦੀ ਵੰਡ



ਨੋਟ

ਕਿਸੇ ਵਸਤੂ ਦੀ ਕੁੱਲ ਮਾਤਰਾ ਜਿਸ ਦੀ ਮੰਗ ਸਾਰੇ ਵਿਅਕਤੀਗਤ ਖਰੀਦਦਾਰਾਂ ਦੁਆਰਾ ਦਿੱਤੇ ਸਮੇਂ 'ਤੇ ਦਿੱਤੀ ਗਈ ਕੀਮਤ 'ਤੇ ਕੀਤੀ ਜਾਂਦੀ ਹੈ, ਉਹ ਉਸ ਵਸਤੂ ਦੀ ਮਾਰਕੀਟ ਮੰਗ ਕਹਾਉਂਦੀ ਹੈ।

ਮੰਨ ਲਓ ਕਿ ਮੰਡੀ ਵਿੱਚ ਅੰਬਾਂ ਦੀ ਖਰੀਦਦਾਰੀ ਕਰਨ ਵਾਲੇ ਸਿਰਫ਼ ਤਿੰਨ ਖਰੀਦਦਾਰ ਹਨ- ਵਰਸ਼ਾ, ਵਿਭਾ ਅਤੇ ਸੋਮਿਆ, ਬਾਜ਼ਾਰ ਦੀ ਮੰਗ ਇਹਨਾਂ ਤਿੰਨਾਂ ਖਰੀਦਦਾਰਾਂ ਦੀ ਵਿਅਕਤੀਗਤ ਮੰਗ ਅਨੁਸੂਚੀ ਦਾ ਜੋੜ ਹੋਵੇਗੀ। ਹੁਣ ਜੇਕਰ ਅਸੀਂ ਵਰਸ਼ਾ ਦੁਆਰਾ ਮੰਗ ਦੇ ਨਾਲ ਸਾਰਣੀ 9.1 ਵਿੱਚ ਵਿਭਾ ਅਤੇ ਸੋਮਿਆ ਦੀ ਸਬੰਧਿਤ ਮੰਗ ਨੂੰ ਦਰਸਾਉਂਦੇ ਹੋਰ ਦੋ ਕਾਲਮ ਜੋੜਦੇ ਹਾਂ, ਤਾਂ ਅਸੀਂ ਮਾਰਕੀਟ ਦੀ ਮੰਗ ਅਨੁਸੂਚੀ ਪ੍ਰਾਪਤ ਕਰ ਸਕਦੇ ਹਾਂ। ਇਹ ਹੇਠਾਂ ਦਿੱਤੀ ਸਾਰਣੀ 9.2 ਵਿੱਚ ਦਿਖਾਇਆ ਗਿਆ ਹੈ।

ਸਾਰਣੀ 9.2 ਅੰਬਾਂ ਦੀ ਬਾਜ਼ਾਰ ਦੀ ਮੰਗ

ਅੰਬਾਂ ਦੀ ਕੀਮਤ (ਰੁ. ਪ੍ਰਤੀ ਕਿਲੋ)	ਅੰਬਾਂ ਦੀ ਮੰਗੀ ਗਈ ਮਾਤਰਾ ਪ੍ਰਤੀ ਹਫ਼ਤਾ (ਕਿਲੋਗ੍ਰਾਮ 'ਚ)			ਅੰਬਾਂ ਦੀ ਬਾਜ਼ਾਰ ਮੰਗ ਪ੍ਰਤੀ ਹਫ਼ਤਾ (ਕਿਲੋਗ੍ਰਾਮ 'ਚ)
	ਵਰਸ਼ਾ	ਵਿਭਾ	ਸੋਮਿਆ	
80	0.5	1.0	0	1.5
70	1.0	1.5	0.5	3.0
60	1.5	2.0	1.0	4.5
50	2.0	2.5	1.5	6.0
40	2.5	3.0	2.0	7.5
30	3	3.5	2.5	9.0

ਜਦੋਂ ਅੰਬਾਂ ਦੀ ਕੀਮਤ 80 ਰੁਪਏ ਪ੍ਰਤੀ ਕਿਲੋਗ੍ਰਾਮ ਹੈ ਤਾਂ ਵਰਸ਼ਾ 0.5 ਕਿਲੋ ਅੰਬ ਮੰਗਦੀ ਹੈ, ਵਿਭਾ 1.0 ਕਿਲੋ ਅੰਬ ਮੰਗਦੀ ਹੈ ਅਤੇ ਸੋਮਿਆ ਇਸੀ ਕੀਮਤ 'ਤੇ ਅੰਬਾਂ ਦੀ ਮੰਗ ਨਹੀਂ ਕਰਦੀ। ਇਸ ਤਰ੍ਹਾਂ 80 ਰੁਪਏ ਪ੍ਰਤੀ ਕਿਲੋ ਦੇ ਹਿਸਾਬ ਨਾਲ ਅੰਬਾਂ ਦੀ ਬਾਜ਼ਾਰ ਵਿੱਚ ਮੰਗ ਹੈ $0.5 + 1.0 + 0 = 1.5$ ਕਿਲੋ ਅੰਬ ਪ੍ਰਤੀ ਹਫ਼ਤੇ ਹੈ। ਇਸੇ ਤਰ੍ਹਾਂ, ਸਾਰਣੀ 9.2 ਵਿੱਚ ਦਰਸਾਏ ਅਨੁਸਾਰ ਅੰਬਾਂ ਦੀ ਬਾਜ਼ਾਰ ਦੀ ਮੰਗ ਹੋਰ ਕੀਮਤਾਂ 'ਤੇ ਵੀ ਪ੍ਰਾਪਤ ਕੀਤੀ ਜਾ ਸਕਦੀ ਹੈ।

ਪਾਠ ਅਧੀਨ ਪ੍ਰਸ਼ਨ 9.4

1. ਜੇਕਰ ਬਾਜ਼ਾਰ ਵਿੱਚ ਸਿਰਫ਼ ਤਿੰਨ ਪਰਿਵਾਰ ਹੀ ਇੱਕ ਵਸਤੂ ਖਰੀਦ ਰਹੇ ਹਨ, ਤਾਂ ਹੇਠਾਂ ਦਿੱਤੀ ਸਾਰਣੀ ਵਿੱਚ ਉਹਨਾਂ ਦੀ ਬਾਜ਼ਾਰ ਮੰਗ ਦੀ ਗਣਨਾ ਕਰੋ:

ਮੰਗ

ਕੀਮਤ (ਰੁ. ਪ੍ਰਤੀ ਇਕਾਈ)	ਮੰਗ ਦੀ ਮਾਤਰਾ (ਇਕਾਈ 'ਚ)			ਬਾਜ਼ਾਰ ਮੰਗ (ਇਕਾਈਆਂ 'ਚ)
	ਪਰਿਵਾਰ ਏ	ਪਰਿਵਾਰ ਬੀ	ਪਰਿਵਾਰ ਸੀ	
5	15	13	30	—
6	12	11	25	—
7	9	9	20	—
8	6	7	15	—
9	3	5	10	—

2. ਹੇਠਾਂ ਦਿੱਤੀ ਸਾਰਣੀ ਨੂੰ ਪੂਰਾ ਕਰੋ

ਕੀਮਤ (ਰੁ. ਪ੍ਰਤੀ ਇਕਾਈ)	ਮੰਗ ਦੀ ਮਾਤਰਾ (ਇਕਾਈ 'ਚ)			ਬਾਜ਼ਾਰ ਮੰਗ (ਇਕਾਈਆਂ 'ਚ)
	ਪਰਿਵਾਰ ਏ	ਪਰਿਵਾਰ ਬੀ	ਪਰਿਵਾਰ ਸੀ	
1	10	12	—	48
2	8	15	—	40
3	6	12	—	32
4	4	9	—	24
5	2	6	—	16

9.9 ਬਾਜ਼ਾਰ ਦੀ ਮੰਗ ਨੂੰ ਪ੍ਰਭਾਵਿਤ ਕਰਨ ਵਾਲੇ ਕਾਰਕ

ਜਿਵੇਂ ਕਿ ਪਹਿਲਾਂ ਦੱਸਿਆ ਗਿਆ ਹੈ, ਬਾਜ਼ਾਰ ਦੀ ਮੰਗ ਕਿਸੇ ਵਸਤੂ ਦੀ ਉਹ ਕੁੱਲ ਮਾਤਰਾ ਹੁੰਦੀ ਹੈ ਜੋ ਬਾਜ਼ਾਰ ਵਿੱਚ ਸਾਰੇ ਵਿਅਕਤੀਗਤ ਖਰੀਦਦਾਰ ਪ੍ਰਤੀ ਇਕਾਈ ਸਮੇਂ ਵਿੱਚ ਵਿਭਿੰਨ ਕੀਮਤਾਂ 'ਤੇ ਖਰੀਦਣ ਲਈ ਤਿਆਰ ਹੁੰਦੇ ਹਨ। ਕਿਸੇ ਵਸਤੂ ਦੀ ਮਾਰਕੀਟ ਦੀ ਮੰਗ ਨੂੰ ਪ੍ਰਭਾਵਿਤ ਕਰਨ ਵਾਲੇ ਕਾਰਕਾਂ ਤੋਂ ਇਲਾਵਾ ਬਾਜ਼ਾਰ ਮੰਗ ਨੂੰ ਹੇਠਾਂ ਦਿੱਤੇ ਕਾਰਕ ਵੀ ਪ੍ਰਭਾਵਿਤ ਕਰਦੇ ਹਨ:

- 1. ਖਰੀਦਦਾਰਾਂ ਦੀ ਸੰਖਿਆ:** ਕਿਸੇ ਵਸਤੂ ਨੂੰ ਖਰੀਦਣ ਵਾਲੇ ਖਰੀਦਦਾਰਾਂ ਦੀ ਗਿਣਤੀ ਬਾਜ਼ਾਰ ਵਿੱਚ ਵਸਤੂ ਦੀ ਮੰਗ ਨੂੰ ਨਿਰਧਾਰਤ ਕਰਦੀ ਹੈ। ਜਿਵੇਂ ਕਿ ਤੁਸੀਂ ਸਾਰਣੀ 9.2 ਵਿੱਚ ਅੰਬਾਂ ਦੀ ਬਾਜ਼ਾਰ ਦੀ ਮੰਗ ਨੂੰ ਦਰਸਾਉਂਦੇ ਹੋਏ ਦੇਖਿਆ ਹੈ ਕਿ ਮੰਡੀ ਵਿੱਚ ਅੰਬਾਂ ਦੇ ਤਿੰਨ ਖਰੀਦਦਾਰ ਸਨ, ਵਰਸ਼ਾ, ਵਿਭਾ ਅਤੇ ਸੋਮਿਆ। ਹੁਣ ਜੇਕਰ ਇੱਕ ਹੋਰ ਖਰੀਦਦਾਰ ਆਭਾ ਵੀ ਅੰਬ ਖਰੀਦਣ ਲੱਗ ਪਈ ਤਾਂ ਅੰਬਾਂ ਦੀ ਬਾਜ਼ਾਰ ਦੀ ਮੰਗ ਕੀ ਹੋਵੇਗੀ? ਅੰਬਾਂ ਦੀ ਬਾਜ਼ਾਰ ਦੀ ਮੰਗ ਨਿਸ਼ਚਿਤ ਤੌਰ 'ਤੇ ਵਧੇਗੀ, ਇਸ ਲਈ ਜੇਕਰ ਕਿਸੇ ਵਸਤੂ ਦੇ ਖਰੀਦਦਾਰਾਂ ਦੀ ਗਿਣਤੀ ਜ਼ਿਆਦਾ ਹੋਵੇਗੀ, ਤਾਂ ਬਾਜ਼ਾਰ ਦੀ ਮੰਗ

ਮੈਂਡਿਊਲ: 4

ਵਸਤਾਂ ਅਤੇ ਸੇਵਾਵਾਂ ਦੀ
ਵੰਡ



ਨੋਟ



ਜ਼ਿਆਦਾ ਹੋਵੇਗੀ। ਦੂਜੇ ਪਾਸੇ, ਜੇਕਰ ਖਰੀਦਦਾਰਾਂ ਦੀ ਗਿਣਤੀ ਘੱਟ ਹੈ, ਤਾਂ ਵਸਤੂ ਦੀ ਬਾਜ਼ਾਰ ਦੀ ਮੰਗ ਘੱਟ ਹੋਵੇਗੀ।

2. **ਆਮਦਨ ਅਤੇ ਸੰਪਤੀ ਦੀ ਵੰਡ:** ਕਿਸੇ ਸਮਾਜ ਵਿੱਚ ਆਮਦਨ ਅਤੇ ਸੰਪਤੀ ਦੀ ਵੰਡ ਕਿਸੇ ਵਸਤੂ ਦੀ ਬਾਜ਼ਾਰ ਮੰਗ ਨੂੰ ਵੀ ਨਿਰਧਾਰਤ ਕਰਦੀ ਹੈ। ਜੇਕਰ ਆਮਦਨੀ ਅਤੇ ਸੰਪਤੀ ਦੀ ਵੰਡ ਅਮੀਰਾਂ ਦੇ ਹੱਕ ਵਿੱਚ ਵਧੇਰੇ ਹੈ, ਤਾਂ ਅਮੀਰਾਂ ਦੁਆਰਾ ਤਰਜੀਹੀ ਵਸਤਾਂ ਦੀ ਮੰਗ ਵੱਧ ਹੋਣ ਦੀ ਸੰਭਾਵਨਾ ਹੈ। ਦੂਜੇ ਪਾਸੇ, ਜੇਕਰ ਆਮਦਨ ਅਤੇ ਸੰਪਤੀ ਦੀ ਵੰਡ ਗਰੀਬਾਂ ਦੇ ਹੱਕ ਵਿੱਚ ਵਧੇਰੇ ਹੁੰਦੀ ਹੈ, ਤਾਂ ਗਰੀਬਾਂ ਦੁਆਰਾ ਤਰਜੀਹੀ ਵਸਤਾਂ ਦੀ ਮੰਗ ਵੱਧ ਹੋਣ ਦੀ ਸੰਭਾਵਨਾ ਹੈ।
3. **ਮੌਸਮ:** ਇਹ ਆਮ ਤੌਰ 'ਤੇ ਦੇਖਿਆ ਗਿਆ ਹੈ ਕਿ ਗਰਮੀਆਂ ਦੇ ਮੌਸਮ ਵਿੱਚ ਬਰਫ਼ ਦੀ ਮੰਗ ਵੱਧ ਜਾਂਦੀ ਹੈ। ਇਸੇ ਤਰ੍ਹਾਂ ਬਰਸਾਤ ਦੇ ਮੌਸਮ ਵਿੱਚ ਛਤਰੀ ਅਤੇ ਬਰਸਾਤੀਆਂ ਦੀ ਮੰਗ ਵੱਧ ਜਾਂਦੀ ਹੈ ਅਤੇ ਸਰਦੀਆਂ ਦੇ ਮੌਸਮ ਵਿੱਚ ਉੱਨ ਦੀ ਮੰਗ ਵੱਧ ਜਾਂਦੀ ਹੈ। ਇਸ ਲਈ ਕਿਸੇ ਵਸਤੂ ਦੀ ਬਾਜ਼ਾਰ ਦੀ ਮੰਗ ਵੀ ਮੌਸਮੀ ਸਥਿਤੀਆਂ ਦੁਆਰਾ ਪ੍ਰਭਾਵਿਤ ਹੁੰਦੀ ਹੈ।

ਪਾਠ ਅਧੀਨ ਪ੍ਰਸ਼ਨ 9.5

1. ਕਿਸੇ ਵਸਤੂ ਦੀ ਵਿਅਕਤੀਗਤ ਮੰਗ ਨੂੰ ਪ੍ਰਭਾਵਿਤ ਕਰਨ ਵਾਲੇ ਚਾਰ ਕਾਰਕਾਂ ਦੇ ਨਾਮ ਦਿਓ।
2. ਜੇਕਰ ਖੰਡ ਦੀ ਕੀਮਤ ਵਧਦੀ ਹੈ ਤਾਂ ਚਾਹ ਦੀ ਮੰਗ 'ਤੇ ਕੀ ਪ੍ਰਭਾਵ ਪਵੇਗਾ?
3. ਜੇਕਰ ਪੈਪਸੀ ਦੀ ਕੀਮਤ ਘਟਦੀ ਹੈ ਤਾਂ ਕੋਕ ਦੀ ਮੰਗ 'ਤੇ ਕੀ ਪ੍ਰਭਾਵ ਪਵੇਗਾ?
4. ਸਾਧਾਰਨ ਵਸਤਾਂ ਅਤੇ ਤੁੱਛ/ਘਟੀਆ ਵਸਤਾਂ ਵਿੱਚ ਫਰਕ ਦੱਸੋ।
5. ਘੱਟੋ-ਘੱਟ ਪੰਜ ਵਸਤਾਂ ਦੀ ਸੂਚੀ ਤਿਆਰ ਕਰੋ ਜੋ ਅੱਜਕੱਲ੍ਹ ਫੈਸ਼ਨ ਵਿੱਚ ਹਨ।
6. ਢੁੱਕਵੇਂ ਸ਼ਬਦਾਂ ਨਾਲ ਖਾਲੀ ਥਾਂ ਭਰੋ:
 - (1) ਜੇਕਰ ਖਰੀਦਦਾਰ ਦੀ ਆਮਦਨ ਵਿੱਚ ਕਮੀ ਹੋ ਜਾਂਦੀ ਹੈ ਤਾਂ ਤੁੱਛ ਵਸਤਾਂ ਦੀ ਮੰਗ ਵਿੱਚ-----ਹੋ ਜਾਂਦੀ ਹੈ।

ਮੰਗ

- (2) ਜਦੋਂ ਸਿਆਹੀ ਦੀ ਕੀਮਤ ਵਿੱਚ ਵਾਧਾ ਹੁੰਦਾ ਹੈ ਤਾਂ ਫਾਉਂਟੇਨ ਪੈਨ ਦੀ ਮੰਗ-----
-----ਹੋ ਜਾਵੇਗੀ।
- (3) ਬਾਜ਼ਾਰ ਵਿੱਚ ਕਿਸੇ ਵਸਤੂ ਦੇ ਖਰੀਦਦਾਰਾਂ ਦੀ ਸੰਖਿਆ----- ਹੋਣ 'ਤੇ ਉਸ ਵਸਤੂ ਦੀ ਮੰਗ ਜ਼ਿਆਦਾ ਹੋਵੇਗੀ।
- (4) ਜੇਕਰ ਆਮਦਨ ਅਤੇ ਸੰਪਤੀ ਦੀ ਵੰਡ----- ਦੇ ਪੱਖ ਵਿੱਚ ਜ਼ਿਆਦਾ ਹੈ ਤਾਂ ਗਰੀਬ ਵਿਅਕਤੀਆਂ ਵੱਲੋਂ ਪ੍ਰਯੋਗ ਕੀਤੀਆਂ ਜਾਣ ਵਾਲੀਆਂ ਵਸਤਾਂ ਦੀ ਮੰਗ ਜ਼ਿਆਦਾ ਹੋਵੇਗੀ।

ਤੁਸੀਂ ਕੀ ਸਿੱਖਿਆ

- ਕਿਸੇ ਵਸਤੂ ਦੀ ਮੰਗ ਉਸ ਵਸਤੂ ਦੀ ਮਾਤਰਾ ਨੂੰ ਦਰਸਾਉਂਦੀ ਹੈ ਜਿਸ ਨੂੰ ਖਰੀਦਦਾਰ ਨਿਸ਼ਚਿਤ ਸਮੇਂ 'ਤੇ ਦਿੱਤੇ ਮੁੱਲ 'ਤੇ ਖਰੀਦਣ ਲਈ ਤਿਆਰ ਹੁੰਦਾ ਹੈ।
- ਵਿਅਕਤੀਗਤ ਮੰਗ ਇੱਕ ਵਸਤੂ ਦੀ ਮਾਤਰਾ ਹੁੰਦੀ ਹੈ ਜਿਸਨੂੰ ਇੱਕ ਵਿਅਕਤੀਗਤ ਖਰੀਦਦਾਰ ਦਿੱਤੇ ਸਮੇਂ 'ਤੇ ਦਿੱਤੇ ਗਏ ਮੁੱਲ 'ਤੇ ਖਰੀਦਣ ਲਈ ਤਿਆਰ ਹੁੰਦਾ ਹੈ।
- ਬਾਜ਼ਾਰ ਦੀ ਮੰਗ ਕਿਸੇ ਵਸਤੂ ਦੀ ਕੁੱਲ ਮਾਤਰਾ ਹੁੰਦੀ ਹੈ ਜਿਸ ਨੂੰ ਬਾਜ਼ਾਰ ਦੇ ਸਾਰੇ ਵਿਅਕਤੀਗਤ ਖਰੀਦਦਾਰ ਨਿਸ਼ਚਿਤ ਸਮੇਂ 'ਤੇ ਨਿਰਧਾਰਤ ਕੀਮਤ 'ਤੇ ਖਰੀਦਣ ਲਈ ਤਿਆਰ ਹੁੰਦੇ ਹਨ।
- ਵਿਅਕਤੀਗਤ ਮੰਗ ਦੇ ਨਿਰਧਾਰਕ ਹਨ - ਵਸਤੂ ਦੀ ਕੀਮਤ, ਸਬੰਧਿਤ ਵਸਤਾਂ ਦੀ ਕੀਮਤ, ਖਰੀਦਦਾਰ ਦੀ ਆਮਦਨ, ਰੁਚੀ, ਤਰਜੀਹਾਂ ਅਤੇ ਫੈਸ਼ਨ।
- ਬਾਜ਼ਾਰ ਦੀ ਮੰਗ ਦੇ ਨਿਰਧਾਰਕ ਹਨ - ਵਿਅਕਤੀਗਤ ਮੰਗ ਦੇ ਨਿਰਧਾਰਕਾਂ ਦੇ ਨਾਲ-ਨਾਲ ਉਸ ਵਸਤੂ ਨੂੰ ਖਰੀਦਣ ਵਾਲੇ ਵਿਅਕਤੀਗਤ ਖਰੀਦਦਾਰਾਂ ਦੀ ਗਿਣਤੀ, ਆਮਦਨ ਅਤੇ ਸੰਪਤੀ ਦੀ ਵੰਡ ਅਤੇ ਮੌਸਮ ਹੈ।
- ਮੰਗ ਦਾ ਨਿਯਮ ਦੱਸਦਾ ਹੈ ਕਿ ਜੇਕਰ ਮੰਗ ਨੂੰ ਪ੍ਰਭਾਵਿਤ ਕਰਨ ਵਾਲੇ ਹੋਰ ਸਾਰੇ ਕਾਰਕ ਸਥਿਰ ਰਹਿੰਦੇ ਹਨ, ਤਾਂ ਖਰੀਦਦਾਰ ਕਿਸੇ ਵਸਤੂ ਦੀ ਘੱਟ ਕੀਮਤ 'ਤੇ ਵਧੇਰੇ ਮਾਤਰਾ ਅਤੇ ਉੱਚ ਕੀਮਤ 'ਤੇ ਘੱਟ ਖਰੀਦ ਕਰਨਗੇ।
- ਮੰਗ ਵਕਰ ਮੰਗ ਦੇ ਨਿਯਮ ਦੀ ਇੱਕ ਚਿੱਤਰਕਾਰੀ ਪ੍ਰਤੀਨਿਧਤਾ ਹੈ।
- ਕਿਸੇ ਵਸਤੂ ਦੀ ਮੰਗ ਵਕਰ ਖੱਬੇ ਤੋਂ ਸੱਜੇ ਹੇਠਾਂ ਵੱਲ ਢਲਾਣ ਹੁੰਦੀ ਹੈ।

ਮੌਡਿਊਲ: 4

ਵਸਤਾਂ ਅਤੇ ਸੇਵਾਵਾਂ ਦੀ ਵੰਡ



ਨੋਟ



ਨੋਟ

ਪਾਠ ਦੇ ਅੰਤ ਦੇ ਪ੍ਰਸ਼ਨ

1. ਮੰਗ ਨੂੰ ਪਰਿਭਾਸ਼ਿਤ ਕਰੋ। ਵਿਅਕਤੀਗਤ ਮੰਗ ਅਤੇ ਬਾਜ਼ਾਰ ਦੀ ਮੰਗ ਵਿੱਚ ਫਰਕ ਦੱਸੋ।
2. ਕਿਸੇ ਵਸਤੂ ਦੀ ਵਿਅਕਤੀਗਤ ਮੰਗ ਦੇ ਨਿਰਧਾਰਕਾਂ ਨੂੰ ਸੰਖੇਪ ਵਿੱਚ ਸਮਝਾਓ।
3. ਉਹਨਾਂ ਕਾਰਕਾਂ ਦਾ ਵਰਣਨ ਕਰੋ ਜੋ ਕਿਸੇ ਵਸਤੂ ਲਈ ਬਾਜ਼ਾਰ ਦੀ ਮੰਗ ਨੂੰ ਪ੍ਰਭਾਵਿਤ ਕਰ ਸਕਦੇ ਹਨ।
4. ਕਾਲਪਨਿਕ ਸੰਖਿਆਤਮਕ ਉਦਾਹਰਨ/ਸ਼ਡਿਊਲ ਦੀ ਮਦਦ ਨਾਲ ਮੰਗ ਦੇ ਨਿਯਮ ਨੂੰ ਬਿਆਨ ਕਰੋ ਅਤੇ ਵਿਆਖਿਆ ਕਰੋ।
5. ਮੰਗ ਵਕਰ ਕੀ ਹੈ? ਇੱਕ ਕਾਲਪਨਿਕ ਮੰਗ ਅਨੁਸੂਚੀ ਦੀ ਮਦਦ ਨਾਲ ਇੱਕ ਵਿਅਕਤੀਗਤ ਮੰਗ ਵਕਰ ਬਣਾਓ।
6. ਮੰਗ ਵਕਰ ਖੱਬੇ ਤੋਂ ਸੱਜੇ ਹੇਠਾਂ ਵੱਲ ਕਿਉਂ ਢਲਦਾ ਹੈ?
7. ਮੰਗ ਦੇ ਨਿਯਮ ਦੇ ਪਿੱਛੇ ਕੀ ਕਾਰਨ ਹਨ।

ਪਾਠ ਅਧੀਨ ਪ੍ਰਸ਼ਨਾਂ ਦੇ ਉੱਤਰ

ਪਾਠ ਅਧੀਨ ਪ੍ਰਸ਼ਨ 9.1 ਦੇ ਉੱਤਰ

1. ਮੰਗ ਕਿਸੇ ਵਸਤੂ ਦੀ ਮਾਤਰਾ ਨੂੰ ਦਰਸਾਉਂਦੀ ਹੈ ਜਿਸ ਨੂੰ ਖਰੀਦਦਾਰ ਸਮੇਂ ਦੀ ਪ੍ਰਤੀ ਯੂਨਿਟ ਕੀਮਤ 'ਤੇ ਖਰੀਦਣ ਲਈ ਤਿਆਰ ਹੈ।
2. (i) ਵਸਤੂ ਦੀ ਕੀਮਤ
(ii) ਖਰੀਦੀ ਜਾਣ ਵਾਲੀ ਵਸਤੂ ਦੀ ਮਾਤਰਾ
(iv) ਸਮੇਂ ਦੀ ਮਿਆਦ

ਪਾਠ ਅਧੀਨ ਪ੍ਰਸ਼ਨ 9.2 ਦੇ ਉੱਤਰ

1. ਮੰਗ ਦੇ ਨਿਯਮ ਅਨੁਸਾਰ ਮੰਗ ਨੂੰ ਪ੍ਰਭਾਵਿਤ ਕਰਨ ਵਾਲੇ ਹੋਰ ਸਾਰੇ ਕਾਰਕਾਂ ਦੇ ਸਥਿਰ ਰਹਿਣ 'ਤੇ, ਕਿਸੇ ਵਸਤੂ ਦੀ ਕੀਮਤ ਅਤੇ ਮੰਗ ਦੀ ਮਾਤਰਾ ਵਿੱਚ ਵਿਪਰੀਤ ਸਬੰਧ ਹੁੰਦਾ ਹੈ।
2. (i) ਖਰੀਦਦਾਰ ਦੀ ਆਮਦਨ ਨਹੀਂ ਬਦਲਦੀ।
(ii) ਸਬੰਧਤ ਵਸਤਾਂ ਦੀ ਕੀਮਤ ਨਹੀਂ ਬਦਲਦੀ
(iii) ਰੁਚੀ, ਤਰਜੀਹਾਂ ਅਤੇ ਫੈਸ਼ਨ ਨਹੀਂ ਬਦਲਦੇ।
3. ਸੇਬ ਦੀ ਮੰਗ ਘਟ ਜਾਵੇਗੀ।

ਪਾਠ ਅਧੀਨ ਪ੍ਰਸ਼ਨ 9.3 ਦੇ ਉੱਤਰ

1. ਖਰੀਦਦਾਰ ਦੀ ਅਸਲ ਆਮਦਨ ਵਧ ਜਾਵੇਗੀ।
2. ਮੰਗ ਵਕਰ ਖੱਬੇ ਤੋਂ ਸੱਜੇ ਹੇਠਾਂ ਵੱਲ ਢਲੇਗਾ।
3. ਘਟੇਗੀ।

ਪਾਠ ਅਧੀਨ ਪ੍ਰਸ਼ਨ 9.4 ਦੇ ਉੱਤਰ

1. 58, 48, 38, 28, 18
2. 20, 17, 14, 11, 8

ਪਾਠ ਅਧੀਨ ਪ੍ਰਸ਼ਨ 9.5 ਦੇ ਉੱਤਰ

1. ਵਸਤੂ ਦੀ ਕੀਮਤ, ਸਬੰਧਤ ਵਸਤਾਂ ਦੀ ਕੀਮਤ, ਖਰੀਦਦਾਰ ਦੀ ਆਮਦਨ, ਰੁਚੀ, ਤਰਜੀਹਾਂ ਅਤੇ ਫੈਸ਼ਨ।
2. ਘਟ ਜਾਵੇਗੀ।
3. ਘਟ ਜਾਵੇਗੀ।

ਮੌਡਿਊਲ: 4**ਵਸਤਾਂ ਅਤੇ ਸੇਵਾਵਾਂ ਦੀ ਵੰਡ****ਨੋਟ**

ਮੌਡਿਊਲ: 4

ਵਸਤਾਂ ਅਤੇ ਸੇਵਾਵਾਂ ਦੀ
ਵੰਡ



ਨੋਟ

4. ਆਮਦਨ ਦੇ ਵਾਧੇ ਨਾਲ ਆਮ ਵਸਤਾਂ ਦੀ ਮੰਗ ਵਧ ਜਾਂਦੀ ਹੈ ਜਦੋਂ ਕਿ ਖਰੀਦਦਾਰ ਦੀ ਆਮਦਨ ਵਧਣ ਨਾਲ ਤੁੱਛ/ਘਟੀਆ ਵਸਤਾਂ ਦੀ ਮੰਗ ਘਟ ਜਾਂਦੀ ਹੈ।
5. ਜੀਨਸ, ਟੈਪ, ਇਲੈਕਟ੍ਰੋਨਿਕ ਘੜੀਆਂ, ਬਾਲ ਪੈਂਨ, ਮੋਬਾਈਲ ਫੋਨ
6. (i) ਵਾਧਾ (ii) ਘਟਣਾ (iii) ਹੋਰ (iv) ਗਰੀਬ

ਸਪਲਾਈ

ਪਿਛਲੇ ਅਧਿਆਇ ਵਿੱਚ ਅਸੀਂ ਕਿਸੇ ਵਸਤੂ ਦੀ ਮੰਗ ਦੇ ਅਰਥ, ਮੰਗ ਦੇ ਨਿਰਧਾਰਕ ਅਤੇ ਮੰਗ ਦੇ ਨਿਯਮ ਬਾਰੇ ਅਧਿਐਨ ਕੀਤਾ ਹੈ। ਪਰ ਖਰੀਦਦਾਰ ਕਿਸੇ ਵਸਤੂ ਨੂੰ ਉਦੋਂ ਹੀ ਖਰੀਦ ਸਕਣਗੇ ਜਦੋਂ ਇਹ ਬਾਜ਼ਾਰ ਵਿੱਚ ਉਪਲੱਬਧ ਹੋਵੇਗੀ। ਇਸ ਲਈ ਸਵਾਲ ਪੈਦਾ ਹੁੰਦਾ ਹੈ ਕਿ ਬਾਜ਼ਾਰ ਵਿੱਚ ਵਸਤਾਂ ਦੀ ਸਪਲਾਈ ਕੌਣ ਕਰਦਾ ਹੈ? ਖਰੀਦਦਾਰਾਂ ਲਈ ਉਪਲੱਬਧ ਹੋਣ ਲਈ ਇੱਕ ਵਸਤੂ ਨੂੰ ਪਹਿਲਾਂ ਪੈਦਾ ਕੀਤਾ ਜਾਣਾ ਚਾਹੀਦਾ ਹੈ, ਸਹੀ ਢੰਗ ਨਾਲ ਸਟੋਰ ਕੀਤਾ ਜਾਣਾ ਚਾਹੀਦਾ ਹੈ ਅਤੇ ਮਾਰਕੀਟ ਵਿੱਚ ਲਿਜਾਣਾ ਚਾਹੀਦਾ ਹੈ। ਕੀ ਤੁਸੀਂ ਕਦੇ ਕਿਸੇ ਖੇਤੀਬਾੜੀ ਫਾਰਮ ਦਾ ਦੌਰਾ ਕੀਤਾ ਹੈ? ਕਿਉਂਕਿ ਕਿਸਾਨ ਆਪਣੇ ਖੇਤਾਂ ਵਿੱਚ ਅਨਾਜ, ਫਲ ਅਤੇ ਸਬਜ਼ੀਆਂ ਆਦਿ ਪੈਦਾ ਕਰਦੇ ਹਨ, ਇਸ ਲਈ ਉਹ ਇਨ੍ਹਾਂ ਵਸਤਾਂ ਦੇ ਉਤਪਾਦਕ ਹਨ। ਇਸੇ ਤਰ੍ਹਾਂ ਕਾਰਖਾਨਿਆਂ ਵਿੱਚ ਕੱਪੜੇ, ਸਾਬਣ, ਟੂਥ ਪੇਸਟ, ਟੂਥ ਬੁਰਸ਼, ਜੁੱਤੀਆਂ, ਪੈੱਨ ਆਦਿ ਵਰਗੀਆਂ ਖਪਤਕਾਰੀ ਵਸਤਾਂ ਦਾ ਨਿਰਮਾਣ ਕੀਤਾ ਜਾਂਦਾ ਹੈ। ਅਜਿਹੀਆਂ ਵਸਤਾਂ ਦੇ ਉਤਪਾਦਕਾਂ ਨੂੰ ਨਿਰਮਾਤਾ ਕਿਹਾ ਜਾਂਦਾ ਹੈ। ਖਰੀਦਦਾਰ ਇਨ੍ਹਾਂ ਚੀਜ਼ਾਂ ਨੂੰ ਬਾਜ਼ਾਰ ਵਿੱਚ ਵੇਚਣ ਵਾਲਿਆਂ ਤੋਂ ਖਰੀਦਦੇ ਹਨ। ਅਸਲ ਉਤਪਾਦਕ ਅਤੇ ਮਾਰਕੀਟ ਵਿੱਚ ਵੇਚਣ ਵਾਲਾ ਇੱਕੋ ਵਿਅਕਤੀ ਜਾਂ ਵੱਖ-ਵੱਖ ਵਿਅਕਤੀ ਹੋ ਸਕਦੇ ਹਨ। ਜੇਕਰ ਉਹ ਵੱਖ-ਵੱਖ ਹਨ, ਤਾਂ ਇਸਦਾ ਸਿੱਧਾ ਮਤਲਬ ਇਹ ਹੈ ਕਿ ਮਾਰਕੀਟ ਵਿੱਚ ਵਿਕਰੇਤਾਵਾਂ ਨੇ ਇਹ ਵਸਤਾਂ ਅਸਲ ਉਤਪਾਦਕਾਂ ਤੋਂ ਖਰੀਦੀਆਂ ਹਨ ਤਾਂ ਜੋ ਉਹਨਾਂ ਨੂੰ ਮਾਰਕੀਟ ਵਿੱਚ ਖਰੀਦਦਾਰਾਂ ਨੂੰ ਵੇਚਿਆ ਜਾ ਸਕੇ। ਇਸ ਲਈ ਕਿਸਾਨ, ਉਤਪਾਦਕ ਅਤੇ ਵਿਕਰੇਤਾ ਮੰਡੀ ਵਿੱਚ ਜਿਣਸਾਂ ਦੀ ਸਪਲਾਈ ਕਰਦੇ ਹਨ। ਉਹ ਸਾਰੇ ਉਤਪਾਦਕ ਕਹਾਉਂਦੇ ਹਨ। ਉਤਪਾਦਨ ਇਕਾਈ ਜਿਸ ਵਿੱਚ ਕਿਸੇ ਵਸਤੂ ਦਾ ਉਤਪਾਦਨ ਹੁੰਦਾ ਹੈ, ਨੂੰ ਫਰਮ ਕਿਹਾ ਜਾਂਦਾ ਹੈ। ਇਸ ਤਰ੍ਹਾਂ ਅਸੀਂ ਕਹਿ ਸਕਦੇ ਹਾਂ ਕਿ ਫਰਮਾਂ ਵਸਤਾਂ ਦੀ ਸਪਲਾਈ ਕਰਦੀਆਂ ਹਨ।

ਉਦੇਸ਼

ਇਸ ਪਾਠ ਨੂੰ ਪੂਰਾ ਕਰਨ ਤੋਂ ਬਾਅਦ, ਤੁਸੀਂ ਇਹ ਕਰਨ ਦੇ ਯੋਗ ਹੋਵੋਗੇ:

- ਸਟਾਕ ਅਤੇ ਸਪਲਾਈ ਦੇ ਅਰਥ ਨੂੰ ਸਮਝਣ;
- ਕਿਸੇ ਵਸਤੂ ਦੀ ਵਿਅਕਤੀਗਤ ਸਪਲਾਈ ਅਤੇ ਮਾਰਕੀਟ ਸਪਲਾਈ ਦੇ ਅਰਥ;





- ਕਿਸੇ ਵਸਤੂ ਦੀ ਸਪਲਾਈ ਨੂੰ ਪ੍ਰਭਾਵਿਤ ਕਰਨ ਵਾਲੇ ਨਿਰਧਾਰਕਾਂ ਜਾਂ ਕਾਰਕਾਂ ਦੀ ਵਿਆਖਿਆ;
- ਕਿਸੇ ਵਸਤੂ ਦੀ ਕੀਮਤ ਅਤੇ ਸਪਲਾਈ ਕੀਤੀ ਗਈ ਮਾਤਰਾ ਦੇ ਵਿਚਕਾਰ ਸਬੰਧ ਨੂੰ ਸਮਝੋਗੇ;
- ਵਿਅਕਤੀਗਤ ਸਪਲਾਈ ਵਕਰ ਦੀ ਰਚਨਾ ਅਤੇ ਇਸਦੀ ਆਕਾਰ ਦੀ ਵਿਆਖਿਆ।

10.1 ਸਪਲਾਈ ਦਾ ਅਰਥ

ਸਾਨੂੰ "ਬਾਜ਼ਾਰ ਵਿੱਚ ਇੱਕ ਵਸਤੂ ਦੀ ਉਪਲੱਬਧਤਾ" ਅਤੇ "ਉਸ ਵਸਤੂ ਦੀ ਸਪਲਾਈ" ਵਿਚਕਾਰ ਉਲਝਣ ਨਹੀਂ ਪੈਦਾ ਕਰਨੀ ਚਾਹੀਦੀ। ਉਹ ਇੱਕੋ ਜਿਹੇ ਨਹੀਂ ਹਨ। ਭਾਵੇਂ ਕੋਈ ਵਸਤੂ ਉਪਲੱਬਧ ਹੈ, ਇਸਦਾ ਮਤਲਬ ਇਹ ਨਹੀਂ ਹੈ ਕਿ ਇਹ ਸਪਲਾਈ ਕੀਤੀ ਗਈ ਹੈ। ਸਪਲਾਈ ਦੀ ਪਰਿਭਾਸ਼ਾ ਹੇਠਾਂ ਦਿੱਤੀ ਗਈ ਹੈ:

ਕਿਸੇ ਵਸਤੂ ਦੀ ਸਪਲਾਈ ਉਸ ਵਸਤੂ ਦੀ ਮਾਤਰਾ ਹੁੰਦੀ ਹੈ ਜੋ ਵਿਕਰੇਤਾ ਇੱਕ ਦਿੱਤੇ ਸਮੇਂ 'ਤੇ ਇੱਕ ਦਿੱਤੇ ਮੁੱਲ 'ਤੇ ਵਿਕਰੀ ਲਈ ਪੇਸ਼ ਕਰਦਾ ਹੈ।

ਸਪਲਾਈ ਦੀ ਪਰਿਭਾਸ਼ਾ ਵਿੱਚ ਹੇਠ ਲਿਖੀਆਂ ਤਿੰਨ ਚੀਜ਼ਾਂ ਸ਼ਾਮਲ ਹਨ:

1. ਵਿਕਰੇਤਾ ਦੁਆਰਾ ਵਿਕਰੀ ਲਈ ਪੇਸ਼ ਕੀਤੀ ਗਈ ਵਸਤੂ ਦੀ ਮਾਤਰਾ।
2. ਮਾਰਕੀਟ ਵਿੱਚ ਦਿੱਤੀ ਗਈ ਵਸਤੂ ਦੀ ਕੀਮਤ ਜਿਸ 'ਤੇ ਵਿਕਰੇਤਾ ਵਸਤੂ ਦੀ ਉਸ ਮਾਤਰਾ ਨੂੰ ਵੇਚਣ ਲਈ ਤਿਆਰ ਹੈ।
3. ਉਹ ਸਮਾਂ ਮਿਆਦ ਜਿਸ ਦੌਰਾਨ ਵਿਕਰੇਤਾ ਵਸਤੂ ਦੀ ਉਸ ਮਾਤਰਾ ਨੂੰ ਵੇਚਣ ਲਈ ਤਿਆਰ ਹੈ।

ਸਪਲਾਈ ਦੀਆਂ ਉਦਾਹਰਨਾਂ

- ਗੰਗਾ ਸਿੰਘ ਨੇ ਆਪਣੇ ਡੇਅਰੀ ਫਾਰਮ ਤੋਂ ਪਿਛਲੇ ਹਫਤੇ ਦੌਰਾਨ 120 ਲੀਟਰ ਦੁੱਧ 25 ਰੁਪਏ ਪ੍ਰਤੀ ਲੀਟਰ ਦੇ ਹਿਸਾਬ ਨਾਲ ਵੇਚਿਆ।
- ਫਲ ਵੇਚਣ ਵਾਲੇ ਨੇ ਪਿਛਲੇ 15 ਦਿਨਾਂ ਦੌਰਾਨ 600 ਕਿਲੋਗ੍ਰਾਮ ਸੇਬ 50 ਰੁਪਏ ਪ੍ਰਤੀ ਕਿਲੋ ਦੇ ਹਿਸਾਬ ਨਾਲ ਵੇਚੇ।

ਸਪਲਾਈ

- 'ਐਕਸ' ਲਿਮਟਿਡ ਨਾਮ ਦੀ ਇੱਕ ਫਰਮ ਨੇ ਇੱਕ ਦਿਨ ਵਿੱਚ 2800 ਰੁਪਏ ਪ੍ਰਤੀ ਕੁਇੰਟਲ ਦੀ ਕੀਮਤ 'ਤੇ 8 ਕੁਇੰਟਲ ਖੰਡ ਵੇਚੀ।
- ਅਨਾਜ ਵਪਾਰੀ ਨੇ ਅਗਸਤ ਮਹੀਨੇ ਵਿੱਚ 300 ਕੁਇੰਟਲ ਚੌਲ 2300 ਰੁਪਏ ਪ੍ਰਤੀ ਕੁਇੰਟਲ ਦੇ ਹਿਸਾਬ ਨਾਲ ਵੇਚੇ।

ਇਸ ਗੱਲ 'ਤੇ ਧਿਆਨ ਦਿਓ ਕਿ ਸਮਾਂ ਮਿਆਦ ਵੱਖ-ਵੱਖ ਹੋ ਸਕਦੀ ਹੈ। ਇਹ ਇੱਕ ਮਹੀਨਾ, ਇੱਕ ਹਫ਼ਤਾ ਜਾਂ ਦੋ ਹਫ਼ਤੇ ਅਤੇ ਹੋਰ ਵੀ ਹੋ ਸਕਦਾ ਹੈ।

10.2 ਸਟਾਕ ਅਤੇ ਸਪਲਾਈ

ਕਿਸੇ ਖਾਸ ਸਮੇਂ 'ਤੇ ਕਿਸੇ ਵਿਕਰੇਤਾ/ਫਰਮ ਕੋਲ ਉਪਲੱਬਧ ਵਸਤੂ ਦੀ ਕੁੱਲ ਮਾਤਰਾ ਨੂੰ ਸਟਾਕ ਕਿਹਾ ਜਾਂਦਾ ਹੈ। ਦੂਜੇ ਪਾਸੇ ਸਪਲਾਈ ਵਸਤੂ ਦੇ ਸਟਾਕ ਦਾ ਉਹ ਹਿੱਸਾ ਹੈ ਜਿਸ ਨੂੰ ਵਿਕਰੇਤਾ ਇੱਕ ਨਿਸ਼ਚਤ ਸਮੇਂ ਦੇ ਦੌਰਾਨ ਕਿਸੇ ਨਿਰਧਾਰਤ ਕੀਮਤ 'ਤੇ ਵੇਚਣ ਲਈ ਤਿਆਰ ਹੁੰਦਾ ਹੈ। ਇਸ ਲਈ ਸਪਲਾਈ ਇੱਕ ਪ੍ਰਵਾਹ ਹੈ। ਸਟਾਕ ਨੂੰ ਸਮੇਂ ਦੇ ਇੱਕ ਖਾਸ ਬਿੰਦੂ 'ਤੇ ਮਾਪਿਆ ਜਾਂਦਾ ਹੈ ਜਦੋਂ ਕਿ ਸਪਲਾਈ ਨੂੰ ਸਮੇਂ ਦੀ ਮਿਆਦ ਵਿੱਚ ਮਾਪਿਆ ਜਾਂਦਾ ਹੈ। ਉੱਪਰ ਦਿੱਤੀ ਉਦਾਹਰਨ ਲਈ- "ਅਨਾਜ ਵਪਾਰੀ ਨੇ ਅਗਸਤ ਮਹੀਨੇ ਵਿੱਚ 2300 ਰੁਪਏ ਪ੍ਰਤੀ ਕੁਇੰਟਲ ਦੇ ਹਿਸਾਬ ਨਾਲ 300 ਕੁਇੰਟਲ ਚੌਲ ਸਪਲਾਈ ਕੀਤੇ।" ਜ਼ਿਕਰਯੋਗ ਹੈ ਕਿ ਵਪਾਰੀ ਨੇ ਅਗਸਤ 2011 ਦੇ ਪਹਿਲੇ ਦਿਨ 820 ਕੁਇੰਟਲ ਚੌਲਾਂ ਦੀ ਖਰੀਦ ਕੀਤੀ ਸੀ। ਇਸ ਨੂੰ 1 ਅਗਸਤ 2011 ਨੂੰ ਸਟਾਕ ਕਿਹਾ ਜਾਂਦਾ ਸੀ। ਇੱਥੇ 1 ਅਗਸਤ 2011 ਉਹ ਸਮਾਂ ਹੈ ਜਿਸ 'ਤੇ ਸਟਾਕ ਨੂੰ ਮਾਪਿਆ ਗਿਆ ਹੈ। ਅਗਸਤ ਦੌਰਾਨ 2300 ਰੁਪਏ ਦੇ ਭਾਅ 'ਤੇ 300 ਕੁਇੰਟਲ ਦੀ ਸਪਲਾਈ ਦਾ ਪ੍ਰਵਾਹ ਸੀ। ਕਿਉਂਕਿ ਅਗਸਤ ਵਿੱਚ 31 ਦਿਨ ਹੁੰਦੇ ਹਨ, ਅਸੀਂ ਇਸਨੂੰ ਸਮੇਂ ਦੀ ਮਿਆਦ ਕਹਿੰਦੇ ਹਾਂ ਜਿਸ ਵਿੱਚ ਸਪਲਾਈ ਨੂੰ ਮਾਪਿਆ ਗਿਆ ਹੈ। ਇਹਨਾਂ 31 ਦਿਨਾਂ ਵਿੱਚ ਵਪਾਰੀ ਨੇ ਹਰੇਕ ਦਿਨ ਕੁਝ ਰਕਮ ਵੇਚੀ ਜਿਸ ਨੂੰ ਜੇਕਰ

ਜੋੜਿਆ ਜਾਵੇ ਤਾਂ ਮਹੀਨੇ ਦੇ ਅੰਤ ਵਿੱਚ 2300 ਰੁਪਏ ਦਿੱਤੀ ਗਈ ਬਾਜ਼ਾਰ ਕੀਮਤ 'ਤੇ 300 ਕੁਇੰਟਲ ਹੋ ਜਾਂਦਾ ਹੈ।

ਇਸ ਲਈ ਸਪਲਾਈ ਵਸਤੂ ਦੇ ਸਟਾਕ ਦਾ ਇੱਕ ਭਾਗ ਹੁੰਦੀ ਹੈ।

ਮੌਡਿਊਲ: 4

ਵਸਤਾਂ ਅਤੇ ਸੇਵਾਵਾਂ ਦੀ ਵੰਡ



ਨੋਟ



ਪਾਠ ਅਧੀਨ ਪ੍ਰਸ਼ਨ 10.1

1. ਸਪਲਾਈ ਨੂੰ ਪਰਿਭਾਸ਼ਿਤ ਕਰੋ।
2. ਸਪਲਾਈ ਦੀ ਪਰਿਭਾਸ਼ਾ ਵਿੱਚ ਸ਼ਾਮਲ ਤਿੰਨ ਤੱਤਾਂ ਦੇ ਨਾਮ ਦਿਓ।
3. ਸਟਾਕ ਅਤੇ ਸਪਲਾਈ ਵਿਚਕਾਰ ਫਰਕ ਦੱਸੋ।

10.3 ਵਿਅਕਤੀਗਤ ਸਪਲਾਈ ਨੂੰ ਪ੍ਰਭਾਵਿਤ ਕਰਨ ਵਾਲੇ ਕਾਰਕ

ਵਿਅਕਤੀਗਤ ਸਪਲਾਈ ਨੂੰ ਕਿਹੜੇ ਕਾਰਕ ਪ੍ਰਭਾਵਿਤ ਕਰਦੇ ਹਨ? ਸਭ ਤੋਂ ਮਹੱਤਵਪੂਰਨ ਕਾਰਕ ਹੇਠ ਲਿਖੇ ਹਨ:

- ਵਸਤੂ ਦੀ ਕੀਮਤ
- ਉਤਪਾਦਨ ਦੀ ਤਕਨਾਲੋਜੀ
- ਇਨਪੁੱਟਸ ਦੀ ਕੀਮਤ
- ਹੋਰ ਸਬੰਧਤ ਸਾਮਾਨ ਦੀ ਕੀਮਤ
- ਫਰਮ ਦਾ ਉਦੇਸ਼
- ਸਰਕਾਰੀ ਨੀਤੀ

(i) **ਵਸਤੂ ਦੀ ਕੀਮਤ:** ਵਸਤੂ ਦੀ ਕੀਮਤ ਕਿਸੇ ਵਸਤੂ ਦੀ ਸਪਲਾਈ ਦਾ ਇੱਕ ਮਹੱਤਵਪੂਰਨ ਨਿਰਧਾਰਕ ਹੈ। ਜਦੋਂ ਕੋਈ ਉਤਪਾਦਕ ਕਿਸੇ ਵਸਤੂ ਦਾ ਉਤਪਾਦਨ ਕਰਦਾ ਹੈ ਤਾਂ ਉਹ ਉਤਪਾਦਨ ਦੇ ਕਾਰਕਾਂ ਅਤੇ ਕੱਚੇ ਮਾਲ ਆਦਿ 'ਤੇ ਬਹੁਤ ਜ਼ਿਆਦਾ ਖਰਚ ਕਰਦਾ ਹੈ, ਜਿਸ ਨੂੰ ਅਸੀਂ ਉਤਪਾਦਨ ਦੀ ਲਾਗਤ ਕਹਿੰਦੇ ਹਾਂ। ਉਹ ਉਤਪਾਦ ਨੂੰ ਮਾਰਕੀਟ ਵਿੱਚ ਨਿਸ਼ਚਿਤ ਕੀਮਤ 'ਤੇ ਵੇਚ ਕੇ ਇਹ ਖਰਚੇ ਵਸੂਲ ਸਕਦਾ ਹੈ। ਕਿਉਂਕਿ ਕੀਮਤ ਔਸਤ ਆਮਦਨ ਵੀ ਹੈ, ਇਸ ਲਈ ਜਿੰਨੀ ਉੱਚੀ ਕੀਮਤ ਵੱਧ ਹੋਵੇਗੀ ਉਹ ਔਸਤ ਆਮਦਨ ਹੋਵੇਗੀ ਅਤੇ ਇਸ ਅਨੁਸਾਰ ਕੁੱਲ ਆਮਦਨ ਵੱਧ ਹੋਵੇਗੀ। ਇਸ ਲਈ ਕੀਮਤ ਸਪਲਾਈ ਦਾ ਇੱਕ ਬਹੁਤ ਮਹੱਤਵਪੂਰਨ ਨਿਰਧਾਰਕ ਹੈ।

(ii) **ਉਤਪਾਦਨ ਦੀ ਤਕਨਾਲੋਜੀ:** ਉਤਪਾਦਨ ਦੀ ਤਕਨਾਲੋਜੀ ਵਿੱਚ ਸੁਧਾਰ ਵਸਤੂ ਦੀ ਪ੍ਰਤੀ ਇਕਾਈ ਉਤਪਾਦਨ ਦੀ ਲਾਗਤ ਨੂੰ ਘਟਾਉਂਦਾ ਹੈ ਜੋ ਫਰਮ ਦੇ ਮੁਨਾਫ਼ੇ ਦੇ ਮਾਰਜਿਨ ਨੂੰ ਵਧਾਉਂਦਾ ਹੈ। ਇਹ ਫਰਮ ਨੂੰ ਸੁਧਰੀ ਤਕਨਾਲੋਜੀ ਦੀ ਵਰਤੋਂ ਨਾਲ

ਵਧੇਰੇ ਵਸਤਾਂ ਦੀ ਸਪਲਾਈ ਕਰਨ ਲਈ ਪ੍ਰੇਰਿਤ ਕਰਦਾ ਹੈ ਦੂਜੇ ਪਾਸੇ ਜੇਕਰ ਕੋਈ ਫਰਮ ਪੁਰਾਣੀ ਅਤੇ ਘਟੀਆ ਤਕਨਾਲੋਜੀ ਦੀ ਵਰਤੋਂ ਕਰਦੀ ਹੈ; ਇਹ ਵਸਤੂ ਦੀ ਪ੍ਰਤੀ ਯੂਨਿਟ ਉਤਪਾਦਨ ਦੀ ਲਾਗਤ ਨੂੰ ਵਧਾਉਂਦਾ ਹੈ ਅਤੇ ਮੁਨਾਫੇ ਦੇ ਮਾਰਜਿਨ ਨੂੰ ਘਟਾਉਂਦਾ ਹੈ ਜਿਸ ਨਾਲ ਵਸਤੂ ਦੀ ਸਪਲਾਈ ਵਿੱਚ ਕਮੀ ਆਉਂਦੀ ਹੈ।

(iii) **ਇਨਪੁੱਟਸ ਦੀ ਕੀਮਤ:** ਮੰਨ ਲਓ ਕਿ ਕੋਈ ਫਰਮ ਆਈਸ ਕ੍ਰੀਮ ਦਾ ਉਤਪਾਦਨ ਕਰ ਰਹੀ ਹੈ। ਜੇਕਰ ਦੁੱਧ ਦੀ ਕੀਮਤ ਘਟਦੀ ਹੈ ਤਾਂ ਆਈਸ ਕ੍ਰੀਮ ਦੀ ਪ੍ਰਤੀ ਇਕਾਈ ਉਤਪਾਦਨ ਲਾਗਤ ਘਟ ਜਾਵੇਗੀ। ਇਹ ਪ੍ਰਤੀ ਇਕਾਈ ਲਾਭ ਦੇ ਮਾਰਜਿਨ ਵਿੱਚ ਵਾਧਾ ਕਰਨ ਦੀ ਅਗਵਾਈ ਕਰੇਗਾ। ਇਸ ਲਈ ਫਰਮ ਆਈਸਕ੍ਰੀਮ ਦੀ ਸਪਲਾਈ ਵਧਾਏਗੀ। ਦੂਜੇ ਪਾਸੇ ਜੇਕਰ ਦੁੱਧ ਦੀ ਕੀਮਤ ਵਧਦੀ ਹੈ ਤਾਂ ਆਈਸਕ੍ਰੀਮ ਦੀ ਪ੍ਰਤੀ ਇਕਾਈ ਉਤਪਾਦਨ ਲਾਗਤ ਵਧ ਜਾਵੇਗੀ। ਇਸ ਨਾਲ ਮੁਨਾਫੇ ਦੇ ਮਾਰਜਿਨ ਵਿੱਚ ਕਮੀ ਆਵੇਗੀ ਅਤੇ ਫਰਮ ਆਈਸ ਕ੍ਰੀਮ ਦੀ ਸਪਲਾਈ ਘਟਾ ਦੇਵੇਗੀ। ਇਸ ਤਰ੍ਹਾਂ, ਜੇਕਰ ਕਿਸੇ ਵਸਤੂ ਦੇ ਉਤਪਾਦਨ ਵਿੱਚ ਵਰਤੇ ਜਾਣ ਵਾਲੇ ਕਿਸੇ ਵੀ ਨਿਵੇਸ਼ ਦੀ ਕੀਮਤ ਡਿੱਗਦੀ ਹੈ, ਤਾਂ ਇਹ ਪ੍ਰਤੀ ਇਕਾਈ ਉਤਪਾਦਨ ਦੀ ਲਾਗਤ ਵਿੱਚ ਕਮੀ ਵੱਲ ਲੈ ਜਾਂਦੀ ਹੈ ਅਤੇ ਨਤੀਜੇ ਵਜੋਂ ਵਸਤੂ ਦੀ ਸਪਲਾਈ ਵਧ ਜਾਂਦੀ ਹੈ। ਦੂਜੇ ਪਾਸੇ, ਕਿਸੇ ਵਸਤੂ ਦੇ ਉਤਪਾਦਨ ਵਿੱਚ ਵਰਤੇ ਜਾਣ ਵਾਲੇ ਕਿਸੇ ਵੀ ਇਨਪੁੱਟ ਦੀ ਕੀਮਤ ਵਿੱਚ ਵਾਧਾ ਪ੍ਰਤੀ ਯੂਨਿਟ ਉਤਪਾਦਨ ਦੀ ਲਾਗਤ ਨੂੰ ਵਧਾਉਂਦਾ ਹੈ ਅਤੇ ਵਸਤੂ ਦੀ ਸਪਲਾਈ ਘਟਾਉਂਦਾ ਹੈ।

(iv) **ਹੋਰ ਸਬੰਧਤ ਵਸਤਾਂ ਦੀ ਕੀਮਤ:** ਕਿਸੇ ਵਸਤੂ ਦੀ ਸਪਲਾਈ ਹੋਰ ਸਬੰਧਤ ਵਸਤਾਂ ਦੀ ਕੀਮਤ ਤੋਂ ਵੀ ਪ੍ਰਭਾਵਿਤ ਹੁੰਦੀ ਹੈ। ਮੰਨ ਲਓ ਕਿ ਇੱਕ ਕਿਸਾਨ ਦਿੱਤੇ ਗਏ ਸਾਧਨਾਂ ਦੀ ਮਦਦ ਨਾਲ ਦੋ ਸਾਲ ਕਣਕ ਅਤੇ ਚਾਵਲ ਪੈਦਾ ਕਰਦਾ ਹੈ। ਜੇਕਰ ਚੌਲਾਂ ਦੀ ਕੀਮਤ ਵਧਦੀ ਹੈ ਤਾਂ ਕਿਸਾਨ ਨੂੰ ਵੱਧ ਤੋਂ ਵੱਧ ਚੌਲਾਂ ਦਾ ਉਤਪਾਦਨ ਕਰਨ ਨਾਲ ਵਧੇਰੇ ਮੁਨਾਫਾ ਹੋਵੇਗਾ। ਕਿਸਾਨ ਆਪਣੇ ਸਰੋਤਾਂ ਨੂੰ ਕਣਕ ਦੇ ਉਤਪਾਦਨ ਤੋਂ ਚੌਲਾਂ ਦੇ ਉਤਪਾਦਨ ਵੱਲ ਮੋੜ ਦੇਵੇਗਾ। ਨਤੀਜੇ ਵਜੋਂ ਚੌਲਾਂ ਦੀ ਸਪਲਾਈ ਵਧੇਗੀ ਅਤੇ ਕਣਕ ਦੀ ਸਪਲਾਈ ਘਟੇਗੀ। ਦੂਜੇ ਪਾਸੇ, ਚੌਲਾਂ ਦੀ ਕੀਮਤ ਵਿੱਚ ਗਿਰਾਵਟ ਦੇ ਨਤੀਜੇ ਵਜੋਂ ਚੌਲਾਂ ਦੀ ਸਪਲਾਈ ਵਿੱਚ ਕਮੀ ਆਵੇਗੀ ਅਤੇ ਕਣਕ ਦੀ ਸਪਲਾਈ ਵਿੱਚ ਵਾਧਾ



ਵਸਤਾਂ ਅਤੇ ਸੇਵਾਵਾਂ ਦੀ
ਵੰਡ



ਨੋਟ

ਹੋਵੇਗਾ।

- (v) **ਫਰਮ ਦਾ ਉਦੇਸ਼:** ਵੱਖ-ਵੱਖ ਫਰਮਾਂ ਦੇ ਵੱਖ-ਵੱਖ ਉਦੇਸ਼ ਹਨ। ਕੁਝ ਫਰਮਾਂ ਦਾ ਆਪਣੇ ਮੁਨਾਫੇ ਨੂੰ ਵੱਧ ਤੋਂ ਵੱਧ ਕਰਨ ਦਾ ਉਦੇਸ਼ ਹੁੰਦਾ ਹੈ ਜਦੋਂ ਕਿ ਕੁਝ ਦਾ ਉਦੇਸ਼ ਵੱਧ ਤੋਂ ਵੱਧ ਵਿਕਰੀ ਕਰਨਾ ਹੁੰਦਾ ਹੈ। ਕੁਝ ਹੋਰ ਫਰਮਾਂ ਦਾ ਉਦੇਸ਼ ਆਪਣੀ ਸਦਭਾਵਨਾ/ਵੱਕਾਰ ਨੂੰ ਵਧਾਉਣਾ ਹੋ ਸਕਦਾ ਹੈ ਅਤੇ ਕੁਝ ਦਾ ਉਦੇਸ਼ ਰੁਜ਼ਗਾਰ ਦੇ ਮੌਕੇ ਵਧਾਉਣ ਦਾ ਹੋ ਸਕਦਾ ਹੈ। ਵਿਕਰੀ ਵਧਾਉਣ ਦਾ ਉਦੇਸ਼ ਰੱਖਣ ਵਾਲੀ ਫਰਮ ਘੱਟ ਕੀਮਤ 'ਤੇ ਵੀ ਕਿਸੇ ਵਸਤੂ ਦੀ ਵਧੇਰੇ ਸਪਲਾਈ ਕਰ ਸਕਦੀ ਹੈ। ਇਸ ਤਰ੍ਹਾਂ ਕਿਸੇ ਵਸਤੂ ਦੀ ਸਪਲਾਈ ਫਰਮ ਦੁਆਰਾ ਉਦੇਸ਼ ਨੂੰ ਦਿੱਤੀ ਗਈ ਤਰਜੀਹ ਅਤੇ ਇੱਕ ਦੂਜੇ ਲਈ ਤਿਆਗ ਕਰਨ ਦੀ ਤਿਆਰੀ ਦੁਆਰਾ ਪ੍ਰਭਾਵਿਤ ਹੁੰਦੀ ਹੈ।
- (vi) **ਸਰਕਾਰੀ ਨੀਤੀ:** ਸਰਕਾਰੀ ਨੀਤੀ ਕਿਸੇ ਵਸਤੂ ਦੀ ਸਪਲਾਈ ਨੂੰ ਵੀ ਪ੍ਰਭਾਵਿਤ ਕਰਦੀ ਹੈ। ਉਦਾਹਰਨ ਲਈ ਜੇਕਰ ਸਰਕਾਰ ਕਿਸੇ ਵਸਤੂ 'ਤੇ ਵੈਲਿਊ ਐਡਿਡ ਟੈਕਸ ਜਾਂ ਸੇਲਜ਼ ਟੈਕਸ ਦੀ ਦਰ ਵਧਾਉਂਦੀ ਹੈ, ਤਾਂ ਇਸ ਨਾਲ ਪ੍ਰਤੀ ਯੂਨਿਟ ਉਤਪਾਦਨ ਦੀ ਲਾਗਤ ਵਧੇਗੀ ਜਿਸ ਨਾਲ ਵਸਤੂ ਦੀ ਸਪਲਾਈ ਘਟੇਗੀ। ਦੂਜੇ ਪਾਸੇ, ਕਿਸੇ ਵਸਤੂ 'ਤੇ ਟੈਕਸ ਘਟਾਉਣ ਨਾਲ ਪ੍ਰਤੀ ਯੂਨਿਟ ਉਤਪਾਦਨ ਦੀ ਲਾਗਤ ਘਟੇਗੀ ਅਤੇ ਵਸਤੂ ਦੀ ਸਪਲਾਈ ਵਧੇਗੀ।

10.4 ਵਸਤੂ ਦੀ ਵਿਅਕਤੀਗਤ ਸਪਲਾਈ ਅਨੁਸੂਚੀ

ਕਿਸੇ ਵਿਅਕਤੀਗਤ ਫਰਮ ਦੁਆਰਾ ਕਿਸੇ ਵਸਤੂ ਦੀ ਸਪਲਾਈ ਨੂੰ ਵਿਅਕਤੀਗਤ ਸਪਲਾਈ ਕਿਹਾ ਜਾਂਦਾ ਹੈ। ਕਿਸੇ ਵਸਤੂ ਦੀ ਵਿਅਕਤੀਗਤ ਸਪਲਾਈ ਅਨੁਸੂਚੀ ਬਣਾਉਣ ਲਈ, ਸਾਨੂੰ ਵੱਖ-ਵੱਖ ਕੀਮਤਾਂ 'ਤੇ ਸਪਲਾਈ ਕੀਤੀਆਂ ਮਾਤਰਾਵਾਂ ਬਾਰੇ ਜਾਣਕਾਰੀ ਦੀ ਲੋੜ ਹੁੰਦੀ ਹੈ। ਇਸ ਪਾਠ ਵਿੱਚ ਪਹਿਲਾਂ ਦਿੱਤੀਆਂ ਗਈਆਂ ਸਪਲਾਈ ਦੀਆਂ ਸਾਰੀਆਂ ਉਦਾਹਰਣਾਂ ਵਿੱਚ, ਅਸੀਂ ਇੱਕ ਦਿੱਤੇ ਸਮੇਂ ਵਿੱਚ ਇੱਕ ਖਾਸ ਕੀਮਤ 'ਤੇ ਸਪਲਾਈ ਕੀਤੀਆਂ ਗਈਆਂ ਵਸਤਾਂ ਦੀ ਇੱਕ ਖਾਸ ਮਾਤਰਾ ਦਾ ਜ਼ਿਕਰ ਕੀਤਾ ਹੈ। ਅਸੀਂ ਜਾਣਦੇ ਹਾਂ ਕਿ ਅਸਲ ਵਿੱਚ ਵਸਤੂ ਦੀ ਕੀਮਤ ਬਦਲਦੀ ਹੈ। ਹੁਣ ਅਸੀਂ ਸਵਾਲ ਪੁੱਛਦੇ ਹਾਂ- ਜੇਕਰ ਵਸਤੂ ਦੀ ਕੀਮਤ ਬਦਲ ਜਾਂਦੀ ਹੈ ਤਾਂ ਕੀ ਹੁੰਦਾ ਹੈ? ਇਸ ਅਨੁਸਾਰ

ਸਾਰਣੀ 10.1 'X' ਲਿਮਟਿਡ ਦੀ ਖੰਡ ਦੀ ਸਪਲਾਈ।

ਕੀਮਤ (ਰੁ. ਪ੍ਰਤੀ ਕੁਇੰਟਲ)	ਖੰਡ ਦੀ ਸਪਲਾਈ ਦੀ ਮਾਤਰਾ ਪ੍ਰਤੀ ਦਿਨ (ਕੁਇੰਟਲਾਂ 'ਚ)
2800	8
2900	9
3000	10
3100	12
3200	15

ਇਹ ਉਮੀਦ ਕੀਤੀ ਜਾਂਦੀ ਹੈ ਕਿ ਵਸਤੂ ਦੀ ਮਾਤਰਾ ਵੀ ਬਦਲ ਜਾਵੇਗੀ। ਆਉ ਇੱਕ ਫਰਮ ਐਕਸ ਲਿਮਟਿਡ ਦੀ ਉਦਾਹਰਨ ਲਈ ਜਿਸ ਨੇ ਇੱਕ ਦਿਨ ਵਿੱਚ 2800 ਰੁਪਏ ਪ੍ਰਤੀ ਕੁਇੰਟਲ 8 ਕੁਇੰਟਲ ਖੰਡ ਦੀ ਕੀਮਤ 'ਤੇ ਵੇਚੀ। ਮੰਨ ਲਓ ਕਿ ਭਾਅ ਵਧ ਕੇ 2900 ਰੁਪਏ ਪ੍ਰਤੀ ਕੁਇੰਟਲ ਹੋ ਗਿਆ। ਪਤਾ ਲੱਗਾ ਹੈ ਕਿ ਐਕਸ ਲਿਮਟਿਡ ਨੇ ਇਸ ਕੀਮਤ 'ਤੇ ਇੱਕ ਦਿਨ ਵਿੱਚ 9 ਕੁਇੰਟਲ ਖੰਡ ਦੀ ਸਪਲਾਈ ਕੀਤੀ। ਇਸੇ ਤਰ੍ਹਾਂ ਜਦੋਂ ਕੀਮਤ 3000 ਰੁਪਏ ਹੋ ਗਈ ਤਾਂ ਸਪਲਾਈ ਕੀਤੀ ਗਈ ਮਾਤਰਾ 10 ਕੁਇੰਟਲ ਤੱਕ ਵਧ ਗਈ। ਇਸ ਤੋਂ ਇਲਾਵਾ 3100 ਰੁਪਏ ਅਤੇ 3200 ਰੁਪਏ ਦੀ ਕੀਮਤ 'ਤੇ ਸਪਲਾਈ ਕੀਤੀ ਗਈ ਮਾਤਰਾ ਕ੍ਰਮਵਾਰ 12 ਅਤੇ 15 ਕੁਇੰਟਲ ਹੋ ਗਈ। ਵੱਖ-ਵੱਖ ਕੀਮਤਾਂ 'ਤੇ ਸਪਲਾਈ ਕੀਤੀਆਂ ਵੱਖ-ਵੱਖ ਮਾਤਰਾਵਾਂ ਬਾਰੇ ਇਹ ਜਾਣਕਾਰੀ ਹੇਠਾਂ ਦਿੱਤੀ ਸਾਰਣੀ 10.1 ਵਿੱਚ ਦਿੱਤੀ ਗਈ ਹੈ।

ਕਿਸੇ ਫਰਮ ਦੁਆਰਾ ਵੱਖ-ਵੱਖ ਕੀਮਤਾਂ 'ਤੇ ਸਪਲਾਈ ਕੀਤੀ ਵਸਤੂ ਦੀਆਂ ਵੱਖ-ਵੱਖ ਮਾਤਰਾਵਾਂ ਦੀ ਅਜਿਹੀ ਸਾਰਣੀਬੱਧ ਪੇਸ਼ਕਾਰੀ ਨੂੰ ਵਿਅਕਤੀਗਤ ਸਪਲਾਈ ਅਨੁਸੂਚੀ ਕਿਹਾ ਜਾਂਦਾ ਹੈ।

10.5 ਸਪਲਾਈ ਦਾ ਨਿਯਮ

ਹੁਣੇ ਅਸੀਂ ਕਿਹਾ ਹੈ ਕਿ ਕਿਸੇ ਵਸਤੂ ਦੀ ਸਪਲਾਈ ਨੂੰ ਨਿਰਧਾਰਤ ਕਰਨ ਵਾਲੇ ਛੇ ਮੁੱਖ ਕਾਰਕ ਹਨ- ਵਸਤੂ ਦੀ ਕੀਮਤ, ਹੋਰ ਸਬੰਧਤ ਵਸਤਾਂ ਦੀ ਕੀਮਤ, ਇਨਪੁੱਟਸ ਦੀ ਕੀਮਤ, ਉਤਪਾਦਨ ਦੀ ਤਕਨਾਲੋਜੀ, ਫਰਮ ਦਾ ਉਦੇਸ਼ ਅਤੇ ਸਰਕਾਰੀ ਨੀਤੀ। ਇਹਨਾਂ ਵਿੱਚੋਂ ਕਿਸੇ ਇੱਕ ਜਾਂ ਸਾਰੇ ਕਾਰਕਾਂ ਵਿੱਚ ਤਬਦੀਲੀ ਵਸਤੂ ਦੀ ਸਪਲਾਈ ਕੀਤੀ ਮਾਤਰਾ ਵਿੱਚ

ਤਬਦੀਲੀ ਲਿਆ ਸਕਦੀ ਹੈ। ਮੰਨ ਲਓ ਕਿ ਅਸੀਂ ਉਸ ਤਰੀਕੇ ਨੂੰ ਜਾਣਨਾ ਚਾਹੁੰਦੇ ਹਾਂ ਜਿਸ ਵਿੱਚ ਕਿਸੇ ਇੱਕ ਕਾਰਕ ਵਿੱਚ ਤਬਦੀਲੀ ਦੇ ਕਾਰਨ ਕਿਸੇ ਵਸਤੂ ਦੀ ਸਪਲਾਈ ਕੀਤੀ ਮਾਤਰਾ

ਮੌਡਿਊਲ: 4

ਵਸਤਾਂ ਅਤੇ ਸੇਵਾਵਾਂ ਦੀ ਵੰਡ



ਨੋਟ

ਵਸਤਾਂ ਅਤੇ ਸੇਵਾਵਾਂ ਦੀ
ਵੰਡ



ਨੋਟ

ਬਦਲਦੀ ਹੈ। ਦੂਜੇ ਸ਼ਬਦਾਂ ਵਿੱਚ, ਅਸੀਂ ਸਪਲਾਈ ਕੀਤੀ ਮਾਤਰਾ ਉੱਤੇ ਕਿਸੇ ਇੱਕ ਕਾਰਕ ਵਿੱਚ ਤਬਦੀਲੀ ਦੇ ਪ੍ਰਭਾਵ ਨੂੰ ਜਾਣਨ ਦੀ ਕੋਸ਼ਿਸ਼ ਕਰਦੇ ਹਾਂ। ਇਹ ਜਾਣਨ ਲਈ ਸਾਨੂੰ ਹੋਰ ਸਾਰੇ ਕਾਰਕਾਂ ਨੂੰ ਬਦਲਣਾ ਜਾਂ ਸਥਿਰ ਰੱਖਣਾ ਚਾਹੀਦਾ ਹੈ। ਸ਼ੁਰੂ ਕਰਨ ਲਈ, ਛੇ ਕਾਰਕਾਂ ਵਿੱਚੋਂ ਅਸੀਂ ਸਿਰਫ਼ ਇਸਦੀ ਸਪਲਾਈ ਕੀਤੀ ਮਾਤਰਾ 'ਤੇ ਵਸਤੂ ਦੀ ਕੀਮਤ ਵਿੱਚ ਤਬਦੀਲੀ ਦੇ ਪ੍ਰਭਾਵ 'ਤੇ ਵਿਚਾਰ ਕਰਦੇ ਹਾਂ। ਇਹ ਜਾਣਨ ਲਈ ਸਾਨੂੰ ਇਹ ਮੰਨ ਲੈਣਾ ਚਾਹੀਦਾ ਹੈ ਕਿ ਹੋਰ ਸਾਰੇ ਕਾਰਕ ਜਿਵੇਂ ਕਿ ਹੋਰ ਸਬੰਧਤ ਵਸਤਾਂ ਦੀ ਕੀਮਤ, ਇਨਪੁੱਟਸ ਦੀ ਕੀਮਤ, ਉਤਪਾਦਨ ਦੀ ਤਕਨਾਲੋਜੀ ਅਤੇ ਸਰਕਾਰੀ ਨੀਤੀ ਆਦਿ ਇਸ ਸਮੇਂ ਸਥਿਰ ਰਹਿੰਦੇ ਹਨ ਜਾਂ ਬਦਲਦੇ ਨਹੀਂ ਹਨ। ਸਪਲਾਈ ਕੀਤੀ ਕੀਮਤ ਅਤੇ ਮਾਤਰਾ ਵਿਚਕਾਰ ਸਬੰਧ, ਜਦੋਂ ਵਸਤੂ ਦੀ ਕੀਮਤ ਤੋਂ ਇਲਾਵਾ ਹੋਰ ਸਾਰੇ ਕਾਰਕ ਸਥਿਰ ਰਹਿੰਦੇ ਹਨ, ਸਪਲਾਈ ਦੇ ਨਿਯਮ ਰਾਹੀਂ ਦਿੱਤਾ ਜਾਂਦਾ ਹੈ।

ਸਾਰਣੀ 10.1 'ਤੇ ਦੁਬਾਰਾ ਵਿਚਾਰ ਕਰੋ। ਇਹ 'X' ਲਿਮਟਿਡ ਦੁਆਰਾ ਵੱਖ-ਵੱਖ ਕੀਮਤਾਂ 'ਤੇ ਸਪਲਾਈ ਕੀਤੀ ਗਈ ਖੰਡ ਦੀਆਂ ਵੱਖ-ਵੱਖ ਮਾਤਰਾਵਾਂ ਨੂੰ ਦਰਸਾਉਂਦਾ ਹੈ। ਸਾਰਣੀ ਵਿੱਚ ਤੁਸੀਂ ਸਪਲਾਈ ਕੀਤੀ ਕੀਮਤ ਅਤੇ ਮਾਤਰਾ 'ਤੇ ਸਿਰਫ਼ ਦੋ ਕਾਲਮ ਦੇਖ ਸਕਦੇ ਹੋ। ਹੋਰ ਕਾਰਕਾਂ 'ਤੇ ਕਾਲਮਾਂ ਦੀ ਅਣਹੋਂਦ ਦਾ ਮਤਲਬ ਹੈ ਕਿ ਉਹਨਾਂ ਨੂੰ ਸਥਿਰ ਰੱਖਿਆ ਗਿਆ ਹੈ। ਤੁਸੀਂ ਦੇਖ ਸਕਦੇ ਹੋ ਕਿ ਜਦੋਂ ਖੰਡ ਦੀ ਕੀਮਤ 3000 ਰੁਪਏ ਪ੍ਰਤੀ ਕੁਇੰਟਲ ਹੁੰਦੀ ਹੈ, ਤਾਂ ਫਰਮ ਪ੍ਰਤੀ ਦਿਨ 10 ਕੁਇੰਟਲ ਖੰਡ ਵਿਕਰੀ ਲਈ ਪੇਸ਼ ਕਰਦੀ ਹੈ। ਜਦੋਂ ਕੀਮਤ ਵਧ ਕੇ 3200 ਰੁਪਏ ਪ੍ਰਤੀ ਕੁਇੰਟਲ ਹੋ ਜਾਂਦੀ ਹੈ, ਤਾਂ ਇਹ ਪ੍ਰਤੀ ਦਿਨ 15 ਕੁਇੰਟਲ ਖੰਡ ਦੀ ਵਿਕਰੀ ਲਈ ਤਤਪਰ ਹੁੰਦਾ ਹੈ। ਦੂਜੇ ਪਾਸੇ, ਜਦੋਂ ਖੰਡ ਦੀ ਕੀਮਤ 2800 ਰੁਪਏ ਪ੍ਰਤੀ ਕੁਇੰਟਲ ਤੱਕ ਡਿੱਗ ਜਾਂਦੀ ਹੈ ਤਾਂ ਇਹ ਘੱਟ, ਭਾਵ 8 ਕੁਇੰਟਲ ਪ੍ਰਤੀ ਦਿਨ ਵਿਕਰੀ ਲਈ ਪੇਸ਼ ਕਰਦੀ ਹੈ। ਇਸਦਾ ਅਰਥ ਹੈ ਕਿ ਫਰਮ ਕਿਸੇ ਵਸਤੂ ਦੀ ਵੱਧ ਕੀਮਤ 'ਤੇ ਵਧੇਰੇ ਮਾਤਰਾ ਅਤੇ ਘੱਟ ਕੀਮਤ 'ਤੇ ਇਸਦੀ ਘੱਟ ਸਪਲਾਈ ਕਰਦੀ ਹੈ। ਅਸੀਂ ਇਸਨੂੰ ਹੇਠ ਲਿਖੇ ਤਰੀਕੇ ਨਾਲ ਨਿਯਮ ਦੇ ਰੂਪ ਵਿੱਚ ਬਿਆਨ ਕਰ ਸਕਦੇ ਹਾਂ।

ਬਾਕੀ ਸਪਲਾਈ ਦੇ ਸਾਰੇ ਕਾਰਕ ਜੋ ਸਥਿਰ ਰਹਿੰਦੇ ਹਨ, ਕਿਸੇ ਵਸਤੂ ਦੀ ਕੀਮਤ ਅਤੇ ਸਪਲਾਈ ਕੀਤੀ ਗਈ ਮਾਤਰਾ ਨਾਲ ਸਿੱਧੇ ਤੌਰ 'ਤੇ ਸਬੰਧਿਤ ਹਨ।

ਸਪਲਾਈ ਦੇ ਨਿਯਮ ਨੂੰ ਸਾਰਣੀ 10.2 ਵਿੱਚ ਦਿੱਤੀ ਗਈ ਇੱਕ ਹੋਰ ਉਦਾਹਰਨ ਦੀ ਮਦਦ ਨਾਲ ਸਮਝਾਇਆ ਜਾ ਸਕਦਾ ਹੈ।

ਸਾਰਣੀ 10.2 ਮੋਹਨ ਦੁਆਰਾ ਅੰਬਾਂ ਦੀ ਸਪਲਾਈ

ਅੰਬਾਂ ਦੀ ਕੀਮਤ (ਰੁ. ਪ੍ਰਤੀ ਕਿਲੋ)	ਅੰਬਾਂ ਦੀ ਸਪਲਾਈ ਦੀ ਮਾਤਰਾ ਰੋਜ਼ਾਨਾ (ਕਿਲੋ 'ਚ)
20	100
30	200
40	300
50	400
60	500

ਸਾਰਣੀ 10.2 ਅੰਬਾਂ ਦੇ ਵਿਕਰੇਤਾ ਮੋਹਨ ਦੁਆਰਾ ਵੱਖ-ਵੱਖ ਕੀਮਤਾਂ 'ਤੇ ਸਪਲਾਈ ਕੀਤੇ ਅੰਬਾਂ ਦੀ ਵੱਖ-ਵੱਖ ਮਾਤਰਾ ਨੂੰ ਦਰਸਾਉਂਦੀ ਹੈ। ਮੋਹਨ ਨੇ ਪ੍ਰਤੀ ਦਿਨ 100 ਕਿਲੋ ਅੰਬਾਂ ਦੀ ਸਪਲਾਈ ਕੀਤੀ ਜਦੋਂ ਕੀਮਤ 20 ਰੁਪਏ ਪ੍ਰਤੀ ਕਿਲੋ ਹੁੰਦੀ ਹੈ, ਜਦੋਂ ਕੀਮਤ 40 ਰੁਪਏ ਪ੍ਰਤੀ ਕਿਲੋ ਹੋ ਜਾਂਦੀ ਹੈ ਤਾਂ ਉਹ ਰੋਜ਼ਾਨਾ 300 ਕਿਲੋ ਅੰਬ ਸਪਲਾਈ ਕਰਨ ਲਈ ਤਿਆਰ ਹੁੰਦਾ ਹੈ। ਇਸ ਤਰ੍ਹਾਂ ਅੰਬਾਂ ਦੀ ਕੀਮਤ ਵਧਣ ਨਾਲ ਸਪਲਾਈ ਦੀ ਮਾਤਰਾ ਵਧ ਜਾਂਦੀ ਹੈ। ਇਹ ਸਪਲਾਈ ਦੇ ਨਿਯਮ ਦੇ ਅਨੁਸਾਰ ਹੈ।

10.6 ਸਪਲਾਈ ਵਕਰ

ਸਾਰਣੀ 10.2 ਵਿੱਚ ਦਿੱਤੀ ਗਈ ਜਾਣਕਾਰੀ ਨੂੰ ਚਿੱਤਰ ਦੇ ਤੌਰ 'ਤੇ ਵੀ ਦਰਸਾਇਆ ਜਾ ਸਕਦਾ ਹੈ। ਸਪਲਾਈ ਦੇ ਨਿਯਮ ਦੀ ਰੇਖਾ-ਚਿੱਤਰ ਪ੍ਰਤੀਨਿਧਤਾ ਨੂੰ ਸਪਲਾਈ ਵਕਰ ਕਿਹਾ ਜਾਂਦਾ ਹੈ। ਇਸ ਤਰ੍ਹਾਂ, ਸਪਲਾਈ ਵਕਰ ਰੇਖਾ-ਚਿੱਤਰ ਰੂਪ ਵਿੱਚ ਪ੍ਰਤੀ ਯੂਨਿਟ ਸਮੇਂ ਦੀਆਂ ਵੱਖ-ਵੱਖ ਕੀਮਤਾਂ 'ਤੇ ਸਪਲਾਈ ਕੀਤੀ ਵਸਤੂ ਦੀਆਂ ਵੱਖ-ਵੱਖ ਮਾਤਰਾਵਾਂ ਨੂੰ ਦਰਸਾਉਂਦਾ ਹੈ।

ਅਸੀਂ ਸਾਰਣੀ 10.2 ਵਿੱਚ ਦਿੱਤੀ ਜਾਣਕਾਰੀ ਦੀ ਮਦਦ ਨਾਲ ਇੱਕ ਵਿਅਕਤੀਗਤ ਸਪਲਾਈ ਵਕਰ ਬਣਾ ਸਕਦੇ ਹਾਂ। ਸਪਲਾਈ ਕਰਵ ਚਿੱਤਰ 10.1 ਵਿੱਚ ਬਣਾਇਆ ਗਿਆ ਹੈ।

X-ਐਕਸਿਸ (ਧੁਰਾ) 'ਤੇ ਅੰਬਾਂ ਦੀ ਸਪਲਾਈ ਕੀਤੀ ਮਾਤਰਾ ਅਤੇ Y-ਐਕਸਿਸ 'ਤੇ ਅੰਬਾਂ ਦੀ ਕੀਮਤ ਲਓ। Y-ਐਕਸਿਸ (ਲੰਬਕਾਰੀ) 'ਤੇ 20 ਤੋਂ 60 ਰੁਪਏ ਤੱਕ ਦੀਆਂ ਕੀਮਤਾਂ ਦਰਸਾਈਆਂ ਕੀਤੀਆਂ ਗਈਆਂ ਹਨ। X -ਐਕਸਿਸ (ਲੇਟਵੇਂ) ਉੱਤੇ 100 ਤੋਂ 500 ਕਿਲੋਗ੍ਰਾਮ ਤੱਕ ਅੰਬਾਂ ਦੀ ਮਾਤਰਾ ਦਰਸਾਈ ਗਈ ਹੈ। ਮੋਹਨ ਨੇ 20 ਰੁਪਏ ਵਿੱਚ 100 ਕਿਲੋ ਅੰਬਾਂ ਦੀ ਸਪਲਾਈ ਕੀਤੀ ਹੈ।

ਮੌਡਿਊਲ: 4

ਵਸਤਾਂ ਅਤੇ ਸੇਵਾਵਾਂ ਦੀ ਵੰਡ

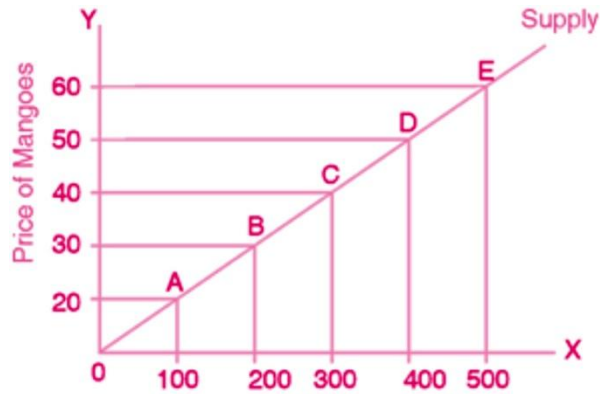


ਨੋਟ

ਵਸਤਾਂ ਅਤੇ ਸੇਵਾਵਾਂ ਦੀ
ਵੰਡ



ਨੋਟ



ਚਿੱਤਰ 10.1 ਵਿਅਕਤੀਗਤ ਸਪਲਾਈ ਵਕਰ

ਚਿੱਤਰ 10.1 ਵਿੱਚ ਦਿੱਤੇ ਗਏ ਗ੍ਰਾਫ ਵਿੱਚ ਬਿੰਦੂ A 'ਤੇ ਦਿਖਾਇਆ ਗਿਆ ਹੈ। ਇਸੇ ਤਰ੍ਹਾਂ, ਸਾਰਣੀ 10.2 ਵਿੱਚ ਦਿੱਤੇ ਅੰਬਾਂ ਦੀ ਕੀਮਤ ਅਤੇ ਮਾਤਰਾ ਦੇ ਹੋਰ ਸੰਯੋਜਨ ਬਿੰਦੂ B, C, D, E ਅਤੇ F ਦੇ ਰੂਪ ਵਿੱਚ ਦਰਸਾਏ ਗਏ ਹਨ। ਇਹਨਾਂ ਬਿੰਦੂਆਂ ਨੂੰ ਜੋੜ ਕੇ ਅੰਬਾਂ ਲਈ ਮੋਹਨ ਦੀ ਸਪਲਾਈ ਵਕਰ ਪ੍ਰਾਪਤ ਕੀਤੀ ਗਈ ਹੈ।

10.7 ਸਪਲਾਈ ਵਕਰ ਦਾ ਆਕਾਰ

ਸਪਲਾਈ ਦੇ ਨਿਯਮ ਅਨੁਸਾਰ ਜਦੋਂ ਸਪਲਾਈ ਨਿਰਧਾਰਿਤ ਕਰਨ ਵਾਲੇ ਹੋਰ ਕਾਰਕ ਸਥਿਰ ਰਹਿੰਦੇ ਹਨ, ਇੱਕ ਫਰਮ ਕਿਸੇ ਵਸਤੂ ਦੀ ਵੱਧ ਕੀਮਤ 'ਤੇ ਵਿਕਰੀ ਲਈ ਅਤੇ ਘੱਟ ਕੀਮਤ 'ਤੇ ਇਸ ਦੀ ਘੱਟ ਮਾਤਰਾ ਦੀ ਪੇਸ਼ਕਸ਼ ਕਰਦੀ ਹੈ। ਵਸਤੂ ਦੀ ਸਪਲਾਈ ਕੀਤੀ ਕੀਮਤ ਅਤੇ ਮਾਤਰਾ ਦੇ ਇਸ ਸਿੱਧੇ ਸਬੰਧ ਦੇ ਕਾਰਨ, ਸਪਲਾਈ ਵਕਰ ਉੱਪਰ ਵੱਲ ਢਲਾਅ ਰਿਹਾ ਹੈ। ਇਸਦਾ ਮਤਲਬ ਹੈ ਕਿ ਸਪਲਾਈ ਕਰਵ ਜੇ ਰੇਖਾ ਚਿੱਤਰ ਵਿੱਚ ਇੱਕ ਸਿੱਧੀ ਰੇਖਾ ਦੇ ਰੂਪ ਵਿੱਚ ਦਿਖਾਈ ਦਿੰਦਾ ਹੈ, ਮੂਲ ਦੇ ਨੇੜੇ ਇੱਕ ਬਿੰਦੂ ਤੋਂ ਸ਼ੁਰੂ ਹੁੰਦਾ ਹੈ ਅਤੇ ਫਿਰ ਸੱਜੇ ਪਾਸੇ ਵੱਲ ਵਧਦਾ ਹੈ। ਹੁਣ

ਸਵਾਲ ਇਹ ਪੈਦਾ ਹੁੰਦਾ ਹੈ ਕਿ ਕੋਈ ਫਰਮ ਕਿਸੇ ਵਸਤੂ ਦੀ ਵੱਧ ਕੀਮਤ 'ਤੇ ਜ਼ਿਆਦਾ ਮਾਤਰਾ 'ਚ ਅਤੇ ਘੱਟ ਕੀਮਤ 'ਤੇ ਘੱਟ ਸਪਲਾਈ ਕਿਉਂ ਕਰਦੀ ਹੈ?

ਯਾਨਿ ਕਿ ਸਪਲਾਈ ਵਕਰ ਉੱਪਰ ਵੱਲ ਢਲਾਨ ਕਿਉਂ ਹੁੰਦੀ ਹੈ? ਸਪਲਾਈ ਵਕਰ ਦੀ ਉੱਪਰ ਵੱਲ ਢਲਾਣ ਲਈ ਹੇਠਾਂ ਦਿੱਤੇ ਕਾਰਕ ਜ਼ਿੰਮੇਵਾਰ ਹਨ:

ਸਪਲਾਈ

- (i) ਵਸਤਾਂ ਦੀ ਕੀਮਤ ਵਿੱਚ ਵਾਧਾ ਮੁਨਾਫ਼ੇ ਵਿੱਚ ਵਾਧੇ ਦਾ ਕਾਰਨ ਬਣਦਾ ਹੈ, ਨਤੀਜੇ ਵਜੋਂ ਫਰਮਾਂ ਨੂੰ ਮੁਨਾਫ਼ਾ ਵਧਾਉਣ ਲਈ ਵਸਤੂ ਦੀ ਵਧੇਰੇ ਮਾਤਰਾ ਦੀ ਸਪਲਾਈ ਕਰਨ ਲਈ ਪ੍ਰੇਰਿਤ ਕੀਤਾ ਜਾਂਦਾ ਹੈ।
- (ii) ਵਸਤੂ ਦੀ ਕੀਮਤ ਵਿੱਚ ਵਾਧਾ ਵਿਕਰੇਤਾ ਨੂੰ ਆਪਣੇ ਸਟਾਕ ਦੇ ਘੱਟੋ-ਘੱਟ ਇੱਕ ਹਿੱਸੇ ਦਾ ਨਿਪਟਾਰਾ ਕਰਨ ਲਈ ਪ੍ਰੇਰਿਤ ਕਰਦਾ ਹੈ। ਉਲਟਾ ਉਦੋਂ ਹੁੰਦਾ ਹੈ ਜਦੋਂ ਵਸਤੂ ਦੀ ਕੀਮਤ ਵਿੱਚ ਗਿਰਾਵਟ ਆਉਂਦੀ ਹੈ।
- (iii) ਵਸਤਾਂ ਦੀ ਕੀਮਤ ਵਿੱਚ ਵਾਧਾ ਜਿਸ ਨਾਲ ਵੱਧ ਮੁਨਾਫ਼ਾ ਹੁੰਦਾ ਹੈ, ਨਵੀਆਂ ਫਰਮਾਂ ਨੂੰ ਮਾਰਕੀਟ ਵਿੱਚ ਦਾਖਲ ਹੋਣ ਲਈ ਆਕਰਸ਼ਿਤ ਕਰਦਾ ਹੈ ਅਤੇ ਇਸ ਨਾਲ ਵਸਤੂ ਦੀ ਸਪਲਾਈ ਵਿੱਚ ਵਾਧਾ ਹੁੰਦਾ ਹੈ ਜਿਸ ਨਾਲ ਉੱਚ ਕੀਮਤ 'ਤੇ ਵਧੇਰੇ ਮਾਤਰਾ ਦੀ ਸਪਲਾਈ ਕੀਤੀ ਜਾਂਦੀ ਹੈ।

ਪਾਠ ਅਧੀਨ ਪ੍ਰਸ਼ਨ 10.2

1. ਹੇਠਾਂ ਦਿੱਤੇ ਅੰਕੜਿਆਂ ਦੀ ਮਦਦ ਨਾਲ ਸਪਲਾਈ ਵਕਰ ਬਣਾਓ:

ਕੀਮਤ (ਰੁਪਏ ਪ੍ਰਤੀ ਇਕਾਈ)	1	2	3	4	5
ਸਪਲਾਈ ਕੀਤੀ ਮਾਤਰਾ (ਇਕਾਈਆਂ ਵਿੱਚ)	50	100	150	200	250
2. ਸਾਰਣੀ 10.1 ਦੀ ਵਰਤੋਂ ਕਰਕੇ ਸਪਲਾਈ ਵਕਰ ਬਣਾਓ।

10.8 ਕਿਸੇ ਵਸਤੂ ਦੀ ਮਾਰਕੀਟ ਸਪਲਾਈ

'ਐਕਸ' ਲਿਮਟਿਡ ਖੰਡ ਦੀ ਸਪਲਾਈ ਕਰਨ ਵਾਲੀ ਮਾਰਕੀਟ ਵਿੱਚ ਇਕਲੋਤੀ ਫਰਮ ਨਹੀਂ ਹੈ। ਬਾਜ਼ਾਰ ਵਿੱਚ ਖੰਡ ਦੀ ਸਪਲਾਈ ਕਰਨ ਵਾਲੀਆਂ ਹੋਰ ਫਰਮਾਂ ਵੀ ਹੋ ਸਕਦੀਆਂ ਹਨ। ਮਾਰਕੀਟ ਵਿੱਚ ਇਕੱਠੀਆਂ ਕੀਤੀਆਂ ਸਾਰੀਆਂ ਫਰਮਾਂ ਦੁਆਰਾ ਸਪਲਾਈ ਕੀਤੀ ਗਈ ਖੰਡ ਦੀ ਕੁੱਲ ਮਾਤਰਾ ਨੂੰ ਜਾਣਨ ਲਈ ਸਾਨੂੰ ਮੌਜੂਦਾ ਕੀਮਤ ਅਤੇ ਸਮੇਂ 'ਤੇ ਵਿਅਕਤੀਗਤ ਮਾਤਰਾਵਾਂ ਨੂੰ ਜੋੜਨਾ ਪਵੇਗਾ। ਨਤੀਜਾ ਮਾਤਰਾ ਨੂੰ ਖੰਡ ਦੀ ਮਾਰਕੀਟ ਸਪਲਾਈ ਕਿਹਾ ਜਾਵੇਗਾ।

ਇਸ ਲਈ ਕਿਸੇ ਨਿਸ਼ਚਿਤ ਸਮੇਂ 'ਤੇ ਸਾਰੀਆਂ ਫਰਮਾਂ ਦੁਆਰਾ ਇੱਕ ਨਿਰਧਾਰਤ ਕੀਮਤ 'ਤੇ ਬਾਜ਼ਾਰ ਵਿੱਚ ਸਪਲਾਈ ਕੀਤੀ ਕਿਸੇ ਵਸਤੂ ਦੀ ਕੁੱਲ ਮਾਤਰਾ ਨੂੰ ਉਸ ਵਸਤੂ ਦੀ ਮਾਰਕੀਟ ਸਪਲਾਈ ਕਿਹਾ ਜਾਂਦਾ ਹੈ।

ਮੌਡਿਊਲ: 4

ਵਸਤਾਂ ਅਤੇ ਸੇਵਾਵਾਂ ਦੀ ਵੰਡ



ਨੋਟ



ਮੰਨ ਲਓ, ਸਿਰਫ ਤਿੰਨ ਫਰਮਾਂ X, Y ਅਤੇ Z ਹਨ ਜੋ ਬਾਜ਼ਾਰ ਵਿੱਚ ਖੰਡ ਦੀ ਸਪਲਾਈ ਕਰ ਰਹੀਆਂ ਹਨ। 2800 ਰੁਪਏ ਪ੍ਰਤੀ ਕੁਇੰਟਲ ਦੀ ਕੀਮਤ 'ਤੇ X, Y ਅਤੇ Z ਨੇ ਇੱਕ ਦਿਨ ਵਿੱਚ ਕ੍ਰਮਵਾਰ 8, 10 ਅਤੇ 15 ਕੁਇੰਟਲ ਖੰਡ ਦੀ ਸਪਲਾਈ ਕੀਤੀ। ਇਹਨਾਂ ਮਾਤਰਾਵਾਂ ਨੂੰ ਜੋੜਨ ਨਾਲ ਸਾਨੂੰ 33 ਮਿਲਦੇ ਹਨ। ਇਸ ਲਈ ਖੰਡ ਦੀ ਬਾਜ਼ਾਰੀ ਸਪਲਾਈ 2800 ਰੁਪਏ ਦੀ ਕੀਮਤ 'ਤੇ 33 ਕੁਇੰਟਲ ਪ੍ਰਤੀ ਦਿਨ ਹੈ।

10.9 ਕਿਸੇ ਵਸਤੂ ਦੀ ਮਾਰਕੀਟ ਸਪਲਾਈ ਅਨੁਸੂਚੀ

ਇੱਕ ਵਿਅਕਤੀਗਤ ਸਪਲਾਈ ਅਨੁਸੂਚੀ ਦੀ ਤਰ੍ਹਾਂ, ਇੱਕ ਵਸਤੂ ਦੀ ਮਾਰਕੀਟ ਸਪਲਾਈ ਅਨੁਸੂਚੀ ਵੱਖ-ਵੱਖ ਕੀਮਤਾਂ 'ਤੇ ਮਾਰਕੀਟ ਵਿੱਚ ਸਾਰੀਆਂ ਫਰਮਾਂ ਦੁਆਰਾ ਸਪਲਾਈ ਕੀਤੀ ਵਸਤਾਂ ਦੀ ਮਾਤਰਾ ਦਾ ਜੋੜ ਹੈ। ਅਸੀਂ ਦੇਖਿਆ ਹੈ ਕਿ ਵਿਅਕਤੀਗਤ ਫਰਮ/ਵਿਕਰੇਤਾ ਦੇ ਮਾਮਲੇ ਵਿੱਚ, ਜਦੋਂ ਵਸਤੂ ਦੀ ਕੀਮਤ ਵਧਦੀ ਹੈ, ਤਾਂ ਉਸੇ ਦੀ ਮਾਤਰਾ ਵਧਦੀ ਹੈ ਅਤੇ ਜਦੋਂ ਕੀਮਤ ਘਟਦੀ ਹੈ ਤਾਂ ਸਪਲਾਈ ਦੇ ਨਿਯਮ ਅਨੁਸਾਰ ਮਾਤਰਾ ਘਟਦੀ ਹੈ। ਇਸੇ ਤਰ੍ਹਾਂ ਬਾਜ਼ਾਰ ਵਿੱਚ ਸਾਰੀਆਂ ਹੋਰ ਫਰਮਾਂ/ਵਿਕਰੇਤਾਵਾਂ ਵੀ ਆਪੋ-ਆਪਣੀਆਂ ਮਾਤਰਾਵਾਂ ਵਿੱਚ ਵਾਧਾ ਜਾਂ ਕਮੀ ਕਰਨਗੀਆਂ। ਇਸ ਅਨੁਸਾਰ ਸਾਰੀਆਂ ਫਰਮਾਂ/ਵਿਕਰੇਤਾਵਾਂ ਦੁਆਰਾ ਵੱਖ-ਵੱਖ ਕੀਮਤਾਂ 'ਤੇ ਸਪਲਾਈ ਕੀਤੀਆਂ ਗਈਆਂ ਵੱਖ-ਵੱਖ ਮਾਤਰਾਵਾਂ ਬਾਜ਼ਾਰ ਵਿੱਚ ਇਕੱਠੀਆਂ ਕੀਤੀਆਂ ਜਾਣਗੀਆਂ।

ਖੰਡ ਦੀ ਸਪਲਾਈ ਦੀ ਉਦਾਹਰਨ ਦੇ ਨਾਲ ਜਾਰੀ ਰੱਖੋ। ਸਾਰਣੀ 10.3 ਵਿੱਚ ਦਿੱਤੇ ਅਨੁਸਾਰ ਖੰਡ ਦੀ ਮਾਰਕੀਟ ਸਪਲਾਈ ਅਨੁਸੂਚੀ ਦਾ ਅਧਿਐਨ ਕਰੋ।

ਸਾਰਣੀ 10.3 ਖੰਡ ਦੀ ਮਾਰਕੀਟ ਸਪਲਾਈ

ਕੀਮਤ (ਪ੍ਰਤੀ ਕੁਇੰਟਲ)	ਖੰਡ ਦੀ ਸਪਲਾਈ ਦੀ ਮਾਤਰਾ ਰੋਜ਼ਾਨਾ (ਕੁਇੰਟਲਾਂ 'ਚ)			ਖੰਡ ਦੀ ਬਾਜ਼ਾਰ ਸਪਲਾਈ (ਕੁਇੰਟਲਾਂ 'ਚ)
	ਕੰਪਨੀ X	ਕੰਪਨੀ Y	ਕੰਪਨੀ Z	
2800	8	10	15	33
2900	9	11	16	36
3000	10	12	17	39
3100	12	14	20	46
3200	15	17	25	57

ਤੁਸੀਂ ਸਾਰਣੀ 10.3 ਵਿੱਚ ਦੇਖ ਸਕਦੇ ਹੋ ਕਿ ਜਦੋਂ ਖੰਡ ਦੀ ਕੀਮਤ 2800 ਰੁਪਏ ਪ੍ਰਤੀ

ਸਪਲਾਈ

ਕੁਇੰਟਲ ਹੈ, ਫਰਮ X 8 ਕੁਇੰਟਲ, ਫਰਮ Y 10 ਕੁਇੰਟਲ ਅਤੇ ਫਰਮ Z 15 ਕੁਇੰਟਲ ਪ੍ਰਤੀ ਦਿਨ ਖੰਡ ਸਪਲਾਈ ਕਰਦੀ ਹੈ। ਇਸ ਲਈ ਰੁਪਏ ਦੇ ਭਾਅ 'ਤੇ ਖੰਡ ਦੀ ਮਾਰਕੀਟ ਸਪਲਾਈ 2800 ਰੁਪਏ ਪ੍ਰਤੀ ਕੁਇੰਟਲ $8 + 10 + 15 = 33$ ਕੁਇੰਟਲ ਪ੍ਰਤੀ ਦਿਨ ਹੈ। ਜਦੋਂ ਕੀਮਤ 2900 ਰੁਪਏ ਹੋ ਗਈ ਤਾਂ ਐਕਸ, ਵਾਈ ਅਤੇ ਜੈਡ ਦੀ ਸਪਲਾਈ ਕ੍ਰਮਵਾਰ 9, 11 ਅਤੇ 16 ਕੁਇੰਟਲ ਸੀ ਜੋ ਕਿ 36 ਕੁਇੰਟਲ ਬਣਦੀ ਹੈ। ਇਸ ਤਰ੍ਹਾਂ 2900 ਰੁਪਏ ਦੀ ਕੀਮਤ 'ਤੇ ਖੰਡ ਦੀ ਬਾਜ਼ਾਰ ਸਪਲਾਈ 36 ਕੁਇੰਟਲ ਸੀ। ਇਸੇ ਤਰ੍ਹਾਂ ਤੁਸੀਂ ਸਾਰਣੀ ਵਿੱਚ ਕ੍ਰਮਵਾਰ 3000, 3100 ਅਤੇ 3200 ਰੁਪਏ ਦੀ ਕੀਮਤ 'ਤੇ ਖੰਡ ਦੀ ਵਿਅਕਤੀਗਤ ਅਤੇ ਮਾਰਕੀਟ ਸਪਲਾਈ ਦੇਖ ਸਕਦੇ ਹੋ।

ਪਾਠ ਅਧੀਨ ਪ੍ਰਸ਼ਨ 10.3

- ਜੇਕਰ ਕਿਸੇ ਵਸਤੂ ਦੀ ਸਪਲਾਈ ਕਰਨ ਵਾਲੀਆਂ ਮੰਡੀ ਵਿੱਚ ਸਿਰਫ ਤਿੰਨ ਫਰਮਾਂ A, B ਅਤੇ C ਹਨ, ਤਾਂ ਹੇਠਾਂ ਦਿੱਤੇ ਅਨੁਸਾਰ ਉਹਨਾਂ ਦੀ ਸਪਲਾਈ ਅਨੁਸੂਚੀ ਦੀ ਮਦਦ ਨਾਲ ਵਸਤੂ ਦੀ ਮਾਰਕੀਟ ਸਪਲਾਈ ਦਾ ਪਤਾ ਲਗਾਓ।

ਕੀਮਤ (ਰੁ./ਇਕਾਈ)	ਮਾਤਰਾ ਸਪਲਾਈ (ਇਕਾਈ ਵਿੱਚ)			ਬਾਜ਼ਾਰ ਸਪਲਾਈ (ਇਕਾਈ ਵਿੱਚ)
	ਕੰਪਨੀ A	ਕੰਪਨੀ B	ਕੰਪਨੀ C	
100	1000	1500	2000	—
200	2000	2000	3000	—
300	3000	2500	4000	—
400	4000	3000	5000	—
500	5000	3500	6000	—

- ਹੇਠਾਂ ਦਿੱਤੀ ਸਾਰਣੀ ਨੂੰ ਪੂਰਾ ਕਰੋ (ਇਹ ਮੰਨਦੇ ਹੋਏ ਕਿ ਮਾਰਕੀਟ ਵਿੱਚ ਸਿਰਫ ਤਿੰਨ ਫਰਮਾਂ A, B ਅਤੇ C ਹਨ)

ਕੀਮਤ (ਰੁ./ਇਕਾਈ)	ਮਾਤਰਾ ਸਪਲਾਈ (ਇਕਾਈ ਵਿੱਚ)			ਬਾਜ਼ਾਰ ਸਪਲਾਈ (ਇਕਾਈ ਵਿੱਚ)
	ਕੰਪਨੀ A	ਕੰਪਨੀ B	ਕੰਪਨੀ C	
10	150	—	200	650
11	200	—	300	1000
12	250	—	400	1350
13	300	—	500	1700
14	350	—	600	2050

ਮੌਡਿਊਲ: 4

ਵਸਤਾਂ ਅਤੇ ਸੇਵਾਵਾਂ ਦੀ ਵੰਡ



ਨੋਟ



10.10 ਮਾਰਕੀਟ ਸਪਲਾਈ ਨੂੰ ਨਿਰਧਾਰਤ ਕਰਨ ਵਾਲੇ ਕਾਰਕ

ਕਿਸੇ ਵਸਤੂ ਦੀ ਵਿਅਕਤੀਗਤ ਸਪਲਾਈ ਨੂੰ ਪ੍ਰਭਾਵਿਤ ਕਰਨ ਵਾਲੇ ਸਾਰੇ ਕਾਰਕ ਇਸਦੀ ਮਾਰਕੀਟ ਸਪਲਾਈ ਨੂੰ ਵੀ ਪ੍ਰਭਾਵਿਤ ਕਰਦੇ ਹਨ। ਇਹਨਾਂ ਕਾਰਕਾਂ ਤੋਂ ਇਲਾਵਾ, ਕਿਸੇ ਵਸਤੂ ਦੀ ਮਾਰਕੀਟ ਸਪਲਾਈ ਵੀ ਹੇਠ ਲਿਖੇ ਦੋ ਕਾਰਕਾਂ ਦੁਆਰਾ ਪ੍ਰਭਾਵਿਤ ਹੁੰਦੀ ਹੈ:

- ਵੇਚਣ ਵਾਲਿਆਂ/ਫਰਮਾਂ ਦੀ ਸੰਖਿਆ
- ਸੰਭਾਵਿਤ ਭਵਿੱਖੀ ਕੀਮਤ

(i) **ਵਿਕਰੇਤਾਵਾਂ/ਫਰਮਾਂ ਦੀ ਸੰਖਿਆ:** ਬਾਜ਼ਾਰ ਦੀ ਸਪਲਾਈ ਬਾਜ਼ਾਰ ਵਿੱਚ ਸਾਰੀਆਂ ਵਿਅਕਤੀਗਤ ਸਪਲਾਈ ਅਨੁਸੂਚੀਆਂ ਦਾ ਇੱਕ ਸਮੂਹ ਹੈ। ਖੰਡ ਦੀ ਮਾਰਕੀਟ ਸਪਲਾਈ ਨੂੰ ਦਰਸਾਉਂਦੀ ਸਾਰਣੀ 10.2 'ਤੇ ਵਿਚਾਰ ਕਰੋ। ਬਾਜ਼ਾਰ ਵਿੱਚ ਖੰਡ ਸਪਲਾਈ ਕਰਨ ਵਾਲੀਆਂ ਤਿੰਨ ਫਰਮਾਂ X, Y ਅਤੇ Z ਹਨ। ਹੁਣ ਮੰਨ ਲਓ ਕਿ ਇੱਕ ਹੋਰ ਫਰਮ 'W' ਹੋਂਦ ਵਿੱਚ ਆਉਂਦੀ ਹੈ ਅਤੇ ਖੰਡ ਦੀ ਸਪਲਾਈ ਸ਼ੁਰੂ ਕਰਦੀ ਹੈ। ਖੰਡ ਦੀ ਮਾਰਕੀਟ ਸਪਲਾਈ 'ਤੇ ਕੀ ਪ੍ਰਭਾਵ ਹੋਵੇਗਾ? ਬਾਜ਼ਾਰ ਵਿੱਚ ਖੰਡ ਦੀ ਸਪਲਾਈ ਵਧੇਗੀ। ਇਸ ਲਈ, ਇਹ ਸਪੱਸ਼ਟ ਹੈ ਕਿ ਜੇਕਰ ਫਰਮਾਂ ਦੀ ਗਿਣਤੀ ਵਧਦੀ ਹੈ, ਤਾਂ ਬਾਜ਼ਾਰ ਦੀ ਸਪਲਾਈ ਵੀ ਵਧੇਗੀ। ਦੂਜੇ ਪਾਸੇ ਜੇਕਰ ਫਰਮਾਂ ਦੀ ਗਿਣਤੀ ਘਟਦੀ ਹੈ ਤਾਂ ਬਾਜ਼ਾਰ ਦੀ ਸਪਲਾਈ ਵੀ ਘਟੇਗੀ।

(ii) **ਸੰਭਾਵਿਤ ਭਵਿੱਖੀ ਕੀਮਤ:** ਜੇਕਰ ਕਿਸੇ ਵਸਤੂ ਦੀ ਕੀਮਤ ਨੇੜਲੇ ਭਵਿੱਖ ਵਿੱਚ ਵਧਣ ਦੀ ਉਮੀਦ ਕੀਤੀ ਜਾਂਦੀ ਹੈ, ਤਾਂ ਫਰਮ ਭਵਿੱਖ ਵਿੱਚ ਕੀਮਤ ਵਿੱਚ ਵਾਧੇ ਕਾਰਨ ਵੱਧ ਮੁਨਾਫੇ ਦੀ ਉਮੀਦ ਵਿੱਚ ਵਰਤਮਾਨ ਵਿੱਚ ਵਸਤੂ ਦੀ ਘੱਟ ਮਾਤਰਾ ਦੀ ਸਪਲਾਈ ਕਰੇਗੀ। ਪਰ ਜੇਕਰ ਕਿਸੇ ਵਸਤੂ ਦੀ ਕੀਮਤ ਨੇੜਲੇ ਭਵਿੱਖ ਵਿੱਚ ਘਟਣ ਦੀ ਉਮੀਦ ਕੀਤੀ ਜਾਂਦੀ ਹੈ, ਤਾਂ ਫਰਮਾਂ ਭਵਿੱਖ ਵਿੱਚ ਘੱਟ ਮੁਨਾਫੇ ਦੀ ਉਮੀਦ ਵਿੱਚ ਇਸ ਸਮੇਂ ਵਿਕਰੀ ਲਈ ਵਧੇਰੇ ਮਾਤਰਾ ਵਿੱਚ ਵਸਤੂ ਦੀ ਪੇਸ਼ਕਸ਼ ਕਰਨਗੀਆਂ।

ਪਾਠ ਅਧੀਨ ਪ੍ਰਸ਼ਨ 10.4

1. ਢੁਕਵੇਂ ਸ਼ਬਦਾਂ ਨਾਲ ਖਾਲੀ ਥਾਂ ਭਰੋ:
 - (i) ਕਿਸੇ ਵਸਤੂ ਦੀ ਸਪਲਾਈ-----ਜਾਂਦੀ ਹੈ ਜਦੋਂ ਇਸ ਦੀ ਕੀਮਤ ਵਧ ਜਾਂਦੀ ਹੈ।

- (ii) ਇੱਕ ਫਰਮ ਜਿਸਦਾ ਉਦੇਸ਼ ਵੱਧ ਤੋਂ ਵੱਧ ਲਾਭ ਪ੍ਰਾਪਤ ਕਰਨਾ ਹੈ, ਜਿਸਦਾ ਕੀਮਤ 'ਤੇ ਵਸਤੂ ਦੀ -----ਮਾਤਰਾ ਦੀ ਸਪਲਾਈ ਕਰੇਗੀ।
- (iii) ਜੇਕਰ ਇੱਕ ਫਰਮ ਦਿੱਤੇ ਸਰੋਤਾਂ ਨਾਲ ਦੋ ਮਾਲ X ਅਤੇ Y ਦਾ ਉਤਪਾਦਨ ਕਰਦੀ ਹੈ ਅਤੇ ਜੇਕਰ ਵਸਤੂ Y ਦੀ ਕੀਮਤ ਵਿੱਚ ਕਮੀ ਹੋ ਜਾਂਦੀ ਹੈ, ਤਾਂ ਵਸਤੂ X ਦੀ ਸਪਲਾਈ ਹੋ ਜਾਵੇਗੀ।
- (iv) ਮਜ਼ਦੂਰੀ ਦਰ ਵਿੱਚ ਗਿਰਾਵਟ ਹੋਣ 'ਤੇ ਕਿਸੇ ਵਸਤੂ ਦੀ ਸਪਲਾਈ ਵਿੱਚ----
-ਹੋ ਜਾਵੇਗੀ।
- (v) ਟੀ.ਵੀ. ਸੈੱਟਾਂ ਦੇ ਉਤਪਾਦਨ 'ਤੇ ਆਬਕਾਰੀ ਡਿਊਟੀ ਵਿੱਚ ਵਾਧਾ ਹੋਣ ਨਾਲ ਟੀ.ਵੀ. ਦੀ ਸਪਲਾਈ ਵਿੱਚ..... ਹੋ ਜਾਵੇਗੀ।
2. ਕਿਸੇ ਵਸਤੂ ਦੀ ਸਪਲਾਈ ਦਾ ਕੀ ਹੋਵੇਗਾ, ਜਦੋਂ
- (i) ਵਸਤੂ ਦੇ ਉਤਪਾਦਨ ਵਿੱਚ ਵਰਤੇ ਜਾਣ ਵਾਲੇ ਕੱਚੇ ਮਾਲ ਦੀ ਕੀਮਤ ਵਧ ਜਾਂਦੀ ਹੈ।
- (ii) ਵਸਤੂ ਦੀ ਸਪਲਾਈ ਕਰਨ ਵਾਲੀ ਇੱਕ ਨਵੀਂ ਫਰਮ ਹੋਂਦ ਵਿੱਚ ਆਉਂਦੀ ਹੈ।
- (iii) ਉਤਪਾਦਨ ਦੀ ਤਕਨੀਕ ਵਿੱਚ ਤਰੱਕੀ ਹੁੰਦੀ ਹੈ।
3. ਜੇਕਰ ਸਟੇਨਲੈਸ ਸਟੀਲ ਦੀ ਕੀਮਤ ਘਟਦੀ ਹੈ ਤਾਂ ਸਟੀਲ ਦੇ ਭਾਂਡਿਆਂ ਦੀ ਸਪਲਾਈ 'ਤੇ ਕੀ ਪ੍ਰਭਾਵ ਪਵੇਗਾ?

ਤੁਸੀਂ ਕੀ ਸਿੱਖਿਆ

- ਇੱਕ ਵਸਤੂ ਦੀ ਸਪਲਾਈ ਇੱਕ ਵਸਤੂ ਦੀ ਮਾਤਰਾ ਹੈ ਜੋ ਇੱਕ ਵਿਕਰੇਤਾ/ਫਰਮ ਸਮੇਂ ਦੀ ਪ੍ਰਤੀ ਇਕਾਈ ਕੀਮਤ 'ਤੇ ਵਿਕਰੀ ਲਈ ਪੇਸ਼ ਕਰਦਾ ਹੈ।
- ਕਿਸੇ ਖਾਸ ਸਮੇਂ 'ਤੇ ਵੇਚਣ ਵਾਲੇ/ਫਰਮ ਕੋਲ ਉਪਲੱਬਧ ਕੁੱਲ ਮਾਤਰਾ ਨੂੰ ਸਟਾਕ ਕਿਹਾ ਜਾਂਦਾ ਹੈ। ਸਪਲਾਈ ਵਸਤੂ ਦੇ ਸਟਾਕ ਦਾ ਉਹ ਹਿੱਸਾ ਹੈ ਜਿਸ ਨੂੰ ਵਿਕਰੇਤਾ ਇੱਕ ਦਿੱਤੇ ਸਮੇਂ ਦੇ ਦੌਰਾਨ ਇੱਕ ਦਿੱਤੇ ਮੁੱਲ 'ਤੇ ਵੇਚਣ ਲਈ ਤਿਆਰ ਹੈ।

ਮੈਂਡਿਊਲ: 4

ਵਸਤਾਂ ਅਤੇ ਸੇਵਾਵਾਂ ਦੀ ਵੰਡ



ਨੋਟ

ਵਸਤਾਂ ਅਤੇ ਸੇਵਾਵਾਂ ਦੀ
ਵੰਡ



ਨੋਟ

- ਵਿਅਕਤੀਗਤ ਸਪਲਾਈ ਅਨੁਸੂਚੀ ਇੱਕ ਸਾਰਣੀ ਦੇ ਰੂਪ ਵਿੱਚ ਇੱਕ ਵਿਅਕਤੀਗਤ ਫਰਮ ਦੁਆਰਾ ਵੱਖ-ਵੱਖ ਕੀਮਤਾਂ 'ਤੇ ਵਿਕਰੀ ਲਈ ਪੇਸ਼ ਕੀਤੀ ਗਈ ਵਸਤੂ ਦੀ ਮਾਤਰਾ ਨੂੰ ਦਰਸਾਉਂਦੀ ਹੈ। ਵਿਅਕਤੀਗਤ ਸਪਲਾਈ ਵਕਰ ਵਿਅਕਤੀਗਤ ਸਪਲਾਈ ਅਨੁਸੂਚੀ ਤੋਂ ਲਿਆ ਜਾਂਦਾ ਹੈ।
- ਬਾਜ਼ਾਰ ਦੀ ਸਪਲਾਈ ਇੱਕ ਵਸਤੂ ਦੀ ਕੁੱਲ ਮਾਤਰਾ ਹੈ ਜੋ ਮਾਰਕੀਟ ਵਿੱਚ ਸਾਰੀਆਂ ਫਰਮਾਂ ਦੁਆਰਾ ਦਿੱਤੀ ਗਈ ਕੀਮਤ ਅਤੇ ਦਿੱਤੇ ਸਮੇਂ 'ਤੇ ਵਿਕਰੀ ਲਈ ਪੇਸ਼ ਕੀਤੀ ਜਾਂਦੀ ਹੈ।
- ਵਿਅਕਤੀਗਤ ਸਪਲਾਈ ਦੇ ਨਿਰਧਾਰਕ ਹਨ - ਵਸਤੂ ਦੀ ਕੀਮਤ, ਹੋਰ ਸਬੰਧਤ ਵਸਤਾਂ ਦੀ ਕੀਮਤ, ਉਤਪਾਦਨ ਦੀ ਤਕਨਾਲੋਜੀ ਵਿੱਚ ਤਬਦੀਲੀ, ਇਨਪੁੱਟਸ ਦੀ ਕੀਮਤ ਵਿੱਚ ਤਬਦੀਲੀ, ਫਰਮ ਦਾ ਉਦੇਸ਼ ਅਤੇ ਸਰਕਾਰੀ ਨੀਤੀ।
- ਮਾਰਕੀਟ ਸਪਲਾਈ ਦੇ ਨਿਰਧਾਰਕ ਵਿਅਕਤੀਗਤ ਸਪਲਾਈ ਦੇ ਨਿਰਧਾਰਕਾਂ ਤੋਂ ਇਲਾਵਾ ਵਸਤੂ ਦੀ ਸਪਲਾਈ ਕਰਨ ਵਾਲੀਆਂ ਫਰਮਾਂ ਦੀ ਸੰਖਿਆ, ਸੰਭਾਵਿਤ ਭਵਿੱਖੀ ਕੀਮਤ ਹਨ।
- ਮਾਰਕੀਟ ਸਪਲਾਈ ਦੇ ਨਿਰਧਾਰਕ ਵਿਅਕਤੀਗਤ ਸਪਲਾਈ ਦੇ ਨਿਰਧਾਰਕਾਂ ਤੋਂ ਇਲਾਵਾ ਵਸਤੂ ਦੀ ਸਪਲਾਈ ਕਰਨ ਵਾਲੀਆਂ ਫਰਮਾਂ ਦੀ ਸੰਖਿਆ, ਸੰਭਾਵਿਤ ਭਵਿੱਖੀ ਕੀਮਤ ਹਨ।
- ਸਪਲਾਈ ਦਾ ਨਿਯਮ ਦੱਸਦਾ ਹੈ ਕਿ ਸਪਲਾਈ ਦੇ ਸਥਿਰ ਰਹਿਣ, ਵਸਤੂ ਦੀ ਕੀਮਤ ਅਤੇ ਸਪਲਾਈ ਕੀਤੀ ਮਾਤਰਾ ਨੂੰ ਨਿਰਧਾਰਤ ਕਰਨ ਵਾਲੇ ਹੋਰ ਕਾਰਕ ਸਿੱਧੇ ਤੌਰ 'ਤੇ ਸਬੰਧਤ ਹਨ।
- ਸਪਲਾਈ ਵਕਰ ਸਪਲਾਈ ਦੇ ਨਿਯਮਾਂ ਦੀ ਰੇਖਾ-ਚਿੱਤਰ ਪ੍ਰਤੀਨਿਧਤਾ ਹੈ।
- ਸਪਲਾਈ ਦੇ ਨਿਯਮ ਅਨੁਸਾਰ ਕਿਸੇ ਵਸਤੂ ਦੀ ਸਪਲਾਈ ਵਕਰ ਉੱਪਰ ਵੱਲ ਢਲਾਣ ਹੁੰਦੀ ਹੈ।

ਪਾਠ ਦੇ ਅੰਤ ਦੇ ਪ੍ਰਸ਼ਨ

1. ਸਪਲਾਈ ਨੂੰ ਪਰਿਭਾਸ਼ਿਤ ਕਰੋ। ਵਿਅਕਤੀਗਤ ਸਪਲਾਈ ਅਤੇ ਮਾਰਕੀਟ ਸਪਲਾਈ ਵਿਚਕਾਰ ਫਰਕ ਦੱਸੋ।
2. ਉਹਨਾਂ ਕਾਰਕਾਂ ਦੀ ਵਿਆਖਿਆ ਕਰੋ ਜੋ ਕਿਸੇ ਵਸਤੂ ਦੀ ਵਿਅਕਤੀਗਤ ਸਪਲਾਈ ਨੂੰ ਪ੍ਰਭਾਵਿਤ ਕਰਦੇ ਹਨ।
3. ਕਿਸੇ ਵਸਤੂ ਦੀ ਮਾਰਕੀਟ ਸਪਲਾਈ ਦੇ ਤਿੰਨ ਨਿਰਧਾਰਕਾਂ ਨੂੰ ਸੰਖੇਪ ਵਿੱਚ ਸਮਝਾਓ।
4. ਇੱਕ ਢੁਕਵੀਂ ਉਦਾਹਰਣ ਦੀ ਮਦਦ ਨਾਲ ਸਟਾਕ ਅਤੇ ਸਪਲਾਈ ਵਿੱਚ ਫਰਕ ਦੱਸੋ।
5. ਇੱਕ ਢੁਕਵੀਂ ਸੰਖਿਆਤਮਕ ਉਦਾਹਰਣ ਦੀ ਵਰਤੋਂ ਕਰਕੇ ਸਪਲਾਈ ਦੇ ਨਿਯਮ ਨੂੰ ਬਿਆਨ ਕਰੋ ਅਤੇ ਵਿਆਖਿਆ ਕਰੋ।
6. ਸਪਲਾਈ ਵਕਰ ਕੀ ਹੈ? ਇੱਕ ਕਾਲਪਨਿਕ ਸਪਲਾਈ ਅਨੁਸੂਚੀ ਦੀ ਮਦਦ ਨਾਲ ਇੱਕ ਵਿਅਕਤੀਗਤ ਸਪਲਾਈ ਵਕਰ ਬਣਾਓ।
7. ਸਪਲਾਈ ਵਕਰ ਢਲਾਨ ਉੱਪਰ ਵੱਲ ਕਿਉਂ ਹੁੰਦਾ ਹੈ?
8. ਸਪਲਾਈ ਦੇ ਨਿਯਮਾਂ ਦੇ ਪਿੱਛੇ ਕੀ ਕਾਰਨ ਹਨ?

ਪਾਠ ਅਧੀਨ ਪ੍ਰਸ਼ਨਾਂ ਦੇ ਉੱਤਰ

ਪਾਠ ਅਧੀਨ ਪ੍ਰਸ਼ਨ 10.1 ਦੇ ਉੱਤਰ

1. ਸਪਲਾਈ ਸਮੇਂ ਦੀ ਪ੍ਰਤੀ ਯੂਨਿਟ ਕੀਮਤ 'ਤੇ ਵਿਕਰੀ ਲਈ ਪੇਸ਼ ਕੀਤੀ ਗਈ ਵਸਤੂ ਦੀ ਮਾਤਰਾ ਨੂੰ ਦਰਸਾਉਂਦੀ ਹੈ।
2. ਵਸਤੂ ਦੀ ਕੀਮਤ, ਸਪਲਾਈ ਕੀਤੀ ਮਾਤਰਾ ਅਤੇ ਸਮਾਂ ਮਿਆਦ।
3. ਸਟਾਕ ਕਿਸੇ ਖਾਸ ਸਮੇਂ 'ਤੇ ਕਿਸੇ ਫਰਮ ਕੋਲ ਉਪਲੱਬਧ ਵਸਤੂ ਦੀ ਕੁੱਲ ਮਾਤਰਾ ਹੈ।

ਸਪਲਾਈ ਕਿਸੇ ਵਸਤੂ ਦੇ ਸਟਾਕ ਦਾ ਉਹ ਹਿੱਸਾ ਹੈ ਜਿਸ ਨੂੰ ਵਿਕਰੇਤਾ ਦਿੱਤੇ ਸਮੇਂ ਦੇ ਦੌਰਾਨ ਨਿਰਧਾਰਤ ਕੀਮਤ 'ਤੇ ਵੇਚਣ ਲਈ ਤਿਆਰ ਹੈ।



ਮੌਡਿਊਲ: 4

ਵਸਤਾਂ ਅਤੇ ਸੇਵਾਵਾਂ ਦੀ
ਵੰਡ



ਨੋਟ

ਪਾਠ ਅਧੀਨ ਪ੍ਰਸ਼ਨ 10.3 ਦੇ ਉੱਤਰ

1. 4500, 7000, 9500, 12000, 14,500
2. 300, 500, 700, 900, 1100

ਪਾਠ ਅਧੀਨ ਪ੍ਰਸ਼ਨ 10.4 ਦੇ ਉੱਤਰ

1. (i) ਵਧਦਾ ਹੈ
(ii) ਹੋਰ
(iii) ਵਾਧਾ
(iv) ਵਾਧਾ
(v) ਘਟਣਾ
2. (i) ਵਸਤੂ ਦੀ ਸਪਲਾਈ ਘਟ ਜਾਵੇਗੀ
(ii) ਵਸਤੂ ਦੀ ਸਪਲਾਈ ਵਧੇਗੀ
(iii) ਵਸਤੂ ਦੀ ਸਪਲਾਈ ਵਧੇਗੀ

ਸਟੇਨਲੈਸ ਸਟੀਲ ਦੇ ਭਾਂਡਿਆਂ ਦੀ ਸਪਲਾਈ ਵਧੇਗੀ।

ਕੀਮਤ ਅਤੇ ਮਾਤਰਾ ਦਾ ਨਿਰਧਾਰਨ

ਪਾਠ 9 ਵਿੱਚ ਤੁਸੀਂ ਅਧਿਐਨ ਕੀਤਾ ਹੈ ਕਿ ਕਿਸ ਤਰ੍ਹਾਂ ਕਿਸੇ ਵਸਤੂ ਦੀ ਕੀਮਤ ਵਿੱਚ ਤਬਦੀਲੀ ਇਸਦੀ ਮੰਗ ਨੂੰ ਪ੍ਰਭਾਵਿਤ ਕਰਦੀ ਹੈ। ਪਾਠ 10 ਵਿੱਚ, ਉਸੇ ਕਿਸਮ ਦਾ ਅਧਿਐਨ ਇੱਕ ਵਸਤੂ ਦੀ ਸਪਲਾਈ ਬਾਰੇ ਕੀਤਾ ਗਿਆ ਸੀ। ਅਸਲ ਵਿੱਚ, ਵਸਤੂ ਦੀ ਕੀਮਤ ਵਿੱਚ ਤਬਦੀਲੀ ਨਾਲ ਕਿਸੇ ਵਸਤੂ ਦੀ ਮੰਗ ਅਤੇ ਸਪਲਾਈ ਦੋਵੇਂ ਪ੍ਰਭਾਵਿਤ ਹੁੰਦੇ ਹਨ। ਪਰ ਧਿਆਨ ਦੇਣ ਵਾਲੀ ਦਿਲਚਸਪ ਗੱਲ ਇਹ ਹੈ ਕਿ ਕਿਸੇ ਵਸਤੂ ਦੀ ਮੰਗ ਅਤੇ ਪੂਰਤੀ ਦੋਵਾਂ ਵਿੱਚ ਤਬਦੀਲੀ ਵੀ ਵਸਤੂ ਦੀ ਕੀਮਤ ਨੂੰ ਪ੍ਰਭਾਵਿਤ ਕਰਦੀ ਹੈ। ਪਰ ਸਵਾਲ ਇਹ ਪੈਦਾ ਹੁੰਦਾ ਹੈ ਕਿ ਮੰਡੀ ਵਿੱਚ ਕਿਸੇ ਵਸਤੂ ਦੀ ਕੀਮਤ ਕਿਵੇਂ ਤੈਅ ਕੀਤੀ ਜਾਂਦੀ ਹੈ। ਕਿਹੜੇ ਕਾਰਕ ਕਿਸੇ ਵਸਤੂ ਦੀ ਕੀਮਤ ਨੂੰ ਪ੍ਰਭਾਵਿਤ ਕਰਦੇ ਹਨ? ਕਿਸੇ ਵਸਤੂ ਦੀ ਮੰਗ ਅਤੇ ਪੂਰਤੀ ਵਿੱਚ ਤਬਦੀਲੀਆਂ ਇਸਦੀ ਕੀਮਤ ਨੂੰ ਕਿਵੇਂ ਪ੍ਰਭਾਵਿਤ ਕਰਦੀਆਂ ਹਨ, ਇਹ ਇਸ ਪਾਠ ਦਾ ਵਿਸ਼ਾ ਹੈ।

ਉਦੇਸ਼

- ਇਸ ਪਾਠ ਨੂੰ ਪੂਰਾ ਕਰਨ ਤੋਂ ਬਾਅਦ, ਤੁਸੀਂ ਇਹ ਕਰਨ ਦੇ ਯੋਗ ਹੋਵੋਗੇ:
- ਕੀਮਤ ਦੇ ਨਿਰਧਾਰਨ ਦਾ ਕੀ ਮਤਲਬ ਹੈ;
- ਮੰਗ ਅਤੇ ਸਪਲਾਈ ਅਨੁਸੂਚੀ ਦੀ ਮਦਦ ਨਾਲ ਕੀਮਤ ਨਿਰਧਾਰਨ ਦੀ ਵਿਆਖਿਆ ਕਰ ਸਕੋਗੇ;
- ਅਨੁਸੂਚੀ ਦੀ ਮਦਦ ਨਾਲ ਸੰਤੁਲਨ ਨੂੰ ਸਮਝ ਸਕੋਗੇ;
- ਕਿਸੇ ਵਸਤੂ ਦੀ ਕੀਮਤ ਅਤੇ ਮਾਤਰਾ 'ਤੇ ਮੰਗ ਅਤੇ ਸਪਲਾਈ ਵਿੱਚ ਤਬਦੀਲੀਆਂ ਦੇ ਪ੍ਰਭਾਵਾਂ ਨੂੰ ਸਮਝੋਗੇ।

11.1 ਕੀਮਤ ਦਾ ਮਤਲਬ

ਜਦੋਂ ਕੋਈ ਵਿਕਰੇਤਾ ਕੋਈ ਵਸਤੂ ਵੇਚਦਾ ਹੈ, ਤਾਂ ਉਹ ਇਸ ਨੂੰ ਪੈਸੇ ਲਈ ਬਦਲਦਾ ਹੈ। ਖਰੀਦਦਾਰ ਚੀਜ਼ਾਂ ਅਤੇ ਸੇਵਾਵਾਂ ਦੇ ਬਦਲੇ ਵੇਚਣ ਵਾਲੇ ਨੂੰ ਪੈਸੇ ਦਿੰਦਾ ਹੈ। ਉਹ ਰਕਮ ਜੋ

ਮੈਂਡਿਊਲ: 4

ਵਸਤਾਂ ਅਤੇ ਸੇਵਾਵਾਂ ਦੀ
ਵੰਡ



ਨੋਟ



ਖਰੀਦਦਾਰ ਕਿਸੇ ਵਸਤੂ ਜਾਂ ਸੇਵਾ ਦੀ ਇੱਕ ਯੂਨਿਟ ਲਈ ਵੇਚਣ ਵਾਲੇ ਨੂੰ ਅਦਾ ਕਰਦਾ ਹੈ, ਉਸ ਨੂੰ ਵਸਤੂ ਜਾਂ ਸੇਵਾ ਦੀ ਕੀਮਤ ਕਿਹਾ ਜਾਂਦਾ ਹੈ। ਉਦਾਹਰਨ ਲਈ, ਇੱਕ ਖਰੀਦਦਾਰ ਇੱਕ ਲੀਟਰ ਫੁੱਲ ਕਰੀਮ ਦੁੱਧ ਖਰੀਦਣ ਲਈ 36 ਰੁਪਏ ਦਾ ਭੁਗਤਾਨ ਕਰਦਾ ਹੈ, ਫੁੱਲ ਕਰੀਮ ਦੁੱਧ ਦੀ ਕੀਮਤ 36 ਰੁਪਏ ਪ੍ਰਤੀ ਲੀਟਰ ਹੋਵੇਗੀ।

ਆਮ ਤੌਰ 'ਤੇ, ਵਿਕਰੇਤਾ ਦਾ ਮੁੱਖ ਉਦੇਸ਼ ਲਾਭ ਕਮਾਉਣਾ ਹੁੰਦਾ ਹੈ। ਮੁਨਾਫਾ ਕੁੱਲ ਆਮਦਨ ਅਤੇ ਕੁੱਲ ਲਾਗਤ ਵਿੱਚ ਅੰਤਰ ਹੁੰਦਾ ਹੈ। ਕੁੱਲ ਆਮਦਨ ਦਾ ਅਰਥ ਹੈ ਉਤਪਾਦਕ ਦੀ ਉਸ ਕੁੱਲ ਰਾਸ਼ੀ ਪ੍ਰਾਪਤੀ ਤੋਂ ਹੈ ਜੋ ਉਹ ਦਿੱਤੀ ਹੋਈ ਉਤਪਾਦਨ ਮਾਤਰਾ ਨੂੰ ਵੇਚ ਕੇ ਪ੍ਰਾਪਤ ਕਰਦਾ ਹੈ। ਕੁੱਲ ਲਾਗਤ ਦਾ ਮਤਲਬ ਹੈ ਉਸ ਸਮੁੱਚੇ ਖਰਚ ਤੋਂ ਜੋ ਇੱਕ ਉਤਪਾਦਕ ਵਸਤੂ ਦੀ ਉਸ ਮਾਤਰਾ ਦੇ ਉਤਪਾਦਨ 'ਤੇ ਖਰਚ ਕਰਦਾ ਹੈ।

ਵਿਕਰੇਤਾ ਉਸ ਦੁਆਰਾ ਸਪਲਾਈ ਕੀਤੀ ਵਸਤੂ ਦੀ ਕੀਮਤ ਨਿਰਧਾਰਤ ਕਰਦਾ ਹੈ। ਕਿਸੇ ਵਸਤੂ ਦੀ ਮਾਰਕੀਟ ਕੀਮਤ ਉਹ ਕੀਮਤ ਹੁੰਦੀ ਹੈ ਜਿਸ 'ਤੇ ਇਹ ਬਾਜ਼ਾਰ ਵਿੱਚ ਵੇਚੀ ਜਾਂਦੀ ਹੈ। ਕਿਸੇ ਵਸਤੂ ਦੀ ਕੀਮਤ ਨਿਰਧਾਰਤ ਕਰਦੇ ਸਮੇਂ ਵਿਕਰੇਤਾ ਵੱਧ ਤੋਂ ਵੱਧ ਲਾਭ ਕਮਾਉਣ ਤੋਂ ਇਲਾਵਾ ਕਈ ਕਾਰਕਾਂ ਨੂੰ ਧਿਆਨ ਵਿੱਚ ਰੱਖਦਾ ਹੈ। ਕਿਸੇ ਵਸਤੂ ਦੀ ਕੀਮਤ ਨਿਰਧਾਰਤ ਕਰਨ ਵਿੱਚ ਵਿਕਰੇਤਾ ਦੇ ਫੈਸਲੇ ਨੂੰ ਪ੍ਰਭਾਵਿਤ ਕਰਨ ਵਾਲੇ ਕੁਝ ਮਹੱਤਵਪੂਰਨ ਕਾਰਕ ਹੇਠਾਂ ਦਿੱਤੇ ਗਏ ਹਨ।

(i) **ਉਤਪਾਦਨ ਦੀ ਲਾਗਤ:** ਇੱਕ ਵਿਕਰੇਤਾ ਆਪਣੀ ਵਸਤੂ ਦੀ ਮਾਰਕੀਟ ਕੀਮਤ ਨਿਰਧਾਰਤ ਕਰਦਾ ਹੈ ਜੋ ਕਿ ਵਸਤੂ ਦੇ ਉਤਪਾਦਨ ਦੀ ਪ੍ਰਤੀ ਯੂਨਿਟ ਲਾਗਤ ਤੋਂ ਵੱਧ ਹੈ। ਪ੍ਰਤੀ ਯੂਨਿਟ ਕੀਮਤ ਅਤੇ ਵਸਤੂ ਦੇ ਉਤਪਾਦਨ ਦੀ ਪ੍ਰਤੀ ਯੂਨਿਟ ਲਾਗਤ ਵਿੱਚ ਅੰਤਰ ਪ੍ਰਤੀ ਯੂਨਿਟ ਲਾਭ ਹੈ। ਇਸ ਤਰ੍ਹਾਂ, ਕੀਮਤ ਅਤੇ ਉਤਪਾਦਨ ਦੀ ਪ੍ਰਤੀ ਯੂਨਿਟ ਲਾਗਤ ਵਿੱਚ ਵੱਧ ਅੰਤਰ ਲਾਭ ਦਾ ਮਾਰਜਿਨ ਹੋਵੇਗਾ। ਇਸ ਲਈ ਵਿਕਰੇਤਾ ਦੁਆਰਾ ਵਸਤੂ ਦੀ ਕੀਮਤ ਨਿਰਧਾਰਤ ਕਰਨ ਵਿੱਚ ਉਤਪਾਦਨ ਦੀ ਪ੍ਰਤੀ ਯੂਨਿਟ ਲਾਗਤ ਬਹੁਤ ਮਹੱਤਵ ਰੱਖਦੀ ਹੈ।

(ii) **ਦੂਜੇ ਵਿਕਰੇਤਾਵਾਂ ਦੁਆਰਾ ਨਿਰਧਾਰਤ ਕੀਤੀ ਗਈ ਕੀਮਤ:** ਆਪਣੀ ਵਸਤੂ ਦੀ ਕੀਮਤ ਨਿਰਧਾਰਤ ਕਰਦੇ ਸਮੇਂ, ਵਿਕਰੇਤਾ ਸਮਾਨ ਵਸਤੂ ਦੇ ਦੂਜੇ ਵਿਕਰੇਤਾਵਾਂ ਦੁਆਰਾ ਨਿਰਧਾਰਤ ਕੀਤੀ ਵਸਤੂ ਦੀ ਕੀਮਤ ਨੂੰ ਵੀ ਵਿਚਾਰਦਾ ਹੈ। ਜੇਕਰ ਕੋਈ ਵਿਕਰੇਤਾ ਆਪਣੀ ਵਸਤੂ ਦੀ ਕੀਮਤ ਨਿਰਧਾਰਤ ਕਰਦਾ ਹੈ ਜੋ ਸਮਾਨ ਵਸਤੂ ਦੇ ਦੂਜੇ ਵਿਕਰੇਤਾਵਾਂ ਦੁਆਰਾ ਨਿਰਧਾਰਤ ਕੀਤੀ ਗਈ ਕੀਮਤ ਨਾਲੋਂ ਬਹੁਤ ਜ਼ਿਆਦਾ ਹੈ, ਤਾਂ ਉਹ ਵਸਤੂ ਦੀ ਵੱਧ ਮਾਤਰਾ ਨੂੰ

ਕੀਮਤ ਅਤੇ ਮਾਤਰਾ ਦਾ ਨਿਰਧਾਰਨ

ਵੇਚਣ ਦੇ ਯੋਗ ਨਹੀਂ ਹੋ ਸਕਦਾ। ਇਸ ਲਈ ਆਪਣੀ ਵਿਕਰੀ ਵਧਾਉਣ ਲਈ ਉਸਨੂੰ ਆਪਣੀ ਵਸਤੂ ਦੀ ਕੀਮਤ ਘਟਾਉਣੀ ਪਵੇਗੀ। ਇਸ ਤਰ੍ਹਾਂ, ਕਿਸੇ ਵਸਤੂ ਦੇ ਵਿਕਰੇਤਾ ਲਈ ਵੱਧ ਤੋਂ ਵੱਧ ਮੁਨਾਫਾ ਕਮਾਉਣ ਲਈ ਆਪਣੀ ਵਸਤੂ ਦੀ ਕੀਮਤ ਨਿਰਧਾਰਤ ਕਰਨਾ ਵੀ ਬਹੁਤ ਮਹੱਤਵਪੂਰਨ ਹੈ ਜੋ ਹੋਰ ਵਿਕਰੇਤਾਵਾਂ ਦੀ ਕੀਮਤ ਨਾਲ ਤੁਲਨਾਯੋਗ ਹੈ।

(iii) **ਵੱਖ-ਵੱਖ ਕੀਮਤਾਂ 'ਤੇ ਵਸਤੂ ਦੀ ਸੰਭਾਵਿਤ ਵਿਕਰੀ:** ਵਿਕਰੇਤਾ ਉਸ ਵਸਤੂ ਦੀ ਮਾਤਰਾ 'ਤੇ ਵੀ ਵਿਚਾਰ ਕਰਦਾ ਹੈ ਜਿਸ ਨੂੰ ਉਹ ਵੱਖ-ਵੱਖ ਕੀਮਤਾਂ 'ਤੇ ਵੇਚਣ ਦੇ ਯੋਗ ਹੋਵੇਗਾ। ਇਸ ਲਈ, ਉਸ ਦੁਆਰਾ ਨਿਰਧਾਰਤ ਕੀਤੀ ਵਸਤੂ ਦੀ ਕੀਮਤ ਅਜਿਹੀ ਹੋਣੀ ਚਾਹੀਦੀ ਹੈ ਕਿ ਉਸ ਦੁਆਰਾ ਵੇਚੀ ਗਈ ਵਸਤੂ ਦੀ ਕੁੱਲ ਮਾਤਰਾ ਉਸ ਨੂੰ ਵੱਧ ਤੋਂ ਵੱਧ ਕੁੱਲ ਲਾਭ ਦੇਵੇ।

ਪਾਠ ਅਧੀਨ ਪ੍ਰਸ਼ਨ 11.1

1. ਮੰਨ ਲਓ ਕਿ ਤੁਸੀਂ ਬਾਜ਼ਾਰ ਵਿਚ ਟਮਾਟਰ ਵੇਚਣ ਵਾਲੇ ਹੋ। ਤੁਹਾਡੇ ਦੁਆਰਾ ਵੇਚੇ ਗਏ ਟਮਾਟਰਾਂ ਦੀ ਕੀਮਤ ਨਿਰਧਾਰਤ ਕਰਦੇ ਸਮੇਂ ਉਹਨਾਂ ਕਾਰਕਾਂ ਦੇ ਨਾਮ ਦਿਓ ਜਿਨ੍ਹਾਂ 'ਤੇ ਤੁਸੀਂ ਵਿਚਾਰ ਕਰੋਗੇ।
2. ਜੇਕਰ ਡੀਜ਼ਲ ਦੀ ਕੀਮਤ ਵਧਣ ਕਾਰਨ ਆਵਾਜਾਈ ਦੀ ਲਾਗਤ ਵਧ ਜਾਂਦੀ ਹੈ ਤਾਂ ਤੁਹਾਡੇ ਦੁਆਰਾ ਤੈਅ ਕੀਤੇ ਟਮਾਟਰਾਂ ਦੀ ਕੀਮਤ 'ਤੇ ਕੀ ਪ੍ਰਭਾਵ ਪਵੇਗਾ।

11.2 ਕੀਮਤ ਦਾ ਅਰਥ ਅਤੇ ਕੀਮਤ ਦਾ ਨਿਰਧਾਰਨ

ਜੇਕਰ ਵਿਕਰੇਤਾ ਵਸਤੂ ਦੀ ਉੱਚ ਕੀਮਤ ਨਿਰਧਾਰਤ ਕਰਦਾ ਹੈ, ਤਾਂ ਵਸਤੂ ਦੀ ਸਪਲਾਈ ਕੀਤੀ ਗਈ ਮਾਤਰਾ ਉਸ ਦੀ ਮੰਗ ਦੀ ਮਾਤਰਾ ਤੋਂ ਵੱਧ ਹੋ ਸਕਦੀ ਹੈ ਅਤੇ ਜੇਕਰ ਉਹ ਵਸਤੂ ਦੀ ਘੱਟ ਕੀਮਤ ਨਿਰਧਾਰਤ ਕਰਦਾ ਹੈ, ਤਾਂ ਵਸਤੂ ਦੀ ਮੰਗ ਦੀ ਮਾਤਰਾ ਉਸਦੀ ਸਪਲਾਈ ਦੀ ਮਾਤਰਾ ਤੋਂ ਵੱਧ ਹੋ ਸਕਦੀ ਹੈ। ਤੁਸੀਂ ਪਹਿਲਾਂ ਹੀ ਸਿੱਖਿਆ ਹੈ ਕਿ ਮੰਗ ਦੇ ਨਿਯਮ ਦੇ ਅਨੁਸਾਰ ਜੇਕਰ ਮੰਗ ਨੂੰ ਪ੍ਰਭਾਵਿਤ ਕਰਨ ਵਾਲੇ ਹੋਰ ਕਾਰਕ ਸਥਿਰ ਰਹਿੰਦੇ ਹਨ ਤਾਂ ਕਿਸੇ ਵਸਤੂ ਦਾ ਖਰੀਦਦਾਰ ਘੱਟ ਕੀਮਤ 'ਤੇ ਵਸਤੂ ਦੀ ਜ਼ਿਆਦਾ ਮਾਤਰਾ ਖਰੀਦਦਾ ਹੈ ਅਤੇ ਉੱਚ ਕੀਮਤ 'ਤੇ ਘੱਟ ਖਰੀਦਦਾ ਹੈ। ਸਪਲਾਈ ਦੇ ਨਿਯਮ ਅਨੁਸਾਰ, ਜੇਕਰ ਸਪਲਾਈ ਨੂੰ ਪ੍ਰਭਾਵਿਤ ਕਰਨ ਵਾਲੇ ਹੋਰ ਕਾਰਕ ਸਥਿਰ ਰਹਿੰਦੇ ਹਨ ਤਾਂ ਵਸਤੂ ਦਾ ਵਿਕਰੇਤਾ ਉੱਚ ਕੀਮਤ 'ਤੇ ਵਸਤੂ ਦੀ ਜ਼ਿਆਦਾ ਮਾਤਰਾ ਵੇਚਣ ਲਈ ਤਤਪਰ ਹੁੰਦਾ ਹੈ ਅਤੇ ਘੱਟ ਕੀਮਤ 'ਤੇ ਘੱਟ। ਖਰੀਦਦਾਰ ਦਾ ਉਦੇਸ਼ ਘੱਟੋ ਘੱਟ ਖਰਚ ਕਰਕੇ ਵੱਧ ਤੋਂ ਵੱਧ ਸੰਤੁਸ਼ਟੀ ਪ੍ਰਾਪਤ ਕਰਨਾ ਹੈ ਅਤੇ ਵੇਚਣ ਵਾਲੇ ਦਾ ਉਦੇਸ਼ ਵੱਧ

ਮੈਂਡਿਊਲ: 4

ਵਸਤਾਂ ਅਤੇ ਸੇਵਾਵਾਂ ਦੀ ਵੰਡ



ਨੋਟ



ਤੋਂ ਵੱਧ ਲਾਭ ਪ੍ਰਾਪਤ ਕਰਨਾ ਹੈ। ਜੇਕਰ ਕਿਸੇ ਕੀਮਤ 'ਤੇ ਕਿਸੇ ਵਸਤੂ ਦੀ ਮੰਗ ਮਾਤਰਾ ਅਤੇ ਸਪਲਾਈ ਕੀਤੀ ਗਈ ਮਾਤਰਾ ਦੇਵੇਂ ਬਰਾਬਰ ਹੋਣ ਤਾਂ ਇਸ ਨੂੰ ਵਸਤੂ ਦੀ ਸੰਤੁਲਨ ਕੀਮਤ ਕਿਹਾ ਜਾਂਦਾ ਹੈ। ਇਸ ਤਰ੍ਹਾਂ, ਕਿਸੇ ਵਸਤੂ ਦੀ ਕੀਮਤ ਬਾਜ਼ਾਰ ਵਿੱਚ ਮੰਗ ਅਤੇ ਸਪਲਾਈ ਦੀਆਂ ਤਾਕਤਾਂ ਦੁਆਰਾ ਨਿਰਧਾਰਤ ਕੀਤੀ ਜਾਂਦੀ ਹੈ। ਪਰ ਕੁਝ ਵਸਤਾਂ ਦੇ ਮਾਮਲੇ ਵਿੱਚ, ਸਰਕਾਰ ਦੁਆਰਾ ਖਪਤਕਾਰਾਂ ਜਾਂ ਉਤਪਾਦਕਾਂ ਦੇ ਹਿੱਤਾਂ ਦੀ ਰਾਖੀ ਲਈ ਕੀਮਤ ਨਿਰਧਾਰਤ ਕੀਤੀ ਜਾਂਦੀ ਹੈ। ਇਸ ਪਾਠ ਵਿੱਚ,

ਅਸੀਂ ਚਰਚਾ ਕਰਾਂਗੇ ਕਿ ਕਿਸੇ ਵਸਤੂ ਦੀ ਕੀਮਤ ਮੰਗ ਅਤੇ ਸਪਲਾਈ ਦੀਆਂ ਤਾਕਤਾਂ ਦੁਆਰਾ ਕਿਵੇਂ ਨਿਰਧਾਰਤ ਕੀਤੀ ਜਾਂਦੀ ਹੈ।

11.3 ਸੰਤੁਲਿਤ ਕੀਮਤ ਦਾ ਅਰਥ

ਸੰਤੁਲਨ ਦਾ ਸ਼ਾਬਦਿਕ ਅਰਥ ਹੈ ਸੰਤੁਲਨ ਦੀ ਅਵਸਥਾ ਜਿੱਥੋਂ ਬਦਲਣ ਦੀ ਕੋਈ ਪ੍ਰਵਿਰਤੀ ਨਹੀਂ ਹੈ। ਦੂਜੇ ਸ਼ਬਦਾਂ ਵਿੱਚ ਸੰਤੁਲਨ ਇੱਕ ਅਜਿਹੀ ਸਥਿਤੀ ਹੈ ਜਿੱਥੇ ਸੰਤੁਲਨ ਨਿਰਧਾਰਤ ਕਰਨ ਵਾਲੀਆਂ ਸ਼ਕਤੀਆਂ ਸੰਤੁਲਨ ਵਿੱਚ ਹੁੰਦੀਆਂ ਹਨ ਜਾਂ ਇੱਕ ਦੂਜੇ ਦੇ ਬਰਾਬਰ ਹੁੰਦੀਆਂ ਹਨ। ਇੱਥੇ ਸੰਤੁਲਨ ਮੁੱਲ ਨਿਰਧਾਰਤ ਕਰਨ ਵਾਲੀਆਂ ਸ਼ਕਤੀਆਂ ਵਸਤੂ ਦੀ ਮੰਗ ਦੀ ਮਾਤਰਾ ਅਤੇ ਸਪਲਾਈ ਕੀਤੀ ਮਾਤਰਾ ਹਨ। ਜਿਸ ਕੀਮਤ 'ਤੇ ਕਿਸੇ ਵਸਤੂ ਦੀ ਮੰਗ ਕੀਤੀ ਗਈ ਮਾਤਰਾ ਉਸ ਦੀ ਸਪਲਾਈ ਕੀਤੀ ਗਈ ਮਾਤਰਾ ਦੇ ਬਰਾਬਰ ਹੁੰਦੀ ਹੈ, ਉਸ ਨੂੰ ਸੰਤੁਲਿਤ ਮੁੱਲ ਕਿਹਾ ਜਾਂਦਾ ਹੈ।

ਸੰਤੁਲਿਤ ਕੀਮਤ 'ਤੇ ਕਿਸੇ ਵਸਤੂ ਦੀ ਮੰਗ ਕੀਤੀ ਮਾਤਰਾ ਅਤੇ ਸਪਲਾਈ ਕੀਤੀ ਮਾਤਰਾ ਬਰਾਬਰ ਹੁੰਦੀ ਹੈ। ਇਸ ਮਾਤਰਾ ਨੂੰ ਵਸਤੂ ਦੀ ਸੰਤੁਲਿਤ ਮਾਤਰਾ ਕਿਹਾ ਜਾਂਦਾ ਹੈ।

11.4 ਸੰਤੁਲਿਤ ਮੁੱਲ ਦਾ ਨਿਰਧਾਰਨ

ਵਿਹਾਰਕ ਜੀਵਨ ਵਿੱਚ, ਜਿਸ ਕੀਮਤ 'ਤੇ ਵਿਕਰੇਤਾ/ਫਰਮ ਕਿਸੇ ਵਸਤੂ ਨੂੰ ਵੇਚਣਾ ਚਾਹੁੰਦਾ ਹੈ, ਉਸ ਦੀ ਸਪਲਾਈ ਕੀਤੀ ਗਈ ਮਾਤਰਾ ਮੰਗੀ ਗਈ ਮਾਤਰਾ ਤੋਂ ਵੱਧ ਜਾਂ ਘੱਟ ਹੋ ਸਕਦੀ ਹੈ। ਇਸ ਲਈ ਇਹ ਕੀਮਤ ਵਸਤੂ ਦੀ ਸੰਤੁਲਿਤ ਕੀਮਤ ਨਹੀਂ ਹੈ। ਹੁਣ ਸਵਾਲ ਪੈਦਾ ਹੁੰਦਾ ਹੈ ਕਿ ਸੰਤੁਲਨ ਕਿਵੇਂ ਕਾਇਮ ਹੋਵੇਗਾ?

ਕੀਮਤ ਅਤੇ ਮਾਤਰਾ ਦਾ ਨਿਰਧਾਰਨ

ਸਾਰਣੀ 11.1 ਵਿੱਚ ਦਿੱਤੇ ਅਨੁਸਾਰ ਵੱਖ-ਵੱਖ ਕੀਮਤਾਂ 'ਤੇ ਟਮਾਟਰਾਂ ਦੀ ਬਾਜ਼ਾਰ ਦੀ ਮੰਗ ਅਤੇ ਬਾਜ਼ਾਰ ਦੀ ਸਪਲਾਈ ਦੀ ਅਨੁਸੂਚੀ 'ਤੇ ਵਿਚਾਰ ਕਰੋ। ਤੁਸੀਂ ਕ੍ਰਮਵਾਰ ਪਾਠ 9 ਅਤੇ 10 ਵਿੱਚ ਕਿਸੇ ਵਸਤੂ ਦੀ ਮਾਰਕੀਟ ਮੰਗ ਅਤੇ ਸਪਲਾਈ ਦੇ ਵਿਸ਼ੇ ਬਾਰੇ ਪਹਿਲਾਂ ਹੀ ਪੜ੍ਹ ਚੁੱਕੇ ਹੋ।

ਸਾਰਣੀ 11.1 ਟਮਾਟਰਾਂ ਦੀ ਮੰਗ ਅਤੇ ਸਪਲਾਈ ਦੀ ਮਾਤਰਾ

ਟਮਾਟਰ ਦੀ ਕੀਮਤ (ਰੁ. ਪ੍ਰਤੀ ਕਿਲੋਗ੍ਰਾਮ)	ਮੰਗ ਦੀ ਮਾਤਰਾ ਪ੍ਰਤੀ ਦਿਨ (ਕਿਲੋਗ੍ਰਾਮ)	ਸਪਲਾਈ ਦੀ ਮਾਤਰਾ ਪ੍ਰਤੀ ਦਿਨ (ਕਿਲੋਗ੍ਰਾਮ)
20	100	300
18	150	250
16	200	200
14	250	150
12	300	100

ਸਾਰਣੀ 11.1 ਵਿੱਚ ਦੇਖਿਆ ਗਿਆ ਹੈ ਕਿ ਜਦੋਂ ਟਮਾਟਰ ਦੀ ਕੀਮਤ 20 ਰੁਪਏ ਪ੍ਰਤੀ ਕਿਲੋ ਹੁੰਦੀ ਹੈ ਤਾਂ ਵਿਕਰੇਤਾ 300 ਕਿਲੋ ਟਮਾਟਰ ਵਿਕਰੀ ਲਈ ਪੇਸ਼ ਕਰਦਾ ਹੈ, ਪਰ ਖਰੀਦਦਾਰ ਸਿਰਫ਼ 100 ਕਿਲੋ ਟਮਾਟਰ ਖਰੀਦਣ ਲਈ ਤਿਆਰ ਹੁੰਦੇ ਹਨ। ਜੇਕਰ ਕੀਮਤ 18 ਰੁਪਏ ਪ੍ਰਤੀ ਕਿਲੋਗ੍ਰਾਮ ਤੱਕ ਡਿੱਗ ਜਾਂਦੀ ਹੈ, ਤਾਂ ਮੰਗੀ ਗਈ ਮਾਤਰਾ 150 ਕਿਲੋਗ੍ਰਾਮ ਤੱਕ ਵਧ ਜਾਂਦੀ ਹੈ ਪਰ ਸਪਲਾਈ ਕੀਤੀ ਗਈ ਮਾਤਰਾ 250 ਕਿਲੋਗ੍ਰਾਮ ਟਮਾਟਰ 'ਤੇ ਆ ਜਾਂਦੀ ਹੈ। ਦੋਵਾਂ ਮਾਮਲਿਆਂ ਵਿੱਚ, ਟਮਾਟਰ ਦੀ ਸਪਲਾਈ ਕੀਤੀ ਗਈ ਮਾਤਰਾ ਟਮਾਟਰ ਦੀ ਵੱਧ ਸਪਲਾਈ ਨੂੰ ਦਰਸਾਉਂਦੇ ਹੋਏ ਇਸਦੀ ਮੰਗ ਦੀ ਮਾਤਰਾ ਤੋਂ ਵੱਧ ਹੈ। ਇਸ ਨਾਲ ਟਮਾਟਰਾਂ ਦੀ ਕੀਮਤ ਵਿੱਚ ਹੋਰ ਗਿਰਾਵਟ ਆਵੇਗੀ।

ਹੁਣ ਸਪਲਾਈ ਜ਼ਿਆਦਾ ਹੋਣ ਕਾਰਨ ਟਮਾਟਰ ਦੀ ਕੀਮਤ 16 ਰੁਪਏ ਪ੍ਰਤੀ ਕਿਲੋ ਤੱਕ ਡਿੱਗ ਗਈ ਹੈ। ਇਸ ਕੀਮਤ 'ਤੇ ਖਰੀਦਦਾਰ 200 ਕਿਲੋ ਟਮਾਟਰ ਖਰੀਦਣ ਦੇ ਇੱਛੁਕ ਹਨ ਅਤੇ ਵਿਕਰੇਤਾ ਵੀ ਇੰਨੀ ਹੀ ਮਾਤਰਾ 'ਚ ਟਮਾਟਰ ਭਾਵ 200 ਕਿਲੋ ਟਮਾਟਰ ਵੇਚਣ ਲਈ ਤਿਆਰ ਹਨ। ਇਸ ਤਰ੍ਹਾਂ ਸਥਿਤੀ ਸੰਤੁਲਿਤ ਕੀਮਤ ਤੱਕ ਪਹੁੰਚ ਗਈ। ਇਸ ਤਰ੍ਹਾਂ 16 ਰੁਪਏ ਪ੍ਰਤੀ ਕਿਲੋ ਟਮਾਟਰ ਦੀ ਸੰਤੁਲਿਤ ਕੀਮਤ ਹੈ ਜਿਸ 'ਤੇ ਟਮਾਟਰ ਦੀ ਮੰਗ ਦੀ ਮਾਤਰਾ 200 ਕਿਲੋ ਟਮਾਟਰ 'ਤੇ ਸਪਲਾਈ ਕੀਤੀ ਗਈ ਮਾਤਰਾ ਦੇ ਬਰਾਬਰ ਹੈ।

ਮੈਂਡਿਊਲ: 4

ਵਸਤਾਂ ਅਤੇ ਸੇਵਾਵਾਂ ਦੀ ਵੰਡ



ਨੋਟ



ਨੋਟ

11.5 ਅਸੰਤੁਲਨ ਦੀਆਂ ਸਥਿਤੀਆਂ ਅਤੇ ਸੰਤੁਲਨ ਸਥਿਤੀ ਲਈ ਸਮਾਯੋਜਨ

ਸਾਰਣੀ 11.1 ਵਿੱਚ ਦੇਖੋ ਕਿ 12 ਅਤੇ 14 ਰੁਪਏ ਦੀਆਂ ਕੀਮਤਾਂ (ਸੰਤੁਲਿਤ ਕੀਮਤ ਤੋਂ ਘੱਟ) ਦੀ ਮੰਗ ਅਤੇ ਸਪਲਾਈ ਕੀਤੀ ਮਾਤਰਾ ਬਰਾਬਰ ਨਹੀਂ ਹਨ। ਇਸੇ ਤਰ੍ਹਾਂ 20 ਰੁਪਏ ਅਤੇ 18 ਰੁਪਏ (ਸੰਤੁਲਿਤ ਕੀਮਤ ਤੋਂ ਵੱਧ) ਦੀ ਮੰਗ ਅਤੇ ਸਪਲਾਈ ਦੀ ਮਾਤਰਾ ਵੀ ਬਰਾਬਰ ਨਹੀਂ ਹੈ। ਇਹ ਦੋ ਸਥਿਤੀਆਂ ਅਸੰਤੁਲਨ ਵਾਲੀਆਂ ਸਥਿਤੀਆਂ ਹਨ। ਆਓ ਉਨ੍ਹਾਂ ਦੀ ਵਿਆਖਿਆ ਕਰੀਏ।

ਟਮਾਟਰ ਦੀ ਮਾਰਕੀਟ ਕੀਮਤ 12 ਰੁਪਏ ਪ੍ਰਤੀ ਕਿਲੋ ਹੈ, ਇਸ ਸਥਿਤੀ 'ਤੇ ਗੌਰ ਕਰੋ। ਇਸ ਕੀਮਤ 'ਤੇ ਖਰੀਦਦਾਰ 300 ਕਿਲੋ ਟਮਾਟਰ ਖਰੀਦਣ ਦੇ ਇੱਛੁਕ ਹਨ, ਜਦਕਿ ਵਿਕਰੇਤਾ ਸਿਰਫ਼ 100 ਕਿਲੋ ਟਮਾਟਰ ਵੇਚਣ ਦੇ ਇੱਛੁਕ ਹਨ। ਇਸੇ ਤਰ੍ਹਾਂ ਜਦੋਂ ਟਮਾਟਰ ਦੀ ਕੀਮਤ 14 ਰੁਪਏ ਪ੍ਰਤੀ ਕਿਲੋਗ੍ਰਾਮ ਹੈ ਤਾਂ ਟਮਾਟਰ ਦੀ ਮੰਗ ਦੀ ਮਾਤਰਾ 250 ਕਿਲੋਗ੍ਰਾਮ ਰਹਿ ਜਾਂਦੀ ਹੈ ਅਤੇ ਸਪਲਾਈ ਕੀਤੀ ਗਈ ਮਾਤਰਾ 150 ਕਿਲੋਗ੍ਰਾਮ ਤੱਕ ਪਹੁੰਚ ਜਾਂਦੀ ਹੈ। ਇਹ ਦੋਵੇਂ ਮਾਮਲੇ ਬਾਜ਼ਾਰ ਵਿੱਚ ਟਮਾਟਰ ਦੀ ਜ਼ਿਆਦਾ ਮੰਗ ਨੂੰ ਦਰਸਾਉਂਦੇ ਹਨ। ਇਸ ਨਾਲ ਟਮਾਟਰ ਦੀ ਕੀਮਤ ਵਿੱਚ ਹੋਰ ਵਾਧਾ ਹੋਵੇਗਾ। ਟਮਾਟਰਾਂ ਦੀ ਕੀਮਤ ਉਦੋਂ ਤੱਕ ਵਧਦੀ ਰਹੇਗੀ ਜਦੋਂ ਤੱਕ ਟਮਾਟਰ ਦੀ ਮੰਗ ਦੀ ਮਾਤਰਾ ਉਨ੍ਹਾਂ ਦੀ ਸਪਲਾਈ ਕੀਤੀ ਗਈ ਮਾਤਰਾ ਦੇ ਬਰਾਬਰ ਮੁੱਲ 'ਤੇ ਨਹੀਂ ਪਹੁੰਚ ਜਾਂਦੀ। ਇਸ ਤਰ੍ਹਾਂ ਟਮਾਟਰਾਂ ਦੀ ਸੰਤੁਲਨ ਕੀਮਤ 16 ਰੁਪਏ ਪ੍ਰਤੀ ਕਿਲੋਗ੍ਰਾਮ 'ਤੇ ਪਹੁੰਚ ਜਾਵੇਗੀ ਜਿਸ 'ਤੇ ਮੰਗ ਦੀ ਮਾਤਰਾ ਅਤੇ 200 ਕਿਲੋ ਟਮਾਟਰ ਦੀ ਸਪਲਾਈ ਦੀ ਮਾਤਰਾ ਦੋਵੇਂ ਬਰਾਬਰ ਹਨ।

ਦੂਜੇ ਪਾਸੇ ਜਦੋਂ ਟਮਾਟਰ ਦੀ ਕੀਮਤ 18 ਰੁਪਏ ਪ੍ਰਤੀ ਕਿਲੋ ਹੋ ਜਾਂਦੀ ਹੈ ਤਾਂ ਮੰਗ ਦੀ ਮਾਤਰਾ 150 ਕਿਲੋਗ੍ਰਾਮ ਅਤੇ ਸਪਲਾਈ ਕੀਤੀ ਗਈ ਮਾਤਰਾ 250 ਕਿਲੋਗ੍ਰਾਮ ਹੁੰਦੀ ਹੈ, ਭਾਵ ਟਮਾਟਰਾਂ ਦੀ ਸਪਲਾਈ ਕੀਤੀ ਗਈ ਮਾਤਰਾ ਉਹਨਾਂ ਦੀ ਮੰਗ ਦੀ ਮਾਤਰਾ ਤੋਂ ਵੱਧ ਹੁੰਦੀ ਹੈ। ਇਹ ਟਮਾਟਰ ਦੀ ਵਾਧੂ ਸਪਲਾਈ ਦੀ ਸਥਿਤੀ ਹੈ। ਇਸ ਨਾਲ ਕੀਮਤ ਵਿੱਚ ਗਿਰਾਵਟ ਆਵੇਗੀ ਅਤੇ ਕੀਮਤ ਉਦੋਂ ਤੱਕ ਡਿੱਗਦੀ ਰਹੇਗੀ ਜਦੋਂ ਤੱਕ ਇਹ ਸੰਤੁਲਿਤ ਕੀਮਤ 16 ਰੁਪਏ ਪ੍ਰਤੀ ਕਿਲੋਗ੍ਰਾਮ ਤੱਕ ਨਹੀਂ ਪਹੁੰਚ ਜਾਂਦੀ, ਜਿਸ 'ਤੇ ਟਮਾਟਰ ਦੀ ਮੰਗ ਅਤੇ ਸਪਲਾਈ ਦੀ ਮਾਤਰਾ 200 ਕਿਲੋਗ੍ਰਾਮ ਦੇ ਬਰਾਬਰ ਹੈ।

1. ਮੰਨ ਲਓ ਕਿ ਤੁਸੀਂ ਟਮਾਟਰ ਵੇਚਣ ਵਾਲੇ ਹੋ ਅਤੇ ਤੁਹਾਡੇ ਕੋਲ ਵਿਕਰੀ ਲਈ 100 ਕਿਲੋ ਟਮਾਟਰ ਹਨ। ਇਸ ਦੀ ਬਾਜ਼ਾਰੀ ਕੀਮਤ 20 ਰੁਪਏ ਪ੍ਰਤੀ ਕਿਲੋ ਹੈ। ਇਸ ਕੀਮਤ 'ਤੇ ਟਮਾਟਰ ਦੀ ਮੰਗ ਸਿਰਫ਼ 60 ਕਿਲੋ ਹੈ। ਇਹ ਤੁਹਾਡੇ ਦੁਆਰਾ ਨਿਰਧਾਰਤ ਟਮਾਟਰਾਂ ਦੀ ਕੀਮਤ ਨੂੰ ਕਿਵੇਂ ਪ੍ਰਭਾਵਿਤ ਕਰੇਗਾ?
2. ਜਿਵੇਂ ਕਿ ਪ੍ਰਸ਼ਨ ਨੰਬਰ 1 ਵਿੱਚ, ਜੇਕਰ ਕੀਮਤ 20 ਰੁਪਏ ਪ੍ਰਤੀ ਕਿਲੋ ਹੈ ਤਾਂ ਟਮਾਟਰ ਦੀ ਮੰਗ 150 ਕਿਲੋ ਹੈ। ਇਹ ਤੁਹਾਡੇ ਦੁਆਰਾ ਨਿਰਧਾਰਤ ਟਮਾਟਰਾਂ ਦੀ ਕੀਮਤ ਨੂੰ ਕਿਵੇਂ ਪ੍ਰਭਾਵਿਤ ਕਰੇਗਾ?
3. ਸਹੀ ਉੱਤਰ 'ਤੇ ਨਿਸ਼ਾਨ ਲਗਾਓ (✓) ਵਾਧੂ ਮੰਗ ਇੱਕ ਅਜਿਹੀ ਸਥਿਤੀ ਹੈ ਜਿੱਥੇ:
 - (ੳ) ਕਿਸੇ ਵਸਤੂ ਦੀ ਮੰਗ ਦੀ ਮਾਤਰਾ ਉਸ ਦੀ ਸਪਲਾਈ ਦੀ ਮਾਤਰਾ ਦੇ ਬਰਾਬਰ ਹੈ
 - (ਅ) ਕਿਸੇ ਵਸਤੂ ਦੀ ਮੰਗ ਦੀ ਮਾਤਰਾ, ਸਪਲਾਈ ਦੀ ਮਾਤਰਾ ਤੋਂ ਵੱਧ ਹੈ।
 - (ੲ) ਕਿਸੇ ਵਸਤੂ ਦੀ ਸਪਲਾਈ ਦੀ ਮਾਤਰਾ ਉਸਦੀ ਮੰਗ ਦੀ ਮਾਤਰਾ ਤੋਂ ਵੱਧ ਹੈ
4. ਸਹੀ ਉੱਤਰ 'ਤੇ ਨਿਸ਼ਾਨ (✓) ਲਗਾਓ ਵਾਧੂ ਸਪਲਾਈ ਅਜਿਹੀ ਸਥਿਤੀ ਹੈ ਜਿੱਥੇ:
 - (ੳ) ਕਿਸੇ ਵਸਤੂ ਦੀ ਸਪਲਾਈ ਦੀ ਮਾਤਰਾ ਉਸਦੀ ਮੰਗ ਦੀ ਮਾਤਰਾ ਤੋਂ ਵੱਧ ਹੈ
 - (ਅ) ਕਿਸੇ ਵਸਤੂ ਦੀ ਸਪਲਾਈ ਦੀ ਮਾਤਰਾ ਉਸਦੀ ਮੰਗ ਦੀ ਮਾਤਰਾ ਦੇ ਬਰਾਬਰ ਹੁੰਦੀ ਹੈ
 - (ੲ) ਕਿਸੇ ਵਸਤੂ ਦੀ ਸਪਲਾਈ ਦੀ ਮਾਤਰਾ ਉਸਦੀ ਮੰਗ ਦੀ ਮਾਤਰਾ ਤੋਂ ਘੱਟ ਹੈ।
5. ਸਹੀ ਉੱਤਰ 'ਤੇ ਨਿਸ਼ਾਨ ਲਗਾਓ (✓)

ਜੇਕਰ ਕਿਸੇ ਵਸਤੂ ਦੀ ਨਿਰਧਾਰਤ ਕੀਮਤ 'ਤੇ ਕਿਸੇ ਵਸਤੂ ਦੀ ਮੰਗ ਦੀ ਮਾਤਰਾ ਸਪਲਾਈ ਦੀ ਮਾਤਰਾ ਤੋਂ ਵੱਧ ਹੈ:

 - (ੳ) ਵਸਤੂ ਦੀ ਕੀਮਤ ਨਹੀਂ ਬਦਲਦੀ

ਮੈਂਡਿਊਲ: 4

ਵਸਤਾਂ ਅਤੇ ਸੇਵਾਵਾਂ ਦੀ ਵੰਡ



ਨੋਟ



(ਅ) ਕੀਮਤ ਘਟਣੀ ਸ਼ੁਰੂ ਹੋ ਜਾਂਦੀ ਹੈ

(ੲ) ਕੀਮਤ ਵਧਣੀ ਸ਼ੁਰੂ ਹੋ ਜਾਂਦੀ ਹੈ

6. ਜੇਕਰ ਕਿਸੇ ਵਸਤੂ ਦੀ ਨਿਰਧਾਰਤ ਕੀਮਤ 'ਤੇ ਸਪਲਾਈ ਦੀ ਮਾਤਰਾ ਮੰਗ ਦੀ ਮਾਤਰਾ ਤੋਂ ਵੱਧ ਹੈ:

(ੳ) ਕੀਮਤ ਡਿੱਗਣੀ ਸ਼ੁਰੂ ਹੋ ਜਾਂਦੀ ਹੈ

(ਅ) ਕੀਮਤ ਉਹੀ ਰਹਿੰਦੀ ਹੈ

(ੲ) ਕੀਮਤ ਵਧਣੀ ਸ਼ੁਰੂ ਹੋ ਜਾਂਦੀ ਹੈ

11.6 ਮੰਗ ਵਿੱਚ ਤਬਦੀਲੀ ਦਾ ਸੰਤੁਲਿਤ ਕੀਮਤ ਅਤੇ ਮਾਤਰਾ 'ਤੇ ਪ੍ਰਭਾਵ

ਤੁਸੀਂ ਅਧਿਐਨ ਕੀਤਾ ਹੈ ਕਿ ਕਿਸੇ ਵਸਤੂ ਦੀ ਸੰਤੁਲਿਤ ਕੀਮਤ ਉਹ ਕੀਮਤ ਹੁੰਦੀ ਹੈ ਜਿਸ 'ਤੇ ਵਸਤੂ ਦੀ ਮੰਗ ਦੀ ਮਾਤਰਾ ਉਸ ਦੀ ਸਪਲਾਈ ਦੀ ਮਾਤਰਾ ਦੇ ਬਰਾਬਰ ਹੁੰਦੀ ਹੈ। ਪਰ ਉਦੋਂ ਕੀ ਹੁੰਦਾ ਹੈ ਜਦੋਂ ਵਸਤੂ ਦੀ ਮੰਗ ਵਧ ਜਾਂਦੀ ਹੈ ਪਰ ਇਸਦੀ ਸਪਲਾਈ ਇੱਕੋ ਜਿਹੀ ਰਹਿੰਦੀ ਹੈ। ਵਸਤੂ ਦੀ ਮੰਗ ਵਿੱਚ ਵਾਧੇ ਨਾਲ ਵਸਤੂ ਦੀ ਮੰਗ ਅਤੇ ਸਪਲਾਈ ਦੀ ਸੰਤੁਲਿਤ ਕੀਮਤ ਅਤੇ ਮਾਤਰਾ ਵਿੱਚ ਵਾਧਾ ਹੋਵੇਗਾ। ਦੂਜੇ ਪਾਸੇ, ਜੇਕਰ ਵਸਤੂ ਦੀ ਮੰਗ ਘਟਦੀ ਹੈ ਪਰ ਇਸਦੀ ਸਪਲਾਈ ਇੱਕੋ ਜਿਹੀ ਰਹਿੰਦੀ ਹੈ, ਤਾਂ ਇਹ ਵਸਤੂ ਦੀ ਮੰਗ ਅਤੇ ਸਪਲਾਈ ਦੀ ਸੰਤੁਲਿਤ ਕੀਮਤ ਅਤੇ ਮਾਤਰਾ ਵਿੱਚ ਕਮੀ ਵੱਲ ਲੈ ਜਾਵੇਗੀ।

11.7 ਸਪਲਾਈ ਵਿੱਚ ਤਬਦੀਲੀ ਦਾ ਸੰਤੁਲਿਤ ਕੀਮਤ ਅਤੇ ਸੰਤੁਲਿਤ ਮਾਤਰਾ 'ਤੇ ਪ੍ਰਭਾਵ

ਜਦੋਂ ਕਿਸੇ ਵਸਤੂ ਦੀ ਸਪਲਾਈ ਵਧਦੀ ਹੈ ਪਰ ਇਸਦੀ ਮੰਗ ਇੱਕੋ ਜਿਹੀ ਰਹਿੰਦੀ ਹੈ, ਤਾਂ ਸੰਤੁਲਿਤ ਮੁੱਲ ਘਟੇਗਾ ਪਰ ਮੰਗ ਅਤੇ ਸਪਲਾਈ ਕੀਤੀ ਸੰਤੁਲਿਤ ਮਾਤਰਾ ਵਧੇਗੀ। ਦੂਜੇ ਪਾਸੇ ਜਦੋਂ ਕਿਸੇ ਵਸਤੂ ਦੀ ਸਪਲਾਈ ਘਟ ਜਾਂਦੀ ਹੈ ਪਰ ਇਸਦੀ ਮੰਗ ਇੱਕੋ ਜਿਹੀ ਰਹਿੰਦੀ

ਹੈ, ਤਾਂ ਇਸਦੀ ਸੰਤੁਲਿਤ ਕੀਮਤ ਵਧ ਜਾਂਦੀ ਹੈ ਪਰ ਮੰਗ ਅਤੇ ਸਪਲਾਈ ਦੀ ਸੰਤੁਲਿਤ ਮਾਤਰਾ ਘਟ ਜਾਂਦੀ ਹੈ।

1. ਕਿਸੇ ਵਸਤੂ ਦੀ ਸੰਤੁਲਿਤ ਕੀਮਤ 'ਤੇ ਕੀ ਪ੍ਰਭਾਵ ਪਵੇਗਾ, ਜਦੋਂ
 - (ੳ) ਇਸਦੀ ਮੰਗ ਵਧਦੀ ਹੈ ਅਤੇ ਸਪਲਾਈ ਉਹੀ ਰਹਿੰਦੀ ਹੈ
 - (ਅ) ਇਸਦੀ ਸਪਲਾਈ ਵਧਦੀ ਹੈ ਅਤੇ ਮੰਗ ਇੱਕੋ ਜਿਹੀ ਰਹਿੰਦੀ ਹੈ
 - (ੲ) ਇਸਦੀ ਮੰਗ ਘਟਦੀ ਹੈ ਪਰ ਸਪਲਾਈ ਉਹੀ ਰਹਿੰਦੀ ਹੈ
 - (ਸ) ਇਸਦੀ ਸਪਲਾਈ ਘਟਦੀ ਹੈ ਪਰ ਮੰਗ ਉਹੀ ਰਹਿੰਦੀ ਹੈ

2. ਕਿਸੇ ਵਸਤੂ ਦੀ ਸੰਤੁਲਿਤ ਮਾਤਰਾ ਦੀ ਮੰਗ ਅਤੇ ਸਪਲਾਈ ਕਿਵੇਂ ਪ੍ਰਭਾਵਿਤ ਹੁੰਦੀ ਹੈ ਜਦੋਂ
 - (ੳ) ਇਸਦੀ ਮੰਗ ਵਧਦੀ ਹੈ ਪਰ ਸਪਲਾਈ ਉਹੀ ਰਹਿੰਦੀ ਹੈ
 - (ਅ) ਇਸਦੀ ਸਪਲਾਈ ਵਧਦੀ ਹੈ ਪਰ ਮੰਗ ਉਹੀ ਰਹਿੰਦੀ ਹੈ
 - (ੲ) ਇਸਦੀ ਮੰਗ ਘਟਦੀ ਹੈ ਪਰ ਸਪਲਾਈ ਉਹੀ ਰਹਿੰਦੀ ਹੈ
 - (ਸ) ਇਸਦੀ ਸਪਲਾਈ ਘਟਦੀ ਹੈ ਪਰ ਮੰਗ ਉਹੀ ਰਹਿੰਦੀ ਹੈ।

ਤੁਸੀਂ ਕੀ ਸਿੱਖਿਆ

- ਖਰੀਦਦਾਰ ਦੁਆਰਾ ਕਿਸੇ ਵਸਤੂ ਜਾਂ ਸੇਵਾ ਦੀ ਇਕਾਈ ਦੇ ਬਦਲੇ ਵੇਚਣ ਵਾਲੇ ਨੂੰ ਦਿੱਤੀ ਗਈ ਰਕਮ ਨੂੰ ਉਸ ਵਸਤੂ ਜਾਂ ਸੇਵਾ ਦੀ ਕੀਮਤ ਮੰਨਿਆ ਜਾਂਦਾ ਹੈ।
- ਸੰਤੁਲਿਤ ਕੀਮਤ ਉਹ ਕੀਮਤ ਹੁੰਦੀ ਹੈ ਜਿਸ 'ਤੇ ਕਿਸੇ ਵਸਤੂ ਦੀ ਮੰਗ ਅਤੇ ਸਪਲਾਈ ਦੀ ਮਾਤਰਾ ਦੋਵੇਂ ਬਰਾਬਰ ਹੁੰਦੀਆਂ ਹਨ।
- ਸੰਤੁਲਨ ਮੁੱਲ ਕਿਸੇ ਵਸਤੂ ਦੀ ਮੰਗ ਅਤੇ ਸਪਲਾਈ ਦੀਆਂ ਮਾਰਕੀਟ ਤਾਕਤਾਂ ਦੁਆਰਾ ਨਿਰਧਾਰਤ ਕੀਤਾ ਜਾਂਦਾ ਹੈ।
- ਵਾਧੂ ਮੰਗ ਅਜਿਹੀ ਸਥਿਤੀ ਹੁੰਦੀ ਹੈ ਜਦੋਂ ਇੱਕ ਦਿੱਤੇ ਮੁੱਲ 'ਤੇ ਕਿਸੇ ਵਸਤੂ ਦੀ ਮੰਗ ਦੀ ਮਾਤਰਾ, ਸਪਲਾਈ ਦੀ ਮਾਤਰਾ ਤੋਂ ਵੱਧ ਹੁੰਦੀ ਹੈ।

ਮੈਂਡਿਊਲ: 4

ਵਸਤਾਂ ਅਤੇ ਸੇਵਾਵਾਂ ਦੀ ਵੰਡ



ਨੋਟ

ਵਸਤੂ ਅਤੇ ਸੇਵਾਵਾਂ ਦੀ
ਵੰਡ



ਨੋਟ

- ਵਾਧੂ ਸਪਲਾਈ ਅਜਿਹੀ ਸਥਿਤੀ ਹੁੰਦੀ ਹੈ ਜਦੋਂ ਕਿਸੇ ਵਸਤੂ ਦੀ ਨਿਰਧਾਰਤ ਕੀਮਤ 'ਤੇ ਸਪਲਾਈ ਦੀ ਮਾਤਰਾ ਉਸਦੀ ਮੰਗ ਦੀ ਮਾਤਰਾ ਤੋਂ ਵੱਧ ਹੁੰਦੀ ਹੈ।
- ਜਦੋਂ ਵਸਤੂ ਦੀ ਜ਼ਿਆਦਾ ਮੰਗ ਹੁੰਦੀ ਹੈ ਤਾਂ ਕੀਮਤ ਵਧਣੀ ਸ਼ੁਰੂ ਹੋ ਜਾਂਦੀ ਹੈ ਅਤੇ ਸੰਤੁਲਿਤ ਮੁੱਲ 'ਤੇ ਪਹੁੰਚਣ ਤੱਕ ਇਹ ਲਗਾਤਾਰ ਵਧਦੀ ਰਹਿੰਦੀ ਹੈ।
- ਜਦੋਂ ਵਸਤੂ ਦੀ ਵਾਧੂ ਸਪਲਾਈ ਹੁੰਦੀ ਹੈ ਤਾਂ ਇਸਦੀ ਕੀਮਤ ਡਿੱਗਣੀ ਸ਼ੁਰੂ ਹੋ ਜਾਂਦੀ ਹੈ ਅਤੇ ਸੰਤੁਲਿਤ ਮੁੱਲ 'ਤੇ ਪਹੁੰਚਣ ਤੱਕ ਡਿੱਗਦੀ ਰਹਿੰਦੀ ਹੈ।
- ਜਦੋਂ ਕਿਸੇ ਵਸਤੂ ਦੀ ਮੰਗ ਵਧਦੀ ਹੈ ਪਰ ਇਸਦੀ ਸਪਲਾਈ ਇੱਕੋ ਜਿਹੀ ਰਹਿੰਦੀ ਹੈ, ਤਾਂ ਸੰਤੁਲਿਤ ਮੁੱਲ ਅਤੇ ਮੰਗ ਅਤੇ ਸਪਲਾਈ ਦੀ ਮਾਤਰਾ ਦੋਵੇਂ ਵਧਣਗੀਆਂ।
- ਜਦੋਂ ਕਿਸੇ ਵਸਤੂ ਦੀ ਮੰਗ ਘਟ ਜਾਂਦੀ ਹੈ ਪਰ ਇਸਦੀ ਸਪਲਾਈ ਬਰਾਬਰ ਰਹਿੰਦੀ ਹੈ ਤਾਂ ਸੰਤੁਲਿਤ ਮੁੱਲ ਅਤੇ ਸੰਤੁਲਿਤ ਮਾਤਰਾ ਦੀ ਮੰਗ ਅਤੇ ਸਪਲਾਈ ਘਟ ਜਾਂਦੀ ਹੈ।
- ਜਦੋਂ ਕਿਸੇ ਵਸਤੂ ਦੀ ਸਪਲਾਈ ਵਧਦੀ ਹੈ ਅਤੇ ਇਸਦੀ ਮੰਗ ਇੱਕੋ ਜਿਹੀ ਰਹਿੰਦੀ ਹੈ, ਤਾਂ ਸੰਤੁਲਿਤ ਮੁੱਲ ਘਟੇਗਾ ਅਤੇ ਮੰਗ ਅਤੇ ਸਪਲਾਈ ਦੀ ਸੰਤੁਲਿਤ ਮਾਤਰਾ ਵਧੇਗੀ।
- ਜਦੋਂ ਕਿਸੇ ਵਸਤੂ ਦੀ ਸਪਲਾਈ ਘਟਦੀ ਹੈ ਪਰ ਇਸਦੀ ਮੰਗ ਉਸੇ ਤਰ੍ਹਾਂ ਰਹਿੰਦੀ ਹੈ ਤਾਂ ਸੰਤੁਲਿਤ ਮੁੱਲ ਵਧੇਗਾ ਪਰ ਮੰਗ ਅਤੇ ਸਪਲਾਈ ਦੀ ਸੰਤੁਲਿਤ ਮਾਤਰਾ ਘਟੇਗੀ।

ਪਾਠ ਦੇ ਅੰਤ ਦੇ ਪ੍ਰਸ਼ਨ

1. ਕੀਮਤ ਤੋਂ ਕੀ ਭਾਵ ਹੈ?
2. ਸੰਤੁਲਿਤ ਕੀਮਤ ਤੋਂ ਕੀ ਭਾਵ ਹੈ?
3. ਸੰਤੁਲਿਤ ਮਾਤਰਾ ਤੋਂ ਕੀ ਭਾਵ ਹੈ?
4. ਕਿਸੇ ਵਸਤੂ ਦੀ ਸੰਤੁਲਿਤ ਕੀਮਤ ਕਿਵੇਂ ਨਿਰਧਾਰਤ ਕੀਤੀ ਜਾਂਦੀ ਹੈ?
5. ਕਿਸੇ ਵਸਤੂ ਦੀ ਕੀਮਤ 'ਤੇ ਕੀ ਪ੍ਰਭਾਵ ਪੈਂਦਾ ਹੈ ਜਦੋਂ ਦਿੱਤੀ ਹੋਈ ਕੀਮਤ 'ਤੇ:
(ੳ) ਕਿਸੇ ਵਸਤੂ ਦੀ ਮੰਗ ਦੀ ਮਾਤਰਾ, ਸਪਲਾਈ ਦੀ ਮਾਤਰਾ ਤੋਂ ਵੱਧ ਹੈ

ਕੀਮਤ ਅਤੇ ਮਾਤਰਾ ਦਾ ਨਿਰਧਾਰਨ

- (ਅ) ਕਿਸੇ ਵਸਤੂ ਦੀ ਸਪਲਾਈ ਦੀ ਮਾਤਰਾ ਉਸਦੀ ਮੰਗ ਦੀ ਮਾਤਰਾ ਤੋਂ ਵੱਧ ਹੈ
- (ੲ) ਕਿਸੇ ਵਸਤੂ ਦੀ ਮੰਗ ਦੀ ਮਾਤਰਾ ਉਸ ਦੀ ਸਪਲਾਈ ਦੀ ਮਾਤਰਾ ਦੇ ਬਰਾਬਰ ਹੈ
6. ਜਦੋਂ ਮੰਗ ਵਧਦੀ ਹੈ ਪਰ ਸਪਲਾਈ ਇੱਕੋ ਜਿਹੀ ਰਹਿੰਦੀ ਹੈ ਤਾਂ ਕਿਸੇ ਵਸਤੂ ਦੀ ਸੰਤੁਲਿਤ ਕੀਮਤ ਕਿਵੇਂ ਪ੍ਰਭਾਵਿਤ ਹੁੰਦੀ ਹੈ।
7. ਕਿਸੇ ਵਸਤੂ ਦੀ ਸਪਲਾਈ ਵਿੱਚ ਕਮੀ ਦਾ ਉਸ ਦੀ ਸੰਤੁਲਿਤ ਕੀਮਤ ਅਤੇ ਮੰਗ ਅਤੇ ਸਪਲਾਈ ਦੀ ਸੰਤੁਲਿਤ ਮਾਤਰਾ 'ਤੇ ਕੀ ਪ੍ਰਭਾਵ ਪੈਂਦਾ ਹੈ ਜਦੋਂ ਉਸ ਦੀ ਮੰਗ ਇੱਕੋ ਜਿਹੀ ਰਹਿੰਦੀ ਹੈ।

ਪਾਠ ਅਧੀਨ ਪ੍ਰਸ਼ਨਾਂ ਦੇ ਉੱਤਰ

ਪਾਠ ਅਧੀਨ ਪ੍ਰਸ਼ਨ 11.1 ਦੇ ਉੱਤਰ

- ਉਤਪਾਦਨ ਦੀ ਲਾਗਤ
 - ਸਮਾਨ ਵਸਤੂ ਦੇ ਦੂਜੇ ਵਿਕਰੇਤਾ ਦੁਆਰਾ ਨਿਰਧਾਰਤ ਕੀਮਤ
 - ਵੱਖ-ਵੱਖ ਕੀਮਤਾਂ 'ਤੇ ਸੰਭਾਵਿਤ ਵਿਕਰੀ।
- ਟਮਾਟਰ ਦੀ ਕੀਮਤ ਵਧੇਗੀ।

ਪਾਠਕ੍ਰਮ ਪ੍ਰਸ਼ਨ 11.2 ਦੇ ਉੱਤਰ

- ਟਮਾਟਰ ਦੀ ਕੀਮਤ ਘੱਟ ਜਾਵੇਗੀ
- ਟਮਾਟਰ ਦੀ ਕੀਮਤ ਵਧੇਗੀ
- (ਅ)
- (ੳ)
- (ੲ)
- (ੳ)

ਮੈਂਡਿਊਲ: 4

ਵਸਤਾਂ ਅਤੇ ਸੇਵਾਵਾਂ ਦੀ ਵੰਡ



ਨੋਟ

ਮੌਡਿਊਲ: 4

ਵਸਤਾਂ ਅਤੇ ਸੇਵਾਵਾਂ ਦੀ
ਵੰਡ



ਨੋਟ

ਪਾਠ ਅਧੀਨ ਪ੍ਰਸ਼ਨ 11.3 ਦੇ ਉੱਤਰ

1. (ੳ) ਸੰਤੁਲਿਤ ਕੀਮਤ ਵਧੇਗੀ
(ਅ) ਸੰਤੁਲਿਤ ਮੁੱਲ ਘਟੇਗਾ
(ੲ) ਸੰਤੁਲਿਤ ਮੁੱਲ ਘਟੇਗਾ
(ਸ) ਸੰਤੁਲਿਤ ਕੀਮਤ ਵਧੇਗੀ

2. (ੳ) ਵਧੇਗਾ
(ਅ) ਵਧੇਗੀ
(ੲ) ਘਟੇਗੀ
(ਸ) ਘਟੇਗੀ

12

ਬਾਜ਼ਾਰ

ਪਿਛਲੇ ਪਾਠ ਵਿੱਚ ਅਸੀਂ ਉਤਪਾਦਨ ਅਤੇ ਉਤਪਾਦਨ ਦੇ ਕਾਰਕਾਂ ਬਾਰੇ ਅਧਿਐਨ ਕੀਤਾ ਸੀ। ਉਤਪਾਦਨ ਦੇ ਕਾਰਕਾਂ ਦੇ ਸਾਂਝੇ ਯਤਨਾਂ ਦੁਆਰਾ ਜੇ ਵੀ ਮਾਲ ਤਿਆਰ ਕੀਤਾ ਜਾਂਦਾ ਹੈ, ਉਸ ਨੂੰ ਬਾਜ਼ਾਰ ਵਿੱਚ ਰੱਖਿਆ ਜਾਂਦਾ ਹੈ ਜਾਂ ਬਾਜ਼ਾਰ ਵਿੱਚ ਵਿਕਰੀ ਲਈ ਪੇਸ਼ ਕੀਤਾ ਜਾਂਦਾ ਹੈ। ਜਦੋਂ ਵੀ ਅਤੇ ਜਿੱਥੇ ਵੀ ਅਸੀਂ ਕੋਈ ਚੀਜ਼ ਲੈਣਾ ਚਾਹੁੰਦੇ ਹਾਂ, ਅਸੀਂ ਬਾਜ਼ਾਰ ਜਾ ਕੇ ਉਸ ਚੀਜ਼ ਨੂੰ ਖਰੀਦ ਲੈਂਦੇ ਹਾਂ। ਇਹ ਸਾਬਣ, ਸ਼ੈਂਪੂ, ਕੱਪੜਾ ਆਦਿ ਹੋ ਸਕਦਾ ਹੈ।

ਉਦੇਸ਼

- ਇਸ ਪਾਠ ਨੂੰ ਪੂਰਾ ਕਰਨ ਤੋਂ ਬਾਅਦ, ਤੁਸੀਂ ਇਹ ਕਰਨ ਦੇ ਯੋਗ ਹੋਵੋਗੇ:
- ਬਾਜ਼ਾਰ ਦਾ ਅਰਥ ਸਮਝੋਗੇ;
- ਬਾਜ਼ਾਰ ਦੀ ਬਣਤਰ ਨੂੰ ਸਮਝੋਗੇ;
- ਵੰਡ ਦੇ ਚੈਨਲਾਂ ਦੇ ਆਧਾਰ 'ਤੇ ਬਾਜ਼ਾਰਾਂ ਨੂੰ ਵੱਖਰਾ ਕਰ ਸਕੋਗੇ;
- ਔਨਲਾਈਨ ਬਾਜ਼ਾਰ ਦਾ ਅਰਥ ਸਮਝੋਗੇ।

12.1 ਬਾਜ਼ਾਰ ਦਾ

ਆਮ ਤੌਰ 'ਤੇ, ਬਾਜ਼ਾਰ ਸ਼ਬਦ ਉਸ ਜਗ੍ਹਾ ਨੂੰ ਦਰਸਾਉਂਦਾ ਹੈ, ਜਿੱਥੇ ਚੀਜ਼ਾਂ ਖਰੀਦੀਆਂ ਅਤੇ ਵੇਚੀਆਂ ਜਾਂਦੀਆਂ ਹਨ, ਜਿਵੇਂ ਕਿ ਵੱਡੇ ਬਾਜ਼ਾਰ, ਦਿੱਲੀ ਵਿੱਚ ਚਾਂਦਨੀ ਚੌਕ, ਮੁੰਬਈ ਵਿੱਚ ਫੈਸ਼ਨ ਸਟ੍ਰੀਟ ਅਤੇ ਹੋਰ ਬਹੁਤ ਸਾਰੇ। ਬਾਜ਼ਾਰ ਨੂੰ ਕਿਸੇ ਖਾਸ ਥਾਂ ਤੱਕ ਸੀਮਤ ਨਹੀਂ ਰੱਖਣਾ ਚਾਹੀਦਾ। ਅਰਥ ਸ਼ਾਸਤਰ ਵਿੱਚ ਬਾਜ਼ਾਰ ਖਰੀਦਦਾਰਾਂ ਅਤੇ ਵੇਚਣ ਵਾਲਿਆਂ ਦੇ ਨਿੱਜੀ ਸੰਪਰਕ ਤੋਂ ਬਿਨਾਂ ਵੀ ਮੌਜੂਦ ਹੋ ਸਕਦਾ ਹੈ। ਇਸ ਤਰ੍ਹਾਂ, "ਮਾਰਕੀਟ ਇੱਕ ਦਿੱਤੇ ਖੇਤਰ ਵਿੱਚ ਪ੍ਰਬੰਧ ਨੂੰ ਦਰਸਾਉਂਦਾ ਹੈ ਜਿਸ ਵਿੱਚ ਖਰੀਦਦਾਰ ਅਤੇ ਵਿਕਰੇਤਾ ਇੱਕ ਦੂਜੇ ਦੇ ਸੰਪਰਕ ਵਿੱਚ ਸਿੱਧੇ ਜਾਂ ਅਸਿੱਧੇ ਰੂਪ ਵਿੱਚ ਵਸਤਾਂ ਨੂੰ ਖਰੀਦਣ ਜਾਂ ਵੇਚਣ ਲਈ ਆਉਂਦੇ ਹਨ।" ਇਹ ਪਰਿਭਾਸ਼ਾ ਦਰਸਾਉਂਦੀ ਹੈ ਕਿ ਬਾਜ਼ਾਰ ਲਈ ਆਹਮੇ-ਸਾਹਮਣੇ ਸੰਪਰਕ ਜ਼ਰੂਰੀ ਨਹੀਂ ਹੈ। ਖਰੀਦਦਾਰ ਅਤੇ ਵਿਕਰੇਤਾ ਏਜੰਟਾਂ, ਟੈਲੀਫੋਨ, ਮੇਬਾਈਲ ਜਾਂ ਇੰਟਰਨੈੱਟ ਰਾਹੀਂ ਅਸਿੱਧੇ ਤੌਰ 'ਤੇ ਆਪਣਾ ਲੈਣ-ਦੇਣ ਕਰ ਸਕਦੇ ਹਨ। ਖਰੀਦਦਾਰ ਅਤੇ ਵਿਕਰੇਤਾ

ਮੌਡਿਊਲ: 4

ਵਸਤਾਂ ਅਤੇ ਸੇਵਾਵਾਂ ਦੀ ਵੰਡ



ਨੋਟ

ਵਸਤਾਂ ਅਤੇ ਸੇਵਾਵਾਂ ਦੀ ਵੰਡ



ਨੋਟ

ਜੇ ਵੀ ਤਰੀਕੇ ਨਾਲ ਆਪਸ ਵਿੱਚ ਗੱਲਬਾਤ ਕਰਦੇ ਹਨ, ਉਹ ਪੈਸੇ ਲਈ ਚੀਜ਼ਾਂ ਅਤੇ ਸੇਵਾਵਾਂ ਦਾ ਆਦਾਨ-ਪ੍ਰਦਾਨ ਕਰਨ ਲਈ ਅਜਿਹਾ ਕਰਦੇ ਹਨ। ਇਸ ਪ੍ਰਕਿਰਿਆ ਵਿੱਚ, ਵਪਾਰ ਕੀਤੇ ਗਏ ਸਾਮਾਨ ਅਤੇ ਸੇਵਾਵਾਂ ਦੀ ਕੀਮਤ ਅਤੇ ਮਾਤਰਾ ਵੀ ਨਿਰਧਾਰਤ ਕੀਤੀ ਜਾਂਦੀ ਹੈ।

“ਇਸ ਤਰ੍ਹਾਂ, ਬਾਜ਼ਾਰ ਇੱਕ ਵਿਧੀ ਜਾਂ ਪ੍ਰਣਾਲੀ ਹੈ ਜਿਸ ਦੁਆਰਾ ਖਰੀਦਦਾਰ ਅਤੇ ਵਿਕਰੇਤਾ ਕਿਸੇ ਵਸਤੂ ਜਾਂ ਸੇਵਾ ਦੀ ਕੀਮਤ ਅਤੇ ਮਾਤਰਾ ਨੂੰ ਨਿਰਧਾਰਤ ਕਰਨ ਲਈ ਆਪਸ ਵਿੱਚ ਗੱਲਬਾਤ ਕਰਦੇ ਹਨ।”

ਬਾਜ਼ਾਰ ਦੀਆਂ ਮਹੱਤਵਪੂਰਨ ਵਿਸ਼ੇਸ਼ਤਾਵਾਂ

ਉੱਪਰ ਦੱਸੀ ਗਈ ਪਰਿਭਾਸ਼ਾ ਦੇ ਅਨੁਸਾਰ, ਇੱਕ ਬਾਜ਼ਾਰ ਵਿੱਚ ਹੇਠ ਲਿਖੀਆਂ ਵਿਸ਼ੇਸ਼ਤਾਵਾਂ ਹਨ:

1. ਵਸਤੂ, ਭਾਵ, ਇੱਕ ਵਸਤੂ ਹੋਣੀ ਚਾਹੀਦੀ ਹੈ ਜਿਸਦੀ ਮੰਗ ਕੀਤੀ ਜਾ ਰਹੀ ਹੈ ਅਤੇ ਉਸ ਨੂੰ ਵੇਚਿਆ ਜਾ ਰਿਹਾ ਹੈ।
2. ਖਰੀਦਦਾਰ ਅਤੇ ਵੇਚਣ ਵਾਲੇ, ਭਾਵ, ਵਸਤੂ ਦੇ ਖਰੀਦਦਾਰ ਅਤੇ ਵੇਚਣ ਵਾਲੇ ਹੋਣੇ ਚਾਹੀਦੇ ਹਨ।
3. ਸੰਚਾਰ, ਭਾਵ, ਖਰੀਦਦਾਰਾਂ ਅਤੇ ਵੇਚਣ ਵਾਲਿਆਂ ਵਿਚਕਾਰ ਸੰਚਾਰ ਹੋਣਾ ਚਾਹੀਦਾ ਹੈ।

ਪਾਠ ਅਧੀਨ ਪ੍ਰਸ਼ਨ 12.1

ਖਾਲੀ ਸਥਾਨਾਂ ਨੂੰ ਭਰੋ:

1. ਬਾਜ਼ਾਰ ਦੀ ਹੋਂਦ ਉੱਥੇ ਹੁੰਦੀ ਹੈ ਜਿੱਥੇ ਖਰੀਦਦਾਰਾਂ ਅਤੇ ਵਿਕਰੇਤਾਵਾਂ ਵਿਚਕਾਰ-----
----ਹੁੰਦਾ ਹੈ।
2. ਖਰੀਦਦਾਰ ਅਤੇ ਵਿਕਰੇਤਾ-----ਵਿੱਚ ਹੁੰਦਾ ਹੈ।
3. -----ਅਤੇ -----ਦੀ ਪ੍ਰਕਿਰਿਆ ਬਾਜ਼ਾਰ ਵਿੱਚ ਨਾਲ ਨਾਲ ਹੁੰਦੀ ਹੈ।
4. ਬਾਜ਼ਾਰ ਵਿੱਚ ਖਰੀਦਦਾਰ ਅਤੇ ਵਿਕਰੇਤਾਵਾਂ ਦੀ ਹੋਂਦ, ਉਨ੍ਹਾਂ ਵਿਚਕਾਰ ਸੰਪਰਕ ਅਤੇ
-----ਹੁੰਦੇ ਹਨ।

12.2 ਬਾਜ਼ਾਰ ਦਾ ਢਾਂਚਾ

"ਬਾਜ਼ਾਰ ਦੇ ਢਾਂਚੇ" ਤੋਂ ਸਾਡਾ ਮਤਲਬ ਉਤਪਾਦ ਦੀ ਪ੍ਰਕਿਰਤੀ, ਬਾਜ਼ਾਰ ਵਿੱਚ ਵੇਚਣ ਵਾਲਿਆਂ ਅਤੇ ਖਰੀਦਦਾਰਾਂ ਦੀ ਗਿਣਤੀ ਆਦਿ ਹੈ। ਇਸ ਆਧਾਰ 'ਤੇ ਅਸੀਂ ਬਾਜ਼ਾਰ ਦੇ ਦੋ ਰੂਪ ਦੇ ਸਕਦੇ ਹਾਂ:

1. ਏਕਾਧਿਕਾਰ ਬਾਜ਼ਾਰ
2. ਪੂਰੀ ਤਰ੍ਹਾਂ ਪ੍ਰਤੀਯੋਗੀ ਬਾਜ਼ਾਰ

12.2.1 ਏਕਾਧਿਕਾਰ (Monopoly)

"Monopoly" ਸ਼ਬਦ ਦੀ ਉਤਪਤੀ ਦੋ ਯੂਨਾਨੀ ਸ਼ਬਦਾਂ 'MONOS' ਅਤੇ 'POLUS' ਤੋਂ ਹੋਈ ਹੈ। 'MONOS' ਦਾ ਅਰਥ ਹੈ ਇੱਕ ਅਤੇ 'POLUS' ਦਾ ਅਰਥ ਹੈ ਵਿਕਰੇਤਾ। ਇਸ ਲਈ "Monopoly" ਦਾ ਅਰਥ ਹੈ ਇੱਕ ਵਿਕਰੇਤਾ। ਏਕਾਧਿਕਾਰ ਇੱਕ ਬਾਜ਼ਾਰ ਢਾਂਚਾ ਹੈ ਜਿਸ ਵਿੱਚ ਇੱਕ ਇਕਹਿਰੀ ਫਰਮ ਸਾਰਾ ਉਤਪਾਦਨ ਕਰਦੀ ਹੈ ਅਤੇ ਏਕਾਧਿਕਾਰ ਦੁਆਰਾ ਵੇਚੇ ਗਏ ਉਤਪਾਦ ਦਾ ਕੋਈ ਨਜ਼ਦੀਕੀ ਵਿਕਲਪ ਨਹੀਂ ਹੁੰਦਾ, ਇਸ ਤਰ੍ਹਾਂ ਇਸ ਵਿੱਚ ਕਿਸੇ ਵੀ ਕਿਸਮ ਦਾ ਮੁਕਾਬਲੇ ਨਹੀਂ ਹੁੰਦਾ ਹੈ। ਇਸ ਮਾਰਕੀਟ ਵਿੱਚ ਵਿਕਰੇਤਾ ਨੂੰ ਕਿਸੇ ਮੁਕਾਬਲੇ ਦਾ ਸਾਹਮਣਾ ਨਹੀਂ ਕਰਨਾ ਪੈਂਦਾ ਕਿਉਂਕਿ ਉਹ ਜੋ ਉਤਪਾਦ ਵੇਚ ਰਿਹਾ ਹੈ ਉਸ ਦੇ ਕੋਈ ਹੋਰ ਵਿਕਰੇਤਾ ਨਹੀਂ ਹਨ। ਵਿਕਰੇਤਾ ਖਪਤਕਾਰਾਂ ਨੂੰ ਆਪਣੇ ਉਤਪਾਦ ਉੱਚ ਕੀਮਤ 'ਤੇ ਵੇਚਣ ਦੀ ਸਥਿਤੀ ਵਿੱਚ ਹੁੰਦਾ ਹੈ। ਉਦਾਹਰਨ: ਭਾਰਤ ਵਿੱਚ ਪਰਮਾਣੂ ਊਰਜਾ, ਰੱਖਿਆ, ਜਨਤਕ ਜਲ ਸਪਲਾਈ ਪ੍ਰਣਾਲੀ, ਰੇਲਵੇ ਆਦਿ ਵਿੱਚ ਸਰਕਾਰ ਦਾ ਏਕਾਧਿਕਾਰ ਹੈ।

ਏਕਾਧਿਕਾਰ ਦੀਆਂ ਵਿਸ਼ੇਸ਼ਤਾਵਾਂ

- (i) **ਇਕਹਿਰੀ ਫਰਮ:** ਏਕਾਧਿਕਾਰ ਸਿਰਫ਼ ਵਸਤੂ ਉਤਪਾਦਕ ਹੈ। ਉਸਦਾ ਕੋਈ ਪ੍ਰਤੀਯੋਗੀ ਨਹੀਂ ਹੈ। ਉਹ ਇਕੱਲਾ ਹੀ ਹੈ ਜੋ ਆਪਣੀ ਵਸਤੂ ਨਾਲ ਬਾਜ਼ਾਰ 'ਤੇ ਰਾਜ ਕਰਦਾ ਹੈ।
- (ii) **ਵਸਤੂ ਦਾ ਕੋਈ ਨਜ਼ਦੀਕੀ ਵਿਕਲਪ ਨਹੀਂ:** ਏਕਾਧਿਕਾਰ ਦੁਆਰਾ ਪੈਦਾ ਕੀਤੀ ਵਸਤੂ ਦਾ ਕੋਈ ਨਜ਼ਦੀਕੀ ਵਿਕਲਪ ਉਪਲੱਬਧ ਨਹੀਂ ਹੈ। "ਨਜ਼ਦੀਕੀ ਵਿਕਲਪ" ਦਾ ਅਰਥ ਹੈ ਸਮਾਨ ਵਰਤੋਂ ਵਾਲਾ ਕੋਈ ਹੋਰ ਸਮਾਨ ਉਤਪਾਦ। ਏਕਾਧਿਕਾਰ ਇੱਕ ਖਾਸ ਬਾਜ਼ਾਰ ਵਿੱਚ ਸਾਰਾ ਉਤਪਾਦਨ ਕਰਦਾ ਹੈ।

ਮੈਂਡਿਊਲ: 4

ਵਸਤਾਂ ਅਤੇ ਸੇਵਾਵਾਂ ਦੀ
ਵੰਡ



ਨੋਟ

ਵਸਤਾਂ ਅਤੇ ਸੇਵਾਵਾਂ ਦੀ
ਵੱਡ



ਨੋਟ

(iii) **ਕੀਮਤ ਨਿਰਧਾਰਕ:** ਮੰਡੀ ਵਿਚ ਵਸਤੂ ਦਾ ਇਕੱਲਾ ਵਿਕਰੇਤਾ ਹੋਣ ਕਰਕੇ ਏਕਾਧਿਕਾਰ ਵਸਤੂ ਦੀ ਕੀਮਤ ਨਿਰਧਾਰਤ ਕਰਦਾ ਹੈ ਕਿਉਂਕਿ ਉਸ ਦੀ ਕੀਮਤ ਨੂੰ ਚੁਣੌਤੀ ਦੇਣ ਵਾਲਾ ਕੋਈ ਨਹੀਂ ਹੁੰਦਾ। ਏਕਾਧਿਕਾਰ ਇੱਕ 'ਕੀਮਤ ਨਿਰਮਾਤਾ' ਹੈ। ਇਸ ਦਾ ਇਹ ਮਤਲਬ ਨਹੀਂ ਹੈ ਕਿ ਏਕਾਧਿਕਾਰ ਕੀਮਤ ਅਤੇ ਮੰਗੀ ਗਈ ਮਾਤਰਾ ਦੋਵਾਂ ਨੂੰ ਤੈਅ ਕਰ ਸਕਦਾ ਹੈ। ਜੇਕਰ ਉਹ ਉੱਚ ਕੀਮਤ ਤੈਅ ਕਰਦਾ ਹੈ, ਤਾਂ ਵਸਤੂ ਦੀ ਘੱਟ ਮਾਤਰਾ ਦੀ ਮੰਗ ਕੀਤੀ ਜਾਵੇਗੀ।

(iv) **ਨਵੀਂ ਫਰਮ ਦੀ ਕੋਈ ਐਂਟਰੀ ਨਹੀਂ:** ਨਵੀਆਂ ਫਰਮਾਂ ਲਈ ਮਾਰਕੀਟ ਵਿੱਚ ਦਾਖਲ ਹੋਣਾ ਅਤੇ ਇਕਹਿਰੇ ਵਿਕਰੇਤਾ ਨਾਲ ਮੁਕਾਬਲਾ ਕਰਨਾ ਸੰਭਵ ਨਹੀਂ ਹੈ। ਇਕਹਿਰਾ ਵਿਕਰੇਤਾ ਜਾਂ ਫਰਮ ਹੋਣ ਕਰਕੇ, ਏਕਾਧਿਕਾਰ ਅਧੀਨ ਫਰਮ ਅਤੇ ਉਦਯੋਗ ਵਿੱਚ ਕੋਈ ਅੰਤਰ ਨਹੀਂ ਹੈ।

(v) ਏਕਾਧਿਕਾਰ ਦਾ ਉਦੇਸ਼ ਵੱਧ ਤੋਂ ਵੱਧ ਮੁਨਾਫ਼ਾ ਕਮਾਉਣਾ ਹੈ।

12.2.2 ਪੂਰੀ ਤਰ੍ਹਾਂ ਪ੍ਰਤੀਯੋਗੀ ਬਾਜ਼ਾਰ ਜਾਂ ਸੰਪੂਰਨ ਮੁਕਾਬਲਾ

ਏਕਾਧਿਕਾਰ ਬਾਜ਼ਾਰ ਦੀ ਦੂਜੀ ਉੱਚਤਮ ਸਥਿਤੀ ਨੂੰ ਪੂਰੀ ਤਰ੍ਹਾਂ ਪ੍ਰਤੀਯੋਗੀ ਬਾਜ਼ਾਰ ਜਾਂ ਸੰਪੂਰਨ ਮੁਕਾਬਲਾ ਕਿਹਾ ਜਾਂਦਾ ਹੈ।

ਸੰਪੂਰਣ ਮੁਕਾਬਲੇ ਦੀਆਂ ਵਿਸ਼ੇਸ਼ਤਾਵਾਂ

(i) **ਵਿਕਰੇਤਾਵਾਂ ਅਤੇ ਖਰੀਦਦਾਰਾਂ ਦੀ ਵੱਡੀ ਗਿਣਤੀ** - ਏਕਾਧਿਕਾਰ ਬਾਜ਼ਾਰ ਦੇ ਮੁਕਾਬਲੇ, ਇੱਕ ਪ੍ਰਤੀਯੋਗੀ ਬਾਜ਼ਾਰ ਵਿੱਚ ਵੱਡੀ ਗਿਣਤੀ ਵਿੱਚ ਖਰੀਦਦਾਰਾਂ ਨੂੰ ਵਸਤੂ ਵੇਚਣ ਵਾਲੇ ਵਿਕਰੇਤਾ ਹੁੰਦੇ ਹਨ।

(ii) **ਸਮਰੂਪ ਉਤਪਾਦ:** ਸੰਪੂਰਨ ਮੁਕਾਬਲੇ ਤਹਿਤ ਕੇਵਲ ਇੱਕ ਉਤਪਾਦ ਵੇਚਿਆ ਜਾਂਦਾ ਹੈ। ਇਸਦਾ ਮਤਲਬ ਹੈ ਕਿ ਸਾਰੇ ਵਿਕਰੇਤਾ ਖਰੀਦਦਾਰਾਂ ਨੂੰ ਇੱਕੋ ਕਿਸਮ ਦਾ ਉਤਪਾਦ ਵੇਚਦੇ ਹਨ। ਇਸ ਲਈ ਉਤਪਾਦ ਇੱਕ ਸੰਪੂਰਣ ਵਿਕਲਪ ਹੈ।

(iii) **ਮੁਫਤ ਪ੍ਰਵੇਸ਼ ਅਤੇ ਨਿਕਾਸ:** ਸੰਪੂਰਨ ਮੁਕਾਬਲੇ ਤਹਿਤ ਕਿਸੇ ਵੀ ਨਵੀਂ ਫਰਮ ਜਾਂ ਉਤਪਾਦਕ ਨੂੰ ਉਤਪਾਦ ਵੇਚਣ ਜਾਂ ਪੈਦਾ ਕਰਨ ਲਈ ਬਾਜ਼ਾਰ ਵਿੱਚ ਦਾਖਲ ਹੋਣ ਲਈ ਕੋਈ ਰੋਕ ਨਹੀਂ ਹੈ। ਇਸੇ ਤਰ੍ਹਾਂ ਜੇਕਰ ਕੋਈ ਮੌਜੂਦਾ ਵਿਕਰੇਤਾ ਬਾਹਰ ਨਿਕਲਣਾ ਚਾਹੁੰਦਾ ਹੈ ਤਾਂ ਉਹ ਅਜਿਹਾ ਕਰਨ ਲਈ ਸੁਤੰਤਰ ਹੈ।

(iv) ਹਰ ਵਿਕਰੇਤਾ ਵੱਧ ਤੋਂ ਵੱਧ ਲਾਭ ਕਮਾਉਣਾ ਚਾਹੁੰਦਾ ਹੈ।

v) ਸਰਕਾਰ ਦੀ ਭੂਮਿਕਾ ਵਿਕਰੇਤਾਵਾਂ ਨੂੰ ਸੁਰੱਖਿਆ ਪ੍ਰਦਾਨ ਕਰਨਾ ਅਤੇ ਕਾਰੋਬਾਰ ਵਿੱਚ ਦਖਲ ਨਾ ਦੇਣਾ ਹੈ।

(vi) ਸੰਪੂਰਨ ਮੁਕਾਬਲੇ ਤਹਿਤ ਵਿਕਰੇਤਾਵਾਂ ਅਤੇ ਖਰੀਦਦਾਰਾਂ ਨੂੰ ਉਤਪਾਦ ਬਾਰੇ ਸੰਪੂਰਨ ਜਾਣਕਾਰੀ ਹੁੰਦੀ ਹੈ।

(vii) ਕੰਮ ਕਰਨ ਲਈ ਇੱਕ ਉਤਪਾਦਨ ਯੂਨਿਟ ਤੋਂ ਦੂਜੀ ਵਿੱਚ ਜਾਣ ਲਈ ਕਿਰਤ ਆਦਿ ਵਰਗੇ ਉਤਪਾਦਨ ਦੇ ਕਾਰਕਾਂ 'ਤੇ ਕੋਈ ਰੋਕ ਨਹੀਂ ਹੈ।

ਵਾਸਤਵਿਕ ਦੁਨੀਆ ਦੀ ਸਥਿਤੀ ਵਿੱਚ ਬਾਜ਼ਾਰ ਦਾ ਢਾਂਚਾ

ਏਕਾਧਿਕਾਰ ਜਾਂ ਸੰਪੂਰਨ ਮੁਕਾਬਲੇ ਦੀ ਸਥਿਤੀ ਵਾਸਤਵਿਕ ਦੁਨੀਆ ਵਿੱਚ ਨਹੀਂ ਵੇਖੀ ਜਾਂਦੀ। ਕਾਨੂੰਨ ਅਨੁਸਾਰ ਨਿੱਜੀ ਏਕਾਧਿਕਾਰ ਦੀ ਇਜਾਜ਼ਤ ਨਹੀਂ ਹੈ। ਸਿਰਫ਼ ਸਰਕਾਰ ਦਾ ਏਕਾਧਿਕਾਰ ਹੀ ਮੌਜੂਦ ਹੈ। ਅੱਜ-ਕੱਲ੍ਹ ਮਾਰਕੀਟ ਇੱਕੋ ਉਤਪਾਦ ਦੀਆਂ ਇੰਨੀਆਂ ਕਿਸਮਾਂ ਨਾਲ ਭਰੀ ਹੋਈ ਹੈ ਕਿ ਅਸਲ ਅਰਥਾਂ ਵਿੱਚ ਸੰਪੂਰਨ ਮੁਕਾਬਲਾ ਵੀ ਮੌਜੂਦ ਨਹੀਂ ਹੈ। “ਸਾਬਣ” ਦੀ ਉਦਾਹਰਨ ਲਓ – ਇੱਕ ਉਤਪਾਦ ਜਿਸਦੀ ਵਰਤੋਂ ਨਹਾਉਣ ਜਾਂ ਹੱਥ ਧੋਣ ਲਈ ਕੀਤੀ ਜਾਂਦੀ ਹੈ। ਸੰਪੂਰਨ ਮੁਕਾਬਲੇ ਦੇ ਤਹਿਤ ਇਹ ਉਮੀਦ ਕੀਤੀ ਜਾਂਦੀ ਹੈ ਕਿ ਬਹੁਤ ਸਾਰੇ ਵਿਕਰੇਤਾਵਾਂ ਦੁਆਰਾ ਸਿਰਫ਼ ਇੱਕ ਕਿਸਮ ਦਾ ਸਾਬਣ ਵੇਚਿਆ ਜਾਵੇਗਾ। ਪਰ ਅਸਲ ਵਿੱਚ ਸਾਡੇ ਕੋਲ ਬਾਜ਼ਾਰ ਵਿੱਚ ਵੱਖ-ਵੱਖ ਬ੍ਰਾਂਡਾਂ ਦੇ ਸਾਬਣ ਉਪਲੱਬਧ ਹਨ ਅਤੇ ਵੱਖ-ਵੱਖ ਫਰਮਾਂ ਜਿਵੇਂ ਕਿ ਲਕਸ, ਡਵ, ਲਿਰਿਲ, ਗੇਦਰੇਜ, ਨੀਮ, ਮੈਸੂਰ ਸੈਂਡਲ, ਜੋਹਨਸਨ, ਹਮਾਮ, ਡੈਟੇਲ, ਲਾਈਫਬੁਆਏ ਆਦਿ ਦੁਆਰਾ ਵੇਚੇ ਜਾਂਦੇ ਹਨ, ਇਹ ਸਾਰੇ ਇੱਕੋ ਉਦੇਸ਼ ਲਈ ਵਰਤੇ ਜਾਂਦੇ ਹਨ | ਭਾਵ ਇਸ਼ਨਾਨ ਕਰਨਾ। ਪਰ ਇਹ ਰੰਗ, ਪੈਕੇਜਿੰਗ, ਖੁਸ਼ਬੂ ਆਦਿ ਦੇ ਰੂਪ ਵਿੱਚ ਵੱਖਰੇ ਹਨ। ਇਹ ਸਾਰੇ ਵਿਕਰੇਤਾ ਆਪਣੇ ਕਿਸਮ ਦੇ ਸਾਬਣ ਨੂੰ ਵੇਚਣ ਲਈ ਇਸ਼ਤਿਹਾਰਾਂ 'ਤੇ ਭਾਰੀ ਖਰਚ ਵੀ ਕਰਦੇ ਹਨ। ਸੰਪੂਰਨ ਮੁਕਾਬਲੇ ਦੇ ਉਲਟ ਜਿੱਥੇ ਬਹੁਤ ਸਾਰੇ ਵਿਕਰੇਤਾ ਬਿਨਾਂ ਕਿਸੇ ਇਸ਼ਤਿਹਾਰ ਦੇ ਇੱਕ ਉਤਪਾਦ ਵੇਚ ਰਹੇ ਹਨ, ਇਸ ਮਾਮਲੇ ਵਿੱਚ ਬਹੁਤ ਸਾਰੇ ਵਿਕਰੇਤਾ ਵਿਸ਼ੇਸ਼ ਉਤਪਾਦ ਦੀਆਂ ਵੱਖੇ ਵੱਖਰੀਆਂ ਕਿਸਮਾਂ ਨੂੰ ਵੇਚ ਰਹੇ ਹਨ। ਇਸ ਲਈ ਅਸੀਂ ਇਹ ਨਹੀਂ ਕਹਿ ਸਕਦੇ ਕਿ ਇਸ ਕਿਸਮ ਦੀ ਮਾਰਕੀਟ ਪੂਰੀ ਤਰ੍ਹਾਂ ਪ੍ਰਤੀਯੋਗੀ ਹੈ। ਇਸ ਕਿਸਮ ਦੀ ਮੰਡੀ ਨੂੰ ਏਕਾਧਿਕਾਰ ਜਾਂ ਅਪੂਰਨ ਮੁਕਾਬਲਾ ਕਿਹਾ ਜਾਂਦਾ ਹੈ।

ਮੌਡਿਊਲ: 4

ਵਸਤਾਂ ਅਤੇ ਸੇਵਾਵਾਂ ਦੀ ਵੰਡ



ਨੋਟ



ਨੋਟ

ਪਾਠ ਅਧੀਨ ਪ੍ਰਸ਼ਨ 12.2

1. ਏਕਾਧਿਕਾਰ ਤੋਂ ਕੀ ਭਾਵ ਹੈ?
2. ਭਾਰਤ ਵਿੱਚ ਏਕਾਧਿਕਾਰ ਦੀਆਂ ਦੋ ਉਦਾਹਰਣਾਂ ਦਿਓ?
3. ਏਕਾਧਿਕਾਰ ਅਧੀਨ ਫਰਮ ਅਤੇ ਉਦਯੋਗ ਵਿੱਚ ਕੋਈ ਅੰਤਰ ਕਿਉਂ ਨਹੀਂ ਹੈ?
4. ਕੀ ਏਕਾਧਿਕਾਰ ਫਰਮ ਕੀਮਤ ਨਿਰਮਾਤਾ ਜਾਂ ਕੀਮਤ ਲੈਣ ਵਾਲੀ ਹੈ?
5. ਸੰਪੂਰਨ ਮੁਕਾਬਲੇ ਤਹਿਤ "ਮੁਫਤ ਦਾਖਲੇ" ਤੋਂ ਤੁਹਾਡਾ ਕੀ ਮਤਲਬ ਹੈ?
6. ਹਾਂ ਜਾਂ ਨਾਂਹ ਵਿੱਚ ਉੱਤਰ ਦਿਓ:
 - (ੳ) ਸੰਪੂਰਨ ਮੁਕਾਬਲੇ ਵਿੱਚ ਇੱਕ ਵਿਕਰੇਤਾ ਹੁੰਦਾ ਹੈ।
 - (ਅ) ਸੰਪੂਰਨ ਮੁਕਾਬਲੇ ਤਹਿਤ ਵੱਖ-ਵੱਖ ਸਾਮਾਨ ਵੇਚਿਆ ਜਾਂਦਾ ਹੈ।
 - (ੲ) ਸਰਕਾਰ ਸੰਪੂਰਨ ਮੁਕਾਬਲੇ ਅਧੀਨ ਉਤਪਾਦਨ ਵਿੱਚ ਦਖਲ ਦਿੰਦੀ ਹੈ।
 - (ਸ) ਉਤਪਾਦ ਸੰਪੂਰਨ ਮੁਕਾਬਲੇ ਦੇ ਅਧੀਨ ਸਹੀ ਵਿਕਲਪ ਹਨ।
 - (ਹ) ਖਰੀਦਦਾਰਾਂ ਨੂੰ ਸੰਪੂਰਨ ਮੁਕਾਬਲੇ ਅਧੀਨ ਉਤਪਾਦ ਬਾਰੇ ਸੰਪੂਰਨ ਗਿਆਨ ਹੁੰਦਾ ਹੈ।

12.3 ਵੰਡ ਦੇ ਸਾਧਨਾਂ ਜਾਂ ਵਿਕਰੀ ਦੀ ਮਾਤਰਾ ਦੇ ਆਧਾਰ 'ਤੇ ਬਾਜ਼ਾਰਾਂ ਦਾ

ਵੰਡ ਦੇ ਸਾਧਨਾਂ ਜਾਂ ਵਿਕਰੀ ਦੀ ਮਾਤਰਾ ਦੇ ਆਧਾਰ 'ਤੇ, ਬਾਜ਼ਾਰਾਂ ਨੂੰ ਇਹਨਾਂ ਵਿੱਚ ਸ਼੍ਰੇਣੀਬੱਧ ਕੀਤਾ ਗਿਆ ਹੈ:

(ੳ) ਥੋਕ ਬਾਜ਼ਾਰ

(ਅ) ਪ੍ਰਚੂਨ ਬਾਜ਼ਾਰ।

(ੳ) ਥੋਕ ਬਾਜ਼ਾਰ

ਇੱਕ ਥੋਕ ਵਿਕਰੇਤਾ ਇੱਕ ਵਿਤਰਕ ਜਾਂ ਵਿਚੇਲਾ ਹੁੰਦਾ ਹੈ ਜੋ ਖਪਤਕਾਰਾਂ ਦੀ ਬਜਾਏ ਮੁੱਖ ਤੌਰ 'ਤੇ ਰਿਟੇਲਰਾਂ ਅਤੇ ਸੰਸਥਾਵਾਂ ਨੂੰ ਵੇਚਦਾ ਹੈ। ਜਦੋਂ ਕਿਸੇ ਮੰਡੀ ਵਿੱਚ ਵਸਤਾਂ ਦਾ ਲੈਣ-ਦੇਣ ਵੱਡੀ ਮਾਤਰਾ ਵਿੱਚ ਹੁੰਦਾ ਹੈ ਤਾਂ ਇਸਨੂੰ ਥੋਕ ਮੰਡੀ ਕਿਹਾ ਜਾਂਦਾ ਹੈ। ਥੋਕ ਵਿਕਰੇਤਾ ਆਮ ਤੌਰ 'ਤੇ ਛੋਟੀ ਮਾਤਰਾ ਵਿੱਚ ਮਾਲ ਨਹੀਂ ਵੇਚਦੇ। ਉਹ ਆਮ ਤੌਰ 'ਤੇ ਰਿਟੇਲਰਾਂ ਨੂੰ ਵੇਚਦੇ ਹਨ। ਥੋਕ ਵਿਕਰੇਤਾ ਨਿਰਮਾਤਾਵਾਂ ਅਤੇ ਅੰਤਮ ਖਪਤਕਾਰਾਂ ਵਿਚਕਾਰ ਜ਼ਰੂਰੀ ਸੰਪਰਕ ਹੈ। ਇਹ ਥੋਕ

ਬਾਜ਼ਾਰ

ਵਿਕਰੇਤਾਵਾਂ ਦੀ ਮੌਜੂਦਗੀ ਹੈ ਕਿ ਨਿਰਮਾਤਾ ਆਰਾਮ ਖੇਤਰ ਵਿੱਚ ਹਨ ਕਿਉਂਕਿ ਉਹ ਆਪਣੇ ਉਤਪਾਦਾਂ ਨੂੰ ਵੱਡੀ ਮਾਤਰਾ ਵਿੱਚ ਵੇਚ ਸਕਦੇ ਹਨ ਅਤੇ ਕਾਰੋਬਾਰ ਅਤੇ ਉਤਪਾਦਨ 'ਤੇ ਧਿਆਨ ਦੇ ਸਕਦੇ ਹਨ।

(ਅ) ਪ੍ਰਚੂਨ ਬਾਜ਼ਾਰ

ਪ੍ਰਚੂਨ ਵਿੱਚ ਇੱਕ ਨਿਸ਼ਚਿਤ ਸਥਾਨ ਤੋਂ ਭੌਤਿਕ ਵਸਤਾਂ ਜਾਂ ਵਪਾਰਕ ਮਾਲ ਦੀ ਵਿਕਰੀ ਸ਼ਾਮਲ ਹੁੰਦੀ ਹੈ, ਜਿਵੇਂ ਕਿ ਇੱਕ ਡਿਪਾਰਟਮੈਂਟਲ ਸਟੋਰ, ਖਰੀਦਦਾਰ ਦੁਆਰਾ ਸਿੱਧੀ ਖਪਤ ਲਈ ਛੋਟੇ ਜਾਂ ਵਿਅਕਤੀਗਤ ਪੱਧਰ 'ਤੇ ਦੁਕਾਨਦਾਰ। ਪ੍ਰਚੂਨ ਬਾਜ਼ਾਰਾਂ ਵਿੱਚ ਚੀਜ਼ਾਂ ਛੋਟੀ ਮਾਤਰਾ ਵਿੱਚ ਵੇਚੀਆਂ ਜਾਂਦੀਆਂ ਹਨ। ਰਿਟੇਲਰ ਆਮ ਤੌਰ 'ਤੇ ਅੰਤਮ ਖਪਤਕਾਰਾਂ ਨੂੰ ਵੇਚਦੇ ਹਨ।

ਨਿਰਮਾਤਾ → ਥੋਕ ਵਿਕਰੇਤਾ → ਰਿਟੇਲਰ → ਖਪਤਕਾਰ

ਵਸਤਾਂ ਅਤੇ ਸੇਵਾਵਾਂ ਦੀ ਵੰਡ ਦੇ ਚੈਨਲ ਵਿੱਚ ਇੱਕ ਰਿਟੇਲਰ ਦੀ ਸਥਿਤੀ ਸਭ ਤੋਂ ਮਹੱਤਵਪੂਰਨ ਹੁੰਦੀ ਹੈ ਕਿਉਂਕਿ ਇਹ ਅੰਤਮ ਖਪਤਕਾਰਾਂ ਨਾਲ ਅਸਿੱਧੇ ਸੰਪਰਕ ਵਿੱਚ ਹੁੰਦਾ ਹੈ। ਇਸ ਲਈ ਥੋਕ ਕਾਰੋਬਾਰ ਦੇ ਮੁਕਾਬਲੇ ਰਿਟੇਲ ਦੁਕਾਨ ਜਾਂ ਆਊਟਲੈਟ ਦੀ ਸਥਿਤੀ ਬਹੁਤ ਮਹੱਤਵਪੂਰਨ ਹੈ। ਰਿਟੇਲ ਆਊਟਲੈਟ ਰਿਹਾਇਸ਼ੀ ਸਥਾਨਾਂ ਦੇ ਨੇੜੇ ਸਥਿਤ ਹੋਣਾ ਚਾਹੀਦਾ ਹੈ ਤਾਂ ਜੋ ਲੋਕ ਆਸਾਨੀ ਨਾਲ ਚੀਜ਼ਾਂ ਅਤੇ ਸੇਵਾਵਾਂ ਖਰੀਦਣ ਲਈ ਆ ਸਕਣ। ਦੁਕਾਨਦਾਰਾਂ ਨੂੰ ਆਪਣੀਆਂ ਦੁਕਾਨਾਂ ਦੀ ਸਜਾਵਟ ਅਤੇ ਵਸਤਾਂ ਦੀ ਸਹੀ ਪੇਸ਼ਕਾਰੀ 'ਤੇ ਵੀ ਬਹੁਤ ਸਾਰਾ ਖਰਚਾ ਕਰਨਾ ਪੈਂਦਾ ਹੈ ਤਾਂ ਜੋ ਖਪਤਕਾਰ ਪ੍ਰਚੂਨ ਦੁਕਾਨ ਵੱਲ ਆਕਰਸ਼ਿਤ ਹੋ ਸਕਣ।

ਪਾਠ ਅਧੀਨ ਪ੍ਰਸ਼ਨ 12.3

1. ਆਪਣੇ ਇਲਾਕੇ ਵਿੱਚ ਰਿਟੇਲ ਆਊਟਲੈਟ ਦੀਆਂ ਕੁਝ ਉਦਾਹਰਣਾਂ ਦਿਓ।
2. ਥੋਕ ਵਿਕਰੇਤਾ ਨੂੰ ਪਰਿਭਾਸ਼ਿਤ ਕਰੋ।
3. ਰਿਟੇਲਰ ਨੂੰ ਪਰਿਭਾਸ਼ਿਤ ਕਰੋ।
4. ਪ੍ਰਚੂਨ ਬਾਜ਼ਾਰ ਨੂੰ ਪਰਿਭਾਸ਼ਿਤ ਕਰੋ।

12.4 ਐਨਲਾਈਨ ਮਾਰਕੀਟ ਜਾਂ ਐਨਲਾਈਨ ਖਰੀਦਦਾਰੀ

ਇਹ ਇੱਕ ਨਵੀਨ ਪ੍ਰਕਿਰਿਆ ਹੈ ਜਿਸ ਵਿੱਚ ਉਪਭੋਗਤਾ ਸਿੱਧੇ ਤੌਰ 'ਤੇ ਕਿਸੇ ਵਿਕਰੇਤਾ ਤੋਂ ਬਿਨਾਂ ਕਿਸੇ ਵਿਚੋਲੇ ਦੀ ਸੇਵਾ ਦੇ ਇੰਟਰਨੈਟ ਤੋਂ ਚੀਜ਼ਾਂ ਜਾਂ ਸੇਵਾਵਾਂ ਖਰੀਦਦੇ ਹਨ। ਇਸਨੂੰ

ਮੌਡਿਊਲ: 4

ਵਸਤਾਂ ਅਤੇ ਸੇਵਾਵਾਂ ਦੀ ਵੰਡ



ਨੋਟ

ਮੌਡਿਊਲ: 4

ਵਸਤਾਂ ਅਤੇ ਸੇਵਾਵਾਂ ਦੀ ਵੰਡ



ਨੋਟ

ਇਲੈਕਟ੍ਰਾਨਿਕ ਕਾਮਰਸ ਵੀ ਕਿਹਾ ਜਾਂਦਾ ਹੈ। ਹੁਣ ਐਨਲਾਈਨ ਖਰੀਦਦਾਰੀ ਪ੍ਰਸਿੱਧ ਹੋ ਗਈ ਹੈ, ਇਹ ਖਰੀਦਦਾਰੀ ਤਕਨਾਲੋਜੀ ਦੇ ਵਿਕਾਸ ਦੇ ਨਾਲ ਵਿਕਸਤ ਹੋਈ ਹੈ। ਇਸ ਖਰੀਦਦਾਰੀ ਵਿੱਚ ਕੋਈ ਭੁਗਤਾਨ ਕਰਨ ਲਈ ਕ੍ਰੈਡਿਟ ਕਾਰਡ ਜਾਂ ਡੈਬਿਟ ਕਾਰਡ ਦੀ ਵਰਤੋਂ ਕਰ ਸਕਦਾ ਹੈ, ਹਾਲਾਂਕਿ ਕੁਝ ਪ੍ਰਣਾਲੀਆਂ ਉਪਭੋਗਤਾਵਾਂ ਨੂੰ ਖਾਤੇ ਬਣਾਉਣ ਅਤੇ ਵਿਕਲਪਕ ਤਰੀਕਿਆਂ ਨਾਲ ਭੁਗਤਾਨ ਕਰਨ ਦੇ ਯੋਗ ਬਣਾਉਂਦੀਆਂ ਹਨ, ਜਿਵੇਂ ਕਿ:

- ਮੋਬਾਈਲ ਫੋਨਾਂ ਅਤੇ ਲੈਂਡਲਾਈਨਾਂ 'ਤੇ ਬਿਲਿੰਗ
- ਡਿਲੀਵਰੀ 'ਤੇ ਨਕਦ ਅਦਾਇਗੀ
- ਚੈੱਕ
- ਡੈਬਿਟ ਕਾਰਡ
- ਮਨੀ ਆਰਡਰ

ਇੱਕ ਵਾਰ ਭੁਗਤਾਨ ਸਵੀਕਾਰ ਕੀਤੇ ਜਾਣ ਤੋਂ ਬਾਅਦ ਚੀਜ਼ਾਂ ਜਾਂ ਸੇਵਾਵਾਂ ਨੂੰ ਡਾਊਨਲੋਡ ਕਰਨ, ਵੰਡਣ, ਇਨ-ਸਟੋਰ ਪਿਕਿੰਗ ਆਦਿ ਰਾਹੀਂ ਡਿਲੀਵਰ ਕੀਤਾ ਜਾ ਸਕਦਾ ਹੈ।

ਐਨਲਾਈਨ ਸਟੋਰ ਆਮ ਤੌਰ 'ਤੇ ਦਿਨ ਦੇ 24 ਘੰਟੇ ਉਪਲੱਬਧ ਹੁੰਦੇ ਹਨ, ਅਤੇ ਬਹੁਤ ਸਾਰੇ ਖਪਤਕਾਰਾਂ ਕੋਲ ਕੰਮਕਾਜੀ ਸਥਾਨ ਅਤੇ ਘਰ ਦੋਵਾਂ ਵਿੱਚ ਇੰਟਰਨੈੱਟ ਦੀ ਪਹੁੰਚ ਹੁੰਦੀ ਹੈ, ਇਸ ਲਈ ਉਹ ਕਿਸੇ ਵੀ ਸਟੋਰ ਜਾਂ ਦੁਕਾਨ 'ਤੇ ਜਾਣ ਦੀ ਬਜਾਏ, ਉਹ ਸਿਰਫ਼ ਇੰਟਰਨੈੱਟ

ਰਾਹੀਂ ਖਰੀਦਣ ਨੂੰ ਤਰਜੀਹ ਦਿੰਦੇ ਹਨ। ਐਨਲਾਈਨ ਸਟੋਰਾਂ ਨੂੰ ਵਿਕਰੀ ਲਈ ਉਤਪਾਦਾਂ ਦਾ ਵਰਣਨ ਕਰਨਾ ਹੁੰਦਾ ਹੈ। ਵੇਰਵੇ ਨਿਰਦੇਸ਼ਾਂ ਦੇ ਨਾਲ ਟੈਕਸਟ, ਫੋਟੋਆਂ ਅਤੇ ਮਲਟੀਮੀਡੀਆ ਫਾਈਲਾਂ ਦੇ ਨਾਲ ਪੂਰਾ ਵਿਵਰਣ ਹੁੰਦਾ ਹੈ। ਮੌਜੂਦਾ ਸਥਿਤੀ ਵਿੱਚ ਐਨਲਾਈਨ ਖਰੀਦਦਾਰੀ ਰਾਹੀਂ ਕੋਈ ਵੀ ਇੱਕ ਸਮੇਂ ਵਿੱਚ ਕਈ ਤਰ੍ਹਾਂ ਦੀਆਂ ਵਸਤਾਂ ਅਤੇ ਸੇਵਾਵਾਂ ਦੀ ਖਰੀਦਦਾਰੀ ਕਰ ਸਕਦਾ ਹੈ। ਕੁੱਲ ਮਿਲਾ ਕੇ, ਖਰੀਦਦਾਰੀ ਦੇ ਇਸ ਢੰਗ ਨੇ ਹਾਲ ਹੀ ਦੇ ਸਾਲਾਂ ਵਿੱਚ ਬਾਜ਼ਾਰ ਵਿੱਚ ਤਕਨਾਲੋਜੀ ਦੇ ਸੰਪਰਕ ਕਾਰਨ ਮਹੱਤਵ ਪ੍ਰਾਪਤ ਕੀਤਾ ਹੈ।

ਤੁਸੀਂ ਕੀ ਸਿੱਖਿਆ

- ਅਰਥ ਸ਼ਾਸਤਰ ਵਿੱਚ ਬਾਜ਼ਾਰ ਇੱਕ ਦਿੱਤੇ ਖੇਤਰ ਵਿੱਚ ਪ੍ਰਬੰਧ ਨੂੰ ਦਰਸਾਉਂਦਾ ਹੈ ਜਿੱਥੇ ਖਰੀਦਦਾਰ ਅਤੇ ਵਿਕਰੇਤਾ ਮਾਲ ਖਰੀਦਣ ਜਾਂ ਵੇਚਣ ਲਈ ਸਿੱਧੇ ਜਾਂ ਅਸਿੱਧੇ ਰੂਪ ਵਿੱਚ ਇੱਕ ਦੂਜੇ ਦੇ ਸੰਪਰਕ ਵਿੱਚ ਆਉਂਦੇ ਹਨ।

ਬਾਜ਼ਾਰ

- ਏਕਾਧਿਕਾਰ ਅਤੇ ਸੰਪੂਰਨ ਮੁਕਾਬਲਾ ਬਾਜ਼ਾਰ ਢਾਂਚੇ ਦੇ ਸਿਖਰ ਰੂਪ ਹਨ।
- ਏਕਾਧਿਕਾਰ ਇੱਕ ਮਾਰਕੀਟ ਢਾਂਚਾ ਹੈ ਜਿਸ ਵਿੱਚ ਇੱਕ ਫਰਮ ਦਾ ਮਾਰਕੀਟ ਉੱਤੇ ਨਿਯੰਤਰਣ ਹੁੰਦਾ ਹੈ। ਇਹ ਇਕੱਲੇ ਵਿਕਰੇਤਾ ਦਾ ਇੱਕ ਬਾਜ਼ਾਰ ਹੈ, ਜੋ ਇੱਕ ਵਿਲੱਖਣ ਉਤਪਾਦ ਵੇਚਦਾ ਹੈ ਜਿਸਦਾ ਕੋਈ ਨਜ਼ਦੀਕੀ ਵਿਕਲਪ ਉਪਲੱਬਧ ਨਹੀਂ ਹੁੰਦਾ
- ਸੰਪੂਰਨ ਮੁਕਾਬਲਾ ਇੱਕ ਮਾਰਕੀਟ ਢਾਂਚਾ ਹੈ ਜਿੱਥੇ ਬਹੁਤ ਸਾਰੀਆਂ ਫਰਮਾਂ ਇੱਕ ਸਮਾਨ ਉਤਪਾਦ ਵੇਚਦੀਆਂ ਹਨ। ਇਸ ਮਾਰਕੀਟ ਦੇ ਹੇਠਾਂ ਦਾਖਲਾ ਅਤੇ ਨਿਕਾਸ ਮੁਫਤ ਹੈ। ਖਰੀਦਦਾਰਾਂ ਅਤੇ ਵਿਕਰੇਤਾਵਾਂ ਨੂੰ ਮਾਰਕੀਟ ਸਥਿਤੀ ਬਾਰੇ ਸੰਪੂਰਨ ਜਾਣਕਾਰੀ ਹੁੰਦੀ ਹੈ।
- ਥੋਕ ਵਿਕਰੇਤਾ ਇੱਕ ਵਿਤਰਕ ਜਾਂ ਵਿਚੋਲਾ ਹੁੰਦਾ ਹੈ ਜੋ ਖਪਤਕਾਰਾਂ ਦੀ ਬਜਾਏ ਮੁੱਖ ਤੌਰ 'ਤੇ ਰਿਟੇਲਰਾਂ ਅਤੇ ਸੰਸਥਾਵਾਂ ਨੂੰ ਵੇਚਦਾ ਹੈ।
- ਪ੍ਰਚੂਨ ਵਿਕਰੇਤਾ ਉਹ ਹੁੰਦਾ ਹੈ ਜੋ ਵੱਖ-ਵੱਖ ਕਿਸਮਾਂ ਦੀਆਂ ਵਸਤਾਂ ਜਾਂ ਸੇਵਾਵਾਂ ਨੂੰ ਸਿੱਧੇ ਆਮ ਲੋਕਾਂ ਨੂੰ ਵੇਚਦਾ ਹੈ।
- ਐਨਲਾਈਨ ਖਰੀਦਦਾਰੀ ਇੱਕ ਪ੍ਰਕਿਰਿਆ ਹੈ ਜਿਸ ਵਿੱਚ ਖਪਤਕਾਰ ਸਿੱਧੇ ਤੌਰ 'ਤੇ ਵਿਕਰੇਤਾ ਤੋਂ ਸਮਾਨ ਜਾਂ ਸੇਵਾਵਾਂ ਨੂੰ ਬਿਨਾਂ ਕਿਸੇ ਸਮੇਂ ਦੀ ਬਰਬਾਦੀ, ਬਿਨਾਂ ਕਿਸੇ ਵਿਚੋਲੇ ਦੀ ਸੇਵਾ ਦੇ ਕੰਪਿਊਟਰ 'ਤੇ ਇੰਟਰਨੈੱਟ ਰਾਹੀਂ ਖਰੀਦਦੇ ਹਨ।
- ਐਨਲਾਈਨ ਖਰੀਦਦਾਰੀ ਇਲੈਕਟ੍ਰਾਨਿਕ ਕਾਮਰਸ ਦਾ ਇੱਕ ਰੂਪ ਹੈ।

ਪਾਠ ਦੇ ਅੰਤ ਦੇ ਪ੍ਰਸ਼ਨ ਅਭਿਆਸ

1. ਬਾਜ਼ਾਰ ਨੂੰ ਪਰਿਭਾਸ਼ਿਤ ਕਰੋ।
2. ਸੰਪੂਰਨ ਮੁਕਾਬਲੇ ਦੀ ਪਰਿਭਾਸ਼ਾ ਦਿਓ।
3. ਏਕਾਧਿਕਾਰ ਨੂੰ ਪਰਿਭਾਸ਼ਿਤ ਕਰੋ।
4. ਪ੍ਰਚੂਨ ਅਤੇ ਥੋਕ ਬਾਜ਼ਾਰ ਵਿੱਚ ਫਰਕ ਦੱਸੋ।
5. ਸੰਪੂਰਨ ਮੁਕਾਬਲੇ ਦੀਆਂ ਵਿਸ਼ੇਸ਼ਤਾਵਾਂ ਦੀ ਵਿਆਖਿਆ ਕਰੋ।
6. ਏਕਾਧਿਕਾਰ ਦੀਆਂ ਵਿਸ਼ੇਸ਼ਤਾਵਾਂ ਦੀ ਵਿਆਖਿਆ ਕਰੋ।
7. ਕੀ ਤੁਸੀਂ ਸੋਚਦੇ ਹੋ ਕਿ ਰਿਟੇਲਰ ਉਹਨਾਂ ਚੀਜ਼ਾਂ ਦੀ ਸਥਿਤੀ ਅਤੇ ਪੇਸ਼ਕਾਰੀ ਬਾਰੇ ਚਿੰਤਤ ਹੈ ਜੋ ਉਹ ਵਿਕਰੀ ਲਈ ਪੇਸ਼ ਕਰਦਾ ਹੈ? ਜੇਕਰ ਹਾਂ ਤਾਂ ਕਿਉਂ।

ਮੈਂਡਿਊਲ: 4

ਵਸਤਾਂ ਅਤੇ ਸੇਵਾਵਾਂ ਦੀ ਵੰਡ



ਨੋਟ

ਵਸਤਾਂ ਅਤੇ ਸੇਵਾਵਾਂ ਦੀ
ਵੰਡ



ਪਾਠ ਅਧੀਨ ਪ੍ਰਸ਼ਨਾਂ ਦੇ ਉੱਤਰ

ਪਾਠ ਅਧੀਨ ਪ੍ਰਸ਼ਨ 12.1 ਦੇ ਉੱਤਰ

1. ਪਰਸਪਰ ਸੰਪਰਕ
2. ਬਾਜ਼ਾਰ ਸਥਾਨ
3. ਖਰੀਦਣਾ; ਵੇਚਣਾ
4. ਵਸਤੂ

ਪਾਠ ਅਧੀਨ ਪ੍ਰਸ਼ਨ 12.2 ਦੇ ਉੱਤਰ

ਨੋਟ

1. ਏਕਾਧਿਕਾਰ ਇੱਕ ਬਾਜ਼ਾਰ ਢਾਂਚਾ ਹੈ ਜਿਸ ਵਿੱਚ ਇੱਕ ਇਕਹਿਰਾ ਵਿਕਰੇਤਾ ਸਾਰਾ ਉਤਪਾਦਨ ਕਰਦਾ ਹੈ ਅਤੇ ਏਕਾਧਿਕਾਰ ਦੁਆਰਾ ਵੇਚੇ ਗਏ ਉਤਪਾਦ ਦਾ ਕੋਈ ਨਜ਼ਦੀਕੀ ਵਿਕਲਪ ਉਪਲੱਬਧ ਨਹੀਂ ਹੁੰਦਾ ਹੈ।
2. ਪਰਮਾਣੂ ਊਰਜਾ, ਭਾਰਤੀ ਰੇਲਵੇ ਅਤੇ ਪੇਸਟ ਅਤੇ ਟੈਲੀਗ੍ਰਾਫ
3. ਕਿਉਂਕਿ ਏਕਾਧਿਕਾਰ ਇਕੱਲਾ ਉਤਪਾਦਕ/ਵਿਕਰੇਤਾ ਹੈ,
4. ਕੀਮਤ ਨਿਰਧਾਰਕ
5. "ਮੁਫਤ ਐਂਟਰੀ" ਦਾ ਮਤਲਬ ਹੈ ਕਿ ਸੰਪੂਰਨ ਮੁਕਾਬਲੇ ਦੇ ਅਧੀਨ ਵਿਕਰੇਤਾ ਬਾਜ਼ਾਰ ਵਿੱਚ ਆਉਣ ਅਤੇ ਜਾਣ ਲਈ ਸੁਤੰਤਰ ਹਨ। ਨਵੀਆਂ ਫਰਮਾਂ ਦੇ ਦਾਖਲੇ 'ਤੇ ਕੋਈ ਰੁਕਾਵਟ ਨਹੀਂ ਹੈ।
6. (ੳ) ਨਹੀਂ (ਅ) ਨਹੀਂ (ੲ) ਨਹੀਂ (ਸ) ਹਾਂ (ਹ) ਹਾਂ

ਪਾਠ ਅਧੀਨ ਪ੍ਰਸ਼ਨ 12.3 ਦੇ ਉੱਤਰ

1. ਸਟੇਸ਼ਨਰੀ ਦੀਆਂ ਦੁਕਾਨਾਂ, ਕੇਂਦਰੀ ਭੰਡਾਰ, ਮਦਰ ਡੇਅਰੀ, ਦਵਾਈਆਂ ਦੀਆਂ ਦੁਕਾਨਾਂ
2. ਇੱਕ ਥੋਕ ਵਿਕਰੇਤਾ ਇੱਕ ਵਿਤਰਕ ਜਾਂ ਵਿਚੋਲਾ ਹੁੰਦਾ ਹੈ ਜੋ ਖਪਤਕਾਰਾਂ ਦੀ ਬਜਾਏ ਮੁੱਖ ਤੌਰ 'ਤੇ ਰਿਟੇਲਰਾਂ ਅਤੇ ਸੰਸਥਾਵਾਂ ਨੂੰ ਵੇਚਦਾ ਹੈ।
3. ਪ੍ਰਚੂਨ ਵਿਕਰੇਤਾ ਉਹ ਹੁੰਦਾ ਹੈ ਜੋ ਖਰੀਦਦਾਰ ਦੁਆਰਾ ਸਿੱਧੀ ਖਪਤ ਲਈ ਨਿਸ਼ਚਿਤ ਸਥਾਨ ਜਿਵੇਂ ਕਿ ਡਿਪਾਰਟਮੈਂਟਲ ਸਟੋਰ, ਦੁਕਾਨਦਾਰ ਨੂੰ ਛੋਟੇ ਜਾਂ ਵਿਅਕਤੀਗਤ ਲਾਟ ਵਿੱਚ ਸਾਮਾਨ ਜਾਂ ਵਪਾਰਕ ਸਾਮਾਨ ਵੇਚਦਾ ਹੈ।
4. ਪ੍ਰਚੂਨ ਬਾਜ਼ਾਰ ਦਾ ਅਰਥ ਹੈ ਉਹ ਬਾਜ਼ਾਰ ਜਿਸ ਵਿੱਚ ਵਸਤਾਂ ਨੂੰ ਅੰਤਮ ਖਪਤਕਾਰਾਂ ਨੂੰ ਛੋਟੀ ਮਾਤਰਾ ਵਿੱਚ ਵੇਚਿਆ ਜਾਂਦਾ ਹੈ।

ਕੀਮਤ ਅਤੇ ਮਾਤਰਾ ਦੇ ਨਿਰਧਾਰਨ ਵਿੱਚ ਸਰਕਾਰ ਦੀ ਭੂਮਿਕਾ

ਅਸੀਂ ਪਿਛਲੇ ਪਾਠ ਵਿੱਚ ਅਧਿਐਨ ਕੀਤਾ ਹੈ ਕਿ ਕਿਸੇ ਵਸਤੂ ਦੀ ਸੰਤੁਲਿਤ ਕੀਮਤ ਸਰਕਾਰ ਦੇ ਕਿਸੇ ਦਖਲ ਤੋਂ ਬਿਨਾਂ ਮੰਗ ਅਤੇ ਸਪਲਾਈ ਦੀਆਂ ਤਾਕਤਾਂ ਦੁਆਰਾ ਨਿਰਧਾਰਤ ਕੀਤੀ ਜਾਂਦੀ ਹੈ। ਪਰ ਇਸ ਲਈ ਨਿਰਧਾਰਤ ਕੀਤੀ ਗਈ ਕੀਮਤ ਇੰਨੀ ਜ਼ਿਆਦਾ ਹੋ ਸਕਦੀ ਹੈ ਕਿ ਕੁਝ ਖਪਤਕਾਰ ਇਸ ਕੀਮਤ 'ਤੇ ਵਸਤੂ ਖਰੀਦਣ ਦੇ ਸਮਰੱਥ ਨਹੀਂ ਹੋ ਸਕਦੇ ਜਾਂ ਇਹ ਇੰਨੀ ਘੱਟ ਹੋ ਸਕਦੇ ਹਨ ਕਿ ਉਤਪਾਦਕ ਇਸ ਕੀਮਤ 'ਤੇ ਆਪਣੇ ਉਤਪਾਦ ਵੇਚਣ ਲਈ ਤਿਆਰ ਨਹੀਂ ਹੋ ਸਕਦੇ ਹਨ ਜਾਂ ਇਹ ਉਨ੍ਹਾਂ ਦੀ ਕੀਮਤ ਨੂੰ ਪੂਰਾ ਨਹੀਂ ਕਰ ਸਕਦਾ ਹੈ। ਵਸਤੂ ਦੇ ਉਤਪਾਦਨ ਦੀ ਅਜਿਹੀ ਸਥਿਤੀ ਵਿੱਚ ਸਰਕਾਰ ਦਖਲਅੰਦਾਜ਼ੀ ਕਰਦੀ ਹੈ ਅਤੇ ਖਪਤਕਾਰਾਂ ਜਾਂ ਉਤਪਾਦਕਾਂ ਦੇ ਹਿੱਤਾਂ ਨੂੰ ਬਚਾਉਣ ਲਈ ਸੰਤੁਲਿਤ ਕੀਮਤ ਤੋਂ ਹੇਠਾਂ ਜਾਂ ਸੰਤੁਲਿਤ ਕੀਮਤ ਤੋਂ ਉੱਪਰ ਕੀਮਤ ਨਿਰਧਾਰਤ ਕਰਦੀ ਹੈ।

ਉਦੇਸ਼

- ਇਸ ਪਾਠ ਨੂੰ ਪੂਰਾ ਕਰਨ ਤੋਂ ਬਾਅਦ, ਤੁਸੀਂ ਇਹ ਕਰਨ ਦੇ ਯੋਗ ਹੋਵੋਗੇ:
- ਵਸਤਾਂ ਅਤੇ ਸੇਵਾਵਾਂ ਦੇ ਉਤਪਾਦਨ ਅਤੇ ਵੰਡ ਵਿੱਚ ਸਰਕਾਰ ਦੀ ਭੂਮਿਕਾ ਨੂੰ ਸਮਝੋਗੇ;
- ਸਰਕਾਰ ਕੀਮਤ ਨੂੰ ਕਿਵੇਂ ਕੰਟਰੋਲ ਕਰਦੀ ਹੈ, ਇਹ ਦੱਸ ਸਕੋਗੇ।
- ਘੱਟੋ-ਘੱਟ ਸਮਰਥਨ ਮੁੱਲ ਦੀ ਧਾਰਨਾ ਨੂੰ ਸਮਝੋਗੇ।
- ਸਰਕਾਰ ਖਪਤਕਾਰਾਂ ਅਤੇ ਉਤਪਾਦਕਾਂ ਦੀ ਕਿਵੇਂ ਅਤੇ ਕਿਉਂ ਮਦਦ ਕਰਦੀ ਹੈ, ਸਮਝ ਸਕੋਗੇ।

13.1 ਵਸਤਾਂ ਅਤੇ ਸੇਵਾਵਾਂ ਦੇ ਉਤਪਾਦਨ ਅਤੇ ਵੰਡ ਵਿੱਚ ਸਰਕਾਰ ਦੀ ਭੂਮਿਕਾ

ਪਹਿਲਾਂ ਦੱਸਿਆ ਗਿਆ ਹੈ, ਕਿਸੇ ਵਸਤੂ ਦੀ ਸੰਤੁਲਿਤ ਕੀਮਤ ਸਰਕਾਰ ਦੇ ਕਿਸੇ ਦਖਲ ਤੋਂ ਬਿਨਾਂ ਵਸਤੂ ਦੀ ਮੰਗ ਅਤੇ ਸਪਲਾਈ ਦੀਆਂ ਸ਼ਕਤੀਆਂ ਦੇ ਸੁਤੰਤਰ ਖੇਡ ਦੁਆਰਾ ਨਿਰਧਾਰਤ

ਮੈਂਡਿਊਲ: 4

ਵਸਤਾਂ ਅਤੇ ਸੇਵਾਵਾਂ ਦੀ ਵੰਡ



ਨੋਟ

ਮੋਡਿਊਲ: 4

ਵਸਤਾਂ ਅਤੇ ਸੇਵਾਵਾਂ ਦੀ

ਵੰਡ



ਨੋਟ

ਕੀਮਤ ਅਤੇ ਮਾਤਰਾ ਦੇ ਨਿਰਧਾਰਨ ਵਿੱਚ ਸਰਕਾਰ ਦੀ ਭੂਮਿਕਾ

ਕੀਤੀ ਜਾਂਦੀ ਹੈ। ਪਰ ਕਈ ਵਾਰੀ ਇਸ ਤਰ੍ਹਾਂ ਨਿਰਧਾਰਤ ਕੀਤੀ ਕੀਮਤ ਬਹੁਤ ਜ਼ਿਆਦਾ ਹੁੰਦੀ ਹੈ, ਜਦੋਂ ਬਾਜ਼ਾਰ ਵਿੱਚ ਕਿਸੇ ਵਸਤੂ ਦੀ ਕਮੀ ਹੁੰਦੀ ਹੈ। ਅਜਿਹੇ 'ਚ ਕੁਝ ਖਪਤਕਾਰ ਵਸਤੂ ਦੀ ਕੀਮਤ ਜ਼ਿਆਦਾ ਹੋਣ ਕਾਰਨ ਉਸ ਨੂੰ ਨਹੀਂ ਖਰੀਦ ਸਕਦੇ। ਇਸ ਲਈ ਖਪਤਕਾਰਾਂ ਦੇ ਹਿੱਤਾਂ ਦੀ ਰਾਖੀ ਲਈ ਸਰਕਾਰ ਨੂੰ ਉਸ ਵਸਤੂ ਦੀ ਕੀਮਤ ਤੈਅ ਕਰਨੀ ਪੈਂਦੀ ਹੈ ਜੋ ਆਮ ਤੌਰ 'ਤੇ ਸੰਤੁਲਿਤ ਮੁੱਲ ਤੋਂ ਘੱਟ ਹੁੰਦੀ ਹੈ। ਇਸੇ ਤਰ੍ਹਾਂ ਜਦੋਂ ਅਨਾਜ ਦੀ ਬੰਪਰ ਫਸਲ ਹੁੰਦੀ ਹੈ ਤਾਂ ਅਨਾਜ ਦੀ ਕੀਮਤ ਹੇਠਲੇ ਪੱਧਰ 'ਤੇ ਤੈਅ ਕੀਤੀ ਜਾਂਦੀ ਹੈ, ਇਸ ਕੀਮਤ ਨਾਲ ਕਿਸਾਨ ਆਪਣੀ ਪੈਦਾਵਾਰ ਦੀ ਲਾਗਤ ਵੀ ਪੂਰੀ ਕਰਨ ਤੋਂ ਅਸਮਰੱਥ ਹੁੰਦੇ ਹਨ। ਇਸ ਲਈ ਭਾਅ ਵਿੱਚ ਭਾਰੀ ਗਿਰਾਵਟ ਕਾਰਨ ਕਿਸਾਨ ਬੁਰੀ ਤਰ੍ਹਾਂ ਪ੍ਰਭਾਵਿਤ ਹੁੰਦੇ ਹਨ। ਅਜਿਹੇ ਮਾਮਲਿਆਂ ਵਿੱਚ ਸਰਕਾਰ ਉਤਪਾਦਕਾਂ ਖਾਸ ਕਰਕੇ ਕਿਸਾਨਾਂ ਦੇ ਹਿੱਤਾਂ ਦੀ ਰਾਖੀ ਲਈ ਅਨਾਜ ਦੀ ਕੀਮਤ ਤੈਅ ਕਰਦੀ ਹੈ ਜੋ ਸੰਤੁਲਨ ਮੁੱਲ ਤੋਂ ਵੱਧ ਹੁੰਦੀ ਹੈ। ਇਸ ਲਈ, ਕਈ ਵਾਰੀ ਸਰਕਾਰ ਖਪਤਕਾਰਾਂ ਜਾਂ ਉਤਪਾਦਕਾਂ ਦੇ ਹਿੱਤਾਂ ਦੀ ਰਾਖੀ ਲਈ ਕੁਝ ਵਸਤਾਂ ਦੀ ਕੀਮਤ ਨਿਰਧਾਰਤ ਕਰਨ ਲਈ ਮੰਗ ਅਤੇ ਸਪਲਾਈ ਦੀਆਂ ਸ਼ਕਤੀਆਂ ਨੂੰ ਖੁੱਲ੍ਹਾ ਖੇਡਣ ਦੀ ਆਗਿਆ ਨਹੀਂ ਦਿੰਦੀ। ਸਰਕਾਰ ਵਸਤੂ ਦੀ ਕੀਮਤ ਸੰਤੁਲਿਤ ਕੀਮਤ ਤੋਂ ਹੇਠਾਂ ਜਾਂ ਸੰਤੁਲਿਤ ਕੀਮਤ ਤੋਂ ਉੱਪਰ ਤੈਅ ਕਰ ਸਕਦੀ ਹੈ। ਅਜਿਹੀ ਕੀਮਤ ਨੂੰ ਪ੍ਰਬੰਧਕੀ ਕੀਮਤ (ਸਰਕਾਰੀ ਨਿਰਧਾਰਤ ਕੀਮਤ) ਕਿਹਾ ਜਾਂਦਾ ਹੈ। ਪ੍ਰਬੰਧਕੀ ਕੀਮਤ ਇਸ ਰੂਪ ਵਿੱਚ ਹੋ ਸਕਦੀ ਹੈ:

- (i) ਨਿਯੰਤਰਤ ਕੀਮਤ
- (ii) ਸਮਰਥਨ ਮੁੱਲ
- (iii) ਸੰਕੇਤਕ (ਟੋਕਨ) ਕੀਮਤ
- (iv) ਦੇਹਰੀ ਕੀਮਤ

13.2 ਨਿਯੰਤਰਤ ਕੀਮਤ

ਖਪਤਕਾਰਾਂ ਦੇ ਹਿੱਤਾਂ ਦੀ ਰਾਖੀ ਲਈ ਸਰਕਾਰ ਵਸਤਾਂ ਦੀ ਵੱਧ ਤੋਂ ਵੱਧ ਕੀਮਤ ਤੈਅ ਕਰਦੀ ਹੈ। ਇਹ ਵੱਧ ਤੋਂ ਵੱਧ ਕੀਮਤ ਆਮ ਤੌਰ 'ਤੇ ਸੰਤੁਲਿਤ ਕੀਮਤ ਨਾਲੋਂ ਘੱਟ ਹੁੰਦੀ ਹੈ। ਇਸ ਨੂੰ ਨਿਯੰਤਰਤ ਕੀਮਤ ਜਾਂ ਸੀਲਿੰਗ ਕੀਮਤ ਕਿਹਾ ਜਾਂਦਾ ਹੈ। ਇਹ ਕੀਮਤ ਸਰਕਾਰ ਵੱਲੋਂ ਤੈਅ ਕੀਤੀ ਜਾਂਦੀ ਹੈ ਕਿਉਂਕਿ ਗਰੀਬ ਲੋਕ ਸੰਤੁਲਿਤ ਕੀਮਤ 'ਤੇ ਵਸਤੂ ਨਹੀਂ ਖਰੀਦ ਸਕਦੇ। ਇਹ ਸਥਿਤੀ ਉਦੋਂ ਪੈਦਾ ਹੁੰਦੀ ਹੈ ਜਦੋਂ ਕਿਸੇ ਵਸਤੂ ਦਾ ਉਤਪਾਦਨ ਉਸਦੀ ਮੰਗ ਤੋਂ ਘੱਟ ਹੁੰਦਾ ਹੈ। ਕਿਉਂਕਿ ਸਰਕਾਰ ਦੁਆਰਾ ਨਿਰਧਾਰਿਤ ਵਸਤੂ ਦੀ ਕੀਮਤ ਸੰਤੁਲਿਤ ਮੁੱਲ ਤੋਂ ਘੱਟ ਹੁੰਦੀ ਹੈ, ਇਹ ਵਸਤੂ ਦੀ ਵਾਧੂ ਮੰਗ ਪੈਦਾ ਕਰ ਸਕਦੀ ਹੈ ਜਿਸਦਾ ਮਤਲਬ ਹੈ ਕਿ ਖਰੀਦਦਾਰ ਉਸ ਤੋਂ

ਕੀਮਤ ਅਤੇ ਮਾਤਰਾ ਦੇ ਨਿਰਧਾਰਨ ਵਿੱਚ ਸਰਕਾਰ ਦੀ ਭੂਮਿਕਾ

ਵੱਧ ਖਰੀਦਣ ਲਈ ਤਿਆਰ ਹਨ ਜੋ ਵੇਚਣ ਵਾਲੇ ਵੇਚਣ ਲਈ ਤਿਆਰ ਹਨ। ਭਾਰਤ ਵਿੱਚ ਸਰਕਾਰ ਕੋਲ ਵਸਤਾਂ ਦੀ ਇੱਕ ਨਿਯੰਤਰਣ ਕੀਮਤ ਜਾਂ ਸੀਲਿੰਗ ਕੀਮਤ ਹੁੰਦੀ ਹੈ ਜਿਸਨੂੰ ਉਹ ਜਨਤਾ ਲਈ ਜ਼ਰੂਰੀ ਸਮਝਦੀ ਹੈ। ਉਦਾਹਰਨ ਲਈ ਕੁਝ ਵਸਤਾਂ ਜਿਵੇਂ ਕਿ ਕਣਕ, ਚਾਵਲ, ਖੰਡ, ਮਿੱਟੀ ਦਾ ਤੇਲ ਆਦਿ ਦੀ ਕੀਮਤ ਨਿਯੰਤਰਿਤ ਹੈ। ਵੱਧ ਤੋਂ ਵੱਧ ਕੀਮਤ 'ਤੇ ਵਸਤੂ ਦੀ ਮੰਗ ਕਾਰਨ ਸਰਕਾਰ ਰਾਸ਼ਨਿੰਗ ਪ੍ਰਣਾਲੀ ਦਾ ਸਹਾਰਾ ਲੈਂਦੀ ਹੈ। **ਰਾਸ਼ਨਿੰਗ ਪ੍ਰਣਾਲੀ ਦਾ ਅਰਥ ਹੈ ਪ੍ਰਤੀ ਇਕਾਈ ਯੂਨਿਟ ਸਮੇਂ ਦਾ ਕੋਟਾ ਤੈਅ ਕਰਨਾ।** ਵਸਤਾਂ ਦੀ ਵੱਧ ਤੋਂ ਵੱਧ ਮੰਗ ਵੱਧ ਕੀਮਤ 'ਤੇ ਹੋਣ ਕਾਰਨ ਕਾਲਾਬਾਜ਼ਾਰੀ ਦੀ ਸਮੱਸਿਆ ਵੀ ਪੈਦਾ ਹੋ ਸਕਦੀ ਹੈ। ਬਲੈਕ ਮਾਰਕੀਟਿੰਗ ਇੱਕ ਅਜਿਹੀ ਸਥਿਤੀ ਹੈ ਜਿਸ ਵਿੱਚ ਵਿਕਰੇਤਾ ਗੈਰ-ਕਾਨੂੰਨੀ ਢੰਗ ਨਾਲ ਵਸਤੂ ਦੀ ਕੀਮਤ ਵਸੂਲਦਾ ਹੈ ਜੋ ਨਿਯੰਤਰਿਤ ਕੀਮਤ ਤੋਂ ਬਹੁਤ ਜ਼ਿਆਦਾ ਹੈ। ਕਾਲਾਬਾਜ਼ਾਰੀ ਦੀ ਸਮੱਸਿਆ ਨੂੰ ਦੇਹਰੀ ਕੀਮਤ ਨੀਤੀ ਰਾਹੀਂ ਹੱਲ ਕੀਤਾ ਜਾ ਸਕਦਾ ਹੈ ਜਿਸ ਬਾਰੇ ਇਸ ਪਾਠ ਦੇ ਅਗਲੇ ਹਿੱਸੇ ਵਿੱਚ ਚਰਚਾ ਕੀਤੀ ਜਾਵੇਗੀ।

ਪਾਠ ਅਧੀਨ ਪ੍ਰਸ਼ਨ 13.1

1. ਸਰਕਾਰ ਕੁਝ ਵਸਤਾਂ ਦੀ ਕੀਮਤ ਸੰਤੁਲਿਤ ਕੀਮਤ ਤੋਂ ਹੇਠਾਂ ਕਿਉਂ ਤੈਅ ਕਰਦੀ ਹੈ?
2. ਸੰਤੁਲਨ ਕੀਮਤ ਤੋਂ ਹੇਠਾਂ ਕਿਸੇ ਵਸਤੂ ਦੀ ਕੀਮਤ ਨਿਰਧਾਰਤ ਕਰਨ ਵਿੱਚ ਆਈਆਂ ਸਮੱਸਿਆਵਾਂ ਦੇ ਨਾਮ ਦੱਸੋ।
3. ਰਾਸ਼ਨਿੰਗ ਪ੍ਰਣਾਲੀ ਦਾ ਕੀ ਅਰਥ ਹੈ?
4. ਬਲੈਕ ਮਾਰਕੀਟਿੰਗ ਤੋਂ ਤੁਹਾਡਾ ਕੀ ਮਤਲਬ ਹੈ।
5. ਕੀਮਤਾਂ ਕੰਟਰੋਲ ਕਾਰਨ ਹੋਣ ਵਾਲੀ ਕਾਲਾਬਾਜ਼ਾਰੀ ਨੂੰ ਰੋਕਣ ਲਈ ਸਰਕਾਰ ਵੱਲੋਂ ਕਿਹੜੀ ਨੀਤੀ ਅਪਣਾਈ ਜਾਂਦੀ ਹੈ?

13.3 ਸਮਰਥਨ ਮੁੱਲ

ਕਈ ਵਾਰ, ਉਤਪਾਦਕਾਂ ਖਾਸ ਕਰਕੇ ਕਿਸਾਨਾਂ ਦੇ ਹਿੱਤਾਂ ਦੀ ਰਾਖੀ ਲਈ ਸਰਕਾਰ ਜਿਣਸ ਦੀ ਘੱਟੋ ਘੱਟ ਕੀਮਤ ਨਿਰਧਾਰਤ ਕਰਦੀ ਹੈ ਜੋ ਉਤਪਾਦਕਾਂ ਨੂੰ ਅਦਾ ਕਰਨੀ ਪੈਂਦੀ ਹੈ। ਇਹ ਕੀਮਤ ਆਮ ਤੌਰ 'ਤੇ ਸੰਤੁਲਿਤ ਕੀਮਤ ਨਾਲੋਂ ਵੱਧ ਹੁੰਦੀ ਹੈ। ਇਹ ਸਮੱਸਿਆ ਉਦੋਂ ਪੈਦਾ ਹੁੰਦੀ ਹੈ ਜਦੋਂ ਉਤਪਾਦਕ ਸੰਤੁਲਿਤ ਮੁੱਲ 'ਤੇ ਉਤਪਾਦਨ ਦੀ ਲਾਗਤ ਨੂੰ ਵੀ ਪੂਰਾ ਨਹੀਂ ਕਰਦੇ। ਉਤਪਾਦਕਾਂ ਦੇ ਹਿੱਤਾਂ ਦੀ ਰਾਖੀ ਲਈ ਸਰਕਾਰ ਦੁਆਰਾ ਨਿਰਧਾਰਤ ਕੀਤੀ ਗਈ ਇਸ ਕੀਮਤ ਨੂੰ ਸਮਰਥਨ ਮੁੱਲ ਕਿਹਾ ਜਾਂਦਾ ਹੈ। ਇਹ ਵਸਤੂ ਦੀ ਵਾਧੂ ਸਪਲਾਈ ਦੀ ਸਥਿਤੀ ਪੈਦਾ ਕਰ

ਮੈਂਡਿਊਲ: 4

ਵਸਤਾਂ ਅਤੇ ਸੇਵਾਵਾਂ ਦੀ ਵੰਡ



ਨੋਟ

ਮੋਡਿਊਲ: 4

ਵਸਤਾਂ ਅਤੇ ਸੇਵਾਵਾਂ ਦੀ ਵੰਡ



ਨੋਟ

ਕੀਮਤ ਅਤੇ ਮਾਤਰਾ ਦੇ ਨਿਰਧਾਰਨ ਵਿੱਚ ਸਰਕਾਰ ਦੀ ਭੂਮਿਕਾ

ਸਕਦਾ ਹੈ। ਇਸਦਾ ਮਤਲਬ ਹੈ ਕਿ ਵਿਕਰੇਤਾ ਉਸ ਤੋਂ ਵੱਧ ਵੇਚਣ ਲਈ ਤਿਆਰ ਹਨ ਜੇ ਖਰੀਦਦਾਰ ਖਰੀਦਣ ਲਈ ਤਿਆਰ ਹਨ।

ਭਾਰਤ ਵਿੱਚ ਅਨਾਜ ਜਿਵੇਂ ਕਣਕ, ਚੌਲ ਆਦਿ ਦੀ ਘੱਟ ਕੀਮਤ ਕਿਸਾਨਾਂ 'ਤੇ ਮਾੜਾ ਪ੍ਰਭਾਵ ਪਾਉਂਦੀ ਹੈ। ਉਹ ਅਨਾਜ ਪੈਦਾ ਕਰਨ ਵਿੱਚ ਆਪਣੀ ਰੁਚੀ ਗੁਆ ਸਕਦੇ ਹਨ। ਇਸ ਨਾਲ ਅਨਾਜ ਦੀ ਭਾਰੀ ਕਮੀ ਹੋ ਸਕਦੀ ਹੈ। ਇਸ ਲਈ, ਆਮ ਤੌਰ 'ਤੇ ਖੇਤੀਬਾੜੀ ਉਤਪਾਦਾਂ ਦੇ ਮਾਮਲੇ ਵਿੱਚ ਸਮਰਥਨ ਮੁੱਲ ਦੀ ਪ੍ਰਣਾਲੀ ਦੀ ਪਾਲਣਾ ਕੀਤੀ ਜਾਂਦੀ ਹੈ। ਸਮਰਥਨ ਮੁੱਲ ਦੀ ਪ੍ਰਣਾਲੀ ਕਿਸਾਨਾਂ ਨੂੰ ਭਰੋਸਾ ਦਿਵਾਉਂਦੀ ਹੈ ਕਿ ਉਹ ਘੱਟੋ-ਘੱਟ ਇਸ ਕੀਮਤ 'ਤੇ ਆਪਣੇ ਉਤਪਾਦ ਵੇਚਣ ਦੇ ਯੋਗ ਹੋਣਗੇ।

ਸਮਰਥਨ ਮੁੱਲ 'ਤੇ ਜਿਣਸ ਦੀ ਜ਼ਿਆਦਾ ਸਪਲਾਈ ਹੋਣ ਦੀ ਸੂਰਤ ਵਿੱਚ ਸਰਕਾਰ ਜਿਣਸ ਦਾ ਬਫਰ ਸਟਾਕ ਬਣਾਉਣ ਲਈ ਜਿਣਸ ਦੀ ਕਿਸੇ ਵੀ ਮਾਤਰਾ ਨੂੰ ਖਰੀਦਣ ਲਈ ਤਿਆਰ ਹੈ।

ਪਾਠ ਅਧੀਨ ਪ੍ਰਸ਼ਨ 13.2

1. ਸਮਰਥਨ ਮੁੱਲ ਕੀ ਹੈ?
2. ਸਰਕਾਰ ਕਿਸੇ ਵਸਤੂ ਦੀ ਕੀਮਤ ਸੰਤੁਲਿਤ ਮੁੱਲ ਤੋਂ ਵੱਧ ਕਿਉਂ ਤੈਅ ਕਰਦੀ ਹੈ?
3. ਮੰਨ ਲਓ ਕਿ ਕਿਸਾਨ ਆਪਣੀ ਕਣਕ ਦੀ ਕੁੱਲ ਪੈਦਾਵਾਰ ਉਸ ਕੀਮਤ 'ਤੇ ਵੇਚਣ ਤੋਂ ਅਸਮਰੱਥ ਹਨ ਜੇ ਸਰਕਾਰ ਦੁਆਰਾ ਨਿਰਧਾਰਿਤ ਸੰਤੁਲਿਤ ਮੁੱਲ ਤੋਂ ਵੱਧ ਹੈ ਤਾਂ ਸਰਕਾਰ ਦੁਆਰਾ ਕੀ ਨੀਤੀ ਅਪਣਾਈ ਜਾਂਦੀ ਹੈ?
4. ਭਾਰਤ ਵਿੱਚ ਸਮਰਥਨ ਮੁੱਲ ਵਾਲੀਆਂ ਦੋ ਵਸਤਾਂ ਦੇ ਨਾਮ ਦੱਸੋ?

13.4 ਸੰਕੇਤਕ (ਟੋਕਨ) ਕੀਮਤ

ਕੁਝ ਵਸਤਾਂ ਅਤੇ ਸੇਵਾਵਾਂ ਹਨ ਜੋ ਜੀਵਨ ਦੀ ਹੋਂਦ ਲਈ ਜ਼ਰੂਰੀ ਮੰਨੀਆਂ ਜਾਂਦੀਆਂ ਹਨ ਜਿਵੇਂ ਕਿ ਮੈਡੀਕਲ ਸੇਵਾਵਾਂ, ਸਿਹਤ ਸੇਵਾਵਾਂ ਅਤੇ ਸਿੱਖਿਆ ਸੇਵਾਵਾਂ। ਗਰੀਬ ਲੋਕ ਪ੍ਰਚੱਲਿਤ ਬਾਜ਼ਾਰੀ ਕੀਮਤਾਂ 'ਤੇ ਇਨ੍ਹਾਂ ਸੇਵਾਵਾਂ ਦੀ ਵਰਤੋਂ ਕਰਨ ਤੋਂ ਅਸਮਰੱਥ ਹਨ। ਇਸ ਲਈ, ਸਰਕਾਰੀ ਅਤੇ ਕੁਝ ਨਿੱਜੀ 'ਚੈਰੀਟੇਬਲ ਸੰਸਥਾਵਾਂ' ਇਹ ਸੇਵਾਵਾਂ ਉਸ ਕੀਮਤ 'ਤੇ ਪ੍ਰਦਾਨ ਕਰਦੀਆਂ ਹਨ ਜੋ ਉਨ੍ਹਾਂ ਦੀ ਉਤਪਾਦਨ ਦੀ ਪ੍ਰਤੀ ਯੂਨਿਟ ਲਾਗਤ ਤੋਂ ਵੀ ਬਹੁਤ ਘੱਟ ਹਨ। ਅਜਿਹੀ ਕੀਮਤ ਨੂੰ ਇਹਨਾਂ ਵਸਤਾਂ ਅਤੇ ਸੇਵਾਵਾਂ ਲਈ ਸੰਕੇਤਕ ਕੀਮਤ ਕਿਹਾ ਜਾਂਦਾ ਹੈ। ਸਰਕਾਰੀ ਸਕੂਲਾਂ ਵਿੱਚ

ਕੀਮਤ ਅਤੇ ਮਾਤਰਾ ਦੇ ਨਿਰਧਾਰਨ ਵਿੱਚ ਸਰਕਾਰ ਦੀ ਭੂਮਿਕਾ

ਲਈ ਜਾਂਚੀ ਟਿਊਸ਼ਨ ਫੀਸ ਸਰਕਾਰ ਵੱਲੋਂ ਪ੍ਰਤੀ ਵਿਦਿਆਰਥੀ ਖਰਚੇ ਜਾਣ ਵਾਲੇ ਖਰਚੇ ਤੋਂ ਬਹੁਤ ਘੱਟ ਹੈ।

ਇਹਨਾਂ ਸੇਵਾਵਾਂ ਦੀ ਗਲਤ ਵਰਤੋਂ ਨੂੰ ਰੋਕਣ ਲਈ ਸੰਕੇਤਕ ਕੀਮਤ ਵਸੂਲੀ ਜਾਂਦੀ ਹੈ। ਨਹੀਂ ਤਾਂ ਇਹ ਸੇਵਾਵਾਂ ਮੁਫਤ ਵੀ ਉਪਲੱਬਧ ਕਰਵਾਈਆਂ ਜਾ ਸਕਦੀਆਂ ਹਨ। ਜੇਕਰ ਇਹ ਸੇਵਾਵਾਂ ਮੁਫਤ ਪ੍ਰਦਾਨ ਕੀਤੀਆਂ ਜਾਂਦੀਆਂ ਹਨ ਤਾਂ ਕੁਝ ਲੋਕ ਮੁਫਤ ਆਸਰਾ ਅਤੇ ਮੁਫਤ ਭੋਜਨ ਪ੍ਰਾਪਤ ਕਰਨ ਲਈ ਲੰਬੇ ਸਮੇਂ ਲਈ ਹਸਪਤਾਲ ਵਿੱਚ ਰਹਿਣ ਦੀ ਕੋਸ਼ਿਸ਼ ਕਰ ਸਕਦੇ ਹਨ।

13.5 ਦੇਹਰੀ ਕੀਮਤ

ਜਿਵੇਂ ਕਿ ਇਸ ਪਾਠ ਵਿੱਚ ਪਹਿਲਾਂ ਦੱਸਿਆ ਗਿਆ ਹੈ ਕਿ ਕੀਮਤ ਨਿਯੰਤਰਣ ਵਸਤੂ ਦੀ ਘਾਟ ਦਾ ਕਾਰਨ ਬਣ ਸਕਦਾ ਹੈ ਕਿਉਂਕਿ ਵਿਕਰੇਤਾ ਸਰਕਾਰ ਦੁਆਰਾ ਨਿਰਧਾਰਤ ਕੀਮਤ 'ਤੇ ਵਸਤੂ ਦੀ ਲੋੜੀਂਦੀ ਮਾਤਰਾ ਦੀ ਸਪਲਾਈ ਕਰਨ ਲਈ ਤਿਆਰ ਨਹੀਂ ਹੁੰਦੇ ਕਿਉਂਕਿ ਕੀਮਤ ਸੰਤੁਲਿਤ ਕੀਮਤ ਤੋਂ ਘੱਟ ਹੁੰਦੀ ਹੈ। ਇਸ ਨਾਲ ਵਸਤਾਂ ਦੀ ਕਾਲਾਬਾਜ਼ਾਰੀ ਵੀ ਹੋ ਸਕਦੀ ਹੈ। ਇਸ ਸਥਿਤੀ ਤੋਂ ਬਚਣ ਲਈ ਸਰਕਾਰ ਦੇਹਰੀ ਕੀਮਤ ਦੀ ਨੀਤੀ ਅਪਣਾਉਂਦੀ ਹੈ, ਇਸ ਨੀਤੀ ਤਹਿਤ ਵਸਤੂ ਦੇ ਉਤਪਾਦਨ ਦਾ ਕੁਝ ਹਿੱਸਾ ਵਾਜਬ ਕੀਮਤ ਵਾਲੀਆਂ ਦੁਕਾਨਾਂ ਰਾਹੀਂ ਨਿਯੰਤਰਿਤ ਕੀਮਤ 'ਤੇ ਵੇਚਿਆ ਜਾਂਦਾ ਹੈ ਅਤੇ ਬਾਕੀ ਹਿੱਸਾ ਮੌਜੂਦਾ ਬਾਜ਼ਾਰੀ ਭਾਅ 'ਤੇ ਵੇਚਿਆ ਜਾਂਦਾ ਹੈ ਜੋ ਕਿ ਮੰਗ ਅਤੇ ਸਪਲਾਈ ਦੀਆਂ ਸ਼ਕਤੀਆਂ ਦੁਆਰਾ ਨਿਰਧਾਰਤ ਕੀਤਾ ਜਾਂਦਾ ਹੈ। ਇਸ ਮਾਰਕੀਟ ਕੀਮਤ 'ਤੇ ਵਸਤੂ ਦੀ ਕੋਈ ਵੀ ਮਾਤਰਾ ਖਰੀਦੀ ਜਾ ਸਕਦੀ ਹੈ। ਉਦਾਹਰਨ ਲਈ ਸਰਕਾਰ ਕਣਕ, ਚਾਵਲ ਅਤੇ ਖੰਡ ਬੀਪੀਐੱਲ (ਗਰੀਬੀ ਰੇਖਾ ਤੋਂ ਹੇਠਾਂ) ਕਾਰਡ ਧਾਰਕਾਂ ਨੂੰ ਵਾਜਬ ਕੀਮਤ ਵਾਲੀਆਂ ਦੁਕਾਨਾਂ ਰਾਹੀਂ ਨਿਯੰਤਰਿਤ ਕੀਮਤ 'ਤੇ ਵੇਚਦੀ ਹੈ ਅਤੇ ਉਤਪਾਦਕਾਂ ਨੂੰ ਵੀ ਖੁੱਲ੍ਹੇ ਬਾਜ਼ਾਰ ਵਿੱਚ ਸੰਤੁਲਿਤ ਮੁੱਲ 'ਤੇ ਆਪਣੀ ਬਾਕੀ ਦੀ ਪੈਦਾਵਾਰ ਵੇਚਣ ਦੀ ਇਜਾਜ਼ਤ ਦਿੱਤੀ ਜਾਂਦੀ ਹੈ।

ਪਾਠ ਅਧੀਨ ਪ੍ਰਸ਼ਨ 13.3

1. ਸੰਕੇਤਕ ਕੀਮਤ ਕੀ ਹੈ?
2. ਦੇਹਰੀ ਕੀਮਤ ਤੋਂ ਕੀ ਭਾਵ ਹੈ?
3. ਸਰਕਾਰ ਕੁਝ ਵਸਤਾਂ ਮੁਫਤ ਕਿਉਂ ਨਹੀਂ ਦਿੰਦੀ? ਇਹ ਉਹਨਾਂ ਲਈ ਸੰਕੇਤਕ ਕੀਮਤ ਕਿਉਂ ਲੈਂਦੀ ਹੈ?

ਮੌਡਿਊਲ: 4

ਵਸਤਾਂ ਅਤੇ ਸੇਵਾਵਾਂ ਦੀ ਵੰਡ



ਨੋਟ

ਮੋਡਿਊਲ: 4

ਵਸਤਾਂ ਅਤੇ ਸੇਵਾਵਾਂ ਦੀ
ਵੰਡ



ਨੋਟ

ਕੀਮਤ ਅਤੇ ਮਾਤਰਾ ਦੇ ਨਿਰਧਾਰਨ ਵਿੱਚ ਸਰਕਾਰ ਦੀ ਭੂਮਿਕਾ

4. ਸਹੀ ਉੱਤਰ 'ਤੇ ਨਿਸ਼ਾਨ ਲਗਾਓ ($\sqrt{\quad}$)
- (ੳ) ਸੰਕੇਤਕ ਕੀਮਤ ਸਰਕਾਰ ਦੁਆਰਾ ਨਿਰਧਾਰਤ ਕੀਤੀ ਗਈ ਕੀਮਤ ਹੈ ਜੋ ਉਤਪਾਦਨ ਦੀ ਪ੍ਰਤੀ ਇਕਾਈ ਲਾਗਤ ਤੋਂ ਵੱਧ ਹੈ।
 - (ਅ) ਸੰਕੇਤਕ ਕੀਮਤ ਉਹ ਕੀਮਤ ਹੈ ਜੋ ਉਤਪਾਦਨ ਦੀ ਪ੍ਰਤੀ ਯੂਨਿਟ ਲਾਗਤ ਤੋਂ ਬਹੁਤ ਘੱਟ ਹੈ।
 - (ੲ) ਸੰਕੇਤਕ ਕੀਮਤ ਉਹ ਕੀਮਤ ਹੈ ਜੋ ਅਮੀਰ ਵਿਅਕਤੀਆਂ ਤੋਂ ਵਸੂਲੀ ਜਾਂਦੀ ਹੈ
 - (ਸ) ਸੰਕੇਤਕ ਕੀਮਤ ਉਤਪਾਦਨ ਦੀ ਪ੍ਰਤੀ ਯੂਨਿਟ ਲਾਗਤ ਦੇ ਬਰਾਬਰ ਹੈ।

13.6 ਮਾਰਕੀਟ ਕੀਮਤ 'ਤੇ ਟੈਕਸਾਂ ਅਤੇ ਸਬਸਿਡੀਆਂ ਦਾ ਪ੍ਰਭਾਵ

ਸਰਕਾਰ ਵਸਤਾਂ ਦੇ ਉਤਪਾਦਨ ਅਤੇ ਵਿਕਰੀ 'ਤੇ ਅਤੇ ਕੱਚੇ ਮਾਲ ਆਦਿ ਦੀ ਦਰਾਮਦ 'ਤੇ ਕ੍ਰਮਵਾਰ ਐਕਸਾਈਜ਼ ਡਿਊਟੀ, ਵਿਕਰੀ ਟੈਕਸ ਅਤੇ ਆਯਾਤ ਡਿਊਟੀ ਦੇ ਰੂਪ ਵਿੱਚ ਕਈ ਤਰ੍ਹਾਂ ਦੇ ਟੈਕਸ ਲਗਾਉਂਦੀ ਹੈ। ਇਨ੍ਹਾਂ ਵਸਤਾਂ ਦੇ ਉਤਪਾਦਕਾਂ, ਵਿਕਰੇਤਾਵਾਂ ਅਤੇ ਦਰਾਮਦਕਾਰਾਂ ਦੁਆਰਾ ਸਰਕਾਰ ਨੂੰ ਇਹ ਟੈਕਸ ਅਦਾ ਕੀਤੇ ਜਾਂਦੇ ਹਨ। ਇਹਨਾਂ ਵਸਤਾਂ ਦੇ ਉਤਪਾਦਕ, ਵਿਕਰੇਤਾ ਅਤੇ ਦਰਾਮਦਕਾਰ ਇਹਨਾਂ ਵਸਤਾਂ ਦੇ ਖਰੀਦਦਾਰਾਂ ਤੋਂ ਇਹਨਾਂ ਦੀ ਵਸੂਲੀ ਕਰਦੇ ਹਨ। ਇਸ ਲਈ ਇਹ ਟੈਕਸ ਵਸਤਾਂ ਦੀ ਮਾਰਕੀਟ ਕੀਮਤ ਨੂੰ ਵਧਾਉਂਦੇ ਹਨ। ਜੇਕਰ ਸਰਕਾਰ ਇਨ੍ਹਾਂ ਟੈਕਸਾਂ ਦੀ ਦਰ ਵਿੱਚ ਵਾਧਾ ਕਰਦੀ ਹੈ ਤਾਂ ਵਸਤਾਂ ਦੀ ਬਾਜ਼ਾਰੀ ਕੀਮਤ ਵੀ ਵਧ ਜਾਵੇਗੀ।

ਦੂਜੇ ਪਾਸੇ ਸਰਕਾਰ ਉਤਪਾਦਕਾਂ ਨੂੰ ਕੁਝ ਵਸਤਾਂ ਨੂੰ ਘੱਟ ਕੀਮਤ 'ਤੇ ਵੇਚਣ ਲਈ ਸਬਸਿਡੀ ਦਿੰਦੀ ਹੈ ਤਾਂ ਜੋ ਆਮ ਲੋਕਾਂ ਨੂੰ ਵਸਤੂ ਵਾਜਬ ਕੀਮਤ 'ਤੇ ਉਪਲੱਬਧ ਕਰਵਾਈ ਜਾ ਸਕੇ। ਇਸ ਤਰ੍ਹਾਂ ਸਬਸਿਡੀ ਵਿੱਚ ਵਾਧਾ ਹੋਣ ਨਾਲ ਵਸਤਾਂ ਦੀ ਮਾਰਕੀਟ ਕੀਮਤ ਵਿੱਚ ਕਮੀ ਆਉਂਦੀ ਹੈ। ਉਦਾਹਰਣ ਵਜੋਂ, ਸਰਕਾਰ ਮਿੱਟੀ ਦੇ ਤੇਲ, ਰਸੋਈ ਗੈਸ ਆਦਿ 'ਤੇ ਸਬਸਿਡੀ ਦਿੰਦੀ ਹੈ।

13.7 ਜਨਤਕ ਵੰਡ ਪ੍ਰਣਾਲੀ (PDS)

ਗ਼ਰੀਬ ਲੋਕ ਬਾਜ਼ਾਰੀ ਭਾਅ 'ਤੇ ਜ਼ਰੂਰੀ ਵਸਤਾਂ ਵੀ ਨਹੀਂ ਖ਼ਰੀਦ ਸਕਦੇ। ਇਹਨਾਂ ਲੋਕਾਂ ਦੀ ਮਦਦ ਕਰਨ ਲਈ, ਭਾਰਤ ਵਿੱਚ ਅਪਣਾਏ ਗਏ ਤਰੀਕਿਆਂ ਵਿੱਚੋਂ ਇੱਕ ਜਨਤਕ ਵੰਡ ਪ੍ਰਣਾਲੀ ਹੈ, ਇਸ ਪ੍ਰਣਾਲੀ ਅਧੀਨ ਜ਼ਰੂਰੀ ਵਸਤਾਂ ਜਿਵੇਂ ਕਣਕ, ਚਾਵਲ, ਖੰਡ ਆਦਿ ਆਮ ਲੋਕਾਂ ਨੂੰ ਰਾਸ਼ਨ ਦੀਆਂ ਦੁਕਾਨਾਂ ਕਹੀਆਂ ਜਾਣ ਵਾਲੀਆਂ ਉਚਿਤ ਕੀਮਤ ਦੀਆਂ ਦੁਕਾਨਾਂ ਰਾਹੀਂ ਸਸਤੇ

ਕੀਮਤ ਅਤੇ ਮਾਤਰਾ ਦੇ ਨਿਰਧਾਰਨ ਵਿੱਚ ਸਰਕਾਰ ਦੀ ਭੂਮਿਕਾ

ਰੇਟਾਂ 'ਤੇ ਉਪਲੱਬਧ ਕਰਵਾਈਆਂ ਜਾਂਦੀਆਂ ਹਨ। ਇਹ ਵਸਤਾਂ ਰਾਸ਼ਨ ਕਾਰਡ ਨਾਮਕ ਪਛਾਣ ਪੱਤਰ ਰਾਹੀਂ ਵੇਚੀਆਂ ਜਾਂਦੀਆਂ ਹਨ। ਭਾਰਤ ਵਿੱਚ ਜਨਤਕ ਵੰਡ ਪ੍ਰਣਾਲੀ ਦੇ ਜ਼ਰੂਰੀ ਤੱਤ ਨਿਮਨਲਿਖਤ ਹਨ।

1. **ਸਬਸਿਡੀ:** ਸਰਕਾਰ ਜਨਤਕ ਵੰਡ ਪ੍ਰਣਾਲੀ ਰਾਹੀਂ ਵੇਚੀਆਂ ਜਾਣ ਵਾਲੀਆਂ ਵਸਤਾਂ 'ਤੇ ਸਬਸਿਡੀਆਂ ਦਿੰਦੀ ਹੈ। ਇਸ ਲਈ, ਇਸ ਪ੍ਰਣਾਲੀ ਅਧੀਨ ਵੇਚੀਆਂ ਜਾਣ ਵਾਲੀਆਂ ਵਸਤਾਂ ਦੀਆਂ ਕੀਮਤਾਂ ਮੁਕਾਬਲਤਨ ਘੱਟ ਹਨ।

2. **ਨਿਸ਼ਚਿਤ ਮਾਤਰਾ (ਰਾਸ਼ਨਿੰਗ):** ਸਰਕਾਰ ਕਿਸੇ ਵਿਅਕਤੀ ਦੀ ਘੱਟੋ-ਘੱਟ ਲੋੜ ਦੇ ਆਧਾਰ 'ਤੇ ਪ੍ਰਤੀ ਇਕਾਈ ਸਮੇਂ ਦੀ ਮਾਤਰਾ (ਕੋਟਾ) ਨਿਰਧਾਰਤ ਕਰਦੀ ਹੈ। ਹਰੇਕ ਪਰਿਵਾਰ ਨੂੰ ਪਰਿਵਾਰ ਵਿੱਚ ਵਿਅਕਤੀਆਂ ਦੀ ਗਿਣਤੀ ਦਾ ਜ਼ਿਕਰ ਕਰਨ ਵਾਲਾ ਇੱਕ ਕਾਰਡ ਜਾਰੀ ਕੀਤਾ ਜਾਂਦਾ ਹੈ। ਹਰ ਪਰਿਵਾਰ ਉਚਿਤ ਦਰ ਵਾਲੀਆਂ ਦੁਕਾਨਾਂ ਤੋਂ ਪਰਿਵਾਰ ਵਿੱਚ ਵਿਅਕਤੀਆਂ ਦੀ ਗਿਣਤੀ ਦੇ ਅਨੁਸਾਰ ਵਸਤੂ ਦੀ ਨਿਸ਼ਚਿਤ ਮਾਤਰਾ ਖਰੀਦ ਸਕਦਾ ਹੈ।

3. **ਉਚਿਤ ਦਰ ਵਾਲੀਆਂ ਦੁਕਾਨਾਂ (FPS):** ਸਰਕਾਰ ਇਹਨਾਂ ਵਸਤਾਂ ਨੂੰ ਰਾਸ਼ਨ ਦੀਆਂ ਦੁਕਾਨਾਂ ਵਜੋਂ ਜਾਣੀਆਂ ਜਾਂਦੀਆਂ ਉਚਿਤ ਕੀਮਤ ਦੀਆਂ ਦੁਕਾਨਾਂ ਰਾਹੀਂ ਵੇਚਦੀ ਹੈ। ਇਹ ਦੁਕਾਨਾਂ ਦੇਸ਼ ਦੇ ਸਾਰੇ ਹਿੱਸਿਆਂ ਵਿੱਚ ਖੁੱਲ੍ਹੀਆਂ ਹਨ। ਸਰਕਾਰ ਹਰ ਦੁਕਾਨ ਨਾਲ ਰਜਿਸਟਰਡ ਰਾਸ਼ਨ ਕਾਰਡਾਂ ਦੀ ਗਿਣਤੀ ਦੇ ਹਿਸਾਬ ਨਾਲ ਇਨ੍ਹਾਂ ਦੁਕਾਨਾਂ ਦੇ ਮਾਲਕਾਂ ਨੂੰ ਇਹ ਵਸਤਾਂ ਸਪਲਾਈ ਕਰਦੀ ਹੈ। ਇਨ੍ਹਾਂ ਦੁਕਾਨਾਂ ਦੇ ਮਾਲਕ ਨੂੰ ਉਨ੍ਹਾਂ ਦੀ ਕੁੱਲ ਵਿਕਰੀ 'ਤੇ ਕਮਿਸ਼ਨ ਦਿੱਤਾ ਜਾਂਦਾ ਹੈ।

ਪਾਠ ਅਧੀਨ ਪ੍ਰਸ਼ਨ 13.4

1. ਜਨਤਕ ਵੰਡ ਪ੍ਰਣਾਲੀ ਦੇ ਤਿੰਨ ਤੱਤਾਂ ਦੇ ਨਾਮ ਦੱਸੋ।
2. ਟੈਕਸ ਵਿੱਚ ਵਾਧਾ ਕਿਸੇ ਵਸਤੂ ਦੀ ਕੀਮਤ ਨੂੰ ਕਿਵੇਂ ਪ੍ਰਭਾਵਿਤ ਕਰਦਾ ਹੈ?
3. ਸਬਸਿਡੀ ਵਿੱਚ ਵਾਧਾ ਕਿਸੇ ਵਸਤੂ ਦੀ ਕੀਮਤ ਨੂੰ ਕਿਵੇਂ ਪ੍ਰਭਾਵਿਤ ਕਰਦਾ ਹੈ?
4. 'ਰਾਸ਼ਨਿੰਗ' ਸ਼ਬਦ ਦਾ ਕੀ ਅਰਥ ਹੈ?
5. ਉਚਿਤ ਦਰ ਵਾਲੀਆਂ ਦੁਕਾਨਾਂ ਨੂੰ ਕਿਸ ਆਧਾਰ 'ਤੇ ਸਾਮਾਨ ਦਾ ਕੋਟਾ ਵੰਡਿਆ ਜਾਂਦਾ ਹੈ?
6. ਹੇਠ ਲਿਖਿਆਂ ਦਾ ਪੂਰਾ ਰੂਪ ਲਿਖੋ
 - (i) ਬੀ.ਪੀ.ਐੱਲ.
 - (ii) ਐੱਫ.ਪੀ.ਐੱਸ.
 - (iii) ਪੀ.ਡੀ.ਐੱਸ.

ਮੈਂਡਿਊਲ: 4

ਵਸਤਾਂ ਅਤੇ ਸੇਵਾਵਾਂ ਦੀ ਵੰਡ



ਨੋਟ



ਨੋਟ

ਤੁਸੀਂ ਕੀ ਸਿੱਖਿਆ

- ਪ੍ਰਸ਼ਾਸਿਤ ਕੀਮਤਾਂ ਉਹ ਕੀਮਤਾਂ ਹੁੰਦੀਆਂ ਹਨ ਜੋ ਸਰਕਾਰ ਦੁਆਰਾ ਖਪਤਕਾਰਾਂ ਜਾਂ ਉਤਪਾਦਕਾਂ ਦੇ ਹਿੱਤਾਂ ਦੀ ਰੱਖਿਆ ਲਈ ਸੰਤੁਲਿਤ ਕੀਮਤ ਤੋਂ ਹੇਠਾਂ ਜਾਂ ਉੱਪਰ ਨਿਰਧਾਰਤ ਕੀਤੀਆਂ ਜਾਂਦੀਆਂ ਹਨ।
- ਨਿਯੰਤਰਤ ਕੀਮਤ ਉਹ ਕੀਮਤ ਹੈ ਜੋ ਸਰਕਾਰ ਦੁਆਰਾ ਖਪਤਕਾਰਾਂ ਦੇ ਹਿੱਤਾਂ ਦੀ ਰਾਖੀ ਲਈ ਸੰਤੁਲਿਤ ਕੀਮਤ ਤੋਂ ਹੇਠਾਂ ਨਿਰਧਾਰਤ ਕੀਤੀ ਜਾਂਦੀ ਹੈ।
- ਸਮਰਥਨ ਮੁੱਲ ਉਹ ਕੀਮਤ ਹੈ ਜੋ ਸਰਕਾਰ ਦੁਆਰਾ ਉਤਪਾਦਕਾਂ ਖਾਸ ਕਰਕੇ ਕਿਸਾਨਾਂ ਦੇ ਹਿੱਤਾਂ ਦੀ ਰਾਖੀ ਲਈ ਸੰਤੁਲਿਤ ਮੁੱਲ ਤੋਂ ਉੱਪਰ ਨਿਰਧਾਰਤ ਕੀਤੀ ਜਾਂਦੀ ਹੈ।
- ਸੰਕੇਤਕ ਕੀਮਤ ਉਹ ਕੀਮਤ ਹੈ ਜੋ ਸਰਕਾਰੀ/ਨਿੱਜੀ ਚੈਰੀਟੇਬਲ ਸੰਸਥਾਵਾਂ ਦੁਆਰਾ ਵਸਤੂ ਦੇ ਉਤਪਾਦਨ ਦੀ ਪ੍ਰਤੀ ਯੂਨਿਟ ਲਾਗਤ ਤੋਂ ਬਹੁਤ ਘੱਟ ਨਿਰਧਾਰਤ ਕੀਤੀ ਜਾਂਦੀ ਹੈ।
- ਦੇਹਰੀ ਕੀਮਤ ਪ੍ਰਣਾਲੀ ਤਹਿਤ, ਕੁੱਲ ਆਉਟਪੁੱਟ ਦਾ ਇੱਕ ਹਿੱਸਾ ਵਾਜਬ ਕੀਮਤ ਦੀ ਦੁਕਾਨ ਦੁਆਰਾ ਨਿਯੰਤਰਿਤ ਕੀਮਤ 'ਤੇ ਵੇਚਿਆ ਜਾਂਦਾ ਹੈ। ਬਾਕੀ ਬਚੀ ਆਉਟਪੁੱਟ ਨੂੰ ਸਰਕਾਰ ਦੇ ਦਖਲ ਦੇ ਬਿਨਾਂ ਪ੍ਰਚਲਿਤ ਮਾਰਕੀਟ ਕੀਮਤ 'ਤੇ ਖੁੱਲ੍ਹੇ ਬਾਜ਼ਾਰ ਵਿੱਚ ਵੇਚਿਆ ਜਾਂਦਾ ਹੈ ਜੋ ਮੰਗ ਅਤੇ ਸਪਲਾਈ ਦੀਆਂ ਤਾਕਤਾਂ ਦੁਆਰਾ ਬਿਨਾਂ ਕਿਸੇ ਦਖਲ ਦੇ ਨਿਰਧਾਰਤ ਕੀਤਾ ਜਾਂਦਾ ਹੈ।
- ਕਿਸੇ ਵਸਤੂ 'ਤੇ ਟੈਕਸ ਵਧਣ ਨਾਲ ਵਸਤੂ ਦੀ ਮਾਰਕੀਟ ਕੀਮਤ ਵਧ ਜਾਂਦੀ ਹੈ।
- ਕਿਸੇ ਵਸਤੂ 'ਤੇ ਦਿੱਤੀ ਜਾਂਦੀ ਸਬਸਿਡੀ ਵਸਤੂ ਦੀ ਮਾਰਕੀਟ ਕੀਮਤ ਨੂੰ ਘਟਾਉਂਦੀ ਹੈ।
- ਵਸਤਾਂ ਨੂੰ ਰਾਸ਼ਨ ਕਾਰਡਾਂ ਦੇ ਆਧਾਰ 'ਤੇ ਜਨਤਕ ਵੰਡ ਪ੍ਰਣਾਲੀ ਰਾਹੀਂ ਵੇਚਿਆ ਜਾਂਦਾ ਹੈ।

ਪਾਠ ਦੇ ਅੰਤ ਦੇ ਪ੍ਰਸ਼ਨ

1. ਨਿਯੰਤਰਤ ਕੀਮਤ ਕੀ ਹੈ? ਇਹ ਖਪਤਕਾਰਾਂ ਨੂੰ ਕਿਵੇਂ ਪ੍ਰਭਾਵਿਤ ਕਰਦੀ ਹੈ?
2. ਸਮਰਥਨ ਮੁੱਲ ਕੀ ਹੈ? ਇਹ ਉਤਪਾਦਕਾਂ ਨੂੰ ਕਿਵੇਂ ਪ੍ਰਭਾਵਿਤ ਕਰਦਾ ਹੈ?

ਕੀਮਤ ਅਤੇ ਮਾਤਰਾ ਦੇ ਨਿਰਧਾਰਨ ਵਿੱਚ ਸਰਕਾਰ ਦੀ ਭੂਮਿਕਾ

3. ਸੰਕੇਤਕ ਕੀਮਤ ਕੀ ਹੈ? ਕਿਸੇ ਵਸਤੂ ਦੀ ਸੰਕੇਤਕ ਕੀਮਤ ਤੈਅ ਕਰਨ ਪਿੱਛੇ ਕੀ ਮਕਸਦ ਹੈ?
4. ਦੇਹਰੀ ਕੀਮਤ ਨੀਤੀ ਦੀ ਪ੍ਰਣਾਲੀ ਦੀ ਵਿਆਖਿਆ ਕਰੋ। ਇਹ ਗਰੀਬਾਂ ਦੀ ਕਿਵੇਂ ਮਦਦ ਕਰਦੀ ਹੈ?
5. ਟੈਕਸ ਅਤੇ ਸਬਸਿਡੀਆਂ ਕਿਸੇ ਵਸਤੂ ਦੀ ਮਾਰਕੀਟ ਕੀਮਤ ਨੂੰ ਕਿਵੇਂ ਪ੍ਰਭਾਵਿਤ ਕਰਦੀਆਂ ਹਨ?
6. ਜਨਤਕ ਵੰਡ ਪ੍ਰਣਾਲੀ ਤੋਂ ਕੀ ਭਾਵ ਹੈ? ਇਸ ਦੇ ਜ਼ਰੂਰੀ ਤੱਤਾਂ ਨੂੰ ਸੰਖੇਪ ਵਿੱਚ ਸਮਝਾਓ।

ਪਾਠ ਅਧੀਨ ਪ੍ਰਸ਼ਨਾਂ ਦੇ ਉੱਤਰ

ਪਾਠ ਅਧੀਨ ਪ੍ਰਸ਼ਨ 13.1 ਦੇ ਉੱਤਰ

1. ਖਪਤਕਾਰਾਂ ਦੇ ਹਿੱਤਾਂ ਦੀ ਰੱਖਿਆ ਕਰਨ ਲਈ।
2. (i) ਵਸਤੂ ਦੀ ਜ਼ਿਆਦਾ ਮੰਗ ਜਾਂ ਕਮੀ ਦੀ ਸਮੱਸਿਆ।
(ii) ਕਾਲਾਬਾਜ਼ਾਰੀ ਦੀ ਸਮੱਸਿਆ
3. ਰਾਸ਼ਨਿੰਗ ਦਾ ਮਤਲਬ ਹੈ ਪ੍ਰਤੀ ਵਿਅਕਤੀ ਪ੍ਰਤੀ ਇਕਾਈ ਸਮੇਂ ਦਾ ਕੋਟਾ ਫਿਕਸ ਕਰਨਾ
4. ਬਲੈਕ ਮਾਰਕੀਟਿੰਗ ਇੱਕ ਅਜਿਹੀ ਸਥਿਤੀ ਹੈ ਜਿਸ ਵਿੱਚ ਵਿਕਰੇਤਾ ਗੈਰ-ਕਾਨੂੰਨੀ ਤੌਰ 'ਤੇ ਇੱਕ ਕੀਮਤ ਵਸੂਲਦਾ ਹੈ ਜੋ ਨਿਯੰਤਰਿਤ ਕੀਮਤ ਤੋਂ ਬਹੁਤ ਜ਼ਿਆਦਾ ਹੁੰਦੀ ਹੈ।
5. ਦੇਹਰੀ ਕੀਮਤ ਨੀਤੀ

ਪਾਠ ਅਧੀਨ ਪ੍ਰਸ਼ਨ 13.2 ਦੇ ਉੱਤਰ

1. ਸਮਰਥਨ ਮੁੱਲ ਉਤਪਾਦਕਾਂ ਖਾਸ ਕਰਕੇ ਕਿਸਾਨਾਂ ਦੇ ਹਿੱਤਾਂ ਦੀ ਰਾਖੀ ਲਈ ਸਰਕਾਰ ਦੁਆਰਾ ਸੰਤੁਲਿਤ ਮੁੱਲ ਤੋਂ ਵੱਧ ਨਿਰਧਾਰਤ ਕੀਮਤ ਹੈ।
2. ਉਤਪਾਦਕਾਂ ਖਾਸ ਕਰਕੇ ਕਿਸਾਨਾਂ ਦੇ ਹਿੱਤਾਂ ਦੀ ਰੱਖਿਆ ਕਰਨਾ।

ਮੈਂਡਿਊਲ: 4

ਵਸਤਾਂ ਅਤੇ ਸੇਵਾਵਾਂ ਦੀ ਵੰਡ



ਨੋਟ

ਮੋਡਿਊਲ: 4

ਵਸਤਾਂ ਅਤੇ ਸੇਵਾਵਾਂ ਦੀ ਵੰਡ



ਨੋਟ

ਕੀਮਤ ਅਤੇ ਮਾਤਰਾ ਦੇ ਨਿਰਧਾਰਨ ਵਿੱਚ ਸਰਕਾਰ ਦੀ ਭੂਮਿਕਾ

3. ਸਰਕਾਰ ਜਿਣਸ ਦਾ ਬਫਰ ਸਟਾਕ ਬਣਾਉਣ ਲਈ ਉਸ ਕੀਮਤ 'ਤੇ ਵਸਤੂ ਦੀ ਕਿਸੇ ਵੀ ਮਾਤਰਾ ਨੂੰ ਖਰੀਦਣ ਲਈ ਤਿਆਰ ਹੈ।
4. (i) ਕਣਕ
(ii) ਚਾਵਲ

ਪਾਠ ਅਧੀਨ ਪ੍ਰਸ਼ਨ 13.3 ਦੇ ਉੱਤਰ

1. ਸੰਕੇਤਕ ਕੀਮਤ ਉਹ ਕੀਮਤ ਹੈ ਜੋ ਸਰਕਾਰ ਅਤੇ ਕੁਝ ਨਿੱਜੀ ਚੈਰੀਟੇਬਲ ਸੰਸਥਾਵਾਂ ਦੁਆਰਾ ਵਸਤੂ ਦੀ ਪ੍ਰਤੀ ਯੂਨਿਟ ਉਤਪਾਦਨ ਦੀ ਲਾਗਤ ਤੋਂ ਬਹੁਤ ਘੱਟ ਨਿਰਧਾਰਤ ਕੀਤੀ ਜਾਂਦੀ ਹੈ।
2. ਦੋਹਰੀ ਕੀਮਤ ਇੱਕ ਨੀਤੀ ਹੈ ਜਿਸ ਵਿੱਚ ਕਿਸੇ ਵਸਤੂ ਦੇ ਉਤਪਾਦਨ ਦਾ ਇੱਕ ਹਿੱਸਾ ਉਚਿਤ ਮੁੱਲ ਦੀਆਂ ਦੁਕਾਨਾਂ ਦੁਆਰਾ ਨਿਯੰਤਰਿਤ ਕੀਮਤ 'ਤੇ ਵੇਚਿਆ ਜਾਂਦਾ ਹੈ ਅਤੇ ਬਾਕੀ ਹਿੱਸਾ ਮੰਗ ਅਤੇ ਸਪਲਾਈ ਦੀਆਂ ਤਾਕਤਾਂ ਵਿਚਕਾਰ।
3. ਸਰਕਾਰ ਇਹਨਾਂ ਵਸਤਾਂ ਦੀ ਦੁਰਵਰਤੋਂ ਤੋਂ ਬਚਣ ਲਈ ਕੁਝ ਵਸਤਾਂ ਦੀ ਮੁਫਤ ਸਪਲਾਈ ਨਹੀਂ ਕਰਦੀ ਹੈ।
4. (ਅ)

ਪਾਠ ਅਧੀਨ ਪ੍ਰਸ਼ਨ 13.4 ਦੇ ਉੱਤਰ

1. (i) ਸਬਸਿਡੀ (ii) ਨਿਸ਼ਚਿਤ ਮਾਤਰਾ ਜਾਂ ਰਾਸ਼ਨਿੰਗ (iii) ਉਚਿੱਤ ਦਰ ਵਾਲੀਆਂ ਦੁਕਾਨਾਂ
2. ਵਸਤਾਂ ਦੀ ਕੀਮਤ ਵਧ ਜਾਂਦੀ ਹੈ।
3. ਵਸਤਾਂ ਦੀ ਕੀਮਤ ਘਟਦੀ ਹੈ।
4. ਰਾਸ਼ਨਿੰਗ ਦਾ ਮਤਲਬ ਹੈ ਪ੍ਰਤੀ ਵਿਅਕਤੀ ਪ੍ਰਤੀ ਇਕਾਈ ਸਮੇਂ ਦਾ ਕੋਟਾ ਫਿਕਸ ਕਰਨਾ।
5. ਦੁਕਾਨ ਦੇ ਨਾਲ ਰਜਿਸਟਰਡ ਰਾਸ਼ਨ ਕਾਰਡਾਂ ਦੇ ਆਧਾਰ 'ਤੇ
6. (i) ਬਿਲੇਅ ਪਾਵਰਟੀ ਲਾਈਨ (ਗਰੀਬੀ ਰੇਖਾ ਤੋਂ ਹੇਠਾਂ) (ii) ਫੇਅਰ ਪ੍ਰਾਈਸ ਸ਼ੈਪਸ (ਉਚਿੱਤ ਦਰ ਦੀਆਂ ਦੁਕਾਨਾਂ) (iii) ਪਬਲਿਕ ਡਿਸਟਰੀਬਿਊਸ਼ਨ ਸਿਸਟਮ (ਜਨਤਕ ਵੰਡ ਪ੍ਰਣਾਲੀ)

ਤੁਹਾਡੇ ਸੁਝਾਅ

ਕੀ ਤੁਸੀਂ ਅਰਥਸ਼ਾਸਤਰ ਦੇ ਅਧਿਐਨ ਲਈ ਕੋਈ ਹੋਰ ਪੁਸਤਕ ਪੜ੍ਹੀ ਹੈ? ਹਾਂ/ਨਹੀਂ

ਜੇਕਰ ਹਾਂ ਤਾਂ ਉਸ ਨੂੰ ਪੜ੍ਹਨ ਦਾ ਕਾਰਨ ਦਿਓ।

ਨਾਮ :----- ਵਿਸ਼ਾ: -----

ਦਾਖਲਾ ਨੰਬਰ: ----- ਪੁਸਤਕ ਸੰਖਿਆ: -----

ਪਤਾ: -----

ਸਹਾਇਕ ਨਿਰਦੇਸ਼ਕ (ਅਕਾਦਮਿਕ)

ਨੈਸ਼ਨਲ ਇੰਸਟੀਚਿਊਟ ਆਫ ਓਪਨ ਸਕੂਲਿੰਗ

ਏ- 24-25, ਇੰਡਸਟਰੀਅਲ ਏਰੀਆ

ਸੈਕਟਰ-62, ਨੋਇਡਾ (ਯੂਪੀ)

ISBN 978-98-86808-23-44 (Book 1-2)

ਨੈਸ਼ਨਲ ਇੰਸਟੀਚਿਊਟ ਆਫ ਓਪਨ ਸਕੂਲਿੰਗ

NOT FOR SALE

ਪਿਆਰੇ ਵਿਦਿਆਰਥੀਓ

ਡਾਕ ਟਿਕਟ

ਡਾਕ ਟਿਕਟ

ਮੌਡਿਊਲ: 4

ਵਸਤਾਂ ਅਤੇ ਸੇਵਾਵਾਂ ਦੀ ਵੰਡ



ਨੋਟ

ਮੌਡਿਊਲ: 4

ਵਸਤਾਂ ਅਤੇ ਸੇਵਾਵਾਂ ਦੀ
ਵੰਡ



ਨੋਟ

ਆਪਣੀਆਂ ਪਾਠ ਪੁਸਤਕਾਂ ਦਾ ਅਧਿਐਨ ਕਰਕੇ ਤੁਹਾਨੂੰ ਚੱਗਾ ਲੱਗਿਆ ਹੋਵੇਗਾ। ਪਾਠ ਸਮੱਗਰੀ ਨੂੰ ਪ੍ਰਸੰਗਿਕ ਅਤੇ ਰੁਚੀ ਭਰਪੂਰ ਬਣਾਉਣ ਲਈ ਅਸੀਂ ਭਰਪੂਰ ਯਤਨ ਕੀਤਾ ਹੈ। ਵਿਸ਼ਾ ਸਮੱਗਰੀ ਤਿਆਰ ਕਰਨੀ ਦੇ ਪਾਸੜ ਪ੍ਰਕਿਰਿਆ ਹੈ। ਤੁਹਾਡੀ ਪ੍ਰਤੀਪ੍ਰਸ਼ਟੀ ਵਿਸ਼ਾ ਸਮੱਗਰੀ ਨੂੰ ਸੁਧਾਰਨ ਵਿੱਚ ਸਾਡੀ ਮਦਦ ਕਰੇਗੀ। ਆਪਣੇ ਸਮੇਂ ਵਿੱਚੋਂ ਕੁਝ ਮਿੰਟ ਲਾਜ਼ਮੀ ਕੱਢੋ ਅਤੇ ਪ੍ਰਤੀਪ੍ਰਸ਼ਟੀ ਫਾਰਮ ਨੂੰ ਭਰੋ ਤਾਂ ਜੋ ਇੱਕ ਰੁਚੀ ਭਰਪੂਰ ਅਤੇ ਉਪਯੋਗੀ ਸਮੱਗਰੀ ਤਿਆਰ ਕੀਤੀ ਜਾ ਸਕੇ।

ਧੰਨਵਾਦ।

ਕੋਆਰਡੀਨੇਟਰ

(ਅਰਥ ਸ਼ਾਸਤਰ)